

اداره کل آموزش و پرورش استان یزد

اداره آموزش و پرورش ناحیه یک یزد

دیرستان پسرانه نمونه رسولیان - دوره اول

دفترچه سوالات

عربی پایه هفتم

نیم سال دوم

مشخصات و تاریخ آزمون:

نام و نام خانوادگی:

نام پدر:

کلاس:

نام دبیر:

سال تحصیلی

۹۵-۹۶

تاریخ برگزاری: ۱۳۹۵/۲/۳۰

مشخصات آزمون: نام درس: عربی پایه هفتم

طراح: احمد جعفری

زمان پاسخگویی: ۵۰ دقیقه ساعت برگزاری: ۸/۳۰ صبح روز پنج شنبه

(رضا ویر:

نمره آزمون:

تعداد سؤال: ۲۰ تعداد صفحه: ۴ نمره تکوینی:

دانش آموز عزیز: با یاد و نام خدا شروع کن ، سوالات را با دقت بخوان و سپس جواب ده

۰/۵	۱	از میان کلمات زیر نام هر تصویر را انتخاب کن و زیر آن بنویس. (۵ کلمه اضافی است)
		 <p>شَجَرَةُ الْجَبَلِ الْمُنْضَدَةِ اجِدَارًا وَرَدَّةً كُرْسِيًّا حَارًّا</p> 
۰/۵	۲	نام تصاویر زیر را به عربی بنویس
		 
۰/۵	۳	فقط کلمات مشخص شده را ترجمه کن. (۱) لِأَنَّ السَّمَكَةَ الْحَجْرِيَّةَ وَقَعَتْ فِي الشَّبَكَةِ لِتَنجَاتِهِنَّ. (۲) سَلَامَةُ الْعَيْشِ فِي الْمُدَارَةِ.

۲	<p>سفنان مکیمانه زیر را به فارسی ترجمه کن.</p> <p>(۱) «خَيْرُ النَّاسِ، أَنْفَعُهُمُ لِلنَّاسِ»</p> <p>(۲) حُسْنُ الْخَلْقِ نَصْفُ الدِّينِ.</p> <p>(۳) زِينَةُ الْبَاطِنِ خَيْرٌ مِنْ زِينَةِ الظَّاهِرِ.</p> <p>(۴) هُوَ الَّذِي خَلَقَ السَّمَاوَاتِ وَالْأَرْضَ فِي سِتَّةِ أَيَّامٍ.</p>
۲/۵	<p>جمله های زیر را به فارسی ترجمه کن.</p> <p>(۱) الصَّيْفُ حَارٌّ وَفَصْلُ الْفَوَاكِهِ اللَّذِيذَةُ.</p> <p>(۲) هُوَ اشْتَرَى وَسَائِلَ رَخِيصَةً وَغَيْرَ مُنَاسِبَةٍ.</p> <p>(۳) هُمَا سَاكِنَانِ مَعَ أَوْلَادِهِمَا فِي جَزِيرَةٍ.</p> <p>(۴) تِلْكَ اللَّوْحَةُ، جَمِيلَةٌ.</p> <p>(۵) عَبَّاسٌ وَهَاشِمٌ وَمَيْمُونٌ، مَسْرُورُونَ.</p>
۱	<p>ترجمه های ناقص را کامل کن.</p> <p>(۱) الصَّيَادُونَ مَا خَافُوا مِنَ السَّمَكَةِ الْحَجْرِيَّةِ. (صیادها از سنگ ماهی)</p> <p>(۲) كَانَتْ مَعَ أُمَّهَا. (..... بود.)</p> <p>(۳) ذَهَبْتُ مَعَ صَدِيقَانِكَ. (با دوستانت)</p> <p>(۴) عَلَيْكَ بِالصَّلَاةِ. (تو باید)</p>
۱	<p>ترجمه درست را انتخاب کن.</p> <p>(۱) هُوَ لِأَيِّ الطَّالِبَاتِ نَاجِحَاتٌ.</p> <p>الف) اینان، دانش آموزان موفقی هستند. <input type="checkbox"/></p> <p>ب) این دانش آموزان، موفقی اند <input type="checkbox"/></p> <p>(۲) أَنْتَ نَصْرَتَهُ. لِأَنَّهُ إِنْسَانٌ شَرِيفٌ.</p> <p>الف) تو او را یاری کردی زیرا او انسان شریفی است <input type="checkbox"/></p> <p>ب) او تو را یاری کرد زیرا تو انسان شریفی هستی <input type="checkbox"/></p> <p>(۳) مَا هُوَ حَوْلَ الْبَيْتِ؟ الْفِ (الف) اطراف خانه، چیست؟ <input type="checkbox"/></p> <p>ب) اطراف خانه ی او، چیست؟ <input type="checkbox"/></p> <p>(۴) كَيْفَ كَانَتْ قِيَمَةُ الْمَلَابِسِ؟</p> <p>الف) قیمت لباس ها چند است؟ <input type="checkbox"/></p> <p>ب) قیمت لباس ها چگونه بود؟ <input type="checkbox"/></p>
۰/۵	<p>در هر ردیف کدام کلمه با بقیه ناهماهنگ است؟ آن را با علامت (x) مشخص کن.</p> <p>(۱) قَدَفٌ □ فَتَحَ □ تَحَتَ □ اشْتَرَى □</p> <p>(۲) جَدٌّ □ عِبْرَةٌ □ أُخْتٌ □ جَدَّةٌ □</p>
۰/۵	<p>کریه صمیم را با علامت (x) مشخص کن.</p> <p>(۱) أَمْسِ كَانَ يَوْمَ الثَّلَاثَاءِ فَالْيَوْمِ يَوْمٌ</p> <p>ب) أَتَمَّا _____ نَاجِحَانِ.</p> <p>ب) طَالِبَانِ □ الطَّلَابُ □ طَالِبَتَانِ □</p> <p>ب) الخَمِيسِ □ الأَرْبَعَاءِ □</p>

<p>۰/۵</p>	<p>با توجه به تصاویر و جواب ها، کلمه پرسشی مناسب را از میان کلمات داده شده انتخاب کن.</p> <div style="display: flex; justify-content: space-around; align-items: center;">   </div> <p>۱)..... هَذِهِ الْحَقِيبَةُ؟ (مَنْ / كَرَّ / لِمَنْ / أَيْنَ) ۲-..... هَذِهِ؟ (مَنْ / مَا / هَلْ / أَيْنَ)</p> <p>لِمَرِيَمَ - هَذِهِ، هَدِيَّةٌ لِأُمِّي.</p>	<p>۱۰</p>
<p>۰/۵</p>	<p>کلمات مترادف(=) و متضاد(≠) را کنار هم بنویس (۴ کلمه اضافی است)</p> <p>«أَعطَى / أَفْضَلَ / صَدَاقَةً / أَجَابَ / أَرَادَ / حَوْلَ / وَرَاءَ / تَخَلَّفَ»</p> <p>..... = ≠</p>	<p>۱۱</p>
<p>۱/۷۵</p>	<p>کلمه‌ی مناسب را انتخاب کن و در جای خالی بنویس.</p> <p>۱)..... نَسِيتُ شَيْئًا. (هُوَ / هِيَ / أَنْتَ / أَنَا)</p> <p>۲)..... صَعِدَتِ الشَّجَرَةَ. (أَنْتَ / أَنَا / أَنْتِ / هُوَ)</p> <p>۳)..... الرَّجَالُ، جَالِسُونَ عِنْدَ عَالِمِينَ. (هَذَانِ / ذَلِكَ / هَاتَانِ / أُولَئِكَ)</p>	<p>۱۲</p>
<p>۰/۵</p>	<p>به سوالات زیر جواب کوتاه و مناسب ده. (به عربی)</p> <p>۱) مِنْ أَيْنَ أَنْتَ؟ ۲) أَيْنَ يَسُكُّكَ؟</p>	<p>۱۳</p>
<p>۱</p>	<p>از میان کلمات داخل کمانک، فعل مناسب را انتخاب کن و در جای خالی بنویس.</p> <p>۱) أَنْتِ..... جَوَّالَةٌ؟ (وَجَدْتُ / وَجَدْتِ / وَجَدْتَ)</p> <p>۲) هُوَ.....: «ماهی و اجبائنا؟»، (سَأَلَ / سَأَلْنَا / سَأَلْتِ)</p> <p>۳) نَحْنُ..... فِي الْمَكْتَبَةِ. (جَلَسْتُ / جَلَسْنَا / جَلَسْتُمْ / جَلَسْنَا)</p> <p>۴) كَيْفَ..... يَا شَيْمَاءُ وَيَا نُرْجِسُ؟ - بِالسِّيَّارَةِ. (رَجَعْتُمْ / رَجَعْتُنَّ / رَجَعْتُمَا / رَجَعْتَا)</p>	<p>۱۴</p>
<p>۱/۲۵</p>	<p>کدام گزینه مناسب تصویر است؟</p> <div style="display: flex; align-items: center;">  <div style="margin-left: 20px;"> <p>وَلَدَانِ ۱ بِنْتَانِ ۲ بَنَاتِ ۳</p> </div> </div>	<p>۱۵</p>
<p>۱/۷۵</p>	<p>با توجه به جواب ها، کلمه‌ی پرسشی مناسب را انتخاب کن در جاهای خالی بنویس.</p> <p>۱)..... ذَهَبْتُنَّ أَيْتُهَا الْبَنَاتُ؟ - لِمُسَاعَدَةِ جَدَّتِنَا. (لِمَاذَا / كَيْفَ / مَا / لِمَنْ)</p> <p>۲) أَيْتُهَا السَّيِّدَاتُ،..... سَمِعْتُنَّ صَوْتَ أَطْفَالِكُنَّ؟ نَعَمْ (مَا / مَنْ / مَا هِيَ / أ)</p> <p>۳)..... عَدُّ الْكُتُبِ؟ ثَلَاثَةٌ كُتُبٍ. (أُ / مَنْ / أَيْنَ / كَرَّ)</p>	<p>۱۶</p>

۱	<p>هریک از کلمات ستون «الف» را به کلمه‌ی مناسبی در ستون «ب» وصل کن. (۳ کلمه در ستون ب اضافی است)</p> <p>الف</p> <p>كَلَامُ رِبِّيْنَ شَخْصِيْنَ النَّظْرُ فِي وَجْهِهِمَا عِبَادَةٌ أَبُو الْأَبِ وَأَبُو الْأُمِّ أَفَةُ الْعَلِمِ</p> <p>ب</p> <p>الْبَجْدَةُ النَّسِيَانُ الْحَوَارِ الْبَجْدُ السُّؤَالُ الْوَالِدَانِ الْمُصْحَفِ</p>	۱۷
۱۷۵	<p>متن زیر را با دقت بخوان .</p> <p>كَانَتْ فِي بَحْرِ كَبِيرٍ سَمَكَةٌ قَبِيحَةٌ اسْمُهَا «السَّمَكَةُ الْحَجْرِيَّةُ» وَالْأَسْمَاكُ خَائِفَاتٌ مِنْهَا. هِيَ ذَهَبَتْ إِلَى سَمَكَيْنِ؛ السَّمَكَيْنِ خَائِفَتَا وَهَرْتَا. هِيَ كَانَتْ وَحِيدَةً دَائِمًا. فِي يَوْمٍ مِنَ الْأَيَّامِ، خَمْسَةَ مِنْ الصَّيَّادِينَ جَاءُوا. فَقَذَفُوا شَبَكَةً كَبِيرَةً فِي الْبَحْرِ.</p> <p>اکنون با توجه به متن بالا ، درستی یا نادرستی جملات زیر را مشخص کن</p> <p>(۱) مَنْ قَذَفَ الشَّبَكَةَ فِي الْمَاءِ؟ <input type="checkbox"/> السَّمَكَيْنِ <input type="checkbox"/> الصَّيَّادُونَ <input type="checkbox"/> الْأَسْمَاكُ</p> <p>(۲) كَمْ صَيَّادًا كَانَ فِي السَّفِينَةِ؟ <input type="checkbox"/> خَمْسَةَ <input type="checkbox"/> اِثْنَانِ <input type="checkbox"/> ثَلَاثَةَ</p> <p>(۳) هَلْ كَانَتْ السَّمَكَةُ الْحَجْرِيَّةُ وَحِيدَةً؟ <input type="checkbox"/> نَعَمْ <input type="checkbox"/> لَا</p>	۱۸
۳	<p>نمره روان خوانی: ✨+ نمره این قسمت با توجه به فعالیت های شفاهی توسط دبیر محترم تکمیل می گردد. ✨+</p>	۱۹
۲	<p>نمره مکالمه: ✨+ نمره این قسمت با توجه به فعالیت های شفاهی توسط دبیر محترم تکمیل می گردد ✨+</p>	۲۰

مَنْعَلَمٌ ل... - (۱) ن... ل...

نام و نام خانوادگی:

بسمه تعالی

تاریخ امتحان: ۱۳۹۵/۰۳/۰۶

سوال درس: علوم تجربی

مدیریت آموزش و پرورش ناحیه یک یزد

مدت پاسخگویی: ۶۰ دقیقه

پایه: هفتم

دیرستان پسرانه نمونه دولتی رسولیان (دوره اول)

ساعت امتحان:

کلاس-ردیف:

تعداد سوال: ۱۵

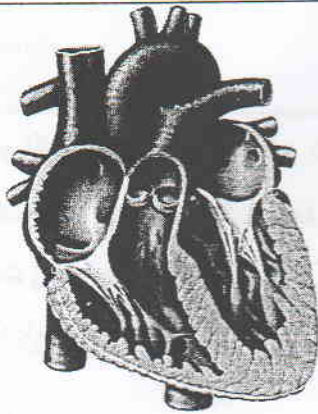
تعداد صفحه: ۳



۱/۵	<p>۱ پیامبر اکرم (ص): کسی که دوست دارد عمرش طولانی و روزیش زیاد شود، نسبت به پدر و مادرش نیکی کند و صله رحم بجای آورد. (کنز العمال، ج ۱۶، ص ۴۷۵)</p> <p>کلمات زیر را تعریف کنید</p> <p><u>قانون پایستگی انرژی:</u></p> <p><u>آمینواسید:</u></p> <p><u>بافت</u></p>	۱
۱	<p>۲ جاهای خالی را با کلمات مناسب داخل پرانتز تکمیل کنید</p> <p>عناصری که سطح براق دارند و از آب سنگین تر ند؛ جزء عناصر..... می باشد. (نافلزی- فلزی).</p> <p>میزان انرژی که یک گرم در بدن، تولید می کند بیشتر از میزان انرژی تولید شده توسط همین مقدار کربو هیدرات است. (پروتئین- لیپید)</p> <p>در حجم و دمای یکسان، با افزایش دما، میزان انبساط مس، از آهن..... است. (بیشتر- کمتر)</p> <p>اگر دو ماشین، با سرعتهای برابر داشته باشیم؛ ماشینی که جرمش..... است انرژی جنبشی کمتری دارد. (بیشتر- کمتر)</p>	۲
۱/۲۵	<p>۳ برای هر یک از موارد داده شده یک نمونه را نام ببرید</p> <p>یک نمونه از بافت پیوندی در بدن () (از ویتامین های محلول در آب) () یکی از عوامل مؤثر در عمق سطح ایستابی () یک روش انتقال گرما که در آن نیاز به ماده می باشد ()</p> <p>کربوهیدرات (قند) مرکب که در گیاه ساخته می شود ()</p>	۳
۱	<p>۴ گزینه ی صحیح را انتخاب کنید</p> <p>*تمام موارد جزء منابع انرژی تجدید پذیرند به غیر از:</p> <p>(۱) آب <input type="checkbox"/> (۲) انرژی هسته ای <input type="checkbox"/> (۳) خورشید <input type="checkbox"/> (۴) زمین گرمایی <input type="checkbox"/></p> <p>*کدام یک از سلولهای خونی در انعقاد(بند آوردن) خون دخالت دارند؟</p> <p>(۱) گلبولهای سفید <input type="checkbox"/> (۲) گلبولهای قرمز <input type="checkbox"/> (۳) پلاکتها <input type="checkbox"/> (۴) تمام موارد <input type="checkbox"/></p> <p>*بیشتر آنزیم های روده ی باریک در کجا ساخته می شوند؟</p> <p>(۱) پانکراس (لوز المعده) <input type="checkbox"/> (۲) کبد (جگر) <input type="checkbox"/> (۳) دیواره روده باریک <input type="checkbox"/> (۴) کیسه صفرا <input type="checkbox"/></p>	۴

*وزنه برداری که وزنه ی ۲۰۰۰ نیوتنی را در ارتفاع ۲ متری بالای سرش نگه داشته چه مقدار کار انجام داده است؟
 (۱) ۴۰۰۰ ژول (۲) ۱۰۰۰ ژول (۳) ۴۰۰۰۰ ژول (۴) صفر

۷۵/



باتوجه به شکل به سوالات داده شده پاسخ دهید

- ۵
- (الف) دیواره ی کدام بطن ضخیم تر است؟ ()
 (ب) سرخرگ آئورت به کدام حفره متصل است؟ ()
 (ج) دهلیز راست را روی شکل با علامت فلش نشان دهید؟

۱/۵

۶ علت هریک از موارد زیر، را شرح دهید

پزشک متخصص چشم، به یکی از بیمارانش سفارش کرده است که، برای تقویت بینایی خود، هویج مصرف کند
 در استان گرم و کویری یزد بخصوص در تابستان استفاده از ماشین های مشکی یا تیره رنگ از نظر علمی در جهت مصرف انرژی مقرون به صرفه نیست (مخصوصا در کارکرد کولر آن)
 چرا از آهن خالص نباید در ساخت اسکلت های ساختمانی و بدنه خودروها و لوازم آشپزخانه استفاده کرد؟

۱/۵

۷ تفاوت موارد خواسته شده را بایکدیگر بنویسید (برای هر مورد یک تفاوت کافی است)

سرخرگ با سیاهرگ

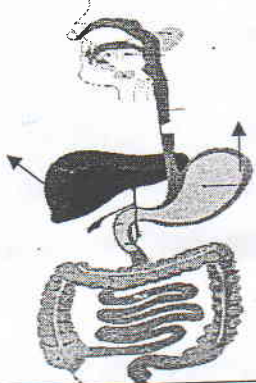
عمل دم و بازدم

سلول گیاهی با سلول جانوری

۱/۲۵

۸ جملات صحیح و غلط را مشخص کنید (در کمانک مقابل هر جمله با حرف ص یا غ نشان دهید)

- () درون حفره های قلب را بافت پوششی می پوشاند.
 () انرژی برق آبی یکی از پاک ترین روش های تولید برق است.
 () دیواره ی مویرگ، نفرون، کیسه ی هوایی، نازک و دارای یک ردیف سلول می باشد.
 () کمبود ویتامین D باعث کم خونی و ریزش مو می شود.
 () چگالی آب از یخ کمتر است

۱	<p>۹ باتوجه به شکل به سؤالات داده شده پاسخ دهید؟</p> <p>الف) شماره های ۲ و ۳ را نام گذاری کنید؟ /۵</p> <p>ب) خون تصفیه شده در کلیه ها توسط یک سیاهرگ از کلیه خارج و به بزرگ سیاهرگ..... قلب می ریزد. (زیرین یا پایینی - زبرین یا بالایی) /۲۵</p> <p>ج) کار اصلی کلیه ها را لوله های..... یا نفرون ها انجام می دهند؟ /۲۵</p>
۱/۲۵	<p>باتوجه به شکل به سؤالات پاسخ دهید</p> <p>الف) در این شکل ، کبد (جگر) و معده را با نوشتن نام آنها در کنار تصویر آنها نشان دهید؟ /۵</p> <p>ب) یکی از کارهای کبد را بنویسید. /۵</p> <p>ج) محل گوارش نهایی غذا در کدام قسمت لوله ی گوارش است؟ فقط نام آن را در این کمانک بنویسید. /۲۵ ← (.....)</p> 
/۷۵	<p>۱۱ غشاء پلاسمایی سلول چیست؟ چه نقشی در سلول دارد؟</p>
/۵	<p>۱۲ مصرف زیاد سدیم (نمک) چه ضرری دارد؟ (۲ مورد)</p>
/۷۵	<p>۱۳ سه راه برای محافظت از منابع طبیعی را نام ببرید؟</p>
/۵	<p>۱۴ انرژی زمین گرمایی چه کاربردهایی دارد نام ببرید (۲ مورد)</p>
/۵	<p>۱۵ میزان نفوذ پذیری خاک رس را با زمینهای آبرفتی مقایسه کنید</p>

نام و نام خانوادگی:

بسمه تعالی

تاریخ امتحان: ۱۳۹۵/۲/۲۶

سوال درس: پیام های آسمان

مدیریت آموزش و پرورش ناحیه یک یزد

پایه: هفتم

دبیرستان پسرانه نمونه دولتی رسولیان (دوره اول)

مدت پاسخگویی: ۶۰ دقیقه

تعداد سوال: ۱۸

تعداد صفحه: ۲

کلاس-ردیف:

۱- آیه شریفه مقابل را ترجمه کنید. (۱) «وَأَقِمِ الصَّلَاةَ إِنَّ الصَّلَاةَ تَنْهَى عَنِ الْفَحْشَاءِ وَالْمُنْكَرِ»

۲- جاهای خالی را با کلمات مناسب کامل کنید. (۲)

الف - برخی افراد با.....یا.....که مرتکب می شوند خودشان را از حفاظت خداوند محروم می کنند.

ب -و.....که تمام زندگی خود را به خوش گذرانی و تفریح در دنیا می پردازند و برای سفر آخرت توشه ای فراهم نمی کنند

دوست ندارند از این دنیا خارج شوند.

ج- امام رضا(ع) می فرماید: «هر رکعت نماز جماعت به اندازه.....رکعت نماز که به تنهایی خوانده می شود، ارزش دارد»

د- امام علی(ع) می فرماید: «عاقبت راستگویی.....و عاقبت دروغ گویی.....است.»

۳- گزینه صحیح را انتخاب کنید. (۲)

الف . کدام گزینه از راههای درمان تنبلی نیست؟

۱- شتاب - برنامه ریزی ۲- تصمیم قاطع - آینده نگری

۳- دوستی با انسان های کوشا - تصمیم قاطع ۴- آینده نگری - برنامه ریزی

ب. از نظر امام علی(ع)، پشیمانی انسان عجل از همه مردم بیشتر است، زیرا.....

۱- در کارهایش سرعت عمل دارد. ۲- دقت زیادی در کارهایش ندارد.

۳- عقل او وقتی به کمکش می آید که دیگر کار از کار گذشته است. ۴- وقتش را هدر نمیدهد.

ج. تقلید در کدام مورد جایز نیست؟

۱- نماز ۲- امر به معروف

۳- روزه ۴- اصول دین

د. آیه «وَقَالَ رَبُّكُمْ ادْعُونِي أَسْتَجِبْ لَكُمْ» به کدام راه برای جلب یاری خداوند اشاره می کند؟

۱- صبر داشتن ۲- رعایت تقوا

۲- یاری دادن خداوند ۴- دعا کردن

۴- نیکی به پدر و مادر چه تأثیری بر زندگی ما در دنیا و آخرت دارد؟ (۷۵/)

۵- با ذکر یک نمونه عزت نفس را تعریف کنید. (۷۵/)

۶- دو مورد از فداکاری های حضرت علی^(ع) را بیان کنید. (۱)

۷- چرا حضرت زهرا^(س) هرگز از امیرالمؤمنین چیزی درخواست نمی نمودند؟ (۱)

۸- به چه دلیل خداوند تکالیفی را بر ما واجب کرده است؟ (۵/)

۹- امام رضا^(ع) در مورد حکمت چیزهای حلال و حرام چه می فرمایند؟ (۱)

۱۰- زمین با شرایطی کف پا و کفش را که به واسطه راه رفتن نجس شده است، پاک می نماید؟ دو مورد (۱)

۱۱- مفهوم رعایت ترتیب و موالات در نماز چیست؟ (۱)

۱۲- امام جمعه در خطبه اول نماز جمعه چه مطالبی بیان می کند؟ (۵/۱)

۱۳- دو مورد از فایده های نماز جماعت را بنویسید. (۱)

۱۴- با توجه به آیات قرآن، مهمترین فایده حجاب برای بانوان چیست؟ (۱)

۱۵- مسئولیت مشترک مردان و زنان برای حفظ پاکی جامعه چیست؟ (۵/۱)

۱۶- بیشترین پیشرفت های علمی مسلمانان در چه زمانهایی روی داده است؟ (۱)

۱۷- کدام دو ویژگی است که اگر در فردی نبود باید از دوستی با او پرهیز کرد؟ (۱)

۱۸- توضیح دهید شخص تنبل چگونه دنیا و آخرت خود را از دست می دهد؟ (۱)

موفق باشید.

تاریخ امتحان: ۹۵/۳/۹

مدیریت آموزش و پرورش ناحیه یک یزد

نام و نام خانوادگی:

مدت پاسخ گویی: ۵۰ دقیقه

دبیرستان نمونه رسولیان (دوره اول)

کلاس: هفتم

ساعت امتحان:

درس: زبان انگلیسی

۱- کدام کلمه از نظر معنی با بقیه ناهماهنگ است. (۱)

1-nurse- mechanic-housewife-job

2-eraser-gloves-shirt-shoes

3-one-three-fine-seven

4-honey-water-tea-milk

۲- جاهای خالی را با کلمات داده شده کامل کنید. (یک کلمه اضافی است) (۲)

(English- drink- fruit- first- street)

1-What's your favorite ? Apple

2-My uncle's office is in this

3-Which one is your teacher?

4-What's Mr Amini's name?

۳- پاسخ هر سوال را پیدا کرده و حرف مربوط آن را جلوی هر سوال بنویسید. (۲)

1-Who is that woman?

a)She's in her office.

2-What is he doing?

b)She is my sister.

3-Where is your aunt?

c)In April.

4-When is your birthday?

d)He is reading a book.

۴- مکالمه زیر را مرتب کنید. (۱)

-But I'd like to drink water.

A:

-I'm thirsty. What about you?

B:

-OK, let's go to the kitchen.

A:

-Me too, let's drink some tea.

B:

۵- با توجه به تصاویر جملات ناقص زیر را کامل کنید. (۱/۵)

1-My brother is

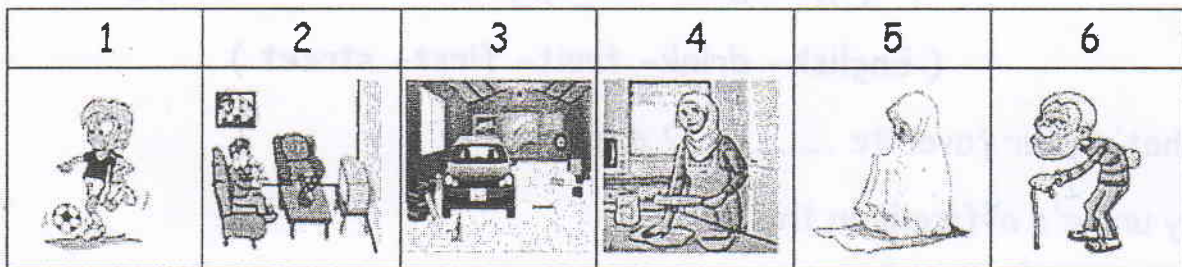
2-Javad is watching TV in the

3-My father is fixing the car in the

4-My mom is in the kitchen.

5-The girl is wearing a white

6-He is an **Man**.



۶- جواب صحیح را انتخاب کنید. (۲)

1-What's جوراب in English?

- a)pants b)zucchini c)socks d)belt

2-I'm hungry. Let's get something to

- a)drink b)eat c)wash d)spaghetti


3-A) How are you? B)

- a)I'm 13. b)I'm a pilot. c)I am Amir. d)Great, thanks.

4-A)What's your ? B) I am a dentist.

- a)job b)name c)address d)telephone number

۷- به سوال زیر پاسخ دهید. (۰/۵)



What time is it?

نام و نام خانوادگی:
درس: ریاضی
پایه: هفتم
کلاس-ردیف:

باسمه تعالی
اداره کل آموزش و پرورش استان یزد
مدیریت آموزش و پرورش ناحیه یک
دبیرستان پسرانه نمونه دولتی رسولیان (دوره اول)

تاریخ امتحان: ۱۳۹۵/۳/۶
مدت پاسخگویی: ۸۰ دقیقه
ساعت امتحان: ۸:۳۰
تعداد صفحه: ۴

ردیف	بارم	درست	نادرست	سوال
۱/۲۵		<input type="radio"/>	<input type="radio"/>	<p>A: کدام گزینه درست و کدام گزینه نادرست است.</p> <p>۱ تعداد شمارنده‌های اول عدد ۱۵۳ برابر است با ۳ تا</p> <p>۲ اختلاف مجذور و مکعب عدد $\frac{2}{3}$ برابر است با $\frac{1}{3}$</p> <p>۳ قرینه نقطه $\begin{bmatrix} 4 \\ -5 \end{bmatrix}$ نسبت به محور عرض‌ها $\begin{bmatrix} -4 \\ -5 \end{bmatrix}$ می‌باشد.</p> <p>۴ $-\sqrt{11}$ بین دو عدد صحیح -۳ و -۴ قرار دارد.</p> <p>۵ در پرتاب ۲ سکه با هم احتمال رو آمدن هر دو برابر است با $\frac{2}{4}$</p>
۱/۲۵				<p>B: جملات را با عدد یا کلمات مناسب کامل کنید.</p> <p>۱ در عبارت جبری ab حروف ab را می‌گویند.</p> <p>۲ اختلاف جمله هفتم و دهم الگوی $4n - 7$ عدد می‌باشد.</p> <p>۳ در دو شکل هندسی هم نهشت اجزای دو به دو باهم برابرند.</p> <p>۴ در روی محور مختصات محور افقی را محور می‌گویند.</p> <p>۵ همه شمارنده‌های یک عدد را می‌شمارند.</p>
۱				<p>C: گزینه صحیح را انتخاب نمایید.</p> <p>۱ حاصل عبارت $(-4 + 13 - 7)(-4 + 13 - 4)$ برابر است با <input type="checkbox"/> الف) ۴ <input type="checkbox"/> ب) ۲^۲ <input type="checkbox"/> ج) $\sqrt{16}$ <input type="checkbox"/> د) تمام گزینه‌ها</p> <p>۲ به ازای چه مقدار از m نقطه $\begin{bmatrix} 2m - 8 \\ m - 5 \end{bmatrix}$ روی محور عرض‌ها قرار دارد. <input type="checkbox"/> الف) ۴ <input type="checkbox"/> ب) ۵ <input type="checkbox"/> ج) صفر <input type="checkbox"/> د) معلوم نیست</p> <p>۳ هشت برابر عدد 4^9 بصورت یک عدد تواندار برابر است با <input type="checkbox"/> الف) 3^{210} <input type="checkbox"/> ب) 2^{21} <input type="checkbox"/> ج) 4^{11} <input type="checkbox"/> د) 2^{14}</p> <p>۴ اگر بر روی یک پاره خط ۵ نقطه در نظر بگیریم آنگاه چند نیم خط داریم. <input type="checkbox"/> الف) صفر <input type="checkbox"/> ب) ۱۰ <input type="checkbox"/> ج) ۱۴ <input type="checkbox"/> د) ۲۱</p>
۰/۷۵				<p>D: به سوالات زیر پاسخ کامل بدهید.</p> <p>۱ مربعی به ضلع ۱۰۰ سانتی‌متر داریم اگر از هر چهار ضلع مربع ۱۰ سانتی‌متر ببریم مساحت مربع جدید چند درصد مساحت مربع اولیه می‌باشد.</p>
۱/۵				<p>۲ حاصل هر عبارت را بدست آورید.</p> <p>$-35[-20 - (7 - 11)] =$</p> <p>$72 \div (-2 + 10) \times 3 =$</p>

نام و نام خانوادگی:

درس: ریاضی

پایه: هفتم

کلاس-ردیف:

باسمه تعالی

اداره کل آموزش و پرورش استان یزد

مدیریت آموزش و پرورش ناحیه یک




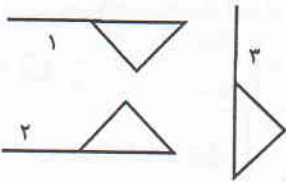
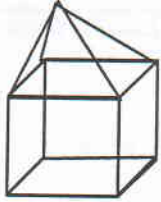
دبیرستان پسرانه نمونه دولتی رسولیان (دوره اول)

تاریخ امتحان: ۱۳۹۵/۳/۶

مدت پاسخگویی: ۸۰ دقیقه

ساعت امتحان: ۸:۳۰

تعداد صفحه: ۴

بارم	ردیف	
۰/۵	۳	الف) جمله n ام یا الگوی اعداد مقابل را بنویسید. ۵, ۹, ۱۳, ۱۷, ...
۱		ب) عبارت جبری مقابل را ساده کنید. $4(5a - 7b) - (-3b) + (-9a) =$
۰/۵	۴	الف) محیط مستطیل مقابل را بصورت یک عبارت جبری بنویسید. 
۰/۷۵		ب) معادله مقابل را حل کنید. $9x - 23 = 7x - 5$
۰/۵	۵	الف) در جاهای خالی عدد یا پاره خط مناسب بنویسید. (فاصله نقطه‌ها با هم مساوی است)  $\overline{AC} + \dots = \overline{AE}$ $\overline{AF} = \dots \overline{CE}$
۰/۵		ب) اگر پاره خط $\overline{AB} = 2 \text{ cm}$ و $\overline{CD} = 2 \text{ cm}$ و $\overline{BC} = 7 \text{ cm}$ باشد طول پاره خط \overline{AD} چند سانتی متر است؟ 
۰/۵	۶	با توجه به شکل مقابل تبدیل هر شکل به شکل دیگر را بنویسید.  ۱ → ۲ → ۳
۱	۷	ب م م و ک م م و دو عدد ۲۸۰ و ۶۰ را بدست آورید. (راه حل در برگه باشد).
۰/۵	۸	ب م م دو عدد ۱۴ و ک م م همان دو عدد ۱۹۶ می‌باشد اگر یکی از آن دو عدد ۹۸ باشد عدد دیگر چقدر است.
۰/۷۵	۹	الف) شکل مقابل از ترکیب کدام حجم‌ها تشکیل شده است نام ببرید.  ب) یک منشور پنج پهلو دارای وجه جانبی و رأس می‌باشد.

نام و نام خانوادگی:

درس: ریاضی

پایه: هفتم

کلاس-ردیف:

باسمه تعالی

اداره کل آموزش و پرورش استان یزد

مدیریت آموزش و پرورش ناحیه یک

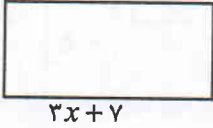


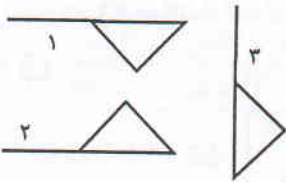

دبیرستان پسرانه نمونه دولتی رسولیان (دوره اول)

تاریخ امتحان: ۱۳۹۵/۳/۶

مدت پاسخگویی: ۸۰ دقیقه

ساعت امتحان: ۸:۳۰

تعداد صفحه: ۴

بارم	ردیف	
۰/۵	۳	الف) جمله n ام یا الگوی اعداد مقابل را بنویسید. ۵, ۹, ۱۳, ۱۷, ...
۱	۴	ب) عبارت جبری مقابل را ساده کنید. $4(5a - 7b) - (-3b) + (-9a) =$
۰/۵	۴	الف) محیط مستطیل مقابل را بصورت یک عبارت جبری بنویسید. 
۰/۷۵	۵	ب) معادله مقابل را حل کنید. $9x - 23 = 7x - 5$
۰/۵	۵	الف) در جاهای خالی عدد یا پاره خط مناسب بنویسید. (فاصله نقطه‌ها با هم مساوی است)  $\overline{AC} + \dots = \overline{AE}$ $\overline{AF} = \dots \overline{CE}$
۰/۵	۶	ب) اگر پاره خط $\overline{AB} = 20\text{cm}$ و $\overline{CD} = 20\text{cm}$ و $\overline{BC} = 7\text{cm}$ باشد طول پاره خط \overline{AD} چند سانتی متر است؟ 
۰/۵	۶	با توجه به شکل مقابل تبدیل هر شکل به شکل دیگر را بنویسید. 
۱	۷	ب م م و ک م م دو عدد ۲۸۰ و ۶۰ را بدست آورید. (راه حل در برگه باشد).
۰/۵	۸	ب م م دو عدد ۱۴ و ک م م همان دو عدد ۱۹۶ می‌باشد اگر یکی از آن دو عدد ۹۸ باشد عدد دیگر چقدر است.
۰/۷۵	۹	الف) شکل مقابل از ترکیب کدام حجم‌ها تشکیل شده است نام ببرید. ب) یک منشور پنج پهلو دارای وجه جانبی و رأس می‌باشد. 

نام و نام خانوادگی:

درس: ریاضی

پایه: هفتم

کلاس-ردیف:

باسمه تعالی

اداره کل آموزش و پرورش استان یزد

مدیریت آموزش و پرورش ناحیه یک

دبیرستان پسرانه نمونه دولتی رسولیان (دوره اول)

تاریخ امتحان: ۱۳۹۵/۳/۶

مدت پاسخگویی: ۸۰ دقیقه

ساعت امتحان: ۸:۳۰

تعداد صفحه: ۴

ردیف

۱۰

مساحت جانبی و حجم استوانه‌ای به شعاع ۴ متر و به ارتفاع ۱۰ متر را بدست آورید. $\pi = 3/14$ (راه حل و فرمول در برگه باشد)

۱۱

حاصل هر یک را بصورت یک عدد تواندار بنویسید.

$$(5^2)^4 =$$

$$3^7 \times 5^9 \times 3^2 =$$

$$\left(\frac{1}{5}\right)^5 \times \left(1\frac{1}{2}\right)^3 \times \left(\frac{3}{2}\right) =$$

$$3^5 + 3^5 + 3^5 =$$

۱۲

حاصل هریک را بدست آورید.

$$\sqrt{100-64} =$$

$$\sqrt{\sqrt{81}} =$$

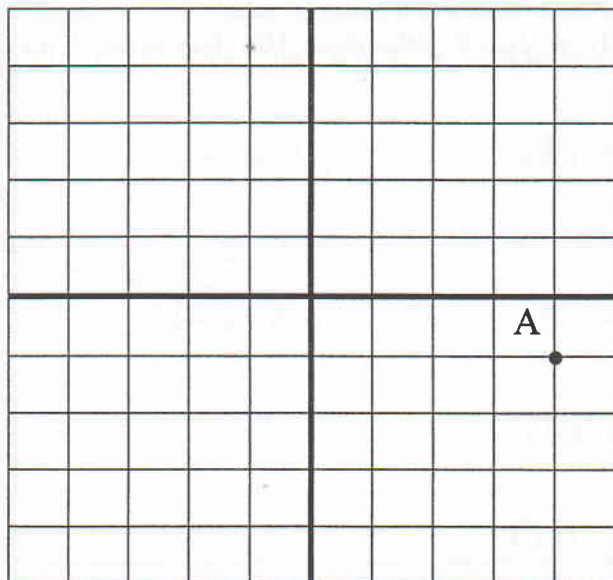
$$\sqrt{\frac{35}{36}} =$$

۱۳

الف) مختصات نقطه A را بنویسید. $A = [\quad]$

ب) نقطه $B = \begin{bmatrix} -4 \\ +2 \end{bmatrix}$ را روی مختصات نشان دهید.

ج) بردار \vec{AB} را رسم کرده و جمع متناظر با بردار را بنویسید.



۱۴

در پرتاب یک سکه و یک تاس با هم احتمال هر یک را بنویسید.

الف) احتمال رو آمدن سکه

ب) احتمال اینکه سکه رو بیاید و تاس عدد اول بیاید.

ج) احتمال صفر و احتمال یک را توضیح دهید.

۱

نام و نام خانوادگی:

درس: ریاضی

پایه: هفتم

کلاس-ردیف:

باسمه تعالی

اداره کل آموزش و پرورش استان یزد

مدیریت آموزش و پرورش ناحیه یک

دبیرستان پسرانه نمونه دولتی رسولیان (دوره اول)

تاریخ امتحان: ۱۳۹۵/۳/۶

مدت پاسخگویی: ۸۰ دقیقه

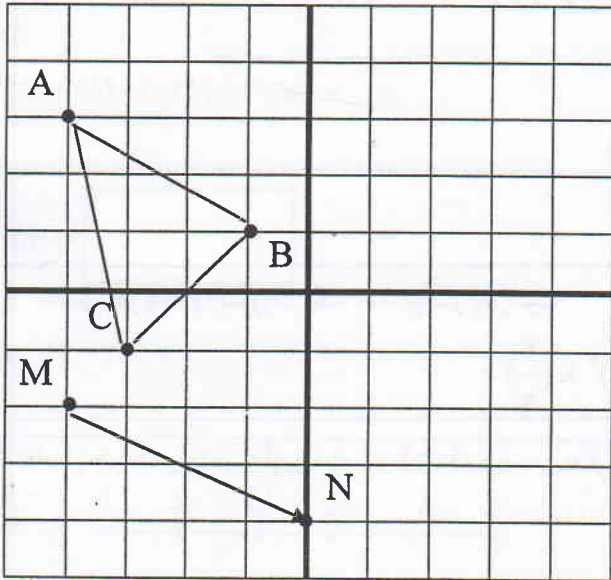
ساعت امتحان: ۸:۳۰

تعداد صفحه: ۴

بارم

ردیف

۱۵ مثلث ABC را به اندازه بردار \vec{MN} انتقال دهید و مثلث جدید را رسم کنید.



۱

۱۶ الف) علم آمار را تعریف کنید.

ب) با توجه به جدول مقابل نمودار میله‌ای تا ستونی آن را رسم کنید.

نام	کلاس اول	کلاس دوم	کلاس سوم
تعداد	۵۷ نفر	۵۰ نفر	۶۵ نفر

موفق باشید

نام و نام خانوادگی :

مدیریت آموزش و پرورش نامیه یک یزد

تاریخ امتحان : ۱۳۹۵/۰۷/۲۸

مهر

نام درس : مطالعات اجتماعی هفتم

دبیرستان پسرانه نمونه دولتی (سلولیان) (دوره اول)

وقت امتحان : ۴۵ دقیقه

آموزشگاه

شماره (ردیف - کلاس) :

ساعت امتحان :

تعداد صفحه : ۲

شماره ردیف - شماره کلاس - نمره به عدد - نمره به حرف - امضاء

ردیف	سوال	نمره
۱	به پدر و مادر خود نیکی کنید. الف) در جاهای خالی کلمات مناسب بنویسید. ۱. در کشور ما مسئولیت سرشماری جمعیت را به عهده دارد. ۲. در کشور ما در جلگه ها و اطراف رودها خاک های حاصلخیزی وجود دارد که مواد و معدنی مناسب دارند. ۳. در ایران باستان هسته اولیه جامعه را تشکیل می داد. ۴. در زمان ایرانیان خط را از اقوام بین النهرین اقتباس کردند.	۲,۵
۲	ب) جملات درست و نادرست را مشخص کنید. ۵. در برخی از کشورها مانند دانمارک و سوئیس تعداد زاد و ولدها کمتر از مرگ و میر شده است. ۶. یکی از مهمترین منابع تامین آب شهرنشینان و روستاییان رود ها هستند. ۷. داریوش توانست آخرین پادشاه مادها را در جنگی شکست بدهد و حکومت ماد ها را سرنگون کند. ۸. جشن مهرگان یکی از بزرگترین و با شکوه ترین جشن های ایران باستان بوده است. ۹. پایتخت هخامنشیان شهر صد دروازه بود. ص غ <input type="radio"/> <input type="radio"/> <input type="radio"/> <input type="radio"/> <input type="radio"/> <input type="radio"/> <input type="radio"/> <input type="radio"/> <input type="radio"/> <input type="radio"/>	۲,۵
۳	ج) گزینه صحیح را انتخاب نمایید. ۱۰. از کدام یک از حکومت های ایران باستان به عنوان نخستین امپراطوری جهانی یاد شده است. الف) سلوکیان ب) ساسانیان ج) هخامنشیان د) اشکانیان ۱۱. خرابه های چغا زنبیل مهمترین اثر به جا مانده از کدام یک از تمدن های زیر است. الف) ایلام ب) شهر سوخته ج) جیرفت د) سیلک ۱۲. کدام رابطه نادرست است. الف) دستور حجاری نقش برجسته ای بر کوه بیستون ← یزدگرد سوم ب) شکست امپراتوری روم(والریانوس) ← شاپور اول ج) ساخت قلعه ای بر فراز تپه ای در شهر هگمتانه ← دیاکو د) تصرف بابل و لیدی ← کوروش ۱۳. سکه زرین دریک در زمان کدام پادشاه ضرب می شد. الف) شاپور ب) خسرو پرویز ج) داریوش کبیر د) کوروش ۱۴. کدام عامل طبیعی با ایجاد سپاه قدرتمند در ایران باستان پیوند دارد. الف) وجود کوه ها ب) موقعیت جغرافیایی ج) وجود دریاها د) پوشش گیاهی	۲,۵
۴	د) سوالات کوتاه ۱۵. دومین ناحیه پر جمعیت ایران را نام ببرید. ۱۶. کدام سازمان در کشور حفاظت از خاک را بر عهده دارد؟ ۱۷. مهمترین پیشه و وسیله معیشت در ایران باستان بود. ۱۸. پیامبر ایران باستان که قبل از مادها می زیست.	۰,۵ ۰,۵ ۰,۵ ۰,۵

۱۹. خاک چگونه تشکیل می شود؟

۲۰. موزه چیست؟

۲۱. جاده ابریشم چه راهی بود؟

۲۲. به طور کلی همه عوامل لازم برای تولید را می توان به سه دسته تقسیم کرد. دو مورد را نام ببرید.

۲۳. به چه مناطقی زیستگاه می گویند؟

۲۴. دو وظیفه شورای نگهبان را بنویسید.

۲۵. تاریخ ایران به دو دوره زمانی تقسیم شده است نام ببرید.

۲۶. چرا بعضی از منشیان و دبیران به چند خط و زبان آشنایی داشتند؟

۲۷. اشراف و بزرگان در جامعه ساسانی شامل چه کسانی بود؟ (۴ مورد)

۲۸. میراث فرهنگی چیست؟ انواع آن را نام ببرید.

۲۹. ویژگی های تمدن را بیان کنید. (۳ مورد)

ی) یک سوال زیر را به دلخواه توضیح دهید.

۱. چه عواملی موجب از بین رفتن خاک می شود؟ (۲ مورد)

۲. نام چهار ناحیه آب و هوایی ایران را بنویسید.