



متن املای تقریری پایه نهم خردادماه ۹۹

به نام خدا

و مثل تو چون مورچه ای است که در قصرِ مَلکی سوراخی دارد؛ جز غذای خویش و یاران خویش چیزی نمی بیند؛ و از جمال صورتِ قصر و بسیاری غلامان و سریرِ مُلکِ وی، هیچ خبر ندارد. (ص ۱۹)

دوستی و پیوند با دیگران یکی از مهم ترین نیازهای انسان است. مصاحبت با یک دوست خوب و شکیبا همچون وزش نسیمِ دل انگیزی است که احساس آرامش و سبکی و صفای درون را در ما زنده می سازد و باعث خوشحالی و خرسندی ما می شود. (ص ۳۰)


سخن ناپرسیده، مگوی و از گفتار خیره پرهیز کن. چون باز پرسند، جز راست مگوی. تا نخواهند، کس را پند مده؛ خاصه کسی را که پند نشنود که او خود اوفتد. (ص ۴۸)

ایران از آن همه ایرانیان است؛ همه اینان که در خاکش بزرگ شده اند و از آبش نوشیده اند و در هوایش پرورده اند؛ با آرامش آن آرمیده اند و در آشوبش بی قراری کرده اند. (ص ۶۴)

ای ابوذر، اگر درباره چیزی که به آن علم نداری، از تو پرسیده شود، بگو نمی دانم تا از پیامدهای ناگوار آن در امان بمانی. ای ابوذر، مبادا با برادر مسلمانان قهر کنی؛ زیرا کردار شایسته در هنگام قهر، به درگاه پروردگار پذیرفته نمی شود. (ص ۱۰۰)

روباه گفت: زندگی من یکنواخت است؛ ولی تو اگر مرا اهلی کنی، زندگی من چون خورشید خواهد درخشید. آنگاه با صدای پایی آشنا خواهم شد که همچون نغمه موسیقی مرا از لانه بیرون خواهد کشید. (ص ۱۳۷)



	مدت امتحان	مدیریت آموزش و پرورش ناحیه یک یزد			سوالات ارزشیابی نوبت: دوم	
	۵۰ دقیقه	دیپستان نمونه دولتی رسولیان دوره اول			درس: آمادگی دفاعی نهم	
	تاریخ آزمون				تعداد صفحه و سوال: ۲ صفحه ۲۷ سوال	
	۹۹ / ۳ / ۲۶	پایه	کدرانش آموزی	نام قانوارگی	نام	
جمع نمره:	نهم	۹۱۰۱	افضلیان	ابوالفضل		

ردیف	سوال	بارم
۱	گزینه های صحیح زیر را با ✓ مشخص کنید. بسیج در چه تاریخی به فرمان امام خمینی تاسیس شد؟ الف) ۱۳۵۸ آذر <input type="radio"/> (ب) ۱۳۵۹ آذر <input type="radio"/> (ج) ۵ دی ماه ۱۳۵۸ <input type="radio"/> (د) ۵ آذر ۱۳۵۷ <input type="radio"/>	۰/۲۵
۲	در کدام فرمان افراد روی پاشنه پای چپ و پنجه پای راست ۹۰ درجه می چرخند؟ الف) به راست راست <input type="radio"/> (ب) به چپ چپ <input type="radio"/> (ج) عقب گرد <input type="radio"/> (د) از جلو نظام <input type="radio"/>	۰/۲۵
۳	کدام یک از سلاح های زیر از سلاح های غیرمتعارف نیست؟ الف) هسته ای <input type="radio"/> (ب) شیمیایی <input type="radio"/> (ج) میکروبی <input type="radio"/> (د) موشک <input type="radio"/>	۰/۲۵
۴	کدام گروه با هدف واپایش و نظارت برافزایش ایمنی تشکیل می شود؟ الف) تدارکات و پشتیبانی <input type="radio"/> (ب) نجات و امداد <input type="radio"/> (ج) جست و جو <input type="radio"/> (د) آتش نشان <input type="radio"/>	۰/۲۵
۵	در حال حاضر خطرناکترین روش دشمن ..... است .	۰/۲۵
۶	..... مظهر پایداری و مقاومت مردم ایران در دوران دفاع مقدس شد.	۰/۲۵
۷	به نبرد خشن و مسلحانه ای که بین دو یا چند اجتماع مستقل اتفاق می افتد ..... می گویند.	۰/۲۵
۸	سلاح نیرو های بسیجی برای مقابله با دشمن، ایمان، اعتقاد، ..... و ..... بود .	۰/۵
۹	شهید مهرداد عزیزالهی که در گردان تخریب به مهندس مین معروف بود در چه سالی و در کدام عملیات به شهادت رسید ؟	۰/۵
۱۰	انواع تهدید که منشا انسانی دارد را نام ببرید ؟	۰/۵
۱۱	هدف اصلی دشمن از تهاجم فرهنگی چیست ؟	۰/۵
۱۲	خداوند در آیه ۲۴۹ سوره بقره در باره ی دفاع چه می فرماید ؟	۰/۵
۱۳	آمادگی در برابر زلزله چه مفهومی دارد ؟	۰/۵
۱۴	زنان در دوران دفاع مقدس چگونه انگیزه ی مقاومت عمومی را تقویت می کردند ؟	۰/۵
۱۵	مردم با ایمان ما سعادت دنیا و آخرت خود را در چه می بینند؟	۰/۵
۱۶	راه حفظ و تداوم انقلاب اسلامی (همان رمز پیروزی) چیست ؟	۰/۷۵

۰/۷۵	سه مورد از فعالیت های بسیج را نام ببرید؟	۱۷
۰/۷۵	گروه های ضد انقلاب بعد از پیروزی انقلاب دست به چه کارهایی زدند؟ ( ۳ مورد )	۱۸
۱	نقش مساجد در دوران دفاع مقدس را بنویسید؟ (۲مورد)	۱۹
۱	مفهوم امنیت (ساده ترین تعریف امنیت) را بنویسید؟	۲۰

### سوالات اختیاری

۱	دو مورد از مکان مناسب و دو مورد مکان نامناسب در آزمایشگاه را نام ببرید؟	۱
۰/۵	اجرا در نظام جمع را تعریف کنید؟	۲
۰/۵	ادامه حیات هر ملتی به چه چیزهایی بستگی دارد؟	۳

### سوالات اختیاری درس ۷ و درس ۸

۰/۵	استتار را تعریف کنید؟	۱
۰/۵	عادی و غیر مهم جلوه دادن تاسیسات جزء کدام روش پدافند غیر عامل است؟	۲
۰/۵	قدرت نرم (جنگ نرم) را تعریف کنید؟	۳
۰/۵	دو مورد از اهداف ماهواره های فارسی زبان را بنویسید؟	۴

موفقیت شما عزیزان آرزوی ماست. التماس دعا





ماشین حساب

## دبیرستان نمونه پسرانه رسولیان دوره اول

نام و نام خانوادگی دبیر:

نمره به عدد:

نمره به حروف:

امضاء

۱- جمله درست را با  $\checkmark$  و جمله غلط را با  $\times$  مشخص کنید! (نمره)

نادرست

درست

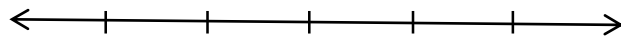
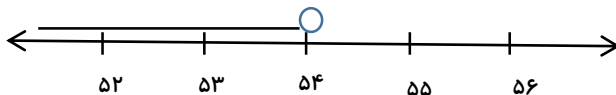
الف) اگر  $A \subseteq B$  باشد، آنگاه  $A \cap B = A$  است.ب) کسر  $\frac{9}{22}$  کسری متناوب است.

ج) مجموعه ی اعداد گویا را می توان با محور نمایش داد.

د) «سه دانش آموز برتر مدرسه» تعریف یک مجموعه است.

۲- الف) مجموعه ی  $A$  را روی محور نمایش دهید! (۵/نمره)

$$A = \{x \in R | -2 < x \leq 1\}$$

ب) مجموعه  $B$  را با علائم ریاضی بنویسید! (۵/نمره)

$$B = \{$$

۳- اگر  $A = \{3, 6, 9, 2\}$  و  $B = \{9, 2\}$  و  $C = \{3, 7\}$  باشند. مجموعه ی زیر را با عضوهایش مشخص کنید! (۱ نمره)

$$(A - B) \cap C =$$

۴- دو تاس را همزمان پرتاب می کنیم.

چقدر احتمال دارد اعداد رو شده برابر باشند؟ (۱ نمره)

۵- گزینه درست را انتخاب کنید! (۵/نمره)

الف) حاصل عبارت  $81^5 \div 243^{-8}$  کدام است؟ (با راه حل)(۱)  $3^{-23}$  (۲)  $3^{-20}$  (۳)  $3^{-60}$  (۴)  $3^{-63}$ ب) ساده شده کسر  $\frac{20}{5\sqrt{8}}$  کدام است؟ (با راه حل)(۱)  $\sqrt{8}$  (۲)  $\sqrt{2}$  (۳)  $5\sqrt{4}$  (۴)  $\frac{5\sqrt{8}}{4}$ ج) کدامیک از مجموعه های داده شده، با مجموعه  $\{x | x \in Z, -3 \leq x < 1\}$  برابر است؟(۱)  $\{-2, -1, 0\}$  (۲)  $\{-3, -2, -1, 0\}$  (۳)  $\{-3, 0\}$  (۴) هیچکدامد) نماد علمی عدد  $0.000072$  کدام است؟(۱)  $72 \times 10^5$  (۲)  $7/2 \times 10^5$  (۳)  $72 \times 10^{-5}$  (۴)  $7/2 \times 10^{-5}$

۶- الف) حاصل عبارت روبرو را با برداشتن قدرمطلق بنویسید! (نمره ۰/۵)

$$|3 - \sqrt{11}| - \sqrt{11} =$$

ب) تساوی ها را کامل کنید! (نمره)

$$\sqrt{(\sqrt{2} - \sqrt{5})^2} =$$

$$\sqrt[3]{16} + \sqrt[3]{54} =$$

۷- حاصل را به صورت یک عدد تواندار بنویسید! (نمره ۰/۷۵)

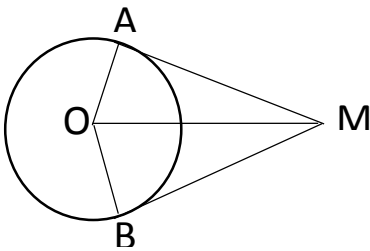
$$\frac{3^5 \times 5^{-3}}{3^{-4} \times 5^{-12}} =$$

۸- دستگاه معادله های خطی مقابل را حل کنید! (نمره)

$$\begin{cases} x + 2y = 6 \\ x - y = -12 \end{cases}$$

۹- از نقطه M، دو مماس بر دایره رسم کرده ایم.

ثابت کنید، اندازه این دو مماس با هم برابر است! (OA, OB شعاع دایره اند). (نمره)



۱۰- جاهای خالی را کامل کنید. (نمره ۱/۲۵)

الف) درجه ی چند جمله ای  $3x^2y - x^3y^2$  نسبت به هر دو متغیر..... است.

ب) خط  $y=3$  موازی محور ..... است. (طول ها، عرض ها)

ج) اگر زاویه ی بین دو خط در نقشه ای با مقیاس ۱۰ برابر ۷۵ درجه باشد،

زاویه ی بین این دو خط در طبیعت.....درجه است.

د) شیب خطی که از نقاط  $\begin{bmatrix} 1 \\ -4 \end{bmatrix}$  و  $\begin{bmatrix} 3 \\ 2 \end{bmatrix}$  می گذرد..... است. (با راه حل)

$$3x + 6 \leq 2x - 5$$

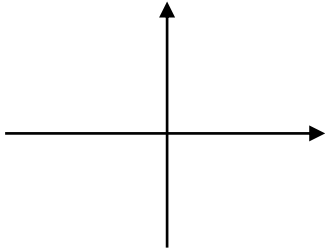
۱۱- نامعادله مقابل را حل کرده و مجموعه جواب آن را بنویسید! (نمره)

۱۲- طرف دیگر تساوی ها را با استفاده از اتحادها کامل کنید! (نمره ۱/۲۵)

$$x^2 + 5x - 6 = (x - \quad)(x + \quad)$$

$$(a + 3)^2 =$$

۱۳- الف) عدد b را طوری تعیین کنید که خط  $y=2x+b$  از نقطه  $\begin{bmatrix} -5 \\ 1 \end{bmatrix}$  بگذرد! (نمره ۰/۷۵)



ب) خط  $y=2x-1$  را در دستگاه مختصات رسم کنید! (نمره ۱)

۱۴- آیا اثبات زیر معتبر است؟ برای توضیح خود دلیل بیاورید! (نمره ۱)

مسئله: مجموع زاویه های داخلی هر چهار ضلعی ۳۶۰ درجه است.  
اثبات: یک مربع را در نظر گرفته؛ چون هر چهار زاویه آن قائمه است.  
پس مجموع زاویه های داخلی هر چهار ضلعی، ۳۶۰ درجه است.

سؤال های انتخابی توجه: در هر قسمت، فقط باید به یکی از سؤال ها پاسخ دهید. هر قسمت ۱ نمره

قسمت ۱:

$$x^2 - 5x + 3 \mid x + 1$$

\* تقسیم مقابل را انجام دهید!

\*\* عبارت مقابل را به طور کامل تجزیه کنید!

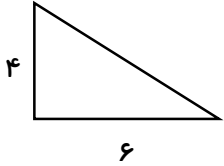
$$x^4 - 1 =$$

قسمت ۲:

\* حاصل را به ساده ترین صورت بنویسید! (مخرج ها مخالف صفر است.)

$$\frac{3x+5}{x-3} \div \frac{3x}{3-x} =$$

\*\* حاصل عبارت  $102 \times 98$  با استفاده از اتحاد به دست آورید!



\* مثلث قائم الزاویه مقابل را حول ضلع ۴ سانتیمتری، دوران می دهیم، اگر ضلع دیگر ۶ سانتیمتر باشد؛ حجم شکل حاصل را با نوشتن فرمول به دست آورید! ( $\pi = 3$ )

\*\* دو مثلث فرضی ABC و DEF متشابه اند و اضلاع مثلث ABC برابر ۴،۷،۹ سانتی متر است.

اگر نسبت اضلاع دو مثلث داده شده برابر با  $\frac{2}{3}$  باشد (نسبت تشابه)،

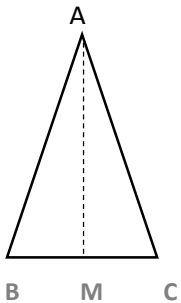
محیط مثلث DEF که از ABC بزرگتر است را به دست آورید!

## قسمت ۴:

\* حجم نیمکره ای به قطر ۶ سانتی متر را بر حسب  $\pi$  حساب کنید!

\*\* در مثلث متساوی الساقین، ثابت کنید، نیمساز رأس A

بر میانه ای وارد بر قاعده، منطبق است! (فرض و حکم را بنویسید.)



«توفیق رفیق، اهتان»

برگردید ببینید سؤالی را بدون پاسخ گذاشته باشید! نام و نام خانوادگی:



بای حل:

-----

-----

-----

<p>مهر آموزشگاه</p> 	مدت امتحان	مدیریت آموزش و پرورش ناحیه یک یزد			سوالات ارزشیابی نوبت: دوم	
	۵۰ دقیقه	<b>دبیرستان نمونه دولتی رسولیان دوره اول</b>			درس: زبان انگلیسی نهم	
	تاریخ آزمون	طراح سوال: آقای شادان پور			تعداد صفحه و سوال: ۴ صفحه ۱۳ سؤال	
	۹۹ / ۳ / ۱۹	پایه	کردانش آموزی	نام خانوادگی	نام	
	جمع نمره: ۱۵	«پایه»	«کد»	«نام_خانوادگی»	«نام»	

بارم	متن سوال	ردیف
1	<p>تصویر مناسب هر جمله را مشخص نمایید و شماره هر جمله را در زیر تصویر مربوط به آن بنویسید. (یک تصویر اضافی است)</p>  <p>1. My friend is a lazy person.      2. He filled out the form yesterday. 3. He interviewed my friend.      4. He put out fire yesterday.</p>	1
1	<p>کلمه مناسب هر جمله را از داخل پراکنش انتخاب کرده و در جای خالی بنویسید.</p> <p>They usually ..... an express train to Tehran.(take ,make, wake) My aunt is helpful. She always ..... voluntary work.(donates, does, asks) My brother opened the ..... last week.(blood, e-ticket, account) He wants to go to Brazil. He needs to ..... money. (reclaim, exchange, book)</p>	۲
1	<p>با توجه به تصویر عبارات را کامل کنید.</p>  <p>1) A: What is he doing now?      B: He is ..... for a trip. 2) A: What does your sister do in Norooz?      B: She ..... the eggs. 3) A: What's your classmate like?      B: He is a ..... boy. 4) A: What did she do?      B: She ..... a message.</p>	۳

کلمات پرسشی را از کادر انتخاب کرده و در جای مناسب آن در جملات زیر قرار دهید. (دو کلمه اضافی است)

1. A:..... did he go to school? B: By bus.  
2. A:..... is the break? B: At 9 a.m.  
3. A:..... does Ali play? B: Outside.  
4. A: ..... installs this program? B: Shayan does.

Who, When, Why, Where,  
,What, How

۴

جملات زیر را مرتب کنید.

1. never/ from/ an/ take/ money/ my brothers/ out/ ATM/.

2. update/ Fridays/ does/ Reza/ his blog/on /?

۵

زیر اشتباهات گرامری جملات زیر خط بکشید سپس شکل صحیح آن را در جای خالی بنویسید.

1. He didn't has a car. ....  
2. They hire a taxi to work yesterday. ....  
3. The doors of the car was black. ....  
4. The cat drinks his milk. ....

۶

با توجه به متن زیر به سوالات پاسخ دهید.

I'm Reza. Today is Fitr Eid. It is an important religious day for Muslims. Muslims don't fast this day. They celebrate it around the world every year. I like this day very much. Last Fitr, we visited our grandparents and helped them. My grandfather and I attended Fitr prayers. This Fitr, I didn't go to my grandparents' house because of Coronavirus. I used information technology to solve this problem and I participated in an online video call with my grandparents. We were happy to talk online with them.

به سوالات زیر پاسخ کامل دهید.

2. 1. What is Fitr Eid?  
.....  
2. When do Muslims celebrate Fitr Eid?  
.....  
3. Who attended Fitr prayers last year?  
.....

جملات درست را با (T) و جملات نادرست را با (F) نشان دهید.

1. Reza talked to his grandparents this Fitr. ( )  
2. Reza can use IT to make a video call. ( )

۷

از بین مجموعه های سوالی یک و دو ، یکی را به دلخواه انتخاب کرده و به آن پاسخ دهید.

### مجموعه سوال یک

کلمات داخل کادر را در جای مناسب آن در جملات زیر قرار دهید. (دو کلمه اضافی است)

**ticket, patient, lost, toll, stamp, voyage**

- 1
1. I want to buy a ..... from the post office.
  2. Police officers help ..... children.
  3. Mothers are always .....
  4. My friend likes traveling very much. He sometimes makes a .....

۸

دور گزینه مناسب خط بکشید.

- 1
1. The picture ..... Ali ..... notebook is beautiful.  
a) 's , 's    b) of , of    c) 's , of    d) of , 's
  2. The plane usually ..... in this airport.  
a) land    b) landing    c) lands    d) landed
  3. My father and I often clean ..... house.    a) her    b) its    c) their    d) our
  4. My cousins ..... upset two days ago.    a) are    b) were    c) is    d) was

۹

### مجموعه سوال دو

کلمات داخل کادر را در جای مناسب آن در جملات زیر قرار دهید. (دو کلمه اضافی است)

**twisted, broke, hit, burned, put, hurt**

- 1
1. I cut my finger yesterday. My mother ..... a plaster on it.
  2. Ali is a careless boy. He ..... his head on the door last week.
  3. She ..... his ankle because she fell down.
  4. The cookie was hot and my little brother ..... his hand.

۸






دور گزینه مناسب خط بکشید.

- 1
1. My mother cut her finger yesterday and it ..... a lot.  
a) bleeding    b) bleeds    c) bled    d) bleed
  2. Mothers always ..... care of their children. They are kind.  
a) took    b) take    c) takes    d) taking
  3. His father ..... a car crash. He was at hospital.  
a) had    b) have    c) has    d) having
  4. I ..... a new e-ticket last week because my e-ticket didn't work.  
a) buys    b) bought    c) buy    d) bought

۹

Reading & Writing(10): ..... Speaking(5): ..... Listening(5): .....  
Final Score: .....

	مدت امتحان	مدیریت آموزش و پرورش ناحیه یک یزد			سوالات ارزشیابی نوبت: دوم	
	۱۰ دقیقه	دبیرستان نمونه دولتی رسولیان دوره اول			درس: زبان انگلیسی نهم - شنیداری	
	تاریخ آزمون	طراح سوال: آقای شادان پور			تعداد صفحه و سوال: ۱ و ۴	
	۹۹ / ۳ / ۱۹	پایه	کدرانش آموزی	نام خانوادگی	نام	
جمع نمره: ۵	«پایه»	«کد»	«نام_خانوادگی»	«نام»		

بارم	متن سوال	ردیف
۱	<p>با توجه به فایل صوتی، جملات صحیح را با علامت (✓) و جملات غلط را با علامت (*) مشخص کنید.</p> <p>1. Ali is booking a room. <input type="checkbox"/>      2. His father is a policeman. <input type="checkbox"/>                      3. Maryam is a helpful girl. <input type="checkbox"/>      4. He walks to the stadium. <input type="checkbox"/></p>	۱
۱	<p>با دقت به فایل صوتی گوش کنید و تصاویر را به ترتیب شماره گذاری کنید. (یک تصویر اضافی است)</p> <div style="display: flex; justify-content: space-around; align-items: center;">      </div> <div style="display: flex; justify-content: space-around; margin-top: 10px;"> <input type="checkbox"/> <input type="checkbox"/> <input type="checkbox"/> <input type="checkbox"/> <input type="checkbox"/> </div>	۲
۲	<p>با دقت به فایل صوتی گوش کنید و جملات را با نوشتن یک عبارت مناسب کامل کنید.</p> <p>1. He ..... an antivirus for his mobile.                      2. They ..... their mother with setting the table.                      3. They ..... on Nature Day.                      4. .... sets the Haft Seen table in his family.</p>	۳
۱	<p>به فایل صوتی گوش کنید و به سوالات خواسته در مورد آن پاسخ دهید.</p> <p>1. Did he watch the cartoon at home? .....</p> <p>2. Were there many people in the cinema? .....</p>	۴
	<p>Listening Score: .....</p>	



نام: «نام»	بسمه تعالی	ماده درسی: عربی نهم
نام خانوادگی: «نام خانوادگی»	اداره کل آموزش و پرورش استان یزد	تاریخ آزمون: ۱۳۹۹ / ۰۳ / ۱۰
کد و کلاس: «کد»	مدیریت آموزش و پرورش ناحیه یک	مدت آزمون: ۶۰ دقیقه
صفحه و سؤال: ۲ صفحه - ۱۶ سؤال	دبیرستان دوره اول نمونه رسولیان	طراح: عابدینی ندوشن

بارم	متن سؤالات	ردیف
۱/۵	ترجمه درست را انتخاب کنید. الف: أَذْكَرُ رَبِّي عِنْدَ جُلُوسِي: پروردگارم را هنگام نشستنم یاد کردم. <input type="radio"/> ب: أَلْغَرِيبُ مَنْ لَيْسَ لَهُ حَبِيبٌ: غریب کسی است که دوستی ندارد. <input type="radio"/> پروردگارم را هنگام نشستنم یاد می کنم. <input type="radio"/> غریب آن کسی است که با دوستش رابطه خوبی ندارد. <input type="radio"/>	۱
۱/۵	نام هر تصویر رادر جاهای خالی بنویسید. أَلْحَمَامَةُ / أَلْكَلْبُ / أَلدُّبُ / أَلزَّرَافَةُ / أَلْعَصْفُورُ / أَلغَزَالَةُ / أَلسَّمَكَةُ / أَلفَيْلُ / أَلفُرسَ /  ..... حَيَّوَانٌ نَجِيبٌ.  ..... فِي النَّهْرِ.	۲
۱/۵	کلمات متضاد و مترادف را دو به دو کنار هم بنویسید. «صَدَقَ - قَبِحَ - تَلَمِذَ - كَذِبَ - طَالِبَ - جِسْرَ» ..... ≠ ..... ..... = .....	۳
۱/۵	معنای کلماتی را که زیر آنها خط کشیده شده بنویسید. رَأَيْنَا دُخَانًا مِنْ بَعِيدٍ. ( ) إِنَّهُ حَفَرَ النَّهْرَ لِأَنَّهُ غَضِبَانُ عَلَيَّ. ( )	۴
۱/۵	کدام کلمه از نظر معنا با سایر کلمه ها ناهماهنگ است؟ الف: سَمِعُ <input type="checkbox"/> كَتَبَ <input type="checkbox"/> جَلَسْتُ <input type="checkbox"/> ضَجِكُوا <input type="checkbox"/> ب: شَارِعَ <input type="checkbox"/> خَاتَمَ <input type="checkbox"/> سَاحَةَ <input type="checkbox"/> رَصِيفَ <input type="checkbox"/>	۵
۱/۵	وزن و حروف اصلی کلمه مشخص شده را بنویسید. إِنَّ أَحَبَّ عِبَادِ اللَّهِ إِلَى اللَّهِ أَنْصَحَهُمْ لِعِبَادِهِ. وزن ..... حروف اصلی .....	۶
۱/۵	در عبارات زیر فعل های «ماضی» و «مضارع» را معلوم کنید. الف: ضَرَبَ لِلنَّاسِ فِي هَذَا الْقُرْآنِ مِنْ كُلِّ مَثَلٍ. .... ب: جَارِئًا يَعْمَلُ فِي مَصْنَعِ الْكِرَاسِيِّ. ....	۷
۱/۵	گزینه صحیح را با علامت × مشخص کنید. ۱- بَعْدَ يَوْمِ الْأَرْبَعَاءِ، يَوْمٌ ..... الف) الثَّلَاثَاءُ <input type="radio"/> ب) الْخَمِيسَ <input type="radio"/> ۲- .....: إِرْكَعِي وَ اسْجُدِي. الف) يَا مُحَمَّدُ <input type="radio"/> ب) يَا مَرْيَمُ <input type="radio"/>	۸
۱/۵	عبارت را بخوانید سپس فعل های امر و نهی را مشخص کنید. أَخْرِجِي أَنْتِ تَقْدِيرِينَ عَلَى الْخُرُوجِ بِسَهْوَةٍ لَا تِيَّاسِي. فعل نهی: ..... فعل امر: .....	۹
۱/۵	با توجه به تصویر پاسخ را به زبان عربی بنویسید.  كَمْ كُرْسِيًّا حَوْلَ الْمِنْضَةِ؟ .....  مَا مَعْنَى هَذِهِ الْعَلَامَةِ؟ .....	۱۰

۱	<p>( ب )</p> <p><input type="checkbox"/> الَّذِي لَا يَسْمَعُ جَيِّدًا</p> <p><input type="checkbox"/> حَلُّ الصَّعَابِ وَ الْمَشْكَلاتِ</p> <p><input type="checkbox"/> أَوْراقٌ فِيها أْخبارٌ وَ مَعْلوماتٌ أُخرى</p> <p><input type="checkbox"/> طائرٌ أَسودُ اللَّونِ لَيْسَ جَميلٌ الصَّوتِ</p>	<p>شماره هر کلمه ستون ( الف ) را</p> <p>در مقابل توضیح مناسب آن</p> <p>درستون ( ب ) قرار دهید .</p> <p>( یک کلمه اضافی است )</p> <p>۱- أَلْغراب</p> <p>۲- الصَّحيفة</p> <p>۳- تَقيلُ السَّمع</p> <p>۴- أَلْفَرَج</p> <p>۵- أَلْحَطَب</p>
۱		<p>جای خالی را با کلمات داخل کمانک کامل کنید.</p> <p>۱- یا صَدیقِی ، ..... إِنَّ اللَّهَ مَعَنَا . ( لَا تَحْزَنُ - لَا تَحْزَنِ )</p> <p>۲- أَلطِّباءُ ؛ ..... الْمَرَضِی فی الْمُسْتَشْفِی . ( یَفْخِصونَ - نَفْخِصُ )</p> <p>۳- یا صَدیقاتی ، رَجاءٌ ، ..... مِنْ الْمَكْتَبَةِ . ( أُخْرِجوا - أُخْرِجَنَّ )</p> <p>۴- هَذا نِ الطَّالِبانِ ؛ ..... کلامٌ مُدرِّسِهِما . ( سَمِعنا - سَمِعَتنا )</p>
۱		<p>۱۳ متن زیر را به دقت بخوانید و سپس به پرسش ها را به عربی پاسخ دهید .</p> <p>أنا طالبٌ في الصفِّ التاسعِ . اسمي مُحَمَّد . عِندي أخوان : أميرٌ وَ ناصرٌ . أميرٌ أكبرُ أولادِ الأسرةِ . إِنَّهُ تَخَرَّجَ مِنَ الْمَدْرسةِ وَالآنَ هُوَ نِجارٌ . ناصرٌ طالبٌ في الصفِّ السَّادسِ . نَحْنُ في مَدِينَةِ « صوفيان » في « مَحافظَةِ آذربايجانِ شَرْقى » .</p> <p>الف : مَنْ تَخَرَّجَ مِنَ الْمَدْرسةِ ؟ .....</p> <p>ب : مِنْ أينَ هذهِ الأسرةِ ؟ .....</p> <p>ج : في أَيِّ صَفِّ مُحَمَّد ؟ .....</p> <p>د : ما هُوَ مِهْنَةُ أميرٍ ؟ .....</p>
۱		<p>۱۴ حدیث زیر را ترجمه کنید .</p> <p>الف: عَلِمَ أَنَّ النَّصْرَ مَعَ الصَّبْرِ : .....</p>
۳		<p>۱۵ عبارات داده شده را به فارسی ترجمه کنید .</p> <p>الف : فَرِحَ الطُّلابُ وَسألوا الْجُنودَ . .....</p> <p>ب : أَجابَ سَجادٌ : هُوَ رَقَدَ في الْمُسْتَشْفِی . .....</p> <p>ج : عِندي أَخشابٌ كَثيرٌ في الْمَخْزَنِ . .....</p>
۳		<p>۱۶ * ترجمه کنید . (از چهار جمله به دلخواه فقط به دو جمله پاسخ دهید .) ۲ نمره</p> <p>الف : أَنْتَ لَا تَقْدِرُ . لِمَ تَحاولُ ؟ اِقْبَلِ مَصيرَكَ .</p> <p>ب : لَا تَحْزَنُ إِنَّ اللَّهَ مَعَنَا .</p> <p>ج : في وَطْني كُنْتُ أَشْتَغِلُ في الْمَصْنَعِ .</p> <p>د : يَوْمَ لَنَا وَ يَوْمَ عَلينا .</p> <p>** در جمله های داده شده زیر، موصوف و صفت و مضاف و مضاف الیه را مشخص کنید . ( فقط دو مورد ) ۱ نمره</p> <p>الف: مَسْجِدُ الْإمامِ ، أْتَرُّ قَدِيمٍ في مَحافظَةِ إِصفهانِ .</p> <p>ب: طُلابٌ مُجْتَهِدونَ في الْجامِعَةِ .</p> <p>ج: مُخْتَبَرٌ صَغيرٌ في الْمَدْرِسَةِ .</p>

نمره کل (از ۲۰):

نمره مکالمه (از ۲):

نمره روخوانی (از ۳):

نمره کتبی (از ۱۵):



جمعه کلمات زیر را بنویسید. (۲۱)

تَشْرِيُونَ :	وَضَعَ :	مُدَّكِرٌ :	صِي :
سَعِيرٌ :	عَدَنٌ :	نَسَوا :	أَس :

کلیها و عبارات قرآنی زیر را معنا کنید. (۲، ۵)

يَبْلُوكُمْ : تا ..... سَاءَ مَا يَحْكُمُونَ :

زَلَّ السَّكِينَةُ : ..... أَقِيمُوا الْوِزْنَ : ..... وزن و معیار را

علامت (ص) و (ع) صحیح یا غلط بودن جهلات زیر را مشخص کنید. (۱۱)

- ( الف - حرف (ض) به صورت نوک زبانی درشت و محکم تلفظ می شود. )
- ( ب - اگر کلمه (الله) بعد از — بیاید نازک و معمولی تلفظ می شود. )
- ( ج - در کلماتی مانند « قَالَ وَ كَانْ » کشیده خوانده شود به مثنی تبدیل می شود. )
- ( د - فعل ماضی پس از حروف شرط معمولاً به صورت ماضی الترامی معنا می شود. )

برکت الف وصل در کلمات زیر را مشخص کنید. (۱)

اِثْنَا عَشَرَ	الْعَالَمِينَ	اَكْتُبُ	تَقْوَا
----------------	---------------	----------	---------

توجه به عبارت قرآنی « تِجَارَةٌ تُنْجِيكُمْ » ترجمه (تجارتی که ..... ) کامل کنید. (۱)

یات و عبارات قرآنی زیر را ترجمه کنید. (۲)

رُؤَايَا الْبُيُوتِ : رها کنید ..... فَهُوَ حَسْبُهُ : ..... لَوْ كُنَّا نَسْمَعُ : اگر


أَنْزَلْنَا الْحَدِيدَ : و ..... آهِنَّا ..... عِلْمُهُ الْبَيَانُ : ..... سخن گفتن را

ی از سوالات زیر را به دلخواه جواب دهید. (۱)

در عبارت « وَالصُّحُفِ » حرف « و » به چه معناست ؟

کلمه « سَ » و « سَوْفَ » قبل از فعل مضارع بیاید چگونه معنا می شود ؟



مهر آموزشگاه	وقت	مدیریت آموزش و پرورش ناحیه یک یزد			سوالات ارزشیابی نوبت: دوم	
	۴۰ دقیقه	دبیرستان نمونه دولتی رسولیان دوره اول			درس: قرآن پایه نهم	
	تاریخ آزمون	تعداد صفحه و سوال: یک صفحه ۸ سوال				
	۹۹ / ۳ / ۰۸	پایه	کدرانش آموزشی	۳۴ ثانوارگی	۳۴	
	جمع نمره:	نهم	۹۱۰۱	افضلیان	ابوالفضل	

۱- ترجمه کلمات زیر را بنویسید. (۲۱)

يُحْيِي : مُدَكِّر : وَضَعَ : تَشْرِبُونَ :  
بِأَسْ : نَسَا : عَدَنَ : سَعِيرَ :

۲- ترکیبها و عبارات قرآنی زیر را معنا کنید. (۷،۵)

لِيَلْبُوكُمْ يَا تَائِبِينَ : سَاءَ مَا يَحْكُمُونَ : وَاتَّقَوْهُ :

أَنْزَلَ السَّكِينَةَ : أَقِيمُوا الْوَزْنَ : وزن و معیار را

۳- با علامت (ص) و (غ) صحیح یا غلط بودن جملات زیر را مشخص کنید. (۱۱)

- الف- حرف (ض) به صورت نوک زبانی درشت و محکم تلفظ می شود. ( )  
ب- اگر کلمه (الله) بعد از    بیاید نازک و معمولی تلفظ می شود. ( )  
ج- در کلماتی مانند « قَالَ وَكَانَ » کشیده خوانده شود به مثنی تبدیل می شود. ( )  
د- فعل ماضی پس از حروف شرط معمولاً به صورت ماضی التمامی معنا می شود. ( )

۴- حرکت الف وصل در کلمات زیر را مشخص کنید. (۱)

اتَّقُوا      اَكْتُبْ      العالمين      اثنا عشر

۵- با توجه به عبارت قرآنی « تِجَارَةٌ تُنْجِيكُمْ » ترجمه (تجارتی که ..... ) کامل کنید. (۷،۵)

۶- آیات و عبارات قرآنی زیر را ترجمه کنید. (۲)

ذُرُّوَالْبَيْعَ : رها کنید .....  
فَهُوَ حَسْبُكَ : ..... لو كُنَّا نَسْمَعُ : اگر

وَأَنْزَلْنَا الْحَدِيدَ : و ..... آهن را  
عَلَّمَهُ الْبَيَانَ : سخن گفتن را

یکی از سوالات زیر را به دلخواه جواب دهید. (۱)

۷- در عبارت « وَالضُّحَىٰ » حرف « و » به چه معناست ؟

۸- اگر « سَدَ » و « سَوَفَ » قبل از فعل مضارع بیاید چگونه معنا می شود ؟

متن سوال اول

1. What are you doing, Ali? I'm reserving a room in Shiraz.
2. What is your father's job? He puts out fire and saves people's lives.
3. Maryam is my best friend. She always helps me with my lessons.
4. There is a football match on Azadi Stadium. I go there by bus.

متن سوال دوم

1. What are they doing? They are watching fire works.
2. The airplane is taking off.
3. Please install a dictionary on my computer.
4. Amir is in the hospital. He had a car accident yesterday.

متن سوال سوم

1. My uncle downloaded an antivirus program for his mobile last night.
2. My mother set the Haft Seen Table for Norooz. My sister and I helped her.
3. We went out on Nature day in Norooz.
4. Who sets the Haft Seen table in your family? My mother does.

متن سوال چهارم

This summer, there were two interesting film in the cinemas a cartoon and a comedy. I like to see both but I just watched the cartoon. The cinema was full of people and it was difficult to buy ticket. Later, I watched the CD of the comedy at home.

<p>بنام خداوند جان و خرد</p> <p>وزارت آموزش و پرورش</p> <p>اداره کل آموزش و پرورش استان یزد</p> <p>مدیریت آموزش و پرورش ناحیه یک دبیرستان نمونه دولتی رسولیان (دوره اول)</p>		<p>نام و نام خانوادگی:</p> <p>نام پدر:</p> <p>کلاس:</p>
۰/۵	<p>انقلاب مشروطه در زمان ناصرالدین شاه در ایران شکل گرفت <input type="checkbox"/> صحیح <input type="checkbox"/> غلط</p>	<p>آزمون: مطالعات اجتماعی</p> <p>نهم: ۹۹/۳/۲۲</p> <p>زمان: ۶۰ دقیقه</p>
۰/۵	<p>هدف حکومت پهلوی از قانون انجمن ایالتی و ولایتی تضعیف هویت اسلامی جامعه ایران بود. <input type="checkbox"/> صحیح <input type="checkbox"/> غلط</p>	
۰/۵	<p>اجتماعی شدن فرایندی است که از بزرگسالی شروع و تا پایان عمر ادامه دارد. <input type="checkbox"/> صحیح <input type="checkbox"/> غلط</p>	
۰/۵	<p>امروزه زنان نیز با فعالیت های اقتصادی در رفع نیازهای خانواده مشارکت و همراهی دارند. <input type="checkbox"/> صحیح <input type="checkbox"/> غلط</p>	
۰/۵	<p>قرارداد ۱۹۱۹ بین ایران و کدام کشور بسته شد؟</p> <p>الف) روسیه <input type="checkbox"/> ب) آمریکا <input type="checkbox"/> ج) انگلستان <input type="checkbox"/> د) فرانسه <input type="checkbox"/></p>	
۰/۵	<p>در نظام جمهوری اسلامی ایران، اولین دوره انتخابات مجلس شورای اسلامی در چه تاریخی برگزار شد؟</p> <p>الف) بهمن ۱۳۵۸ <input type="checkbox"/> ب) اسفند ۸ ۱۳۵۸ <input type="checkbox"/> ج) اسفند ۱۳۵۷ <input type="checkbox"/> د) آذرماه ۱۳۵۸ <input type="checkbox"/></p>	
۰/۵	<p>کدام گزینه ویژگی هویت فردی-روانی است؟</p> <p>الف) عضویت در گروه نمایش مدرسه <input type="checkbox"/> ب) داشتن گروه خونی <input type="checkbox"/></p> <p>ج) داشتن ملیت ایرانی <input type="checkbox"/> د) داشتن علاقه به هنر <input type="checkbox"/></p>	
۱/۵	<p>هریک از گزینه های سمت راست مربوط که کدام گزینه سمت چپ می باشد؟ (ربط دهید)</p> <p>الف) نشانه یا نماینده یک پدیده دیگر است</p> <p>ب) همه عادت ها، آداب و رسوم اجتماعی یک جامعه</p> <p>ج) اموری را خوب و مطلوب و مثبت تلقی کنیم</p> <p>هنجار</p> <p>نماد</p> <p>عقاید</p> <p>ارزش</p>	
۱	<p>زمینه های فکری و فرهنگی داخلی انقلاب مشروطه را بنویسید</p>	
۱	<p>از هدف اصلی نیروهای متفقین از اشغال ایران چه بود.</p>	
۱	<p>منظور از ارزش های اجتماعی چیست؟</p>	
۱	<p>حق کاپیتولاسیون را شرح دهید.</p>	

۱	اجتماعی شدن یا جامعه پذیری را تعریف کنید.	۱۳
۱	مهمترین دلایل پیروی از هنجارها چیست؟ دو مورد	۱۴
۱	دو مورد از کارکرد های خانواده را بیان کنید.	۱۵
۱	ویژگی های انتسابی را با ذکر مثال توضیح دهید ؟	۱۶

### درس ۱ تا ۵ اختیاری ۷ نمره

۱/۵	همه ی مردم کشورهایی که در شرق گرینویچ قرار دارند خورشید را زودتر می بینند <input type="checkbox"/> ص <input type="checkbox"/> غ	۱
۰/۵	در اوایل تیر ماه خورشید در نیمکره ی شمالی به مدار راس السرطان عمود می تابد که به آن ..... می گویند.	۲
۰/۵	هر نقطه از کره زمین روی یک مدار و یک نصف النهار قرار دارد که به آن ..... آن منطقه می گویند الف) مختصات جغرافیایی <input type="checkbox"/> ب) طول جغرافیایی <input type="checkbox"/> ج) مدار <input type="checkbox"/> د) حرکت انتقالی <input type="checkbox"/>	۳
۰/۵	هر یک از رویدادهای زیر مربوط به کدام یک از حرکت های زمین است؟ الف) پیدایش فصلها ..... ب) اختلاف ساعت.....	۴
۰/۵	سیاره ای که روی آن زندگی می کنیم از چهار محیط تشکیل شده است . <input type="checkbox"/> ص <input type="checkbox"/> غ	۵
۰/۵	بعد از فلات قاره شیب زیاد می شود و تا عمق ۲۰۰۰ تا ۵۰۰۰ متری ادامه می یابد به این بخش ..... می گویند.	۶
۰/۵	به بخش خارجی کره ی زمین یا پوسته ی آن که حالت جامد دارد چه می گویند؟ الف) لیتوسفر <input type="checkbox"/> ب) هیدروسفر <input type="checkbox"/> ج) اتمسفر <input type="checkbox"/> د) بیوسفر <input type="checkbox"/>	۷
۱	چرا سفر به اقیانوسها دشوارتر از صعود به قله هاست ؟ ( دو دلیل ذکر کنید)	۸
۰/۵	بیابان گبی که اطراف آن را کوه فرا گرفته است جزء بیابانهای سرد جهان محسوب می شود . <input type="checkbox"/> ص <input type="checkbox"/> غ	۹

۱	یک ناحیه وسیع جغرافیایی که در آن انواع خاصی از گیاهان و جانوران زندگی میکنند را ..... می گویند.	۱۰
۰/۵	مهمترین و بیشترین عامل تاثیر تنوع در زیست بومها کدام است. الف) آب و هوا <input type="checkbox"/> ب) جنس خاک <input type="checkbox"/> ج) شکل ناهمواریها <input type="checkbox"/> د) میزان ارتفاع زمین <input type="checkbox"/>	۱۱
۰/۵	یکی از زیست بومها هستم که در مجاورت خط استوا و در چند قاره گسترده شده ام در من هوا همیشه گرم و رطوبت حدود ۸۰ درصد و میزان بارندگی سالیانه ۲۵۰۰ میلی متر است. نام مرا بنویس؟.....	۱۲
<b>درس ۲۰ تا ۲۴ اختیاری ۷ نمره</b>		
۰/۵	امروزه صاحب نظران معتقدند تک فرزندی هم برای خانواده و هم برای اجتماع مفید است. صحیح <input type="checkbox"/> غلط <input type="checkbox"/>	۱
۰/۵	فرهنگ نقش مهمی در افزایش بهره وری در یک جامعه دارد. صحیح <input type="checkbox"/> غلط <input type="checkbox"/>	۲
۰/۵	کدام گزینه از مهم ترین تکالیف شهروندی نیست؟ الف) همکاری با دولت <input type="checkbox"/> ب) حق مشارکت سیاسی <input type="checkbox"/> ج) امر به معروف و نهی از منکر <input type="checkbox"/> د) دفاع از کشور <input type="checkbox"/>	۳
۰/۵	در اقتصاد بهره وری را نسبت ..... به داده ها تعریف کرده اند الف) سرمایه <input type="checkbox"/> ب) نهاد <input type="checkbox"/> ج) فرایند <input type="checkbox"/> د) ستانده <input type="checkbox"/>	۴
۱	دو مورد از عواملی که موجب ناسازگاری زن و مرد می شوند را بیان کنید	۵
۱	دومورد از وظایف حکومت ها را بیان کنید	۶
۱	مالیات چیست؟	۷
۱	بهره وری را تعریف کنید و یک مورد از روش های بهره وری در گذشته را نام ببرید.	۸
۱	منظور از بهره وری سبز در تولید چیست؟	۹



نام و نام خانوادگی: <b>بنام خداوند جان و خرد</b> وزارت آموزش و پرورش اداره کل آموزش و پرورش استان یزد «نام» «نام_خانوادگی» «کد» مدیریت آموزش و پرورش ناحیه یک - <b>دبیرستان نمونه دولتی رسولیان (دوره اول)</b> کلاس:	
۱	انقلاب مشروطه در زمان ناصرالدین شاه در ایران شکل گرفت صحیح <input type="checkbox"/> غلط <input type="checkbox"/>
۲	هدف حکومت پهلوی از قانون انجمن ایالتی و ولایتی تضعیف هویت اسلامی جامعه ایران بود. صحیح <input type="checkbox"/> غلط <input type="checkbox"/>
۳	اجتماعی شدن فرایندی است که از بزرگسالی شروع و تا پایان عمر ادامه دارد. صحیح <input type="checkbox"/> غلط <input type="checkbox"/>
۴	امروزه زنان نیز با فعالیت های اقتصادی در رفع نیازهای خانواده مشارکت و همراهی دارند. صحیح <input type="checkbox"/> غلط <input type="checkbox"/>
۵	قرارداد ۱۹۱۹ بین ایران و کدام کشور بسته شد؟ الف) روسیه <input type="checkbox"/> ب) آمریکا <input type="checkbox"/> ج) انگلستان <input type="checkbox"/> د) فرانسه <input type="checkbox"/>
۶	در نظام جمهوری اسلامی ایران، اولین دوره انتخابات مجلس شورای اسلامی در چه تاریخی برگزار شد؟ الف) بهمن ۱۳۵۸ <input type="checkbox"/> ب) اسفند ۱۳۵۸ <input type="checkbox"/> ج) اسفند ۱۳۵۷ <input type="checkbox"/> د) آذرماه ۱۳۵۸ <input type="checkbox"/>
۷	کدام گزینه ویژگی هویت فردی-روانی است؟ الف) عضویت در گروه نمایش مدرسه <input type="checkbox"/> ب) داشتن گروه خونی <input type="checkbox"/> ج) داشتن ملیت ایرانی <input type="checkbox"/> د) داشتن علاقه به هنر <input type="checkbox"/>
۸	هریک از گزینه های سمت راست مربوط که کدام گزینه سمت چپ می باشد؟ ( ربط دهید) الف) نشانه یا نماینده یک پدیده دیگر است ب) همه عادت ها، آداب و رسوم اجتماعی یک جامعه ج) اموری را خوب و مطلوب و مثبت تلقی کنیم هنجار نماد عقاید ارزش
۹	زمینه های فکری و فرهنگی داخلی انقلاب مشروطه را بنویسید
۱۰	از هدف اصلی نیروهای متفقین از اشغال ایران چه بود.
۱۱	منظور از ارزش های اجتماعی چیست؟
۱۲	حق کاپیتولاسیون را شرح دهید.

۱۳	اجتماعی شدن یا جامعه پذیری را تعریف کنید.
۱۴	مهمترین دلایل پیروی از هنجارها چیست؟ دو مورد
۱۵	دو مورد از کارکرد های خانواده را بیان کنید.
۱۶	ویژگی های انتسابی را با ذکر مثال توضیح دهید؟
<b>درس ۱ تا ۵ اختیاری (۷نمره)</b>	
۱	همه ی مردم کشورهایی که در شرق گرینویچ قرار دارند خورشید را زودتر می بینند ص <input type="checkbox"/> غ <input type="checkbox"/>
۲	در اوایل تیر ماه خورشید در نیمکره ی شمالی به مدار راس السرطان عمود می تابد که به آن ..... می گویند.
۳	هر نقطه از کره زمین روی یک مدار و یک نصف النهار قرار دارد که به آن ..... آن منطقه می گویند الف) مختصات جغرافیایی <input type="checkbox"/> ب) طول جغرافیایی <input type="checkbox"/> ج) مدار <input type="checkbox"/> د) حرکت انتقالی <input type="checkbox"/>
۴	هر یک از رویدادهای زیر مربوط به کدام یک از حرکت های زمین است؟ الف) پیدایش فصلها ..... ب) اختلاف ساعت .....
۵	سیاره ای که روی آن زندگی می کنیم از چهار محیط تشکیل شده است. ص <input type="checkbox"/> غ <input type="checkbox"/>
۶	بعد از فلات قاره شیب زیاد می شود و تا عمق ۲۰۰۰ تا ۵۰۰۰متری ادامه می یابد به این بخش ..... می گویند.
۷	به بخش خارجی کره ی زمین یا پوسته ی آن که حالت جامد دارد چه می گویند؟ الف) لیتوسفر <input type="checkbox"/> ب) هیدروسفر <input type="checkbox"/> ج) اتمسفر <input type="checkbox"/> د) بیوسفر <input type="checkbox"/>
۸	چرا سفر به اقیانوسها دشوارتر از صعود به قله هاست؟ (دو دلیل ذکر کنید)
۹	بیابان گبی که اطراف آن را کوه فرا گرفته است جزء بیابانهای سرد جهان محسوب می شود. ص <input type="checkbox"/> غ <input type="checkbox"/>

۱	یک ناحیه وسیع جغرافیایی که در آن انواع خاصی از گیاهان و جانوران زندگی میکنند را ..... می گویند.
۰/۵	مهمترین و بیشترین عامل تاثیر تنوع در زیست بومها کدام است. الف) آب و هوا <input type="checkbox"/> ب) جنس خاک <input type="checkbox"/> ج) شکل ناهمواریها <input type="checkbox"/> د) میزان ارتفاع زمین <input type="checkbox"/>
۰/۵	یکی از زیست بومها هستم که در مجاورت خط استوا و در چند قاره گسترده شده ام در من هوا همیشه گرم و رطوبت حدود ۸۰ درصد و میزان بارندگی سالیانه ۲۵۰۰ میلی متر است . نام مرا بنویس؟.....
<b>درس ۲۰ تا ۲۴ اختیاری ( ۷ نمره )</b>	
۰/۵	۱ امروزه صاحب نظران معتقدند تک فرزندی هم برای خانواده و هم برای اجتماع مفیداست. صحیح <input type="checkbox"/> غلط <input type="checkbox"/>
۰/۵	۲ فرهنگ نقش مهمی در افزایش بهره وری در یک جامعه دارد. صحیح <input type="checkbox"/> غلط <input type="checkbox"/>
۰/۵	۳ کدام گزینه از مهم ترین تکالیف شهروندی نیست؟ الف) همکاری با دولت <input type="checkbox"/> ب) حق مشارکت سیاسی <input type="checkbox"/> ج) امر به معروف و نهی از منکر <input type="checkbox"/> د) دفاع از کشور <input type="checkbox"/>
۰/۵	۴ در اقتصاد بهره وری را نسبت ..... به داده ها تعریف کرده اند الف) سرمایه <input type="checkbox"/> ب) نهاده <input type="checkbox"/> ج) فرایند <input type="checkbox"/> د) ستانده <input type="checkbox"/>
۱	۵ دو مورد از عواملی که موجب ناسازگاری زن و مرد می شوند را بیان کنید
۱	۶ دو مورد از وظایف حکومت ها را بیان کنید
۱	۷ مالیات چیست؟
۱	۸ بهره وری را تعریف کنید و یک مورد از روش های بهره وری در گذشته را نام ببرید.
۱	۹ منظور از بهره وری سبز در تولید چیست؟

بنام خداوند جان و خرد	
نام و نام خانوادگی:	وزارت آموزش و پرورش
نام پدر:	اداره کل آموزش و پرورش استان یزد
کلاس:	مدیریت آموزش و پرورش ناحیه یک دبیرستان نمونه دولتی رسولیان (دوره اول)
آزمون: مطالعات اجتماعی	نهم: ۹۹/۳/۲۲
زمان: ۶۰ دقیقه	
۱	انقلاب مشروطه در زمان ناصر الدین شاه در ایران شکل گرفت <input type="checkbox"/> صحیح <input type="checkbox"/> غلط
۲	هدف حکومت پهلوی از قانون انجمن ایالتی و ولایتی تضعیف هویت اسلامی جامعه ایران بود. <input type="checkbox"/> صحیح <input type="checkbox"/> غلط
۳	اجتماعی شدن فرایندی است که از بزرگسالی شروع و تا پایان عمر ادامه دارد. <input type="checkbox"/> صحیح <input type="checkbox"/> غلط
۴	امروزه زنان نیز با فعالیت های اقتصادی در رفع نیازهای خانواده مشارکت و همراهی دارند. <input type="checkbox"/> صحیح <input type="checkbox"/> غلط
۵	قرارداد ۱۹۱۹ بین ایران و کدام کشور بسته شد؟ الف) روسیه <input type="checkbox"/> ب) آمریکا <input type="checkbox"/> ج) انگلستان <input type="checkbox"/> د) فرانسه <input type="checkbox"/>
۶	در نظام جمهوری اسلامی ایران ، اولین دوره انتخابات مجلس شورای اسلامی در چه تاریخی برگزار شد؟ الف) بهمن ۱۳۵۸ <input type="checkbox"/> ب) اسفند ۸ ۱۳۵۸ <input type="checkbox"/> ج) اسفند ۱۳۵۷ <input type="checkbox"/> د) آذرماه ۱۳۵۸ <input type="checkbox"/>
۷	کدام گزینه ویژگی هویت فردی-روانی است؟ الف) عضویت در گروه نمایش مدرسه <input type="checkbox"/> ب) داشتن گروه خونی <input type="checkbox"/> ج) داشتن ملیت ایرانی <input type="checkbox"/> د) داشتن علاقه به هنر <input type="checkbox"/>
۸	هریک از گزینه های سمت راست مربوط که کدام گزینه سمت چپ می باشد؟ ( ربط دهید ) الف) نشانه یا نماینده یک پدیده دیگر است ب) همه عادت ها ، آداب و رسوم اجتماعی یک جامعه ج) اموری را خوب و مطلوب و مثبت تلقی کنیم هنجار نماد عقاید ارزش
۹	زمینه های فکری و فرهنگی داخلی انقلاب مشروطه را بنویسید
۱۰	از هدف اصلی نیروهای متفکین از اشغال ایران چه بود.
۱۱	منظور از ارزش های اجتماعی چیست؟
۱۲	حق کاپیتولاسیون را شرح دهید.

۱	اجتماعی شدن یا جامعه پذیری را تعریف کنید.	۱۳
۱	مهمترین دلایل پیروی از هنجارها چیست؟ دو مورد	۱۴
۱	دو مورد از کارکرد های خانواده را بیان کنید.	۱۵
۱	ویژگی های انتسابی را با ذکر مثال توضیح دهید؟	۱۶

### درس ۱ تا ۵ اختیاری ۷ نمره

۱/۵	همه ی مردم کشورهایی که در شرق گرینویچ قرار دارند خورشید را زودتر می بینند <input type="checkbox"/> ص <input type="checkbox"/> غ	۱
۰/۵	در اوایل تیر ماه خورشید در نیمکره ی شمالی به مدار راس السرطان عمود می تابد که به آن ..... می گویند.	۲
۰/۵	هر نقطه از کره زمین روی یک مدار و یک نصف النهار قرار دارد که به آن ..... آن منطقه می گویند الف) مختصات جغرافیایی <input type="checkbox"/> ب) طول جغرافیایی <input type="checkbox"/> ج) مدار <input type="checkbox"/> د) حرکت انتقالی <input type="checkbox"/>	۳
۰/۵	هر یک از رویدادهای زیر مربوط به کدام یک از حرکت های زمین است؟ الف) پیدایش فصلها ..... ب) اختلاف ساعت.....	۴
۰/۵	سیاره ای که روی آن زندگی می کنیم از چهار محیط تشکیل شده است. <input type="checkbox"/> ص <input type="checkbox"/> غ	۵
۰/۵	بعد از فلات قاره شیب زیاد می شود و تا عمق ۲۰۰۰ تا ۵۰۰۰ متری ادامه می یابد به این بخش ..... می گویند.	۶
۰/۵	به بخش خارجی کره ی زمین یا پوسته ی آن که حالت جامد دارد چه می گویند؟ الف) لیتوسفر <input type="checkbox"/> ب) هیدروسفر <input type="checkbox"/> ج) اتمسفر <input type="checkbox"/> د) بیوسفر <input type="checkbox"/>	۷
۱	چرا سفر به اقیانوسها دشوارتر از صعود به قله هاست؟ ( دو دلیل ذکر کنید)	۸
۰/۵	بیابان گبی که اطراف آن را کوه فرا گرفته است جزء بیابانهای سرد جهان محسوب می شود. <input type="checkbox"/> ص <input type="checkbox"/> غ	۹

۱	یک ناحیه وسیع جغرافیایی که در آن انواع خاصی از گیاهان و جانوران زندگی میکنند را ..... می گویند.	۱۰
۰/۵	مهمترین و بیشترین عامل تاثیر تنوع در زیست بومها کدام است. الف) آب و هوا <input type="checkbox"/> ب) جنس خاک <input type="checkbox"/> ج) شکل ناهمواریها <input type="checkbox"/> د) میزان ارتفاع زمین <input type="checkbox"/>	۱۱
۰/۵	یکی از زیست بومها هستیم که در مجاورت خط استوا و در چند قاره گسترده شده ام در من هوا همیشه گرم و رطوبت حدود ۸۰ درصد و میزان بارندگی سالیانه ۲۵۰۰ میلی متر است. نام مرا بنویس؟.....	۱۲

## درس ۲۰ تا ۲۴ اختیاری ۷ نمره

۰/۵	امروزه صاحب نظران معتقدند تک فرزندی هم برای خانواده و هم برای اجتماع مفید است. صحیح <input type="checkbox"/> غلط <input type="checkbox"/>	۱
۰/۵	فرهنگ نقش مهمی در افزایش بهره وری در یک جامعه دارد. صحیح <input type="checkbox"/> غلط <input type="checkbox"/>	۲
۰/۵	کدام گزینه از مهم ترین تکالیف شهروندی نیست؟ الف) همکاری با دولت <input type="checkbox"/> ب) حق مشارکت سیاسی <input type="checkbox"/> ج) امر به معروف و نهی از منکر <input type="checkbox"/> د) دفاع از کشور <input type="checkbox"/>	۳
۰/۵	در اقتصاد بهره وری را نسبت ..... به داده ها تعریف کرده اند الف) سرمایه <input type="checkbox"/> ب) نهاد <input type="checkbox"/> ج) فرایند <input type="checkbox"/> د) ستانده <input type="checkbox"/>	۴
۱	دو مورد از عواملی که موجب ناسازگاری زن و مرد می شوند را بیان کنید	۵
۱	دومورد از وظایف حکومت ها را بیان کنید	۶
۱	مالیات چیست؟	۷
۱	بهره وری را تعریف کنید و یک مورد از روش های بهره وری در گذشته را نام ببرید.	۸
۱	منظور از بهره وری سبز در تولید چیست؟	۹

بنام خداوند جان و خرد	
نام و نام خانوادگی:	وزارت آموزش و پرورش
نام پدر:	اداره کل آموزش و پرورش استان یزد
کلاس:	مدیریت آموزش و پرورش ناحیه یک دبیرستان نمونه دولتی رسولیان (دوره اول)
آزمون: مطالعات اجتماعی	نهم: ۹۹/۳/۲۲
زمان: ۶۰ دقیقه	
۱	انقلاب مشروطه در زمان ناصرالدین شاه در ایران شکل گرفت <input type="checkbox"/> صحیح <input type="checkbox"/> غلط
۲	هدف حکومت پهلوی از قانون انجمن ایالتی و ولایتی تضعیف هویت اسلامی جامعه ایران بود. <input type="checkbox"/> صحیح <input type="checkbox"/> غلط
۳	اجتماعی شدن فرایندی است که از بزرگسالی شروع و تا پایان عمر ادامه دارد. <input type="checkbox"/> صحیح <input type="checkbox"/> غلط
۴	امروزه زنان نیز با فعالیت های اقتصادی در رفع نیازهای خانواده مشارکت و همراهی دارند. <input type="checkbox"/> صحیح <input type="checkbox"/> غلط
۵	قرارداد ۱۹۱۹ بین ایران و کدام کشور بسته شد؟ الف) روسیه <input type="checkbox"/> ب) آمریکا <input type="checkbox"/> ج) انگلستان <input type="checkbox"/> د) فرانسه <input type="checkbox"/>
۶	در نظام جمهوری اسلامی ایران، اولین دوره انتخابات مجلس شورای اسلامی در چه تاریخی برگزار شد؟ الف) بهمن ۱۳۵۸ <input type="checkbox"/> ب) اسفند ۸ ۱۳۵۸ <input type="checkbox"/> ج) اسفند ۱۳۵۷ <input type="checkbox"/> د) آذرماه ۱۳۵۸ <input type="checkbox"/>
۷	کدام گزینه ویژگی هویت فردی-روانی است؟ الف) عضویت در گروه نمایش مدرسه <input type="checkbox"/> ب) داشتن گروه خونی <input type="checkbox"/> ج) داشتن ملیت ایرانی <input type="checkbox"/> د) داشتن علاقه به هنر <input type="checkbox"/>
۸	هریک از گزینه های سمت راست مربوط که کدام گزینه سمت چپ می باشد؟ (ربط دهید) الف) نشانه یا نماینده یک پدیده دیگر است ب) همه عادت ها، آداب و رسوم اجتماعی یک جامعه ج) اموری را خوب و مطلوب و مثبت تلقی کنیم هنجار نماد عقاید ارزش
۹	زمینه های فکری و فرهنگی داخلی انقلاب مشروطه را بنویسید
۱۰	از هدف اصلی نیروهای متفکین از اشغال ایران چه بود.
۱۱	منظور از ارزش های اجتماعی چیست؟
۱۲	حق کاپیتولاسیون را شرح دهید.

۱	اجتماعی شدن یا جامعه پذیری را تعریف کنید.	۱۳
۱	مهمترین دلایل پیروی از هنجارها چیست؟ دو مورد	۱۴
۱	دو مورد از کارکرد های خانواده را بیان کنید.	۱۵
۱	ویژگی های انتسابی را با ذکر مثال توضیح دهید؟	۱۶

### درس ۱ تا ۵ اختیاری ۷ نمره

۱/۵	همه ی مردم کشورهایی که در شرق گرینویچ قرار دارند خورشید را زودتر می بینند <input type="checkbox"/> ص <input type="checkbox"/> غ	۱
۰/۵	در اوایل تیر ماه خورشید در نیمکره ی شمالی به مدار راس السرطان عمود می تابد که به آن ..... می گویند.	۲
۰/۵	هر نقطه از کره زمین روی یک مدار و یک نصف النهار قرار دارد که به آن ..... آن منطقه می گویند الف) مختصات جغرافیایی <input type="checkbox"/> ب) طول جغرافیایی <input type="checkbox"/> ج) مدار <input type="checkbox"/> د) حرکت انتقالی <input type="checkbox"/>	۳
۰/۵	هر یک از رویدادهای زیر مربوط به کدام یک از حرکت های زمین است؟ الف) پیدایش فصلها ..... ب) اختلاف ساعت.....	۴
۰/۵	سیاره ای که روی آن زندگی می کنیم از چهار محیط تشکیل شده است. <input type="checkbox"/> ص <input type="checkbox"/> غ	۵
۰/۵	بعد از فلات قاره شیب زیاد می شود و تا عمق ۲۰۰۰ تا ۵۰۰۰ متری ادامه می یابد به این بخش ..... می گویند.	۶
۰/۵	به بخش خارجی کره ی زمین یا پوسته ی آن که حالت جامد دارد چه می گویند؟ الف) لیتوسفر <input type="checkbox"/> ب) هیدروسفر <input type="checkbox"/> ج) اتمسفر <input type="checkbox"/> د) بیوسفر <input type="checkbox"/>	۷
۱	چرا سفر به اقیانوسها دشوارتر از صعود به قله هاست؟ ( دو دلیل ذکر کنید)	۸
۰/۵	بیابان گبی که اطراف آن را کوه فرا گرفته است جزء بیابانهای سرد جهان محسوب می شود. <input type="checkbox"/> ص <input type="checkbox"/> غ	۹

۱	یک ناحیه وسیع جغرافیایی که در آن انواع خاصی از گیاهان و جانوران زندگی میکنند را ..... می گویند.	۱۰
۰/۵	مهمترین و بیشترین عامل تاثیر تنوع در زیست بومها کدام است. الف) آب و هوا <input type="checkbox"/> ب) جنس خاک <input type="checkbox"/> ج) شکل ناهمواریها <input type="checkbox"/> د) میزان ارتفاع زمین <input type="checkbox"/>	۱۱
۰/۵	یکی از زیست بومها هستیم که در مجاورت خط استوا و در چند قاره گسترده شده ام در من هوا همیشه گرم و رطوبت حدود ۸۰ درصد و میزان بارندگی سالیانه ۲۵۰۰ میلی متر است. نام مرا بنویس؟.....	۱۲

## درس ۲۰ تا ۲۴ اختیاری ۷ نمره

۰/۵	امروزه صاحب نظران معتقدند تک فرزندی هم برای خانواده و هم برای اجتماع مفید است. صحیح <input type="checkbox"/> غلط <input type="checkbox"/>	۱
۰/۵	فرهنگ نقش مهمی در افزایش بهره وری در یک جامعه دارد. صحیح <input type="checkbox"/> غلط <input type="checkbox"/>	۲
۰/۵	کدام گزینه از مهم ترین تکالیف شهروندی نیست؟ الف) همکاری با دولت <input type="checkbox"/> ب) حق مشارکت سیاسی <input type="checkbox"/> ج) امر به معروف و نهی از منکر <input type="checkbox"/> د) دفاع از کشور <input type="checkbox"/>	۳
۰/۵	در اقتصاد بهره وری را نسبت ..... به داده ها تعریف کرده اند الف) سرمایه <input type="checkbox"/> ب) نهاد <input type="checkbox"/> ج) فرایند <input type="checkbox"/> د) ستانده <input type="checkbox"/>	۴
۱	دو مورد از عواملی که موجب ناسازگاری زن و مرد می شوند را بیان کنید	۵
۱	دومورد از وظایف حکومت ها را بیان کنید	۶
۱	مالیات چیست؟	۷
۱	بهره وری را تعریف کنید و یک مورد از روش های بهره وری در گذشته را نام ببرید.	۸
۱	منظور از بهره وری سبز در تولید چیست؟	۹



بنام خداوند جان و خرد	
نام و نام خانوادگی:	وزارت آموزش و پرورش
نام پدر:	اداره کل آموزش و پرورش استان یزد
کلاس:	مدیریت آموزش و پرورش ناحیه یک دبیرستان نمونه دولتی رسولیان (دوره اول)
آزمون: مطالعات اجتماعی	نهم: ۹۹/۳/۲۲
زمان: ۶۰ دقیقه	
۱	انقلاب مشروطه در زمان ناصر الدین شاه در ایران شکل گرفت <input type="checkbox"/> صحیح <input type="checkbox"/> غلط
۲	هدف حکومت پهلوی از قانون انجمن ایالتی و ولایتی تضعیف هویت اسلامی جامعه ایران بود. <input type="checkbox"/> صحیح <input type="checkbox"/> غلط
۳	اجتماعی شدن فرایندی است که از بزرگسالی شروع و تا پایان عمر ادامه دارد. <input type="checkbox"/> صحیح <input type="checkbox"/> غلط
۴	امروزه زنان نیز با فعالیت های اقتصادی در رفع نیازهای خانواده مشارکت و همراهی دارند. <input type="checkbox"/> صحیح <input type="checkbox"/> غلط
۵	قرارداد ۱۹۱۹ بین ایران و کدام کشور بسته شد؟ الف) روسیه <input type="checkbox"/> ب) آمریکا <input type="checkbox"/> ج) انگلستان <input type="checkbox"/> د) فرانسه <input type="checkbox"/>
۶	در نظام جمهوری اسلامی ایران، اولین دوره انتخابات مجلس شورای اسلامی در چه تاریخی برگزار شد؟ الف) بهمن ۱۳۵۸ <input type="checkbox"/> ب) اسفند ۸ ۱۳۵۸ <input type="checkbox"/> ج) اسفند ۱۳۵۷ <input type="checkbox"/> د) آذرماه ۱۳۵۸ <input type="checkbox"/>
۷	کدام گزینه ویژگی هویت فردی-روانی است؟ الف) عضویت در گروه نمایش مدرسه <input type="checkbox"/> ب) داشتن گروه خونی <input type="checkbox"/> ج) داشتن ملیت ایرانی <input type="checkbox"/> د) داشتن علاقه به هنر <input type="checkbox"/>
۸	هریک از گزینه های سمت راست مربوط که کدام گزینه سمت چپ می باشد؟ ( ربط دهید ) الف) نشانه یا نماینده یک پدیده دیگر است ب) همه عادت ها، آداب و رسوم اجتماعی یک جامعه ج) اموری را خوب و مطلوب و مثبت تلقی کنیم هنجار نماد عقاید ارزش
۹	زمینه های فکری و فرهنگی داخلی انقلاب مشروطه را بنویسید
۱۰	از هدف اصلی نیروهای متفکین از اشغال ایران چه بود.
۱۱	منظور از ارزش های اجتماعی چیست؟
۱۲	حق کاپیتولاسیون را شرح دهید.

۱	اجتماعی شدن یا جامعه پذیری را تعریف کنید.	۱۳
۱	مهمترین دلایل پیروی از هنجارها چیست؟ دو مورد	۱۴
۱	دو مورد از کارکرد های خانواده را بیان کنید.	۱۵
۱	ویژگی های انتسابی را با ذکر مثال توضیح دهید؟	۱۶

### درس ۱ تا ۵ اختیاری ۷ نمره

۱/۵	همه ی مردم کشورهایی که در شرق گرینویچ قرار دارند خورشید را زودتر می بینند <input type="checkbox"/> ص <input type="checkbox"/> غ	۱
۰/۵	در اوایل تیر ماه خورشید در نیمکره ی شمالی به مدار راس السرطان عمود می تابد که به آن ..... می گویند.	۲
۰/۵	هر نقطه از کره زمین روی یک مدار و یک نصف النهار قرار دارد که به آن ..... آن منطقه می گویند الف) مختصات جغرافیایی <input type="checkbox"/> ب) طول جغرافیایی <input type="checkbox"/> ج) مدار <input type="checkbox"/> د) حرکت انتقالی <input type="checkbox"/>	۳
۰/۵	هر یک از رویدادهای زیر مربوط به کدام یک از حرکت های زمین است؟ الف) پیدایش فصلها ..... ب) اختلاف ساعت.....	۴
۰/۵	سیاره ای که روی آن زندگی می کنیم از چهار محیط تشکیل شده است. <input type="checkbox"/> ص <input type="checkbox"/> غ	۵
۰/۵	بعد از فلات قاره شیب زیاد می شود و تا عمق ۲۰۰۰ تا ۵۰۰۰ متری ادامه می یابد به این بخش ..... می گویند.	۶
۰/۵	به بخش خارجی کره ی زمین یا پوسته ی آن که حالت جامد دارد چه می گویند؟ الف) لیتوسفر <input type="checkbox"/> ب) هیدروسفر <input type="checkbox"/> ج) اتمسفر <input type="checkbox"/> د) بیوسفر <input type="checkbox"/>	۷
۱	چرا سفر به اقیانوسها دشوارتر از صعود به قله هاست؟ ( دو دلیل ذکر کنید)	۸
۰/۵	بیابان گبی که اطراف آن را کوه فرا گرفته است جزء بیابانهای سرد جهان محسوب می شود. <input type="checkbox"/> ص <input type="checkbox"/> غ	۹

۱	یک ناحیه وسیع جغرافیایی که در آن انواع خاصی از گیاهان و جانوران زندگی میکنند را ..... می گویند.	۱۰
۰/۵	مهمترین و بیشترین عامل تاثیر تنوع در زیست بومها کدام است. الف) آب و هوا <input type="checkbox"/> ب) جنس خاک <input type="checkbox"/> ج) شکل ناهمواریها <input type="checkbox"/> د) میزان ارتفاع زمین <input type="checkbox"/>	۱۱
۰/۵	یکی از زیست بومها هستیم که در مجاورت خط استوا و در چند قاره گسترده شده ام در من هوا همیشه گرم و رطوبت حدود ۸۰ درصد و میزان بارندگی سالیانه ۲۵۰۰ میلی متر است. نام مرا بنویس؟.....	۱۲

## درس ۲۰ تا ۲۴ اختیاری ۷ نمره

۰/۵	امروزه صاحب نظران معتقدند تک فرزندی هم برای خانواده و هم برای اجتماع مفید است. صحیح <input type="checkbox"/> غلط <input type="checkbox"/>	۱
۰/۵	فرهنگ نقش مهمی در افزایش بهره وری در یک جامعه دارد. صحیح <input type="checkbox"/> غلط <input type="checkbox"/>	۲
۰/۵	کدام گزینه از مهم ترین تکالیف شهروندی نیست؟ الف) همکاری با دولت <input type="checkbox"/> ب) حق مشارکت سیاسی <input type="checkbox"/> ج) امر به معروف و نهی از منکر <input type="checkbox"/> د) دفاع از کشور <input type="checkbox"/>	۳
۰/۵	در اقتصاد بهره وری را نسبت ..... به داده ها تعریف کرده اند الف) سرمایه <input type="checkbox"/> ب) نهاد <input type="checkbox"/> ج) فرایند <input type="checkbox"/> د) ستانده <input type="checkbox"/>	۴
۱	دو مورد از عواملی که موجب ناسازگاری زن و مرد می شوند را بیان کنید	۵
۱	دومورد از وظایف حکومت ها را بیان کنید	۶
۱	مالیات چیست؟	۷
۱	بهره وری را تعریف کنید و یک مورد از روش های بهره وری در گذشته را نام ببرید.	۸
۱	منظور از بهره وری سبز در تولید چیست؟	۹

بنام خداوند جان و خرد	
نام و نام خانوادگی:	وزارت آموزش و پرورش
نام پدر:	اداره کل آموزش و پرورش استان یزد
کلاس:	مدیریت آموزش و پرورش ناحیه یک دبیرستان نمونه دولتی رسولیان (دوره اول)
آزمون: مطالعات اجتماعی	نهم: ۹۹/۳/۲۲
زمان: ۶۰ دقیقه	
۱	انقلاب مشروطه در زمان ناصر الدین شاه در ایران شکل گرفت <input type="checkbox"/> صحیح <input type="checkbox"/> غلط
۲	هدف حکومت پهلوی از قانون انجمن ایالتی و ولایتی تضعیف هویت اسلامی جامعه ایران بود. <input type="checkbox"/> صحیح <input type="checkbox"/> غلط
۳	اجتماعی شدن فرایندی است که از بزرگسالی شروع و تا پایان عمر ادامه دارد. <input type="checkbox"/> صحیح <input type="checkbox"/> غلط
۴	امروزه زنان نیز با فعالیت های اقتصادی در رفع نیازهای خانواده مشارکت و همراهی دارند. <input type="checkbox"/> صحیح <input type="checkbox"/> غلط
۵	قرارداد ۱۹۱۹ بین ایران و کدام کشور بسته شد؟ الف) روسیه <input type="checkbox"/> ب) آمریکا <input type="checkbox"/> ج) انگلستان <input type="checkbox"/> د) فرانسه <input type="checkbox"/>
۶	در نظام جمهوری اسلامی ایران ، اولین دوره انتخابات مجلس شورای اسلامی در چه تاریخی برگزار شد؟ الف) بهمن ۱۳۵۸ <input type="checkbox"/> ب) اسفند ۸ ۱۳۵۸ <input type="checkbox"/> ج) اسفند ۱۳۵۷ <input type="checkbox"/> د) آذرماه ۱۳۵۸ <input type="checkbox"/>
۷	کدام گزینه ویژگی هویت فردی-روانی است؟ الف) عضویت در گروه نمایش مدرسه <input type="checkbox"/> ب) داشتن گروه خونی <input type="checkbox"/> ج) داشتن ملیت ایرانی <input type="checkbox"/> د) داشتن علاقه به هنر <input type="checkbox"/>
۸	هریک از گزینه های سمت راست مربوط که کدام گزینه سمت چپ می باشد؟ ( ربط دهید ) الف) نشانه یا نماینده یک پدیده دیگر است ب) همه عادت ها ، آداب و رسوم اجتماعی یک جامعه ج) اموری را خوب و مطلوب و مثبت تلقی کنیم هنجار نماد عقاید ارزش
۹	زمینه های فکری و فرهنگی داخلی انقلاب مشروطه را بنویسید
۱۰	از هدف اصلی نیروهای متفکین از اشغال ایران چه بود.
۱۱	منظور از ارزش های اجتماعی چیست؟
۱۲	حق کاپیتولاسیون را شرح دهید.

۱	اجتماعی شدن یا جامعه پذیری را تعریف کنید.	۱۳
۱	مهمترین دلایل پیروی از هنجارها چیست؟ دو مورد	۱۴
۱	دو مورد از کارکرد های خانواده را بیان کنید.	۱۵
۱	ویژگی های انتسابی را با ذکر مثال توضیح دهید؟	۱۶

### درس ۱ تا ۵ اختیاری ۷ نمره

۱/۵	همه ی مردم کشورهایی که در شرق گرینویچ قرار دارند خورشید را زودتر می بینند <input type="checkbox"/> ص <input type="checkbox"/> غ	۱
۰/۵	در اوایل تیر ماه خورشید در نیمکره ی شمالی به مدار راس السرطان عمود می تابد که به آن ..... می گویند.	۲
۰/۵	هر نقطه از کره زمین روی یک مدار و یک نصف النهار قرار دارد که به آن ..... آن منطقه می گویند الف) مختصات جغرافیایی <input type="checkbox"/> ب) طول جغرافیایی <input type="checkbox"/> ج) مدار <input type="checkbox"/> د) حرکت انتقالی <input type="checkbox"/>	۳
۰/۵	هر یک از رویدادهای زیر مربوط به کدام یک از حرکت های زمین است؟ الف) پیدایش فصلها ..... ب) اختلاف ساعت.....	۴
۰/۵	سیاره ای که روی آن زندگی می کنیم از چهار محیط تشکیل شده است. <input type="checkbox"/> ص <input type="checkbox"/> غ	۵
۰/۵	بعد از فلات قاره شیب زیاد می شود و تا عمق ۲۰۰۰ تا ۵۰۰۰ متری ادامه می یابد به این بخش ..... می گویند.	۶
۰/۵	به بخش خارجی کره ی زمین یا پوسته ی آن که حالت جامد دارد چه می گویند؟ الف) لیتوسفر <input type="checkbox"/> ب) هیدروسفر <input type="checkbox"/> ج) اتمسفر <input type="checkbox"/> د) بیوسفر <input type="checkbox"/>	۷
۱	چرا سفر به اقیانوسها دشوارتر از صعود به قله هاست؟ ( دو دلیل ذکر کنید)	۸
۰/۵	بیابان گبی که اطراف آن را کوه فرا گرفته است جزء بیابانهای سرد جهان محسوب می شود. <input type="checkbox"/> ص <input type="checkbox"/> غ	۹

۱	یک ناحیه وسیع جغرافیایی که در آن انواع خاصی از گیاهان و جانوران زندگی میکنند را ..... می گویند.	۱۰
۰/۵	مهمترین و بیشترین عامل تاثیر تنوع در زیست بومها کدام است. الف) آب و هوا <input type="checkbox"/> ب) جنس خاک <input type="checkbox"/> ج) شکل ناهمواریها <input type="checkbox"/> د) میزان ارتفاع زمین <input type="checkbox"/>	۱۱
۰/۵	یکی از زیست بومها هستیم که در مجاورت خط استوا و در چند قاره گسترده شده ام در من هوا همیشه گرم و رطوبت حدود ۸۰ درصد و میزان بارندگی سالیانه ۲۵۰۰ میلی متر است. نام مرا بنویس؟.....	۱۲

## درس ۲۰ تا ۲۴ اختیاری ۷ نمره

۰/۵	امروزه صاحب نظران معتقدند تک فرزندی هم برای خانواده و هم برای اجتماع مفید است. صحیح <input type="checkbox"/> غلط <input type="checkbox"/>	۱
۰/۵	فرهنگ نقش مهمی در افزایش بهره وری در یک جامعه دارد. صحیح <input type="checkbox"/> غلط <input type="checkbox"/>	۲
۰/۵	کدام گزینه از مهم ترین تکالیف شهروندی نیست؟ الف) همکاری با دولت <input type="checkbox"/> ب) حق مشارکت سیاسی <input type="checkbox"/> ج) امر به معروف و نهی از منکر <input type="checkbox"/> د) دفاع از کشور <input type="checkbox"/>	۳
۰/۵	در اقتصاد بهره وری را نسبت ..... به داده ها تعریف کرده اند الف) سرمایه <input type="checkbox"/> ب) نهاد <input type="checkbox"/> ج) فرایند <input type="checkbox"/> د) ستانده <input type="checkbox"/>	۴
۱	دو مورد از عواملی که موجب ناسازگاری زن و مرد می شوند را بیان کنید	۵
۱	دومورد از وظایف حکومت ها را بیان کنید	۶
۱	مالیات چیست؟	۷
۱	بهره وری را تعریف کنید و یک مورد از روش های بهره وری در گذشته را نام ببرید.	۸
۱	منظور از بهره وری سبز در تولید چیست؟	۹

بنام خداوند جان و خرد	
نام و نام خانوادگی:	وزارت آموزش و پرورش
نام پدر:	اداره کل آموزش و پرورش استان یزد
کلاس:	مدیریت آموزش و پرورش ناحیه یک دبیرستان نمونه دولتی رسولیان (دوره اول)
آزمون: مطالعات اجتماعی	نهم: ۹۹/۳/۲۲
زمان: ۶۰ دقیقه	
۱	انقلاب مشروطه در زمان ناصرالدین شاه در ایران شکل گرفت <input type="checkbox"/> صحیح <input type="checkbox"/> غلط
۲	هدف حکومت پهلوی از قانون انجمن ایالتی و ولایتی تضعیف هویت اسلامی جامعه ایران بود. <input type="checkbox"/> صحیح <input type="checkbox"/> غلط
۳	اجتماعی شدن فرایندی است که از بزرگسالی شروع و تا پایان عمر ادامه دارد. <input type="checkbox"/> صحیح <input type="checkbox"/> غلط
۴	امروزه زنان نیز با فعالیت های اقتصادی در رفع نیازهای خانواده مشارکت و همراهی دارند. <input type="checkbox"/> صحیح <input type="checkbox"/> غلط
۵	قرارداد ۱۹۱۹ بین ایران و کدام کشور بسته شد؟ الف) روسیه <input type="checkbox"/> ب) آمریکا <input type="checkbox"/> ج) انگلستان <input type="checkbox"/> د) فرانسه <input type="checkbox"/>
۶	در نظام جمهوری اسلامی ایران، اولین دوره انتخابات مجلس شورای اسلامی در چه تاریخی برگزار شد؟ الف) بهمن ۱۳۵۸ <input type="checkbox"/> ب) اسفند ۸ ۱۳۵۸ <input type="checkbox"/> ج) اسفند ۱۳۵۷ <input type="checkbox"/> د) آذرماه ۱۳۵۸ <input type="checkbox"/>
۷	کدام گزینه ویژگی هویت فردی-روانی است؟ الف) عضویت در گروه نمایش مدرسه <input type="checkbox"/> ب) داشتن گروه خونی <input type="checkbox"/> ج) داشتن ملیت ایرانی <input type="checkbox"/> د) داشتن علاقه به هنر <input type="checkbox"/>
۸	هریک از گزینه های سمت راست مربوط که کدام گزینه سمت چپ می باشد؟ ( ربط دهید) الف) نشانه یا نماینده یک پدیده دیگر است ب) همه عادت ها، آداب و رسوم اجتماعی یک جامعه ج) اموری را خوب و مطلوب و مثبت تلقی کنیم هنجار نماد عقاید ارزش
۹	زمینه های فکری و فرهنگی داخلی انقلاب مشروطه را بنویسید
۱۰	از هدف اصلی نیروهای متفکین از اشغال ایران چه بود.
۱۱	منظور از ارزش های اجتماعی چیست؟
۱۲	حق کاپیتولاسیون را شرح دهید.

۱	اجتماعی شدن یا جامعه پذیری را تعریف کنید.	۱۳
۱	مهمترین دلایل پیروی از هنجارها چیست؟ دو مورد	۱۴
۱	دو مورد از کارکرد های خانواده را بیان کنید.	۱۵
۱	ویژگی های انتسابی را با ذکر مثال توضیح دهید؟	۱۶

### درس ۱ تا ۵ اختیاری ۷ نمره

۱/۵	همه ی مردم کشورهایی که در شرق گرینویچ قرار دارند خورشید را زودتر می بینند <input type="checkbox"/> ص <input type="checkbox"/> غ	۱
۰/۵	در اوایل تیر ماه خورشید در نیمکره ی شمالی به مدار راس السرطان عمود می تابد که به آن ..... می گویند.	۲
۰/۵	هر نقطه از کره زمین روی یک مدار و یک نصف النهار قرار دارد که به آن ..... آن منطقه می گویند الف) مختصات جغرافیایی <input type="checkbox"/> ب) طول جغرافیایی <input type="checkbox"/> ج) مدار <input type="checkbox"/> د) حرکت انتقالی <input type="checkbox"/>	۳
۰/۵	هر یک از رویدادهای زیر مربوط به کدام یک از حرکت های زمین است؟ الف) پیدایش فصلها ..... ب) اختلاف ساعت.....	۴
۰/۵	سیاره ای که روی آن زندگی می کنیم از چهار محیط تشکیل شده است. <input type="checkbox"/> ص <input type="checkbox"/> غ	۵
۰/۵	بعد از فلات قاره شیب زیاد می شود و تا عمق ۲۰۰۰ تا ۵۰۰۰ متری ادامه می یابد به این بخش ..... می گویند.	۶
۰/۵	به بخش خارجی کره ی زمین یا پوسته ی آن که حالت جامد دارد چه می گویند؟ الف) لیتوسفر <input type="checkbox"/> ب) هیدروسفر <input type="checkbox"/> ج) اتمسفر <input type="checkbox"/> د) بیوسفر <input type="checkbox"/>	۷
۱	چرا سفر به اقیانوسها دشوارتر از صعود به قله هاست؟ ( دو دلیل ذکر کنید)	۸
۰/۵	بیابان گبی که اطراف آن را کوه فرا گرفته است جزء بیابانهای سرد جهان محسوب می شود. <input type="checkbox"/> ص <input type="checkbox"/> غ	۹



۱	یک ناحیه وسیع جغرافیایی که در آن انواع خاصی از گیاهان و جانوران زندگی میکنند را ..... می گویند.	۱۰
۰/۵	مهمترین و بیشترین عامل تاثیر تنوع در زیست بومها کدام است. الف) آب و هوا <input type="checkbox"/> ب) جنس خاک <input type="checkbox"/> ج) شکل ناهمواریها <input type="checkbox"/> د) میزان ارتفاع زمین <input type="checkbox"/>	۱۱
۰/۵	یکی از زیست بومها هستیم که در مجاورت خط استوا و در چند قاره گسترده شده ام در من هوا همیشه گرم و رطوبت حدود ۸۰ درصد و میزان بارندگی سالیانه ۲۵۰۰ میلی متر است. نام مرا بنویس؟.....	۱۲

## درس ۲۰ تا ۲۴ اختیاری ۷ نمره

۰/۵	امروزه صاحب نظران معتقدند تک فرزندی هم برای خانواده و هم برای اجتماع مفید است. صحیح <input type="checkbox"/> غلط <input type="checkbox"/>	۱
۰/۵	فرهنگ نقش مهمی در افزایش بهره وری در یک جامعه دارد. صحیح <input type="checkbox"/> غلط <input type="checkbox"/>	۲
۰/۵	کدام گزینه از مهم ترین تکالیف شهروندی نیست؟ الف) همکاری با دولت <input type="checkbox"/> ب) حق مشارکت سیاسی <input type="checkbox"/> ج) امر به معروف و نهی از منکر <input type="checkbox"/> د) دفاع از کشور <input type="checkbox"/>	۳
۰/۵	در اقتصاد بهره وری را نسبت ..... به داده ها تعریف کرده اند الف) سرمایه <input type="checkbox"/> ب) نهاد <input type="checkbox"/> ج) فرایند <input type="checkbox"/> د) ستانده <input type="checkbox"/>	۴
۱	دو مورد از عواملی که موجب ناسازگاری زن و مرد می شوند را بیان کنید	۵
۱	دومورد از وظایف حکومت ها را بیان کنید	۶
۱	مالیات چیست؟	۷
۱	بهره وری را تعریف کنید و یک مورد از روش های بهره وری در گذشته را نام ببرید.	۸
۱	منظور از بهره وری سبز در تولید چیست؟	۹

بنام خداوند جان و خرد	
نام و نام خانوادگی:	وزارت آموزش و پرورش
نام پدر:	اداره کل آموزش و پرورش استان یزد
کلاس:	مدیریت آموزش و پرورش ناحیه یک دبیرستان نمونه دولتی رسولیان (دوره اول)
آزمون: مطالعات اجتماعی	نهم: ۹۹/۳/۲۲
زمان: ۶۰ دقیقه	
۱	انقلاب مشروطه در زمان ناصر الدین شاه در ایران شکل گرفت <input type="checkbox"/> صحیح <input type="checkbox"/> غلط
۲	هدف حکومت پهلوی از قانون انجمن ایالتی و ولایتی تضعیف هویت اسلامی جامعه ایران بود. <input type="checkbox"/> صحیح <input type="checkbox"/> غلط
۳	اجتماعی شدن فرایندی است که از بزرگسالی شروع و تا پایان عمر ادامه دارد. <input type="checkbox"/> صحیح <input type="checkbox"/> غلط
۴	امروزه زنان نیز با فعالیت های اقتصادی در رفع نیازهای خانواده مشارکت و همراهی دارند. <input type="checkbox"/> صحیح <input type="checkbox"/> غلط
۵	قرارداد ۱۹۱۹ بین ایران و کدام کشور بسته شد؟ الف) روسیه <input type="checkbox"/> ب) آمریکا <input type="checkbox"/> ج) انگلستان <input type="checkbox"/> د) فرانسه <input type="checkbox"/>
۶	در نظام جمهوری اسلامی ایران ، اولین دوره انتخابات مجلس شورای اسلامی در چه تاریخی برگزار شد؟ الف) بهمن ۱۳۵۸ <input type="checkbox"/> ب) اسفند ۸ ۱۳۵۸ <input type="checkbox"/> ج) اسفند ۱۳۵۷ <input type="checkbox"/> د) آذرماه ۱۳۵۸ <input type="checkbox"/>
۷	کدام گزینه ویژگی هویت فردی-روانی است؟ الف) عضویت در گروه نمایش مدرسه <input type="checkbox"/> ب) داشتن گروه خونی <input type="checkbox"/> ج) داشتن ملیت ایرانی <input type="checkbox"/> د) داشتن علاقه به هنر <input type="checkbox"/>
۸	هریک از گزینه های سمت راست مربوط که کدام گزینه سمت چپ می باشد؟ ( ربط دهید ) الف) نشانه یا نماینده یک پدیده دیگر است ب) همه عادت ها ، آداب و رسوم اجتماعی یک جامعه ج) اموری را خوب و مطلوب و مثبت تلقی کنیم هنجار نماد عقاید ارزش
۹	زمینه های فکری و فرهنگی داخلی انقلاب مشروطه را بنویسید
۱۰	از هدف اصلی نیروهای متفکین از اشغال ایران چه بود.
۱۱	منظور از ارزش های اجتماعی چیست؟
۱۲	حق کاپیتولاسیون را شرح دهید.

۱	اجتماعی شدن یا جامعه پذیری را تعریف کنید.	۱۳
۱	مهمترین دلایل پیروی از هنجارها چیست؟ دو مورد	۱۴
۱	دو مورد از کارکرد های خانواده را بیان کنید.	۱۵
۱	ویژگی های انتسابی را با ذکر مثال توضیح دهید؟	۱۶

### درس ۱ تا ۵ اختیاری ۷ نمره

۱/۵	همه ی مردم کشورهایی که در شرق گرینویچ قرار دارند خورشید را زودتر می بینند <input type="checkbox"/> ص <input type="checkbox"/> غ	۱
۰/۵	در اوایل تیر ماه خورشید در نیمکره ی شمالی به مدار راس السرطان عمود می تابد که به آن ..... می گویند.	۲
۰/۵	هر نقطه از کره زمین روی یک مدار و یک نصف النهار قرار دارد که به آن ..... آن منطقه می گویند الف) مختصات جغرافیایی <input type="checkbox"/> ب) طول جغرافیایی <input type="checkbox"/> ج) مدار <input type="checkbox"/> د) حرکت انتقالی <input type="checkbox"/>	۳
۰/۵	هر یک از رویدادهای زیر مربوط به کدام یک از حرکت های زمین است؟ الف) پیدایش فصلها ..... ب) اختلاف ساعت.....	۴
۰/۵	سیاره ای که روی آن زندگی می کنیم از چهار محیط تشکیل شده است. <input type="checkbox"/> ص <input type="checkbox"/> غ	۵
۰/۵	بعد از فلات قاره شیب زیاد می شود و تا عمق ۲۰۰۰ تا ۵۰۰۰ متری ادامه می یابد به این بخش ..... می گویند.	۶
۰/۵	به بخش خارجی کره ی زمین یا پوسته ی آن که حالت جامد دارد چه می گویند؟ الف) لیتوسفر <input type="checkbox"/> ب) هیدروسفر <input type="checkbox"/> ج) اتمسفر <input type="checkbox"/> د) بیوسفر <input type="checkbox"/>	۷
۱	چرا سفر به اقیانوسها دشوارتر از صعود به قله هاست؟ ( دو دلیل ذکر کنید)	۸
۰/۵	بیابان گبی که اطراف آن را کوه فرا گرفته است جزء بیابانهای سرد جهان محسوب می شود. <input type="checkbox"/> ص <input type="checkbox"/> غ	۹

۱	یک ناحیه وسیع جغرافیایی که در آن انواع خاصی از گیاهان و جانوران زندگی میکنند را ..... می گویند.	۱۰
۰/۵	مهمترین و بیشترین عامل تاثیر تنوع در زیست بومها کدام است. الف) آب و هوا <input type="checkbox"/> ب) جنس خاک <input type="checkbox"/> ج) شکل ناهمواریها <input type="checkbox"/> د) میزان ارتفاع زمین <input type="checkbox"/>	۱۱
۰/۵	یکی از زیست بومها هستیم که در مجاورت خط استوا و در چند قاره گسترده شده ام در من هوا همیشه گرم و رطوبت حدود ۸۰ درصد و میزان بارندگی سالیانه ۲۵۰۰ میلی متر است. نام مرا بنویس؟.....	۱۲

## درس ۲۰ تا ۲۴ اختیاری ۷ نمره

۰/۵	امروزه صاحب نظران معتقدند تک فرزندی هم برای خانواده و هم برای اجتماع مفید است. صحیح <input type="checkbox"/> غلط <input type="checkbox"/>	۱
۰/۵	فرهنگ نقش مهمی در افزایش بهره وری در یک جامعه دارد. صحیح <input type="checkbox"/> غلط <input type="checkbox"/>	۲
۰/۵	کدام گزینه از مهم ترین تکالیف شهروندی نیست؟ الف) همکاری با دولت <input type="checkbox"/> ب) حق مشارکت سیاسی <input type="checkbox"/> ج) امر به معروف و نهی از منکر <input type="checkbox"/> د) دفاع از کشور <input type="checkbox"/>	۳
۰/۵	در اقتصاد بهره وری را نسبت ..... به داده ها تعریف کرده اند الف) سرمایه <input type="checkbox"/> ب) نهاد <input type="checkbox"/> ج) فرایند <input type="checkbox"/> د) ستانده <input type="checkbox"/>	۴
۱	دو مورد از عواملی که موجب ناسازگاری زن و مرد می شوند را بیان کنید	۵
۱	دومورد از وظایف حکومت ها را بیان کنید	۶
۱	مالیات چیست؟	۷
۱	بهره وری را تعریف کنید و یک مورد از روش های بهره وری در گذشته را نام ببرید.	۸
۱	منظور از بهره وری سبز در تولید چیست؟	۹

بنام خداوند جان و خرد	
نام و نام خانوادگی:	وزارت آموزش و پرورش
نام پدر:	اداره کل آموزش و پرورش استان یزد
کلاس:	مدیریت آموزش و پرورش ناحیه یک دبیرستان نمونه دولتی رسولیان (دوره اول)
آزمون: مطالعات اجتماعی	نهم: ۹۹/۳/۲۲
زمان: ۶۰ دقیقه	
۱	انقلاب مشروطه در زمان ناصرالدین شاه در ایران شکل گرفت <input type="checkbox"/> صحیح <input type="checkbox"/> غلط
۲	هدف حکومت پهلوی از قانون انجمن ایالتی و ولایتی تضعیف هویت اسلامی جامعه ایران بود. <input type="checkbox"/> صحیح <input type="checkbox"/> غلط
۳	اجتماعی شدن فرایندی است که از بزرگسالی شروع و تا پایان عمر ادامه دارد. <input type="checkbox"/> صحیح <input type="checkbox"/> غلط
۴	امروزه زنان نیز با فعالیت های اقتصادی در رفع نیازهای خانواده مشارکت و همراهی دارند. <input type="checkbox"/> صحیح <input type="checkbox"/> غلط
۵	قرارداد ۱۹۱۹ بین ایران و کدام کشور بسته شد؟ الف) روسیه <input type="checkbox"/> ب) آمریکا <input type="checkbox"/> ج) انگلستان <input type="checkbox"/> د) فرانسه <input type="checkbox"/>
۶	در نظام جمهوری اسلامی ایران، اولین دوره انتخابات مجلس شورای اسلامی در چه تاریخی برگزار شد؟ الف) بهمن ۱۳۵۸ <input type="checkbox"/> ب) اسفند ۸ ۱۳۵۸ <input type="checkbox"/> ج) اسفند ۱۳۵۷ <input type="checkbox"/> د) آذرماه ۱۳۵۸ <input type="checkbox"/>
۷	کدام گزینه ویژگی هویت فردی-روانی است؟ الف) عضویت در گروه نمایش مدرسه <input type="checkbox"/> ب) داشتن گروه خونی <input type="checkbox"/> ج) داشتن ملیت ایرانی <input type="checkbox"/> د) داشتن علاقه به هنر <input type="checkbox"/>
۸	هریک از گزینه های سمت راست مربوط که کدام گزینه سمت چپ می باشد؟ ( ربط دهید) الف) نشانه یا نماینده یک پدیده دیگر است ب) همه عادت ها، آداب و رسوم اجتماعی یک جامعه ج) اموری را خوب و مطلوب و مثبت تلقی کنیم هنجار نماد عقاید ارزش
۹	زمینه های فکری و فرهنگی داخلی انقلاب مشروطه را بنویسید
۱۰	از هدف اصلی نیروهای متفکین از اشغال ایران چه بود.
۱۱	منظور از ارزش های اجتماعی چیست؟
۱۲	حق کاپیتولاسیون را شرح دهید.

۱	اجتماعی شدن یا جامعه پذیری را تعریف کنید.	۱۳
۱	مهمترین دلایل پیروی از هنجارها چیست؟ دو مورد	۱۴
۱	دو مورد از کارکرد های خانواده را بیان کنید.	۱۵
۱	ویژگی های انتسابی را با ذکر مثال توضیح دهید؟	۱۶

### درس ۱ تا ۵ اختیاری ۷ نمره

۱/۵	همه ی مردم کشورهایی که در شرق گرینویچ قرار دارند خورشید را زودتر می بینند <input type="checkbox"/> ص <input type="checkbox"/> غ	۱
۰/۵	در اوایل تیر ماه خورشید در نیمکره ی شمالی به مدار راس السرطان عمود می تابد که به آن ..... می گویند.	۲
۰/۵	هر نقطه از کره زمین روی یک مدار و یک نصف النهار قرار دارد که به آن ..... آن منطقه می گویند الف) مختصات جغرافیایی <input type="checkbox"/> ب) طول جغرافیایی <input type="checkbox"/> ج) مدار <input type="checkbox"/> د) حرکت انتقالی <input type="checkbox"/>	۳
۰/۵	هر یک از رویدادهای زیر مربوط به کدام یک از حرکت های زمین است؟ الف) پیدایش فصلها ..... ب) اختلاف ساعت.....	۴
۰/۵	سیاره ای که روی آن زندگی می کنیم از چهار محیط تشکیل شده است. <input type="checkbox"/> ص <input type="checkbox"/> غ	۵
۰/۵	بعد از فلات قاره شیب زیاد می شود و تا عمق ۲۰۰۰ تا ۵۰۰۰ متری ادامه می یابد به این بخش ..... می گویند.	۶
۰/۵	به بخش خارجی کره ی زمین یا پوسته ی آن که حالت جامد دارد چه می گویند؟ الف) لیتوسفر <input type="checkbox"/> ب) هیدروسفر <input type="checkbox"/> ج) اتمسفر <input type="checkbox"/> د) بیوسفر <input type="checkbox"/>	۷
۱	چرا سفر به اقیانوسها دشوارتر از صعود به قله هاست؟ ( دو دلیل ذکر کنید)	۸
۰/۵	بیابان گبی که اطراف آن را کوه فرا گرفته است جزء بیابانهای سرد جهان محسوب می شود. <input type="checkbox"/> ص <input type="checkbox"/> غ	۹

۱	یک ناحیه وسیع جغرافیایی که در آن انواع خاصی از گیاهان و جانوران زندگی میکنند را ..... می گویند.	۱۰
۰/۵	مهمترین و بیشترین عامل تاثیر تنوع در زیست بومها کدام است. الف) آب و هوا <input type="checkbox"/> ب) جنس خاک <input type="checkbox"/> ج) شکل ناهمواریها <input type="checkbox"/> د) میزان ارتفاع زمین <input type="checkbox"/>	۱۱
۰/۵	یکی از زیست بومها هستیم که در مجاورت خط استوا و در چند قاره گسترده شده ام در من هوا همیشه گرم و رطوبت حدود ۸۰ درصد و میزان بارندگی سالیانه ۲۵۰۰ میلی متر است. نام مرا بنویس؟.....	۱۲

## درس ۲۰ تا ۲۴ اختیاری ۷ نمره

۰/۵	امروزه صاحب نظران معتقدند تک فرزندی هم برای خانواده و هم برای اجتماع مفید است. صحیح <input type="checkbox"/> غلط <input type="checkbox"/>	۱
۰/۵	فرهنگ نقش مهمی در افزایش بهره وری در یک جامعه دارد. صحیح <input type="checkbox"/> غلط <input type="checkbox"/>	۲
۰/۵	کدام گزینه از مهم ترین تکالیف شهروندی نیست؟ الف) همکاری با دولت <input type="checkbox"/> ب) حق مشارکت سیاسی <input type="checkbox"/> ج) امر به معروف و نهی از منکر <input type="checkbox"/> د) دفاع از کشور <input type="checkbox"/>	۳
۰/۵	در اقتصاد بهره وری را نسبت ..... به داده ها تعریف کرده اند الف) سرمایه <input type="checkbox"/> ب) نهاد <input type="checkbox"/> ج) فرایند <input type="checkbox"/> د) ستانده <input type="checkbox"/>	۴
۱	دو مورد از عواملی که موجب ناسازگاری زن و مرد می شوند را بیان کنید	۵
۱	دومورد از وظایف حکومت ها را بیان کنید	۶
۱	مالیات چیست؟	۷
۱	بهره وری را تعریف کنید و یک مورد از روش های بهره وری در گذشته را نام ببرید.	۸
۱	منظور از بهره وری سبز در تولید چیست؟	۹

بنام خداوند جان و خرد	
نام و نام خانوادگی:	وزارت آموزش و پرورش
نام پدر:	اداره کل آموزش و پرورش استان یزد
کلاس:	مدیریت آموزش و پرورش ناحیه یک دبیرستان نمونه دولتی رسولیان (دوره اول)
آزمون: مطالعات اجتماعی	نهم: ۹۹/۳/۲۲
زمان: ۶۰ دقیقه	
۱	انقلاب مشروطه در زمان ناصر الدین شاه در ایران شکل گرفت <input type="checkbox"/> صحیح <input type="checkbox"/> غلط
۲	هدف حکومت پهلوی از قانون انجمن ایالتی و ولایتی تضعیف هویت اسلامی جامعه ایران بود. <input type="checkbox"/> صحیح <input type="checkbox"/> غلط
۳	اجتماعی شدن فرایندی است که از بزرگسالی شروع و تا پایان عمر ادامه دارد. <input type="checkbox"/> صحیح <input type="checkbox"/> غلط
۴	امروزه زنان نیز با فعالیت های اقتصادی در رفع نیازهای خانواده مشارکت و همراهی دارند. <input type="checkbox"/> صحیح <input type="checkbox"/> غلط
۵	قرارداد ۱۹۱۹ بین ایران و کدام کشور بسته شد؟ الف) روسیه <input type="checkbox"/> ب) آمریکا <input type="checkbox"/> ج) انگلستان <input type="checkbox"/> د) فرانسه <input type="checkbox"/>
۶	در نظام جمهوری اسلامی ایران ، اولین دوره انتخابات مجلس شورای اسلامی در چه تاریخی برگزار شد؟ الف) بهمن ۱۳۵۸ <input type="checkbox"/> ب) اسفند ۸ ۱۳۵۸ <input type="checkbox"/> ج) اسفند ۱۳۵۷ <input type="checkbox"/> د) آذرماه ۱۳۵۸ <input type="checkbox"/>
۷	کدام گزینه ویژگی هویت فردی-روانی است؟ الف) عضویت در گروه نمایش مدرسه <input type="checkbox"/> ب) داشتن گروه خونی <input type="checkbox"/> ج) داشتن ملیت ایرانی <input type="checkbox"/> د) داشتن علاقه به هنر <input type="checkbox"/>
۸	هریک از گزینه های سمت راست مربوط که کدام گزینه سمت چپ می باشد؟ ( ربط دهید ) الف) نشانه یا نماینده یک پدیده دیگر است ب) همه عادت ها ، آداب و رسوم اجتماعی یک جامعه ج) اموری را خوب و مطلوب و مثبت تلقی کنیم هنجار نماد عقاید ارزش
۹	زمینه های فکری و فرهنگی داخلی انقلاب مشروطه را بنویسید
۱۰	از هدف اصلی نیروهای متفکین از اشغال ایران چه بود.
۱۱	منظور از ارزش های اجتماعی چیست؟
۱۲	حق کاپیتولاسیون را شرح دهید.



۱	اجتماعی شدن یا جامعه پذیری را تعریف کنید.	۱۳
۱	مهمترین دلایل پیروی از هنجارها چیست؟ دو مورد	۱۴
۱	دو مورد از کارکرد های خانواده را بیان کنید.	۱۵
۱	ویژگی های انتسابی را با ذکر مثال توضیح دهید؟	۱۶

### درس ۱ تا ۵ اختیاری ۷ نمره

۱/۵	همه ی مردم کشورهایی که در شرق گرینویچ قرار دارند خورشید را زودتر می بینند <input type="checkbox"/> ص <input type="checkbox"/> غ	۱
۰/۵	در اوایل تیر ماه خورشید در نیمکره ی شمالی به مدار راس السرطان عمود می تابد که به آن ..... می گویند.	۲
۰/۵	هر نقطه از کره زمین روی یک مدار و یک نصف النهار قرار دارد که به آن ..... آن منطقه می گویند الف) مختصات جغرافیایی <input type="checkbox"/> ب) طول جغرافیایی <input type="checkbox"/> ج) مدار <input type="checkbox"/> د) حرکت انتقالی <input type="checkbox"/>	۳
۰/۵	هر یک از رویدادهای زیر مربوط به کدام یک از حرکت های زمین است؟ الف) پیدایش فصلها ..... ب) اختلاف ساعت.....	۴
۰/۵	سیاره ای که روی آن زندگی می کنیم از چهار محیط تشکیل شده است. <input type="checkbox"/> ص <input type="checkbox"/> غ	۵
۰/۵	بعد از فلات قاره شیب زیاد می شود و تا عمق ۲۰۰۰ تا ۵۰۰۰ متری ادامه می یابد به این بخش ..... می گویند.	۶
۰/۵	به بخش خارجی کره ی زمین یا پوسته ی آن که حالت جامد دارد چه می گویند؟ الف) لیتوسفر <input type="checkbox"/> ب) هیدروسفر <input type="checkbox"/> ج) اتمسفر <input type="checkbox"/> د) بیوسفر <input type="checkbox"/>	۷
۱	چرا سفر به اقیانوسها دشوارتر از صعود به قله هاست؟ ( دو دلیل ذکر کنید)	۸
۰/۵	بیابان گبی که اطراف آن را کوه فرا گرفته است جزء بیابانهای سرد جهان محسوب می شود. <input type="checkbox"/> ص <input type="checkbox"/> غ	۹

۱	یک ناحیه وسیع جغرافیایی که در آن انواع خاصی از گیاهان و جانوران زندگی میکنند را ..... می گویند.	۱۰
۰/۵	مهمترین و بیشترین عامل تاثیر تنوع در زیست بومها کدام است. الف) آب و هوا <input type="checkbox"/> ب) جنس خاک <input type="checkbox"/> ج) شکل ناهمواریها <input type="checkbox"/> د) میزان ارتفاع زمین <input type="checkbox"/>	۱۱
۰/۵	یکی از زیست بومها هستیم که در مجاورت خط استوا و در چند قاره گسترده شده ام در من هوا همیشه گرم و رطوبت حدود ۸۰ درصد و میزان بارندگی سالیانه ۲۵۰۰ میلی متر است. نام مرا بنویس؟.....	۱۲

## درس ۲۰ تا ۲۴ اختیاری ۷ نمره

۰/۵	امروزه صاحب نظران معتقدند تک فرزندی هم برای خانواده و هم برای اجتماع مفید است. صحیح <input type="checkbox"/> غلط <input type="checkbox"/>	۱
۰/۵	فرهنگ نقش مهمی در افزایش بهره وری در یک جامعه دارد. صحیح <input type="checkbox"/> غلط <input type="checkbox"/>	۲
۰/۵	کدام گزینه از مهم ترین تکالیف شهروندی نیست؟ الف) همکاری با دولت <input type="checkbox"/> ب) حق مشارکت سیاسی <input type="checkbox"/> ج) امر به معروف و نهی از منکر <input type="checkbox"/> د) دفاع از کشور <input type="checkbox"/>	۳
۰/۵	در اقتصاد بهره وری را نسبت ..... به داده ها تعریف کرده اند الف) سرمایه <input type="checkbox"/> ب) نهاد <input type="checkbox"/> ج) فرایند <input type="checkbox"/> د) ستانده <input type="checkbox"/>	۴
۱	دو مورد از عواملی که موجب ناسازگاری زن و مرد می شوند را بیان کنید	۵
۱	دومورد از وظایف حکومت ها را بیان کنید	۶
۱	مالیات چیست؟	۷
۱	بهره وری را تعریف کنید و یک مورد از روش های بهره وری در گذشته را نام ببرید.	۸
۱	منظور از بهره وری سبز در تولید چیست؟	۹

بنام خداوند جان و خرد	
نام و نام خانوادگی:	وزارت آموزش و پرورش
نام پدر:	اداره کل آموزش و پرورش استان یزد
کلاس:	مدیریت آموزش و پرورش ناحیه یک دبیرستان نمونه دولتی رسولیان (دوره اول)
آزمون: مطالعات اجتماعی	نهم: ۹۹/۳/۲۲
زمان: ۶۰ دقیقه	
۱	انقلاب مشروطه در زمان ناصر الدین شاه در ایران شکل گرفت <input type="checkbox"/> صحیح <input type="checkbox"/> غلط
۲	هدف حکومت پهلوی از قانون انجمن ایالتی و ولایتی تضعیف هویت اسلامی جامعه ایران بود. <input type="checkbox"/> صحیح <input type="checkbox"/> غلط
۳	اجتماعی شدن فرایندی است که از بزرگسالی شروع و تا پایان عمر ادامه دارد. <input type="checkbox"/> صحیح <input type="checkbox"/> غلط
۴	امروزه زنان نیز با فعالیت های اقتصادی در رفع نیازهای خانواده مشارکت و همراهی دارند. <input type="checkbox"/> صحیح <input type="checkbox"/> غلط
۵	قرارداد ۱۹۱۹ بین ایران و کدام کشور بسته شد؟ الف) روسیه <input type="checkbox"/> ب) آمریکا <input type="checkbox"/> ج) انگلستان <input type="checkbox"/> د) فرانسه <input type="checkbox"/>
۶	در نظام جمهوری اسلامی ایران ، اولین دوره انتخابات مجلس شورای اسلامی در چه تاریخی برگزار شد؟ الف) بهمن ۱۳۵۸ <input type="checkbox"/> ب) اسفند ۸ ۱۳۵۸ <input type="checkbox"/> ج) اسفند ۱۳۵۷ <input type="checkbox"/> د) آذرماه ۱۳۵۸ <input type="checkbox"/>
۷	کدام گزینه ویژگی هویت فردی-روانی است؟ الف) عضویت در گروه نمایش مدرسه <input type="checkbox"/> ب) داشتن گروه خونی <input type="checkbox"/> ج) داشتن ملیت ایرانی <input type="checkbox"/> د) داشتن علاقه به هنر <input type="checkbox"/>
۸	هریک از گزینه های سمت راست مربوط که کدام گزینه سمت چپ می باشد؟ ( ربط دهید ) الف) نشانه یا نماینده یک پدیده دیگر است ب) همه عادت ها ، آداب و رسوم اجتماعی یک جامعه ج) اموری را خوب و مطلوب و مثبت تلقی کنیم هنجار نماد عقاید ارزش
۹	زمینه های فکری و فرهنگی داخلی انقلاب مشروطه را بنویسید
۱۰	از هدف اصلی نیروهای متفکین از اشغال ایران چه بود.
۱۱	منظور از ارزش های اجتماعی چیست؟
۱۲	حق کاپیتولاسیون را شرح دهید.

۱	اجتماعی شدن یا جامعه پذیری را تعریف کنید.	۱۳
۱	مهمترین دلایل پیروی از هنجارها چیست؟ دو مورد	۱۴
۱	دو مورد از کارکرد های خانواده را بیان کنید.	۱۵
۱	ویژگی های انتسابی را با ذکر مثال توضیح دهید؟	۱۶

### درس ۱ تا ۵ اختیاری ۷ نمره

۱/۵	همه ی مردم کشورهایی که در شرق گرینویچ قرار دارند خورشید را زودتر می بینند <input type="checkbox"/> ص <input type="checkbox"/> غ	۱
۰/۵	در اوایل تیر ماه خورشید در نیمکره ی شمالی به مدار راس السرطان عمود می تابد که به آن ..... می گویند.	۲
۰/۵	هر نقطه از کره زمین روی یک مدار و یک نصف النهار قرار دارد که به آن ..... آن منطقه می گویند الف) مختصات جغرافیایی <input type="checkbox"/> ب) طول جغرافیایی <input type="checkbox"/> ج) مدار <input type="checkbox"/> د) حرکت انتقالی <input type="checkbox"/>	۳
۰/۵	هر یک از رویدادهای زیر مربوط به کدام یک از حرکت های زمین است؟ الف) پیدایش فصلها ..... ب) اختلاف ساعت.....	۴
۰/۵	سیاره ای که روی آن زندگی می کنیم از چهار محیط تشکیل شده است. <input type="checkbox"/> ص <input type="checkbox"/> غ	۵
۰/۵	بعد از فلات قاره شیب زیاد می شود و تا عمق ۲۰۰۰ تا ۵۰۰۰ متری ادامه می یابد به این بخش ..... می گویند.	۶
۰/۵	به بخش خارجی کره ی زمین یا پوسته ی آن که حالت جامد دارد چه می گویند؟ الف) لیتوسفر <input type="checkbox"/> ب) هیدروسفر <input type="checkbox"/> ج) اتمسفر <input type="checkbox"/> د) بیوسفر <input type="checkbox"/>	۷
۱	چرا سفر به اقیانوسها دشوارتر از صعود به قله هاست؟ ( دو دلیل ذکر کنید)	۸
۰/۵	بیابان گبی که اطراف آن را کوه فرا گرفته است جزء بیابانهای سرد جهان محسوب می شود. <input type="checkbox"/> ص <input type="checkbox"/> غ	۹

۱	یک ناحیه وسیع جغرافیایی که در آن انواع خاصی از گیاهان و جانوران زندگی میکنند را ..... می گویند.	۱۰
۰/۵	مهمترین و بیشترین عامل تاثیر تنوع در زیست بومها کدام است. الف) آب و هوا <input type="checkbox"/> ب) جنس خاک <input type="checkbox"/> ج) شکل ناهمواریها <input type="checkbox"/> د) میزان ارتفاع زمین <input type="checkbox"/>	۱۱
۰/۵	یکی از زیست بومها هستیم که در مجاورت خط استوا و در چند قاره گسترده شده ام در من هوا همیشه گرم و رطوبت حدود ۸۰ درصد و میزان بارندگی سالیانه ۲۵۰۰ میلی متر است. نام مرا بنویس؟.....	۱۲

## درس ۲۰ تا ۲۴ اختیاری ۷ نمره

۰/۵	امروزه صاحب نظران معتقدند تک فرزندی هم برای خانواده و هم برای اجتماع مفید است. صحیح <input type="checkbox"/> غلط <input type="checkbox"/>	۱
۰/۵	فرهنگ نقش مهمی در افزایش بهره وری در یک جامعه دارد. صحیح <input type="checkbox"/> غلط <input type="checkbox"/>	۲
۰/۵	کدام گزینه از مهم ترین تکالیف شهروندی نیست؟ الف) همکاری با دولت <input type="checkbox"/> ب) حق مشارکت سیاسی <input type="checkbox"/> ج) امر به معروف و نهی از منکر <input type="checkbox"/> د) دفاع از کشور <input type="checkbox"/>	۳
۰/۵	در اقتصاد بهره وری را نسبت ..... به داده ها تعریف کرده اند الف) سرمایه <input type="checkbox"/> ب) نهاد <input type="checkbox"/> ج) فرایند <input type="checkbox"/> د) ستانده <input type="checkbox"/>	۴
۱	دو مورد از عواملی که موجب ناسازگاری زن و مرد می شوند را بیان کنید	۵
۱	دومورد از وظایف حکومت ها را بیان کنید	۶
۱	مالیات چیست؟	۷
۱	بهره وری را تعریف کنید و یک مورد از روش های بهره وری در گذشته را نام ببرید.	۸
۱	منظور از بهره وری سبز در تولید چیست؟	۹

بنام خداوند جان و خرد	
نام و نام خانوادگی:	وزارت آموزش و پرورش
نام پدر:	اداره کل آموزش و پرورش استان یزد
کلاس:	مدیریت آموزش و پرورش ناحیه یک دبیرستان نمونه دولتی رسولیان (دوره اول)
آزمون: مطالعات اجتماعی	نهم: ۹۹/۳/۲۲
زمان: ۶۰ دقیقه	
۱	انقلاب مشروطه در زمان ناصر الدین شاه در ایران شکل گرفت <input type="checkbox"/> صحیح <input type="checkbox"/> غلط
۲	هدف حکومت پهلوی از قانون انجمن ایالتی و ولایتی تضعیف هویت اسلامی جامعه ایران بود. <input type="checkbox"/> صحیح <input type="checkbox"/> غلط
۳	اجتماعی شدن فرایندی است که از بزرگسالی شروع و تا پایان عمر ادامه دارد. <input type="checkbox"/> صحیح <input type="checkbox"/> غلط
۴	امروزه زنان نیز با فعالیت های اقتصادی در رفع نیازهای خانواده مشارکت و همراهی دارند. <input type="checkbox"/> صحیح <input type="checkbox"/> غلط
۵	قرارداد ۱۹۱۹ بین ایران و کدام کشور بسته شد؟ الف) روسیه <input type="checkbox"/> ب) آمریکا <input type="checkbox"/> ج) انگلستان <input type="checkbox"/> د) فرانسه <input type="checkbox"/>
۶	در نظام جمهوری اسلامی ایران ، اولین دوره انتخابات مجلس شورای اسلامی در چه تاریخی برگزار شد؟ الف) بهمن ۱۳۵۸ <input type="checkbox"/> ب) اسفند ۸ ۱۳۵۸ <input type="checkbox"/> ج) اسفند ۱۳۵۷ <input type="checkbox"/> د) آذرماه ۱۳۵۸ <input type="checkbox"/>
۷	کدام گزینه ویژگی هویت فردی-روانی است؟ الف) عضویت در گروه نمایش مدرسه <input type="checkbox"/> ب) داشتن گروه خونی <input type="checkbox"/> ج) داشتن ملیت ایرانی <input type="checkbox"/> د) داشتن علاقه به هنر <input type="checkbox"/>
۸	هریک از گزینه های سمت راست مربوط که کدام گزینه سمت چپ می باشد؟ ( ربط دهید ) الف) نشانه یا نماینده یک پدیده دیگر است ب) همه عادت ها ، آداب و رسوم اجتماعی یک جامعه ج) اموری را خوب و مطلوب و مثبت تلقی کنیم هنجار نماد عقاید ارزش
۹	زمینه های فکری و فرهنگی داخلی انقلاب مشروطه را بنویسید
۱۰	از هدف اصلی نیروهای متفکین از اشغال ایران چه بود.
۱۱	منظور از ارزش های اجتماعی چیست؟
۱۲	حق کاپیتولاسیون را شرح دهید.

۱	اجتماعی شدن یا جامعه پذیری را تعریف کنید.	۱۳
۱	مهمترین دلایل پیروی از هنجارها چیست؟ دو مورد	۱۴
۱	دو مورد از کارکرد های خانواده را بیان کنید.	۱۵
۱	ویژگی های انتسابی را با ذکر مثال توضیح دهید؟	۱۶

### درس ۱ تا ۵ اختیاری ۷ نمره

۱/۵	همه ی مردم کشورهایی که در شرق گرینویچ قرار دارند خورشید را زودتر می بینند <input type="checkbox"/> ص <input type="checkbox"/> غ	۱
۰/۵	در اوایل تیر ماه خورشید در نیمکره ی شمالی به مدار راس السرطان عمود می تابد که به آن ..... می گویند.	۲
۰/۵	هر نقطه از کره زمین روی یک مدار و یک نصف النهار قرار دارد که به آن ..... آن منطقه می گویند الف) مختصات جغرافیایی <input type="checkbox"/> ب) طول جغرافیایی <input type="checkbox"/> ج) مدار <input type="checkbox"/> د) حرکت انتقالی <input type="checkbox"/>	۳
۰/۵	هر یک از رویدادهای زیر مربوط به کدام یک از حرکت های زمین است؟ الف) پیدایش فصلها ..... ب) اختلاف ساعت.....	۴
۰/۵	سیاره ای که روی آن زندگی می کنیم از چهار محیط تشکیل شده است. <input type="checkbox"/> ص <input type="checkbox"/> غ	۵
۰/۵	بعد از فلات قاره شیب زیاد می شود و تا عمق ۲۰۰۰ تا ۵۰۰۰ متری ادامه می یابد به این بخش ..... می گویند.	۶
۰/۵	به بخش خارجی کره ی زمین یا پوسته ی آن که حالت جامد دارد چه می گویند؟ الف) لیتوسفر <input type="checkbox"/> ب) هیدروسفر <input type="checkbox"/> ج) اتمسفر <input type="checkbox"/> د) بیوسفر <input type="checkbox"/>	۷
۱	چرا سفر به اقیانوسها دشوارتر از صعود به قله هاست؟ ( دو دلیل ذکر کنید)	۸
۰/۵	بیابان گبی که اطراف آن را کوه فرا گرفته است جزء بیابانهای سرد جهان محسوب می شود. <input type="checkbox"/> ص <input type="checkbox"/> غ	۹

۱	یک ناحیه وسیع جغرافیایی که در آن انواع خاصی از گیاهان و جانوران زندگی میکنند را ..... می گویند.	۱۰
۰/۵	مهمترین و بیشترین عامل تاثیر تنوع در زیست بومها کدام است. الف) آب و هوا <input type="checkbox"/> ب) جنس خاک <input type="checkbox"/> ج) شکل ناهمواریها <input type="checkbox"/> د) میزان ارتفاع زمین <input type="checkbox"/>	۱۱
۰/۵	یکی از زیست بومها هستیم که در مجاورت خط استوا و در چند قاره گسترده شده ام در من هوا همیشه گرم و رطوبت حدود ۸۰ درصد و میزان بارندگی سالیانه ۲۵۰۰ میلی متر است. نام مرا بنویس؟.....	۱۲

### درس ۲۰ تا ۲۴ اختیاری ۷ نمره

۰/۵	امروزه صاحب نظران معتقدند تک فرزندی هم برای خانواده و هم برای اجتماع مفید است. صحیح <input type="checkbox"/> غلط <input type="checkbox"/>	۱
۰/۵	فرهنگ نقش مهمی در افزایش بهره وری در یک جامعه دارد. صحیح <input type="checkbox"/> غلط <input type="checkbox"/>	۲
۰/۵	کدام گزینه از مهم ترین تکالیف شهروندی نیست؟ الف) همکاری با دولت <input type="checkbox"/> ب) حق مشارکت سیاسی <input type="checkbox"/> ج) امر به معروف و نهی از منکر <input type="checkbox"/> د) دفاع از کشور <input type="checkbox"/>	۳
۰/۵	در اقتصاد بهره وری را نسبت ..... به داده ها تعریف کرده اند الف) سرمایه <input type="checkbox"/> ب) نهاد <input type="checkbox"/> ج) فرایند <input type="checkbox"/> د) ستانده <input type="checkbox"/>	۴
۱	دو مورد از عواملی که موجب ناسازگاری زن و مرد می شوند را بیان کنید	۵
۱	دومورد از وظایف حکومت ها را بیان کنید	۶
۱	مالیات چیست؟	۷
۱	بهره وری را تعریف کنید و یک مورد از روش های بهره وری در گذشته را نام ببرید.	۸
۱	منظور از بهره وری سبز در تولید چیست؟	۹



بنام خداوند جان و خرد	
نام و نام خانوادگی:	وزارت آموزش و پرورش
نام پدر:	اداره کل آموزش و پرورش استان یزد
کلاس:	مدیریت آموزش و پرورش ناحیه یک دبیرستان نمونه دولتی رسولیان (دوره اول)
آزمون: مطالعات اجتماعی	نهم: ۹۹/۳/۲۲
زمان: ۶۰ دقیقه	
۱	انقلاب مشروطه در زمان ناصرالدین شاه در ایران شکل گرفت <input type="checkbox"/> صحیح <input type="checkbox"/> غلط
۲	هدف حکومت پهلوی از قانون انجمن ایالتی و ولایتی تضعیف هویت اسلامی جامعه ایران بود. <input type="checkbox"/> صحیح <input type="checkbox"/> غلط
۳	اجتماعی شدن فرایندی است که از بزرگسالی شروع و تا پایان عمر ادامه دارد. <input type="checkbox"/> صحیح <input type="checkbox"/> غلط
۴	امروزه زنان نیز با فعالیت های اقتصادی در رفع نیازهای خانواده مشارکت و همراهی دارند. <input type="checkbox"/> صحیح <input type="checkbox"/> غلط
۵	قرارداد ۱۹۱۹ بین ایران و کدام کشور بسته شد؟ الف) روسیه <input type="checkbox"/> ب) آمریکا <input type="checkbox"/> ج) انگلستان <input type="checkbox"/> د) فرانسه <input type="checkbox"/>
۶	در نظام جمهوری اسلامی ایران، اولین دوره انتخابات مجلس شورای اسلامی در چه تاریخی برگزار شد؟ الف) بهمن ۱۳۵۸ <input type="checkbox"/> ب) اسفند ۸ ۱۳۵۸ <input type="checkbox"/> ج) اسفند ۱۳۵۷ <input type="checkbox"/> د) آذرماه ۱۳۵۸ <input type="checkbox"/>
۷	کدام گزینه ویژگی هویت فردی-روانی است؟ الف) عضویت در گروه نمایش مدرسه <input type="checkbox"/> ب) داشتن گروه خونی <input type="checkbox"/> ج) داشتن ملیت ایرانی <input type="checkbox"/> د) داشتن علاقه به هنر <input type="checkbox"/>
۸	هریک از گزینه های سمت راست مربوط که کدام گزینه سمت چپ می باشد؟ ( ربط دهید) الف) نشانه یا نماینده یک پدیده دیگر است ب) همه عادت ها، آداب و رسوم اجتماعی یک جامعه ج) اموری را خوب و مطلوب و مثبت تلقی کنیم هنجار نماد عقاید ارزش
۹	زمینه های فکری و فرهنگی داخلی انقلاب مشروطه را بنویسید
۱۰	از هدف اصلی نیروهای متفکین از اشغال ایران چه بود.
۱۱	منظور از ارزش های اجتماعی چیست؟
۱۲	حق کاپیتولاسیون را شرح دهید.

۱	اجتماعی شدن یا جامعه پذیری را تعریف کنید.	۱۳
۱	مهمترین دلایل پیروی از هنجارها چیست؟ دو مورد	۱۴
۱	دو مورد از کارکرد های خانواده را بیان کنید.	۱۵
۱	ویژگی های انتسابی را با ذکر مثال توضیح دهید؟	۱۶

### درس ۱ تا ۵ اختیاری ۷ نمره

۱/۵	همه ی مردم کشورهایی که در شرق گرینویچ قرار دارند خورشید را زودتر می بینند <input type="checkbox"/> ص <input type="checkbox"/> غ	۱
۰/۵	در اوایل تیر ماه خورشید در نیمکره ی شمالی به مدار راس السرطان عمود می تابد که به آن ..... می گویند.	۲
۰/۵	هر نقطه از کره زمین روی یک مدار و یک نصف النهار قرار دارد که به آن ..... آن منطقه می گویند الف) مختصات جغرافیایی <input type="checkbox"/> ب) طول جغرافیایی <input type="checkbox"/> ج) مدار <input type="checkbox"/> د) حرکت انتقالی <input type="checkbox"/>	۳
۰/۵	هر یک از رویدادهای زیر مربوط به کدام یک از حرکت های زمین است؟ الف) پیدایش فصلها ..... ب) اختلاف ساعت.....	۴
۰/۵	سیاره ای که روی آن زندگی می کنیم از چهار محیط تشکیل شده است. <input type="checkbox"/> ص <input type="checkbox"/> غ	۵
۰/۵	بعد از فلات قاره شیب زیاد می شود و تا عمق ۲۰۰۰ تا ۵۰۰۰ متری ادامه می یابد به این بخش ..... می گویند.	۶
۰/۵	به بخش خارجی کره ی زمین یا پوسته ی آن که حالت جامد دارد چه می گویند؟ الف) لیتوسفر <input type="checkbox"/> ب) هیدروسفر <input type="checkbox"/> ج) اتمسفر <input type="checkbox"/> د) بیوسفر <input type="checkbox"/>	۷
۱	چرا سفر به اقیانوسها دشوارتر از صعود به قله هاست؟ ( دو دلیل ذکر کنید)	۸
۰/۵	بیابان گبی که اطراف آن را کوه فرا گرفته است جزء بیابانهای سرد جهان محسوب می شود. <input type="checkbox"/> ص <input type="checkbox"/> غ	۹

۱	یک ناحیه وسیع جغرافیایی که در آن انواع خاصی از گیاهان و جانوران زندگی میکنند را ..... می گویند.	۱۰
۰/۵	مهمترین و بیشترین عامل تاثیر تنوع در زیست بومها کدام است. الف) آب و هوا <input type="checkbox"/> ب) جنس خاک <input type="checkbox"/> ج) شکل ناهمواریها <input type="checkbox"/> د) میزان ارتفاع زمین <input type="checkbox"/>	۱۱
۰/۵	یکی از زیست بومها هستیم که در مجاورت خط استوا و در چند قاره گسترده شده ام در من هوا همیشه گرم و رطوبت حدود ۸۰ درصد و میزان بارندگی سالیانه ۲۵۰۰ میلی متر است. نام مرا بنویس؟.....	۱۲

## درس ۲۰ تا ۲۴ اختیاری ۷ نمره

۰/۵	امروزه صاحب نظران معتقدند تک فرزندی هم برای خانواده و هم برای اجتماع مفید است. صحیح <input type="checkbox"/> غلط <input type="checkbox"/>	۱
۰/۵	فرهنگ نقش مهمی در افزایش بهره وری در یک جامعه دارد. صحیح <input type="checkbox"/> غلط <input type="checkbox"/>	۲
۰/۵	کدام گزینه از مهم ترین تکالیف شهروندی نیست؟ الف) همکاری با دولت <input type="checkbox"/> ب) حق مشارکت سیاسی <input type="checkbox"/> ج) امر به معروف و نهی از منکر <input type="checkbox"/> د) دفاع از کشور <input type="checkbox"/>	۳
۰/۵	در اقتصاد بهره وری را نسبت ..... به داده ها تعریف کرده اند الف) سرمایه <input type="checkbox"/> ب) نهاد <input type="checkbox"/> ج) فرایند <input type="checkbox"/> د) ستانده <input type="checkbox"/>	۴
۱	دو مورد از عواملی که موجب ناسازگاری زن و مرد می شوند را بیان کنید	۵
۱	دومورد از وظایف حکومت ها را بیان کنید	۶
۱	مالیات چیست؟	۷
۱	بهره وری را تعریف کنید و یک مورد از روش های بهره وری در گذشته را نام ببرید.	۸
۱	منظور از بهره وری سبز در تولید چیست؟	۹

بنام خداوند جان و خرد	
نام و نام خانوادگی:	وزارت آموزش و پرورش
نام پدر:	اداره کل آموزش و پرورش استان یزد
کلاس:	مدیریت آموزش و پرورش ناحیه یک دبیرستان نمونه دولتی رسولیان (دوره اول)
آزمون: مطالعات اجتماعی	نهم: ۹۹/۳/۲۲
زمان: ۶۰ دقیقه	
۱	انقلاب مشروطه در زمان ناصر الدین شاه در ایران شکل گرفت <input type="checkbox"/> صحیح <input type="checkbox"/> غلط
۲	هدف حکومت پهلوی از قانون انجمن ایالتی و ولایتی تضعیف هویت اسلامی جامعه ایران بود. <input type="checkbox"/> صحیح <input type="checkbox"/> غلط
۳	اجتماعی شدن فرایندی است که از بزرگسالی شروع و تا پایان عمر ادامه دارد. <input type="checkbox"/> صحیح <input type="checkbox"/> غلط
۴	امروزه زنان نیز با فعالیت های اقتصادی در رفع نیازهای خانواده مشارکت و همراهی دارند. <input type="checkbox"/> صحیح <input type="checkbox"/> غلط
۵	قرارداد ۱۹۱۹ بین ایران و کدام کشور بسته شد؟ الف) روسیه <input type="checkbox"/> ب) آمریکا <input type="checkbox"/> ج) انگلستان <input type="checkbox"/> د) فرانسه <input type="checkbox"/>
۶	در نظام جمهوری اسلامی ایران ، اولین دوره انتخابات مجلس شورای اسلامی در چه تاریخی برگزار شد؟ الف) بهمن ۱۳۵۸ <input type="checkbox"/> ب) اسفند ۸ ۱۳۵۸ <input type="checkbox"/> ج) اسفند ۱۳۵۷ <input type="checkbox"/> د) آذرماه ۱۳۵۸ <input type="checkbox"/>
۷	کدام گزینه ویژگی هویت فردی-روانی است؟ الف) عضویت در گروه نمایش مدرسه <input type="checkbox"/> ب) داشتن گروه خونی <input type="checkbox"/> ج) داشتن ملیت ایرانی <input type="checkbox"/> د) داشتن علاقه به هنر <input type="checkbox"/>
۸	هریک از گزینه های سمت راست مربوط که کدام گزینه سمت چپ می باشد؟ ( ربط دهید ) الف) نشانه یا نماینده یک پدیده دیگر است ب) همه عادت ها ، آداب و رسوم اجتماعی یک جامعه ج) اموری را خوب و مطلوب و مثبت تلقی کنیم هنجار نماد عقاید ارزش
۹	زمینه های فکری و فرهنگی داخلی انقلاب مشروطه را بنویسید
۱۰	از هدف اصلی نیروهای متفکین از اشغال ایران چه بود.
۱۱	منظور از ارزش های اجتماعی چیست؟
۱۲	حق کاپیتولاسیون را شرح دهید.

۱	اجتماعی شدن یا جامعه پذیری را تعریف کنید.	۱۳
۱	مهمترین دلایل پیروی از هنجارها چیست؟ دو مورد	۱۴
۱	دو مورد از کارکرد های خانواده را بیان کنید.	۱۵
۱	ویژگی های انتسابی را با ذکر مثال توضیح دهید؟	۱۶

### درس ۱ تا ۵ اختیاری ۷ نمره

۱/۵	همه ی مردم کشورهایی که در شرق گرینویچ قرار دارند خورشید را زودتر می بینند <input type="checkbox"/> ص <input type="checkbox"/> غ	۱
۰/۵	در اوایل تیر ماه خورشید در نیمکره ی شمالی به مدار راس السرطان عمود می تابد که به آن ..... می گویند.	۲
۰/۵	هر نقطه از کره زمین روی یک مدار و یک نصف النهار قرار دارد که به آن ..... آن منطقه می گویند الف) مختصات جغرافیایی <input type="checkbox"/> ب) طول جغرافیایی <input type="checkbox"/> ج) مدار <input type="checkbox"/> د) حرکت انتقالی <input type="checkbox"/>	۳
۰/۵	هر یک از رویدادهای زیر مربوط به کدام یک از حرکت های زمین است؟ الف) پیدایش فصلها ..... ب) اختلاف ساعت.....	۴
۰/۵	سیاره ای که روی آن زندگی می کنیم از چهار محیط تشکیل شده است. <input type="checkbox"/> ص <input type="checkbox"/> غ	۵
۰/۵	بعد از فلات قاره شیب زیاد می شود و تا عمق ۲۰۰۰ تا ۵۰۰۰ متری ادامه می یابد به این بخش ..... می گویند.	۶
۰/۵	به بخش خارجی کره ی زمین یا پوسته ی آن که حالت جامد دارد چه می گویند؟ الف) لیتوسفر <input type="checkbox"/> ب) هیدروسفر <input type="checkbox"/> ج) اتمسفر <input type="checkbox"/> د) بیوسفر <input type="checkbox"/>	۷
۱	چرا سفر به اقیانوسها دشوارتر از صعود به قله هاست؟ ( دو دلیل ذکر کنید)	۸
۰/۵	بیابان گبی که اطراف آن را کوه فرا گرفته است جزء بیابانهای سرد جهان محسوب می شود. <input type="checkbox"/> ص <input type="checkbox"/> غ	۹

۱	یک ناحیه وسیع جغرافیایی که در آن انواع خاصی از گیاهان و جانوران زندگی میکنند را ..... می گویند.	۱۰
۰/۵	مهمترین و بیشترین عامل تاثیر تنوع در زیست بومها کدام است. الف) آب و هوا <input type="checkbox"/> ب) جنس خاک <input type="checkbox"/> ج) شکل ناهمواریها <input type="checkbox"/> د) میزان ارتفاع زمین <input type="checkbox"/>	۱۱
۰/۵	یکی از زیست بومها هستیم که در مجاورت خط استوا و در چند قاره گسترده شده ام در من هوا همیشه گرم و رطوبت حدود ۸۰ درصد و میزان بارندگی سالیانه ۲۵۰۰ میلی متر است. نام مرا بنویس؟.....	۱۲

## درس ۲۰ تا ۲۴ اختیاری ۷ نمره

۰/۵	امروزه صاحب نظران معتقدند تک فرزندی هم برای خانواده و هم برای اجتماع مفید است. صحیح <input type="checkbox"/> غلط <input type="checkbox"/>	۱
۰/۵	فرهنگ نقش مهمی در افزایش بهره وری در یک جامعه دارد. صحیح <input type="checkbox"/> غلط <input type="checkbox"/>	۲
۰/۵	کدام گزینه از مهم ترین تکالیف شهروندی نیست؟ الف) همکاری با دولت <input type="checkbox"/> ب) حق مشارکت سیاسی <input type="checkbox"/> ج) امر به معروف و نهی از منکر <input type="checkbox"/> د) دفاع از کشور <input type="checkbox"/>	۳
۰/۵	در اقتصاد بهره وری را نسبت ..... به داده ها تعریف کرده اند الف) سرمایه <input type="checkbox"/> ب) نهاد <input type="checkbox"/> ج) فرایند <input type="checkbox"/> د) ستانده <input type="checkbox"/>	۴
۱	دو مورد از عواملی که موجب ناسازگاری زن و مرد می شوند را بیان کنید	۵
۱	دومورد از وظایف حکومت ها را بیان کنید	۶
۱	مالیات چیست؟	۷
۱	بهره وری را تعریف کنید و یک مورد از روش های بهره وری در گذشته را نام ببرید.	۸
۱	منظور از بهره وری سبز در تولید چیست؟	۹

بنام خداوند جان و خرد	
نام و نام خانوادگی:	وزارت آموزش و پرورش
نام پدر:	اداره کل آموزش و پرورش استان یزد
کلاس:	مدیریت آموزش و پرورش ناحیه یک دبیرستان نمونه دولتی رسولیان (دوره اول)
آزمون: مطالعات اجتماعی	نهم: ۹۹/۳/۲۲
زمان: ۶۰ دقیقه	
۱	انقلاب مشروطه در زمان ناصرالدین شاه در ایران شکل گرفت <input type="checkbox"/> صحیح <input type="checkbox"/> غلط
۲	هدف حکومت پهلوی از قانون انجمن ایالتی و ولایتی تضعیف هویت اسلامی جامعه ایران بود. <input type="checkbox"/> صحیح <input type="checkbox"/> غلط
۳	اجتماعی شدن فرایندی است که از بزرگسالی شروع و تا پایان عمر ادامه دارد. <input type="checkbox"/> صحیح <input type="checkbox"/> غلط
۴	امروزه زنان نیز با فعالیت های اقتصادی در رفع نیازهای خانواده مشارکت و همراهی دارند. <input type="checkbox"/> صحیح <input type="checkbox"/> غلط
۵	قرارداد ۱۹۱۹ بین ایران و کدام کشور بسته شد؟ الف) روسیه <input type="checkbox"/> ب) آمریکا <input type="checkbox"/> ج) انگلستان <input type="checkbox"/> د) فرانسه <input type="checkbox"/>
۶	در نظام جمهوری اسلامی ایران، اولین دوره انتخابات مجلس شورای اسلامی در چه تاریخی برگزار شد؟ الف) بهمن ۱۳۵۸ <input type="checkbox"/> ب) اسفند ۸ ۱۳۵۸ <input type="checkbox"/> ج) اسفند ۱۳۵۷ <input type="checkbox"/> د) آذرماه ۱۳۵۸ <input type="checkbox"/>
۷	کدام گزینه ویژگی هویت فردی-روانی است؟ الف) عضویت در گروه نمایش مدرسه <input type="checkbox"/> ب) داشتن گروه خونی <input type="checkbox"/> ج) داشتن ملیت ایرانی <input type="checkbox"/> د) داشتن علاقه به هنر <input type="checkbox"/>
۸	هریک از گزینه های سمت راست مربوط که کدام گزینه سمت چپ می باشد؟ (ربط دهید) الف) نشانه یا نماینده یک پدیده دیگر است ب) همه عادت ها، آداب و رسوم اجتماعی یک جامعه ج) اموری را خوب و مطلوب و مثبت تلقی کنیم هنجار نماد عقاید ارزش
۹	زمینه های فکری و فرهنگی داخلی انقلاب مشروطه را بنویسید
۱۰	از هدف اصلی نیروهای متفکین از اشغال ایران چه بود.
۱۱	منظور از ارزش های اجتماعی چیست؟
۱۲	حق کاپیتولاسیون را شرح دهید.

۱	اجتماعی شدن یا جامعه پذیری را تعریف کنید.	۱۳
۱	مهمترین دلایل پیروی از هنجارها چیست؟ دو مورد	۱۴
۱	دو مورد از کارکرد های خانواده را بیان کنید.	۱۵
۱	ویژگی های انتسابی را با ذکر مثال توضیح دهید؟	۱۶

### درس ۱ تا ۵ اختیاری ۷ نمره

۱/۵	همه ی مردم کشورهایی که در شرق گرینویچ قرار دارند خورشید را زودتر می بینند <input type="checkbox"/> ص <input type="checkbox"/> غ	۱
۰/۵	در اوایل تیر ماه خورشید در نیمکره ی شمالی به مدار راس السرطان عمود می تابد که به آن ..... می گویند.	۲
۰/۵	هر نقطه از کره زمین روی یک مدار و یک نصف النهار قرار دارد که به آن ..... آن منطقه می گویند الف) مختصات جغرافیایی <input type="checkbox"/> ب) طول جغرافیایی <input type="checkbox"/> ج) مدار <input type="checkbox"/> د) حرکت انتقالی <input type="checkbox"/>	۳
۰/۵	هر یک از رویدادهای زیر مربوط به کدام یک از حرکت های زمین است؟ الف) پیدایش فصلها ..... ب) اختلاف ساعت.....	۴
۰/۵	سیاره ای که روی آن زندگی می کنیم از چهار محیط تشکیل شده است. <input type="checkbox"/> ص <input type="checkbox"/> غ	۵
۰/۵	بعد از فلات قاره شیب زیاد می شود و تا عمق ۲۰۰۰ تا ۵۰۰۰ متری ادامه می یابد به این بخش ..... می گویند.	۶
۰/۵	به بخش خارجی کره ی زمین یا پوسته ی آن که حالت جامد دارد چه می گویند؟ الف) لیتوسفر <input type="checkbox"/> ب) هیدروسفر <input type="checkbox"/> ج) اتمسفر <input type="checkbox"/> د) بیوسفر <input type="checkbox"/>	۷
۱	چرا سفر به اقیانوسها دشوارتر از صعود به قله هاست؟ ( دو دلیل ذکر کنید)	۸
۰/۵	بیابان گبی که اطراف آن را کوه فرا گرفته است جزء بیابانهای سرد جهان محسوب می شود. <input type="checkbox"/> ص <input type="checkbox"/> غ	۹



۱	یک ناحیه وسیع جغرافیایی که در آن انواع خاصی از گیاهان و جانوران زندگی میکنند را ..... می گویند.	۱۰
۰/۵	مهمترین و بیشترین عامل تاثیر تنوع در زیست بومها کدام است. الف) آب و هوا <input type="checkbox"/> ب) جنس خاک <input type="checkbox"/> ج) شکل ناهمواریها <input type="checkbox"/> د) میزان ارتفاع زمین <input type="checkbox"/>	۱۱
۰/۵	یکی از زیست بومها هستیم که در مجاورت خط استوا و در چند قاره گسترده شده ام در من هوا همیشه گرم و رطوبت حدود ۸۰ درصد و میزان بارندگی سالیانه ۲۵۰۰ میلی متر است. نام مرا بنویس؟.....	۱۲

## درس ۲۰ تا ۲۴ اختیاری ۷ نمره

۰/۵	امروزه صاحب نظران معتقدند تک فرزندی هم برای خانواده و هم برای اجتماع مفید است. صحیح <input type="checkbox"/> غلط <input type="checkbox"/>	۱
۰/۵	فرهنگ نقش مهمی در افزایش بهره وری در یک جامعه دارد. صحیح <input type="checkbox"/> غلط <input type="checkbox"/>	۲
۰/۵	کدام گزینه از مهم ترین تکالیف شهروندی نیست؟ الف) همکاری با دولت <input type="checkbox"/> ب) حق مشارکت سیاسی <input type="checkbox"/> ج) امر به معروف و نهی از منکر <input type="checkbox"/> د) دفاع از کشور <input type="checkbox"/>	۳
۰/۵	در اقتصاد بهره وری را نسبت ..... به داده ها تعریف کرده اند الف) سرمایه <input type="checkbox"/> ب) نهاد <input type="checkbox"/> ج) فرایند <input type="checkbox"/> د) ستانده <input type="checkbox"/>	۴
۱	دو مورد از عواملی که موجب ناسازگاری زن و مرد می شوند را بیان کنید	۵
۱	دومورد از وظایف حکومت ها را بیان کنید	۶
۱	مالیات چیست؟	۷
۱	بهره وری را تعریف کنید و یک مورد از روش های بهره وری در گذشته را نام ببرید.	۸
۱	منظور از بهره وری سبز در تولید چیست؟	۹

بنام خداوند جان و خرد	
نام و نام خانوادگی:	وزارت آموزش و پرورش
نام پدر:	اداره کل آموزش و پرورش استان یزد
کلاس:	مدیریت آموزش و پرورش ناحیه یک دبیرستان نمونه دولتی رسولیان (دوره اول)
آزمون: مطالعات اجتماعی	نهم: ۹۹/۳/۲۲
زمان: ۶۰ دقیقه	
۱	انقلاب مشروطه در زمان ناصر الدین شاه در ایران شکل گرفت <input type="checkbox"/> صحیح <input type="checkbox"/> غلط
۲	هدف حکومت پهلوی از قانون انجمن ایالتی و ولایتی تضعیف هویت اسلامی جامعه ایران بود. <input type="checkbox"/> صحیح <input type="checkbox"/> غلط
۳	اجتماعی شدن فرایندی است که از بزرگسالی شروع و تا پایان عمر ادامه دارد. <input type="checkbox"/> صحیح <input type="checkbox"/> غلط
۴	امروزه زنان نیز با فعالیت های اقتصادی در رفع نیازهای خانواده مشارکت و همراهی دارند. <input type="checkbox"/> صحیح <input type="checkbox"/> غلط
۵	قرارداد ۱۹۱۹ بین ایران و کدام کشور بسته شد؟ الف) روسیه <input type="checkbox"/> ب) آمریکا <input type="checkbox"/> ج) انگلستان <input type="checkbox"/> د) فرانسه <input type="checkbox"/>
۶	در نظام جمهوری اسلامی ایران ، اولین دوره انتخابات مجلس شورای اسلامی در چه تاریخی برگزار شد؟ الف) بهمن ۱۳۵۸ <input type="checkbox"/> ب) اسفند ۸ ۱۳۵۸ <input type="checkbox"/> ج) اسفند ۱۳۵۷ <input type="checkbox"/> د) آذرماه ۱۳۵۸ <input type="checkbox"/>
۷	کدام گزینه ویژگی هویت فردی-روانی است؟ الف) عضویت در گروه نمایش مدرسه <input type="checkbox"/> ب) داشتن گروه خونی <input type="checkbox"/> ج) داشتن ملیت ایرانی <input type="checkbox"/> د) داشتن علاقه به هنر <input type="checkbox"/>
۸	هریک از گزینه های سمت راست مربوط که کدام گزینه سمت چپ می باشد؟ ( ربط دهید ) الف) نشانه یا نماینده یک پدیده دیگر است ب) همه عادت ها ، آداب و رسوم اجتماعی یک جامعه ج) اموری را خوب و مطلوب و مثبت تلقی کنیم هنجار نماد عقاید ارزش
۹	زمینه های فکری و فرهنگی داخلی انقلاب مشروطه را بنویسید
۱۰	از هدف اصلی نیروهای متفکین از اشغال ایران چه بود.
۱۱	منظور از ارزش های اجتماعی چیست؟
۱۲	حق کاپیتولاسیون را شرح دهید.

۱	اجتماعی شدن یا جامعه پذیری را تعریف کنید.	۱۳
۱	مهمترین دلایل پیروی از هنجارها چیست؟ دو مورد	۱۴
۱	دو مورد از کارکرد های خانواده را بیان کنید.	۱۵
۱	ویژگی های انتسابی را با ذکر مثال توضیح دهید؟	۱۶

### درس ۱ تا ۵ اختیاری ۷ نمره

۱/۵	همه ی مردم کشورهایی که در شرق گرینویچ قرار دارند خورشید را زودتر می بینند <input type="checkbox"/> ص <input type="checkbox"/> غ	۱
۰/۵	در اوایل تیر ماه خورشید در نیمکره ی شمالی به مدار راس السرطان عمود می تابد که به آن ..... می گویند.	۲
۰/۵	هر نقطه از کره زمین روی یک مدار و یک نصف النهار قرار دارد که به آن ..... آن منطقه می گویند الف) مختصات جغرافیایی <input type="checkbox"/> ب) طول جغرافیایی <input type="checkbox"/> ج) مدار <input type="checkbox"/> د) حرکت انتقالی <input type="checkbox"/>	۳
۰/۵	هر یک از رویدادهای زیر مربوط به کدام یک از حرکت های زمین است؟ الف) پیدایش فصلها ..... ب) اختلاف ساعت.....	۴
۰/۵	سیاره ای که روی آن زندگی می کنیم از چهار محیط تشکیل شده است. <input type="checkbox"/> ص <input type="checkbox"/> غ	۵
۰/۵	بعد از فلات قاره شیب زیاد می شود و تا عمق ۲۰۰۰ تا ۵۰۰۰ متری ادامه می یابد به این بخش ..... می گویند.	۶
۰/۵	به بخش خارجی کره ی زمین یا پوسته ی آن که حالت جامد دارد چه می گویند؟ الف) لیتوسفر <input type="checkbox"/> ب) هیدروسفر <input type="checkbox"/> ج) اتمسفر <input type="checkbox"/> د) بیوسفر <input type="checkbox"/>	۷
۱	چرا سفر به اقیانوسها دشوارتر از صعود به قله هاست؟ ( دو دلیل ذکر کنید)	۸
۰/۵	بیابان گبی که اطراف آن را کوه فرا گرفته است جزء بیابانهای سرد جهان محسوب می شود. <input type="checkbox"/> ص <input type="checkbox"/> غ	۹

۱	یک ناحیه وسیع جغرافیایی که در آن انواع خاصی از گیاهان و جانوران زندگی میکنند را ..... می گویند.	۱۰
۰/۵	مهمترین و بیشترین عامل تاثیر تنوع در زیست بومها کدام است. الف) آب و هوا <input type="checkbox"/> ب) جنس خاک <input type="checkbox"/> ج) شکل ناهمواریها <input type="checkbox"/> د) میزان ارتفاع زمین <input type="checkbox"/>	۱۱
۰/۵	یکی از زیست بومها هستیم که در مجاورت خط استوا و در چند قاره گسترده شده ام در من هوا همیشه گرم و رطوبت حدود ۸۰ درصد و میزان بارندگی سالیانه ۲۵۰۰ میلی متر است. نام مرا بنویس؟.....	۱۲

## درس ۲۰ تا ۲۴ اختیاری ۷ نمره

۰/۵	امروزه صاحب نظران معتقدند تک فرزندی هم برای خانواده و هم برای اجتماع مفید است. صحیح <input type="checkbox"/> غلط <input type="checkbox"/>	۱
۰/۵	فرهنگ نقش مهمی در افزایش بهره وری در یک جامعه دارد. صحیح <input type="checkbox"/> غلط <input type="checkbox"/>	۲
۰/۵	کدام گزینه از مهم ترین تکالیف شهروندی نیست؟ الف) همکاری با دولت <input type="checkbox"/> ب) حق مشارکت سیاسی <input type="checkbox"/> ج) امر به معروف و نهی از منکر <input type="checkbox"/> د) دفاع از کشور <input type="checkbox"/>	۳
۰/۵	در اقتصاد بهره وری را نسبت ..... به داده ها تعریف کرده اند الف) سرمایه <input type="checkbox"/> ب) نهاد <input type="checkbox"/> ج) فرایند <input type="checkbox"/> د) ستانده <input type="checkbox"/>	۴
۱	دو مورد از عواملی که موجب ناسازگاری زن و مرد می شوند را بیان کنید	۵
۱	دومورد از وظایف حکومت ها را بیان کنید	۶
۱	مالیات چیست؟	۷
۱	بهره وری را تعریف کنید و یک مورد از روش های بهره وری در گذشته را نام ببرید.	۸
۱	منظور از بهره وری سبز در تولید چیست؟	۹

بنام خداوند جان و خرد	
نام و نام خانوادگی:	وزارت آموزش و پرورش
نام پدر:	اداره کل آموزش و پرورش استان یزد
کلاس:	مدیریت آموزش و پرورش ناحیه یک دبیرستان نمونه دولتی رسولیان (دوره اول)
آزمون: مطالعات اجتماعی	نهم: ۹۹/۳/۲۲
زمان: ۶۰ دقیقه	
۱	انقلاب مشروطه در زمان ناصر الدین شاه در ایران شکل گرفت <input type="checkbox"/> صحیح <input type="checkbox"/> غلط
۲	هدف حکومت پهلوی از قانون انجمن ایالتی و ولایتی تضعیف هویت اسلامی جامعه ایران بود. <input type="checkbox"/> صحیح <input type="checkbox"/> غلط
۳	اجتماعی شدن فرایندی است که از بزرگسالی شروع و تا پایان عمر ادامه دارد. <input type="checkbox"/> صحیح <input type="checkbox"/> غلط
۴	امروزه زنان نیز با فعالیت های اقتصادی در رفع نیازهای خانواده مشارکت و همراهی دارند. <input type="checkbox"/> صحیح <input type="checkbox"/> غلط
۵	قرارداد ۱۹۱۹ بین ایران و کدام کشور بسته شد؟ الف) روسیه <input type="checkbox"/> ب) آمریکا <input type="checkbox"/> ج) انگلستان <input type="checkbox"/> د) فرانسه <input type="checkbox"/>
۶	در نظام جمهوری اسلامی ایران ، اولین دوره انتخابات مجلس شورای اسلامی در چه تاریخی برگزار شد؟ الف) بهمن ۱۳۵۸ <input type="checkbox"/> ب) اسفند ۸ ۱۳۵۸ <input type="checkbox"/> ج) اسفند ۱۳۵۷ <input type="checkbox"/> د) آذرماه ۱۳۵۸ <input type="checkbox"/>
۷	کدام گزینه ویژگی هویت فردی-روانی است؟ الف) عضویت در گروه نمایش مدرسه <input type="checkbox"/> ب) داشتن گروه خونی <input type="checkbox"/> ج) داشتن ملیت ایرانی <input type="checkbox"/> د) داشتن علاقه به هنر <input type="checkbox"/>
۸	هریک از گزینه های سمت راست مربوط که کدام گزینه سمت چپ می باشد؟ ( ربط دهید ) الف) نشانه یا نماینده یک پدیده دیگر است ب) همه عادت ها ، آداب و رسوم اجتماعی یک جامعه ج) اموری را خوب و مطلوب و مثبت تلقی کنیم هنجار نماد عقاید ارزش
۹	زمینه های فکری و فرهنگی داخلی انقلاب مشروطه را بنویسید
۱۰	از هدف اصلی نیروهای متفکین از اشغال ایران چه بود.
۱۱	منظور از ارزش های اجتماعی چیست؟
۱۲	حق کاپیتولاسیون را شرح دهید.

۱	اجتماعی شدن یا جامعه پذیری را تعریف کنید.	۱۳
۱	مهمترین دلایل پیروی از هنجارها چیست؟ دو مورد	۱۴
۱	دو مورد از کارکرد های خانواده را بیان کنید.	۱۵
۱	ویژگی های انتسابی را با ذکر مثال توضیح دهید؟	۱۶

### درس ۱ تا ۵ اختیاری ۷ نمره

۱/۵	همه ی مردم کشورهایی که در شرق گرینویچ قرار دارند خورشید را زودتر می بینند <input type="checkbox"/> ص <input type="checkbox"/> غ	۱
۰/۵	در اوایل تیر ماه خورشید در نیمکره ی شمالی به مدار راس السرطان عمود می تابد که به آن ..... می گویند.	۲
۰/۵	هر نقطه از کره زمین روی یک مدار و یک نصف النهار قرار دارد که به آن ..... آن منطقه می گویند الف) مختصات جغرافیایی <input type="checkbox"/> ب) طول جغرافیایی <input type="checkbox"/> ج) مدار <input type="checkbox"/> د) حرکت انتقالی <input type="checkbox"/>	۳
۰/۵	هر یک از رویدادهای زیر مربوط به کدام یک از حرکت های زمین است؟ الف) پیدایش فصلها ..... ب) اختلاف ساعت.....	۴
۰/۵	سیاره ای که روی آن زندگی می کنیم از چهار محیط تشکیل شده است. <input type="checkbox"/> ص <input type="checkbox"/> غ	۵
۰/۵	بعد از فلات قاره شیب زیاد می شود و تا عمق ۲۰۰۰ تا ۵۰۰۰ متری ادامه می یابد به این بخش ..... می گویند.	۶
۰/۵	به بخش خارجی کره ی زمین یا پوسته ی آن که حالت جامد دارد چه می گویند؟ الف) لیتوسفر <input type="checkbox"/> ب) هیدروسفر <input type="checkbox"/> ج) اتمسفر <input type="checkbox"/> د) بیوسفر <input type="checkbox"/>	۷
۱	چرا سفر به اقیانوسها دشوارتر از صعود به قله هاست؟ ( دو دلیل ذکر کنید)	۸
۰/۵	بیابان گبی که اطراف آن را کوه فرا گرفته است جزء بیابانهای سرد جهان محسوب می شود. <input type="checkbox"/> ص <input type="checkbox"/> غ	۹

۱	یک ناحیه وسیع جغرافیایی که در آن انواع خاصی از گیاهان و جانوران زندگی میکنند را ..... می گویند.	۱۰
۰/۵	مهمترین و بیشترین عامل تاثیر تنوع در زیست بومها کدام است. الف) آب و هوا <input type="checkbox"/> ب) جنس خاک <input type="checkbox"/> ج) شکل ناهمواریها <input type="checkbox"/> د) میزان ارتفاع زمین <input type="checkbox"/>	۱۱
۰/۵	یکی از زیست بومها هستیم که در مجاورت خط استوا و در چند قاره گسترده شده ام در من هوا همیشه گرم و رطوبت حدود ۸۰ درصد و میزان بارندگی سالیانه ۲۵۰۰ میلی متر است. نام مرا بنویس؟.....	۱۲

## درس ۲۰ تا ۲۴ اختیاری ۷ نمره

۰/۵	امروزه صاحب نظران معتقدند تک فرزندی هم برای خانواده و هم برای اجتماع مفید است. صحیح <input type="checkbox"/> غلط <input type="checkbox"/>	۱
۰/۵	فرهنگ نقش مهمی در افزایش بهره وری در یک جامعه دارد. صحیح <input type="checkbox"/> غلط <input type="checkbox"/>	۲
۰/۵	کدام گزینه از مهم ترین تکالیف شهروندی نیست؟ الف) همکاری با دولت <input type="checkbox"/> ب) حق مشارکت سیاسی <input type="checkbox"/> ج) امر به معروف و نهی از منکر <input type="checkbox"/> د) دفاع از کشور <input type="checkbox"/>	۳
۰/۵	در اقتصاد بهره وری را نسبت ..... به داده ها تعریف کرده اند الف) سرمایه <input type="checkbox"/> ب) نهاد <input type="checkbox"/> ج) فرایند <input type="checkbox"/> د) ستانده <input type="checkbox"/>	۴
۱	دو مورد از عواملی که موجب ناسازگاری زن و مرد می شوند را بیان کنید	۵
۱	دومورد از وظایف حکومت ها را بیان کنید	۶
۱	مالیات چیست؟	۷
۱	بهره وری را تعریف کنید و یک مورد از روش های بهره وری در گذشته را نام ببرید.	۸
۱	منظور از بهره وری سبز در تولید چیست؟	۹

بنام خداوند جان و خرد	
نام و نام خانوادگی:	وزارت آموزش و پرورش
نام پدر:	اداره کل آموزش و پرورش استان یزد
کلاس:	مدیریت آموزش و پرورش ناحیه یک دبیرستان نمونه دولتی رسولیان (دوره اول)
آزمون: مطالعات اجتماعی	نهم: ۹۹/۳/۲۲
زمان: ۶۰ دقیقه	
۱	انقلاب مشروطه در زمان ناصرالدین شاه در ایران شکل گرفت <input type="checkbox"/> صحیح <input type="checkbox"/> غلط
۲	هدف حکومت پهلوی از قانون انجمن ایالتی و ولایتی تضعیف هویت اسلامی جامعه ایران بود. <input type="checkbox"/> صحیح <input type="checkbox"/> غلط
۳	اجتماعی شدن فرایندی است که از بزرگسالی شروع و تا پایان عمر ادامه دارد. <input type="checkbox"/> صحیح <input type="checkbox"/> غلط
۴	امروزه زنان نیز با فعالیت های اقتصادی در رفع نیازهای خانواده مشارکت و همراهی دارند. <input type="checkbox"/> صحیح <input type="checkbox"/> غلط
۵	قرارداد ۱۹۱۹ بین ایران و کدام کشور بسته شد؟ الف) روسیه <input type="checkbox"/> ب) آمریکا <input type="checkbox"/> ج) انگلستان <input type="checkbox"/> د) فرانسه <input type="checkbox"/>
۶	در نظام جمهوری اسلامی ایران، اولین دوره انتخابات مجلس شورای اسلامی در چه تاریخی برگزار شد؟ الف) بهمن ۱۳۵۸ <input type="checkbox"/> ب) اسفند ۸ ۱۳۵۸ <input type="checkbox"/> ج) اسفند ۱۳۵۷ <input type="checkbox"/> د) آذرماه ۱۳۵۸ <input type="checkbox"/>
۷	کدام گزینه ویژگی هویت فردی-روانی است؟ الف) عضویت در گروه نمایش مدرسه <input type="checkbox"/> ب) داشتن گروه خونی <input type="checkbox"/> ج) داشتن ملیت ایرانی <input type="checkbox"/> د) داشتن علاقه به هنر <input type="checkbox"/>
۸	هریک از گزینه های سمت راست مربوط که کدام گزینه سمت چپ می باشد؟ ( ربط دهید ) الف) نشانه یا نماینده یک پدیده دیگر است ب) همه عادت ها، آداب و رسوم اجتماعی یک جامعه ج) اموری را خوب و مطلوب و مثبت تلقی کنیم هنجار نماد عقاید ارزش
۹	زمینه های فکری و فرهنگی داخلی انقلاب مشروطه را بنویسید
۱۰	از هدف اصلی نیروهای متفکین از اشغال ایران چه بود.
۱۱	منظور از ارزش های اجتماعی چیست؟
۱۲	حق کاپیتولاسیون را شرح دهید.



۱	اجتماعی شدن یا جامعه پذیری را تعریف کنید.	۱۳
۱	مهمترین دلایل پیروی از هنجارها چیست؟ دو مورد	۱۴
۱	دو مورد از کارکرد های خانواده را بیان کنید.	۱۵
۱	ویژگی های انتسابی را با ذکر مثال توضیح دهید؟	۱۶

### درس ۱ تا ۵ اختیاری ۷ نمره

۱/۵	همه ی مردم کشورهایی که در شرق گرینویچ قرار دارند خورشید را زودتر می بینند <input type="checkbox"/> ص <input type="checkbox"/> غ	۱
۰/۵	در اوایل تیر ماه خورشید در نیمکره ی شمالی به مدار راس السرطان عمود می تابد که به آن ..... می گویند.	۲
۰/۵	هر نقطه از کره زمین روی یک مدار و یک نصف النهار قرار دارد که به آن ..... آن منطقه می گویند الف) مختصات جغرافیایی <input type="checkbox"/> ب) طول جغرافیایی <input type="checkbox"/> ج) مدار <input type="checkbox"/> د) حرکت انتقالی <input type="checkbox"/>	۳
۰/۵	هر یک از رویدادهای زیر مربوط به کدام یک از حرکت های زمین است؟ الف) پیدایش فصلها ..... ب) اختلاف ساعت.....	۴
۰/۵	سیاره ای که روی آن زندگی می کنیم از چهار محیط تشکیل شده است. <input type="checkbox"/> ص <input type="checkbox"/> غ	۵
۰/۵	بعد از فلات قاره شیب زیاد می شود و تا عمق ۲۰۰۰ تا ۵۰۰۰ متری ادامه می یابد به این بخش ..... می گویند.	۶
۰/۵	به بخش خارجی کره ی زمین یا پوسته ی آن که حالت جامد دارد چه می گویند؟ الف) لیتوسفر <input type="checkbox"/> ب) هیدروسفر <input type="checkbox"/> ج) اتمسفر <input type="checkbox"/> د) بیوسفر <input type="checkbox"/>	۷
۱	چرا سفر به اقیانوسها دشوارتر از صعود به قله هاست؟ ( دو دلیل ذکر کنید)	۸
۰/۵	بیابان گبی که اطراف آن را کوه فرا گرفته است جزء بیابانهای سرد جهان محسوب می شود. <input type="checkbox"/> ص <input type="checkbox"/> غ	۹

۱	یک ناحیه وسیع جغرافیایی که در آن انواع خاصی از گیاهان و جانوران زندگی میکنند را ..... می گویند.	۱۰
۰/۵	مهمترین و بیشترین عامل تاثیر تنوع در زیست بومها کدام است. الف) آب و هوا <input type="checkbox"/> ب) جنس خاک <input type="checkbox"/> ج) شکل ناهمواریها <input type="checkbox"/> د) میزان ارتفاع زمین <input type="checkbox"/>	۱۱
۰/۵	یکی از زیست بومها هستیم که در مجاورت خط استوا و در چند قاره گسترده شده ام در من هوا همیشه گرم و رطوبت حدود ۸۰ درصد و میزان بارندگی سالیانه ۲۵۰۰ میلی متر است. نام مرا بنویس؟.....	۱۲

## درس ۲۰ تا ۲۴ اختیاری ۷ نمره

۰/۵	امروزه صاحب نظران معتقدند تک فرزندی هم برای خانواده و هم برای اجتماع مفید است. صحیح <input type="checkbox"/> غلط <input type="checkbox"/>	۱
۰/۵	فرهنگ نقش مهمی در افزایش بهره وری در یک جامعه دارد. صحیح <input type="checkbox"/> غلط <input type="checkbox"/>	۲
۰/۵	کدام گزینه از مهم ترین تکالیف شهروندی نیست؟ الف) همکاری با دولت <input type="checkbox"/> ب) حق مشارکت سیاسی <input type="checkbox"/> ج) امر به معروف و نهی از منکر <input type="checkbox"/> د) دفاع از کشور <input type="checkbox"/>	۳
۰/۵	در اقتصاد بهره وری را نسبت ..... به داده ها تعریف کرده اند الف) سرمایه <input type="checkbox"/> ب) نهاد <input type="checkbox"/> ج) فرایند <input type="checkbox"/> د) ستانده <input type="checkbox"/>	۴
۱	دو مورد از عواملی که موجب ناسازگاری زن و مرد می شوند را بیان کنید	۵
۱	دومورد از وظایف حکومت ها را بیان کنید	۶
۱	مالیات چیست؟	۷
۱	بهره وری را تعریف کنید و یک مورد از روش های بهره وری در گذشته را نام ببرید.	۸
۱	منظور از بهره وری سبز در تولید چیست؟	۹

بنام خداوند جان و خرد	
نام و نام خانوادگی:	وزارت آموزش و پرورش
نام پدر:	اداره کل آموزش و پرورش استان یزد
کلاس:	مدیریت آموزش و پرورش ناحیه یک دبیرستان نمونه دولتی رسولیان (دوره اول)
آزمون: مطالعات اجتماعی	نهم: ۹۹/۳/۲۲
زمان: ۶۰ دقیقه	
۱	انقلاب مشروطه در زمان ناصر الدین شاه در ایران شکل گرفت <input type="checkbox"/> صحیح <input type="checkbox"/> غلط
۲	هدف حکومت پهلوی از قانون انجمن ایالتی و ولایتی تضعیف هویت اسلامی جامعه ایران بود. <input type="checkbox"/> صحیح <input type="checkbox"/> غلط
۳	اجتماعی شدن فرایندی است که از بزرگسالی شروع و تا پایان عمر ادامه دارد. <input type="checkbox"/> صحیح <input type="checkbox"/> غلط
۴	امروزه زنان نیز با فعالیت های اقتصادی در رفع نیازهای خانواده مشارکت و همراهی دارند. <input type="checkbox"/> صحیح <input type="checkbox"/> غلط
۵	قرارداد ۱۹۱۹ بین ایران و کدام کشور بسته شد؟ الف) روسیه <input type="checkbox"/> ب) آمریکا <input type="checkbox"/> ج) انگلستان <input type="checkbox"/> د) فرانسه <input type="checkbox"/>
۶	در نظام جمهوری اسلامی ایران ، اولین دوره انتخابات مجلس شورای اسلامی در چه تاریخی برگزار شد؟ الف) بهمن ۱۳۵۸ <input type="checkbox"/> ب) اسفند ۸ ۱۳۵۸ <input type="checkbox"/> ج) اسفند ۱۳۵۷ <input type="checkbox"/> د) آذرماه ۱۳۵۸ <input type="checkbox"/>
۷	کدام گزینه ویژگی هویت فردی-روانی است؟ الف) عضویت در گروه نمایش مدرسه <input type="checkbox"/> ب) داشتن گروه خونی <input type="checkbox"/> ج) داشتن ملیت ایرانی <input type="checkbox"/> د) داشتن علاقه به هنر <input type="checkbox"/>
۸	هریک از گزینه های سمت راست مربوط که کدام گزینه سمت چپ می باشد؟ ( ربط دهید ) الف) نشانه یا نماینده یک پدیده دیگر است ب) همه عادت ها ، آداب و رسوم اجتماعی یک جامعه ج) اموری را خوب و مطلوب و مثبت تلقی کنیم هنجار نماد عقاید ارزش
۹	زمینه های فکری و فرهنگی داخلی انقلاب مشروطه را بنویسید
۱۰	از هدف اصلی نیروهای متفکین از اشغال ایران چه بود.
۱۱	منظور از ارزش های اجتماعی چیست؟
۱۲	حق کاپیتولاسیون را شرح دهید.

۱	اجتماعی شدن یا جامعه پذیری را تعریف کنید.	۱۳
۱	مهمترین دلایل پیروی از هنجارها چیست؟ دو مورد	۱۴
۱	دو مورد از کارکرد های خانواده را بیان کنید.	۱۵
۱	ویژگی های انتسابی را با ذکر مثال توضیح دهید؟	۱۶

### درس ۱ تا ۵ اختیاری ۷ نمره

۱/۵	همه ی مردم کشورهایی که در شرق گرینویچ قرار دارند خورشید را زودتر می بینند <input type="checkbox"/> ص <input type="checkbox"/> غ	۱
۰/۵	در اوایل تیر ماه خورشید در نیمکره ی شمالی به مدار راس السرطان عمود می تابد که به آن ..... می گویند.	۲
۰/۵	هر نقطه از کره زمین روی یک مدار و یک نصف النهار قرار دارد که به آن ..... آن منطقه می گویند الف) مختصات جغرافیایی <input type="checkbox"/> ب) طول جغرافیایی <input type="checkbox"/> ج) مدار <input type="checkbox"/> د) حرکت انتقالی <input type="checkbox"/>	۳
۰/۵	هر یک از رویدادهای زیر مربوط به کدام یک از حرکت های زمین است؟ الف) پیدایش فصلها ..... ب) اختلاف ساعت.....	۴
۰/۵	سیاره ای که روی آن زندگی می کنیم از چهار محیط تشکیل شده است. <input type="checkbox"/> ص <input type="checkbox"/> غ	۵
۰/۵	بعد از فلات قاره شیب زیاد می شود و تا عمق ۲۰۰۰ تا ۵۰۰۰ متری ادامه می یابد به این بخش ..... می گویند.	۶
۰/۵	به بخش خارجی کره ی زمین یا پوسته ی آن که حالت جامد دارد چه می گویند؟ الف) لیتوسفر <input type="checkbox"/> ب) هیدروسفر <input type="checkbox"/> ج) اتمسفر <input type="checkbox"/> د) بیوسفر <input type="checkbox"/>	۷
۱	چرا سفر به اقیانوسها دشوارتر از صعود به قله هاست؟ ( دو دلیل ذکر کنید)	۸
۰/۵	بیابان گبی که اطراف آن را کوه فرا گرفته است جزء بیابانهای سرد جهان محسوب می شود. <input type="checkbox"/> ص <input type="checkbox"/> غ	۹

۱	یک ناحیه وسیع جغرافیایی که در آن انواع خاصی از گیاهان و جانوران زندگی میکنند را ..... می گویند.	۱۰
۰/۵	مهمترین و بیشترین عامل تاثیر تنوع در زیست بومها کدام است. الف) آب و هوا <input type="checkbox"/> ب) جنس خاک <input type="checkbox"/> ج) شکل ناهمواریها <input type="checkbox"/> د) میزان ارتفاع زمین <input type="checkbox"/>	۱۱
۰/۵	یکی از زیست بومها هستیم که در مجاورت خط استوا و در چند قاره گسترده شده ام در من هوا همیشه گرم و رطوبت حدود ۸۰ درصد و میزان بارندگی سالیانه ۲۵۰۰ میلی متر است. نام مرا بنویس؟.....	۱۲

## درس ۲۰ تا ۲۴ اختیاری ۷ نمره

۰/۵	امروزه صاحب نظران معتقدند تک فرزندی هم برای خانواده و هم برای اجتماع مفید است. صحیح <input type="checkbox"/> غلط <input type="checkbox"/>	۱
۰/۵	فرهنگ نقش مهمی در افزایش بهره وری در یک جامعه دارد. صحیح <input type="checkbox"/> غلط <input type="checkbox"/>	۲
۰/۵	کدام گزینه از مهم ترین تکالیف شهروندی نیست؟ الف) همکاری با دولت <input type="checkbox"/> ب) حق مشارکت سیاسی <input type="checkbox"/> ج) امر به معروف و نهی از منکر <input type="checkbox"/> د) دفاع از کشور <input type="checkbox"/>	۳
۰/۵	در اقتصاد بهره وری را نسبت ..... به داده ها تعریف کرده اند الف) سرمایه <input type="checkbox"/> ب) نهاد <input type="checkbox"/> ج) فرایند <input type="checkbox"/> د) ستانده <input type="checkbox"/>	۴
۱	دو مورد از عواملی که موجب ناسازگاری زن و مرد می شوند را بیان کنید	۵
۱	دومورد از وظایف حکومت ها را بیان کنید	۶
۱	مالیات چیست؟	۷
۱	بهره وری را تعریف کنید و یک مورد از روش های بهره وری در گذشته را نام ببرید.	۸
۱	منظور از بهره وری سبز در تولید چیست؟	۹

بنام خداوند جان و خرد	
نام و نام خانوادگی:	وزارت آموزش و پرورش
نام پدر:	اداره کل آموزش و پرورش استان یزد
کلاس:	مدیریت آموزش و پرورش ناحیه یک دبیرستان نمونه دولتی رسولیان (دوره اول)
آزمون: مطالعات اجتماعی	نهم: ۹۹/۳/۲۲
زمان: ۶۰ دقیقه	
۱	انقلاب مشروطه در زمان ناصر الدین شاه در ایران شکل گرفت <input type="checkbox"/> صحیح <input type="checkbox"/> غلط
۲	هدف حکومت پهلوی از قانون انجمن ایالتی و ولایتی تضعیف هویت اسلامی جامعه ایران بود. <input type="checkbox"/> صحیح <input type="checkbox"/> غلط
۳	اجتماعی شدن فرایندی است که از بزرگسالی شروع و تا پایان عمر ادامه دارد. <input type="checkbox"/> صحیح <input type="checkbox"/> غلط
۴	امروزه زنان نیز با فعالیت های اقتصادی در رفع نیازهای خانواده مشارکت و همراهی دارند. <input type="checkbox"/> صحیح <input type="checkbox"/> غلط
۵	قرارداد ۱۹۱۹ بین ایران و کدام کشور بسته شد؟ الف) روسیه <input type="checkbox"/> ب) آمریکا <input type="checkbox"/> ج) انگلستان <input type="checkbox"/> د) فرانسه <input type="checkbox"/>
۶	در نظام جمهوری اسلامی ایران ، اولین دوره انتخابات مجلس شورای اسلامی در چه تاریخی برگزار شد؟ الف) بهمن ۱۳۵۸ <input type="checkbox"/> ب) اسفند ۸ ۱۳۵۸ <input type="checkbox"/> ج) اسفند ۱۳۵۷ <input type="checkbox"/> د) آذرماه ۱۳۵۸ <input type="checkbox"/>
۷	کدام گزینه ویژگی هویت فردی-روانی است؟ الف) عضویت در گروه نمایش مدرسه <input type="checkbox"/> ب) داشتن گروه خونی <input type="checkbox"/> ج) داشتن ملیت ایرانی <input type="checkbox"/> د) داشتن علاقه به هنر <input type="checkbox"/>
۸	هریک از گزینه های سمت راست مربوط که کدام گزینه سمت چپ می باشد؟ ( ربط دهید ) الف) نشانه یا نماینده یک پدیده دیگر است ب) همه عادت ها ، آداب و رسوم اجتماعی یک جامعه ج) اموری را خوب و مطلوب و مثبت تلقی کنیم هنجار نماد عقاید ارزش
۹	زمینه های فکری و فرهنگی داخلی انقلاب مشروطه را بنویسید
۱۰	از هدف اصلی نیروهای متفکین از اشغال ایران چه بود.
۱۱	منظور از ارزش های اجتماعی چیست؟
۱۲	حق کاپیتولاسیون را شرح دهید.

۱	اجتماعی شدن یا جامعه پذیری را تعریف کنید.	۱۳
۱	مهمترین دلایل پیروی از هنجارها چیست؟ دو مورد	۱۴
۱	دو مورد از کارکرد های خانواده را بیان کنید.	۱۵
۱	ویژگی های انتسابی را با ذکر مثال توضیح دهید؟	۱۶

### درس ۱ تا ۵ اختیاری ۷ نمره

۱/۵	همه ی مردم کشورهایی که در شرق گرینویچ قرار دارند خورشید را زودتر می بینند <input type="checkbox"/> ص <input type="checkbox"/> غ	۱
۰/۵	در اوایل تیر ماه خورشید در نیمکره ی شمالی به مدار راس السرطان عمود می تابد که به آن ..... می گویند.	۲
۰/۵	هر نقطه از کره زمین روی یک مدار و یک نصف النهار قرار دارد که به آن ..... آن منطقه می گویند الف) مختصات جغرافیایی <input type="checkbox"/> ب) طول جغرافیایی <input type="checkbox"/> ج) مدار <input type="checkbox"/> د) حرکت انتقالی <input type="checkbox"/>	۳
۰/۵	هر یک از رویدادهای زیر مربوط به کدام یک از حرکت های زمین است؟ الف) پیدایش فصلها ..... ب) اختلاف ساعت.....	۴
۰/۵	سیاره ای که روی آن زندگی می کنیم از چهار محیط تشکیل شده است. <input type="checkbox"/> ص <input type="checkbox"/> غ	۵
۰/۵	بعد از فلات قاره شیب زیاد می شود و تا عمق ۲۰۰۰ تا ۵۰۰۰ متری ادامه می یابد به این بخش ..... می گویند.	۶
۰/۵	به بخش خارجی کره ی زمین یا پوسته ی آن که حالت جامد دارد چه می گویند؟ الف) لیتوسفر <input type="checkbox"/> ب) هیدروسفر <input type="checkbox"/> ج) اتمسفر <input type="checkbox"/> د) بیوسفر <input type="checkbox"/>	۷
۱	چرا سفر به اقیانوسها دشوارتر از صعود به قله هاست؟ ( دو دلیل ذکر کنید)	۸
۰/۵	بیابان گبی که اطراف آن را کوه فرا گرفته است جزء بیابانهای سرد جهان محسوب می شود. <input type="checkbox"/> ص <input type="checkbox"/> غ	۹

۱	یک ناحیه وسیع جغرافیایی که در آن انواع خاصی از گیاهان و جانوران زندگی میکنند را ..... می گویند.	۱۰
۰/۵	مهمترین و بیشترین عامل تاثیر تنوع در زیست بومها کدام است. الف) آب و هوا <input type="checkbox"/> ب) جنس خاک <input type="checkbox"/> ج) شکل ناهمواریها <input type="checkbox"/> د) میزان ارتفاع زمین <input type="checkbox"/>	۱۱
۰/۵	یکی از زیست بومها هستیم که در مجاورت خط استوا و در چند قاره گسترده شده ام در من هوا همیشه گرم و رطوبت حدود ۸۰ درصد و میزان بارندگی سالیانه ۲۵۰۰ میلی متر است. نام مرا بنویس؟.....	۱۲

## درس ۲۰ تا ۲۴ اختیاری ۷ نمره

۰/۵	امروزه صاحب نظران معتقدند تک فرزندی هم برای خانواده و هم برای اجتماع مفید است. صحیح <input type="checkbox"/> غلط <input type="checkbox"/>	۱
۰/۵	فرهنگ نقش مهمی در افزایش بهره وری در یک جامعه دارد. صحیح <input type="checkbox"/> غلط <input type="checkbox"/>	۲
۰/۵	کدام گزینه از مهم ترین تکالیف شهروندی نیست؟ الف) همکاری با دولت <input type="checkbox"/> ب) حق مشارکت سیاسی <input type="checkbox"/> ج) امر به معروف و نهی از منکر <input type="checkbox"/> د) دفاع از کشور <input type="checkbox"/>	۳
۰/۵	در اقتصاد بهره وری را نسبت ..... به داده ها تعریف کرده اند الف) سرمایه <input type="checkbox"/> ب) نهاد <input type="checkbox"/> ج) فرایند <input type="checkbox"/> د) ستانده <input type="checkbox"/>	۴
۱	دو مورد از عواملی که موجب ناسازگاری زن و مرد می شوند را بیان کنید	۵
۱	دومورد از وظایف حکومت ها را بیان کنید	۶
۱	مالیات چیست؟	۷
۱	بهره وری را تعریف کنید و یک مورد از روش های بهره وری در گذشته را نام ببرید.	۸
۱	منظور از بهره وری سبز در تولید چیست؟	۹



بنام خداوند جان و خرد	
نام و نام خانوادگی:	وزارت آموزش و پرورش
نام پدر:	اداره کل آموزش و پرورش استان یزد
کلاس:	مدیریت آموزش و پرورش ناحیه یک دبیرستان نمونه دولتی رسولیان (دوره اول)
آزمون: مطالعات اجتماعی	نهم: ۹۹/۳/۲۲
زمان: ۶۰ دقیقه	
۱	انقلاب مشروطه در زمان ناصر الدین شاه در ایران شکل گرفت <input type="checkbox"/> صحیح <input type="checkbox"/> غلط
۲	هدف حکومت پهلوی از قانون انجمن ایالتی و ولایتی تضعیف هویت اسلامی جامعه ایران بود. <input type="checkbox"/> صحیح <input type="checkbox"/> غلط
۳	اجتماعی شدن فرایندی است که از بزرگسالی شروع و تا پایان عمر ادامه دارد. <input type="checkbox"/> صحیح <input type="checkbox"/> غلط
۴	امروزه زنان نیز با فعالیت های اقتصادی در رفع نیازهای خانواده مشارکت و همراهی دارند. <input type="checkbox"/> صحیح <input type="checkbox"/> غلط
۵	قرارداد ۱۹۱۹ بین ایران و کدام کشور بسته شد؟ الف) روسیه <input type="checkbox"/> ب) آمریکا <input type="checkbox"/> ج) انگلستان <input type="checkbox"/> د) فرانسه <input type="checkbox"/>
۶	در نظام جمهوری اسلامی ایران ، اولین دوره انتخابات مجلس شورای اسلامی در چه تاریخی برگزار شد؟ الف) بهمن ۱۳۵۸ <input type="checkbox"/> ب) اسفند ۸ ۱۳۵۸ <input type="checkbox"/> ج) اسفند ۱۳۵۷ <input type="checkbox"/> د) آذرماه ۱۳۵۸ <input type="checkbox"/>
۷	کدام گزینه ویژگی هویت فردی-روانی است؟ الف) عضویت در گروه نمایش مدرسه <input type="checkbox"/> ب) داشتن گروه خونی <input type="checkbox"/> ج) داشتن ملیت ایرانی <input type="checkbox"/> د) داشتن علاقه به هنر <input type="checkbox"/>
۸	هریک از گزینه های سمت راست مربوط که کدام گزینه سمت چپ می باشد؟ ( ربط دهید ) الف) نشانه یا نماینده یک پدیده دیگر است ب) همه عادت ها ، آداب و رسوم اجتماعی یک جامعه ج) اموری را خوب و مطلوب و مثبت تلقی کنیم هنجار نماد عقاید ارزش
۹	زمینه های فکری و فرهنگی داخلی انقلاب مشروطه را بنویسید
۱۰	از هدف اصلی نیروهای متفکین از اشغال ایران چه بود.
۱۱	منظور از ارزش های اجتماعی چیست؟
۱۲	حق کاپیتولاسیون را شرح دهید.

۱	اجتماعی شدن یا جامعه پذیری را تعریف کنید.	۱۳
۱	مهمترین دلایل پیروی از هنجارها چیست؟ دو مورد	۱۴
۱	دو مورد از کارکرد های خانواده را بیان کنید.	۱۵
۱	ویژگی های انتسابی را با ذکر مثال توضیح دهید؟	۱۶

### درس ۱ تا ۵ اختیاری ۷ نمره

۱/۵	همه ی مردم کشورهایی که در شرق گرینویچ قرار دارند خورشید را زودتر می بینند <input type="checkbox"/> ص <input type="checkbox"/> غ	۱
۰/۵	در اوایل تیر ماه خورشید در نیمکره ی شمالی به مدار راس السرطان عمود می تابد که به آن ..... می گویند.	۲
۰/۵	هر نقطه از کره زمین روی یک مدار و یک نصف النهار قرار دارد که به آن ..... آن منطقه می گویند الف) مختصات جغرافیایی <input type="checkbox"/> ب) طول جغرافیایی <input type="checkbox"/> ج) مدار <input type="checkbox"/> د) حرکت انتقالی <input type="checkbox"/>	۳
۰/۵	هر یک از رویدادهای زیر مربوط به کدام یک از حرکت های زمین است؟ الف) پیدایش فصلها ..... ب) اختلاف ساعت.....	۴
۰/۵	سیاره ای که روی آن زندگی می کنیم از چهار محیط تشکیل شده است. <input type="checkbox"/> ص <input type="checkbox"/> غ	۵
۰/۵	بعد از فلات قاره شیب زیاد می شود و تا عمق ۲۰۰۰ تا ۵۰۰۰ متری ادامه می یابد به این بخش ..... می گویند.	۶
۰/۵	به بخش خارجی کره ی زمین یا پوسته ی آن که حالت جامد دارد چه می گویند؟ الف) لیتوسفر <input type="checkbox"/> ب) هیدروسفر <input type="checkbox"/> ج) اتمسفر <input type="checkbox"/> د) بیوسفر <input type="checkbox"/>	۷
۱	چرا سفر به اقیانوسها دشوارتر از صعود به قله هاست؟ ( دو دلیل ذکر کنید)	۸
۰/۵	بیابان گبی که اطراف آن را کوه فرا گرفته است جزء بیابانهای سرد جهان محسوب می شود. <input type="checkbox"/> ص <input type="checkbox"/> غ	۹

۱	یک ناحیه وسیع جغرافیایی که در آن انواع خاصی از گیاهان و جانوران زندگی میکنند را ..... می گویند.	۱۰
۰/۵	مهمترین و بیشترین عامل تاثیر تنوع در زیست بومها کدام است. الف) آب و هوا <input type="checkbox"/> ب) جنس خاک <input type="checkbox"/> ج) شکل ناهمواریها <input type="checkbox"/> د) میزان ارتفاع زمین <input type="checkbox"/>	۱۱
۰/۵	یکی از زیست بومها هستیم که در مجاورت خط استوا و در چند قاره گسترده شده ام در من هوا همیشه گرم و رطوبت حدود ۸۰ درصد و میزان بارندگی سالیانه ۲۵۰۰ میلی متر است. نام مرا بنویس؟.....	۱۲

## درس ۲۰ تا ۲۴ اختیاری ۷ نمره

۰/۵	امروزه صاحب نظران معتقدند تک فرزندی هم برای خانواده و هم برای اجتماع مفید است. صحیح <input type="checkbox"/> غلط <input type="checkbox"/>	۱
۰/۵	فرهنگ نقش مهمی در افزایش بهره وری در یک جامعه دارد. صحیح <input type="checkbox"/> غلط <input type="checkbox"/>	۲
۰/۵	کدام گزینه از مهم ترین تکالیف شهروندی نیست؟ الف) همکاری با دولت <input type="checkbox"/> ب) حق مشارکت سیاسی <input type="checkbox"/> ج) امر به معروف و نهی از منکر <input type="checkbox"/> د) دفاع از کشور <input type="checkbox"/>	۳
۰/۵	در اقتصاد بهره وری را نسبت ..... به داده ها تعریف کرده اند الف) سرمایه <input type="checkbox"/> ب) نهاد <input type="checkbox"/> ج) فرایند <input type="checkbox"/> د) ستانده <input type="checkbox"/>	۴
۱	دو مورد از عواملی که موجب ناسازگاری زن و مرد می شوند را بیان کنید	۵
۱	دومورد از وظایف حکومت ها را بیان کنید	۶
۱	مالیات چیست؟	۷
۱	بهره وری را تعریف کنید و یک مورد از روش های بهره وری در گذشته را نام ببرید.	۸
۱	منظور از بهره وری سبز در تولید چیست؟	۹

بنام خداوند جان و خرد	
نام و نام خانوادگی:	وزارت آموزش و پرورش
نام پدر:	اداره کل آموزش و پرورش استان یزد
کلاس:	مدیریت آموزش و پرورش ناحیه یک دبیرستان نمونه دولتی رسولیان (دوره اول)
آزمون: مطالعات اجتماعی	نهم: ۹۹/۳/۲۲
زمان: ۶۰ دقیقه	
۱	انقلاب مشروطه در زمان ناصر الدین شاه در ایران شکل گرفت <input type="checkbox"/> صحیح <input type="checkbox"/> غلط
۲	هدف حکومت پهلوی از قانون انجمن ایالتی و ولایتی تضعیف هویت اسلامی جامعه ایران بود. <input type="checkbox"/> صحیح <input type="checkbox"/> غلط
۳	اجتماعی شدن فرایندی است که از بزرگسالی شروع و تا پایان عمر ادامه دارد. <input type="checkbox"/> صحیح <input type="checkbox"/> غلط
۴	امروزه زنان نیز با فعالیت های اقتصادی در رفع نیازهای خانواده مشارکت و همراهی دارند. <input type="checkbox"/> صحیح <input type="checkbox"/> غلط
۵	قرارداد ۱۹۱۹ بین ایران و کدام کشور بسته شد؟ الف) روسیه <input type="checkbox"/> ب) آمریکا <input type="checkbox"/> ج) انگلستان <input type="checkbox"/> د) فرانسه <input type="checkbox"/>
۶	در نظام جمهوری اسلامی ایران ، اولین دوره انتخابات مجلس شورای اسلامی در چه تاریخی برگزار شد؟ الف) بهمن ۱۳۵۸ <input type="checkbox"/> ب) اسفند ۸ ۱۳۵۸ <input type="checkbox"/> ج) اسفند ۱۳۵۷ <input type="checkbox"/> د) آذرماه ۱۳۵۸ <input type="checkbox"/>
۷	کدام گزینه ویژگی هویت فردی-روانی است؟ الف) عضویت در گروه نمایش مدرسه <input type="checkbox"/> ب) داشتن گروه خونی <input type="checkbox"/> ج) داشتن ملیت ایرانی <input type="checkbox"/> د) داشتن علاقه به هنر <input type="checkbox"/>
۸	هریک از گزینه های سمت راست مربوط که کدام گزینه سمت چپ می باشد؟ ( ربط دهید ) الف) نشانه یا نماینده یک پدیده دیگر است ب) همه عادت ها ، آداب و رسوم اجتماعی یک جامعه ج) اموری را خوب و مطلوب و مثبت تلقی کنیم هنجار نماد عقاید ارزش
۹	زمینه های فکری و فرهنگی داخلی انقلاب مشروطه را بنویسید
۱۰	از هدف اصلی نیروهای متفکین از اشغال ایران چه بود.
۱۱	منظور از ارزش های اجتماعی چیست؟
۱۲	حق کاپیتولاسیون را شرح دهید.

۱	اجتماعی شدن یا جامعه پذیری را تعریف کنید.	۱۳
۱	مهمترین دلایل پیروی از هنجارها چیست؟ دو مورد	۱۴
۱	دو مورد از کارکرد های خانواده را بیان کنید.	۱۵
۱	ویژگی های انتسابی را با ذکر مثال توضیح دهید؟	۱۶

### درس ۱ تا ۵ اختیاری ۷ نمره

۱/۵	همه ی مردم کشورهایی که در شرق گرینویچ قرار دارند خورشید را زودتر می بینند <input type="checkbox"/> ص <input type="checkbox"/> غ	۱
۰/۵	در اوایل تیر ماه خورشید در نیمکره ی شمالی به مدار راس السرطان عمود می تابد که به آن ..... می گویند.	۲
۰/۵	هر نقطه از کره زمین روی یک مدار و یک نصف النهار قرار دارد که به آن ..... آن منطقه می گویند الف) مختصات جغرافیایی <input type="checkbox"/> ب) طول جغرافیایی <input type="checkbox"/> ج) مدار <input type="checkbox"/> د) حرکت انتقالی <input type="checkbox"/>	۳
۰/۵	هر یک از رویدادهای زیر مربوط به کدام یک از حرکت های زمین است؟ الف) پیدایش فصلها ..... ب) اختلاف ساعت.....	۴
۰/۵	سیاره ای که روی آن زندگی می کنیم از چهار محیط تشکیل شده است. <input type="checkbox"/> ص <input type="checkbox"/> غ	۵
۰/۵	بعد از فلات قاره شیب زیاد می شود و تا عمق ۲۰۰۰ تا ۵۰۰۰ متری ادامه می یابد به این بخش ..... می گویند.	۶
۰/۵	به بخش خارجی کره ی زمین یا پوسته ی آن که حالت جامد دارد چه می گویند؟ الف) لیتوسفر <input type="checkbox"/> ب) هیدروسفر <input type="checkbox"/> ج) اتمسفر <input type="checkbox"/> د) بیوسفر <input type="checkbox"/>	۷
۱	چرا سفر به اقیانوسها دشوارتر از صعود به قله هاست؟ ( دو دلیل ذکر کنید)	۸
۰/۵	بیابان گبی که اطراف آن را کوه فرا گرفته است جزء بیابانهای سرد جهان محسوب می شود. <input type="checkbox"/> ص <input type="checkbox"/> غ	۹

۱	یک ناحیه وسیع جغرافیایی که در آن انواع خاصی از گیاهان و جانوران زندگی میکنند را ..... می گویند.	۱۰
۰/۵	مهمترین و بیشترین عامل تاثیر تنوع در زیست بومها کدام است. الف) آب و هوا <input type="checkbox"/> ب) جنس خاک <input type="checkbox"/> ج) شکل ناهمواریها <input type="checkbox"/> د) میزان ارتفاع زمین <input type="checkbox"/>	۱۱
۰/۵	یکی از زیست بومها هستیم که در مجاورت خط استوا و در چند قاره گسترده شده ام در من هوا همیشه گرم و رطوبت حدود ۸۰ درصد و میزان بارندگی سالیانه ۲۵۰۰ میلی متر است. نام مرا بنویس؟.....	۱۲

## درس ۲۰ تا ۲۴ اختیاری ۷ نمره

۰/۵	امروزه صاحب نظران معتقدند تک فرزندی هم برای خانواده و هم برای اجتماع مفید است. صحیح <input type="checkbox"/> غلط <input type="checkbox"/>	۱
۰/۵	فرهنگ نقش مهمی در افزایش بهره وری در یک جامعه دارد. صحیح <input type="checkbox"/> غلط <input type="checkbox"/>	۲
۰/۵	کدام گزینه از مهم ترین تکالیف شهروندی نیست؟ الف) همکاری با دولت <input type="checkbox"/> ب) حق مشارکت سیاسی <input type="checkbox"/> ج) امر به معروف و نهی از منکر <input type="checkbox"/> د) دفاع از کشور <input type="checkbox"/>	۳
۰/۵	در اقتصاد بهره وری را نسبت ..... به داده ها تعریف کرده اند الف) سرمایه <input type="checkbox"/> ب) نهاد <input type="checkbox"/> ج) فرایند <input type="checkbox"/> د) ستانده <input type="checkbox"/>	۴
۱	دو مورد از عواملی که موجب ناسازگاری زن و مرد می شوند را بیان کنید	۵
۱	دومورد از وظایف حکومت ها را بیان کنید	۶
۱	مالیات چیست؟	۷
۱	بهره وری را تعریف کنید و یک مورد از روش های بهره وری در گذشته را نام ببرید.	۸
۱	منظور از بهره وری سبز در تولید چیست؟	۹

بنام خداوند جان و خرد	
نام و نام خانوادگی:	وزارت آموزش و پرورش
نام پدر:	اداره کل آموزش و پرورش استان یزد
کلاس:	مدیریت آموزش و پرورش ناحیه یک دبیرستان نمونه دولتی رسولیان (دوره اول)
آزمون: مطالعات اجتماعی	نهم: ۹۹/۳/۲۲
زمان: ۶۰ دقیقه	
۱	انقلاب مشروطه در زمان ناصر الدین شاه در ایران شکل گرفت <input type="checkbox"/> صحیح <input type="checkbox"/> غلط
۲	هدف حکومت پهلوی از قانون انجمن ایالتی و ولایتی تضعیف هویت اسلامی جامعه ایران بود. <input type="checkbox"/> صحیح <input type="checkbox"/> غلط
۳	اجتماعی شدن فرایندی است که از بزرگسالی شروع و تا پایان عمر ادامه دارد. <input type="checkbox"/> صحیح <input type="checkbox"/> غلط
۴	امروزه زنان نیز با فعالیت های اقتصادی در رفع نیازهای خانواده مشارکت و همراهی دارند. <input type="checkbox"/> صحیح <input type="checkbox"/> غلط
۵	قرارداد ۱۹۱۹ بین ایران و کدام کشور بسته شد؟ الف) روسیه <input type="checkbox"/> ب) آمریکا <input type="checkbox"/> ج) انگلستان <input type="checkbox"/> د) فرانسه <input type="checkbox"/>
۶	در نظام جمهوری اسلامی ایران ، اولین دوره انتخابات مجلس شورای اسلامی در چه تاریخی برگزار شد؟ الف) بهمن ۱۳۵۸ <input type="checkbox"/> ب) اسفند ۸ ۱۳۵۸ <input type="checkbox"/> ج) اسفند ۱۳۵۷ <input type="checkbox"/> د) آذرماه ۱۳۵۸ <input type="checkbox"/>
۷	کدام گزینه ویژگی هویت فردی-روانی است؟ الف) عضویت در گروه نمایش مدرسه <input type="checkbox"/> ب) داشتن گروه خونی <input type="checkbox"/> ج) داشتن ملیت ایرانی <input type="checkbox"/> د) داشتن علاقه به هنر <input type="checkbox"/>
۸	هریک از گزینه های سمت راست مربوط که کدام گزینه سمت چپ می باشد؟ ( ربط دهید ) الف) نشانه یا نماینده یک پدیده دیگر است ب) همه عادت ها ، آداب و رسوم اجتماعی یک جامعه ج) اموری را خوب و مطلوب و مثبت تلقی کنیم هنجار نماد عقاید ارزش
۹	زمینه های فکری و فرهنگی داخلی انقلاب مشروطه را بنویسید
۱۰	از هدف اصلی نیروهای متفکین از اشغال ایران چه بود.
۱۱	منظور از ارزش های اجتماعی چیست؟
۱۲	حق کاپیتولاسیون را شرح دهید.

۱	اجتماعی شدن یا جامعه پذیری را تعریف کنید.	۱۳
۱	مهمترین دلایل پیروی از هنجارها چیست؟ دو مورد	۱۴
۱	دو مورد از کارکرد های خانواده را بیان کنید.	۱۵
۱	ویژگی های انتسابی را با ذکر مثال توضیح دهید؟	۱۶
<b>درس ۱ تا ۵ اختیاری ۷ نمره</b>		
۱/۵	همه ی مردم کشورهایی که در شرق گرینویچ قرار دارند خورشید را زودتر می بینند <input type="checkbox"/> ص <input type="checkbox"/> غ	۱
۰/۵	در اوایل تیر ماه خورشید در نیمکره ی شمالی به مدار راس السرطان عمود می تابد که به آن ..... می گویند.	۲
۰/۵	هر نقطه از کره زمین روی یک مدار و یک نصف النهار قرار دارد که به آن ..... آن منطقه می گویند الف) مختصات جغرافیایی <input type="checkbox"/> ب) طول جغرافیایی <input type="checkbox"/> ج) مدار <input type="checkbox"/> د) حرکت انتقالی <input type="checkbox"/>	۳
۰/۵	هر یک از رویدادهای زیر مربوط به کدام یک از حرکت های زمین است؟ الف) پیدایش فصلها ..... ب) اختلاف ساعت.....	۴
۰/۵	سیاره ای که روی آن زندگی می کنیم از چهار محیط تشکیل شده است. <input type="checkbox"/> ص <input type="checkbox"/> غ	۵
۰/۵	بعد از فلات قاره شیب زیاد می شود و تا عمق ۲۰۰۰ تا ۵۰۰۰ متری ادامه می یابد به این بخش ..... می گویند.	۶
۰/۵	به بخش خارجی کره ی زمین یا پوسته ی آن که حالت جامد دارد چه می گویند؟ الف) لیتوسفر <input type="checkbox"/> ب) هیدروسفر <input type="checkbox"/> ج) اتمسفر <input type="checkbox"/> د) بیوسفر <input type="checkbox"/>	۷
۱	چرا سفر به اقیانوسها دشوارتر از صعود به قله هاست؟ ( دو دلیل ذکر کنید)	۸
۰/۵	بیابان گبی که اطراف آن را کوه فرا گرفته است جزء بیابانهای سرد جهان محسوب می شود. <input type="checkbox"/> ص <input type="checkbox"/> غ	۹



۱	یک ناحیه وسیع جغرافیایی که در آن انواع خاصی از گیاهان و جانوران زندگی میکنند را ..... می گویند.	۱۰
۰/۵	مهمترین و بیشترین عامل تاثیر تنوع در زیست بومها کدام است. الف) آب و هوا <input type="checkbox"/> ب) جنس خاک <input type="checkbox"/> ج) شکل ناهمواریها <input type="checkbox"/> د) میزان ارتفاع زمین <input type="checkbox"/>	۱۱
۰/۵	یکی از زیست بومها هستیم که در مجاورت خط استوا و در چند قاره گسترده شده ام در من هوا همیشه گرم و رطوبت حدود ۸۰ درصد و میزان بارندگی سالیانه ۲۵۰۰ میلی متر است. نام مرا بنویس؟.....	۱۲

## درس ۲۰ تا ۲۴ اختیاری ۷ نمره

۰/۵	امروزه صاحب نظران معتقدند تک فرزندی هم برای خانواده و هم برای اجتماع مفید است. صحیح <input type="checkbox"/> غلط <input type="checkbox"/>	۱
۰/۵	فرهنگ نقش مهمی در افزایش بهره وری در یک جامعه دارد. صحیح <input type="checkbox"/> غلط <input type="checkbox"/>	۲
۰/۵	کدام گزینه از مهم ترین تکالیف شهروندی نیست؟ الف) همکاری با دولت <input type="checkbox"/> ب) حق مشارکت سیاسی <input type="checkbox"/> ج) امر به معروف و نهی از منکر <input type="checkbox"/> د) دفاع از کشور <input type="checkbox"/>	۳
۰/۵	در اقتصاد بهره وری را نسبت ..... به داده ها تعریف کرده اند الف) سرمایه <input type="checkbox"/> ب) نهاد <input type="checkbox"/> ج) فرایند <input type="checkbox"/> د) ستانده <input type="checkbox"/>	۴
۱	دو مورد از عواملی که موجب ناسازگاری زن و مرد می شوند را بیان کنید	۵
۱	دومورد از وظایف حکومت ها را بیان کنید	۶
۱	مالیات چیست؟	۷
۱	بهره وری را تعریف کنید و یک مورد از روش های بهره وری در گذشته را نام ببرید.	۸
۱	منظور از بهره وری سبز در تولید چیست؟	۹

بنام خداوند جان و خرد	
نام و نام خانوادگی:	وزارت آموزش و پرورش
نام پدر:	اداره کل آموزش و پرورش استان یزد
کلاس:	مدیریت آموزش و پرورش ناحیه یک دبیرستان نمونه دولتی رسولیان (دوره اول)
آزمون: مطالعات اجتماعی	نهم: ۹۹/۳/۲۲
زمان: ۶۰ دقیقه	
۱	انقلاب مشروطه در زمان ناصر الدین شاه در ایران شکل گرفت <input type="checkbox"/> صحیح <input type="checkbox"/> غلط
۲	هدف حکومت پهلوی از قانون انجمن ایالتی و ولایتی تضعیف هویت اسلامی جامعه ایران بود. <input type="checkbox"/> صحیح <input type="checkbox"/> غلط
۳	اجتماعی شدن فرایندی است که از بزرگسالی شروع و تا پایان عمر ادامه دارد. <input type="checkbox"/> صحیح <input type="checkbox"/> غلط
۴	امروزه زنان نیز با فعالیت های اقتصادی در رفع نیازهای خانواده مشارکت و همراهی دارند. <input type="checkbox"/> صحیح <input type="checkbox"/> غلط
۵	قرارداد ۱۹۱۹ بین ایران و کدام کشور بسته شد؟ الف) روسیه <input type="checkbox"/> ب) آمریکا <input type="checkbox"/> ج) انگلستان <input type="checkbox"/> د) فرانسه <input type="checkbox"/>
۶	در نظام جمهوری اسلامی ایران ، اولین دوره انتخابات مجلس شورای اسلامی در چه تاریخی برگزار شد؟ الف) بهمن ۱۳۵۸ <input type="checkbox"/> ب) اسفند ۸ ۱۳۵۸ <input type="checkbox"/> ج) اسفند ۱۳۵۷ <input type="checkbox"/> د) آذرماه ۱۳۵۸ <input type="checkbox"/>
۷	کدام گزینه ویژگی هویت فردی-روانی است؟ الف) عضویت در گروه نمایش مدرسه <input type="checkbox"/> ب) داشتن گروه خونی <input type="checkbox"/> ج) داشتن ملیت ایرانی <input type="checkbox"/> د) داشتن علاقه به هنر <input type="checkbox"/>
۸	هریک از گزینه های سمت راست مربوط که کدام گزینه سمت چپ می باشد؟ ( ربط دهید ) الف) نشانه یا نماینده یک پدیده دیگر است ب) همه عادت ها ، آداب و رسوم اجتماعی یک جامعه ج) اموری را خوب و مطلوب و مثبت تلقی کنیم هنجار نماد عقاید ارزش
۹	زمینه های فکری و فرهنگی داخلی انقلاب مشروطه را بنویسید
۱۰	از هدف اصلی نیروهای متفکین از اشغال ایران چه بود.
۱۱	منظور از ارزش های اجتماعی چیست؟
۱۲	حق کاپیتولاسیون را شرح دهید.

۱	اجتماعی شدن یا جامعه پذیری را تعریف کنید.	۱۳
۱	مهمترین دلایل پیروی از هنجارها چیست؟ دو مورد	۱۴
۱	دو مورد از کارکرد های خانواده را بیان کنید.	۱۵
۱	ویژگی های انتسابی را با ذکر مثال توضیح دهید؟	۱۶

### درس ۱ تا ۵ اختیاری ۷ نمره

۱/۵	همه ی مردم کشورهایی که در شرق گرینویچ قرار دارند خورشید را زودتر می بینند <input type="checkbox"/> ص <input type="checkbox"/> غ	۱
۰/۵	در اوایل تیر ماه خورشید در نیمکره ی شمالی به مدار راس السرطان عمود می تابد که به آن ..... می گویند.	۲
۰/۵	هر نقطه از کره زمین روی یک مدار و یک نصف النهار قرار دارد که به آن ..... آن منطقه می گویند الف) مختصات جغرافیایی <input type="checkbox"/> ب) طول جغرافیایی <input type="checkbox"/> ج) مدار <input type="checkbox"/> د) حرکت انتقالی <input type="checkbox"/>	۳
۰/۵	هر یک از رویدادهای زیر مربوط به کدام یک از حرکت های زمین است؟ الف) پیدایش فصلها ..... ب) اختلاف ساعت.....	۴
۰/۵	سیاره ای که روی آن زندگی می کنیم از چهار محیط تشکیل شده است. <input type="checkbox"/> ص <input type="checkbox"/> غ	۵
۰/۵	بعد از فلات قاره شیب زیاد می شود و تا عمق ۲۰۰۰ تا ۵۰۰۰ متری ادامه می یابد به این بخش ..... می گویند.	۶
۰/۵	به بخش خارجی کره ی زمین یا پوسته ی آن که حالت جامد دارد چه می گویند؟ الف) لیتوسفر <input type="checkbox"/> ب) هیدروسفر <input type="checkbox"/> ج) اتمسفر <input type="checkbox"/> د) بیوسفر <input type="checkbox"/>	۷
۱	چرا سفر به اقیانوسها دشوارتر از صعود به قله هاست؟ ( دو دلیل ذکر کنید)	۸
۰/۵	بیابان گبی که اطراف آن را کوه فرا گرفته است جزء بیابانهای سرد جهان محسوب می شود. <input type="checkbox"/> ص <input type="checkbox"/> غ	۹

۱	یک ناحیه وسیع جغرافیایی که در آن انواع خاصی از گیاهان و جانوران زندگی میکنند را ..... می گویند.	۱۰
۰/۵	مهمترین و بیشترین عامل تاثیر تنوع در زیست بومها کدام است. الف) آب و هوا <input type="checkbox"/> ب) جنس خاک <input type="checkbox"/> ج) شکل ناهمواریها <input type="checkbox"/> د) میزان ارتفاع زمین <input type="checkbox"/>	۱۱
۰/۵	یکی از زیست بومها هستیم که در مجاورت خط استوا و در چند قاره گسترده شده ام در من هوا همیشه گرم و رطوبت حدود ۸۰ درصد و میزان بارندگی سالیانه ۲۵۰۰ میلی متر است. نام مرا بنویس؟.....	۱۲

## درس ۲۰ تا ۲۴ اختیاری ۷ نمره

۰/۵	امروزه صاحب نظران معتقدند تک فرزندی هم برای خانواده و هم برای اجتماع مفید است. صحیح <input type="checkbox"/> غلط <input type="checkbox"/>	۱
۰/۵	فرهنگ نقش مهمی در افزایش بهره وری در یک جامعه دارد. صحیح <input type="checkbox"/> غلط <input type="checkbox"/>	۲
۰/۵	کدام گزینه از مهم ترین تکالیف شهروندی نیست؟ الف) همکاری با دولت <input type="checkbox"/> ب) حق مشارکت سیاسی <input type="checkbox"/> ج) امر به معروف و نهی از منکر <input type="checkbox"/> د) دفاع از کشور <input type="checkbox"/>	۳
۰/۵	در اقتصاد بهره وری را نسبت ..... به داده ها تعریف کرده اند الف) سرمایه <input type="checkbox"/> ب) نهاد <input type="checkbox"/> ج) فرایند <input type="checkbox"/> د) ستانده <input type="checkbox"/>	۴
۱	دو مورد از عواملی که موجب ناسازگاری زن و مرد می شوند را بیان کنید	۵
۱	دومورد از وظایف حکومت ها را بیان کنید	۶
۱	مالیات چیست؟	۷
۱	بهره وری را تعریف کنید و یک مورد از روش های بهره وری در گذشته را نام ببرید.	۸
۱	منظور از بهره وری سبز در تولید چیست؟	۹

بنام خداوند جان و خرد	
نام و نام خانوادگی:	وزارت آموزش و پرورش
نام پدر:	اداره کل آموزش و پرورش استان یزد
کلاس:	مدیریت آموزش و پرورش ناحیه یک دبیرستان نمونه دولتی رسولیان (دوره اول)
آزمون: مطالعات اجتماعی	نهم: ۹۹/۳/۲۲
زمان: ۶۰ دقیقه	
۱	انقلاب مشروطه در زمان ناصر الدین شاه در ایران شکل گرفت <input type="checkbox"/> صحیح <input type="checkbox"/> غلط
۲	هدف حکومت پهلوی از قانون انجمن ایالتی و ولایتی تضعیف هویت اسلامی جامعه ایران بود. <input type="checkbox"/> صحیح <input type="checkbox"/> غلط
۳	اجتماعی شدن فرایندی است که از بزرگسالی شروع و تا پایان عمر ادامه دارد. <input type="checkbox"/> صحیح <input type="checkbox"/> غلط
۴	امروزه زنان نیز با فعالیت های اقتصادی در رفع نیازهای خانواده مشارکت و همراهی دارند. <input type="checkbox"/> صحیح <input type="checkbox"/> غلط
۵	قرارداد ۱۹۱۹ بین ایران و کدام کشور بسته شد؟ الف) روسیه <input type="checkbox"/> ب) آمریکا <input type="checkbox"/> ج) انگلستان <input type="checkbox"/> د) فرانسه <input type="checkbox"/>
۶	در نظام جمهوری اسلامی ایران ، اولین دوره انتخابات مجلس شورای اسلامی در چه تاریخی برگزار شد؟ الف) بهمن ۱۳۵۸ <input type="checkbox"/> ب) اسفند ۸ ۱۳۵۸ <input type="checkbox"/> ج) اسفند ۱۳۵۷ <input type="checkbox"/> د) آذرماه ۱۳۵۸ <input type="checkbox"/>
۷	کدام گزینه ویژگی هویت فردی-روانی است؟ الف) عضویت در گروه نمایش مدرسه <input type="checkbox"/> ب) داشتن گروه خونی <input type="checkbox"/> ج) داشتن ملیت ایرانی <input type="checkbox"/> د) داشتن علاقه به هنر <input type="checkbox"/>
۸	هریک از گزینه های سمت راست مربوط که کدام گزینه سمت چپ می باشد؟ ( ربط دهید ) الف) نشانه یا نماینده یک پدیده دیگر است ب) همه عادت ها ، آداب و رسوم اجتماعی یک جامعه ج) اموری را خوب و مطلوب و مثبت تلقی کنیم هنجار نماد عقاید ارزش
۹	زمینه های فکری و فرهنگی داخلی انقلاب مشروطه را بنویسید
۱۰	از هدف اصلی نیروهای متفکین از اشغال ایران چه بود.
۱۱	منظور از ارزش های اجتماعی چیست؟
۱۲	حق کاپیتولاسیون را شرح دهید.

۱	اجتماعی شدن یا جامعه پذیری را تعریف کنید.	۱۳
۱	مهمترین دلایل پیروی از هنجارها چیست؟ دو مورد	۱۴
۱	دو مورد از کارکرد های خانواده را بیان کنید.	۱۵
۱	ویژگی های انتسابی را با ذکر مثال توضیح دهید؟	۱۶

### درس ۱ تا ۵ اختیاری ۷ نمره

۱/۵	همه ی مردم کشورهایی که در شرق گرینویچ قرار دارند خورشید را زودتر می بینند <input type="checkbox"/> ص <input type="checkbox"/> غ	۱
۰/۵	در اوایل تیر ماه خورشید در نیمکره ی شمالی به مدار راس السرطان عمود می تابد که به آن ..... می گویند.	۲
۰/۵	هر نقطه از کره زمین روی یک مدار و یک نصف النهار قرار دارد که به آن ..... آن منطقه می گویند الف) مختصات جغرافیایی <input type="checkbox"/> ب) طول جغرافیایی <input type="checkbox"/> ج) مدار <input type="checkbox"/> د) حرکت انتقالی <input type="checkbox"/>	۳
۰/۵	هر یک از رویدادهای زیر مربوط به کدام یک از حرکت های زمین است؟ الف) پیدایش فصلها ..... ب) اختلاف ساعت.....	۴
۰/۵	سیاره ای که روی آن زندگی می کنیم از چهار محیط تشکیل شده است. <input type="checkbox"/> ص <input type="checkbox"/> غ	۵
۰/۵	بعد از فلات قاره شیب زیاد می شود و تا عمق ۲۰۰۰ تا ۵۰۰۰ متری ادامه می یابد به این بخش ..... می گویند.	۶
۰/۵	به بخش خارجی کره ی زمین یا پوسته ی آن که حالت جامد دارد چه می گویند؟ الف) لیتوسفر <input type="checkbox"/> ب) هیدروسفر <input type="checkbox"/> ج) اتمسفر <input type="checkbox"/> د) بیوسفر <input type="checkbox"/>	۷
۱	چرا سفر به اقیانوسها دشوارتر از صعود به قله هاست؟ ( دو دلیل ذکر کنید)	۸
۰/۵	بیابان گبی که اطراف آن را کوه فرا گرفته است جزء بیابانهای سرد جهان محسوب می شود. <input type="checkbox"/> ص <input type="checkbox"/> غ	۹

۱	یک ناحیه وسیع جغرافیایی که در آن انواع خاصی از گیاهان و جانوران زندگی میکنند را ..... می گویند.	۱۰
۰/۵	مهمترین و بیشترین عامل تاثیر تنوع در زیست بومها کدام است. الف) آب و هوا <input type="checkbox"/> ب) جنس خاک <input type="checkbox"/> ج) شکل ناهمواریها <input type="checkbox"/> د) میزان ارتفاع زمین <input type="checkbox"/>	۱۱
۰/۵	یکی از زیست بومها هستیم که در مجاورت خط استوا و در چند قاره گسترده شده ام در من هوا همیشه گرم و رطوبت حدود ۸۰ درصد و میزان بارندگی سالیانه ۲۵۰۰ میلی متر است. نام مرا بنویس؟.....	۱۲

## درس ۲۰ تا ۲۴ اختیاری ۷ نمره

۰/۵	امروزه صاحب نظران معتقدند تک فرزندی هم برای خانواده و هم برای اجتماع مفید است. صحیح <input type="checkbox"/> غلط <input type="checkbox"/>	۱
۰/۵	فرهنگ نقش مهمی در افزایش بهره وری در یک جامعه دارد. صحیح <input type="checkbox"/> غلط <input type="checkbox"/>	۲
۰/۵	کدام گزینه از مهم ترین تکالیف شهروندی نیست؟ الف) همکاری با دولت <input type="checkbox"/> ب) حق مشارکت سیاسی <input type="checkbox"/> ج) امر به معروف و نهی از منکر <input type="checkbox"/> د) دفاع از کشور <input type="checkbox"/>	۳
۰/۵	در اقتصاد بهره وری را نسبت ..... به داده ها تعریف کرده اند الف) سرمایه <input type="checkbox"/> ب) نهاد <input type="checkbox"/> ج) فرایند <input type="checkbox"/> د) ستانده <input type="checkbox"/>	۴
۱	دو مورد از عواملی که موجب ناسازگاری زن و مرد می شوند را بیان کنید	۵
۱	دومورد از وظایف حکومت ها را بیان کنید	۶
۱	مالیات چیست؟	۷
۱	بهره وری را تعریف کنید و یک مورد از روش های بهره وری در گذشته را نام ببرید.	۸
۱	منظور از بهره وری سبز در تولید چیست؟	۹

بنام خداوند جان و خرد	
نام و نام خانوادگی:	وزارت آموزش و پرورش
نام پدر:	اداره کل آموزش و پرورش استان یزد
کلاس:	مدیریت آموزش و پرورش ناحیه یک دبیرستان نمونه دولتی رسولیان (دوره اول)
آزمون: مطالعات اجتماعی	نهم: ۹۹/۳/۲۲
زمان: ۶۰ دقیقه	
۱	انقلاب مشروطه در زمان ناصرالدین شاه در ایران شکل گرفت <input type="checkbox"/> صحیح <input type="checkbox"/> غلط
۲	هدف حکومت پهلوی از قانون انجمن ایالتی و ولایتی تضعیف هویت اسلامی جامعه ایران بود. <input type="checkbox"/> صحیح <input type="checkbox"/> غلط
۳	اجتماعی شدن فرایندی است که از بزرگسالی شروع و تا پایان عمر ادامه دارد. <input type="checkbox"/> صحیح <input type="checkbox"/> غلط
۴	امروزه زنان نیز با فعالیت های اقتصادی در رفع نیازهای خانواده مشارکت و همراهی دارند. <input type="checkbox"/> صحیح <input type="checkbox"/> غلط
۵	قرارداد ۱۹۱۹ بین ایران و کدام کشور بسته شد؟ الف) روسیه <input type="checkbox"/> ب) آمریکا <input type="checkbox"/> ج) انگلستان <input type="checkbox"/> د) فرانسه <input type="checkbox"/>
۶	در نظام جمهوری اسلامی ایران، اولین دوره انتخابات مجلس شورای اسلامی در چه تاریخی برگزار شد؟ الف) بهمن ۱۳۵۸ <input type="checkbox"/> ب) اسفند ۸ ۱۳۵۸ <input type="checkbox"/> ج) اسفند ۱۳۵۷ <input type="checkbox"/> د) آذرماه ۱۳۵۸ <input type="checkbox"/>
۷	کدام گزینه ویژگی هویت فردی-روانی است؟ الف) عضویت در گروه نمایش مدرسه <input type="checkbox"/> ب) داشتن گروه خونی <input type="checkbox"/> ج) داشتن ملیت ایرانی <input type="checkbox"/> د) داشتن علاقه به هنر <input type="checkbox"/>
۸	هریک از گزینه های سمت راست مربوط که کدام گزینه سمت چپ می باشد؟ ( ربط دهید) الف) نشانه یا نماینده یک پدیده دیگر است ب) همه عادت ها، آداب و رسوم اجتماعی یک جامعه ج) اموری را خوب و مطلوب و مثبت تلقی کنیم هنجار نماد عقاید ارزش
۹	زمینه های فکری و فرهنگی داخلی انقلاب مشروطه را بنویسید
۱۰	از هدف اصلی نیروهای متفکین از اشغال ایران چه بود.
۱۱	منظور از ارزش های اجتماعی چیست؟
۱۲	حق کاپیتولاسیون را شرح دهید.



۱	اجتماعی شدن یا جامعه پذیری را تعریف کنید.	۱۳
۱	مهمترین دلایل پیروی از هنجارها چیست؟ دو مورد	۱۴
۱	دو مورد از کارکرد های خانواده را بیان کنید.	۱۵
۱	ویژگی های انتسابی را با ذکر مثال توضیح دهید؟	۱۶


### درس ۱ تا ۵ اختیاری ۷ نمره

۱/۵	همه ی مردم کشورهایی که در شرق گرینویچ قرار دارند خورشید را زودتر می بینند <input type="checkbox"/> ص <input type="checkbox"/> غ	۱
۰/۵	در اوایل تیر ماه خورشید در نیمکره ی شمالی به مدار راس السرطان عمود می تابد که به آن ..... می گویند.	۲
۰/۵	هر نقطه از کره زمین روی یک مدار و یک نصف النهار قرار دارد که به آن ..... آن منطقه می گویند الف) مختصات جغرافیایی <input type="checkbox"/> ب) طول جغرافیایی <input type="checkbox"/> ج) مدار <input type="checkbox"/> د) حرکت انتقالی <input type="checkbox"/>	۳
۰/۵	هر یک از رویدادهای زیر مربوط به کدام یک از حرکت های زمین است؟ الف) پیدایش فصلها ..... ب) اختلاف ساعت.....	۴
۰/۵	سیاره ای که روی آن زندگی می کنیم از چهار محیط تشکیل شده است. <input type="checkbox"/> ص <input type="checkbox"/> غ	۵
۰/۵	بعد از فلات قاره شیب زیاد می شود و تا عمق ۲۰۰۰ تا ۵۰۰۰ متری ادامه می یابد به این بخش ..... می گویند.	۶
۰/۵	به بخش خارجی کره ی زمین یا پوسته ی آن که حالت جامد دارد چه می گویند؟ الف) لیتوسفر <input type="checkbox"/> ب) هیدروسفر <input type="checkbox"/> ج) اتمسفر <input type="checkbox"/> د) بیوسفر <input type="checkbox"/>	۷
۱	چرا سفر به اقیانوسها دشوارتر از صعود به قله هاست؟ ( دو دلیل ذکر کنید)	۸
۰/۵	بیابان گبی که اطراف آن را کوه فرا گرفته است جزء بیابانهای سرد جهان محسوب می شود. <input type="checkbox"/> ص <input type="checkbox"/> غ	۹

۱	یک ناحیه وسیع جغرافیایی که در آن انواع خاصی از گیاهان و جانوران زندگی میکنند را ..... می گویند.	۱۰
۰/۵	مهمترین و بیشترین عامل تاثیر تنوع در زیست بومها کدام است. الف) آب و هوا <input type="checkbox"/> ب) جنس خاک <input type="checkbox"/> ج) شکل ناهمواریها <input type="checkbox"/> د) میزان ارتفاع زمین <input type="checkbox"/>	۱۱
۰/۵	یکی از زیست بومها هستیم که در مجاورت خط استوا و در چند قاره گسترده شده ام در من هوا همیشه گرم و رطوبت حدود ۸۰ درصد و میزان بارندگی سالیانه ۲۵۰۰ میلی متر است. نام مرا بنویس؟.....	۱۲

## درس ۲۰ تا ۲۴ اختیاری ۷ نمره

۰/۵	امروزه صاحب نظران معتقدند تک فرزندی هم برای خانواده و هم برای اجتماع مفید است. صحیح <input type="checkbox"/> غلط <input type="checkbox"/>	۱
۰/۵	فرهنگ نقش مهمی در افزایش بهره وری در یک جامعه دارد. صحیح <input type="checkbox"/> غلط <input type="checkbox"/>	۲
۰/۵	کدام گزینه از مهم ترین تکالیف شهروندی نیست؟ الف) همکاری با دولت <input type="checkbox"/> ب) حق مشارکت سیاسی <input type="checkbox"/> ج) امر به معروف و نهی از منکر <input type="checkbox"/> د) دفاع از کشور <input type="checkbox"/>	۳
۰/۵	در اقتصاد بهره وری را نسبت ..... به داده ها تعریف کرده اند الف) سرمایه <input type="checkbox"/> ب) نهاد <input type="checkbox"/> ج) فرایند <input type="checkbox"/> د) ستانده <input type="checkbox"/>	۴
۱	دو مورد از عواملی که موجب ناسازگاری زن و مرد می شوند را بیان کنید	۵
۱	دومورد از وظایف حکومت ها را بیان کنید	۶
۱	مالیات چیست؟	۷
۱	بهره وری را تعریف کنید و یک مورد از روش های بهره وری در گذشته را نام ببرید.	۸
۱	منظور از بهره وری سبز در تولید چیست؟	۹

	مدت امتحان	مدیریت آموزش و پرورش ناحیه یک یزد			سوالات ارزشیابی نوبت: <b>دوم</b>
	۵۰ دقیقه	دبیرستان نمونه دولتی رسولیان دوره اول			درس: <b>پیام های آسمانی نهم</b>
	تاریخ آزمون				تعداد صفحه و سوال: ۲ صفحه ۱۵ سوال
	۹۹ / ۳ / ۲۴	پایه	کردانش آموزی	نام خانوادگی	نام
جمع نمره:	«پایه»	«گد»	«نام_خانوادگی»	«نام»	

۱- آیات شریفه را ترجمه کنید. (۲ نمره)

الف) أَلَا بِذِكْرِ اللَّهِ تَطْمَئِنُّ الْقُلُوبُ :

ب) إِنَّهُ يَعْلَمُ الْجَهْرَ وَمَا يَخْفَى :

۲- به سوالات زیر پاسخ کوتاه بدهید. (۱ نمره)

الف) تسبیح یعنی چه :

ب) حمد یعنی چه :

۳- جاهای خالی را کامل کنید. (۱ نمره)

الف) شکستن نماز واجب از روی اختیار ..... است.

ب) نبرد سپاه اسلام با حکومت ایران در صدر اسلام ..... بود.

ج) باتوجه به سخن امام صادق علیه السلام ..... ایمان را در دل پایدار می کند.

د) به رهبری و هدایت مردم جامعه توسط فقیه جامع الشرائط ..... گفته می شود.

۴- دو مورد از مواردی که مکلف باید به جای وضو یا غسل تیمم کند بیان کنید. (۱ نمره)

به یکی از دو سؤال زیر به اختیار پاسخ دهید.

۵- وقف را تعریف کرده و نتیجه آن را بیان کنید. (۱ نمره)

۶- انفاق بر چند نوع است برای هر یک مثال بزنید. (۱ نمره)

۷- دو مورد از راه های تقویت ایمان را نام ببرید. (۱نمره)

۸- هدف اصلی دشمن از تحریم اقتصادی و شبی خون فرهنگی چیست؟ (۱ نمره)

۹- چه کسانی می توانند از یاران امام زمان محسوب شوند؟ (۱ نمره)

۱۰- مبطلات نماز را بیان کنید. (چهار مورد) (۲نمره)

۱۱- برای میانه روی در دوستی چه نکاتی را باید رعایت کرد؟ (سه مورد) (۵, ۱نمره)

۱۲- مراحل غسل را به ترتیب بیان کنید. (۲نمره)

۱۳- سه مورد از ویژگی های مهم پیامبران الهی را نام ببرید. (۵, ۱نمره)

۱۴- با توجه به آیات اول سوره مؤمنون چهار ویژگی انسان مؤمن را بیان کنید. (۲نمره)

۱۵- چهار نمونه از اقدامات ابر قدرت‌ها برای شکست جمهوری اسلامی ایران را توضیح دهید. (۲ نمره)

سوال امتحان درس معارف نهم (پیام های آسمان)

۱- آیات شریفه را ترجمه کنید. (۲ نمره)

الف) أَلَا بَذَكَرَ اللهُ تَطْمِئِنُّ الْقُلُوبُ :

ب) إِنَّهُ يَعْلَمُ الْجَهْرَ وَمَا يَخْفَى:

---

۲- به سوالات زیر پاسخ کوتاه بدهید. (۱ نمره)

الف) تسبیح یعنی چه:

ب) حمد یعنی چه:

---

۳- جاهای خالی را کامل کنید. (۱ نمره)

الف) شکستن نماز واجب از روی اختیار..... است.

ب) نبرد سپاه اسلام با حکومت ایران در صدر اسلام..... بود.

ج) باتوجه به سخن امام صادق علیه السلام..... ایمان را در دل پایدار می کند.

د) به رهبری و هدایت مردم جامعه توسط فقیه جامع شرایط..... گفته می شود.

---

۴- دو مورد از مواردی که مکلف باید به جای وضو یا غسل تیمم کند بیان کنید. (۱ نمره)

---

۵- وقف را تعریف کرده و نتیجه آن را بیان کنید. (اختیاری) (۱ نمره)

۶- انفاق بر چند نوع است برای هر یک مثال بزنید. (اختیاری) (۱ نمره)

۷- دو مورد از راه های تقویت ایمان را نام ببرید. (۱نمره)

۸- هدف اصلی دشمن از تحریم اقتصادی شبی خون فرهنگی چیست؟ (۱ نمره)

۹- چه کسانی می توانند از یاران امام زمان محسوب شوند؟ (۲نمره)

۱۰- مبطلات نماز را بیان کنید. (چهار مورد) (۲نمره)

۱۱- برای میانه روی در دوستی چه نکاتی را باید رعایت کرد؟ (سه مورد) (۵/۱نمره)

۱۲- مراحل غسل را به ترتیب بیان کنید. (۲نمره)

۱۳- سه مورد از ویژگی های مهم پیامبران الهی را نام ببرید. (۵/۱نمره)

۱۴- با توجه به آیات اول سوره مؤمنون چهار ویژگی انسان مؤمن را بیان کنید. (۲نمره)

۱۵- چهار نمونه از اقدامات ابر قدرت ها برای شکست جمهوری اسلامی ایران را توضیح دهید. (۲نمره)

موفق و سلامت باشید