







ردیف	سوالات	بارم
1	آیه ی شریفه مقابل را ترجمه کنید 0 "حَتَّىٰ إِذَا جَاءَ أَحَدَهُمُ الْمَوْتُ قَالَ رَبِّ ارْجِعُونِ لَعَلِّي أَعْمَلُ صَالِحًا فِيمَا تَرَكْتُ كَلَّا إِنَّهَا كَلِمَةٌ هُوَ قَائِلُهَا 000"	5/1
2	جاهای خالی را با کلمات مناسب پر کنید 0 الف - بعضی از کارهایی که ما شب و روز انجام می دهیم برای این است که خودمان سالم بمانیم و بتوانیم از هر نظر رشد خوبی داشته باشیم به این کارها.....گفته می شود. مانند: ..... ب- رسول خدا(ص) می فرماید: عبادت ده جزء دارد که نه جزء آن ..... است. ج- نوجوانان و جوانان به دلیل.....و.....که از ویژگی های دوران سنی آنهاست در مواجهه با مُدّها تأثیرپذیری بیشتری دارند.	2
3	پاسخ صحیح را علامت بزنید. الف- ائمه (ع) همواره تأکید داشته اند که دروغ گفتن موجب: 1- نابودی ایمان <input type="checkbox"/> شود شود 3- رفع برکت از زندگی <input type="checkbox"/> بان می شود ب- اگر کسی در ماه رمضان فراموش کند که روزه است و مبطلات روزه را انجام دهد روزه اش چه حکمی دارد؟ 1- صحیح است <input type="checkbox"/> 2- باطل است <input type="checkbox"/> 3- باید قضای <input type="checkbox"/> به جا آورد ج- امام علی (ع) می فرمایند:.....انسان را به سوی نیکی و عمل به آن فرا می خواند. 1- <input type="checkbox"/> ه 2- نماز <input type="checkbox"/> 3- <input type="checkbox"/> کر 4- توجه به محرومان <input type="checkbox"/> د- بهترین راه درمان..... این است که انسان هیچ گاه از عیب ها و کاستی های خود غافل نباشد. 1- <input type="checkbox"/> تهم <input type="checkbox"/> 2- <input type="checkbox"/> غیبت <input type="checkbox"/> 3- <input type="checkbox"/> روغ <input type="checkbox"/> 4- <input type="checkbox"/> ناسزاگویی <input type="checkbox"/>	1
4	جملات صحیح و غلط را مشخص کنید. الف- حَقُّ النَّاسِ فَقَطْ حَقُوقٌ مَالِيٌّ مَرْدَمٍ نَيْسَتْ. ( ) ب- انسان در هر شغلی ممکن است به خاطر بی توجهی و کوتاهی در انجام وظایفش گرفتار مال حرام شود. ( ) ج- تقلید از الگوهای وارداتی که به فرهنگ های بیگانه تعلق دارد تأثیری برسلیقه و طرز فکر انسان مسلمان ندارد. ( ) د- نگاه ما به پدیده های اطرافمان معمولاً نگاهی سریع و گذرا نیست. ( )	1
5	چرا بعد از پیامبر خدا(ص) تنها امیرالمومنین (ع) شایسته رهبری بر مسلمانان بودند؟	1
6	آیا نعمت ها و پاداش های همه ی بهشتیان مانند یکدیگر است؟ چرا؟	1

1	عفو و گذشت از خطاهای دیگران چه فایده ای برای انسان دارد؟	7
1	با توجه به سخن حضرت علی <sup>(ع)</sup> توضیح دهید که هدف آفرینش چیست؟	8
.5/	بر اساس فرمایش پیامبر اکرم <sup>(ص)</sup> پاداش کسی که در ماه رمضان کسی را افطاری دهد چیست؟	9
1	احکام اسلامی در حقیقت چگونه قوانینی هستند؟	10
1	توضیح دهید اسراف و مصرف زدگی چگونه یک جامعه را به وابستگی می کشاند؟	11
1	بی توجهی به اولویت بندی کارها موجب چه چیزی می شود؟	12
1	رواج غیبت در جامعه چه آثار شومی بر روابط مردم با یکدیگر خواهد گذاشت؟	13
1	کسب و کار حرام چه آثار بدی بر زندگی انسان دارد؟	14
5/ 1	هرگاه امام باقر <sup>(ع)</sup> حاجتی داشتند به چه روشی عمل می نمودند؟	15
5/ 1	سه مورد از وظایف یک مسلمان را نسبت به برادران دینی اش بیان کنید؟	16
5/ 1	پیامبر خدا <sup>(ص)</sup> در مورد توجه به حقوق همه مردم در اموال و مکان های عمومی چه می فرمایند؟	17
.5/	مهمترین روش دشمنان اسلام برای از بین بردن اتحاد مسلمانان چیست؟	18

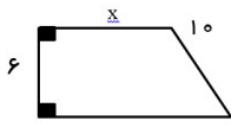
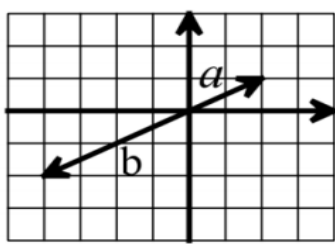
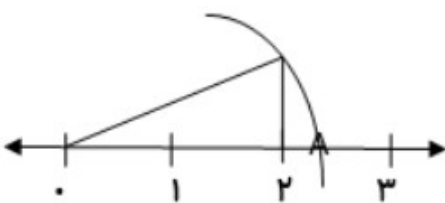


نام و نام خانوادگی تجدید نظر کننده:

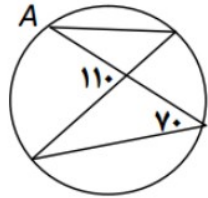
نمره ی تجدید نظر به حروف:

نمره ی تجدید نظر به عدد:  
امضاء

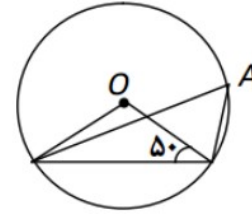
بارم	با توکل به خدا و با آرامش به سوالات با دقت پاسخ دهید. (استفاده از ماشین حساب مجاز است)	ردیف
1	گزینه صحیح را با علامت <b>م</b> و عبارت نادرست را با <b>×</b> مشخص کنید . (1) قرینه ی هر عدد منفی از صفر بزرگتر است . ( ) (2) مجموع دو عدد اول عددی مرکب است . ( ) (3) اگر مساحت دو شکل برابر باشند آن دو شکل هم نهشتند . ( ) (4) هر عدد منفی به توان عددی زوج برسد ، حاصل عددی مثبت می شود . ( )	1
1	کامل کنید . (1) اگر دو عدد نسبت به هم اول باشند ، ..... آنها برابر عدد 1 است . (2) مثلث متساوی الساقین ..... محور تقارن دارد . (3) هر نقطه روی ..... پاره خط باشد ، از دو سر پاره خط به یک فاصله است . (4) در هر دایره زاویه ی محاطی روبروی قطر ..... درجه است .	2
1	گزینه صحیح را با علامت <b>×</b> مشخص کنید . (1) کدام عدد بزرگتر است . -22(1)      -222(2)      -223(3)      -2222(4) (2) با کدام چند ضلعی های منتظم نمی توان به تنهایی کاشی کاری کرد ؟ 1)سه ضلعی      2)چهار ضلعی      3)پنج ضلعی      4)شش ضلعی (3) بردار $\begin{bmatrix} x-1 \\ x+1 \end{bmatrix}$ موازی با محور طول هاست . مقدار $x$ کدام است ؟ 1)1      2)-1      3)0      4)2 (4) جذر 903 بین کدام دو عدد طبیعی قرار دارد؟ 1)31 و 30      2)30 و 29      3)-30 و 31      4)گزینه های	3
5/0	حاصل عبارت زیر را بدست آورید . $-5/2 + 5/4 =$	4
5/0	حاصل عبارت مقابل را به دست آورید . $\frac{-1}{1} \left( x \right) - \frac{8}{-21} = 6$	5
5/0	مجموع دو عدد اول 31 است ، آن دو عدد کدامند؟	6
5/0	برای این جمله شکل بکشید و جمله را کامل کنید . اگر خطی بر یکی از دو خط موازی عمود شود ، بر دیگری ..... می شود .	7
5/0	پاره های ..... را پیدا کنید . $\hat{A}_1 =$	8
1	 2x+5      x-3	9

1	معادله روبرو را حل کنید . $\frac{x-1}{2} = 6 - \frac{2x}{3}$	10																
25/1	در صورتی که $\vec{b} = 3\vec{a}$ و $\vec{c} = 6\vec{a} + 4\vec{a}$ باشد . الف) مختصات $\vec{c}$ و $\vec{a}$ را بدست آورید . ب) مختصات بردار $\vec{c} - \vec{a}$ را بدست آورید .	11																
1	مقدار $x$ را حساب کنید . 	12																
1	مقدار $m$ را حساب کنید . $\vec{m} = \begin{bmatrix} 1 \\ 2b+1 \end{bmatrix} = \begin{bmatrix} 3a-1 \\ b \end{bmatrix}$	13																
5/0	با توجه به شکل یک تساوی برداری برای بردارهای $\vec{a}$ و $\vec{b}$ بنویسید . 	14																
5/0	دی تواندار بنویسید .	15																
5/1	حاصل را به صورت عددی تواندار بنویسید . $\frac{3 \times 41^{01}}{2^5 \times 7^5} = ?$ $\frac{5^2 \div a^{01}}{a^2 \times a^3} = ?$	16																
5/0	در شکل مقابل نقطه مشخص شده چه عددی را نمایش می دهد ؟ 	17																
2	پاسخ دهید . <table border="1" data-bbox="183 1668 1460 1848"> <thead> <tr> <th>مرکز دسته × فراوانی</th> <th>مرکز دسته</th> <th>فراوانی</th> <th>حدود دسته</th> </tr> </thead> <tbody> <tr> <td></td> <td></td> <td>5</td> <td>» 051</td> </tr> <tr> <td>640</td> <td></td> <td></td> <td>» 071</td> </tr> <tr> <td></td> <td></td> <td></td> <td>مجموع</td> </tr> </tbody> </table>	مرکز دسته × فراوانی	مرکز دسته	فراوانی	حدود دسته			5	» 051	640			» 071				مجموع	18
مرکز دسته × فراوانی	مرکز دسته	فراوانی	حدود دسته															
		5	» 051															
640			» 071															
			مجموع															
5/0	الف) طول دسته را حساب کنید : ب) میانگین را محاسبه کنید :																	
5/0	میانگین نمرات 5 درس یک دانش آموز 16 می باشد . اگر نمره های دو درس دیگر او که 18 و 19 می باشد به این داده ها اضافه شود . میانگین جدید را پیدا کنید ؟	19																
	یک تاس و یک سکه را هم زمان پرتاب می کنیم .	20																

1	الف) تعداد کل حالت های ممکن را حساب کنید . ب) احتمال اینکه تاس عدد 6 و سکه پشت بیاید چقدر است؟	
75/ 0	یک خط و یک دایره در یک نقطه برخورد می کنند . شکل مناسب بکشید و رابطه مربوطه را بنویسید .	21
1	دلیل بیاورید که در دایره وتر های نظیر کمان های مساوی با هم برابرند . شکل را کامل کنید و دلیل بیاورید . مرکز دایره را O بنامید	22
1	مرکز دایره O در شکل های زیر مقدار A را بدست آورید .	23



$\hat{A} =$



$\hat{A} =$

موفق باشید -  
- ا -



نام و نام خانوادگی تجدید نظر کننده:

نمره ی تجدید نظر به حروف:

نمره ی تجدید نظر به عدد:  
امضاء

**1) شماره هر جمله را زیر تصویر مربوط به آن بنویسید. (1)**

There is an airport. It's very famous.      2) He is not OK (1)

.I play computer games as a hobby.      4). Today is rainy (3)



**2) جواب صحیح را انتخاب کنید. (2)**

.I am ..... British, but I live in Brazil (1

- a) from                      b) nationality                      c) originally                      d) country

..... What is Yazd like? It is (2

- a) cloudy                      b) clean                      c) a palace                      d) sunflower

..... ?What is your hobby (3

- a) I enjoy swimming.                      b) on Tuesdays
- c) I have a toothache.                      d) It is dry

.any river nearby? Yes, a big one ..... (4

- a) Are there                      b) Is there                      c) Are they                      d) Is it

**3) جملات زیر را کامل کنید. (2)**

I play ..... in my free time. I ..... to the radio in the evening. I

..... a horse on Sundays .My relatives ..... a mountain every Friday

**4) با کلمات درهم ریخته زیر یک جمله بسازید. (1)**



( (work - animals - and - the farmers - raise - farms - on

(5) با کلمات داده شده جملات زیر را کامل کنید. (یک کلمه اضافی است) (2)  
(fishing - magazine - garden - air - pollution)

1) We enjoy clean ..... in our village

2) I usually read a ..... in my free time

3) You work in the ..... as a hobby

4) My classmate and I go ..... in summer

(6) ستون اول را با ستون دوم جور کنید و حرف مربوط به آن را جلوی آن بنویسید. (در ستون دوم دو عبارت اضافی است). (2)

1) I have a sore throat. What should I do? ( ) a) Reading poems

2) Are you good at taking photos? ( ) b) It is wet

3) How is the weather in spring? ( ) c) Drink hot tea

4) Is it near the capital? ( ) d) Yes, we are

e) No, it's in south

f) I can draw well

***Good luck***


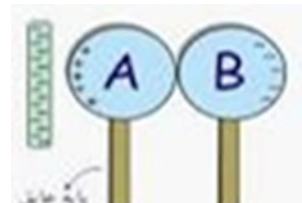




1	<p>ترجمه درست را انتخاب کنید ؟</p> <p>الف ( يَدُ اللَّهِ مَعَ الْجَمَاعَةِ ) خدا در همبستگی است</p> <p>ب ( أَنْتُمْ تَصَرُّوْا أَوْلَادَكُمْ ) شما دوستانتان را یاری کردید</p> <p>ج ( يَدُ اللَّهِ مَعَ الْجَمَاعَةِ ) خدا با جماعت است</p> <p>د ( أَنْتُمْ تَصَرُّوْا أَوْلَادَكُمْ ) شما دوستانتان را یاری کردید</p>	9
1	<p>هر توضیح را به عبارت مربوط به آن وصل کنید ( یک کلمه اضافه است )</p> <p>الف ( مكان الصلاه عند المسلمين ) ب ( مكان الفحص المرضى ) ج ( طعام ناكله في الصباح ) د ( مجموعه من المدل )</p> <p>المُعْجَم المُسْتَعْصَف الْفُطْسُور المُحَافِظَه</p> <p>○ ○ ○ ○</p> <p>موفق پیروز باشید</p>	10



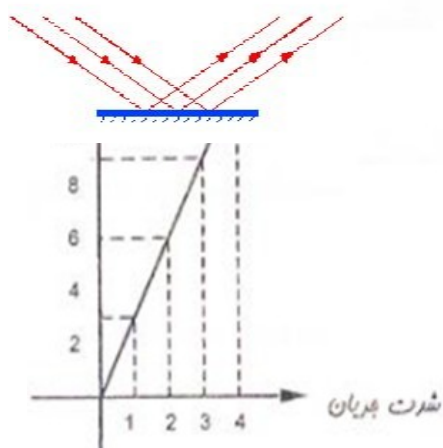
**پیامبر اعظم (ص): نگاه محبت آمیز فرزند، به پدر و مادرش، عبادت است. «بحار الانوار»  
ج 74، ص 80**

1	<p>کدام گزینه صحیح و کدام گزینه غلط است؟ با علامت «ص» و «غ» در داخل پراکنش مقابل هر عبارت قرار دهید</p> <p>الف) تعداد کروموزومها به اندازه ی پیکر جاندار بستگی دارد ( )</p> <p>ب) فلزات دارای الکترون آزاد بیشتری نسبت به نافلزات هستند ( )</p> <p>ج) زیاد شدن تعداد ضربان قلب و تنفس نمونه هایی از اعمال انعکاسی است ( )</p> <p>د) مزه ی شیرینی در نوک زبان احساس می شود ( )</p>
1	<p>کلمات مناسب داخل پراکنش را در جای مناسب خود قرار دهید</p> <p>ذخایر نفت و گاز در بین سنگهای.....تشکیل می شوند. (رسوبی - آذرین)</p> <p>آینه مقعر در..... کاربرد دارد. ( دندان پزشکی - لباس فروشی ها)</p> <p>کانی..... نشان دهنده ی شرایط آب و هوایی گرم و خشک در زمان تشکیل آنهاست. ( هالیت - گرافیت)</p> <p>تشکیل غارهای آهکی نوعی از هوازدگی..... می باشد. (فیزیکی - شیمیایی)</p>
25/1	<p>گزینه ی صحیح را انتخاب نمایید</p> <p>در موتور الکتریکی چه تبدیل انرژی صورت می گیرد؟*</p> <p>شیمیایی به مکانیکی (1) الکتریکی به مکانیکی (2) صوتی به الکتریکی (3) مکانیکی به الکتریکی (4)</p> <p>تعداد نوترونهای موجود در ایزوتوپ هیدروژن با عدد اتمی 1 و عدد جرمی 3 چه تعداد است؟*</p> <p>1 (1) 2 (2) 3 (3) 4 (4) صفر</p> <p>کدام مخلوط را می توان با وسیله ی مقابل از هم جدا کرد؟*</p> <p>روغن و آب (1) شکر و آب (2) نمک و آب (3) نفت و بنزین (4)</p> <p>میدان دید کدام آینه وسیع تر و بیشتر از بقیه است؟*</p> <p>1 (1) کوز (2) مقعر (3) تخت (4) هیچ کدام</p> <p>با توجه به تصویر؛ زاویه تابش چند درجه است؟*</p> <p>1 (1) 35 (2) 55 (3) 70 (4) 45</p> 
25/1	<p>به سؤالات زیر پاسخ کوتاه دهید؟</p> <p>( الف) یک کانی غیر سیلیکاتی را نام ببرید؟</p> <p>( ب) کدام یک از عدسی ها در دوربین شکاری و تلسکوپ کاربرد دارد؟</p> <p>( ج) کمترین میزان شکست نور، در تجزیه نور سفید، مربوط به کدام نوری است؟</p> <p>( د) یک سنگ رسوبی تبخیری را نام ببرید؟</p> 

و) در شکل داده شده کدام روش باردار کردن ماده را نشان می دهد؟

1 5 علت هریک از موارد خواسته شده را بنویسید  
الف) ماگما نسبت به سنگهای اطراف سبک تر است و به سمت بالا حرکت می کند؟  
ب) مقاومت الکتریکی در برابر عبور جریان الکتریسیته باعث تولید گرما می شود؟

75/ 6



نمودار مقابل تغییرات شدت جریان را بر اساس تغییرات اختلاف پتانسیل نشان می دهد  
الف) مطابق نمودار وقتی اختلاف پتانسیل 6 ولت باشد ، شدت جریان چند آمپر است ؟  
ب ) اگر اختلاف پتانسیل 12 ولت باشد و شدت جریان 4 آمپر باشد ، مقاومت الکتریکی را محاسبه کنید

7 7

نوع تنظیم	ماهیت	ماندگاری
عصبی		
هورمونی		

75/ 8



با توجه به شکل به موارد خواسته شده پاسخ دهید  
نام پدیده ای که اتفاق افتاده چیست؟  
توضیح دهید چگونه این پدیده اتفاق می افتد؟

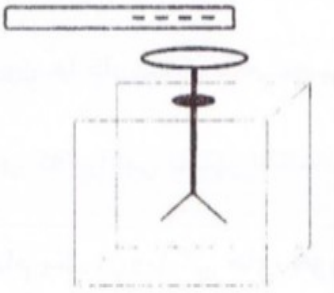
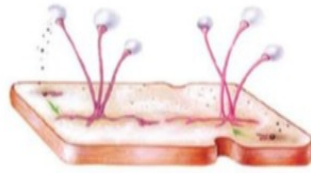
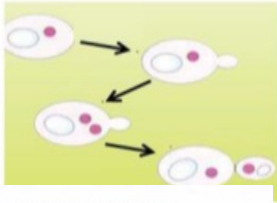
1 9 در شکل «الف» و «ب» مشخص کنید کدام یک بازتاب منظم و کدام یک بازتاب نامنظم نور را نشان می دهد؟ در باره ی یکی از آنها به دلخواه شرح دهید؟

The diagram shows a horizontal surface. Several light rays are shown reflecting off it. Some rays reflect at equal angles, representing regular reflection. Other rays reflect at different angles, representing irregular reflection.

الف) ( )  
ب) ( )

5/ 10

در شکل مقابل دو روش تولید مثل غیر جنسی را نشان می دهد ؛ در زیر هر کدام از شکل ها ، نمونه ای از یک جاندار که به این روش تولید مثل می کند را نام ببرید؟



\*\*\*\*\*

5/1

کلمات زیر را تعریف کنید  
حسم منیر\*  
شکست نور\*  
گرده افشانی\*

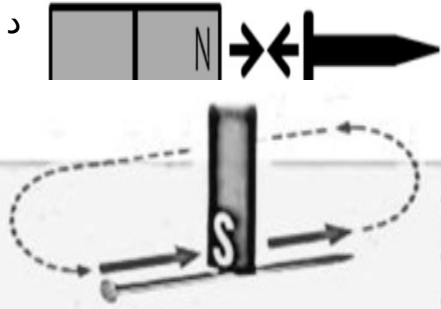
11

5/

سعید یک میله پلاستیکی را با پارچه پشمی مالش داده و آن را مطابق شکل به کلاهک الکتروسکوپ (برقنمای) بدون بار، نزدیک کرده است  
نوع بار کلاهک و ورقه های الکتروسکوپ را مشخص کنید.

12

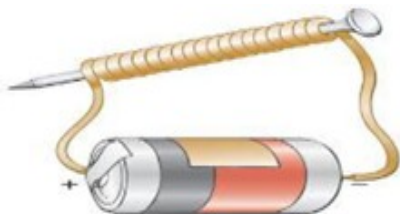
1



هر یک از شکلها، کدام روش آهن ربا کردن را نشان می دهد؟  
 رشکل (1) نوک تیز میخ، چه قطبی شده است  
 (1)

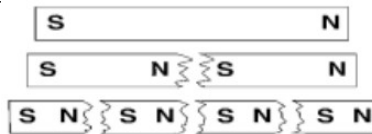
13

(2)



(3)

5/



کی از شکل های داده شده را  
 فسیر کنید

14

(2)

(1)

2

تفاوت هر یک از موارد داده شده را بایکدیگر بنویسید (یک تفاوت برای هر مورد کافی است)  
الف) رسوبات و سنگهایی که با یخچالها حمل می شوند با رسوبات یا سنگهایی که با

15

رودخانه ها حمل می شوند؟

ج) ماسه سنگ با کنگلومرا  
تصویر مجازی با تصویر حقیقی

و) لجاج خارجی با لجاج داخلی

خدا نگهدارتان باد





نام و نام خانوادگی تجدید نظر کننده:

نمره ی تجدید نظر به حروف:

نمره ی تجدید نظر به عدد:  
امضاء

ردیف	سوالات	بارم
1	معنی کلمات زیر را بنویسید. اِتَّخَذَ : اِتَّبَع : أَرْسَلْنَا : يُولِجُ : عِقَاب : فَطَرَ : تَجَزَى :	2
2	ترکیبها را کامل کنید. نَفْس + ي _ نَفْسِي : أَنْفُس + كُمْ _ : ل + يَعْلَمُونَ _ : أَنْ + أَتَلُوا _ أَنْ أَتَلُوا :	3
3	چگونگی تلفظ حروف ( ز - ظ ) را بنویسید.	2
4	ترکیبهای قرآنی زیر را معنا کنید. - أَنْ أَعْمَلَ صَالِحًا - عَمَّا يُشْرِكُونَ - لَوْ كَانُوا يَعْلَمُونَ - هُمْ يُوقِنُونَ - اِتَّقِ اللَّهَ - ذُرِّيَّتِهِمَا - ذِي الطَّوْلِ - أَدْعُونِي - صَوَّرَكُمْ	5
5	آیات و عبارات قرآنی زیر را معنا کنید. - غَافِرِ الذَّنْبِ وَ قَابِلِ التُّوبِ - الَّذِينَ يَسْتَمِعُونَ الْقَوْلَ فَيَتَّبِعُونَ أَحْسَنَهُ	8

	<p>-يَمَا نَسُوا يَوْمَ الْحِسَابِ -إِنَّهُ مِنْ عِبَادِنَا الصَّالِحِينَ -وَجَاءَ مِنْ أَقْصَا الْمَدِينَةِ رَجُلٌ يَسْعَى -وَ أَحْسِنَ كَمَا أَحْسَنَ اللَّهُ إِلَيْكَ</p>	
--	--	--

موفق باشيد

تاریخ امتحان: 11/03/96 ساعت : 9 صبح مدت پاسخگویی: اساعت تعداد سؤال: 28 تعداد صفحه: 2 طراح سوال: اسماعیلی	باسمه تعالی سازمان آموزش و پرورش استان یزد آموزش و پرورش ناحیه یک یزد دبیرستان نمونه رسولیان (دوره اول)	نام و نام خانوادگی: نام پدر: پایه: هشتم کلاس: نام درس: مطالعات اجتماعی
{ { احترام به پدر و مادر از واجبات است } }		حضرت محمد ( ص )

گزینه صحیح را با علامت ضربدر مشخص کنید.

- 1- حکومت ایلخانان توسط چه کسی تاسیس شد؟ هر مورد 5/، نمره
  - الف- سلطان جلال الدین
  - ب- چنگیزخان
  - ج- غازان
  - د- هلاکو
- 2- نام رشته کوه جوان آمریکای جنوبی چیست و در کدام طرف این قاره قرار دارد؟
  - الف - آند-شرق
  - ب- آند-غرب
  - ج- راکی - شرق
  - د- راکی-غرب
- 3- کدام قاره از سواحل دریای مدیترانه تادماغه آمینیک کشیده شده است؟
  - الف- آسیا
  - ب- اروپا
  - ج- آفریقا
  - د- آمریکا
- 4- بزرگ ترین مرکز علمی ادبی و مذهبی ایران در آستانه حمله مغول کجا بود؟
  - الف- اصفهان
  - ب- ری
  - ج- خراسان
  - د- نیشابور
- 5- آلب ارسلان در نبرد..... در سال 463 ه ق رومیان را شکست داد و امپراتور روم را اسیر کرد.
  - الف- نیشابور
  - ب- ری
  - ج- خراسان
  - د- اصفهان
- 6- سومین مسجد مهم اسلام و قبله اول مسلمانان ..... است.
  - الف- کعبه
  - ب- مسجد اقصی
  - ج- مسجد نبوی
  - د- مسجد کوفه
- 7- قله ..... در رشته کوه هیمالیا بلندترین قله ی جهان است.
  - الف- کوه دhaulagiri
  - ب- کوه انوری
  - ج- کوه اوری
  - د- کوه اوری
- 8- مهمترین کشور صنعتی آسیا..... نام دارد
  - الف- ژاپن
  - ب- آمریکا
  - ج- انگلستان
  - د- آلمان
- 9- طغرل بعد از شکست مسعود غزنوی در ..... بر تخت نشست.
  - الف- بلخ
  - ب- نیشابور
  - ج- خراسان
  - د- اصفهان
- صیح یا غلط بودن جملات زیر را مشخص کنید. 5/، نمره
  - 10- بادهای موسمی (مونسون) در اواخر بهار و فصل تابستان به منطقه غرب و جنوب غرب آسیای میانه وزند. 10- ص غ
  - در اس حکومت سلجوقی خلیفه قرار داشت. ص غ 11-
  - مسجد گوهرشاد در جوار حرم مطهر امام رضا (ع) توسط شاهرخ ساخته شده است. ص غ 12-
  - تنهارود مهم استرالیا رود دارلینگ است. ص غ 13-
  - منطقه جنوب غرب آسیا به کدام قاره متصل است؟ ..... 14- و ..... 5/، نمره
  - کدام عامل خارجی باعث توسعه نیافتگی قاره آفریقا شده است؟ ..... 5/، نمره 15-
  - نام آب وهوایی که زمستان های معتدل و بهار آن های گرم و خشک دارد چیست؟ ..... 5/، نمره 16- چهار رود مهم اروپا را نام ببرید. 17- نمره

سربداران باچه شعاری به مقابله باحاکمان مغول برخواستند؟ 1نمره-18

چراکناره های آفریقا برای پهلوگرفتن کشتی وساخت بندرمناسب نیست؟ 1نمره-19

دوموردازخطراتی که ساکنان دلتا باآن روبروهستندرابنویسید. 1نمره-20

پرجمعیت تزین شهرآسیاچه نام داردومتراکم ترین ناحیه زمین ازنظرجمعیت کجاست؟ 1نمره-21

( ) (پرجمعیت ترین شهر) ( متراکم ترین ناحیه

سیاهان چگونه به قاره آسیاراه یافتند؟ 1نمره-22

کدام کشورهای جنوب غرب آسیا توانسته اندازطریق رونق گردشگری یا تجارت اقتصاد خود را متحول-23

کنند. 1نمره

دومورد از عواملی که باعث پیشرفت اقتصادی آمریکای شمالی شده است را نام ببرید. 1نمره-24

چرا جنوب غرب آسیا منطقه ای پر تنش است؟ (دو مورد) 1نمره-25

سوالات فصل 1 تا 6

دومورد از اثرات منفی وسایل ارتباط جمعی را بنویسید. 1نمره-1

حکومتهای ایرانی بعداز اسلام را از نظر چگونگی به قدرت رسیدن ورباطه با خلیفه ی عباسی را با هم-2 مقایسه کنید. 1نمره

طاهریان وسامانیان.....

آل بویه -علویان وصفاریان.....

مشخص کنید در موارد زیر از چه راهی انفاق شده است؟ 1نمره-3

الف-سارا در درس ریاضی به دوستش کمک می کند

ب-حامد در خانه تکانی به مادر بزرگش کمک می کند