

به نام خدا

پایه نهم

امتحان شنیداری زبان انگلیسی

نام :

تاریخ :

نام خانوادگی :

1 به فایل صوتی گوش کنید و گزینه مناسب را انتخاب کنید؟

1. Who is she, Anita ?

This is my .....

a) sister , Zahra    b) father , Zakaria    c) mother , Zahra    d) brother , Zakaria

2. What's she like ?

a) helpful    b) patient    c) neat    d) hard-working

1 به مکالمه گوش دهید و به سوالات زیر پاسخ دهید؟

1. Where is Brenda from ?

She is from .....

2. What's Brenda doing ?

She is ..... the website.

2 به فایل صوتی گوش دهید و گزینه ی صحیح هر قسمت را انتخاب کنید.

1. Mr. Javedan is from ..... ( Iraq / Iran ).

2. It's room ..... ( 311 / 113 )

3. He is going to stay for ..... ( three / two ) nights.

4. He wants to check his ..... ( passport / ticket ) .

1 به فایل صوتی گوش دهید و گزینه درست را در هر قسمت مشخص کنید.

### New Year holiday in his country

When :	January <input type="checkbox"/>	February <input type="checkbox"/>
Weather :	Warm <input type="checkbox"/>	cold <input type="checkbox"/>
Activity :	Watch fireworks <input type="checkbox"/>	buy clothes <input type="checkbox"/>
Special food :	Yes <input type="checkbox"/>	No <input type="checkbox"/>

Good Luck    Shadanpour

دانش آموزان عزیز، یکی از موضوعات زیر را انتخاب کرده، در مورد آن با توجه به رعایت رسم الخط، طبقه بندی و کاربرد درست علائم نگارشی، حداقل در ۱۵ سطر خوش خط و خوانا، بنویسید.

۱- کمک کردن به دیگران

۲- گذشتن عمر مثل گذشتن ابرها

۳- سفید پوش شدن زمین پس از بارش برف

نام و امضاء دبیر:	نمره به حروف:	نمره به عدد:
-------------------	---------------	--------------

.....

.....

.....

.....

.....

.....

.....

.....

.....

.....

.....

.....

.....

.....

.....

.....

.....

.....

.....

.....

.....

.....

.....

.....

.....

.....

.....

نام و نام خانوادگی:

به نام آن که هستی نام از او یافت

نام درس: املا (نوبت اول)

نام کلاس: نهم

دبیرستان نمونه و هوشمند رسولیان

تاریخ امتحان: ۱۴۰۰/۱۰/۱۲

و مَثَل تو چون مورچه ای است که در قصر مَلِکی سوراخی دارد؛ جز غذای خویش و یاران خویش چیزی نمی بیند و از جمالِ صورتِ قصر و بسیاریِ غلامان و سریرِ مُلکِ وی، هیچ خبر ندارد. اگر خواهی به درجهٔ مورچه قناعت کنی، می باش و اگر نه، راهت داده اند تا در بستانِ معرفتِ حق تعالی، تماشا کنی و بیرون آیی؛ چشم باز کن تا عجایب بینی که مدهوش و متحیر شوی.

دوستان واقعی، راه نیک بختی را به ما نشان می دهند و همراهان خوبی برای شکوفایی بهتر هستند. آنها مثل آینه، همان قدر که خوبی ها را پیش چشم می آورند، عیب ها را هم به ما می نمایند و مهم تر آنکه این همه را بی صدا و بی هیاهو، باز می گویند.

یکی از زمینه های اجتماعی گمراه شدن، تأثیر هم نشین بد است. به تجربه ثابت شده است که انسان تحت تأثیر رفتار دوست قرار می گیرد و رفیق بد، عامل ویرانگری و همدم نیکوخال، باعث پرورش شخصیت متعالی انسان می شود.

سخن، ناپرسیده مگوی و از گفتار خیره پرهیز کن. چون باز پرسند، جز راست مگوی. تا نخواهند، کس را نصیحت مگوی و پند مده؛ خاصه کسی را که پند نشنود که او خود اوفتد.

دیوان حافظ، نامهٔ زندگی و زندگی نامهٔ ماست. مهم ترین آموزش غیر مستقیم حافظ این است که به ما شیوهٔ درست نگاه کردن به زندگی را می آموزد؛ نه این که به ما چند رهنمود و پند تحویل دهد.

نام خانوادگی:	باسمه تعالی	نام درس: فارسی
کلاس:	اداره کل آموزش و پرورش استان یزد	پایه نهم
نام دبیر مربوطه:	آموزش و پرورش ناحیه یک یزد	زمان: ۴۰ دقیقه

نمره به عدد:	نمره به حروف:	امضای دبیر:
--------------	---------------	-------------

### معنی واژه (نمره)

۱	معنی واژه های مشخص شده را بنویسید.
	* <u>مَلِکَا</u> ذکر تو گویم که تو پاکی و خدایی نروم جز به همان ره که توام راه نمایی (.....)
	* از جمال صورت قصر و بسیاری غلامان و <u>سریر</u> مُلک وی هیچ خبر ندارد. (.....)
	* در محاوراتی که به حضور او میان دو کس رود، <u>خوض</u> ننماید. (.....)
	* هان مشو نومید! چون <u>واقف</u> نه ای از سرّ غیب باشد اندر پرده، بازی های پنهان، غم مخور (.....)

### تاریخ ادبیات (نمره)

۲	به سؤال های زیر پاسخ دهید.
	* نویسنده آثار زیر را بنویسید.
	۱- حدیقه الحقیقه: ۲- مرزبان نامه:
	* موضوع آثار زیر را بنویسید.
	۱- اسرار التوحید: ۲- قابوس نامه:

### معنی و مفهوم شعر و نثر (۲/۵ نمره)

۳	بیت ها و جمله های زیر را به فارسی روان بازنویسی کنید.
	* در وقت بهار بنگر و تفکر کن که زمین چگونه زنده شود و چون دیبای هفت رنگ گردد، بلکه هزار رنگ شود.
	* خبرت هست که مرغان سحر می گویند: آخر ای خفته، سر از خواب جهالت، بردار؟
	* مپیچ از ره راست، بر راه کج چو در هست، حاجت به دیوار نیست
	* دور گردون، گر دو روزی بر مراد ما نرفت دائماً یکسان نباشد حال دوران، غم مخور
	* سخن، ناپرسیده مگوی و از گفتار خیره پرهیز کن. چون بازپرسند، جز راست مگوی.

نام خانوادگی:	باسمه تعالی	نام درس: فارسی
کلاس:	اداره کل آموزش و پرورش استان یزد	پایه نهم
نام دبیر مربوطه:	آموزش و پرورش ناحیه یک یزد	زمان: ۴۰ دقیقه

دانش های زبانی (۱/۵) نمره

۴	<p>به سؤال های زیر پاسخ دهید.</p> <p>* نقش واژه های مشخص شده را بنویسید.</p> <p>- تو را تا در آینه، زنگار نیست (.....)</p> <p>- نیابد بدو نیز، اندیشه راه (.....)</p> <p>* در جمله های زیر هسته گروه اسمی را مشخص کنید.</p> <p>- این همه آیات حق تعالی (.....)</p> <p>- چه خلقت شگفت انگیزی! (.....)</p> <p>* نوع فعل جمله های زیر را بنویسید.</p> <p>- اینک دارم برای دوست مهربان و صمیمی ام نامه می نویسم. (.....)</p> <p>- حافظ به ما خوب زیستن و شاد زیستن می آموزد. (.....)</p>
---	--

درک مطلب (۲/۵) نمره

۵	<p>* مقصود نویسنده از بیان جمله زیر چیست؟</p> <p>"گوهر تن از گوهر اصل بهتر بود"</p> <p>* مفهوم بیت زیر را بنویسید.</p> <p>- آینه چون نقش تو بنمود راست خود شکن، آینه شکستن خطاست</p> <p>* مفهوم عبارت هایی که مشخص شده است، بنویسید.</p> <p>- وقت آن است که دست از این میل و آرزو برداری و <u>درخت اعمال نیک در بهشت بنشانی</u>.</p> <p>- تا نخواهند، کس را نصیحت مگوی و پند مده؛ خاصه کسی را که پند نشنود که او خود اوفتد.</p> <p>* منظور باغبان نیک اندیش از جمله «دیگران نشانند، ما خوردیم، اکنون ما بنشانیم تا دیگران خورند» چیست؟</p>
---	--

دانش های ادبی (۱/۵) نمره

۶	<p>* مشخص کنید که کدام یک از بیت های زیر دارای پرش انکاری است؟</p> <p>- دیدار یار غایب دانی چه ذوق دارد؟ ابری که در بیابان بر تشنه ای ببارد <input type="radio"/></p> <p>- که تواند که دهد میوه الوان از چوب؟ یا که داند که برآرد گل صد برگ از خار؟ <input type="radio"/></p> <p>* آرایه ادبی بیت های زیر را مشخص کنید. (هر کدام یک مورد)</p> <p>- مار بد جانی ستاند از سلیم یار بد آرد سوی نار مقیم (.....)</p> <p>- سعدیا، راست روان گوی سعادت بردند راستی کن که به منزل نرسد، کج رفتار (.....)</p>
---	---

	<p style="text-align: center;">به نام خدا</p> <p style="text-align: center;">دبیرستان نمونه و هوشمند رسولیان</p> <p style="text-align: center;">آزمون نوبت اول مطالعات اجتماعی نهم</p> <p style="text-align: center;">شماره کلاس:</p> <p style="text-align: center;">مدت آزمون: ۶۰ دقیقه</p> <p style="text-align: right;">نام و نام خانوادگی:</p>	
بارم	سوال	ردیف
۲	<p style="text-align: center;"><b>➤ صحیح یا غلط بودن جملات زیر را مشخص کنید؟</b></p> <p>۱- موقعیت مکانی یک پدیده، مکان دقیق قرار گرفتن آن روی کره زمین است.    ص    غ</p> <p>۲- دو شهری که یکی در ۶۰ درجه غربی و دیگری در ۶۰ درجه شرقی قرار دارد با هم چهار ساعت اختلاف ساعت دارند.    ص    غ</p> <p>۳- در ناهمواری های جوان، قله ها گنبدی شکل و شیب دامنه ها ملایم است.    ص    غ</p> <p>۴- هوا همیشه از جایی که فشار کمتری دارد به سمت جایی که فشار بیشتری وجود دارد جریان می یابد.    ص    غ</p> <p>۵- نواحی صنعتی و مکان های گردشگری جمعیت را به خود جذب می کنند.    ص    غ</p> <p>۶- تفاوت میان میزان موالید و میزان مرگ و میر، رشد طبیعی جمعیت را نشان می دهد.    ص    غ</p> <p>۷- شاه تهماسب پس از تاج گذاری و تأسیس حکومت صفویه، مذهب شیعه را مذهب رسمی کشور اعلام کرد.    ص    غ</p> <p>۸- در دوره صفوی، به سبب کم توجهی پادشاهان به شاعران، شعر و ادب فارسی مانند دیگر رشته ها پررونق نبود.    ص    غ</p>	الف
۲	<p style="text-align: center;"><b>➤ تکمیل کنید؟</b></p> <p>۹- یکی از نتایج حرکت وضعی زمین ..... است.</p> <p>۱۰- بلندترین فلات جهان ..... است.</p> <p>۱۱- قرن های شانزدهم تا نوزدهم میلادی را در تاریخ اروپا ..... می نامند.</p> <p>۱۲- نخستین حرکت جدی مردم ایران برای رهایی از نفوذ و سلطه خارجی و ایستادگی در برابر ستم داخلی، ..... نام دارد</p>	ب
۲	<p style="text-align: center;"><b>➤ گزینه صحیح را انتخاب کنید؟</b></p> <p>۱۳- کدامیک از سیارات زیر سطحی جامد دارد؟ الف) برجیس    ب) کیوان    ج) بهرام    د) نپتون</p> <p>۱۴- تشکیل ابرها و ایجاد بسیاری از تغییرات آب و هوایی در کدام لایه از هواکره صورت می گیرد؟ الف) ورد سپهر (تروپوسفر)    ب) پوشن سپهر (استراتوسفر)    ج) میان سپهر (مزوسفر)    د) دما سپهر (ترموسفر)</p> <p>۱۵- تخریب جنگل های استوایی در کدام کشورها بسیار گسترش یافته و باعث نابودی بسیاری از گونه های گیاهی و جانوری شده است؟ الف) برزیل و اندونزی    ب) کانادا و تایلند    ج) کانادا و کنیا    د) کانادا و هند</p> <p>۱۶- وکیل الرعایا لقب چه کسی بود؟ الف) نادرشاه    ب) کریم خان    ج) آقا محمد خان    د) عباس میرزا</p>	ج
۲	<p style="text-align: center;"><b>➤ پاسخ دهید؟</b></p> <p>۱۷- هر یک از ویژگی های زیر مربوط به کدام زیست بوم می باشد؟</p> <ul style="list-style-type: none"> <li>❖ بیشترین وسعت آن در قاره آفریقا است و دو فصل خشک و مرطوب وجود دارد.(.....)</li> <li>❖ به داشتن جنگل های مخروطیان و سوزنی برگ ها معروف است. (.....)</li> <li>❖ میزان بارندگی سالیانه آن کمتر از 50 میلی متر است (.....)</li> <li>❖ گیاهانی چون خزه و گل سنگ دارد (.....)</li> </ul>	د
۱	<p>۱۸- عوامل موثر بر آب و هوای جهان را نام ببرید؟ (دو مورد)</p>	
ادامه سوالات پشت برگه		

۴	<p>۱۹- مفاهیم زیر را تعریف کنید؟</p> <ul style="list-style-type: none"> <li>❖ عرض جغرافیایی:</li> <li>❖ انقلاب زمستانی:</li> <li>❖ هیدروسفر:</li> <li>❖ امید به زندگی:</li> </ul>	
۱	<p>۲۰- مهم ترین عواملی که باعث تخریب زیستگاه ها در جهان شده است را نام ببرید؟(دو مورد)</p>	
۱	<p>۲۱- پیامدهای رشد منفی جمعیت را بنویسید(دو مورد)</p>	
۱	<p>۲۲- به طور کلی عوامل شکل گیری نابرابری در جهان را به دو بخش می توان تقسیم کرد نام ببرید و هر یک را توضیح دهید؟</p>	
۱	<p>۲۳- جنگ چالدران را توضیح دهید؟ نتیجه آن چه بود؟</p>	
۱	<p>۲۴- در عصر صفوی به چه دلایلی تجارت پر رونق بود؟(دو مورد)</p>	
۱	<p>۲۵- مهمترین اقدامات امیرکبیر را نام ببرید؟(دو مورد)</p>	
۱	<p>۲۶- علل شکست ایران از روس ها در دوره قاجار و تحمیل معاهدات خسارت بار گلستان و ترکمان چای چه بود؟(دو مورد)</p>	
۲۰	<p>جمع بارم</p>	<p>موفق باشید</p>

## پیامهای آسمانی پایه نهم (نوبت اول)

۱\_ آیه شریفه زیر را ترجمه کنید. (۲)

«انَّه یَعْلَمُ الْجَهْرَ وَ مَایْخَفِی»

---

۲\_ چرا خداوند احکام و قوانینی را برای بندگانش وضع نموده است؟ (۱)

---

۳\_ حمد و تسبیح خدا یعنی چه؟ (۱)

---

۴\_ راه های تقویت ایمان به خدا را بیان کنید. (۱.۵)

---

۵\_ چند نمونه از عقاید باطل و خرافات که امروزه در برخی از کشورها رایج است بیان کنید. (۱)

---

۶\_ به سوالات زیر پاسخ کوتاه بدهید. (۲.۵)

الف: به فرموده پیامبر بهترین کارهای امت من چیست؟

ب: ولایت فقیه یعنی چه؟



ج: نتیجه همنشینی با انسانهای هوس ران چیست؟

د: دو ویژگی امام خمینی را بیان کنید.

---

۷\_ شرایط ظهور حضرت مهدی را بیان کنید. (۲)

---

۸\_ چرا پیامبران در راه انجام دستورات خدا استقامت می کردند؟ (سه مورد) (۱.۵)

---

۹\_ ایمان چیست و سخن حضرت علی را درباره اهمیت ایمان و عمل بیان کنید. (۲)

---


۱۰\_ ویژگی یاران امام زمان چیست؟ ۴ مورد (۲)

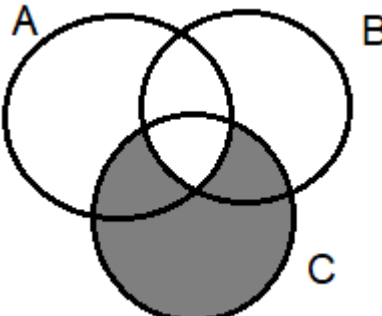
---

۱۱\_ فقیهانی که هدایت مردم را به عهده دارند چه ویژگی هایی دارند؟ ۴ مورد (۲)

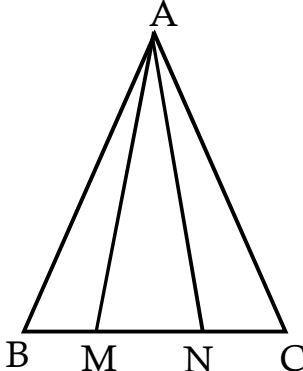
---

۱۲\_ سه مورد از ویژگی های پیامبران الهی را بیان کنید. (۱.۵)

	مدت امتحان	مدیریت آموزش و پرورش ناحیه یک یزد			سوالات ارزشیابی نوبت: اول
	تاریخ آزمون	دبیرستان نمونه دولتی رسولیان دوره اول			درس: ریاضیات
	جمع نمره:	پایه	کدرانش آموزی	نام خانوادگی	تعداد صفحه و سوال: ۴ سوال ۱۸
	۹۰ دقیقه				

بارم	متن سوال	ردیف
۱	<p>درستی یا نادرستی عبارت های زیر را با ص یا غ مشخص کنید.</p> <p>الف) هر دو لوزی دلخواه متشابه هستند.</p> <p>ب) با جابجایی عضو های یک مجموعه «مجموعه جدیدی ساخته میشود».</p> <p>ج) هر عدد صحیح را میتوان بصورت یک عدد گویا نوشت.</p> <p>د) ریشه دوم عدد ۴- (منفی چهار) با ریشه سوم عدد ۸- (منفی ۸) برابر است.</p>	۱
۱	<p>در سؤالات زیر گزینه صحیح را مشخص کنید:</p> <p>۱- قسمت رنگی در نمودار مقابل کدام است.</p>  <p>الف) <math>(A \cap B) \cup (A \cap C)</math>    ب) <math>(A \cap B) - C</math>    ج) <math>(B \cap C) \cup A</math>    د) <math>(A \cap B) \cup (A \cap C)</math></p> <p>۲- عدد <math>2 + \sqrt{3}</math> بین کدام دو عدد صحیح متوالی قرار دارد.</p> <p>الف) ۲ و ۳    ب) ۱ و ۲    ج) ۱ و ۰    د) ۰ و -۱</p> <p>۳- کدام دو شکل همواره متشابه نیستند.</p> <p>الف) هر دو مثلث قائم الزاویه متساوی الساقین    ب) هر دو شش ضلعی منتظم دلخواه</p> <p>ج) هر دو مستطیل دلخواه    د) هر دو لوزی با یک زاویه برابر</p> <p>۴- عدد <math>\left(\frac{1}{64}\right)^{-12}</math> را بصورت عدد <math>2^m</math> نوشته ایم آنگاه <math>m</math> کدام است.</p> <p>الف) ۱۸    ب) -۱۸    ج) ۳۶    د) ۷۲</p>	۲

۳	<p>جاهای خالی را با کلمات مناسب کامل کنید:</p> <p>الف) اگر <math>A \subseteq B</math> باشد آنگاه <math>A \cup B</math> برابر است با ..... .</p> <p>ب) عدد اعشاری مربوط به کسر <math>\frac{17}{3}</math> عددی ..... است. (مختوم-متناوب)</p> <p>ج) اگر زاویه بین دو خط در طبیعت <math>120^\circ</math> درجه باشد زاویه بین آن دو خط روی نقشه.....درجه است.</p> <p>د) عدد ۵- (منفی پنج) ریشه سوم عدد ..... است.</p>	۱
۴	<p>به سوال های زیر پاسخ کامل دهید.</p> <p>اگر دو مجموعه <math>\{1, 5, 3\}</math>، <math>\{5, 1, 2k + 1\}</math> باهم برابر باشند مقدار مجهول را بدست آورید.</p>	۰/۵
۵	<p>الف) مجموعه زیر را با اعضا مشخص کنید.</p> $\left\{ \frac{x-2}{x+1} \mid x \in Z, -2 \leq x \leq 2, x \neq -1 \right\} =$ <p>ب) مجموعه زیر را بصورت ریاضی نمایش دهید.</p> $\{-4, -3, -2, \dots, 25, 26, 27\}$	۰/۵
۶	<p>مجموعه <math>A = \{2, 4, 6, 8, 9\}</math> و <math>B = \{1, 5, 7, 9, 3\}</math> و <math>C = \{1, 7, 10, 11\}</math> را در نظر بگیرید.</p> <p>الف) هر یک از مجموعه های زیر را با اعضایشان مشخص کنید.</p> <p>ب) درستی یا نادرستی عبارت های زیر را مشخص کنید.</p> <p><math>\forall \in (B \cap C) \quad 5 \notin (A \cup B) \quad \{1, 7\} \subseteq (B \cap C) \quad \emptyset \subseteq (B - C)</math></p>	۱
۷	<p>خانواده ای دارای سه فرزند است احتمال اینکه فرزند دوم آنها دختر باشد چقدر است. (حالت های مطلوب نوشته شود)</p>	۰/۵
۸	<p>الف) بین <math>\frac{1}{5}</math>، <math>\frac{1}{4}</math> دو کسر بنویسید.</p> <p>ب) بین <math>3</math>، <math>\sqrt{11}</math> دو عدد گنگ بنویسید.</p>	۰/۵
۹	<p>الف) مجموعه زیر را روی محور نشان دهید.</p> $\{x \in Z \mid -3 \leq x < 2\}$ <p>ب) با توجه به محور مجموعه متناظر با آن را بنویسید.</p> 	۰/۵
۱۰	<p>عدد <math>-1 + \sqrt{5}</math> را روی محور نشان دهید.</p>	۰/۷۵

۱/۵	$\left  \frac{\frac{3}{4} + \frac{5}{2}}{3 - \frac{1}{4}} \right  =$ $\sqrt{(2\sqrt{3} - 3\sqrt{2})^2} =$	۱۱	حاصل عبارت های زیر را به ساده ترین صورت بنویسید.
۱	<p>ثابت کنید در هر مثلث اندازه هر زاویه خارجی برابر است با مجموع دو زاویه داخلی غیر مجاورش. (نوشتن فرض و حکم اجباری است)</p>	۱۲	
۱/۵	<p>در شکل زیر مثلث <math>ABC</math> متساوی الساقین است و <math>M, N</math> طوری روی قاعده قرار گرفته اند که <math>BM = NC</math> ثابت کنید مثلث <math>AMN</math> هم متساوی الساقین است.</p> 	۱۳	
۰/۵	<p>اگر مقیاس نقشه ای ۷ به ۶۰۰۰ باشد و فاصله دو نقطه در طبیعت ۱۲۰۰۰۰۰ متر باشد فاصله آن دو نقطه روی نقشه چند سانتی متر است.</p>	۱۴	
۱	<p>مستطیلی با طول ۱۵ و عرض ۹ با مستطیلی با طول <math>2x - 1</math> و عرض ۶ متشابه است.</p> <p>الف) نسبت تشابه را بدست آورید.</p> <p>ب) مقدار مجهول را محاسبه کنید.</p>	۱۵	
۰/۵	<p>حاصل هر عبارت را بصورت عددی تواندار بنویسید.</p> $(3^{-5} \times 10^{-5}) \div 30^4 =$	۱۶	
۰/۷۵			



	$\frac{\left(\frac{2}{3}\right)^3 \times \left(\frac{8}{3}\right)^{-3}}{-2^5 \times 2^{-8}} =$		
۰/۲۵	الف) در عبارت $5^x \div 5^{-2} = 5^9$ مقدار مجهول را بدست آورید.	۱۷	
۰/۵	ب) عدد $0/000521$ را بصورت نماد علمی بنویسید.		
۰/۲۵	ج) نمایش اعشاری عدد $2/05 \times 10^4$ را بنویسید.		
۱/۵	الف) حاصل عبارت های زیر را به ساده ترین صورت بنویسید.	۱۸	
۰/۵	$\frac{\sqrt{18} \times \sqrt{60}}{\sqrt{5}} =$ $2\sqrt{50} + \sqrt{32} - 2\sqrt{72} =$ <p>ب) مخرج کسر زیر را گویا کنید.</p> $\frac{5}{2\sqrt{3}}$		
	چرک نویس		

شماره صندلی	باسمه تعالی	نام درس: عربی
نام:	اداره کل آموزش و پرورش استان یزد	تاریخ امتحان: ۱۴۰۰/۱۰/۱۱
نام خانوادگی:	مدیریت آموزش و پرورش ناحیه یک یزد	تعداد صفحه: ۳ صفحه
نام پدر:	دبیرستان نمونه رسولیان (دوره اول)	تعداد سوال: ۱۸ سوال
پایه: نهم	<b>(( نوبت اول ))</b>	زمان شروع: ۸ صبح
نام دبیر:		وقت: ۶۰ دقیقه

ضمن خیرمقدم به دانش آموزان و داوطلبان عزیز، سوالات زیر را به دقت بخوانید و با توکل به خدا و آرامش خاطر پاسخ دهید.  
 نمره با عدد: نمره با حروف: امضا = نمره کتبی ..... + نمره شفاهی .....

شماره	سوالات	بارم
۱	<p>جمله های زیر را ترجمه کنید.</p> <p>(الف) هَا كُتُبِي اَنْوَارٌ سَمَائِي. ....</p> <p>(ب) كَتَبَ التَّلَامِيذُ صَحِيفَةً جِدَارِيَّةً. ....</p> <p>(ج) جُسُورٌ كَثِيْرَةٌ باقِيَّةٌ. ....</p> <p>(د) اِسْمَعُوا كَلَامِي وَاَعْمَلُوا بِهِ. ....</p> <p>(ه) عَفْوًا، فَلَا تَرَكَبْ هَذِهِ الْحَافِلَةَ. ....</p> <p>(و) اَتَمَّتْ لَكُمْ زِيَارَةً مَقْبُولَةً. ....</p>	۴/۵
۲	<p>آیات و احادیث زیر را ترجمه کنید.</p> <p>(الف) ﴿يَرْفَعُ اللَّهُ الَّذِينَ آمَنُوا مِنْكُمْ﴾ .....</p> <p>(ب) ﴿... أَنْصُرْنَا عَلَى الْقَوْمِ الْكَافِرِينَ﴾ .....</p> <p>(ب) لَا عَمَلَ كَالْتَحْقِيقِ. ....</p>	۲
۳	<p>ترجمه درست هر عبارت را مشخص کنید.</p> <p>۱- يَا أَيُّهَا التَّلْمِيذُ، اُسْكُرْ رَبَّكَ . (الف) ای دانش آموز پروردگارت را شکر می کنی.          (ب) ای دانش آموز پروردگارت را شکر کن.</p> <p>۲- تِلْكَ سَفِيْنَةٌ حَرَبِيَّةٌ تَقْتَرِبُ مِنَّا. (الف) آن کشتی جنگی به ما نزدیک می شود.          (ب) به آن کشتی جنگی نزدیک می شویم.</p>	۰/۵

۴	کلمات مترادف و متضاد را از میان کلمات زیر انتخاب کرده و در جای مناسب بنویسید. (دو کلمه اضافی است) (حَزِين - كَذَبَ - نِهَائِيَّة - مَحْزُون - شَقَاوَةٌ - صَدَقَ)	۰/۵
۵	واژه های مشخص شده را ترجمه کنید. الف) قَبْلَ أَخَاهُ وَاعْتَدَرَ. ب) هُوَ وَلَدٌ ذَكِيٌّ وَهَادِيٌّ	۰/۵
۶	نام هر تصویر را از کلمات داده شده انتخاب کنید و در کنار آن بنویسید. (دو کلمه اضافی است) (مَوْقِف - مُسْتَشْفَى - مَحْزَن - مُكَيِّف)	۰/۵
		
۷	در بین هر دسته از کلمات، کلمه ناهماهنگ را مشخص کنید. الف) مُحَافِظَةٌ - قَرْيَةٌ - مَدِينَةٌ - عَامِلٌ ب) اِنْقِلَابٌ - اِنْتِظَارٌ - اِسْتِغَالٌ - اِجْتِمَاعٌ	۰/۵
۸	وزن و حروف اصلی کلمه زیر را بنویسید. مَفْتُوح: وزن: ..... حروف اصلی: .....	۰/۵
۹	گزینه مناسب را انتخاب کنید. ۱- أُخِي.....الآن إلى المسجد. ۲- أَلْعِلْمُ وَ الْمَالُ.....كُلُّ عَيْبٍ. ۳- يَا أُخْتِي.....مُسْتَقْبَلِكِ. ۴- يَا طُلَّابُ، .....الْحَطَبِ. الف) ذَهَبٌ ب) يَذْهَبُ الف) يَسْتُرَانِ ب) يَسْتُرُونَ الف) اِصْنَعُ ب) اِصْنَعِي الف) اِجْمَعَنَّ ب) اِجْمَعُوا	۱
۱۰	هر کلمه را به توضیح مناسب آن وصل کنید. (دو کلمه اضافی است) أَلْمَطْعَمُ المُسْتَشْفَى الصَّحِيفَةُ الرَّصِيفُ أوراقٌ فيه أخبارٌ و معلوماتٌ أُخرى. مَكَانٌ يَأْكُلُ فِيهِ النَّاسُ الْفَطُورَ وَ الْعَدَاءَ وَ الْعِشَاءَ.	۰/۵
۱۱	به پرسش های زیر پاسخ کوتاه دهید؟ (به عربی) الف) فِي أَيِّ صَفِّ أَنْتَ؟ ب) مِنْ أَيْنَ أَنْتَ؟	۰/۵

۰/۵	جاهای خالی را با استفاده از کلمات مناسب پر کنید. (دو کلمه اضافی است) (الدَّمْعُ - مَلْعَبٌ - مَصْنَعٌ - الْبُكَاءُ) الف) جَارُنَا يَعْمَلُ فِي ..... الْكَرَاسِيِّ. ..... ب) جَارِيَةٌ عَلَى وَجْهِ الطِّفْلِ.	۱۲
۱	کلمات را در جای مناسب بنویسید. (دو کلمه اضافی می باشد) (أَعْدَاءٌ - سَنَتَيْنِ - جِسْرَيْنِ - أَجْرَةٌ - صَالِحَاتٌ - رَاحِمُونَ) مفرد مونث مثنی مونث جمع مذکر سالم جمع مکسر	۱۳
۱	متن داده شده را بخوانید و به سوالات پاسخ دهید. بِنِيَامِينَ وَلَدٌ مَهْزِيَارٍ فِي الصَّفِّ التَّاسِعِ . هُوَ يَسْكُنُ فِي مَدِينَةٍ تَفَتْ فِي مُحَافِظَةِ يَزِد . لَهُ حَقِيبَةٌ الدَّرَاسِيَّةِ وَ فِي حَقِيبَتِهِ ثَلَاثَةٌ كُتُبٍ وَ دَفْتَرٍ وَ قَلَمَانِ . هُوَ يَذْهَبُ بِالسَّيَّارَةِ إِلَى الْمَدْرَسَةِ فِي السَّاعَةِ السَّابِعَةِ . وَ هُوَ يَرْجِعُ إِلَى الْبَيْتِ فِي الظُّهْرِ. الف) مَا إِسْمُ وَلَدِ مَهْزِيَارٍ ؟ ب) بِنِيَامِينَ أَيَّ سَاعَةٍ يَذْهَبُ إِلَى الْمَدْرَسَةِ ؟ ج) كَمَ كِتَابًا فِي الْحَقِيبَةِ بِنِيَامِينَ ؟ د) بِمَ يَذْهَبُ بِنِيَامِينَ إِلَى الْمَدْرَسَةِ ؟	۱۴
۰/۵	درستی یا نادرستی جمله های زیر را بر اساس حقیقت بنویسید. بَعْدَ مَا صَدَمَتِ سَيَّارَةٌ عَابِرًا يَأْتِي شُرْطِيُّ الْمُرُورِ . الْمُسْتَشْفَى مَكَانٌ نَجْعَلُ وَ نَحْفَظُ فِيهِ أَشْيَاءَ مُخْتَلِفَةً.	۱۵
۰/۵	با توجه به تصاویر ، به سوالات زیر پاسخ کوتاه دهید.  مَازَا عَلَى الشَّجَرَةِ ؟  كَمَ كُرْسِيًّا حَوْلَ الْمِنْصَدَةِ ؟	۱۶
۳	روخوانی	۱۷
۲	مکالمه	۱۸
جمع نمره ۲۰		أَتَمَنَى لَكُمْ التَّوْفِيقَ النِّجَاحَ

بسمه تعالی

تاریخ امتحان: ... / ۱۰ / ۱۴۰۰  
ساعت امتحان:  
مدت امتحان: ۷۵ دقیقه  
تعداد صفحات: ۳ صفحه

سازمان آموزش و پرورش استان یزد  
مدیریت آموزش و پرورش ناحیه یک  
امتحان علوم نهم نوبت اول  
دبیرستان نمونه رسولیان (دوره اول)

نام: .....  
نام خانوادگی: .....  
نام کلاس: .....  
درس: علوم

نمره به عدد:		نمره به حروف:	
نام دبیر:		نام دبیر:	
تاریخ و امضا:		تاریخ و امضا:	
محل مهر و امضا مدیر	نمره به عدد:	نمره به حروف:	نام دبیر:
بارم	سوالات		ردیف
جاهای خالی را با کلمات مناسب پر کنید.			
۰/۲۵	نیروی اصطکاک بین دو جسم به ..... دو جسم بستگی دارد .		۱
۰/۲۵	نام عمومی ترکیبات نفت خام به علت داشتن هیدروژن و کربن ..... است.		۲
۰/۲۵	به شکستگی‌های پوسته زمین که نسبت به هم جابه‌شده باشند ..... می‌گویند.		۳
۰/۲۵	یک اتم کربن می‌تواند حداکثر ..... پیوند کووالانسی ایجاد کند .		۴
جملات درست و نادرست را مشخص کنید			
۰/۲۵	همواره نیروی عمودی سطح، رو به بالاست.		۱
۰/۲۵	اتم‌های فلز با از دست دادن الکترون به آنیون تبدیل می‌شوند.		۲
۰/۲۵	در حرکت یکنواخت روی خط راست سرعت متوسط برابر سرعت لحظه‌ای است.		۳
۰/۲۵	مولکولی با دو اتم کربن و دو اتم هیدروژن ۴ پیوند کووالانسی دارد.		۴
بهترین گزینه را انتخاب کنید.			
۰/۲۵	ذرات سازنده کدام ترکیبات زیر یون نمی‌باشد؟ (الف) نمک خوراکی (ب) پتاسیم پرمنگنات (ج) اتانول (د) کات کبود		۱
۰/۲۵	ماده اولیه پلاستیک کدام است؟ (الف) اتن (ب) اتان (ج) متان (د) بوتان		۲
۰/۲۵	وقتی هواپیما در ارتفاعی ثابت و با سرعت ثابت در حال حرکت است، کدام نیروهای باهم برابر است؟ (الف) پیشران و بالابری - مقاومت هوا و وزن (ب) پیشران - بالابری و مقاومت هوا (ج) وزن و اصطکاک - مقاومت هوا و پیشران (د) پیشران و مقاومت هوا - بالابری و وزن		۳
۰/۲۵	کدام عامل سبب حرکت ورقه‌های سنگ کره می‌شود؟ (الف) جاذبه زمین (ب) سنگینی ورقه‌ها (ج) خمیری بودن گوشته (د) جریان همرفتی		۴

به سوالات زیر پاسخ کوتاه دهید.

۰/۵	۱	اجزای نفت خام را بر چه اساسی از یکدیگر جدا می‌کنند؟
۰/۵	۲	چرا سازندگان اتومبیل‌های مسابقه‌ای تا حد امکان آن‌ها را سبک می‌سازند؟
۰/۵	۳	چرا سدیم در زیر نفت نگهداری می‌شود؟
۰/۵	۴	آب برخی دریاچه‌ها مانند دریاچه ارومیه بسیار شور است. به طوری که در این دریاچه‌ها به راحتی می‌توان شناور ماند و حتی روی آب، روزنامه خواند. چرا؟

مفاهیم زیر را تعریف کنید.

۰/۵	۱	جابه‌جایی:
۰/۵	۲	نظریه زمین ساخت ورقه‌ای:
۱	۳	قانون کنش و واکنش:

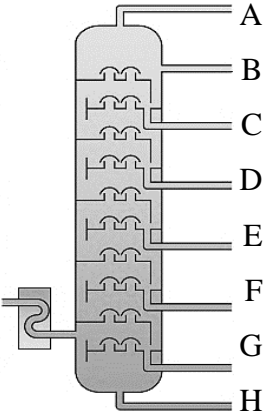
وصل کنید

۱	۱	هریک از عبارتهای ستون الف فقط با یکی از موارد ستون ب ارتباط دارد. عبارت و کلمه مناسب را بهم وصل کنید.												
		<table border="1"> <thead> <tr> <th>الف</th> <th>ب</th> </tr> </thead> <tbody> <tr> <td>در ساخت مغز مداد استفاده می‌شود.</td> <td>گوگرد</td> </tr> <tr> <td>در ساخت آفت‌کش‌ها استفاده می‌شود.</td> <td>هیدروژن</td> </tr> <tr> <td>در سولفوریک اسید استفاده می‌شود.</td> <td>کلر</td> </tr> <tr> <td>در ساخت آمونیاک مورد استفاده قرار می‌گیرد.</td> <td>کربن</td> </tr> <tr> <td></td> <td>فلوئور</td> </tr> </tbody> </table>	الف	ب	در ساخت مغز مداد استفاده می‌شود.	گوگرد	در ساخت آفت‌کش‌ها استفاده می‌شود.	هیدروژن	در سولفوریک اسید استفاده می‌شود.	کلر	در ساخت آمونیاک مورد استفاده قرار می‌گیرد.	کربن		فلوئور
الف	ب													
در ساخت مغز مداد استفاده می‌شود.	گوگرد													
در ساخت آفت‌کش‌ها استفاده می‌شود.	هیدروژن													
در سولفوریک اسید استفاده می‌شود.	کلر													
در ساخت آمونیاک مورد استفاده قرار می‌گیرد.	کربن													
	فلوئور													

به سوالات زیر پاسخ کامل دهید.

۰/۵	۱	با توجه عنصر فسفر (P <sub>15</sub> ) به سوالات زیر پاسخ دهید:
۰/۵		آ) در کدام گروه قرار دارد؟
۰/۵		ب) مدل اتمی بور را برای آن رسم کنید.



۰/۵ ۰/۵	<p>۲ با توجه به اتن به سوالات زیر پاسخ دهید:          (آ) کاربرد آن را در صنعت کشاورزی بنویسد.          (ب) ساختار مولکولی آن را رسم کنید.</p>
۱	<p>۳ با توجه به شکل روبرو به سوالات زیر پاسخ دهید:          (آ) نقطه جوش کدام برش کمتر است؟          (ب) مولکول‌های موجود در کدام برش کوچک‌تر و سبک‌تر است؟ D یا G؟          (پ) مواد کدام برش دیرتر جاری می‌شود؟ B یا H؟          (ت) مواد موجود در کدام برش رنگ روشن‌تری دارد؟ C یا F؟</p> 
۱	<p>۴ موافقان و گنر با استفاده از چه شواهدی ثابت کردند قاره‌ها در گذشته به هم متصل بوده و سپس نسبت به هم جابه‌جا شدند؟          (۲ مورد)</p>
مسائل زیر را حل کنید. (نوشتن فرمول الزامی است).	
۱/۵	<p>۱ خودرویی مسیر مستقیم ۴۰ کیلومتری را در مدت ۲۰ دقیقه می‌پیماید. سرعت متوسط این خودرو در این جابه‌جایی چند کیلومتر بر ساعت است؟</p>
۱/۵	<p>۲ به اتومبیلی به جرم ۱۲۰۰ kg نیروی پیشران ۷۰۰۰ نیوتنی وارد شده و در مدت ۵ ثانیه سرعت آن را از ۲۰ km/h به ۱۱۰ km می‌رساند. نیروی اصطکاک چند نیوتن است؟</p>

موفق و پیروز باشید

کاشفی

(قرآن نهم ترم اول تا پایان درس پنجم)

### ۱- ترجمه کلمات زیر را بنویسید (۲)

وَصَى : قَدَرَ : مُرْسِلٌ : تَسْتَوِي :

مُسَمًى : نُزِلَ : تُرْحَمُونَ : يَسْرِنَا :

### ۲- معنای ترکیبها و عبارات قرآنی زیر را بنویسید. (۶)

فَأَخَذْنَاهُمْ : فِي أَنْفُسِكُمْ : خَيْرًا مِنْهُمْ : أَنْزَلَ السَّكِينَةَ :

أَضَلَّ أَعْمَالَهُمْ : كَانُوا يَعْمَلُونَ : وَمَا بَيْنَهُمَا :

سَاءَ مَا يَحْكُمُونَ : أَنْزَلْنَاهُ : لَيَقُولُنَّ :

### ۳- درست یا غلط بودن جملات زیر را با ( ص - غ ) مشخص کنید. (۲)

الف - حرف ( س ) معمولی ولی حرف ( ص ) درشت تلفظ می شود. ( )

ب - فعل ( مضارع ) پس از حرف شرط معمولاً ( ماضی ) تلفظ می شود. ( )

ج - قبل از برخی کلمات مانند ( وَ فَ تُمْ إِنَّ ... ) می توان وقف کرد. ( )

د - ( ط ج ز ) از علائم وقف بوده و حتماً باید روی آنها وقف کرد. ( )

### ۴ - براساس آیه ( ان الذين قالوا ربنا الله ثم استقاموا فلا خوف عليهم ) چه کسانی در قیامت ترس و اندوهی ندارند؟ (۱)

### ۵ - با توجه به عبارت قرآنی ( كَذَّبُوا بِآيَاتِنَا كُفَّاهَا ) چرا خداوند قوم فرعون را به شدت مجازات کرد؟ (۱)

### ۶ - آیات و عبارات قرآنی زیر را ترجمه کنید. (۸)

فَهَلْ مِنْ مُدْكَرٍ : فَاصْلِحُوا بَيْنَ أَخْوَيْكُمْ :

لِيَزِدَادُوا إِيمَانًا مَعَ إِيمَانِهِمْ : اتَّبِعُوا مَا أَنْزَلَ إِلَيْكُمْ :

جَزَاءً بِمَا كَانُوا يَعْمَلُونَ : تَجْرِي مِنْ تَحْتِهَا الْأَنْهَارُ :

لِيُدْخِلَ الْمُؤْمِنِينَ وَالْمُؤْمِنَاتِ جَنَّاتٍ : وَفِي الْأَرْضِ آيَاتٌ لِلْمُوقِنِينَ :

**Question 1**

A: Who is she, Anita?      B: She is my mother Zahra.

A: Tell me about her. What is she like?      B: Well, She is great. She is very kind and helpful.

**Question 2**

A: Hello , Who is speaking?      B: Hi, It's Brenda from England.

A: How can I help you madam? B: I'm checking your website but I can't find the reservation section.

A: Ok, Let me help you.

**Question 3**

A: Good evening. My name's Javedan from Iran. I reserved the double room with bathroom for three nights.

B: Mr.Javedan, yes, room 311. Would you like to check in please. Just fill out this form.

A: Thank you.

B: And could I check your passport please.

A: Here, It is.

B: Very good sir. And Here is your key. Room 311.

**Question 4**

A: When is new year in your country?

B: We celebrate the New Year from the evening of December 31<sup>st</sup> until January 1<sup>st</sup> .

A: What's the weather like in this time of the year in your country.

B: It's winter and you know it is usually cold and cloudy which can some times be rainy or snowy.

A: How do you celebrate it?

B: Some stay at home and have parties and some people go out and watch fireworks when the New Year begins.

A: Do you make special food for the first day of the holidays?

B: No, nothing special.

نام :

بسمه تعالی

نام درس : زبان انگلیسی

نام خانوادگی :

وزارت آموزش و پرورش

پایه : نهم .....

نام پدر :

اداره کل آموزش و پرورش استان یزد

تاریخ امتحان : ۱۴۰۰/۱۰/۰۸

نام آموزشگاه : رسولیان

مدیریت آموزش و پرورش ناحیه یک

زمان : ۴۰ دقیقه

Reading and Writing: ( ) Listening: ( ) speaking: ( ) Total: ( )

۱. شماره مربوط به جمله هر تصویر را در زیر آن بنویسید. ( دو جمله اضافه است ) ( ۲ نمره )



- 1. She is making a voyage.
- 2. He sets the table.
- 3. He is packing for a trip.
- 4. She is generous.
- 5. She isn't neat.
- 6. He weighs the baggage.

۲. کلمه مناسب را از کادر زیر انتخاب کنید و در جای مناسب آن در جملات قرار دهید. ( ۳ نمره )

stay, says, funny, upset, express, reclaim, clears, anthem

- 1. My sister ..... the dinner table every night.
- 2. My uncle tells a lot of jokes. He is a ..... person.
- 3. My grandfather ..... his Eid prayers before noon.
- 4. They sing the national ..... before games.
- 5. Hope you enjoy your ..... in Tehran.
- 6. I want to go to Mashhad. I take the ..... train.

۳. جملات زیر را با کلمه پرسشی داده شده سوالی کنید. ( ۵/۱ نمره )

- 1. He is going to school by bus now. How.....?
- 2. They are playing football in the school. Where.....?
- 3. Ali is booking a hotel online. Who.....?

۴. کلمات زیر را مرتب کنید تا جملات معنادار شوند. ( ۳ نمره )

- 1. a cake / your mother/ bake / does ? .....
- 2. is / the shop / of / open / the door / not . .....
- 3. serious / my teacher / a / is / man. ....

1. What are they doing?  
.....



2. What's he like?  
.....



۶. اشتباهات گرامری جملات زیر را پیدا کنید و آنها را اصلاح کنید. (۵/۱ نمره)

1. Ahmad don't study his lesson. ....
2. They are board the plane now. ....
3. There is some teachers in the office. ....

۷. دور کلمه مناسب هر جمله خط بکشید. (۳ نمره)

1. Does your father ( **buy / buys** ) a ticket?
2. Mark is ( **asks / asking** ) about the ticket price.
3. My brother ( 's / of ) friend is a bit lazy.
4. My teachers always help me ( **with / in** ) my lessons.
5. The fan of my laptop is ( **making / taking** ) noise.
6. ( **Is / Does** ) Ali working with the computer?

۸. با توجه به متن زیر به سوالات پاسخ دهید.

I am Sina Ebadi. I really like New Year holidays. We have a lot of fun. We go shopping and buy new clothes. All family members work together to clean our house. My cousins color the eggs. My sister sets the Haft Seen table. On New Year's Day my mother cooks rice with fish. We always visit my grandparents and our relatives. And on Nature Day, we go out and play.

(الف) به سوالات زیر پاسخ کامل دهید. (۳ نمره)

1. Who sets the Haft Seen table? .....
2. When does Sina's mother cook rice and fish? .....
3. Do they visit their relatives? .....

(ب) جمله درست را (T) و جمله غلط را (F) مشخص کنید. (۱ نمره)

4. All family members color the eggs. (     )
5. They stay home on Nature Day. (     )