

آزمون درس انشا فارسی پایه هشتم - نوبت اول - تاریخ آزمون 18/10/1396 - وقت 60 دقیقه

1. یکی از موضوعات زیر را انتخاب کنید و در پشت برگه انشایی بنویسید.

الف) کتاب خوب ، دوست خوب

ب) نماز ستون دین است

**ج) ضرب المثل (خانه از پای بست ویران است ، خواجه دریند نقش ایوان است)
. رابه زبان ساده باز آفرینی کنید**

2. معیارهای ارزیابی:

الف) پروراندن موضوع و بهره گیری مناسب از شیوه های پرورش فکر (10نمره)

ب) نوشتن بند مقدمه ، بند بدنه و بند نتیجه (3نمره)

ج) استفاده از واژگان مترادف ، متضاد و آرایه های ادبی (2نمره)

د) ساختار زبانی (جمله بندی) و تنوع فعل ها (1نمره)

ه) پاراگراف بندی و حاشیه گذاری (1نمره)

و) املاي صحیح واژگان (1نمره)

ز) خطّ خوش و پاکیزه نویسی (1نمره)

ح) رعایت علائم نگارشی (1نمره)

باسمه تعالی

مهر آموزشگاه	مدت امتحان	مدیریت آموزش و پرورش ناحیه یک یزد دبیرستان نمونه دولتی رسولیان دوره اول	سوالات ارزشیابی نوبت: اول	
	60 دقیقه		درس: انشا فارسی کلاس هشتم	
	تاریخ آزمون		تعداد صفحه و سوال : 2 صفحه	

باسمه تعالی						
مهر آموزشگاه	مدت امتحان	مدیریت آموزش و پرورش ناحیه یک یزد دبیرستان نمونه دولتی رسولیان دوره اول		سوالات ارزشیابی نوبت:		
				درس: پیام های آسمانی		
	60 دقیقه	تاریخ آزمون	تعداد صفحه و سوال: 2 صفحه		نام	نام خانوادگی
	96 / 10 / 9	پایه	کد دانش آموزی			

الف) درستی یا نادرستی عبارتهای زیر را مشخص کنید (2نمره)

- 1) چشم انسان الگوی دوربین و میکروسکوپ است . درست ❑ نادرست ❑
- 2) برای توبه پشیمانی کافی است. درست ❑ نادرست ❑
- 3) اولین معلم قرآن پیامبر اکرم (ص) بود. درست ❑ نادرست ❑
- 4) پیامبر (ص) خودشان جانشین خود را انتخاب کردند. درست ❑ نادرست ❑

ب) جاهای خالی را با کلمات مناسب کامل کنید (2 نمره)

- 1) استفاده از زیور آلات طلا برای مردان..... است و نماز..... است
- 2) اگر کسی با پول حرام لباس بخرد و با آن لباس نماز بخواند نمازش..... است
- 3) در روز قیامت درباره ی نعمت سوال خواهد شد
- 4) نعمتهای بهشت به دست خود..... به بهشت فرستاده می شود

ج) گزینه درست را انتخاب کنید (2 نمره)

- 1) صفت غفار خداوند به چه معناست ؟
الف) بسیار مهربان ❑ ب) بسیار آمرزنده ❑ ج) بسیار نیکوکار ❑ د) بسیار توبه پذیر ❑
- 2) مطابق حدیث حضرت علی (ع) هدف از خلقت انسان چیست؟
الف) رهایی از عذاب برزخ ❑ ب) راه یافتن به بهشت ❑
ج) عبادت کردن ❑ د) اندیشه کردن در نعمتهای خدا ❑
- 3) نتیجه عفو و گذشت دیگران چیست؟
الف) خشنودی خداوند ❑ ب) برخورداری از رحمت الهی ❑
ج) عزت و سربلندی در میان مردم ❑ د) هرسه مورد ❑
- 4) این سخن از کیست؟ اهل گذشت باشید بی تردید عفو و گذشت بنده را عزیز و سرفراز می گرداند
الف) پیامبر اکرم (ص) ❑ ب) امام علی (ع) ❑ ج) امام صادق (ع) ❑ د) امام رضا (ع) ❑

د) به سوالات زیر پاسخ کوتاه بدهید (4 نمره)

- 1) شیطان در پاسخ دوزخیان که می گویند تو مارا جهنمی کردی چه می گوید؟ (1نمره)

2) برنامه ی پیامبر(ص) برای هدایت مردم پس از خودچه بود؟ (1نمره)

3) اگر نمازگزار نداند لباسش نجس شده ویا آن لباس نماز بخواند نماز چه حکمی دارد؟ (1نمره)

4) مطابق حدیث پیامبر(ص) بخشی از ثواب نماز گزاران سهم چه کسی است؟(1نمره)

د) به سوالات زیر پاسخ کامل بدهید. (10 نمره)

1) با توجه به سخن حضرت علی(ع) توضیح دهید که خداوندآنچه در زمین است را با چه هدفی برای انسان خلق کرده است؟
(2نمره)

2) مفهوم آیه (قل یا عبادى الذين اسرفوا على انفسهم لا تقنطوا من رحمة الله ان الله يغفر الذنوب جميعا) را بنویسید .(2نمره)

3) دو امانت گرانبهائی که پیامبر اکرم(ص) در میان امت به یادگار گذاشت چه بود؟ (حدیث ثقلین)(2نمره)

4) درسرخنان معصومین (ع) از نماز به چه عنوانهایی یاد شده است و ترک نماز موجب چه می شود؟(2نمره)

5) چرا در روز غدیرخم کافران و منافقان از نابودی اسلام نا امید شدند؟(1 نمره)

6) بهشت را با توجه به آیات قرآنی توصیف کنید؟ (1نمره)

مهر آموزشگاه	مدت امتحان	مدیریت آموزش و پرورش ناحیه یک یزد دبیرستان نمونه دولتی رسولیان دوره اول		سوالات ارزشیابی نوبت:		
	90 دقیقه			درس: ریاضیات		
	تاریخ آزمون	13/10/96	پایه	کد دانش آموزی	نام خانوادگی	نام
	جمع نمره:					

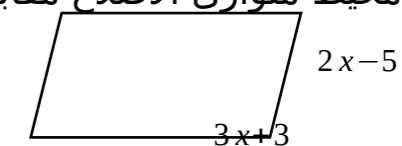
امتحان ریاضی کلاس هشتم

2	1	درستی یا نادرستی هر یک را مشخص کنید. (1) در روش غربال عدد 30 با مضرب های 3 خط می خورد. □ (2) قطرهای لوزی نیمساز زاویه ها هستند. □ (3) مثلث متساوی الاضلاع یک محور تقارن دارد. □ (4) عبارت جبری محیط مستطیلی به طول a و عرض b مساوی $2a+b$ می باشد.
2	2	در جای خالی عدد یا کلمه مناسب بنویسید. (1) هر عدد را می توان به صورت حاصل ضرب دو عدد طبیعی بزرگتر از یک نوشت. (2) هر چهار ضلعی که تمام زاویه هایش برابر باشند نام دارد. (3) بین $-\frac{3}{2}$ و $+3$ ، عدد صحیح وجود دارد. (4) قرینه ی معکوس عدد $1\frac{3}{5}$ ، عدد است.
1	3	(1) کدام جفت از عددهای زیر نسبت به هم اول هستند؟ (الف) (19,91) (ب) (51,15) (ج) (39,93) (د) (11,55) (2) در تعیین عددهای اول از 1 تا 100 عدد 45 چندمین عددی است که خط می خورد؟ (الف) 67 (ب) 57 (ج) 62 (د) 56 (3) اختلاف دو عدد اول 77 می باشد. مجموع آنها می شود. (الف) 75 (ب) 79 (ج) 81 (د) 18 (4) اندازه هر زاویه داخلی یک چند ضلعی منتظم 150 درجه است. تعداد ضلع های آن می باشد. (الف) 10 (ب) 12 (ج) 14 (د) 15
2	4	حاصل هر عبارت را به دست آورید. $-22-26-30-34-\dots-94-98=$ $\left[\left(\frac{-8}{15}\right)+\frac{7}{12}\right]\div\left(\frac{-3}{4}-\frac{3}{5}\right)=$

5/1	5	الف) یک عدد در نظر بگیرید که 6 و 10 دو شمارنده ی آن باشند. چهار شمارنده دیگر آن را بنویسید. ب) دو عدد بنویسید که به جز 5 و 7 شمارنده ی اول دیگری نداشته باشند.
5/1	6	الف) کسر مقابل را ساده کنید. $\frac{-125 \times 128}{4^2 \times 5^2 \times 6^2} =$ ب) جمع مقابل روی محور نشان دهید. $\frac{5}{4} + \left(-2\frac{1}{4}\right) = -1$ ج) مقدار x را به دست آورید. $\frac{-52}{-84} = \frac{39}{x}$
1	7	عدد 127 مرکب است یا اول؟ چرا؟
1	8	نشان دهید تفاضل هر عدد سه رقمی از مقلوبش، مضرب 99 می باشد.
1	9	پدری 55 سال دارد. اگر فرزندانش 8 و 13 و 16 سال داشته باشند، بعد از گذشت چند سال مجموع سن فرزندان با سن پدر برابر می شود؟ (با تشکیل معادله)
2	10	عبارت های جبری زیر را ساده کنید. $(2x-3y)^2 =$ $(a^3-4)(a^3+4) =$
2	11	الف) معادله مقابل را حل کنید.

$$\frac{1}{3} - \frac{2x-3}{4} = \frac{1}{12}$$

ب) محیط متوازی الاضلاع مقابل را به دست آورید.

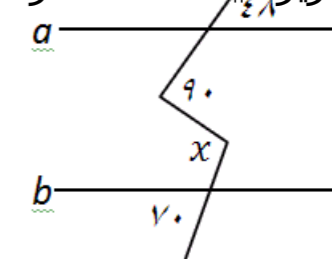


1 به کمک تجزیه، صورت و مخرج کسر را ساده کنید.

$$\frac{x^4 y^2 - 2x^3 y^2}{x^4 y^2 + 3x^3 y^2} = i$$

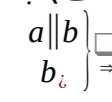
1
2

1/5 در شکل زیر $a \parallel b$ است. اندازه زاویه خواسته شده را بنویسید.



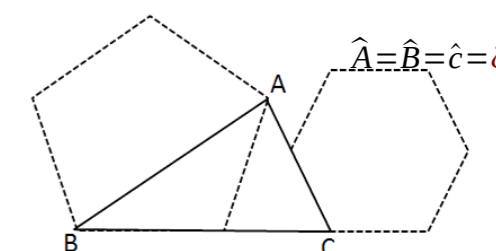
1
3

5/1 الف) با رسم شکل مناسب نتیجه ی مقابل را کامل کنید.



1
4

ب) اندازه زاویه های مثلث ABC را به دست آورید. (پنج ضلعی و شش ضلعی منتظم هستند)



«موفق باشید»

باسمه تعالی

مهر آموزشگاه	مدت امتحان	مدیریت آموزش و پرورش ناحیه یک بزد دبیرستان نمونه دولتی رسولیان دوره اول		سوالات ارزشیابی نوبت: اول	
	50 دقیقه			درس: عربی کلاس هشتم	
	تاریخ آزمون	کد دانش آموزی		تعداد صفحه و سوال: 2 صفحه 11 سوال	
	21/10/96			پایه	نام خانوادگی
جمع نمره:					

ردیف	متن سوال	نمره
1	ترجمه کلمات زیر را بنویسید. لسان = آخر = مهنة = زمیل = مُنْطَمَةٌ = حدّاد =	5/1
2	جملات و عبارات زیر را به فارسی ترجمه کنید. الف) جاءت إحدى زميلاتها ب) العلم خزائن و مفتاحها السؤال ج) ما أجاب الفرس الصغير عن سؤالها د) أهلاً و سهلاً بكم في الصف الثامن هـ) تحنّ قادرون على قراءة النصوص البسيطة	5
3	با توجه به متن دروس کتاب جملات درست و نادرست را معلوم کنید خدموا اللغة العربية قليلاً ب) عَبَّرَ الفرسُ النَّهْرَ بِسَهولَةٍ درست ج) بقيت أسرين وحيدة أسبوعاً واحداً درست نادرست	75/
4	کلمه ناهمانگ را در هر گزینه مشخص کنید. الف) يد عین وجه جار	5/0

	باب نافذة رسالة جدار				
1	کلمات مترادف و متضاد را معلوم کنید: الف) بیع شراء شاهد تَطَّرَ ج) أمس غد خزین قَرِحَ (ب) (د)				5
5/0	گزینه مناسب را انتخاب کنید القميص ج (ب) أم الأب: الجَدَّ ج الجَدَّة ج				6
75/0	گزینه مناسب را انتخاب کنید الف) أنت یجمع الفواکه؟ ب) انا سوف الى بلادی فی الأسبوع القادم: أَرِجُ ج) أنت فی المصنع أمس؟ تَبْدِئِینَ ج بَدَاثُ ج رَجَعْتُ ج تَعْمَلِینَ ج عَمِلَتْ ج				7
1	جمله زیر را ترجمه کرده سپس فعل مضارع را مشخص کنید: أنت تجلسن على الارض و جدّك تجلسن على الكرسي :				8
1	فقط فعل مضارع را در دو جمله زیر معنا کنید (زیر فعل خط بکشید و معنای فارسی آنرا بنویسید) 1- يا نجار أنت تعملُ جيّداً 2- هذه البنت تعملُ في المختبر				9
2	ضمیر مناسب را برای جای خالی انتخاب کنید. الف) تَشْرَبُ الماءَ (هو- انت - هي) ب) تَلْعَبُ كره القدم (انا - انتم- نحن) ج) جارِتانِ و زميلتانِ (انا- انتم- هما) د) سَتَطْبُخُ طعاماً لذيذاً (انت هو- انا)				10
1	فارسی	عربی	فارسی	عربی	11
	تَطْرُقُ	کوید	طَرَقَتْ	
	..	سوف تَفْتَحُ	باز می کنیم	تَفْتَحُ	
				
	..				
جدول را کامل کنید					

مهر آموزشگاه	مدت امتحان	مدیریت آموزش و پرورش ناحیه یک یزد دبیرستان نمونه دولتی رسولیان دوره اول		سوالات ارزشیابی نوبت: اول	
	70 دقیقه تاریخ آزمون			درس: علوم تجربی تعداد صفحه و سوال: 2 صفحه 14 سوال	
	10 / 11 / 96	پایه	کد دانش آموزی	نام خانوادگی	نام
	جمع نمره:				

1

1- جاهای خالی را با کلمات مناسب تکمیل کنید. 1

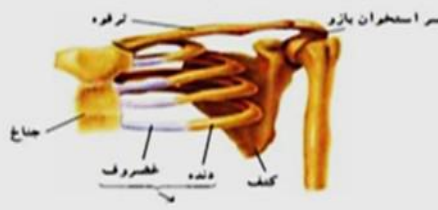
- آلیاژها مخلوط جامد در جامدند. (همگن-ناهمگن)
- گاز کربن دی اکسید + اسیدها موجود در قرص جوشان + جوش شیرین (نمک=آب)
- یکپاز و طایف اسکلت (استخوان بندی) ذخیره. مواد و تولید یا ختهای خون میباشند. (آلی- معدنی)
- در (دنا) DNA اطلاعات در واحدهای بیهنام ساز مانده میشدهاند. (فامتن= ژن)

2- گزینه صحیح را انتخاب کنید. 1

- هور مونا اینغده در کودکیا عثر شد بهتر اندامها بهویژهمغز میشود
الف- تیروئید ب- فوق کلیه ج- پارا تیروئید د- هیپوفیز
 - مرکز حواس پنجگانه در کدام قسمت است؟
الف- مخچه ب- بصل النخاع ج- مخ د- نخاع
 - خاصیت مورد استفاده در دستگاه سانس ترپیوژ برای جداسازی چربی از شیر چیست؟
الف- تفاوت در چگالی ب- تفاوت در نقطه جوش ج- تفاوت در سرعتمواد د- تفاوت در شکل مولکولها
 - ماهیه دوسر، در بازو، با کدام ماهیچهها پیدا ده شده، عمل متقابل دارند؟ (جفت جفتکار میکنند)
الف- توأم ب- چهار سر ج- سه سر د- دوزنقهای
- 3- با توجه به شکل برای هر مفصل یک مثال بیاورید . 0/ 75



مفصل بین شانه و بازو
نوع مفصل:



مفصل بین دنده ها و جناغ
نوع مفصل:



مفصل بین استخوان های جمجمه
نوع مفصل:

3- اصطلاحات یا کلمات زیر را تعریف کنید 5/2

- تعلیق (سوسپانسیون) :
- صفات ثانویه جنسی :
- اندام حسی :
- ایزوتوپ :
- مفصل :

5 تفاوت هر یک از موارد زیر را با یکدیگر بنویسید (برای هر کدام 1 تفاوت) 2 نمره

- تنظیم هورمونیا تنظیم عصبیا نظر سرعت
- عصب حسییا عصب حرکتی
- مادهای خالص یا مخلوط
- ماهیه صفا یا اسکلتی (از نظر نوع عمل)

1

6 به سؤال زیر پاسخ کوتا دهید 1

	یکی از کاربردهای مفید مواد پرتوزا را نام ببرید؟ کدامایزوتوپ هیدرژن پایدار است؟ بخش‌های ساقه‌ی میغز که گره‌ی تدر آن قرار دارد کدام است؟ گاز بی‌بیرنگ و بی‌بو که در اثر کمبود اکسیژن نهنگام سوختن تشکیل می‌شود چه نام دارد؟	
7	جملاً تصحیح و غلط را با علامت ص و غ مشخص کنید 5/1 هر جاندار یک جهت‌شیررگتر باشد تعداد کروموزوم‌ها بیش‌بیشتر است () فامتن (کروموزوم) در باخته‌ها در حالت تقسیم‌بواب استفاده از میکروسکوپ دیده می‌شوند. () تخم‌انها در محوطه‌ی شکم و کنار رحم قرار دارند. () زرد پیاستخوانها در محل مفصلها می‌تحرک به هم وصل می‌کند. () گیرنده‌ها می‌خرو طید و نوعان ده، دید سیاه و سفید دارند. () پاسخها یا انعکاس بسیار سریع و با اراده و تفکر صورت می‌گیرد. ()	
8	در بسیار از صفات ژنتیها عامل تعیین‌کننده در شکل‌گیر جاندار نیست بلکه عوامل محیطی نیز مهم‌اند؛ بایک مثال توضیح دهید؟ /75	
9	هورمون غده‌پاراتیروئید از 3 طریقاً عتافزایشیون کلسیم در خون می‌شود نام ببرید؟ /75	
10	توده‌ی سرطانی چگونه تشکیل می‌شود؟ و یک عامل محیطی که در ایجاد آن نقش دارد را بنویسید؟ /75	
11	شکل مقابلمد لیور بر اییکاتمر انشان می‌دهد. این شکل کدام در هم می‌باشد؟ کاتیون یا آنیون چرا؟ /5	
12	در شکل مقابل تصویر یک یاز غده‌ها بیدنر امیبینید این غده‌ها چه مورونها بیتر شحمی‌کند و کار این مورونها چیست؟ 1	
13	سوختن مواد را با ید مهار کرد چرا؟ /5	
14	محل هر یک از موارد داده شده در کجاست؟ 1 گیرنده‌های گرما، سرما، لمس، فشار و درد () غده تیروئید () نخاع () (بیضه‌ها)	

مهرآموزشگا ه	مدت امتحان 50 دقیقه تاریخ آزمون	مدیریت آموز شوپرورش ناحیه یک یزد دبیرستان نمونه دولتی رسولیان دورهاول		سوالات ارزشیابینوبت: اول	
				درس: قرآن کلاس هشتم تعداد صفحه سوالات: 2 صفحه 8 سوال	
	96 / 10 / 14 جمع عمره:	پایه	کد دانش آموزی	نام خانوادگی	نام

1	معنای کلمات زیر را بنویسید. (2) مُعْرِضٌ : قَدَّرَ : طَهَّرَ : كَمَّ بِعَالِي : نَجَعَلُ : يُجِبُّ : أَعْمَلُ
2	معنی کدام کلمه صحیح نمی باشد؟ (1) الف- احسین: نیکی میکند ب- كما: همانطور که ج - نَبَا: خبر د- آن: که
3	جاهای خالی زیر را کامل کنید (3) ان + أَعْبُدُ : که + عبادتمی کنم < ان = که لِي + يَعْلَمُونَ = : تابدانند اناتلُو : که + تلاوت می کنم < ان = که : لَعَلَّهُمْ يَشْكُرُونَ
4	معنای عبارات ترکیبهای قرآنی زیر را بنویسید (3) : أَنْعَمْتَ عَلَيَّ : يَهْدِيكُمْ : بِنَلْوِ اعْلِيكَ : وَلَا تَنْسَوْنَ صِيْبَكُمْ مِنَ الدُّنْيَا
5	در مورد تلفظ حر و فخاص کدام مورد صحیح است؟ (1) الف- (ق) نرم و قابل کشش تلفظ می شود. ب- (غ) نرم و قابل کشش تلفظ می شود ج- (ظ) نازک و نوک زبانی تلفظ می شود. د- (ض) درشت و نوک زبانی تلفظ می شود
6	کدام ترجمه عبارت قرآنی "وَقَالَ رَبُّوْرِ عَنِ اَنَّا شَكَرْنَا نِعْمَتَكَ ... " می باشد؟ (1) الف- و گفتند پروردگار شکر نعمتت را ابهمنالهامی کندب- و گفتند شکر که پروردگار نعمتت را ابهمنالهام کرد ج- و گفتند پروردگار اشکر که نعمتت را ابهمنالهام شد. د- و گفتند پروردگار ابهمنالهام کن که شکر کن منعمتت را
7	ترجمه آیات زیر را کامل کنید. (2)

<p>وَأَنَا عَمَلٌ صَالِحٌ أَرْضُهُ = كهانجامدهمکار خوبی که آنکار..... 1</p> <p>..... وَاتَّقُونَ = و. 2</p> <p>وَلَا تَبْغِ الْفَسَادَ فِي الْأَرْضِ = فساد را در زمین. 3</p> <p>عَمَّا يُشْرِكُونَ = شریک قرار می دهند. 4</p>	
<p>آیات و عبارات قرآنی زیر را ترجمه کنید. (7)</p> <p>الَّذِينَ هُمْ فِي صَلَاتِهِمْ خَائِعُونَ : (1.5). 1</p> <p>كُلُّ قَدِّ عِلْمٍ صَالِحٌ هُوَ تَسْبِيحٌ : (1.5). 2</p> <p>أَوَلَمْ يَرَوْا إِلَى الْأَرْضِ : (1). 3</p> <p>وَ اتَّقَوْهُ : (5/0). 4</p> <p>وَمَا أَسْأَلُكُمْ عَلَيْهِمْ مِنْ أَجْرٍ : (1.5). 5</p> <p>لِيَكُونَ لِلْعَالَمِينَ نَذِيرًا (1). 6</p>	8
<p>"در پناه حقر آنموفقباشید"</p>	

نام و نام خانوادگی:
تاریخ امتحان: 16/10/96
نام پدر:
تعداد سؤال :
نام کلاس: هشتم

باسمه تعالی

اداره کل آموزش و پرورش استان یزد
مدیریت آموزش و پرورش ناحیه یک یزد

متن املای تقریری کلاس هشتم، دیماه 96

سخن
به نام خدایی که جان آفرید
گفتن اندر زبان آفرید
به مورچه و کوچکی جُتّه آن بنگر که چگونه عظمت خلقت او با چشم و اندیشه انسان درک نمی شود. او دانه را به لانه خود می برد و در جایگاه ویژه نگه می دارد و در فصل گرما برای خوراک زمستان می کوشد. (ص18)

بدان و آگاه باش که آنچه من با تو می گویم، از سر آگاهی است و برآمده از باوری استوار، بدانچه تو می دانی و باید بکنی. تویی که بر فرّ و فروغ ایران خواهی افزود و چشم جهانیان را به خیرگی خواهی کشاند و تیرگی ناخویشتن شناسی و از خود بیگانگی را خواهی زدود. (ص32)

سفر زندگی به مهارت هایی نیاز دارد که بدون آن ها، زندگی آینده، پر مشقت خواهد بود. ما می توانیم با توکل به پروردگار و تلاش بیشتر، به آن مهارت ها دست یابیم و زندگی خود را سرشار از طراوت و شادابی و شکوفایی کنیم. (ص38)

بهلول گفت: « بدان که اینها که تو گفتی همه فرع است و اصل در خوردن، آن است که لقمه حلال باید و اگر حرام را صد از این گونه آداب به جا بیاوری فایده ندارد و سبب تاریکی دل شود». (ص48)

خانواده کوچک ترین بخش اجتماع است و برای خود، هنجار و حریم و قانون و آدابی دارد. اهل هر خانواده، متناسب با آن آداب و معیارهای اخلاقی، تربیت می شوند و حریم و حرمت یکدیگر و اجتماع را پاس می دارند. (ص50)

«موفق باشید»

30 دقیقه	دبیرستان نمونه دولتی رسولیان دوره اول		درس: امل و کلاس	
	تاریخ آزمون	تعداد صفحه و سوال : 1 صفحه		
	16/10/9	پایه	کد دانش	نام

مهرآموزشگا	مدت امتحان	مدیریت آموزش و پرورش ناحیه یک یزد دبیرستان نمونه دولتی رسولیان دورهاول		سوالات رزنیابینوبت: اول	
	70 دقیقه			درس: مطالعات کلاس هشتم	
	تاریخ آزمون	تعداد صفحه و سوال: 2 صفحه 22 سوال		نام خانوادگی	نام
	96 / 10 / 17 جمع عمره:	پایه	کد دانش آموزی		

الف - صحیح یا غلط بودن جملات زیر را مشخص کنید. (1)

- 1- به اموال و دارایی هایی که وقف می شود اوقاف می گویند. صحیح ❖ غلط ❖
- 2- به گروهی از مسلمانان مکه که پیامبر (ص) رایاری کردند انصاری گویند. صحیح ❖ غلط ❖
- 3- حضرت علی (ع) در جنگ صفین به مقابله با سپاه معاویه رفت. صحیح ❖ غلط ❖
- 4- یکی از مهم ترین وظایف قوه قضاییه حل اختلافات مردم است. صحیح ❖ غلط ❖

ب - جاهای خالی را با کلمات مناسب کامل کنید. (2)

- 5- نخستین شهدای اسلام و بودند.
- 6- ساسانیان در جنگ های و از سپاهیان مسلمان شکست خوردند.
- 7- بودجه به زبان ساده یعنی پیش بینی و دولت در طول یک سال.
- 8- در قرن سوم هجری در نتیجه علاقه امیران و وزیران حکومت های و به فرهنگ و زبان ایرانی رونق زبان و ادبیات فارسی آغاز شد.

ج- گزینه صحیح را انتخاب کنید. (1)

9- در کدام یک از گزینه های زیر ارتباط صحیحی وجود دارد؟

- الف- تنظیم بودجه: نمایندگان مجلس ❖
ب- انتخاب رییس قوه قضاییه: رأی مردم ❖
- ج- تنظیم لوایح: مجلس شورای اسلامی ❖
د- پذیرش استوارنامه سفیران: رییس جمهور ❖

10- کدام مورد از خدمات دولت الکترونیک نیست؟

- الف- ثبت نام حج و زیارت ❖ ب- صدور گواهینامه ❖ ج- امنیت و نظارت ❖ د- ثبت نام کنکور ❖

د- به سئوالات زیر پاسخ دهید.

11- کدام اقدام پیامبر (ص) اعلام رسمی تأسیس حکومت اسلامی در شهر مدینه بود؟ (5)

12- منظور از همکاری نکردن درگناه چیست؟ (1)

13- تفاوت شرکت های تعاونی و غیرتعاونی در چیست؟ (1)

14- رسانه چیست؟ (1)

15- دومورد از علل اعتیاد را بنویسید؟ (1)

16- سلسله های ایرانی را از نظر رابطه با خلیفه عباسی و چگونگی به قدرت رسیدن با هم مقایسه کنید. (1)
طاهریان و سامانیان.....

علویان و صفاریان و آل بویه.....

17- ویژگی های عصر جاهلیت را بنویسید. (1)

18- امام حسین (ع) در وصیت نامه خویش هدف از قیام خود را چه چیز معرفی کرده اند؟ (1)

17- ایرانیان از چه راه هایی با اسلام آشنا شدند؟ 2 مورد (1)

18- درآمدهای دولت از چه راه هایی بدست می آید؟ 3 مورد (5/1)

19- چه کسانی در مراسم تحلیف رئیس جمهور شرکت دارند؟ (5/1)

20- سه مورد از آثار منفی رسانه های ارتباط جمعی را بنویسید. (5/1)

21- وقتی از دست کسی عصبانی هستیم چه کار باید انجام دهیم؟ (5/1)

22- سه مورد از ویژگی های حکومت امام علی (ع) را بنویسید. (5/1)

<<توفیق رفیق راهتان باد>>