



نام درج شده  
تاریخ امتحان  
تعداد صفحه: ۱  
تعداد سؤال:  
زمان شروع: ۱۰ صبح  
وقت: ۶۰ دقیقه

بسمه تعالی  
وزارت آموزش و پرورش  
اداره کل آموزش و پرورش استان یزد  
اداره سنجش

شماره داوطلب:  
نام:  
نام خانوادگی:  
نام پدر:  
نام آموزشگاه:  
پایه: نهم

ضمن خیرمقدم به دانش آموزان و داوطلبان عزیز، سوالات زیر را به دقت بخوانید و با توکل به خدا و آرامش خاطر پاسخ دهید.

نام و نام خانوادگی مصحح اول:	نام و نام خانوادگی مصحح دوم:
نمره با عدد	نمره تجدید نظر با عدد
نمره با حروف	نمره تجدید نظر با حروف

دانش آموزان عزیز یکی از موضوع های زیر را به دلخواه انتخاب کنید و درباره آن انشایی ساده و روان بنویسید.

الف) گزارشی از یک بازدید یا اردوی دانش آموزی      ب) آدم فضایی      ج) کمک به همسایه ها



شماره داوطلب :  
نام :  
نام خانوادگی :  
نام پدر :  
نام آموزشگاه :  
پایه : نهم

بسمه تعالی  
وزارت آموزش و پرورش  
اداره کل آموزش و پرورش استان  
اداره سنجش

نام درس : املا  
تاریخ امتحان : ۱۳۹۶/۰۳/۰۴  
تعداد صفحه : ۱  
تعداد سؤال :  
زمان شروع : ۱۰ صبح  
وقت : دقیقه

ضمن خیرمقدم به دانش آموزان و داوطلبان عزیز، سوالات زیر را به دقت بخوانید و با توکل به خدا و آرامش خاطر پاسخ دهید.

نام و نام خانوادگی مصحح اول :

نام و نام خانوادگی مصحح دوم :

نمره با عدد

نمره تجدید نظر با عدد

نمره با حروف

نمره تجدید نظر با حروف

متن املا

در زمین نگاه کن که چگونه بساط تو ساخته است و جوانب وی فراخ گسترانیده؛ در وقت بهار بنگر و تفکر کن که زمین چگونه زنده شود و چون دیبای هفت رنگ گردد، بلکه هزار رنگ شود.

نوجوانی توکد دوباره انسان است. در این مرحله ی پر تب و تاب، نوجوان، افزون بر رابطه با خود، نیازمند رابطه ای دیگر نیز هست؛ نیازمند دو چشم دیگر که نوجوان را ببیند و به او بگوید کیست و چگونه است.



انسان بی دوست، همواره غمگین است؛ به بیان دیگر تنهایی، یکی از سنگین ترین مصائب است. "ذوقی چنان ندارد بی دوست زندگانی"

چون رابعه بزرگ شد، پدر و مادرش بمردند و در بصره قحطی عظیم پیدا شد و خواهران متفرق شدند و رابعه به دست ظالمی افتاد. او را به چند درم بفروخت. آن خواجه او را به رنج و مشقت کار می فرمود.

پس داده است خداوند علیم به آدمی آنچه صلاح دین و دنیای او در آنهاست و منع کرده است از آدمی، دانستن امری چند را که در شأن و طاقت او نیست دانستن آنها؛ مانند امور آینده و آنچه در دل های مردم است و مانند اینها.

نام درس : شنیداری زبان انگلیسی تاریخ امتحان : ۱۳۹۶/۳/۱۰ تعداد صفحه : ۱ تعداد سوال : ۴ زمان شروع : ۱۰ صبح وقت : ۳۰ دقیقه	باسمه تعالی <b>وزارت آموزش و پرورش</b> <b>اداره کل آموزش و پرورش استان یزد</b> <b>اداره سنجش</b>	شماره داوطلب نام : نام خانوادگی : نام پدر : نام آموزشگاه : پایه : نهم
--	---	--

ضمن خیرمقدم به دانش آموزان و داوطلبان عزیز، سوالات زیر را به دقت بخوانید و با توکل به خدا و آرامش خاطر پاسخ دهید.






بارم	ردیف	سوال	پاسخ
		نام و نام خانوادگی مصحح اول : نام و نام خانوادگی مصحح دوم : نمره با عدد نمره با حروف نمره تجدید نظر با عدد نمره تجدید نظر با حروف	
		<b>Listening &amp; Writing</b>	
1	1	با توجه به فایل صوتی جملات ستون A را با عبارات ستون B کامل کنید. A 1. There were ..... 2. The cinemas were ..... 3. It was difficult ..... 4. I watched the CD ..... B a) full of people. b) to buy a ticket . c) of the comedy at home . d) two interesting movies in the cinemas .	
1	2	به فایل صوتی گوش کنید در برابر جملات درست ( ✓ ) و در برابر جملات غلط ( x ) بگذارید. 1. Mr. Akbari is booking a room. <input type="radio"/> 2. Mrs. Moradi is reading a guide book. <input type="radio"/> 3. Reza is buying a newspaper. <input type="radio"/> 4. Sara is watching the movie. <input type="radio"/>	
2	3	با توجه به فایل صوتی به سوالات زیر پاسخ دهید . 1. A: What does Amir do ? B: He's a ..... 2. A: Where does he work? B: He works at ..... 3. A: When does he go to work ? B: He goes to work ..... 4. A: Does he go to work from 7 a.m to 4 p.m ? B: Yes, .....	
1	4	با دقت به فایل صوتی گوش کنید و با گذاشتن علامت مناسب ( / یا \ ) در مقابل جملاتی که می شنوید ، آهنگ هر جمله را مشخص کنید . 1. I twisted my ankle last year ( ) 2. Did you cut your finger ( ) 3. What happened to your face ( ) 4. That's too bad ( )	
5		<b>جمع نمره</b>	



نام درس: زبان انگلیسی تاریخ امتحان: ۱۳۹۶/۳/۱۰ تعداد صفحه: سه تعداد سؤال: ۸ زمان شروع: ۱۰ صبح وقت: ۵۰ دقیقه	باسمه تعالی <b>وزارت آموزش و پرورش</b> <b>اداره کل آموزش و پرورش استان یزد</b> <b>اداره سنجش</b>	شماره داوطلب: _____ نام: _____ نام خانوادگی: _____ نام پدر: _____ نام آموزشگاه: _____ پایه: نهم
---	---	--

ضمن خیرمقدم به دانش آموزان و داوطلبان عزیز، سوالات زیر را به دقت بخوانید و با توکل به خدا و آرامش خاطر پاسخ دهید.

نام و نام خانوادگی مصحح اول: _____ نمره با عدد: _____ نمره با حروف: _____	نام و نام خانوادگی مصحح دوم: _____ نمره تجدید نظر با عدد: _____ نمره تجدید نظر با حروف: _____
---	---

بارم	ردیف	Reading & Writing
1	1	<p>با توجه به تصاویر در مقابل جملات صحیح علامت ( ✓ ) و در مقابل جملات غلط علامت ( ✗ ) قرار دهید.</p> <p>1. He had a car crash . <input type="checkbox"/></p>  <p>2. She texts a message . <input type="checkbox"/></p>  <p>3. Mr. Nasserri opened an account in a bank. <input type="checkbox"/></p>  <p>4. Mr. Ahmadi is checking the timetable . <input type="checkbox"/></p> 
1	۲	<p>سینا در مورد سفر هر ساله خود و خانواده اش به مشهد مقدس چند جمله نوشته است . جملات او را با انتخاب گزینه مناسب کامل کنید .</p> <p>1. My family and I ..... a taxi to the airport . (hire - clear - exchange )</p>  <p>2. We ..... the plane after checking in . (recharge - board - install )</p> <p>3. We ..... in Mashhad for seven days . ( receive - weigh - stay )</p> <p>4. My parents ..... money from an ATM to buy gifts . (take off - take out - take care)</p>



نام درس : زبان انگلیسی  
 تاریخ امتحان : ۱۳۹۶/۳/۱۰  
 تعداد صفحه : سه  
 تعداد سؤال : ۸  
 زمان شروع : ۱۰ صبح  
 وقت : ۵۰ دقیقه

باسمه تعالی

وزارت آموزش و پرورش  
 اداره کل آموزش و پرورش استان  
 اداره سنجش

شماره داوطلب  
 نام :  
 نام خانوادگی :  
 نام پدر :  
 نام آموزشگاه :  
 پایه : نهم

با استفاده از کلمات داده شده متن کوتاهی که امید در مورد روز گذشته خود نوشته است را کامل نمایید. (یک لغت اضافی است)

called-enjoyed- broke- attended - saved- brave- fire -bruises- put out

Yesterday , there was a big ..... near our house in a small house . I ..... the emergency . The firefighters ..... fire and ..... people . They are really ..... . One old man had some ..... and a little boy ..... his leg .After that I ..... in Helal -e -Ahmar first aid classes and learned many things .

2

مکالمه زیر را با توجه به تصاویر کامل کنید.

1.A:Did Mohsen ..... in the park ?  
 B: Yes, he did .



2.A:What do they do ?  
 B:They ..... the eggs for Norooz .



3.A:What are they doing ?  
 B:They are traveling by .....




4.A:Did he leave the room at 8: 00 ?  
 B:No, he ..... not leave the room at 8:00 .



به سوالات معلم با توجه به شکل های داده شده پاسخ کامل دهید .

Teacher : Was it cold on Friday ?  
 Student : No, .....



Teacher : Where are you going ?  
 Student : .....



نام درس : زبان انگلیسی  
 تاریخ امتحان : ۱۳۹۶/۳/۱۰  
 تعداد صفحه : سه  
 تعداد سؤال : ۸  
 زمان شروع : ۱۰ صبح  
 وقت : ۵۰ دقیقه



باسمه تعالی

وزارت آموزش و پرورش  
 اداره کل آموزش و پرورش استان  
 اداره سنجش

شماره داوطلب  
 نام :  
 نام خانوادگی :  
 نام پدر :  
 نام آموزشگاه :  
 پایه : نهم

۱	<p>متنی که حامد در مورد دوستش نوشته است را بخوانید و زیر کلمه صحیح را خط بکشید .</p> <p>My friend ( is - are ) very kind and friendly . He helps his classmates every day . He washed the dishes and didn't ( watch - watched ) TV last night . He has a little sister . He likes ( him - her ) very much . He ( bought- buy ) a nice dress for her two days ago .</p>	۶								
۱	<p>سارا چند جمله نوشته شده است که اشتباه گرامری دارد . آنها را بیابید و شکل درست آنها را در محل مشخص شده بنویسید .</p> <p>1.Mr .Karimi is a driver . Her job is not easy . 1.....                  2.I help my mother yesterday . 2.....                  3.They are make a voyage now . 3.....                  4.Our teacher were at school last Monday . 4.....</p>	۷								
۱/۵	<p>متن زیر را بدقت بخوانید .</p> <p>My name is Elham . In our country , Iran , people celebrate the first day of spring . This is our New Year . Before New Year , we clean our houses and buy new clothes . My father is so generous . He gives some money to the poor people . My sister and I always set the Haft Seen Table . We put the Holy Quran and a mirror on the table , too . On New Year Day , we sit around the table and recite The Holy Quran . My mother cooks a special food for lunch . Then we visit our relatives .</p> <p>الف- با توجه به متن مقابل جملات درست ( T ) و مقابل جملات غلط ( F ) بگذارید .</p> <p>1.Elham's father is generous . ( )                  2.We buy new clothes after New Year . ( )</p> <p>ب- با توجه به متن بالا به سوالات زیر پاسخ کامل دهید .</p> <p>1.What does her father give to the poor people ? .....                  2.Does her sister cook a special food ? .....</p> <table border="1" data-bbox="223 1657 1388 1803"> <tr> <td>نمره پایانی</td> <td>نمره گفتاری از ۵ نمره</td> <td>نمره شنیداری از ۵ نمره</td> <td>نمره کتبی از ۱۰ نمره</td> </tr> <tr> <td> </td> <td> </td> <td> </td> <td> </td> </tr> </table> <p>« موفق و سربلند باشید »</p>	نمره پایانی	نمره گفتاری از ۵ نمره	نمره شنیداری از ۵ نمره	نمره کتبی از ۱۰ نمره					۸
نمره پایانی	نمره گفتاری از ۵ نمره	نمره شنیداری از ۵ نمره	نمره کتبی از ۱۰ نمره							
۱۰	جمع نمرات									



اداره کل آموزش و پرورش استان یزد

اداره سنجش

متن شنیداری زبان انگلیسی نهم دوره اول متوسطه تاریخ ۱۳۹۶/۳/۱۰

1-This summer ,there were two interesting movies in the cinemas: a cartoon and a comedy. I liked to see both, but I just watched the cartoon. The cinemas were full of people and it was difficult to buy tickets. Later, I watched the CD of the comedy at home.

2 .

1. Mr. Akbari is booking a room.

2.Mrs. Moradi is reading a guide book.

3. Reza is buying a ticket.

4. Sara is watching fire works .

3.Amir is a police officer.He works at a police station.He goes to work from Saturdays to Wednesdays 7 a.m to 4 p.m .He drives his car around the city and makes sure everything is OK.

4.

1.I twisted my ankle last year .

2.Did you cut your finger ?

3.What happened to your face ?

4.That's too bad !

شماره داوطلب	باسمه تعالی	نام درس: پیام های آسمان
نام:	وزارت آموزش و پرورش	تاریخ امتحان: ۹۶/۳/۱
نام خانوادگی:	اداره کل آموزش و پرورش استان یزد	تعداد صفحات: ۳
نام پدر:	اداره سنجش	تعداد سؤال: ۲۲
نام آموزشگاه:		زمان شروع: ساعت ۱۰
پایه: نهم		وقت: ۶۰ دقیقه

ضمن خیرمقدم به دانش آموزان و داوطلبان عزیز، سوالات زیر را به دقت بخوانید و با توکل به خدا و آرامش خاطر پاسخ دهید.

نام و نام خانوادگی مصحح اول:	نام و نام خانوادگی مصحح دوم:
نمره با عدد	نمره تجدید نظر با عدد
نمره با حروف	نمره تجدید نظر با حروف

ردیف	سوالات	بارم
۱	مفهوم آیه ی شریفه ی زیر را بنویسید. وَلَا يَزَالُونَ يَقَاتِلُونَكُمْ حَتَّىٰ يَرُدُّوكُمْ عَن دِينِكُمْ إِنِ اسْتِطَاعُوا	۱/۲۵
۲	جاهای خالی را با عبارات مناسب کامل کنید. الف) خداوند متعال، حکمت انفاق را، توزیع ثروت میان ..... و جلوگیری از انحصار آن در دست ..... بیان کرده است. ب) رسولان الهی با آوردن دلایل محکم، مشرکین را به ..... و ..... دعوت می کردند. ج) اسلام شناسان و فقیهان واقعی کسانی هستند که در سخنان و راهنمایی هایشان پیرو سخنان ..... هستند. د) آخرین و مغرب ترین سلاح دشمن در برابر ملت ایران ..... است.	۱/۵
۳	گزینه مناسب را انتخاب کنید. ۱- بالاترین ثمره ی انقلاب اسلامی چیست؟ الف) رشد بالای تولید علم ج) زنده شدن روحیه خود باوری ب) ریشه کن شدن بی سوادی د) اقتدار نظامی در منطقه ۲- موانع بزرگ امامان معصوم (ع) در اجرای دستورات الهی چه بود؟ الف) دشمنان تشیع: مردم نادان ج) حاکمان و مردم منفعت طلب ب) محدودیت امامان: قدرت حاکمان د) حاکمان زور گو: مردم ترسو ۳- حضرت علی(ع) چه کاری را از همه کارهای نیک بالاتر می داند و اهمیت آن کار را به چه چیزی تشبیه می کند؟ الف) جهاد در راه خدا: قطره ای در برابر دریای پهناور ب) امر به معروف و نهی از منکر: قطره ای در برابر دریای پهناور و عمیق ج) جهاد در راه خدا: قطره ای در برابر باران الهی د) امر به معروف و نهی از منکر: قطره ای در برابر باران الهی	۱/۷۵



شماره داوطلب نام: نام خانوادگی: نام پدر: نام آموزشگاه: پایه: نهم	باسمه تعالی وزارت آموزش و پرورش اداره کل آموزش و پرورش استان یزد اداره سنجش	نام درس: پیام های آسمان تاریخ امتحان: ۹۶/۳/۱ تعداد صفحه: ۳ تعداد سؤال: ۲۲ زمان شروع: ساعت ۱۰ وقت: ۶۰ دقیقه
---	--	---

ردیف	سوالات	بارم
۴	<p>به سوالات زیر پاسخ کوتاه دهید؟</p> <p>الف) بهترین راه برای شناخت صفات خداوند بزرگ چیست؟</p> <p>ب) جهاد در فرهنگ اسلامی یعنی چه؟</p> <p>ج) هدف زندگی انسانهای مؤمن بر خاسته از چیست؟</p> <p>د) یکی از اثر گذارترین عقاید ما شیعیان چه می باشد؟</p> <p>ه) از دیدگاه حضرت امام جعفر صادق (ع) محبوبترین دوستان چه کسی است؟</p>	۲/۵
۵	<p>صحیح یا غلط بودن جملات زیر را مشخص کنید.</p> <p>الف) دین اسلام هرگز عقاید خود را به زور بر هیچ گروهی تحمیل نکرده است. <input type="checkbox"/> ص <input type="checkbox"/> غ</p> <p>ب) با پولی که خمس آن پرداخت نشده است؛ می توان چیزی خرید. <input type="checkbox"/> ص <input type="checkbox"/> غ</p> <p>ج) گام دوم غارتگران و استعمارگران بعد از پیروزی انقلاب اسلامی برای به زانو در آوردن ملت ایران؛ تحریم اقتصادی است. <input type="checkbox"/> ص <input type="checkbox"/> غ</p> <p>د) لبخند زدن و یا خنده با صدا که عمدی نباشد نماز را باطل نمی کند. <input type="checkbox"/> ص <input type="checkbox"/> غ</p>	۱
۶	تسبیح خداوند بزرگ به چه معناست؟	۱/۵
۷	یک مورد از راههای تقویت ایمان به خدا را بنویسید.	۱/۵
۸	با توجه به سخن حضرت امام رضا (ع) دو مورد از ویژگیهای منتظران واقعی حضرت امام زمان (عج) را بنویسید؟	۱/۵
۹	جهاد مردم مظلوم یمن در برابر حملات وحشیانه حکام سعودی چه نوع جهادی است؟	۱/۲۵
۱۰	آمدگی نظامی چه فوایدی دارد؟ (۲ مورد)	۱

شماره داوطلب نام : نام خانوادگی : نام پدر : نام آموزشگاه : پایه : نهم		باسمه تعالی وزارت آموزش و پرورش اداره کل آموزش و پرورش استان یزد اداره سنجش		نام درس : پیام های آسمان تاریخ امتحان : ۹۶/۳/۱ تعداد صفحه : ۳ تعداد سؤال : ۲۲ زمان شروع : ساعت ۱۰ وقت : ۶۰ دقیقه	
۱۱	نتیجه وقف چیست ؟	۱۲۵			
۱۲	خمس به چه کسی پرداخت می شود و در چه راههایی هزینه می شود؟	۱۱۵			
۱۳	یک مورد از ویژگیهای مهم پیامبران را نام ببرید؟	۱۵			
۱۴	با توجه به فرمایش حضرت امام صادق (ع) هدایتگران واقعی مردم در زمان غیبت چه ویژگیهایی باید داشته باشند؟ (دو مورد)	۱۵			
۱۵	آب مضاف چه آبی است ؟ (با ذکر مثال)	۱			
۱۶	سه مورد از مبطلات نماز را نام ببرید؟	۱۱۵			
۱۷	چرا مومنان مسئولیت بیشتری در خصوص امر به معروف و نهی از منکر دارند؟	۱۷۵			
۱۸	سه مورد از آثار منفی ترک امر به معروف و نهی از منکر را بیان کنید.	۱۱۵			
۱۹	طبق فرمایش حضرت علی (ع) پاداش انسان عقیف و پاکدامن نزد خداوند ، چگونه است؟	۱۵			
۲۰	علاقه های افراطی به دوست موجب چه می شود؟	۱۵			
۲۱	همنشین بد، در روایات ، به چه چیزهایی تشبیه شده است؟	۱۱۵			
۲۲	فردی خیلی عجله دارد و به همین دلیل بعضی از ذکرهای نماز را در حال حرکت می گوید. آیا نماز این فرد صحیح است؟	۱۲۵			
۲۰	جمع				

شماره داوطلب :	بسمه تعالی	نام درس : آمادگی دفاعی
نام :	وزارت آموزش و پرورش	تاریخ امتحان : ۱۳۹۶/۰۳/۱۷
نام خانوادگی :	اداره کل آموزش و پرورش استان یزد	تعداد صفحه : ۲
نام پدر :	اداره سنجش	تعداد سؤال : ۲۲
نام آموزشگاه :		زمان شروع : ۱۰ صبح
پایه : نهم		وقت : ۵۰ دقیقه

ضمن خیرمقدم به دانش آموزان و داوطلبان عزیز، سوالات زیر را به دقت بخوانید و با توکل به خدا و آرامش خاطر پاسخ دهید.

نام و نام خانوادگی مصحح اول :	نام و نام خانوادگی مصحح دوم :	
نمره با عدد	نمره تجدید نظر با عدد	
نمره با حروف	نمره تجدید نظر با حروف	
ردیف	سؤالات	بارم
الف	<p>"ما می گوئیم تا شرک و کفر است ، مبارزه هست و تا مبارزه هست ، ما هستیم " امام خمینی (ره) گزینه ی صحیح را انتخاب کنید .</p> <p>۱- کدام مورد زیر موثرترین روش های دفاع غیرعامل در دنیا می باشد ؟</p> <p>(۱) اختفا      (۲) استتار      (۳) پراکندگی      (۴) فریب      <input type="checkbox"/></p> <p>۲- " برقراری دوره های آموزشی مناسب " از وظایف کدام گروه شورای ایمنی در برابر زلزله است؟</p> <p>(۱) نجات و امداد      (۲) آتش نشان      (۳) تدارکات و پشتیبانی      (۴) جست و جو      <input type="checkbox"/></p> <p>۳- دستور تشکیل ارتش بیست میلیونی (بسیج) در چه تاریخی صادر شد ؟</p> <p>(۱) ۵ آذر ۱۳۵۸      (۲) ۳ خرداد ۱۳۶۱      (۳) ۳۱ شهریور ۱۳۵۹      (۴) ۵ مهر ۱۳۶۰      <input type="checkbox"/></p> <p>۴- در دوران معاصر کدام مورد زیر در مجموعه ای مردان مبارز حضور داشته اند ؟</p> <p>(۱) سربازان میهن      (۲) روحانیان      (۳) شاعران و نویسندگان      (۴) همه موارد      <input type="checkbox"/></p>	۱
ب	<p>پاسخ کوتاه به هر کدام از سوالات زیر بدهید .</p> <p>۱- به معنای منتقل کردن و رساندن پیام ، افکار و عقاید به دیگران است . ( )</p> <p>۲- مظهر پایداری و مقاومت مردم ایران در دوران دفاع مقدس شد . ( )</p> <p>۳- به مجموعه ای از دانش و اطلاعات افراد جامعه درباره پدیده زلزله گفته می شود . ( )</p> <p>۴- به معنای آراستن ، برپاداشتن و انجام دادن به موقع کارهاست . ( )</p>	۱
ج	<p>جاهای خالی را با واژه مناسب کامل کنید .</p> <p>۱- ادامه حیات هر ملتی به ..... و ..... آن ملت در دفاع از کشورشان بستگی دارد.</p> <p>۲- از نظر ..... و ..... معمولاً شایعه مجموعه ای از غیبت ، تهمت محسوب می شود.</p> <p>۳- امنیت از مهم ترین نیازهای ..... و ..... انسان است .</p>	۱/۵
د	<p>به هر کدام از سوالات زیر پاسخ کامل ( تشریحی ) بدهید .</p> <p>۱- چرا پس از اتمام تکان های زلزله باید با حفظ آرامش به فضای باز برویم ؟</p>	۱/۵

شماره داوطلب :  
نام :  
نام خانوادگی :  
نام پدر :  
نام آموزشگاه :  
پایه : نهم

بسمه تعالی

وزارت آموزش و پرورش


اداره کل آموزش و پرورش استان

اداره سنجش



نام درس : آمادگی دفاعی  
تاریخ امتحان : ۱۳۹۶/۰۳/۱۷  
تعداد صفحه : ۲  
تعداد سؤال : ۲۲  
زمان شروع : ۱۰ صبح  
وقت : ۵۰ دقیقه

۱۵	۲- در انتخاب محل مناسب برای ایجاد تاسیسات حیاتی و مهم کشور از چه مکان هایی باید خوداری کرد؟ (۲مورد)	
۱۵	۳- به چه دلایلی استفاده از سلاح های غیر متعارف منع شده است ؟ ( دو مورد )	
۱۵	۴- با سقوط نظام شاهنشاهی ، سیاست خارجی جمهوری اسلامی ایران بر چه اساسی شکل گرفت ؟	۵
۱۵	۵- دو مورد از عوامل موثر در کاهش خطرهای ناشی از زلزله را بنویسید .	
۱۵	۶- امام راحل (ره) و مقام معظم رهبری (مدظله) درباره ی انقلاب اسلامی چه سفارشی کرده اند ؟	
۱	۷- "جنگ نرم" را تعریف کنید .	
۱	۸- چرا حضور مستمر و سازماندهی شده مردم ، تنها عاملی است که می تواند مانع موفقیت دشمنان شود ؟	
۱	۹- بزرگ مردانی همچون امیرکبیر ، ستارخان و باقرخان ، با چه اهدافی در مقابل نفوذ و دخالت بیگانگان تلاش فراوان نموده اند ؟ ( دو مورد )	
۱	۱۰- دو مورد از روش های اختفا را بنویسید .	
۱/۵	۱۱- تفرقه افکنی یعنی چه ؟	
۱۲	جمع	"موفق و سربلند باشید"



شماره داوطلب :	بسمه تعالی
نام :	وزارت آموزش و پرورش
نام خانوادگی :	اداره کل آموزش و پرورش استان یزد
نام پدر :	<b>اداره سنجش</b>
نام آموزشگاه :	
پایه : نهم	


کلاس: **کارشناسی نظری** نام در نوبل: ریاضی  
تاریخ امتحان: ۱۳۹۶/۰۳/۰۳  
تعداد صفحه: ۴  
تعداد سؤال: ۱۸  
زمان شروع: ۱۰ صبح  
وقت: ۱۰۰ دقیقه

ضمن خیر مقدم به دانش آموزان و داوطلبان عزیز، سوالات زیر را به دقت بخوانید و با توکل به خدا و آرامش خاطر پاسخ دهید.


نام و نام خانوادگی مصحح اول :	نام و نام خانوادگی مصحح دوم :
نمره با عدد :	نمره تجدید نظر با عدد :
نمره با حروف :	نمره تجدید نظریا حروف :

ردیف	سوالات	بارم
۱	درستی و نادرستی هر عبارت را مشخص کنید. الف) مجموعه عددهای حقیقی بین ۳ و ۴ یک مجموعه تهی را نشان می دهد. ب) عددی وجود ندارد که صحیح و گویا باشد. ج) هر دو مستطیل دلخواه همواره متشابه هستند. د) رابطه بین اندازه ضلع مربع و محیط آن یک رابطه خطی است.	۱
۲	جاهای خالی را پر کنید. الف) اجتماع مجموعه اعداد گویا و عددهای اصم را مجموعه عددهای ..... می نامیم. ب) با دوران دادن یک مستطیل حول طول آن ..... بوجود می آید. ج) در مسئله «آیا در هر متوازی الاضلاع قطرها همدیگر را نصف می کنند؟» متوازی الاضلاع بودن شکل ..... مسئله است.	۱۷۵
۳	عبارت های سمت راست را به گزینه مناسب در سمت چپ وصل کنید. (۳ گزینه در سمت چپ اضافی است) - نمایش اعشاری کسر $\frac{5}{18}$ به صورت ___ است. - از دوران ربع دایره حول شعاع آن بوجود می آید - اگر $x > 0$ و $y < 0$ حاصل $\sqrt{x^2} + \sqrt{y^2}$ چقدر است؟	۱۷۵
۴	حاصل $(R-Q) \cap Z$ کدام است؟ الف) Z ب) Q ج) Q' د) R	۱۲۵
۵	اگر تاسی را دو بار پرتاب کنیم احتمال اینکه هر دو بار عدد های رو شده اول باشند چقدر است؟ الف) $\frac{1}{12}$ ب) $\frac{1}{36}$ ج) $\frac{12}{36}$ د) $\frac{1}{2}$	۱۵
۶	با توجه به مجموعه های $A = \{2, 5, 6, 9\}$ و $B = \{2, 6, 9\}$ و $C = \{6, 9, 11\}$ هر یک از مجموعه های زیر را با اعضاء بنویسید. الف) $B - A =$ ب) $A \cap C =$	۱

شماره داوطلب :  
 نام :  
 نام خانوادگی :  
 نام پدر :  
 نام آموزشگاه :  
 پایه : نهم

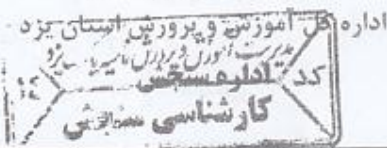


نام درس: ریاضی  
 تاریخ امتحان: ۱۳۹۶/۰۳/۰۳  
 تعداد صفحه: ۴  
 تعداد سؤال: ۱۸  
 زمان شروع: ۱۰ صبح  
 وقت: ۱۰۰ دقیقه

۱/۵	<p>الف) حاصل عبارت زیر را بدون استفاده از قدرمطلق بنویسید. (۱۷۵)</p> $\sqrt{(1-\sqrt{3})^2}$ <p>ب) بین دو عدد ۶ و <math>\sqrt{3}</math> یک عدد گنگ مثال بزنید. (۲۵)</p> <p>ج) مثلث ABC به اضلاع ۴ و ۵ و ۸ سانتی متر با مثلث DEF به اضلاع <math>x-1</math> و ۱۰ و <math>x+7</math> با هم متشابه هستند (اندازه اضلاع مثلث از کوچک به بزرگ نوشته شده است) مقدار <math>x</math> چقدر است؟ (۱۵)</p>	۷
۱/۲۵	<p>الف) حاصل عبارت زیر را به صورت عدد تواندار بنویسید. (۱۵)</p> $\left(\frac{1}{3}\right)^{-4} \times 27^{-2} \times 9^5 =$ <p>ب) حاصل عبارت زیر را بدست آورید. (۷۵)</p> $\frac{\sqrt{54} \times \sqrt{20}}{\sqrt{5}} =$	۸
۱	<p>الف) به صورت نماد علمی بنویسید.</p> $0.0145 \times 10^{-2} =$ <p>ب) مخرج کسر زیر را گویا کنید.</p> $\frac{5}{3\sqrt{3}} =$	۹
۱	<p>ثابت کنید اگر از نقطه M خارج از دایره دو مماس MA و MB را بر دایره رسم کنیم اندازه این دو مماس با هم برابر است. (راهنمایی: از مرکز دایره به نقطه های M و A و B وصل کنید)</p> 	۱۰


شماره داوطلب :  
 نام :  
 نام خانوادگی :  
 نام پدر :  
 نام آموزشگاه :  
 پایه : نهم

بسمه تعالی  
 وزارت آموزش و پرورش



نام درس: ریاضی  
 تاریخ امتحان: ۱۳۹۶/۰۳/۰۳  
 تعداد صفحه: ۴  
 تعداد سؤال: ۱۸  
 زمان شروع: ۱۰ صبح  
 وقت: ۱۰۰ دقیقه

۱/۷۵	<p>الف) عبارت مقابل را با استفاده از اتحاد حل کنید. (۷۵)</p> $(ab - \frac{1}{2})^2 =$ <p>ب) عبارات داده شده را تجزیه کنید. (۱)</p> $a^2 - 9a + 14 =$ $x^2 - y^2 =$	۱۱
۱/۲۵	<p>نامعادله داده شده را حل کنید و مجموعه جواب را روی محور نشان دهید.</p> $-3(x-1) \geq 2x-2 =$	۱۲
۱/۷۵	<p>الف) معادله خطی بنویسید که شیب آن <math>\frac{2}{3}</math> و عرض از مبدا آن <math>-2</math> باشد. (۱۵)</p> <p>ب) خط <math>y = 3x - 1</math> را در دستگاه مختصات رسم کنید. (۷۵)</p> <p>ج) شیب و عرض از مبدا خط داده شده را مشخص کنید. (۱۵)</p> $4x - 2y = 8$	۱۳
۱	<p>دستگاه مقابل را حل کنید.</p> $\begin{cases} x - 2y = 7 \\ 2x - 7y = 15 \end{cases}$	۱۴



نام درس: ریاضی  
تاریخ امتحان: ۱۳۹۶/۰۳/۰۳  
تعداد صفحه: ۴  
تعداد سؤال: ۱۸  
زمان شروع: ۱۰ صبح  
وقت: ۱۰۰ دقیقه

کارشناسی هنرهای

بسمه تعالی

وزارت آموزش و پرورش

اداره کل آموزش و پرورش استان یزد

اداره سنجش


شماره داوطلب:  
نام:  
نام خانوادگی:  
نام پدر:  
نام آموزشگاه:  
پایه: نهم

۱/۷۵	حاصل عبارات داده شده را بدست آورید (عبارت های جبری تعریف شده فرض می شود). $\text{الف) } \frac{4x^2}{x+1} \times \frac{x-1}{x^2-x} =$ $\text{ب) } \frac{x}{x+y} + \frac{y}{x-y} =$	۱۵
۱	تقسیم مقابل را انجام دهید خارج قسمت و باقی مانده را مشخص کنید. $(x^2 - 5x - 24) \div (x - 8)$	۱۶
۱	قاعده یک هرم، مستطیلی است به ابعاد ۶ و ۵ سانتی متر و ارتفاع این هرم ۱۰ سانتی متر است حجم هرم چقدر است؟ (نوشتن فرمول الزامی است)	۱۷
۱/۵	مثلث قائم الزاویه ای به اضلاع قائم ۳ و ۴ سانتی متر را حول ضلع ۴ سانتی متری دورانی داده ایم الف) نام شکل حاصل از دورانی چیست؟ ب) حجم آن چقدر است؟ (نوشتن فرمول الزامی است)	۱۸
۲۰		جمع



<p>شماره داوطلب : نام : نام خانوادگی : نام پدر : نام آموزشگاه : پایه : نهم</p>	<p>بسمه تعالی وزارت آموزش و پرورش اداره کل آموزش و پرورش استان یزد اداره سنجش</p>	<p>نام درس : عربی تاریخ امتحان : ۱۳۹۶/۰۲/۱۳ تعداد صفحه : ۳ تعداد سؤال : ۱۷ زمان شروع : ۱۰ صبح وقت : ۶۰ دقیقه</p>
--	---	--

ضمن خیرمقدم به دانش آموزان و داوطلبان عزیز، سوالات زیر را به دقت بخوانید و با توکل به خدا و آرامش خاطر پاسخ دهید.

ردیف	سوالات	بارم
	<p>نام و نام خانوادگی مصحح اول : نمره با عدد نمره با حروف</p> <p>نام و نام خانوادگی مصحح دوم : نمره تجدید نظر با عدد نمره تجدید نظر با حروف</p>	
۱	<p>ترجمه صحیح را انتخاب کنید. الف: لَا تَيْأَسُ فِي حَيَاتِكَ، أَنْتَ تَقْدِرُ، أَطْلُبُ وَاجْتَهِدُ. ۱- در زندگی نا امید نباش، تو می توانی، بخواه و تلاش کن. ب: الْقَرِيبُ مِنْ لَيْسَ لَهُ حَبِيبٌ. ۱- غریب کسی است که با دوستش رابطه خوبی ندارد. ۲: غریب کسی است که دوستی ندارد.</p>	۰/۵
۲	<p>نام هر تصویر را از میان کلمات داده شده انتخاب کنید. ( سَيَّارَةُ الْأَجْرَةِ - حَاسِبٌ - سَفِينَةٌ - جَوَالَةٌ )</p> 	۰/۵
۳	<p>هر کلمه را به توضیح آن وصل کنید: ( دو کلمه اضافه است. )</p> <p>الف: الدَّمُوعُ ب: المَطَرُ ج: الدُّخَانُ د: التَّلَوِينُ ه: المَطَقَمُ و: الأَزْرَقُ</p> <p>۱- إعطاء الألوَانِ لشيءٍ. ۲- مكان يأكل فيه الناس الطعامَ. ۳- قطرات الماء التي تنزل من السحابِ. ۴- الشيء الذي يصعد من النارِ.</p>	۱
۴	<p>وزن و حروف اصلی کلمات مشخص شده را بنویسید. - إجتماع الناس لفرحٍ. وزن: ..... - كانوا يصنعون ..... حروف اصلی: .....</p>	۰/۵

شماره داوطلب :  
نام :  
نام خانوادگی :  
نام پدر :  
نام آموزشگاه :  
پایه : نهم

بسمه تعالی

وزارت آموزش و پرورش

اداره کل آموزش و پرورش استان

اداره سنجش



نام درس : عربی  
تاریخ امتحان : ۱۳۹۶/۰۳/۱۳  
تعداد صفحه : ۳  
تعداد سؤال : ۱۷  
زمان شروع : ۱۰ صبح  
وقت : ۶۰ دقیقه



۵	فعل ماضی یا مضارع مناسب را انتخاب کنید. الف: أَيُّهَا السَّائِقُ هَلْ..... الْجِسْرَ الْآبِيضَ؟ (رَأَيْتَ-رَأَيْنَا) ب: الْأَطْلَابُ مَعَ أَسْتَاذِهِمْ..... إِلَى سَفَرَةٍ عِلْمِيَّةٍ. (تَذَهَبْنَ-يَذْهَبُونَ)	-/۵
۶	جملات عربی زیر را به فارسی روان ترجمه کنید: الف: فَيَأْتِي شَيْءٌ نَسْتَرْجِعُ الْبِلَادَ مِنْكَ؟ ب: أَصَابَتْ صَاعِقَةٌ سَفِيحَتَهُمْ، فَاحْتَرَقَتْ. ج: صَارَ بَائِعُ الْقَوَاكِمِ وَمَا تَرَكَ النَّزْسَ. د: نَحْنُ ظَلَعْنَا الْقِرَالَ، فَعَاتَيْنَا بِمُسَاعَدَتِهَا. ه: فِي وَطَنِي كُنْتُ أَشْتَغِلُ فِي الْمُتَحَفِ.	۴/۵
۷	کلمات متضاد و مترادف را در عبارات داده شده، مشخص کنید. الف: زَيْنَا دُخَانًا، فَأَتَيْنَا وَشَاهَدْنَا كُرْمًا. = ..... ب: حُسْنُ الْأَدَبِ يَسْتَرْفِعُ حِجَّ النَّسَبِ. ≠ .....	-/۵
۸	کدام گزینه با بقیه ناهماهنگ است؟ الف: مُحَافِظَةٌ-عَامِلٌ-قَرْيَةٌ-مَدِينَةٌ ب: الْفَرِيقُ الْفَائِزُ-سَفِينَةٌ حَرْبِيَّةٌ-زُجَاجَةٌ الْعُطْرِ-مُخْتَبِرٌ صَغِيرٌ	-/۵
۹	احادیث داده شده را ترجمه کنید. الف: التَّوْبَةُ فِي السَّبَابِ أَحْسَنُ وَالْحَيَاءُ فِي النَّسَاءِ أَحْسَنُ. ب: مَنْ سَأَلَ فِي صِغَرِهِ أَجَابَ فِي كِبَرِهِ.	۲
۱۰	در جای خالی از فعل امر یا نهی مناسب استفاده کنید. الف: ..... نِعْمَةَ اللَّهِ. (لَا تَشْكُرُوا-أَشْكُرُوا) ب: يَا حَمِيدُهُ..... سَيِّئًا عَلَى الشَّجَرِ. (لَا تَكْتُمِي-مَا كَتَبْتَ) ج: ..... عُيُوبَ صَدِيقَاتِكُنَّ. (لَا تَكْشِفُوا-لَا تَكْشِفْنَ) د: أَيُّهَا الرَّجُلُ..... فِي حَيَاتِكَ. (أُصَدِّقُ-أُصَدِّقَا)	۱




نام درس: عربی  
تاریخ امتحان: ۱۳۹۶/۰۳/۱۳  
تعداد صفحه: ۳  
تعداد سؤال: ۱۷  
زمان شروع: ۱۰ صبح  
وقت: ۶۰ دقیقه

بسمه تعالی  
وزارت آموزش و پرورش  
اداره کل آموزش و پرورش استان  
اداره سنجش

شماره داوطلب:  
نام:  
نام خانوادگی:  
نام پدر:  
نام آموزشگاه:  
پایه: نهم

۵- /	۱۱	کلمات مشخص شده را ترجمه کنید. الف: لَا يُوجَدُ هَذَا الْفَيْتَامِينَ فِي الْخَلِيبِ الْمَجْفَفِ ..... ب: هِيَ نَشِيطَةٌ وَذَكِيَّةٌ .....
۱	۱۲	جای خالی را بایکی از کلمات داده شده کامل کنید: (دو کلمه اضافه است). (إشْرَبَ - الْبَيْرُ - الصَّحِيفَةُ - بَضَائِعُ - ذَهَبِيَّةٌ - الْجَاهِلِ) الف: آدَبُ الْمَرْءِ خَيْرٌ مِنْ ..... ب: عَصِيرَ الْيَمُونِ وَالْبُرْتَقَالِ لِصِحَّتِكَ. ج: يَجْلِبُ التَّاجِرُ ..... جَدِيدَةً إِلَى ذَكَائِهِ. د: اسْتَخْرَجَ الْفَلَّاحُونَ مَاءً مِنْ ..... لِلزَّرَاعَةِ.
۵- /	۱۳	به سوالات با توجه به تصاویر پاسخ کوتاه دهید. الف: كِرِ السَّاعَةُ الآنَ؟ ب: آيَنَ الطَّائِرَانِ؟  
۵- /	۱۴	صحیح یا غلط بودن جملات داده شده را با توجه به واقعیت مشخص کنید. الف: الطُّفُولَةُ هِيَ السَّنَوَاتُ الْأُولَى مِنْ حَيَاةِ الْإِنْسَانِ. <input type="checkbox"/> ص <input type="checkbox"/> غ ب: الْمَخْرَجُ مَكَانٌ يُجْعَلُ وَيُحْفَظُ فِيهِ أَشْيَاءٌ مُخْتَلِفَةٌ. <input type="checkbox"/> ص <input type="checkbox"/> غ
۱	۱۵	متن زیر را بخوانید و با توجه به متن درستی یا نادرستی جمله ها را مشخص کنید. السَّيِّدُ رَفِيعِي «يَشْتَغِلُ فِي مَصْنَعِ الْكَهْرَبَاءِ. هُوَ مُوظَّفٌ مُنْتَظَرٌ، يَذْهَبُ لِلْعَمَلِ فِي وَقْتِهِ وَيَخْرُجُ مِنَ الْمَصْنَعِ بَعْدَ نِهَائَةِ الْعَمَلِ. هُوَ يَرْكَبُ السَّيَّارَةَ فِي السَّاعَةِ السَّابِعَةِ صَبَاحًا وَيَنْزِلُ مِنْهَا فِي السَّاعَةِ الثَّامِنَةِ الْأَرْبَعَاءِ فِي الْمَصْنَعِ لِلْسَّيِّدِ رَفِيعِي «وَأَدَانَ وَبِتَانِ. هُوَ يَقُولُ لَهُمْ دَائِمًا: الْوَقْتُ شَيْءٌ مُهِمٌّ. هُوَ رَجُلٌ نَشِيطٌ وَيَذْهَبُ لِمُهَيِّمَةِ إِدَارِيَّةٍ إِلَى «تَبْرِيزِ» كُلِّ أُسْبُوعٍ لِمُدَّةِ يَوْمَيْنِ. الف: السَّيِّدُ رَفِيعِي «يَعْمَلُ فِي الْمَزْرَعَةِ. ب: لِلْسَّيِّدِ رَفِيعِي «أَرْبَعَةُ أَوْلَادٍ. ج: يَذْهَبُ السَّيِّدُ رَفِيعِي «لِسَفَرَةٍ عِلْمِيَّةٍ إِلَى «تَبْرِيزِ». د: السَّيِّدُ رَفِيعِي «رَجُلٌ نَشِيطٌ وَلَكِنْ غَيْرُ مُنْتَظَرٍ.
۳	۱۶	روان خوانی
۲	۱۷	مکالمه
۲۰		(موفق و پیروز باشید.)

شماره داوطلب : نام : نام خانوادگی : نام پدر : نام آموزشگاه : پایه : نهم	بسمه تعالی وزارت آموزش و پرورش اداره کل آموزش و پرورش استان یزد اداره سنجش	 نام درس : علوم تجربی تاریخ امتحان : ۱۳۹۶/۰۳/۰۶ تعداد صفحه : ۴ تعداد سؤال : ۱۸ زمان شروع : ۱۰ صبح وقت : ۷۰ دقیقه
--	---	---

ضمن خیرمقدم به دانش آموزان و داوطلبان عزیز، سوالات زیر را به دقت بخوانید و با توکل به خدا و آرامش خاطر پاسخ دهید.




ردیف	سوالات	بارم
	نام و نام خانوادگی مصحح اول : نام و نام خانوادگی مصحح دوم : نمره با عدد نمره با حروف نمره تجدید نظر با عدد نمره تجدید نظر با حروف	
۱	کلمه صحیح را از بین کلمات داخل پرانتز انتخاب کنید. الف) عنصر مهمی در هوا که در تولید آمونیاک نقش دارد. (نیتروژن - اکسیژن) ب) وقتی نیروهای وارد بر خودروی در حال حرکت متوازن باشند خودرو با ( شتاب ثابت - سرعت ثابت) حرکت می کند. پ) اگر سنگهای دو طرف شکستگی نسبت به هم جابجا نشده باشند ( گسل - درزه ) به وجود می آید. ت ) پاره خطی جهت دار که مبدأ حرکت را به مقصد وصل می کند (مسافت - جابجایی) نامیده می شود.	۱
۲	عبارت زیر را بررسی و درست یا نادرست بودن آن را تعیین کنید. الف) چگالی ورقه قاره ای از ورقه اقیانوسی بیشتر است ( ) ب) ترکیبات یونی در حالت جامد رسانای جریان الکتریسیته هستند ( ) پ ) سدیم عنصری است که با آب و اکسیژن به شدت واکنش می دهد ( ) ت) امروزه جلبک ها را در گروه جانداران تولید کننده محسوب می کنند . ( )	۱
۳	نام نیروها را با استفاده از کلمات داخل پرانتز بیان کنید. ( کنش و واکنش - تکیه گاه - اصطکاک ایستایی - اصطکاک جنبشی - مقاومت هوا ) الف) جسمی هستیم به جرم معین که روی میز ساکنم. نیروی وزن من با چه نیروی دیگری خنثی می شود؟ ب ) نیرویی هستیم که در خلاف جهت حرکت به جسم متحرک وارد می کنیم و سبب کاهش سرعت یا توقف آن می شوم.	۰/۵
۴	وقتی می گوئیم شتاب یک جسم $4 \text{ m/s}^2$ است منظور چیست ؟	۰/۵

شماره داوطلب :  
 نام :  
 نام خانوادگی :  
 نام پدر :  
 نام آموزشگاه :  
 پایه : نهم



بسمه تعالی  
 وزارت آموزش و پرورش  
 اداره کل آموزش و پرورش استان یزد  
**اداره سنجش**

نام درس : علوم تجربی  
 تاریخ امتحان : ۱۳۹۶/۰۳/۰۶  
 تعداد صفحه : ۴  
 تعداد سؤال : ۱۸  
 زمان شروع : ۱۰ صبح  
 وقت : ۷۰ دقیقه

۰/۵	<p>با توجه به شکل و با فرض اینکه لایه های رسوبی وارونه نشده اند:</p> <p>الف) قدیمی ترین لایه کدام است ؟</p> <p>ب) جدیدترین لایه که در آن احتمال تشکیل فسیل ممکن است ، کدام است ؟</p> 	۵
۰/۵	چگونه آب برخلاف جاذبه زمین از ریشه به بالاترین نقطه گیاه می رسد ؟	۶
۰/۵	<p>در شکل مقابل اگر چرخ دنده بزرگ ورودی باشد ، خروجی چرخ دنده چه کمک هایی به ما خواهد کرد ؟ (۲ مورد)</p> 	۷
۱/۵	<p>منظور از سحابی خورشیدی چیست ؟</p> <p>کمر بند اصلی سیارکی بین کدام دو سیاره واقع شده است ؟</p> <p>جرمی که تحت تأثیر نیروی گرانش ، به دور یک سیاره می چرخد چیست ؟</p> <p>به فاصله ای که نور در مدت یک سال طی می کند گفته می شود ؟</p>	۸
۰/۷۵	<p>شکل مقابل مربوط به کدام گروه از جانداران است ؟</p> <p>یک کاربرد آن را در صنعت با ذکر دلیل بنویسید.</p> 	۹



شماره داوطلب :  
نام :  
نام خانوادگی :  
نام پدر :  
نام آموزشگاه :  
پایه : نهم

بسمه تعالی  
وزارت آموزش و پرورش  
اداره کل آموزش و پرورش استان یزد  
اداره سنجش

نام درس : علوم تجربی  
تاریخ امتحان : ۱۳۹۶-۲۰۰۶  
تعداد صفحه : ۴  
تعداد سؤال : ۱۸  
زمان شروع : ۱۰ صبح  
وقت : ۷۰ دقیقه

۰/۷۵	۱۰	مولکول اتن ( $C_2H_2$ ) را در نظر بگیرید و به سوالات پاسخ دهید : الف) پیوند بین اتم های کربن و هیدروژن از چه نوعی است ؟ ب) یک مورد کاربرد این گاز را در طبیعت بنویسید. پ) حاصل حرارت دادن این گاز در ظرف در بسته الیافی مصنوعی به نام پلی اتن است. نام این واکنش چیست ؟
۰/۷۵	۱۱	« باکتری ها پروکاریوت هستند » منظور از این جمله چیست ؟ یک مورد شباهت بین باکتری ها و گیاهان را بنویسید. یک مورد از فواید باکتری ها را بیان کنید.
۱	۱۲	گیاه مورد نظر را از داخل جدول انتخاب کنید. الف) گیاهی بدون آوند و بدون دانه ( ) ب) گیاهی دانه دار و مخروط دار ( ) پ) گیاهی آوند دار و بدون دانه ( ) ت) گیاهی دارای گلبرگ با مضرری از ۳ ( ) سرخس - ذرت - خزه - لوبیا - سرو
۱	۱۳	نوزاد کرم کدو در گوشت گاو وجود دارد که می تواند وارد بدن انسان شده و در آنجا بالغ شود. الف) کرم کدو از کدام دسته کرم هاست ؟ ب) رابطه غذایی کرم کدو با انسان چگونه رابطه ای است ؟ پ) در بدن این نوع کرم چه دستگانهایی به صورت ساده وجود دارد ؟
۱	۱۴	برای موارد خواسته شده یک مثال بنویسید: ماهی غضروفی : سخت پوست خشکی زی : دوزیست دم دار : پستاندار تخم گذار :

شماره داوطلب :  
 نام :  
 نام خانوادگی :  
 نام پدر :  
 نام آموزشگاه :  
 پایه : نهم



بسمه تعالی  
 وزارت آموزش و پرورش  
 اداره کل آموزش و پرورش استان یزد  
 اداره سنجش

نام درس : علوم تجربی  
 تاریخ امتحان : ۱۳۹۶/۰۳/۰۶  
 تعداد صفحه : ۴  
 تعداد سؤال : ۱۸  
 زمان شروع : ۱۰ صبح  
 وقت : ۷۰ دقیقه

۱	<p>برای موارد زیر دلیل علمی بیاورید:</p> <p>الف) بسیاری از بندپایان پوست اندازی می کنند.</p> <p>ب) پوست خزندگان از پولک های ضخیم یا صفحات استخوانی پوشیده شده است.</p>	۱۵
۱	<p>الف) گلسنگ از رابطه همزیستی بین کدام دو جاندار به وجود می آید؟</p> <p>ب) جغد و شاهین هر دو از چونندگان تغذیه می کنند چه عاملی رقابت بین این دو گونه را کم می کند؟</p> <p>پ) مهم ترین خطر برای کاهش تنوع زیستی و عامل انقراض گونه های جانوری و گیاهی کدام است؟</p>	۱۶
۰/۷۵	<p><b>دانش آموزان عزیز : نوشتن فرمول و راه حل مسائل الزامی است.</b></p> <p>مکعبی به وزن ۲۰۰۰ نیوتن به ابعاد <math>(1m \times 2m \times 2m)</math> بر روی زمین قرار دارد . بیشترین فشاری که به کف می تواند وارد کند ، چند پاسکال است ؟</p>	۱۷
۱	<p>به کمک یک قرقره مرکبی که مزیت مکانیکی آن ۴ است . جسمی به وزن ۲۰۰۰ نیوتن را به اندازه ۰/۵ متر جابه جا می کنیم .</p> <p>الف) مقدار نیروی محرک لازم برای جابه جایی چند نیوتن است ؟</p> <p>ب) مقدار کار نیروی مقاوم چند ژول است ؟</p>	۱۸
۱۵	جمع	



شماره داوطلب :	بسمه تعالی	نام درس : قرآن
نام :	وزارت آموزش و پرورش	تاریخ امتحان : ۱۳۹۶/۰۳/۱۶
نام خانوادگی :	اداره کل آموزش و پرورش استان یزد	تعداد صفحه : ۲
نام پدر :	اداره سنجش	تعداد سؤال : ۹
نام آموزشگاه :		زمان شروع : ۱۰ صبح
پایه : نهم		وقت : ۴۵ دقیقه

ضمن خیرمقدم به دانش آموزان و داوطلبان عزیز، سؤالات زیر را به دقت بخوانید و با توکل به خدا آرامش خاطر پاسخ دهید.

نام و نام خانوادگی مصحح اول :	نام و نام خانوادگی مصحح دوم :
شماره با عدد	شماره تجدید نظر با عدد
شماره با حروف	شماره تجدید نظر با حروف

بارم	سؤالات	نمره														
۱/۵	جدول زیر را با کلمات داده شده کامل کنید. (یک کلمه اضافی است) (جاودان، خرید و فروش، دوزخ، هلاکت، رستگاری، دلایل روشن، دقت کردید)	۱														
	<table border="1"> <thead> <tr> <th>کلمه</th> <th>بَيع</th> <th>رَأَيْتُمْ</th> <th>عَدَن</th> <th>تَبَار</th> <th>سَعِير</th> <th>بَيِّنَات</th> </tr> </thead> <tbody> <tr> <td>معنا</td> <td></td> <td></td> <td></td> <td></td> <td></td> <td></td> </tr> </tbody> </table>	کلمه	بَيع	رَأَيْتُمْ	عَدَن	تَبَار	سَعِير	بَيِّنَات	معنا							
کلمه	بَيع	رَأَيْتُمْ	عَدَن	تَبَار	سَعِير	بَيِّنَات										
معنا																
۳	شماره هر ترکیب را مقابل ترجمه فارسی آن بنویسید. ۱- مَسَاكِيْنَ طَيِّبَةٍ. کار و تلاش بسیار. ۲- مِنْ يَوْمِ الْجُمُعَةِ. سرزمینی مرده. ۳- لَيَلُوكُمْ. خانه های پاکیزه. ۴- اَنْ اَعْبُدُوا اللّٰهَ. در روز جمعه. ۵- سَبْحًا طَوِيْلًا. تا بیازماید شما را. ۶- بَلَدَةٌ مَّيْتًا. که عبادت کنید خدا را.	۲														
۱/۵	در ترجمه آیه زیر کدام کلمه معنا نشده است؟ "رَبِّ اغْفِرْ لِيْ وَ لِوَالِدَيْ" پروردگارا پدر و مادرم را ببامرز. الف) رَبِّ ب) اغْفِرْ ج) لِي د) وَالِدَيْ	۳														
۱/۵	ترکیب قرآنی "اِنْ كُنْتُمْ تَعْلَمُوْنَ" به چه معناست؟ الف) اگر بدانید ب) اگر می دانستید ج) تا بدانید د) موارد الف و ب	۴														
	ادامه سؤالات در صفحه بعد															





ام درس: قرآن  
 تاریخ امتحان: ۱۳۹۶/۰۳/۱۶  
 تعداد صفحه: ۲  
 تعداد سؤال: ۹  
 زمان شروع: ۱۰ صبح  
 وقت: ۴۵ دقیقه

بسمه تعالی  
 وزارت آموزش و پرورش  
 اداره کل آموزش و پرورش استان یزد  
**اداره سنجش**

شماره داوطلب:  
 نام:  
 نام خانوادگی:  
 نام پدر:  
 نام آموزشگاه:  
 پایه: نهم

۵	معنای کلمات قرآنی را از ترجمه زیر بیابید و درمقابل آن بنویسید. "و مانند کسانی نباشید که خدا را فراموش کردند، پس (خدا) خود آنها را از یاد خودشان برد." نَسُوا: لا تُكُونُوا:
۶	ترجمه آیات و عبارات قرآنی را کامل کنید. -الشَّمْسُ وَالْقَمَرُ بِحُسْبَانٍ. .... و..... با حساب و اندازه در نظم هستند. -وَلتَنْظُرْ نَفْسٌ مَّا قَدَّمَتْ لِغَدٍ. و باید دقت کند هر..... آنچه را که از پیش می فرستد برای..... - وَجَعَلْنَا النَّهَارَ مَعَاشًا. و قرار دادیم..... برای.....
۷	صحیح یا غلط بودن هر کلمه را با توجه به معنای آن مشخص نمایید. آجل: سر آمد <input type="radio"/> ثقیل: اندک <input type="radio"/> لا تزد: بیفزای <input type="radio"/> دُوب: گناهان <input type="radio"/> بَأْس: سختی <input type="radio"/> سائل: بی نیاز <input type="radio"/> مُنذِر: بیم دهنده <input type="radio"/> حَيْثُ: هر کجا <input type="radio"/>
۸	با استفاده از ترجمه، کلمات داخل پرانتز را در جاهای خالی مناسب قرار دهید. (أَقْلًا يَنْظُرُونَ، مَهَادًا، قَدِيرًا، الْيَمِّ، مُدَكِّرًا، جُنُودًا) - فَهَلْ مِنْ ..... پس آیا هیچ پند گیرنده ای است؟! - أَمْ نَجْعَلِ الْأَرْضَ ..... آیا زمین را محل آرامش و استراحت قرار ندادیم؟ - ..... إلیّ الْإِبِلِ كَيْفَ خُلِقَتْ. پس آیا به شتر دقت نمی کنند که چگونه خلق شد؟ - وَ لِلَّهِ ..... السَّمَوَاتِ وَ الْأَرْضِ. و برای خداست لشکریان آسمان ها و زمین. - وَهُوَ عَلَى كُلِّ شَيْءٍ ..... و او بر هر چیزی توانا است. - تُنَجِّيْكُمْ مِنْ عَذَابٍ ..... شما را از عذابی دردناک نجات می دهد.
۹	آیات قرآنی را ترجمه کنید. - هُوَالَّذِي أَنْزَلَ السَّكِينَةَ فِي قُلُوبِ الْمُؤْمِنِينَ. ۱/۵ - أَصْحَابِ الْجَنَّةِ هُمُ الْفَائِزُونَ. ۱ - وَآلِي الْجِبَالِ كَيْفَ نُصِيبَتْ. ۱ - وَمَنْ يَتَوَكَّلْ عَلَى اللَّهِ فَهُوَ حَسْبُهُ. ۱/۵ - وَلَقَدْ يَسَّرْنَا الْقُرْآنَ لِلذِّكْرِ. ۱
۲۰	جمع نمرات

نمونه سوال های خرداد ۱۳۹۶ استان یزد - دبیرستان نمونه رسولیان - تاریخ انتشار ۲۰/۰۸/۱۳۹۶

شماره داوطلب :	بسمه تعالی
نام :	وزارت آموزش و پرورش
نام خانوادگی :	اداره کل آموزش و پرورش استان یزد
نام پدر :	<b>اداره سنجش</b>
نام آموزشگاه :	
پایه : نهم	

نام درس : مطالعات اجتماعی  
تاریخ امتحان : ۱۳۹۶/۰۳/۰۸  
تعداد صفحه : ۶  
تعداد سؤال : ۵۲  
زمان شروع : ۱۰ صبح  
وقت : ۷۰ دقیقه

ضمن خیرمقدم به دانش آموزان و داوطلبان عزیز، سوالات زیر را به دقت بخوانید و با توکل به خدا و آرامش خاطر پاسخ دهید.

نام و نام خانوادگی مصحح اول :	نام و نام خانوادگی مصحح دوم :
نمره با عدد	نمره تجدید نظر با عدد
نمره با حروف	نمره تجدید نظر با حروف
بخش اجباری: دانش آموزان عزیز لطفاً به تمام سوالات فصل هفتم تا دوازدهم پاسخ دهید.	
بارم	
۰/۵	۱- مجلس شورای ملی به دستور کدام پادشاه قاجار به توپ بسته شد؟ الف- مظفرالدین شاه <input type="checkbox"/> ب- محمد علی شاه <input type="checkbox"/> ج- ناصرالدین شاه <input type="checkbox"/> احمدشاه <input type="checkbox"/>
۰/۵	۲- چرا آیت الله شیخ فضل الله نوری که ابتدا پشتیبان مشروطه بود به انتقاد از آن پرداخت؟
۰/۵	۳- رهبری نهضت ملی شدن نفت ایران به عهده چه کسانی بود؟ ۱- ..... ۲- .....
۱	۴- دو مورد از اقدامات رضاخان برای نوسازی ایران که به تقلید از اروپا صورت گرفت را بنویسید؟
۰/۵	۵- ایمان به اسلام و ..... و ..... سه عامل موثر در موفقیت انقلاب اسلامی ایران بود.
۰/۵	۶- علت قیام ۱۹ دی ماه مردم قم در سال ۱۳۵۶ چه بود؟
۱	۷- هدف آمریکا از ایجاد تغییرات اجتماعی و اقتصادی در ایران چه بود؟ (دومورد)
۰/۵	۸- از مهم ترین توطئه ها و دسیسه های دشمنان برای انحراف و نابودی انقلاب پس از پیروزی انقلاب اسلامی چه بود؟ ۱- ..... ۲- .....



نام درس : مطالعات اجتماعی  
تاریخ امتحان : ۱۳۹۶/۰۳/۰۸  
تعداد صفحه : ۶  
تعداد سؤال : ۵۲  
زمان شروع : ۱۰ صبح  
وقت : ۷۰ دقیقه

بسمه تعالی  
وزارت آموزش و پرورش  
اداره کل آموزش و پرورش استان یزد  
اداره سنجش

شماره داوطلب :  
نام :  
نام خانوادگی :  
نام پدر :  
نام آموزشگاه :  
پایه : نهم

۰/۲۵	۹- از عوامل مهمی که در شکل گیری ارزش هاموثر است عقاید دینی می باشد. صحیح <input type="checkbox"/> غلط <input type="checkbox"/>	
۰/۲۵	۱۰- اولین و مهم ترین کانون اجتماعی شدن افراد ..... می باشد.	
۱	۱۱- هویت فردی شامل چند بخش می باشد؟ نام ببرید با ذکر یک مثال برای هر کدام.	فصل نهم
۱	۱۲- هنجار را تعریف کنید و دو مورد از هنجارهای مورد پذیرش عموم افراد را نام ببرید؟	
۰/۲۵	۱۳- در گذشته خانواده ها نقش بیشتری در همسرگزینی فرزندان خود داشتند ولی از خانواده ی نوپا حمایت کمتری می کردند. صحیح <input type="checkbox"/> غلط <input type="checkbox"/>	
۰/۲۵	۱۴- اولین شرط بقای هر جامعه جمعیت آن است. صحیح <input type="checkbox"/> غلط <input type="checkbox"/>	
۰/۵	۱۵- فرزندآوری چه فوایدی برای خانواده دارد؟ (دو مورد)	فصل دهم
۱	۱۶- دو مورد از مهم ترین عواملی که موجب ناسازگاری بین زن و مرد می شود را ذکر کنید.	
۰/۵	۱۷- خانواده ها به چه روش هایی فرزندان خود را اجتماعی می کنند؟ (فقط دو مورد را نام ببرید)	
	۱- ..... -۲	

شماره داوطلب :  
نام :  
نام خانوادگی :  
نام پدر :  
نام آموزشگاه :  
پایه : نهم

بسمه تعالی  
وزارت آموزش و پرورش  
اداره کل آموزش و پرورش استان یزد  
اداره سنجش



درس : مطالعات اجتماعی  
تاریخ امتحان : ۱۳۹۶/۰۳/۰۸  
تعداد صفحه : ۶  
تعداد سؤال : ۵۲  
زمان شروع : ۱۰ صبح  
وقت : ۷۰ دقیقه



۰/۲۵	۱۸- رهبری در جمهوری اسلامی ایران بر پایه..... استوار است.	فصل یازدهم						
۰/۵	۱۹- در کدام یک از موارد زیر انتخاب به صورت غیر مستقیم و با واسطه صورت می گیرد؟ الف- رئیس جمهور <input type="checkbox"/> ب- رهبر <input type="checkbox"/> ج- نمایندگان مجلس <input type="checkbox"/> د- شورای اسلامی شهر و روستا <input type="checkbox"/>							
۰/۵	۲۰- دو مورد از مهم ترین وظایف همه حکومت ها را بنویسید؟							
۰/۵	۲۱- نصب ، عزل و قبول استعفای چه کسانی بر عهده رهبر است؟ ( دو مورد )							
۰/۲۵	۲۲- در جدول زیر نوع حقوق شهروندی را از بین موارد داده شده انتخاب کنید. (یک مورد اضافه است) (حقوق فرهنگی، حق برخورداری از رفاه و تامین اجتماعی، حق برخورداری از عدالت قانونی، حق برخورداری از عدالت قضایی)							
	<table border="1"><tr><td>حمایت از تعلیم و تربیت شایسته</td><td></td></tr><tr><td>زندگی در محیط پاک و سالم و بدون آلودگی</td><td></td></tr><tr><td>انتخاب وکیل مدافع در همه دادگاه ها</td><td></td></tr></table>	حمایت از تعلیم و تربیت شایسته		زندگی در محیط پاک و سالم و بدون آلودگی		انتخاب وکیل مدافع در همه دادگاه ها		
حمایت از تعلیم و تربیت شایسته								
زندگی در محیط پاک و سالم و بدون آلودگی								
انتخاب وکیل مدافع در همه دادگاه ها								
۰/۵	۲۳- محورا صلی اقتصاد مقاومتی چیست؟	فصل دوازدهم						
۱	۲۴- منظور از بهره وری سبز چیست؟							
۰/۵	۲۵- دو مورد از اقدامات مردم در گذشته که نمونه هایی از تفکر بهره وری در زندگی آنها بوده است را بنویسید؟							
۰/۵	۲۶- آقای محسنی در یک آپارتمان ۷۰ متری در شهر تهران زندگی می کند شما برای بهره وری بیشتر از فضای موجود دو راهکار به ایشان پیشنهاد دهید؟							
۱۵	جمع بخش اجباری							

شماره داوطلب :  
 نام :  
 نام خانوادگی :  
 نام پدر :  
 نام آموزشگاه :  
 پایه : نهم

بسمه تعالی  
 وزارت آموزش و پرورش  
 اداره کل آموزش و پرورش استان یزد  
 اداره سنجش

شماره مدرسه :  
 تاریخ امتحان : ۱۳۹۶/۰۳/۰۸  
 تعداد صفحه : ۶  
 تعداد سؤال : ۵۲  
 زمان شروع : ۱۰ صبح  
 وقت : ۷۰ دقیقه



	بخش اختیاری: دانش آموزان عزیز لطفا در این بخش دوفصل را انتخاب کنید و به سوالات همان دوفصل پاسخ دهید.	
۰/۵	<p>۱- با توجه به شکل مقابل موقعیت نقاط الف و ب (طول و عرض جغرافیایی) آن را بنویسید؟</p> <div style="display: flex; justify-content: space-around;">   </div> <p>الف-.....          ب-.....</p> <p>۲- کدام یک از موارد زیر از نتایج حرکت وضعی زمین می باشد؟</p> <p>الف- پیدایش فصل <input type="checkbox"/>      ب- تغییر زاویه تابش آفتاب <input type="checkbox"/></p> <p>ج- اختلاف ساعت <input type="checkbox"/>      د- نامساوی بودن درازی روز و شب <input type="checkbox"/></p> <p>۳- سیاره های درونی و بیرونی را از نظر (مدار گردش و جنس و ترکیب) باهم مقایسه کنید؟</p> <p>۴- چرا از ساعت رسمی استفاده می کنیم؟ مثال بیاورید.</p>	فصل اول
۰/۵	<p>۵- بخش خارجی زمین که حالت جامد دارد کدام یک از محیط های کره زمین را می سازد؟</p> <p>الف- اتمسفر <input type="checkbox"/>      ب- هیدروسفر <input type="checkbox"/>      ج- بیوسفر <input type="checkbox"/>      د- لیتوسفر <input type="checkbox"/></p> <p>۶- عبور جریان آب سرد گرینلند از کناره های کشور..... باعث بروز سرمای شدید در کناره ها می شود.</p> <p>۷- دو مورد از پیامد های ناخوشایند گرم شدن زمین را بنویسید؟</p> <p>۸- معمولا فلات قاره ها از چه نظر دارای اهمیت هستند؟ (دو مورد)</p> <p>۹- سه مورد از نتایج حرکت ورقه های پوسته زمین را بنویسید؟</p>	فصل دوم



شماره داوطلب :  
نام :  
نام خانوادگی :  
نام پدر :  
نام آموزشگاه :  
پایه : نهم

بسمه تعالی  
وزارت آموزش و پرورش  
اداره کل آموزش و پرورش استان یزد  
اداره سنجش

مطالعات اجتماعی  
تاریخ امتحان : ۱۳۹۶/۰۳/۰۸  
تعداد صفحه : ۶  
تعداد سؤال : ۵۲  
زمان شروع : ۱۰ صبح  
وقت : ۷۰ دقیقه

<p>۱</p> <p>۰/۵</p> <p>۰/۵</p> <p>۰/۵</p>	<p>۱۰- گزینه های ستون الف رابه گزینه مربوط به آن درستون ب وصل کنید(یک مورد اضافه است)</p> <table border="1"> <thead> <tr> <th>الف ↓</th> <th>ب ↓</th> </tr> </thead> <tbody> <tr> <td>-تامین بخش عمده چوب نرم برای تولید کاغذ مربوط به این زیست بوم است.</td> <td>• توندرا</td> </tr> <tr> <td>-بیشترین وسعت این زیست بوم درقاره آفریقااست.</td> <td>• جنگل های بارانی استوایی</td> </tr> <tr> <td>-درختان شاه پسند وگیاه بامبو متعلق به این زیست بوم می باشد.</td> <td>• تایگا</td> </tr> <tr> <td>-دراین زیست بوم گیاهانی چون خزه و گلستگ می توانند برویند.</td> <td>• بیابان</td> </tr> <tr> <td></td> <td>• ساوان</td> </tr> </tbody> </table> <p>۱۱- کدام عامل زیر بیشترین تاثیر رابرمیزان ونوع پوشش گیاهی دریک منطقه دارد؟</p> <p>الف-ناهمواری ها <input type="checkbox"/>      ب-ارتفاع <input type="checkbox"/>      ج-آب و هوا <input type="checkbox"/>      د-جنس خاک <input type="checkbox"/></p> <p>۱۲-کدام کشورها بیشترین میزان عاج قاچاق درجهان را وارد می کنند؟</p> <p>۱۳- از دلایل اهمیت و ارزش جنگل های بارانی استوایی به دو مورد اشاره کنید؟</p>	الف ↓	ب ↓	-تامین بخش عمده چوب نرم برای تولید کاغذ مربوط به این زیست بوم است.	• توندرا	-بیشترین وسعت این زیست بوم درقاره آفریقااست.	• جنگل های بارانی استوایی	-درختان شاه پسند وگیاه بامبو متعلق به این زیست بوم می باشد.	• تایگا	-دراین زیست بوم گیاهانی چون خزه و گلستگ می توانند برویند.	• بیابان		• ساوان	<p>فصل سوم</p>
الف ↓	ب ↓													
-تامین بخش عمده چوب نرم برای تولید کاغذ مربوط به این زیست بوم است.	• توندرا													
-بیشترین وسعت این زیست بوم درقاره آفریقااست.	• جنگل های بارانی استوایی													
-درختان شاه پسند وگیاه بامبو متعلق به این زیست بوم می باشد.	• تایگا													
-دراین زیست بوم گیاهانی چون خزه و گلستگ می توانند برویند.	• بیابان													
	• ساوان													
<p>۰/۵</p> <p>۰/۵</p> <p>۰/۵</p> <p>۱</p>	<p>۱۴-نوع هرکدام ازمهاجرت ها را مشخص کنید؟</p> <p>الف-مهاجرت بیش ازصد میلیون نفر از مردم اروپا در قرن نوزدهم به سرزمین های جدید ( آمریکای شمالی و استرالیا ) مهاجرت .....</p> <p>ب- مهاجرت مردم عراق به کشورهای همسایه .....</p> <p>۱۵-از مهم ترین ملاک های توسعه انسانی دو مورد آن را نام ببرید؟</p> <p>۱۶-دو مورد از علل خارجی نابرابری جهانی را بنویسید؟</p> <p>۱۷-به طورکلی چه عواملی سبب جذب و دفع جمعیت می شوند؟ نام ببرید و برای هرکدام مثال بزنید.</p> <p>الف- عوامل.....</p> <p>ب-عوامل.....</p>	<p>فصل چهارم</p>												



نام درس : مطالعات اجتماعی  
 تاریخ امتحان : ۱۳۹۶/۰۳/۰۸  
 تعداد صفحه : ۶  
 تعداد سؤال : ۵۲  
 زمان شروع : ۱۰ صبح  
 وقت : ۷۰ دقیقه

بسمه تعالی  
 وزارت آموزش و پرورش  
 اداره کل آموزش و پرورش استان یزد  
**اداره سنجش**

شماره داوطلب :  
 نام :  
 نام خانوادگی :  
 نام پدر :  
 نام آموزشگاه :  
 پایه : نهم

۰/۱۵	۱۸- علت شکست ایرانیان در جنگ چالدران چه بود؟	
۰/۱۵	۱۹- دو مورد از اقدامات شاه اسماعیل صفوی پس از تاج گذاری را بنویسید؟	
۰/۷۵	۲۰- از عالمان و دانشمندان عصر صفوی سه مورد را نام ببرید؟	فصل پنجم
۰/۱۵	۲۱- دو عامل گسترش تجارت در عصر صفوی را بیان کنید؟	
۰/۲۵	۲۲- یکی از باشکوه ترین بازارهای ایران در عصر صفویه بازار..... در شمال میدان نقش جهان اصفهان بود.	
۰/۲۵	۲۳- او کیست : الف- آخرین فرمانروای زندیه که از آقامحمدخان شکست خورد و سپس به قتل رسید : .....	
۰/۲۵	ب- از افراد پیش گام در تأسیس مدارس به سبک اروپا در شهرهای تبریز و مشهد ، قم و تهران..... بود.	
۰/۱۵	۲۴- دو مورد از اقدامات امیرکبیر را بنویسید؟	فصل ششم
۰/۱۵	۲۵- درمقابل اعطای امتیاز توتون و تنباکو تالبوت موظف به پرداخت چه مبلغی به ایران شد؟	
۰/۱۵	۲۶- درمورد عهدنامه ترکمانچای به سوالات زیر پاسخ دهید. الف- این عهدنامه بین چه کشورهایی بسته شد؟	
۰/۱۵	ب- دو مورد از مواد این عهدنامه را بنویسید.	

((موفق و سربلند باشید))