

شماره داوطلب	باسمه تعالی	نام درس : شنیداری زبان انگلیسی
نام :	وزارت آموزش و پرورش	تاریخ امتحان : ۱۳۹۷/۳/۲۰
نام خانوادگی :	اداره کل آموزش و پرورش استان یزد	تعداد صفحه : دو
نام پدر :	اداره سنجش	تعداد سؤال : چهار
نام آموزشگاه :	((نوبت خرداد ماه))	زمان شروع : ۹:۳۰ صبح
پایه : نهم		وقت : ۲۰ دقیقه

ضمن خیرمقدم به دانش آموزان و داوطلبان عزیز، سوالات زیر را به دقت بخوانید و با توکل به خدا و آرامش خاطر پاسخ دهید.

نام و نام خانوادگی مصحح اول :	نام و نام خانوادگی مصحح دوم :
نمره با عدد	نمره تجدید نظر با عدد
نمره با حروف	نمره تجدید نظر با حروف

بارم	سؤالات	ردیف
------	--------	------

۱	<p>به فایل صوتی گوش دهید و شماره هر جمله را زیر تصویر مربوطه بنویسید. (یک تصویر اضافی است).</p> <div style="display: flex; justify-content: space-around;"> <div style="text-align: center;">  <input type="checkbox"/> </div> <div style="text-align: center;">  <input type="checkbox"/> </div> <div style="text-align: center;">  <input type="checkbox"/> </div> <div style="text-align: center;">  <input type="checkbox"/> </div> </div>	1
---	---	---

۲	<p>به گفت و گوی امیر و بهنام گوش کنید و جملات ناقص آن را با انتخاب کلمه مناسب از داخل کادر کامل کنید. (یک کلمه اضافی است).</p> <div style="display: flex; align-items: center;"> <div style="border: 1px solid black; border-radius: 20px; padding: 10px; width: 60%;"> <p>Amir : How was your summer? Behnam : Brilliant! I to a computer class. I learned many things about Information</p> <p>Amir : Great ! Did you learn how to use computers for your homework? Behnam: Yes, I also learned to use the for my English class.</p> </div> <div style="border: 1px solid black; padding: 10px; width: 35%; margin-left: 10px;"> <p>doing went desk Internet Technology</p> </div> </div>	2
---	---	---

۱	<p>به جملات فایل صوتی گوش کنید و آهنگ هر جمله را با علامت ✓ مشخص کنید.</p> <div style="display: flex; justify-content: space-around;"> <div style="text-align: center;"> <p>۱. <input type="checkbox"/> Falling <input type="checkbox"/> Rising</p> <p>۳. <input type="checkbox"/> Falling <input type="checkbox"/> Rising</p> </div> <div style="text-align: center;"> <p>۲. <input type="checkbox"/> Falling <input type="checkbox"/> Rising</p> <p>۴. <input type="checkbox"/> Falling <input type="checkbox"/> Rising</p> </div> </div>	3
---	---	---





نام درس : شنیداری زبان انگلیسی	باسمه تعالی	شماره داوطلب
تاریخ امتحان : ۱۳۹۷/۳/۲۰	وزارت آموزش و پرورش	نام :
تعداد صفحه : دو	اداره کل آموزش و پرورش استان یزد	نام خانوادگی :
تعداد سؤال : چهار	اداره سنجش	نام پدر :
زمان شروع : ۹:۳۰ صبح	((نوبت خرداد ماه))	نام آموزشگاه :
وقت : ۲۰ دقیقه		پایه : نهم

2	<p>به گفت و گوی مینا و مادرش گوش کنید و پاسخ سوالات زیر را کامل کنید.</p> <p>1.A:Why did Mina need help?</p> <p>B:Because she thinks she..... .</p> <p>2.A: Did Mina hurt his back?</p> <p>B:.....</p> <p>3.A:How did it happen?</p> <p>B:She.....the ball and fell down.</p> <p>4.A:What does her mother want to do?</p> <p>B:She wants to..... .</p>	4
---	--	---

« موفق و سربلند باشید »

شماره داوطلب	نام	نام خانوادگی	نام پدر	نام آموزشگاه	پایه
نام و نام خانوادگی مصحح اول:	نام و نام خانوادگی مصحح دوم:	تاریخ امتحان: ۱۳۹۷/۳/۲۰	تعداد صفحات: چهار	تعداد سؤال: ۸	زمان شروع: ۹:۳۰ صبح
بسمه تعالی	وزارت آموزش و پرورش	اداره کل آموزش و پرورش استان یزد	اداره سنجش	((نوبت خرداد ماه))	
وقت: ۶۰ دقیقه	ضمن خیر مقدم به دانش آموزان و داوطلبان عزیز، سوالات زیر را به دقت بخوانید و با توکل به خدا و آرامش خاطر پاسخ دهید.				





نام و نام خانوادگی مصحح اول:	نام و نام خانوادگی مصحح دوم:
نمره با عدد	نمره تجدید نظر با عدد
نمره با حروف	نمره تجدید نظر با حروف

بارم	سوالات	نمره
۱	<p>رضا تصاویری برای روزنامه دیواری تهیه نموده است و برای هر کدام جملاتی نوشته است، ولی بعضی از جملات و تصاویر باهم دیگر ارتباط ندارند. شما جملات مرتبط را با علامت (✓) و جملات غیر مرتبط را با علامت (✗) مشخص نمایید.</p> <p>۱. Mr . Amini is very hard-working . () </p> <p>۲. This man puts out fire . () </p> <p>۳. My father has a scar on his knee . () </p> <p>۴. I donate blood every year . () </p>	۱

۲	<p>آرش متنی را در مورد کارهایی که در مدرسه انجام می دهد نوشته است . اما در مورد کاربرد بعضی کلمات شک دارد . متن وی را با کلمات داده شده کامل نمایید .</p> <p>hire -download -early - helpful -connect- participate -clean -send</p> <p>My name is Arash . I get up veryin the morning . I usually a taxi to school . We have many computers at school . On Thursdays , weto the Internet and some books from the Internet .Some students in an online English course . I an e-mail to my teacher . He is very He always helps me with my lessons at school . We love our school a lot . We should keep it I learn many things at school .</p>	۲
---	---	---

نام درس : زبان انگلیسی	باسمه تعالی	شماره داوطلب
تاریخ امتحان : ۱۳۹۷/۳/۲۰	وزارت آموزش و پرورش	نام :
تعداد صفحه : چهار	اداره کل آموزش و پرورش استان یزد	نام خانوادگی :
تعداد سؤال : ۸	اداره سنجش	نام پدر :
زمان شروع : ۹:۳۰ صبح	((نوبت خرداد ماه))	نام آموزشگاه :
وقت : ۶۰ دقیقه		پایه : نهم

۱	<p>گفتگوی بین گزارشگر و آقای دیوید را با انتخاب گزینه مناسب کامل کنید .</p> <p>Reporter : Do you new clothes for the New Year ? David : No, we don't . (sing - wear - bring)</p> <p>Reporter : Do you help in your country ? David: Yes , we do . (charity - voluntary - holiday)</p> <p>Reporter : What do you want to do ? David : I want to money .(call - recharge - exchange)</p> <p>Reporter : Did you a TV program last week ? David : Yes , I did . (burn - attend - get off)</p>	   	۳
---	---	---	---


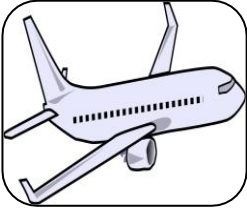

۱	<p>بهنام قصد دارد کارهایی که خود یا اعضای خانواده اش انجام داده اند را برای کلاس انگلیسی خود بنویسد ، اما متأسفانه در این مورد چندان موفق نبوده است . وی به جای کلماتی که بلد نبوده است ، تصاویری گذاشته است . شما اگر بجای او بودید چه کلماتی را برای هر یک از تصاویر انتخاب می کردید ؟</p> <p>My mother and I went to a bank . We opened an</p> <p>My little brother , Omid , cut his</p> <p>My sister the table before lunch .</p> <p>My father texted a at home .</p>	<p>افتتاح حساب</p>    	۴
---	---	---	---

نام درس : زبان انگلیسی	باسمه تعالی	شماره داوطلب
تاریخ امتحان : ۱۳۹۷/۳/۲۰	وزارت آموزش و پرورش	نام :
تعداد صفحه : چهار	اداره کل آموزش و پرورش استان یزد	نام خانوادگی :
تعداد سؤال : ۸	اداره سنجش	نام پدر :
زمان شروع : ۹:۳۰ صبح	((نوبت خرداد ماه))	نام آموزشگاه :
وقت : ۶۰ دقیقه		پایه : نهم

۱) مینا و مهسا می خواهند در مسابقه ایفای نقش شرکت کنند . مهسا پاسخ هریک از سوالات مینا را بر روی برگه ای نوشته است . به او کمک کنید تا پاسخ صحیح را به هریک از سوالات مینا بدهد . هر سوال با کدام جواب مرتبط می باشد ؟ (پاسخها را در محل نقطه چین بنویسید)

Mina : Did you enjoy your weekend ?
Mahsa :
Mina : Where did you go ?
Mahsa :
Mina : How did you go there ?
Mahsa :
Mina : What happened to your father?
Mahsa :

a) We went to Tabriz .
b) He twisted his ankle .
c) Yes, it was wonderful .
d) We went there by plane .








۱) فرهاد می خواهد ایمیلی را برای عمویش در لندن ارسال کند ، ولی در نوشتن شکل دستوری (گرامری) بعضی کلمات تردید دارد . شما به او کمک کنید تا در هر مورد گزینه صحیح را انتخاب نماید .

Send Attach Save Draft Spelling Cancel

To: Show BCC

Good morning my dear uncle ,
I am (write - writing) a letter in a rainy day .It's very nice . My father (played-play) football last week . He (don't - didn't) play basketball . Mohammad is my new classmate . He (was - were) in the library yesterday .
See you soon , Farhad

۱) آقای جهانبخش متنی در مورد عید سعید فطر برای دوستش نوشته است که بدلیل بی دقتی دارای ۴ اشتباه گرامری است . شما اشتباهات وی را پیدا کرده و صحیح آنها را در محل مشخص شده بنویسید .

Fitr Eid is an impotant religious holiday.It is on the first day of Shawwal after Ramadhan.I likes this day a lot.On Fitr Eid people doesn't fast.I have many relatives. I visit him on Fitr Eid each year.We all have a ceremony in a mosque yesterday.

۱) ۲) ۳) ۴)






مریم در مورد زندگینامه نویسندگان معروف تحقیق می کند . متن زیر را که مریم در مورد خانم الینا نوشته است بدقت بخوانید .

۸

Elina was a young and happy girl .When she was 7 years old , she had a bad acciden . She was in a car with her family .Their car hit a big tree .Elina hurt her legs . She didn't walk after that accident .But she was very patient , clever and hard-working . She stayed at home and studied hard for a long time . She wrote many nice stories . She became a famous writer .She wrote stories for young children . Many children read her stories .

الف - با توجه به متن بالا در مقابل جملات صحیح علامت (T) و در مقابل جملات غلط علامت (F) بگذارید .

۰/۵

۱. Elina wasn't a lazy girl . ()

۲. She studied at school after the accident. ()


۱/۵

ب- با توجه به متن بالا به سوالات زیر پاسخ کامل دهید .

۱. Why did Elina stay at home ?

۲. Did their car hit a building ?

۳. Who read Elina's stories ?



نمره پایانی	نمره گفتاری از ۵ نمره	نمره شنیداری از ۵ نمره	نمره کتبی از ۱۰ نمره
.....

۱۰

جمع نمرات

متن آزمون شنیداری زبان انگلیسی پایه نهم

1) به فایل صوتی گوش دهید و شماره هر جمله را زیر تصویر مربوطه بنویسید. (یک تصویر اضافی است).

1. She's very helpful.
2. Alex is packing the baggage.
3. Is there any ATM near here? Yes, one is over there.
4. I attended a TV program yesterday.

2) به گفت وگویی امیر و بهنام گوش کنید و جملات ناقص آن را با انتخاب کلمه مناسب از داخل کادر کامل کنید. (یک کلمه اضافی است).

Amir: How was your summer?

Behnam: Brilliant! I went to a computer class. I learned many things about Information Technology.

Amir: Great! Did you learn how to use computers for doing your homework?

Behnam: Yes, I also learned to use the Internet for my English class.

3) به جملات فایل صوتی گوش کنید و آهنگ هر جمله را با علامت ✓ مشخص کنید. (۱)

1. How are you traveling?
2. Does he like summer?
3. It is fantastic!
4. She's an angry kid.

4) به گفت وگویی مینا و مادرش گوش کنید و پاسخ سوالات زیر را کامل کنید.

Mina: Mother, please help me. I think I just broke my leg.

Mother: What happened dear?

Mina: I didn't see this ball and I fell down. My leg hurts a lot.

Mother: Sit down and don't move. Let me call 115 (one, one, five)

شماره داوطلب	باسمه تعالی	نام درس : پیامهای آسمان
نام :	وزارت آموزش و پرورش	تاریخ امتحان : ۱۳۹۷/۳/۳۰
نام خانوادگی :	اداره کل آموزش و پرورش استان یزد	تعداد صفحه : ۲ صفحه
نام پدر :	اداره سنجش	تعداد سؤال : ۱۶ سوال
نام آموزشگاه :	((نوبت خرداد ماه))	زمان شروع : ۱۰ صبح
پایه : نهم		وقت : ۶۰ دقیقه

ضمن خیرمقدم به دانش آموزان و داوطلبان عزیز، سوالات زیر را به دقت بخوانید و با توکل به خدا و آرامش خاطر پاسخ دهید.

ردیف	سؤالات	بارم
	نام و نام خانوادگی مصحح اول : نمره با عدد نمره با حروف	نام و نام خانوادگی مصحح دوم : نمره تجدید نظر با عدد نمره تجدید نظر با حروف
۱	آیه ی زیر را تکمیل کنید و مفهوم آن را بنویسید؟ وَلَا تَهِنُوا وَ..... وَأَنْتُمْ الْأَعْلَوْنَ إِنْ كُنْتُمْ مفهوم:	۱/۵
۲	جملات صحیح و غلط را مشخص کنید : الف) با افزایش علم و دانش ؛ شناخت ما از خداوند کم تر می شود. ب) بر اساس سخن امام صادق (ع) آنچه ایمان را در دل پایدار می کند دوری از هم نشینان است . صحیح □ غلط □ ج) مسلمانان برای حل اختلافات و مشکلات خود می توانند نزد هر حاکم یا پادشاهی بروند. صحیح □ غلط □ د) هر امر به معروف و نهی از منکری ، یک موفقیت است . صحیح □ غلط □	۲
۳	گزینه صحیح را با علامت × مشخص کنید. ۱- کدام گزینه درباره نماز درست است ؟ الف) زیباترین شکل شکرگزاری از خداوند است. □ ب) یاد خدا را افزایش می دهد. □ ج) یکی از بهترین راههای تقویت ایمان است. □ د) همه گزینه ها درباره ی نماز صحیح است. □ ۲- بیت « چون بسی ابلیس آدم روی هست / پس به هر دستی نشاید داد دست » با کدامیک از ویژگی های دوست واقعی ارتباط دارد؟ الف) اهل فکر و اندیشه □ ب) ناراحتی از گناه خود و دیگران □ ج) خیر خواهی و محبت □ د) صداقت و راستگویی □ ۳- کدامیک از مواردی نیست که باید به جای وضو یا غسل تیمم کرد؟ الف) آب در دسترس است ولی غصبی ؛ نجس یا مضاف است. □ ب) آب در دسترس نیست. □ ج) زمان تنگ است . □ د) خاک برای بدن ضرر دارد. □ ۴- کدام مورد نماز را باطل می کند؟ الف) عطسه □ ب) خمیازه □ ج) آروی برگرداندن از قبله □ د) سرفه □	۲
۴	کدامیک از عبارات ستون چپ به عبارات ستون سمت راست مربوط می شود با علامت ↔ مشخص کنید ۱- از اثرات ایمان به خدا ۲- هدف اصلی دشمن از اجرای نقشه های شوم ۳- انجام کارهای وضو بدون فاصله ۴- به معنای تلاش و کوشش ○	۲

شماره داوطلب	باسمه تعالی	نام درس : پیامهای آسمان
نام :	وزارت آموزش و پرورش	تاریخ امتحان : ۱۳۹۷/۳/۳۰
نام خانوادگی :	اداره کل آموزش و پرورش استان یزد	تعداد صفحه : ۲ صفحه
نام پدر :	اداره سنجش	تعداد سؤال : ۱۶ سوال
نام آموزشگاه :	((نوبت خرداد ماه))	زمان شروع : ۱۰ صبح
پایه : نهم		وقت : ۶۰ دقیقه

۵	با استفاده از عبارات داده شده ، داخل کمانک را کامل کنید . { جهاد ابتدایی - انتظار فرج - دوست ناشایست - ولایت فقیه - جهاد دفاعی } ۱- شمشیری زیبا اما زهرآلود (.....) ۲- این نوع از جهاد بر همه مسلمانان (مردوزن) واجب است. (.....) ۳- پیامبر اکرم (ص) می فرماید: از بهترین کارهای امت من است. (.....) ۴- به رهبری و هدایت مردم جامعه توسط فقیه جامع الشرایط گفته می شود. (.....)	۲
۶	لازمه ی سرمشق قرار دادن پیامبران چیست؟	۰/۵
۷	راههای شناخت صفات خداوند را نام ببرید ؟	۰/۵
۸	خارج کردن مالکیت بخشی از اموال و دارایی انسان از اختیار خود در راه جلب رضایت خداوند برای استفاده عموم مردم چه نام می گیرد؟	۰/۵
۹	مخرب ترین سلاح دشمنان در برابر ملت ایران چیست؟	۰/۵
۱۰	دو شرط مهم از شرایط ظهور حضرت مهدی (عج) را بنویسید؟	۱
۱۱	خوردن و آشامیدن در نماز چه حکمی دارد؟ (توضیح دهید).	۱
۱۲	چرا انتخاب دوست در دوران نوجوانی از اهمیت و حساسیت بسیار بالایی برخوردار است؟	۱/۵
۱۳	آثار ترک امر به معروف و نهی از منکر را بیان کنید؟ (۴ مورد)	۲
۱۴	چهار مورد از چیزهایی که زکات بر آنها تعلق می گیرد را نام ببرید؟	۱
۱۵	فواید گسترش انفاق در جامعه چیست؟ (۲ مورد)	۱
۱۶	آمادگی نظامی چه فوایدی دارد؟	۱

« موفق و سربلند باشید »

شماره داوطلب نام:	باسمه تعالی	نام درس: آمادگی دفاعی
نام خانوادگی:	وزارت آموزش و پرورش	تاریخ امتحان: ۱۳۹۷/۰۳/۲۲
نام پدر:	اداره کل آموزش و پرورش استان یزد	تعداد صفحه: ۲
نام آموزشگاه:	اداره سنجش	تعداد سؤال: ۲۱
پایه: نهم		زمان شروع: ۹:۳۰
		وقت: ۵۰ دقیقه

ضمن خیرمقدم به دانش آموزان و داوطلبان عزیز، سوالات زیر را به دقت بخوانید و با توکل به خدا و آرامش خاطر پاسخ دهید.

ردیف	سؤالات	بارم
	نام و نام خانوادگی مصحح اول: <input type="text"/> نمره با عدد <input type="text"/> نمره با حروف <input type="text"/>	
	نام و نام خانوادگی مصحح دوم: <input type="text"/> نمره تجدید نظر با عدد <input type="text"/> نمره تجدید نظر با حروف <input type="text"/>	
الف	<p>گزینه صحیح را انتخاب کنید.</p> <p>۱- «وضعیتی که امنیت ما را به خطر می اندازد» مفهوم کدام گزینه است؟</p> <p>الف) جنگ <input type="checkbox"/> ب) تهاجم <input type="checkbox"/> ج) تهدید <input type="checkbox"/> د) تجاوز <input type="checkbox"/></p> <p>۲- کدامیک از موارد زیر معیار تهاجم نظامی است؟</p> <p>الف) اعلام دشمنی و نفرت <input type="checkbox"/> ب) فریبنده و جذاب <input type="checkbox"/></p> <p>ج) بلند مدت و نامحدود <input type="checkbox"/> د) تصرف ذهن و فکر <input type="checkbox"/></p> <p>۳- در کدام عملیات محاصره آبادان شکسته شد؟</p> <p>الف) بیت المقدس <input type="checkbox"/> ب) بدر <input type="checkbox"/> ج) ثامن الائمه <input type="checkbox"/> د) خیبر <input type="checkbox"/></p> <p>۴- برطرف کردن نیازهای جنگ با تکیه بر ایمان و توکل بر خدا، کدام دستاورد داخلی هشت سال دفاع مقدس می باشد؟</p> <p>الف) تولد تفکر بسیجی <input type="checkbox"/> ب) نقش افرینی مساجد در دوران دفاع مقدس <input type="checkbox"/></p> <p>ج) اعتماد به نفس و خودباوری <input type="checkbox"/> د) کسب تجارب نظامی <input type="checkbox"/></p> <p>۵- کدام روش جنگ روانی برای منحرف کردن خبری از مسیر و موضوع اصلی خود به منظور انحراف اذهان مردم صورت می گیرد؟</p> <p>الف) شایعه <input type="checkbox"/> ب) تحریف واقعیات <input type="checkbox"/> ج) تبلیغات <input type="checkbox"/> د) تفرقه افکنی <input type="checkbox"/></p>	۲/۵
ب	<p>جاهای خالی را با کلمات مناسب پر کنید.</p> <p>۶- اگر ارزش ها، باورها و اعتقادات یک جامعه مورد هدف قرار گیرد تهدید از نوع سخت است. صحیح <input type="checkbox"/> غلط <input type="checkbox"/></p> <p>۷- امنیت از مهمترین نیازهای فطری و ضروری انسان است. صحیح <input type="checkbox"/> غلط <input type="checkbox"/></p>	۰/۵

شماره داوطلب نام: نام خانوادگی: نام پدر: نام آموزشگاه: پایه: نهم	باسمه تعالی وزارت آموزش و پرورش اداره کل آموزش و پرورش استان یزد اداره سنجش	نام درس: آمادگی دفاعی تاریخ امتحان: ۱۳۹۷/۰۳/۲۲ تعداد صفحه: ۲ تعداد سؤال: ۲۱ زمان شروع: ۹:۳۰ وقت: ۵۰ دقیقه
---	--	--

ج	<p>جاهای خالی را با کلمات مناسب پر کنید.</p> <p>۸- حرکات نظام جمع از دو جزء و تشکیل شده است.</p> <p>۹- آگاهی، و سه ضلع مثلث ایمنی در برابر زلزله هستند.</p> <p>۱۰- رمز پیروزی انقلاب ایمان به خدا، و است.</p>	۱/۵
د	<p>برای جملات زیر عبارت مناسب از ستون مقابل انتخاب کنید. (۱ عبارت اضافی است)</p> <p>۱۱- پنهان کردن هواپیماهای جنگی در تونل (.....)</p> <p>۱۲- نصب ماکت تجهیزات جنگی در نقاط مختلف (.....)</p> <p>۱۳- هم رنگ و هم شکل کردن تاسیسات، تجهیزات و نیروی انسانی با محیط اطراف (.....)</p> <p>مکان یابی فریب استتار اختفا</p>	۱/۵
هـ	<p>به سوالات زیر پاسخ دهید؟</p> <p>۱۴- دو مورد از وظایف و برنامه‌های بسیج دانش آموزی را بنویسید.</p> <p>۱۵- زنان از چه راه‌هایی در دفاع از اسلام و انقلاب اسلامی مشارکت داشتند؟ (دو مورد)</p> <p>۱۶- میزان اثرگذاری جنگ روانی به چه عواملی بستگی دارد؟</p> <p>۱۷- دو مورد از اهداف شبکه‌های ماهواره ای فارسی زبان را بنویسید.</p> <p>۱۸- نظم چیست؟</p> <p>۱۹- تبلیغ در جنگ روانی یعنی چه؟</p> <p>۲۰- یکی از مهمترین عوامل موثر در کاهش خطرهای ناشی از زلزله چیست؟</p> <p>۲۱- منظور از مکان نامناسب در زمان وقوع زلزله چیست؟</p>	۱ ۱ ۱ ۰/۵ ۰/۵ ۰/۵ ۰/۵

اداره کل آموزش و پرورش استان یزد

اداره سنجش

راهنمای تصحیح سوالات هماهنگ پایه ی نهم متوسطه اول

تاریخ امتحان : ۹۷/۳/۱

درس : پیام های آسمان

تعداد صفحه : ۱

شماره سؤال	شرح پاسخ	ریز بارم
۱	مردان و زنان مؤمن ، دستدار و یاور یکدیگرند [و از این رو یکدیگر را] امر به معروف و نهی از منکر می کنند .	۵/۱نمره
۲	الف) مسجد ۰/۲۵ ، نماز ۰/۲۵ - ب) قرآن ۰/۲۵ ، احادیث معصومین ۰/۲۵ - ج) از بین رفتن ایمان ۰/۲۵ - د) رعایت میانه روی ۰/۲۵ - ه) ستایش خدا ۰/۲۵ - و) صحیح ۰/۲۵	۲نمره
۳	الف) ص (ب) غ (ج) ص (د) ص (ه) غ هر مورد ۰/۲۵	۲۵/۱نمره
۴	الف) ۳ (ب) ۲ هر مورد ۰/۲۵	۵/۰نمره
۵	الف) ۱- آرامش - ۲- رهایی از سر در گمی و بی هدفی - ۳- وارد شدن در فضل و رحمت خدا و هدایت به راه راست . دو مورد هر مورد ۰/۲۵ ب) ۱- تحریم اقتصادی - ۲- جنگ تحمیلی عراق علیه ایران - ۳- ترور ، بمب گذاری ، تفرقه افکنی ، تلاش برای کودتا و ۴- جنگ نرم ، شبیخون فرهنگی . دو مورد هر مورد ۰/۲۵ ج) نام ناپسند نهادن ، مسخره کردن ، شوخی های آزار دهنده ، استفاده بیش از حد و بدون اجازه از وسایل دوستان . دو مورد هر مورد ۰/۲۵ د) انسان خطا کار به اشتباهش ادامه ندهد . ۵/۰نمره ه) کارهای وضو را به ترتیب انجام دهیم . ۵/۰نمره	۵/۲نمره
۶	الف) جهاد ابتدایی ۰/۲۵ (ب) جهاد با سرکشان (دفاعی) ۰/۲۵ (ج) جهاد دفاعی ۰/۲۵	۷۵/۰نمره
۷	۱=زنده شدن روحیه ی خودباوری و احساس عزت و بزرگی ملت ایران - ۲- پیشرفت های علمی - ۳- الگو گرفتن ملت های مسلمان دیگر برای رهایی از وابستگی به ابر قدرت ها - ۴- استقلال نظامی و سیاسی - ۵- بازگشت دوباره به ارزشهای دینی . یا هر کدام از مطالب صفحات ۹۸ و ۹۹ کتاب درسی . سه مورد هر مورد ۰/۲۵	۷۵/۰نمره
۸	۱- تفکر در کتاب اسمانی : توضیح اینکه : بهترین راه شناخت خدا مراجعه به سخن خود اوست ، توصیف خداوند از خود ، توصیفی دقیق و بی نقص است که می تواند ما را در شناخت صحیح او یاری دهد . ۲- تفکر در کتاب خلقت : یعنی از طریق آثار و نشانه های او ، که در سراسر جهان آفرینش متجلی است به ویژگی های خدا پی ببریم . یکی از موارد فوق . توجه : چنانچه دانش آموز مطلبی را بیان کرده که مفهوم را رسانده نمره کامل به او تعلق می گیرد، لازم نیست حتماً مطلب کتاب نوشته شده باشد .	انمره
۹	وقتی کشور اسلامی مورد حمله دشمنان قرار می گیرد ، به همه مسلمانان ، مرد و زن ، پیر و جوان ، واجب است با آنچه در توان دارند به دفاع از کشور اسلامی برخیزند و دشمن را از سرزمین خود بیرون کنند .	انمره
۱۰	نابودی باورهای دینی مردم و دور کردن آنها از اسلام .	انمره
۱۱	۱- اهل فکر و اندیشه باشد . ۲- اهل گناه نباشد و از گناه دیگران نیز ناراحت شود . ۳- خیر خواه دوستانش باشد . ۴- اهل نماز و نیکی باشد . ۵- اهل صداقت و راستگویی باشد . ۶- اهل وفای به عهد باشد . یا هر کدام از روایات بالای صفحه ۸۳ ستون سمت راست . چهار مورد هر مورد ۰/۲۵نمره	انمره
۱۲	خوردن و آشامیدن باعث باطل شدن نماز می شود ، اما اگر نماز گزار ذره های ریز غذا یا چیزهای دیگر را که در دهان دارد ، در بین نماز فرو برد ، نمازش صحیح است .	انمره
۱۳	جواب دادن به سلام غلطی که سلام به حساب نمی آید یا سلامی که از روی تمسخر انجام شود واجب نیست .	انمره
۱۴	آمدگی مردم جهان برای همراهی با قیام امام . وجود یاران با وفایی که تا پای جان در راه اهداف و آرمان های امام بایستند . هر مورد ۰/۵نمره	انمره
۱۵	خداوند به حضرت ابراهیم (ع) دستور داد زن و فرزند خود را در سرزمین مکه که در آن زمان سرزمینی بدون آب و آبادانی بود و امکانی برای زندگی نداشت سکونت دهد ، حضرت ابراهیم (ع) با اطمینان خاطر به دستور خداوند عمل کرد .	انمره
۱۶	بخشش قسمتی از اموال به نیازمندان در راه خدا را انفاق می گویند . ۵/۰نمره فوائد انفاق : ۱- ثروت به دست نیازمندان می رسد . ۲- فاصله طبقاتی میان ثروتمند و فقیر کمتر می شود . ۳- بخش زیادی از گناهان و جرم های ناشی از فقر از جامعه ریشه کن می شود . ۴- مردم نسبت به یکدیگر مهربانتر می شوند . ۵- آرامش و امنیت در جامعه حاکم می شود . سه مورد هر مورد ۰/۲۵نمره	۲۵/۱نمره
۱۷	الف) صدقه جاریه . ب) علمی که از خود به یادگار گذاشته است . ج) فرزند صالحی که برایش دعا می کند . هر مورد ۰/۵نمره	۵/۱نمره

« نظر همکاران گرامی محترم می باشد » .

« موفق باشید »

(قابل توجه همکاران گرامی : در تمامی جواب ها چنانچه دانش آموز مفهوم را رسانده نمره کامل به او تعلق می گیرد) .

شماره سؤال	شرح پاسخ	ریز بارم
۱	۱ - دو ب - جریان همرفتی ج - مسافت د - مریخ و مشتری ه - گرم و مرطوب	۰/۲۵ ۰/۲۵ ۰/۲۵ ۰/۲۵ ۰/۲۵
۲	به ترتیب)) غلط - صحیح - صحیح - غلط	هر مورد ۰/۲۵
۳	به ترتیب گزینه های)) ب - ج - ب - الف - الف صحیح می باشد.	هر مورد ۰/۲۵
۴	جواب سوال ۴ به ترتیب)) بیخ های مناطق قطبی - آغازیان - گل انگشتانه یا سم مارها - استتار - تخم گذار	هر مورد ۰/۲۵
۵	به ترتیب)) ** چون تعداد کربن کمتری دارد و ربایش کمتر (گرانروی کمتر است) ۰/۵ ** تعداد الکترون لایه آخر آنها با هم برابر است (هر کدام یک الکترون در لایه آخر دارند) ۰/۵ ** قانون سوم نیوتن (هر نیروی کنش دارای یک واکنش است برابر آن و در خلاف جهت) ۰/۵ ** فشار هوا بر آب وارد شده و آب سریعتر خالی می شود. ۰/۵	
۶	الف) در اقیانوسها و دریاها (در آنها) ۰/۲۵ ب) آسیب به ماهواره ها و دست ساخته های انسان و..... ۰/۲۵ ج) عنصر هیدروژن ۰/۲۵ د) سیارات درونی از سنگ و جامد هستند اما سیارات بیرونی از گاز - و..... (قطر سیارات درونی کمتر از بیرونی است) ۰/۲۵	
۷	۱ - زخم لای انگشتان پا ۲ - سیاهگ گندم ۳ - زنگ گندم	هر مورد ۰/۲۵
۸	شکل رگبرگ تک لپه ای دو لپه ای	چگونگی قرار گرفتن آوند در ساقه موازی ۰/۲۵ ناموازی (منشعب) ۰/۲۵
۹	جمله ۱ به نرم تنان ۰/۲۵ جمله ۲ به اسفنج ها ۰/۲۵ جمله ۳ به مرجان ها ۰/۲۵ جمله ۴ به خارتنان (خار پوستان) ۰/۲۵	
۱۰	نوشتن زنجیره ۰/۲۵ نوشتن تولید کننده در کنار گیاه ۰/۲۵ نوشتن مصرف کننده در کنار مار و موش ۰/۲۵	گیاه → موش → مار تولید کننده مصرف کننده مصرف کننده
۱۱	تعداد شکار با افزایش تعداد شکار چی نیز پس از مدتی افزایش می یابد (رابطه مستقیم میان تعداد شکار و شکار چی) ۰/۲۵	۰/۲۵
۱۲	الف)) باله پشتی سخت ۰/۲۵ ب)) باله شکمی ۰/۲۵ ** تغییر جهت - تغییر سرعت - تعادل - توقف - حرکت و..... ۰/۲۵ ۰/۲۵	
۱۳	نیوتن بر متر مربع ۵۰۰ = $\frac{۶۰۰۰}{۱۲}$ = فشار ۰/۲۵ ۰/۲۵ ۰/۲۵	
۱۴	الف)) ۱۰۰ سانتی متر ۰/۲۵ ب)) فرمول ۰/۲۵ ، جاگذاری و پاسخ ۰/۲۵ ج)) فرمول ۰/۲۵ ، جاگذاری ۰/۲۵ ، پاسخ ۰/۲۵	$\text{مزیت مکانیکی} = \frac{\text{بازوی محرک}}{\text{بازوی مقاوم}} = \frac{۵۰}{۱۰۰} = \frac{۱}{۲} = ۰/۵$ $\text{مزیت مکانیکی} = \frac{\text{نیروی مقاوم}}{\text{نیروی محرک}} = \frac{۱}{۲} = \frac{۱۵۰}{x}$ $x = ۱۵۰ \times ۲ = ۳۰۰ \text{ نیوتن}$

شماره سؤال	شرح پاسخ	ریز بارم
۱	۱- سفارش کرد ۲- سرزمین ۳- فرستنده ۴- زندگی ۵- ترس ۶- نازل شد ۷- آرامش ۸- شاید (هر مورد ۰/۵)	
۲	به ترتیب: شماره ۴ - شماره ۱ - بدون شماره - شماره ۳ - شماره ۲ (هر مورد ۰/۵)	
۳	گزینه ۳	
۴	گزینه ۱	
۵	۱- می شنیدیم - می اندیشیدیم - دوزخ ۲- ندا داده شود - بشتابید (هر مورد ۰/۵)	
۶	۱- صحیح ۲- صحیح ۳- غلط ۴- غلط (هر مورد ۰/۵)	
۷	۱- تشکرون ۲- مُدَّکِر ۳- یَسْتَغْفِرُونَ ۴- الحَدید (هر مورد ۰/۵)	
۸	۱- پس آیا دقت نمی کنند به شتر که چگونه آفریده شد. ۱/۲۵ ۲- پروردگار مشرق و مغرب نیست معبودی جز او ۱/۲۵ ۳- پر خیر و برکت است کسی که فرمانروایی به دست اوست و او بر هر چیزی تواناست. ۱/۵ ۴- اهل جهنم و اهل بهشت مساوی نیستند. ۱ ۵- قطعاً پیامبران را با دلایل روشن فرستادیم. ۱	

همکاران گرامی:

(این یک پاسخنامه پیشنهادی است و نظر شما در تصحیح اوراق بسیار محترم است.)

((موفق باشید))

شماره سؤال	شرح پاسخ	ریز بارم
۱	الف) غ (ب) ص (ج) ص (د) ص	هر کدام ۰/۲۵
۲	الف) B (ب) ۶۵ (ج) استوانه (د) ۲۵	هر کدام ۰/۲۵
۳	A: د B: الف C: ج D: ج	هر کدام ۰/۲۵
۴	الف) $C = \{1, 2\}$ نمره ۰/۵ ب) $\frac{3}{12}$ نمره ۰/۵ الف) $A - B = \{4, 6\}$ نمره ۰/۵	
۵	الف) $9 = 4 + 6 - 1$ نمره ۱ ب) بین ۴ و ۵ نمره ۰/۵	
۶	الف) $2\sqrt{2} + 4\sqrt{3} = 6\sqrt{2}$ نمره ۰/۷۵ ب) $2\sqrt{2} + 4\sqrt{3} = 6\sqrt{2}$ نمره ۰/۷۵ الف) $9 - \frac{9}{16}$ نمره ۰/۵	
۷	الف) $\frac{12}{\sqrt{8}} \times \frac{\sqrt{8}}{\sqrt{8}} = \frac{12\sqrt{8}}{8} = \frac{3\sqrt{8}}{2}$ نمره ۰/۷۵ ب) $2/56 \times 10^6$ نمره ۰/۵	
۸	الف) ۶ نمره ۰/۲۵ ب) $x^2 + 2x - 24$ نمره ۰/۷۵ ج) $(y-1)(y^2+1)(y+1)$ نمره ۰/۷۵	
۹	پیدا کردن نقاط روی محور رسم خط نمره ۰/۵	نمره ۰/۲۵
۱۰	الف) $y = \frac{1}{2}x + 5$ نمره ۰/۵ ب) $y = 3$ نمره ۰/۲۵ ج) $a = +3$ $b = -5$ هر کدام ۰/۲۵	
۱۱	الف) $\begin{bmatrix} 2 \\ 3 \end{bmatrix}$ نمره ۰/۲۵ و $\begin{bmatrix} -1 \\ 7 \end{bmatrix}$ نمره ۰/۲۵ ب) راه حل	نمره ۰/۵
۱۲	مخرج مشترک گرفتن نمره ۰/۵ تبدیل تقسیم به ضرب نمره ۰/۲۵ ساده کردن و پاسخ نهایی نمره ۰/۷۵	
۱۳	مقدار x و y هر کدام ۰/۲۵ نمره ۰/۵ راه حل	نمره ۰/۵
۱۴	الف) هر تساوی ۰/۲۵ (ض ض) نمره ۰/۲۵ نوشتن $BM=MC$ یا AM میانه است نمره ۰/۲۵ ب) $\frac{3}{5} = \frac{21}{25}$ نمره ۰/۵ ج) فرض : وترها با هم مساویند نمره ۰/۲۵	
۱۵	خارج قسمت ۰/۲۵ نمره ۰/۲۵ باقی مانده ۰/۲۵ نمره ۰/۲۵ راه حل ۰/۵ نمره ۰/۲۵	
۱۶	الف) نوشتن فرمول ۰/۲۵ نمره ۰/۲۵ پاسخ ۰/۲۵ نمره ۰/۲۵ ب) نوشتن فرمول ۰/۲۵ نمره ۰/۲۵ محاسبه حجم ۰/۵ نمره ۰/۲۵	

همکاران گرامی : (این یک پاسخنامه پیشنهادی است و نظر شما در تصحیح اوراق بسیار محترم است.)

شماره سؤال	شرح پاسخ	ریز بارم
۱	۱- برای دنیایت کارکن گویا توهمیشه زندگی می کنی . ۲- محبوبترین کارها نزد خداوند بعد از واجبات شاد کردن مسلمان است .	۲
۲	۱- ویتامین (C) در شیر تازه یافت می شود. ۲- ای مرد می خواهم امور کشور را به تو تحویل دهم زیرا من از تو جز امانت داری ندیدم. ۳- مدیر دانش آموزان مدرسه را به پارک آموزش ترافیک برد . ۴- در یکی از روزها یکی از شیشه های مواد شیمیایی در آزمایشگاه شکست . ۵- ای خواهرم ، آینده ات را بساز .	۴/۵
۳	۱ (ب) ۲ (الف)	.۵
۴	(عَرَبَةٌ) (مِشْمِش)	.۵
۵	رَقْدَ = نام سَعَادَةٌ # شَقَاوَةٌ	.۵
۶	۱- (موزه) ۲- (سختیها) یا (سختیهایم)	.۵
۷	۱- ذَهَب ۲- نَجَاح	.۵
۸	وزن (اِسْتَفْعَلَ) حروف اصلی (خ، ر، ج)	.۵
۹	۱- یَعْتَقِدُونَ ۲- كَتَبْتُنَّ	.۵
۱۰	۱- اِضْحَکِی ۲- لَا تَتْرُکُوا ۳- أَهْرُبَا ۴- لَا تَکْذِبْنَ	۱
۱۱	۱- دَلِیل ۲- اَلْمَطَرُ ۳- نَفَقَاتُ	.۷۵
۱۲	۱۲- الثَّامِنَةُ اَلْاَرْبَعَا ۳- فِی الْغَايَةِ ۴- نَحْنُ بِخَيْرٍ ۴- اَرْبَعَةٌ	۱
۱۳	۱- نادرست ۲- درست ۳- درست ۴- نادرست	۱
۱۴	۱- فِی فَصْلِ الْخَرِيفِ ۲- فِی الْمَزْرَعَةِ ۳- اُمُّهُ ۴- لِاِنَّهُ یَعْلَمُ ، اللهُ رَحِیمٌ	۱
۱۵	گزینه ۴	.۲۵

<p>اداره کل آموزش و پرورش استان یزد</p> <p>اداره سنجش</p> <p>راهنمای تصحیح سوالات هماهنگ پایه ی نهم متوسطه اول</p>		<p>تاریخ امتحان : ۹۷/۳/۹</p> <p>درس : مطالعات اجتماعی</p> <p>تعداد صفحه : ۳</p>
شماره سؤال	پاسخ به سوالات اجباری	ریز بارم
فصل هفتم	<p>۱-ب(۵/نمره) ۲- ستار خان و باقر خان (هر کدام ۲۵/نمره) ۳- هدف متفقین از اشغال ایران در جنگ جهانی دوم، استفاده از موقعیت و منابع و امکانات ایران به سود خویش بود (۵/نمره) ۴- نوسازی تشکیلات نظامی ادامه یافت. مدارس و مراکز آموزشی جدید در شهرهای مختلف گسترش پیدا کردند و نخستین دانشگاه ایران (دانشگاه تهران) بنیان نهاده شد. علاوه بر آن، راه های شوسه توسعه یافتند - راه آهن سراسری که خلیج فارس را به دریای مازندران متصل میکرد احداث شد. همچنین مؤسسات و مراکز صنعتی متعددی در ایران به وجود آمدند- مجبور کردن مردم به این بود که لباس یکسانی به تن کنند و کلاه لبه داری (مشهور به کلاه پهلوی) بر سر بگذارند. پس از آن، محدودیتهایی برای برگزاری مراسم مذهبی از جمله عزاداری اما محسین به وجود آمد - و زمزمه برداشتن (کشف) حجاب مطرح شد. (دو مورد هر کدام ۵/نمره)</p>	
فصل هشتم	<p>۵-ب(۵/نمره) ۶- لغو شرط مسلمان بودن برای انتخاب کنندگان و انتخاب شوندگان- لغو سوگند به قرآن از سوی انتخاب شوندگان و تبدیل آن به کتاب آسمانی (یک مورد ۵/نمره)</p> <p>۷- ایجاد شورش و ناامنی - ترور شخصیت ها و مردم انقلابی - جنگ تحمیلی (دو مورد هر کدام ۲۵/نمره)</p> <p>۸- حکومت پهلوی به فرهنگ و ارزشهای اسلامی توجهی نداشت و برنامه های رادیو و تلویزیون و سینما در جهت بی بند وباری و تخریب ارزش های اسلامی بود.</p> <p>-حکومت پهلوی به بیگانگان وابسته بود و نفوذ و دخالت کشورهای خارجی به ویژه آمریکا در امور ایران، بر نارضایتی مردم افزوده بود.</p> <p>-استبداد و سرکوب عامل دیگری بود که خشم و نفرت ایرانیان را علیه حکومت شاه برمی انگیزت. رژیم پهلوی حقوق ملت و اصول قانون اساسی مشروطه را نادیده م یگرفت. نمایندگان مجلس شورای ملی و هیئت وزیران در برابر شاه هیچ اختیاری نداشتند و کاملاً مطیع او بودند.</p> <p>-روزنامه ها نیز آزادی نداشتند و نمی توانستند از شاه و مقام های حکومتی انتقاد کنند. ساواک و مأموران نظامی با انواع شکنجه ها، مخالفان را سرکوب می کردند و عده زیادی از مخالفان به اعدام، زندان و تبعید محکوم شده بودند.</p> <p>-حیف و میل و غارت ثروت و سرمایه های ملی کشور توسط خاندان پهلوی و مقام های حکومتیاز جمله موارد دیگری بود که به گوش مردم م برسید و آنان را خشمگن تر م یکرد. این در حالی بود که بیشتر مردم، به ویژه در روستاها و شهرهای کوچک، در فقر و محرومیت به سر می بردند(دو مورد هر کدام ۵/نمره)</p>	
فصل نهم	<p>۹- مهم ترین دلایل پیروی از هنجارها، الف-اعتقاد به آنها ب- حفظ آبرو و احترام ج- یا ترس از مجازات است. (دو مورد هر کدام ۲۵/نمره)</p> <p>۱۰- الف- غلط ب- غلط ج- صحیح د- صحیح</p> <p>۱۱- ما در شکل گیری بعضی از ویژگی های هویتی خود نقشی نداریم؛ برای مثال، جنسیت، مکان تولد، پدر و مادر و شکل و قیافه خود می. مواردی از این قبیل را انتخاب نمی کنیم. به این ویژگی های هویتی که ما در پیدایش آنها نقشی نداریم، ویژگی های انتسابی گویند. از سوی دیگر، ما در بسیاری از ویژگی های هویتی خود نقش داریم. برای مثال، برخی صفات اخلاقی یا ویژگی های اجتماعی را خود انتخاب می کنیم و به آنها شکل می دهیم. به ویژگی هایی که ما در به دست آوردن آنها نقش داریم، ویژگی های اکتسابی می گویند. (۱ نمره)</p>	
فصل دهم	<p>۱۲-ب(۵/نمره)</p> <p>۱۳- فرزند آوری و تجدید نسل - حمایت و مراقبت- جامعه پذیری و تربیت (دو مورد هر کدام ۲۵/نمره)</p> <p>۱۴- فواید صله ارحام : خویشاوندان به دیدار یکدیگر بروند و از احوال هم با خبر شوند - مهر و محبت - کمک مالی به خویشاوندان - مقدم دانستن خویشاوندان بر دیگران (دو مورد هر کدام ۲۵/نمره)</p> <p>۱۵- اختلاف نظر و سلیقه والدین و فرزندان تا حدی قابل قبول است و اگر به خوبی مدیریت شود، به رشد و کمال اعضای خانواده می انجامد. در غیر ای صورت به خانواده و جامعه آسیب م برساند.</p> <p>-به نظر می رسد پدر و مادر موظف اند برای گفت وگو با فرزندان وقت بگذارند و یکسره خود را به کار و فعالیت های روزانه مشغول نکنند.</p> <p>-ترتیب دادن جلساتی با حضور والدین و مشاوران خبره که در آن فرزندان و والدین بتوانند مسائل خود را بگویند، مفید است. (دو مورد هر کدام ۵/نمره)</p>	

<p>فصل یازدهم</p>	<p>۱۶- سر پرستی(۵/نمره) ۱۷- مالیات مبلغی است که شهروندان بر اساس قانون و به صورت بلاعوض به دولت پرداخت می کنند تا صرف هزینه های عمومی کشور شود. (۵/نمره) ۱۸- حق برخورداری از عدالت قانونی- حق برخورداری از عدالت قضایی- حق برخورداری از رفاه و تأمین اجتماعی- حق مشارکت سیاسی- حقوق فرهنگی- تجاوز نکردن به منافع عمومی و حقوق دیگران(دو مورد هر کدام ۲۵/) ۱۹- وضع قوانین و مقررات لازم در امور مختلف-اجرای قوانین-برقراری نظم و امنیت-رسیدگی به اختلافات و شکایات ها -تعلیم و تربیت -حفظ میراث فرهنگی -سیاست گذاری فرهنگی -عمران و آبادانی کشور -ایجاد وسایل و امکانات لازم برای رفع نیازهای معیشتی، اجتماعی و اقتصادی مردم -ایجاد هماهنگی بین فعالیتهای مختلف اقتصادی و اجتماعی -دفاع از کشور و حفظ تمامیت ارضی * -مدیریت منابع طبیعی و ثروتهایی که به عموم مردم تعلق دارند؛ -حمایت از گروه های خاص و نیازمند مانند کودکان بی سرپرست، معلولان و از کارافتادگان.(دومورد هر کدام ۵/نمره)</p>
<p>فصل دوازدهم</p>	<p>۳۰-ب(۵/نمره) ۲۱-اقتصاد مقاومتی یعنی در شرایط سخت بتوانیم کمترین اتلاف هزینه را داشته باشیم، روی پای خودبایستیم، از تولید ملی حمایت کنیم، از اسراف بپرهیزیم و از منابع و امکانات حداکثر استفاده را بکنیم(۵/نمره) ۲۲ -استفاده مناسب از وقت و زمان - نظم و ترتیب وانضباط در کارها - اصلاح عادت های غلط مصرفی - انجام دادن کارها از روی آگاهی - تنظیم جدول بودجه اقتصادی (دو مورد هر کدام ۵/نمره) - ۲۳-با توجه به نظر تصحیح کننده دانش آموز اگر مواردی بیان کند که راهکار مناسبی برای بهره وری در مصرف آب و برق باشد صحیح است.مثل خاموش کردن پمپ آب در مواقعی که هوا زیاد گرم نیست یا نصب سایبان و عایق بندی قسمتی از کولر(نمره)</p>
<p>فصل اول</p>	<p>پاسخ به سوالات اختیاری</p>
<p>فصل اول</p>	<p>۱-الف: صحیح ب : غلط ج: غلط د: صحیح(هر مورد ۲۵/نمره) ۲- کبیسه (۵/نمره) ۳-موقعیت مکانی یک پدیده، یعنی مکان دقیق قرار رفتن آن روی کره زمین.(۵/نمره) ۴- الف (۵/نمره)</p>
<p>فصل دوم</p>	<p>۵- الف: صحیح ب : غلط ج: غلط د: صحیح(هر مورد ۲۵/نمره) ۶- از نتایج حرکت ورقه ها، ایجاد چین خوردگی ها و رشته کوه، شکست ها(گسل ها) و کوه های آتشفشانی است (هر مورد ۲۵/نمره) ۷- برخی معتقدند گرم شدن کره زمین ممکن است پیامدهای ناخوشایندی داشته باشد؛ مانند ذوب شدن یخ های قطبی، بالا آمدن آب دریا، به زیر آب رفتن نواحی ساحلی و جزیره ها یا افزایش و طولانی شدن دوره های خشکسالی در نواحی گرم و خشک، افزایش سیلاب و مواردی از این قبیل (ذکر سه مورد هر کدام ۲۵/نمره)</p>
<p>فصل سوم</p>	<p>۸- ایجاد و گسترش شهرها و روستاها، ساختن پل، جاده، ساختمان هاوسد ها بدون بر نامه ریزی و توجه به جنبه های زیست محیطی - فعالیت های صنعتی و تولید انبوه کالاها در کاخانه ها -مصرف گرایی و تولید انبوه زباله -شکار و تجارت اعضای بدن حیوانات (دو مورد هر کدام ۲۵/نمره) ۹-الف:ساوان (۲۵/نمره)ب:توندررا (۲۵/نمره) ج: تایگا (۲۵/نمره) د:بیابان(۲۵/نمره) ۱۰- اهمیت: جنگل های بارانی استوایی از پیچیده ترین زیست بوم های جهان است که غنی ترین تنوع گیاهی و جانوری را دارد. نامیده اند برخی از دانشمندان « ریه های زمین» سه چهارم تنوع زیستی جهان مربوط به این جنگل هاست .جنگل های استوایی را زمین و ۵۰ درصد رطوبت جو را تولید می کنند و به همین دلیل، بر آب و معتقدند که این جنگل ها حدود ۵۰ درصد اکسیژن سیاره هوای کل سیاره زمین اثر می گذارند .دی اکسیدکربن گازی است که در اثر فعالیت های انسان و استفاده از سوخت های فسیلی وارد جو می شود .این جنگل های انبوه قابلیت جذب دی اکسید کربن و تبدیل آن به اکسیژن را دارند. جنگل های بارانی استوایی خاستگاه اولیه بسیاری از درختان میوه جهان مانند موز، نارگیل و انبه بوده است .امروزه از این جنگل ها انواع محصولات غذایی، دارویی و مواد اولیه صنعتی به دست می آید .قهوه، کاکائو، انواع روغن ها، لوازم آرایشی و عطر ها، کائوچو، لاستیک و خمیر دندان از آن جمله اند.عصاره گیاهان استوایی در ترکیب بسیاری از داروهای شیمیایی به کار می رود .اغلب داروهایی که امروزه از آنها برای معالجه سرطان استفاده می شود، از درختان و گیاهان استوایی به دست می آیند(ذکر دو مورد هر مورد ۲۵/نمره -علل تخریب :کشاورزی - دامداری - تجارت الوار - استخراج معادن طلا و بوکسیت(آلومینیم) - احداث بزرگراه(دو مورد هر کدام ۲۵/نمره)</p>
<p>فصل چهارم</p>	<p>۱۱- د (۵/نمره) ۱۲- در مهاجرت اختیاری، افراد با میل و تصمیم خود برای دستیابی به زندگی بهتر به جای دیگری مهاجرت می کنند .یکی از عظیم ترین مهاجرت های بشر در قرن نوزدهم و بیستم مهاجرت اختیاری بیش از صد میلیون نفر از مردم قاره ی اروپا به سرزمین های جدید، یعنی آمریکای شمالی و جنوبی و استرالیا، و سکونت در آنجا برای دستیابی به منابع بیشتر و فرصت های بهتر زندگی بوده است. در مهاجرت اجباری، افراد بدون میل خود و به دلیل عواملی چون قحطی، خشکسالی و دیگر حوادث طبیعی و یا جنگ ها و درگیری های سیاسی مجبور به ترک محل زندگی خود می شوند؛ مانند مهاجرت اجباری مردم</p>

	<p>فلسطین از سرزمین های اشغالی یا مهاجرت گروهی از افغان ها یا عراقی ها به کشور های همسایه به دلیل شرایط جنگ و اشغال نظامی کشورهاشان(انمره) ۱۳-در نیمه دوم قرن بیستم ژاپن، چین و برخی کشورهای آسیای جنوب شرقی چون سنگاپور، هنگ کنگ، کره جنوبی و مالزی رشد اقتصادی سریعی داشته اند و توانسته اند با توسعه صنایع و صدور کالا به سایر نواحی جهان، جایگاه مهمی در اقتصاد جهانی به دست آورند .بعضی از کشور ها نیز به دلیل بحران های سیاسی یا جنگ نه تنها رشد اقتصادی مطلوبی نداشته اند بلکه تولید و درآمد در آنها حتی کاهش یافته است؛ مانند سوریه و عراق (انمره)</p>	
	<p>۱۴- قرون جدید(۵/نمره) ۱۵-وجود نظم وامنیت - یک پارچه بودن سرز مین ایران - شبکه وسیع از راهها وکاروانسراها- اقامت بازرگانان ومسافران به طور رایگان در کاروانسراها -رفتار پسندیده ماموران راهداری با مسافران (دو مورد هر کدام ۲۵/نمره) ۱۶- در زمان حکومت صفوی، جشن نها و آبی نها با شکوه و عظمت برگزار م یشدند .در آن زمان، مردم علاوه بر نوروز و دیگر جشن نهای باستانی، اعیاد اسلامی مانند قربان، فطر و غدیر را نیز گرامی می داشتند .آیین سوگواری امام حسین هم به طور گسترده در سراسر کشور به شیوه روض هخوانی، سین هزنی و تعزیه* برگزار م یشد .برپایی این جشن نها و آبی نها، تأثیر مهمی در افزایش همدلی و هم بستگی مردم داشت،اما در دوره پهلوی محدودی تهایی برای برگزاری مراسم مذهبی از جمله عزاداری اما محسین به وجود آمد و زمزمه برداشتن (کشف)حجاب مطرح شد. ۱۷- الف : شاه تهماسب ب: شاه عباس ج: شاه اسماعیل د:ه سلطان حسین</p>	<p>فصل پنجم</p>
	<p>۱۸- آیتالله میرزا حسن شیرازی ۱۹-عهد نامه گلستان ۲۰- تأسیس مدرسه دارالفنون بود .او که فرستادن دانشجو به اروپا را کافی نم یدانست، تصمیم گرفت مدرسه ای به سبک مدرسه های اروپایی در ایران تأسیس کند تا تعداد بیشتری از ایرانیان علوم و فنون جدید را بیاموزند .او همچنین معلمانی را از کشورهایی جز روسیه و انگلیس (مثلاً از اتریش)برای تدریس در مدرسه دارالفنون استخدام کرد (ذکر یک مورد۵/نمره) ۲۱- لشکر کشی به هندوستان : نادر شاه - حمله روسیه به ایران : فتحعلی شاه - انتخاب تهران به پایتختی ایران : آقا محمد خان -تشکیل سلسله زند : کریم خان (هر مورد ۲۵/نمره)</p> <p>نظر همکاران محترم در تصحیح محترم است.</p>	<p>فصل ششم</p>

موفق باشید

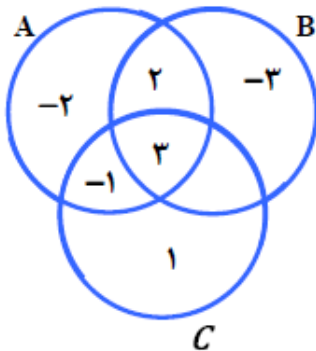
بسمه تعالی
وزارت آموزش و پرورش
اداره کل آموزش و پرورش استان یزد
اداره سنجش

شماره داوطلب :
نام :
نام خانوادگی :
نام پدر :
نام آموزشگاه :
پایه : نهم

نام درس : ریاضی
تاریخ امتحان : ۹۷/۳/۲۹
تعداد صفحه : ۴
تعداد سؤال : ۱۷
زمان شروع : ۸ صبح
وقت : ۱۰۰ دقیقه

ضمن خیرمقدم به دانش آموزان و داوطلبان عزیز، سوالات زیر را به دقت بخوانید و با توکل به خدا و آرامش خاطر پاسخ دهید.

		نام و نام خانوادگی مصحح اول : نمره با عدد	نام و نام خانوادگی مصحح دوم : نمره تجدید نظر با عدد
		نمره با حروف	نمره تجدید نظر با حروف
بارم	سؤالات	ردیف	
۱	<p>درستی یا نادرستی هر عبارت را مشخص کنید.</p> <p>الف) مجموعه عدد های صحیح بین -۱ و ۱ یک مجموعه تهی را نمایش می دهد.</p> <p>ب) حاصل $(-۲)^{-۲}$ برابر با $\frac{۱}{۴}$ است.</p> <p>ج) خط $y = ۵$ موازی محور طول ها است.</p> <p>د) هر دو لوزی دلخواه متشابه اند.</p>	۱	درست <input type="checkbox"/> نادرست <input type="checkbox"/>
۱	<p>جاهای خالی را کامل کنید.</p> <p>الف) در پرتاب یک تاس احتمال اینکه عدد رو شده مرکب باشد برابر است.</p> <p>ب) عبارت گویای $\frac{۲x+۳}{x-۵}$ به ازای تعریف نشده است.</p> <p>ج) از دوران یک ربع دایره حول شعاع آن بدست می آید.</p> <p>د) دلیل آوردن و استفاده از دانسته های قبلی، برای معلوم کردن موضوعی که در ابتدا مجهول بوده است نامیده می شود.</p>	۲	درست <input type="checkbox"/> نادرست <input type="checkbox"/>
۰/۵	<p>گزینه مناسب را انتخاب کنید.</p> <p>الف) نمایش اعشاری کدام یک از کسرهای زیر مختوم است؟</p> <p style="text-align: center;"> <input type="checkbox"/> $\frac{۳}{۲۰}$ (۴) <input type="checkbox"/> $\frac{۷}{۳۰}$ (۳) <input type="checkbox"/> $\frac{۵}{۹}$ (۲) <input type="checkbox"/> $\frac{۱}{۱۱}$ (۱) </p> <p>ب) خانواده ای دارای سه فرزند است احتمال اینکه این خانواده دارای دو دختر باشد چقدر است؟</p> <p style="text-align: center;"> <input type="checkbox"/> $\frac{۵}{۸}$ (۴) <input type="checkbox"/> $\frac{۱}{۲}$ (۳) <input type="checkbox"/> $\frac{۱}{۴}$ (۲) <input type="checkbox"/> $\frac{۳}{۸}$ (۱) </p>	۳	درست <input type="checkbox"/> نادرست <input type="checkbox"/>
۱/۲۵	<p>با توجه به نمودار ون داده شده، ابتدا اعضای مجموعه A و B را مشخص کنید.</p> <p style="text-align: center;"> $A = \{ \quad \quad \quad \}$ $B = \{ \quad \quad \quad \}$ </p> <p>ب) حاصل عبارت های زیر را بدست آورید.</p> <p style="text-align: center;"> $A \cup B =$ $B - C =$ $A \cap C =$ </p>	۴	درست <input type="checkbox"/> نادرست <input type="checkbox"/>



شماره داوطلب :

نام :

نام خانوادگی :

نام پدر :

نام آموزشگاه :

پایه : نهم

بسمه تعالی

وزارت آموزش و پرورش

اداره کل آموزش و پرورش استان یزد

اداره سنجش

نام درس : ریاضی

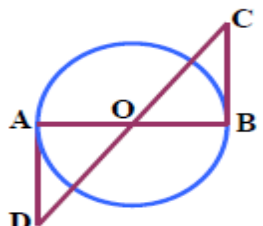
تاریخ امتحان : ۹۷/۳/۲۹

تعداد صفحه : ۴

تعداد سؤال : ۱۷

زمان شروع : ۸ صبح

وقت : ۱۰۰ دقیقه

۱/۵	<p>الف) بین دو عدد $1 -$ و $\frac{4}{5} -$ دو کسر بنویسید.</p> <p>ب) مجموعه زیر را روی محور نشان دهید.</p> $A = \{x \in R \mid -2 \leq x < 3\}$ <p>ج) داخل دایره علامت (\in و \notin) قرار دهید.</p> $\sqrt{3} \circ Q' \quad \pi \circ Q$	۵
۰/۷۵	<p>حاصل عبارت های زیر را بدست آورید.</p> $ 2 - \sqrt{3} =$ $\sqrt{(2 - \sqrt{5})^2} =$	۶
۱	<p>در شکل مقابل O مرکز دایره است، AD و BC بر دایره مماس اند. نشان دهید که $AD = BC$.</p> 	۷
۱/۵	<p>الف) حاصل عبارت های زیر را بدست آورید. (۰/۵)</p> $3^{-10} \times 27^{-3} =$ $2\sqrt[3]{16} \times 3\sqrt[3]{4} =$ <p>ب) حاصل عبارت زیر را به صورت نماد علمی بنویسید. (۰/۵)</p> $\frac{12 \times 10^{-4}}{24 \times 10^{-15}} =$ <p>ج) مخرج کسر های زیر را گویا کنید. (۰/۵)</p> $\frac{3}{\sqrt[3]{2}} =$	۸

بسمه تعالی
وزارت آموزش و پرورش
اداره کل آموزش و پرورش استان یزد
اداره سنجش

شماره داوطلب :
نام :
نام خانوادگی :
نام پدر :
نام آموزشگاه :
پایه : نهم

نام درس : ریاضی
تاریخ امتحان : ۹۷/۳/۲۹
تعداد صفحه : ۴
تعداد سؤال : ۱۷
زمان شروع : ۸ صبح
وقت : ۱۰۰ دقیقه

۲	<p>الف) حاصل عبارت های زیر را با استفاده از اتحاد ها بدست آورید.</p> $(2a + 3b)^2 =$ $99 \times 101 =$ <p>ب) عبارت های زیر را تجزیه کنید.</p> $x^2 - 5x + 6 =$ $x^2 - 16 =$	۹
۱	<p>مجموعه جواب نامعادله زیر را بدست آورید.</p> $2(x - 3) < -x + 9$	۱۰
۱	<p>الف) خط $y = 2x + 1$ را رسم کنید.</p> <p>ب) معادله خطی بنویسید که شیب آن $\frac{1}{3}$ و محور عرض ها را در نقطه ای به عرض ۲ قطع کند.</p>	۱۱
۱	<p>الف) آیا نقطه $\left[\begin{matrix} 2 \\ 4 \end{matrix} \right]$ روی خط $y = \frac{1}{3}x + 3$ قرار دارد؟ چرا؟</p> <p>ب) در خط به معادله $6x - 3y = 3$ شیب و عرض از مبدأ را بیابید.</p>	۱۲

بسمه تعالی
وزارت آموزش و پرورش
اداره کل آموزش و پرورش استان یزد
اداره سنجش

شماره داوطلب :
نام :
نام خانوادگی :
نام پدر :
نام آموزشگاه :
پایه : نهم

نام درس : ریاضی
تاریخ امتحان : ۹۷/۳/۲۹
تعداد صفحه : ۴
تعداد سؤال : ۱۷
زمان شروع : ۸ صبح
وقت : ۱۰۰ دقیقه

۱	$\begin{cases} 3x - 5y = 1 \\ 2x + 3y = 7 \end{cases}$	دستگاه مقابل را حل کنید.	۱۳
۱/۵	$\frac{x^2 - 4}{x} \times \frac{4x}{x - 2} =$ $\frac{a}{a - 1} + \frac{3}{a + 1} =$	حاصل عبارت مقابل را بدست آورید.	۱۴
۱/۲۵		حاصل تقسیم $x^3 - 2x^2 + 3x - 2$ بر $x - 1$ را انجام داده و باقیمانده و خارج قسمت را مشخص کنید.	۱۵
۱/۲۵		<p>مثلث قائم الزاویه به اضلاع ۳ و ۴ را حول ضلع ۳ سانتی متری دوران می دهیم، الف) نام شکل حاصل از دوران را بنویسید. ب) حجم آن را بدست آورید. (نوشتن فرمول الزامی است و $\pi = 3$ در نظر بگیرید).</p>	۱۶
۱/۵		حجم و مساحت کره ای به شعاع ۵ سانتی متر را بدست آورید. (نوشتن فرمول الزامی است و $\pi = 3$ در نظر بگیرید).	۱۷
۲۰			مجموع

شماره داوطلب	نام خانوادگی	نام پدر	نام آموزشگاه	پایه : نهم
نام : _____	نام خانوادگی : _____	نام پدر : _____	نام آموزشگاه : _____	پایه : نهم
بسمه تعالی	وزارت آموزش و پرورش	اداره کل آموزش و پرورش استان یزد	اداره سنجش	((نوبت خرداد))
نام درس : ریاضی	تاریخ امتحان : ۹۷/۰۳/۰۷	تعداد صفحه : ۴	تعداد سؤال : ۱۶	زمان شروع : ۹:۳۰
			وقت : ۱۰۰ دقیقه	

ضمن خیرمقدم به دانش آموزان و داوطلبان عزیز، سوالات زیر را به دقت بخوانید و با توکل به خدا و آرامش خاطر پاسخ دهید.

ردیف	سؤالات	بارم
	نام و نام خانوادگی مصحح اول : _____ نمره با عدد _____ نمره با حروف _____	
	نام و نام خانوادگی مصحح دوم : _____ نمره تجدید نظر با عدد _____ نمره تجدید نظر با حروف _____	
۱	درستی یا نادرستی هر عبارت را مشخص کنید. الف (مجموعه تهی را بصورت $\{\phi\}$ نشان می دهیم . ب) اگر $\alpha - b = 5$ باشد آنگاه $\alpha < b$ است. ج) اگر کره ای در استوانه محاط شود حجم استوانه $1/5$ برابر حجم کره است. د) عبارت $\frac{1}{x^2 + 4}$ به ازای همه مقادیر x تعریف شده می باشد.	۱
۲	جمله های زیر را کامل کنید. الف) اگر $A \subset B$ باشد آنگاه $A \cup B = \dots$ ب) اگر زاویه بین دو خط در نقشه 65 درجه باشد ، زاویه بین دو خط در طبیعت درجه است. ج) از دوران (360°) یک مستطیل حول طولش بوجود می آید. د) حاصل $2^3 \times 2^{-2} / 5$ برابر است با	۱
۳	الف) با توجه به مجموعه های $A = \{4, 5, 6, 7\}$ و $B = \{5, 7, 3, 2\}$ و $C = \{x \in N \mid -2 < x < 3\}$ اعضای مجموعه های زیر را بنویسید. $A - B = \{ \quad \}$ $C = \{ \quad \}$	۱
+/5	ب) یک تاس و یک سکه را با هم پرتاب می کنیم چقدر احتمال دارد تاس عدد اول و سکه رو بیاید؟	

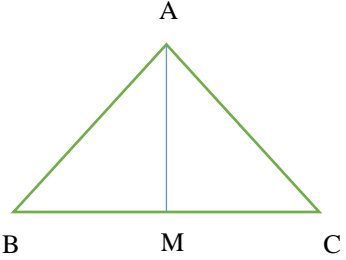
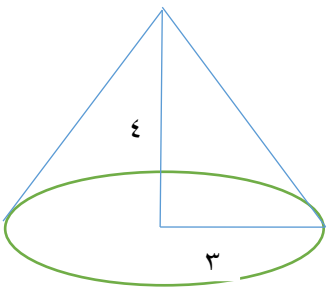
شماره داوطلب	باسمه تعالی	نام درس : ریاضی
نام :	وزارت آموزش و پرورش	تاریخ امتحان : ۹۷/۰۳/۰۷
نام خانوادگی :	اداره کل آموزش و پرورش استان یزد	تعداد صفحات : ۴
نام پدر :	اداره سنجش	تعداد سؤال : ۱۶
نام آموزشگاه :	((نوبت خرداد))	زمان شروع : ۹:۳۰
پایه : نهم		وقت : ۱۰۰ دقیقه

۴	<p>به سوالات چهار گزینه ای زیر پاسخ دهید.</p> <p>(A) کدام گزینه نادرست است؟</p> <p>الف) $\pi \in \mathbb{Q}$ (ب) $\sqrt[3]{3} \in \mathbb{W}$ (ج) $0.75 \in \mathbb{R}$ (د) $(\sqrt{-1})^2 = -1$</p> <p>(B) اگر a یک عدد حقیقی منفی باشد آنگاه $a + a$ برابر است با:</p> <p>الف) صفر (ب) $2a$ (ج) a (د) $-2a$</p> <p>(C) حجم هرمی که مساحت قاعده آن ۶ سانتی متر مربع و ارتفاع آن ۵ سانتی متر باشد برابر است با:</p> <p>الف) ۶۰ (ب) ۳۰ (ج) ۱۰ (د) ۵۰</p> <p>(D) عبارت $\frac{x}{y}$ با کدام یک از عبارت های زیر برابر است؟</p> <p>الف) $\frac{y-x}{y-y}$ (ب) $\frac{x}{5}$ (ج) $\frac{6x}{6y}$ (د) $\frac{x+3}{y+3}$</p>
۵	<p>الف) حاصل را بدست آورید.</p> $\sqrt{(-4)^2} + -6 - -1 =$ <p>ب) عدد $2 + \sqrt{5}$ بین کدام دو عدد صحیح متوالی قرار دارد؟</p>
۶	<p>حاصل عبارت های زیر را به ساده ترین صورت ممکن بنویسید.</p> <p>الف) $\left[-\left(\frac{4}{3}\right)^2 \right]^{-1} =$</p> <p>ب) $\sqrt[3]{16} + \sqrt[3]{128} =$</p>
۷	<p>الف) مخرج کسر مقابل را گویا و سپس ساده نمائید.</p> $\frac{12}{\sqrt{8}} =$ <p>ب) عدد مقابل را بصورت نماد علمی بنویسید.</p> $2560000 =$

شماره داوطلب	نام خانوادگی:	نام درس: ریاضی	باسمه تعالی
نام:	نام پدر:	تاریخ امتحان: ۹۷/۰۳/۰۷	وزارت آموزش و پرورش
نام آموزشگاه:	پایه: نهم	تعداد صفحه: ۴	اداره کل آموزش و پرورش استان یزد
		تعداد سؤال: ۱۶	اداره سنجش
		زمان شروع: ۹:۳۰	((نوبت خرداد))
		وقت: ۱۰۰ دقیقه	

۰/۲۵	الف) در چند جمله ای $5xy^2 + 4x^3y^3$ درجه نسبت به x و y چیست؟	۸
۰/۷۵	ب) حاصل را به کمک اتحادها بدست آورید.	
۰/۷۵	ج) تجزیه کنید.	
۰/۷۵	$(x-4)(x+6) =$ $y^4 - 1 =$	
۰/۷۵	خط $1 - 2x = y$ را رسم کنید.	۹
۰/۵	الف) معادله خطی را بنویسید که با خط $x = \frac{1}{2}$ موازی و محور عرض ها را در نقطه ای به عرض ۵ قطع کند.	۱۰
۰/۲۵	ب) معادله خطی را بنویسید که با محور x موازی و از نقطه $\begin{bmatrix} 4 \\ 3 \end{bmatrix}$ بگذرد.	
۰/۵	ج) شیب و عرض از مبدا خط $10 = 2y - 6x$ را بدست آورید.	
۰/۵	الف) مختصات نقطه ای از خط به معادله $4x - 5 = y$ را بیابید که عرض آن نقطه ۳+ باشد.	۱۱
۰/۵	ب) مختصات نقطه محل برخورد دو خط $7 = y$ و $-1 = x$ را بنویسید.	
۱/۵	عبارت گویای زیر را به ساده ترین صورت ممکن بنویسید. (عبارتهای گویا تعریف شده می باشند)	۱۲
	$\left(\frac{5}{x^2 - 9}\right) \div \left(\frac{2}{x-3} + \frac{1}{x+3}\right) =$	
۱	$\begin{cases} x + y = 6 \\ x - 4y = -19 \end{cases}$	۱۳
	دستگاه مقابل را حل کنید.	

شماره داوطلب	نام خانوادگی:	نام درس: ریاضی	باسمه تعالی
نام:	نام پدر:	تاریخ امتحان: ۹۷/۰۳/۰۷	وزارت آموزش و پرورش
نام آموزشگاه:	پایه: نهم	تعداد صفحه: ۴	اداره کل آموزش و پرورش استان یزد
		تعداد سؤال: ۱۶	اداره سنجش
		زمان شروع: ۹:۳۰	((نوبت خرداد))
		وقت: ۱۰۰ دقیقه	

۱۴	<p>الف) در مثلث متساوی الساقین ABC پاره خط AM نیمساز زاویه A است ثابت کنید AM میانه است.</p>  <p>ب) دو لوزی متشابه اند و نسبت تشابه آنها $\frac{3}{5}$ است اگر ضلع لوزی بزرگتر ۳۵ باشد ضلع لوزی کوچکتر را بدست آورید.</p> <p>ج) در جمله « کمان های نظیر وترهای مساوی از یک دایره، با هم برابرند » فرض چیست؟</p>
۱۵	<p>تقسیم زیر را انجام دهید و خارج قسمت و باقی مانده را مشخص کنید.</p> $3x^2 - 6x + 34 \quad \quad x - 5$
۱۶	<p>الف) مساحت کره ای به شعاع ۲ را بدست آورید. (نوشتن فرمول الزامی است)</p> <p>ب) حجم شکل زیر را بدست آورید. (نوشتن فرمول الزامی است)</p> 

« موفق و سربلند باشید »

شماره داوطلب :	بسمه تعالی	نام درس : شنیداری زبان انگلیسی
نام :	وزارت آموزش و پرورش	تاریخ امتحان : ۹۷/۰۳/۳۱
نام خانوادگی :	اداره کل آموزش و پرورش استان یزد	تعداد صفحه : ۱
نام پدر :	اداره سنجش	تعداد سؤال : ۴
نام آموزشگاه :		زمان شروع : ۸ صبح
پایه : نهم		وقت : ۷۰ دقیقه

نام و نام خانوادگی مصحح اول :	نام و نام خانوادگی مصحح دوم :
نمره با عدد	نمره تجدید نظر با عدد
نمره با حروف	نمره تجدید نظر با حروف

بارم	سؤالات شنیداری	ردیف
۱	با توجه به متنی که می شنوید ؛ جاهای خالی را با یک کلمه کامل کنید . ۱-Omid is a There was a in fire . ۲-Omid went into fire and the child . ۳- He got some bruises and now he is in the	۱
۲	با توجه به متنی که می شنوید جملات ستون (A) را با استفاده از جملات ستون (B) کامل کنید . A ۱-There were two interesting ۲-The cinemas were ۳-I watched the CD of ۴-I liked to see B a) full of people b)a comedy and a cartoon c) movies in the cinemas d)the comedy at home	۲
۳	با توجه به مکالمه ای که می شنوید مقابل عبارت درست (T) و در مقابل جملات غلط (F) بنویسید ۱-Amir is a fire fighter . () ۲-Amir works at a gas station . () ۳- He works five days a week . () ۴-He drives his car around the city . ()	۳
۴	باتوجه به فایل صوتی که می شنوید؛ برای جملات با آهنگ rising علامت و آهنگ falling علامت بنویسید . ۱-Is she clever? () ۲- It is fantastic ! () 3-There is a cat in the yard.() 4-When did they go to school? ()	۴
۵		جمع

نام درس : شنیداری زبان انگلیسی تاریخ امتحان : ۹۷/۰۳/۳۱ تعداد صفحه : ۱ تعداد سؤال : ۴ زمان شروع : ۸ صبح وقت : ۷۰ دقیقه	بسمه تعالی وزارت آموزش و پرورش اداره کل آموزش و پرورش استان یزد اداره سنجش	شماره داوطلب : نام : نام خانوادگی : نام پدر : نام آموزشگاه : پایه : نهم
--	--	--

متن شنیداری		
۲	<p>Omid is a fire fighter .Last week he went to put out a big fire in a small house . There was a child in the fire . The child hurt her ankle and couldn't come out . He hurt his back . He got some bruises on his hand and legs . He is in hospital now . He is very happy ,because he saved the child .</p>	۱
۱	<p>This summer , there were two interesting movies in the cinemas: A cartoon and a a comedy .I like to see both but I just watched the cartoon . The cinemas were full of people and it was difficult to buy tickets Later I watched the CD of the comedy at home .</p>	۲
۱	<p>Amir is a police officer. He works at a police station . He goes to work from Saturday to Wednesday ,7a.m to 4p.m .He drives his car around the city and makes sure everything is OK .</p>	۳
	<p>باتوجه به فایل صوتی که می شنوید؛ برای جملات با آهنگ rising علامت و آهنگ falling علامت بنویسید .</p> <p>۱-Is she clever? () 3-There is a cat in the yard.()</p> <p>۲-It is fantastic . () 4-When did they go to school? ()</p>	۴

« موفق و سربلند باشید »

شماره داوطلب :
نام :
نام خانوادگی :
نام پدر :
نام آموزشگاه :
پایه : نهم

بسمه تعالی
وزارت آموزش و پرورش
اداره کل آموزش و پرورش استان یزد
اداره سنجش

نام درس : زبان انگلیسی
تاریخ امتحان : ۹۷/۰۳/۳۱
تعداد صفحه : ۳
تعداد سؤال : ۸
زمان شروع : ۸ صبح
وقت : ۶۰ دقیقه

با انتخاب کلمه مناسب ، متن زیر را کامل کنید . (یک کلمه اضافی است)

۴

۲

Plaster - put - ran - ride -bleeding- scars - hurt -went -fell

Last week , I to my grandfather's farm. He taught me how to his horse. It wasn't hard , but the horse very fast and I down. I didn't myself a lot . I had some My grandfather gave me a I it on my wound.

به سوالات زیر با توجه به شکل، جواب دهید .

۵

۱-A : Is she upset?



B :

۲- A: What did she receive ?



B :

۳-A : Is he reading a guide book ?



B :

– رضا وبلاگ خود را با یک خاطره از یک تصادف به روز کرده است، آن را بخوانید و دور کلمه صحیح خط بکشید.

Last Friday there (was - were) an accident near our village.

My father and brother (are helping - helped) the driver and

his family, but my cousin(take - took) photos and didn't help them.

I was so angry. A police officer (write - wrote) a report.



۶

شماره داوطلب :

نام :

نام خانوادگی :

نام پدر :

نام آموزشگاه :

پایه : نهم

بسمه تعالی

وزارت آموزش و پرورش

اداره کل آموزش و پرورش استان یزد

اداره سنجش

نام درس : زبان انگلیسی

تاریخ امتحان : ۹۷/۰۳/۳۱

تعداد صفحه : ۳

تعداد سؤال : ۸

زمان شروع : ۸ صبح

وقت : ۶۰ دقیقه

۷

در متن زیر دو غلط گرامری وجود دارد؛ آنها را پیدا کنید و صحیح آنها را بنویسید .

۱/۵ Paul father is a tourist from Spain. Now , he is living in Germany. I received a message from he last week.

۱ -

۲-

۸

متن زیر را بخوانید و به سوالات آن پاسخ دهید .

Elina was a young and happy girl .When she was 7 years old , She had a bad accident . she was in the car with her family .Elina hurt her legs . She didn't walk after the accident . But she was very brave. she stayed at home and studied hard . She wrote many nice stories . She became a famous writer.

۱/۵ Many children read her stories .

با توجه به متن ، مقابل جمله درست (T) و مقابل جمله نادرست (F) بنویسید .

۱ -Elina was a girl .()

۲ - When Elina was 7, her father broke his legs . ()

۱/۵

به پرسش های زیر پاسخ کامل دهید .

۱- What happened to Elina when she was 7 ?

.....

۲-Who read her stories ?

.....

Writing Mark

Listening Mark

Speaking Mark

Sum Total



=

شماره داوطلب	نام و نام خانوادگی	نام پدر	نام آموزشگاه	پایه : فهم
نام و نام خانوادگی مصحح اول :	نام و نام خانوادگی مصحح دوم :	نام و نام خانوادگی مصحح اول :	نام و نام خانوادگی مصحح دوم :	نام و نام خانوادگی مصحح اول :
بسمه تعالی	وزارت آموزش و پرورش	اداره کل آموزش و پرورش استان یزد	اداره سنجش	((نوبت خرداد ماه))
نام درس : عربی	تاریخ امتحان : ۹۷/ ۳/۱۳	تعداد صفحه : ۴	تعداد سؤال : ۱۷	زمان شروع : ۹:۳۰
وقت : ۶۰ دقیقه				

ضمن خیرمقدم به دانش آموزان و داوطلبان عزیز، سؤالات زیر را به دقت بخوانید و با توکل به خدا و آرامش خاطر پاسخ دهید.

ردیف	سؤالات	بارم
۱	آیات و احادیث زیر را به فارسی ترجمه کنید . ۱- اَعْمَلْ لِدُنْيَاكَ كَأَنَّكَ تَعِيشُ أَبَدًا . ۲- أَوْحَبُّ الْأَعْمَالِ إِلَى اللَّهِ بَعْدَ الْفَرَائِضِ إِدْخَالُ السُّرُورِ عَلَى الْمُسْلِمِ .	۲
۲	جملات زیر را به فارسی ترجمه کنید . ۱- يَوْجَدُ فَيْتَامِينُ (C) فِي الْحَلِيبِ الطَّازِجِ . ۲- يَا رَجُلُ ، أُرِيدُ تَسْلِيمَ أُمُورِ الْبِلَادِ إِلَيْكَ لِأَنَّ نِيَّ مَارَأَيْتُ مِنْكَ إِلَّا الْأَمَانَةَ . ۳- أَخَذَ الْمُدِيرُ تَلَامِيذَ الْمَدْرَسَةِ إِلَى مَنْطِقَةِ تَعْلِيمِ الْمُرُورِ . ۴- فِي أَحَدِ الْأَيَّامِ انْكَسَرَتْ إِحْدَى زُجَاجَاتِ الْمَوَادِّ الْكِيمِيَاوِيَّةِ فِي الْمُخْتَبَرِ . ۵- يَا أُخْتِي ، اصْنَعِي مُسْتَقْبَلَكَ .	۴/۵
۳	ترجمه صحیح را انتخاب کنید . ۱- يَا أَصْدِقَائِي ، رَجَاءٌ ، أُخْرِجُوا مِنَ الصَّفِّ . ۲- كَانَ الْعُمَّالُ يَصْنَعُونَ بَيْتًا .	۱/۵

شماره داوطلب	نام	نام خانوادگی	نام پدر	نام آموزشگاه	پایه : نهم
بسمه تعالی	وزارت آموزش و پرورش	اداره کل آموزش و پرورش استان یزد	اداره سنجش	((نوبت خرداد ماه))	
نام درس : عربی	تاریخ امتحان : ۹۷/ ۳/ ۱۳	تعداد صفحه : ۴	تعداد سؤال : ۱۷	زمان شروع : ۹:۳۰	وقت : ۶۰ دقیقه

۴	نام هر تصویر را از میان کلمات داده شده انتخاب کنید. « دو کلمه اضافی است » (مِشْمِش ، بِئْر ، جِزْر ، عَرَبِيَّة)		
۵	کلمات متضاد و مترادف را از بین کلمات داده شده بیابید و در جای مناسب بنویسید (دو کلمه اضافی است). (شَقَاوَةٌ / حَزِينٌ / رَقْدٌ / سَعَادَةٌ / لَمَّا / نَامٌ) = #
۶	در جملات داده شده کلمات مشخص شده را ترجمه کنید . ۱- نَذَبْتُ إِلَى مُتَحَفِ مَكَّةَ الْمُكْرَمَةِ . (.....) ۲- أَقْرَأُ بِاسْمِ اللَّهِ كِتَابِي	أَسْأَلُ رَبِّي حَلَّ صَعَابِي (.....)
۷	در هر ردیف کدام کلمه با سایر کلمات « ناهماهنگ » است ؟ زیر آن خط بکشید. ۱- أُسْبُوعٌ ، ذَهَبٌ ، شَهْرٌ ، سَنَةٌ ۲- حَطَبٌ ، نَارٌ ، دُخَانٌ ، نَجَاحٌ
۸	در جمله داده شده وزن و حروف اصلی کلمه مشخص شده را بنویسید. الْفَلَّاحُ اسْتَخْرَجَ مَاءً مِنَ الْبَيْتِ لِلزَّرْعَةِ . وزن () حروف اصلی ()
۹	فعل ماضی یا مضارع مناسب را انتخاب کنید . ۱- بَعْضُ الْعُلَمَاءِ أَنْ لِلْأَلْوَانِ تَأْثِيرًا عَلَيْنَا . (يَعْتَقِدُ - يَعْتَقِدُونَ) ۲- أَيُّهَا الطَّالِبَاتُ هَلْ وَاجِبَاتِكُنَّ أَمْسٍ ؟ (كَتَبْتِنَّ - كَتَبْنَ)

شماره داوطلب	نام	نام خانوادگی	نام پدر	نام آموزشگاه	پایه : فهم
بسمه تعالی	وزارت آموزش و پرورش	اداره کل آموزش و پرورش استان یزد	اداره سنجش	((نوبت خرداد ماه))	
نام درس : عربی	تاریخ امتحان : ۹۷/ ۳/ ۱۳	تعداد صفحه : ۴	تعداد سؤال : ۱۷	زمان شروع : ۹:۳۰	وقت : ۶۰ دقیقه

۱۰	در جای خالی از فعل « امر یا نهی » مناسب بامفهوم درست استفاده کنید . ۱- یابنتی، للحیة . (اضحکا ، اضحکی) ۲- ایهة الأولاد أصدقاءکم فی المشاکل . (لاتترکنا ، لاتترکوا) ۳- ایهة الرجالن من جلیسات السوء . (اهربا ، لاتهربا) ۴- ایتها النساء فی حیاتکن . (لاتکذبن ، لاتکذبی)
۱۱	جای خالی را با یکی از کلمات داد شده کامل کنید . « دوکلمه اضافی است » (نفقات ، المطر ، دلیل ، النار ، بضائع) ۱- حجاج القافلة بحاجة إلى السفر . ۲- قطرات الماء التي تنزل من السحاب . ۳- كانت الجامعة غالية وماكنت قادراً على دفعها وحدي .
۱۲	به سوالات داده شده با توجه به تصویر پاسخ کوتاه دهید. ۱- كم الساعة الان ؟ ۲- أين كانت مجموعة من الحيوانات ؟ ۳- يا تلميذات، كيف حالكن ؟ ۴- كم كرسيًا حول المنضدة ؟



شماره داوطلب 		باسمه تعالی	نام درس : عربی
نام :		وزارت آموزش و پرورش	تاریخ امتحان : ۹۷/ ۳/۱۳
نام خانوادگی :		اداره کل آموزش و پرورش استان یزد	تعداد صفحات : ۴
نام پدر :		اداره سنجش	تعداد سؤال : ۱۷
نام آموزشگاه :		((نوبت خرداد ماه))	زمان شروع : ۹:۳۰
پایه : فهم			وقت : ۶۰ دقیقه
۱۳	درست یا نادرست بودن جملات داده شده را با توجه به واقعیت مشخص کنید .		
۱	<p>۱- الْمَطْبَعَةُ مَخْزَنٌ لِحِفْظِ الْمَوَادِّ الْغَذَائِيَّةِ كَالْخَبْزِ . <input type="checkbox"/> ص <input type="checkbox"/> غ</p> <p>۲- الصَّيْنُ ، بِلَادٌ كَبِيرَةٌ جَدًّا فِي شَرْقِ آسِيَا . <input type="checkbox"/> ص <input type="checkbox"/> غ</p> <p>۳- مَنْ دَفَعَ غَضَبَهُ دَفَعَ اللَّهُ عَنْهُ عَذَابَهُ . <input type="checkbox"/> ص <input type="checkbox"/> غ</p> <p>۴- الرَّبِيعُ فَصْلٌ يَأْتِي بَعْدَ الصَّيْفِ . <input type="checkbox"/> ص <input type="checkbox"/> غ</p>		
۱۴	متن زیر را بخوانید و به سؤالات داده شده پاسخ دهید.		
۱	<p>ابتداءً العام الدراسي الجديد في فصل الخريف وذهب تلاميذ القرية إلى المدرسة . كانت القرية صغيرة وجميلة . على في القرية طالب جيد جداً . هو يدرس في الصف التاسع . يعمل على في المزرعة بعد المدرسة . ويساعد إلى أسرته . أم على مريضة . وعلى حزين . لأن يحب أمه كثيراً . على لا يبأس من الله أبداً . لأنه يعلم ، الله رحيم .</p> <p>۱- متى ابتداءً العام الدراسي الجديد ؟</p> <p>۲- أين يعمل على بعد المدرسة ؟</p> <p>۳- من يحب على كثيراً ؟</p> <p>۴- لماذا لا يبأس على ؟</p>		
۱۵	کدام گزینه به درستی ترجمه شده است ؟		
۱/۲۵	<p>۱- عَصَفَتْ رِيَا حٌ شَدِيدَةً . (باد به شدت می وزد) . <input type="checkbox"/></p> <p>۲- أَصَابَتْ صَاعِقَةٌ سَفِينَتَهُمْ . (صاعقه به کشتی برخورد کرد) . <input type="checkbox"/></p> <p>۳- نَادَيْتُ أُخِي الْأَصْغَرَ لِكِتَابَةِ وَاجِبَاتِهِ . (برادرم کوچک است او را برای نوشتن تکالیفش صدا زدم) . <input type="checkbox"/></p> <p>۴- قَسَمْتُ مَزْرَعَتَنَا الْكَبِيرَةَ إِلَى نِصْفَيْنِ . (مزرعه بزرگمان را به دو قسمت (نیم) تقسیم کردی) . <input type="checkbox"/></p>		
۱۶	روان خوانی		۳
۱۷	مکالمه		۲

بسمه تعالی
وزارت آموزش و پرورش
اداره کل آموزش و پرورش استان یزد
اداره سنجش

شماره داوطلب :
نام :
نام خانوادگی :
نام پدر :
نام آموزشگاه :
پایه : نهم

نام درس : علوم تجربی
تاریخ امتحان : ۹۷/۰۳/۰۳
تعداد صفحه : ۴
تعداد سؤال : ۱۴
زمان شروع : ۹:۳۰
وقت : ۷۰ دقیقه

ضمن خیرمقدم به دانش آموزان و داوطلبان عزیز، سوالات زیر را به دقت بخوانید و با توکل به خدا و آرامش خاطر پاسخ دهید.

ردیف	سؤالات	بارم
	نام و نام خانوادگی مصحح اول : نمره با عدد نمره با حروف	نام و نام خانوادگی مصحح دوم : نمره تجدید نظر با عدد نمره تجدید نظر با حروف
۱	جاهای خالی را با کلمات مناسب کامل کنید. ۱ : در هر پیوند کووالانسی، تعداد الکترون بین دو اتم به اشتراک گذاشته می شود. (یک - دو) ۲ : علت حرکت ورقه های سنگ کره بر روی خمیر کره می باشد. (جریان همرفتی - اختلاف دما) ۳ : مجموع طول های طی شده از مبدأ تا مقصد حرکت را می نامند. (جابه جایی - مسافت) ۴ : سیارک ها از جنس سنگ و فلز هستند که بین دو سیاره و قرار دارند. (مریخ و مشتری - مریخ و زحل) ۵ : وجود زغال سنگ در یک منطقه بیانگر آب و هوای در گذشته آن منطقه است. (گرم و مرطوب - گرم و خشک)	۱/۵
۲	پاسخ صحیح را با علامت × مشخص کنید. ۱: در کدام یک از موارد زیر کربن دی اکسید مصرف می شود؟ الف) تنفس سلولی <input type="checkbox"/> ب) فتوسنتز <input type="checkbox"/> ج) سوختن سوخت های فسیلی <input type="checkbox"/> د) تجزیه بدن جانداران <input type="checkbox"/> ۲: عامل ایجاد بیماری آنفولانزا کدام گزینه ی زیر می باشد؟ الف) باکتری <input type="checkbox"/> ب) قارچ <input type="checkbox"/> ج) ویروس <input type="checkbox"/> د) آغازیان <input type="checkbox"/> ۳: مزیت مکانیکی کدام یک از ماشین های زیر برابر یک است؟ الف) فرغون <input type="checkbox"/> ب) قرقه ثابت <input type="checkbox"/> ج) قرقه متحرک <input type="checkbox"/> د) جارو دسته بلند <input type="checkbox"/> ۴: کدام یک از گزینه های زیر در مورد قدیمی ترین گیاهان روی زمین صحیح نیست؟ الف) آوند دارند <input type="checkbox"/> ب) ریشه ندارند <input type="checkbox"/> ج) هاگ تولید می کنند <input type="checkbox"/> د) در مناطق مرطوب هستند <input type="checkbox"/> ۵: کدام موجود تعداد پاهای بیشتری دارد؟ الف) خرچنگ <input type="checkbox"/> ب) رتیل <input type="checkbox"/> ج) کنه <input type="checkbox"/> د) مگس <input type="checkbox"/>	۱/۲۵

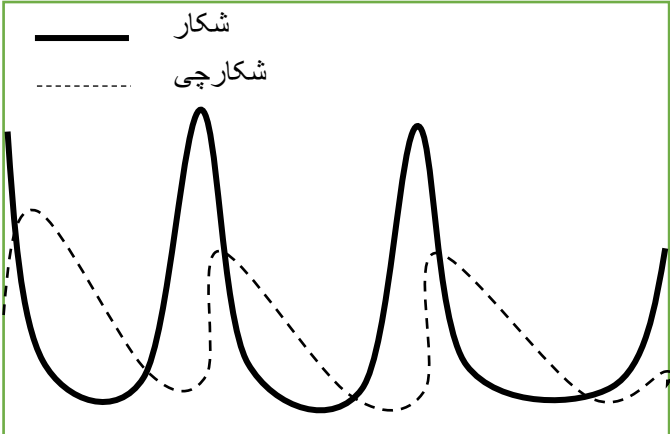
شماره داوطلب :	بسمه تعالی	نام درس : علوم تجربی
نام :	وزارت آموزش و پرورش	تاریخ امتحان: ۹۷/۰۳/۰۳
نام خانوادگی :	اداره کل آموزش و پرورش استان یزد	تعداد صفحه : ۴
نام پدر :	اداره سنجش	تعداد سؤال : ۱۴
نام آموزشگاه :		زمان شروع : ۹:۳۰
پایه : نهم		وقت: ۷۰ دقیقه


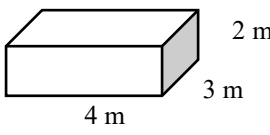
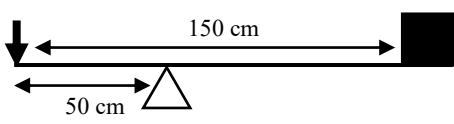
۳	صیحح یا غلط بودن جملات زیر را مشخص کنید. ۱: شکر یک ترکیب یونی است که در حالت محلول، رسانای جریان برق است. ۲: در حرکت یکنواخت روی خط راست، تندی متوسط و تندی لحظه‌ای با هم برابرند. ۳: ورقه‌ی اقیانوسی چگالی بیشتری نسبت به ورقه‌ی قاره‌ای دارد. ۴: کرم پلاناریا و کرم قلاب‌دار نمونه‌ای از کرم‌های لوله‌ای هستند.	ص غ <input type="checkbox"/> <input type="checkbox"/> <input type="checkbox"/> <input type="checkbox"/> <input type="checkbox"/> <input type="checkbox"/> <input type="checkbox"/> <input type="checkbox"/>	۱
۴	پاسخ کوتاه دهید. ۱: فسیل ماموت‌ها بیشتر در کجا یافت می‌شود؟ ۲: سلسله‌ای از جانداران که برخی از آنها پوسته‌هایی از جنس سیلیس دارند و در صنعت شیشه‌سازی به کار می‌روند، چه نام دارند؟ ۳: چه چیزی در تولید دارو برای بیماران قلبی به کار می‌رود؟ ۴: سازوکاری (عملی) در برخی جانداران که وقتی در جایی قرار می‌گیرند، تشخیص آن‌ها از زمینه دشوار است و از دید شکارچی مخفی می‌ماند چه نام دارد؟ ۵: پلاتی‌پوس جزو کدام دسته از پستانداران است؟		۱/۲۵
۵	برای عبارات زیر دلیل علمی بیان کنید. ۱: سرعت جاری شدن هیدروکربن C_8H_{18} بیشتر از سرعت جاری شدن $C_{14}H_{28}$ است. ۲: دو عنصر Li و Na متعلق به یک ستون از جدول هستند. ۳: وقتی با دست دیوار را هل می‌دهیم احساس می‌کنیم دیوار نیز ما را هل می‌دهد. ۴: برای سریع‌تر خالی شدن آب درون یک بطری، سوراخی ریز در ته آن ایجاد می‌کنیم.		۲
۶	الف) شخانه‌ها (شهاب‌سنگ) بیشتر در کجا سقوط می‌کنند؟ ب) یک مورد از خطرات شخانه‌ها را بنویسید. ج) بیشتر ترکیب خورشید از چه عنصری است؟ د) یک مورد از تفاوت‌های سیارات درونی و بیرونی را بنویسید.		۱

شماره داوطلب :
 نام :
 نام خانوادگی :
 نام پدر :
 نام آموزشگاه :
 پایه : نهم

بسمه تعالی
 وزارت آموزش و پرورش
 اداره کل آموزش و پرورش استان یزد
اداره سنجش

نام درس : علوم تجربی
 تاریخ امتحان: ۹۷/۰۳/۰۳
 تعداد صفحه : ۴
 تعداد سؤال : ۱۴
 زمان شروع : ۹:۳۰
 وقت: ۷۰ دقیقه

۰/۷۵	سه مورد از زیان‌ها یا بیماری‌هایی که قارچ‌ها عامل ایجاد آن هستند را نام ببرید.	۷									
۱	<p>جدول زیر را کامل کنید.</p> <table border="1" data-bbox="343 510 1353 683"> <tr> <td data-bbox="343 510 762 568">چگونگی قرار گرفتن آوند در ساقه</td> <td data-bbox="762 510 1198 568">شکل رگبرگ</td> <td data-bbox="1198 510 1353 568"></td> </tr> <tr> <td data-bbox="343 568 762 624"></td> <td data-bbox="762 568 1198 624"></td> <td data-bbox="1198 568 1353 624">تک‌لپه‌ای</td> </tr> <tr> <td data-bbox="343 624 762 683"></td> <td data-bbox="762 624 1198 683"></td> <td data-bbox="1198 624 1353 683">دولپه‌ای</td> </tr> </table>	چگونگی قرار گرفتن آوند در ساقه	شکل رگبرگ				تک‌لپه‌ای			دولپه‌ای	۸
چگونگی قرار گرفتن آوند در ساقه	شکل رگبرگ										
		تک‌لپه‌ای									
		دولپه‌ای									
۱	<p>در جدول زیر عباراتی از ستون A که با عبارت ستون B ارتباط دارند را مشخص کنید (در ستون B یک مورد اضافی است)</p> <table border="1" data-bbox="212 857 1406 1193"> <thead> <tr> <th data-bbox="212 857 357 913">ستون B</th> <th data-bbox="357 857 1406 913">ستون A</th> </tr> </thead> <tbody> <tr> <td data-bbox="212 913 357 969">خارتنان</td> <td data-bbox="357 913 1406 969" rowspan="5">از آنها برای تولید کلسیم قابل جذب استفاده می‌شود. ساده‌ترین جانور دریازی می‌باشد. بزرگترین گروه کیسه‌تنان که اسکلت آهکی دارند. دستگاه گردش آبی دارند که کار دستگاه‌های گردش خون، تنفس و دفع را انجام می‌دهد.</td> </tr> <tr> <td data-bbox="212 969 357 1025">مرجان‌ها</td> </tr> <tr> <td data-bbox="212 1025 357 1081">نرم‌تنان</td> </tr> <tr> <td data-bbox="212 1081 357 1137">بندپایان</td> </tr> <tr> <td data-bbox="212 1137 357 1193">اسفنج‌ها</td> </tr> </tbody> </table>	ستون B	ستون A	خارتنان	از آنها برای تولید کلسیم قابل جذب استفاده می‌شود. ساده‌ترین جانور دریازی می‌باشد. بزرگترین گروه کیسه‌تنان که اسکلت آهکی دارند. دستگاه گردش آبی دارند که کار دستگاه‌های گردش خون، تنفس و دفع را انجام می‌دهد.	مرجان‌ها	نرم‌تنان	بندپایان	اسفنج‌ها	۹	
ستون B	ستون A										
خارتنان	از آنها برای تولید کلسیم قابل جذب استفاده می‌شود. ساده‌ترین جانور دریازی می‌باشد. بزرگترین گروه کیسه‌تنان که اسکلت آهکی دارند. دستگاه گردش آبی دارند که کار دستگاه‌های گردش خون، تنفس و دفع را انجام می‌دهد.										
مرجان‌ها											
نرم‌تنان											
بندپایان											
اسفنج‌ها											
۰/۷۵	<p>با توجه به جانداران زیر : (گیاه، موش، گوزن، عقاب، پروانه، مار) الف) یک زنجیره غذایی (سه حلقه ای یا چهار حلقه ای) بنویسید. ب) تولیدکننده و مصرف‌کننده را مشخص کنید.</p>	۱۰									
۰/۵	<p>نمودار زیر رابطه‌ی بین جمعیت شکار و شکارچی را در یک منطقه نشان می‌دهد. این نمودار را با توجه به اطلاعات خود تفسیر کنید.</p> 	۱۱									

<p>۱</p>	 <p>با توجه به شکل، موارد خواسته شده را پاسخ دهید. ۱: نام موارد خواسته شده چیست؟ الف ب</p> <p>۲: باله‌های ماهی بر اساس محل قرار گرفتن، چه وظایفی می‌توانند بر عهده داشته باشند؟ (دو مورد)</p>	<p>۱۲</p>
<p>در حل مسائل زیر، نوشتن فرمول و واحد الزامی می‌باشد.</p>		
<p>۰/۷۵</p>	<p>مکعبی با وزن ۶۰۰۰ نیوتن به شکل زیر، روی سطح میز گذاشته‌ایم که کمترین فشار را وارد کند. اندازه فشار را محاسبه کنید.</p> 	<p>۱۳</p>
<p>۱/۲۵</p>	 <p>شکل زیر یک اهرم نوع اول را نشان می‌دهد. الف) بازوی مقاوم آن چند cm است؟ ب) مزیت مکانیکی چند است؟ ج) توسط این اهرم، با چه نیروی محرکی می‌توان نیروی مقاوم ۱۵۰ نیوتنی را جا به جا کرد؟</p>	<p>۱۴</p>

شماره داوطلب :	بسمه تعالی	نام درس : قرآن
نام :	وزارت آموزش و پرورش	تاریخ امتحان : ۹۷/۰۳/۰۵
نام خانوادگی :	اداره کل آموزش و پرورش استان یزد	تعداد صفحه : ۲
نام پدر :	اداره سنجش	تعداد سؤال : ۸
نام آموزشگاه :		زمان شروع : ۹:۳۰
پایه : نهم		وقت : ۳۵ دقیقه

ضمن خیرمقدم به دانش آموزان و داوطلبان عزیز، سوالات زیر را به دقت بخوانید و با توکل به خدا و آرامش خاطر پاسخ دهید.

بارم	سؤالات	نمره
	نام و نام خانوادگی مصحح اول : نمره با عدد <input type="text"/> نمره با حروف <input type="text"/>	نام و نام خانوادگی مصحح دوم : نمره تجدید نظر با عدد <input type="text"/> نمره تجدید نظر با حروف <input type="text"/>
۴	معنای صحیح هر کلمه را از داخل پرانتز انتخاب نموده و در جای خالی بنویسید. ۱- "وَصَى" : (سفارش کرد- رسید) ۲- "بَلَدَةً" : (بزرگ - سرزمین) ۳- "مُرْسَل" : (نامه - فرستنده) ۴- "مَحْيَا" : (زندگی- شرم و حیا) ۵- "خَوْف" : (اندوه- ترس) ۶- "أَنْزَلَ" : (نازل کردیم- نازل شد) ۷- "سَكِينَةً" : (آرامش- ساکن شدن) ۸- "عَسَى" : (شاید- چوب دستی)	
۲	شماره هر عبارت قرآنی را داخل مربع ترجمه مربوط به آن بنویسید. (یک ترجمه اضافه است). <div style="border: 1px solid black; padding: 10px; margin: 10px 0;"> ۱- "أَصْحَابُ الْجَنَّةِ هُمُ الْفَائِزُونَ" ۲- "وَمَا سَاكِنَ طَيْبَةً فِي جَنَّاتِ عَدْنٍ" ۳- "وَمَنْ يَتَّقِ اللَّهَ يَجْعَلْ لَهُ مَخْرَجًا" ۴- "أَنْ أَعْبُدُوا اللَّهَ وَاتَّقَوْهُ وَأَطِيعُونَ" </div> <div style="border: 1px solid black; padding: 10px; margin: 10px 0;"> <input type="checkbox"/> که خدا را عبادت کنید و تقوای او را پیشه نمایید و مرا اطاعت نمایید. <input type="checkbox"/> اهل بهشت ، همان رستگاران هستند. <input type="checkbox"/> به خدا و پیامبرش ایمان می آورید و در راه خدا جهاد و تلاش می کنید. <input type="checkbox"/> و هر کس تقوای خدا را پیشه کند، برای او راه نجاتی قرار می دهد. <input type="checkbox"/> و خانه های پاک در بهشت های جاودان هستند. </div>	
۰/۵	صحیح ترین ترجمه برای عبارت قرآنی مقابل کدام است؟ "يَغْفِرْ لَكُمْ ذُنُوبَكُمْ وَيُدْخِلْكُمْ جَنَّاتٍ" ۱- گناهانتان آمرزیده شود و به بهشت ها داخل شوید. <input type="checkbox"/> ۲- شما از او آمرزش گناهانتان و داخل شدن به بهشت را طلب می کنید. <input type="checkbox"/> ۳- برای شما، گناهانتان را می آمرزد و شما را به بهشت ها داخل می کند. <input type="checkbox"/> ۴- آمرزش گناهان باعث وارد شدن شما به بهشت خواهد شد. <input type="checkbox"/>	

شماره داوطلب :	بسمه تعالی	نام درس : قرآن
نام :	وزارت آموزش و پرورش	تاریخ امتحان : ۹۷/۰۳/۰۵
نام خانوادگی :	اداره کل آموزش و پرورش استان یزد	تعداد صفحه : ۲
نام پدر :	اداره سنجش	تعداد سؤال : ۸
نام آموزشگاه :		زمان شروع : ۹:۳۰
پایه : نهم		وقت : ۳۵ دقیقه

۴	واژه قرآنی مشخص شده در کدام گزینه صحیح ترجمه نشده است؟ ۱- "وَجَعَلْنَا نَوْمَكُمْ سُبَاتًا" (شبانگاه) ۲- "وَلَا تَكُونُوا كَالَّذِينَ نَسُوا اللَّهَ (فراموش کردند) ۳- "وَلَا تَزِدِ الظَّالِمِينَ إِلَّا تَبَارًا" (هلاکت) ۴- "وَفِي أَمْوَالِهِمْ حَقٌّ لِّلسَّائِلِ وَالمَحْرُومِ" (نیازمند)
۵	ترجمه آیات و عبارات قرآنی را کامل کنید. ۱- "وَقَالُوا لَوْ كُنَّا نَسْمَعُ أَوْ نَعْقِلُ مَا كُنَّا فِي أَصْحَابِ السَّعِيرِ" و گفتند اگر ----- یا ----- در میان اهل ----- نبودیم. ۲- "إِذَا نُودِيَ لِلصَّلَاةِ مِنْ يَوْمِ الْجُمُعَةِ فَاسْعَوْا إِلَى ذِكْرِ اللَّهِ" هرگاه برای نماز در روز جمعه ----- پس به سوی یاد خدا ----- . ۳- "إِنَّ لَكَ فِي النَّهَارِ سَبْحًا طَوِيلًا" قطعاً برای تو در روز ----- بسیار است.
۶	صحیح یا غلط بودن معنای ترکیب های قرآنی را مشخص نمایید. ۱- "قَوْلًا ثَقِيلًا" : کلامی با ارزش صحیح غلط ۲- "عَلَّمَهُ الْبَيَانَ" : به او سخن گفتن آموخت. صحیح غلط ۳- "كَلَّا سَيَعْلَمُونَ" : هرگز چنین نبوده، آیا می دانید؟ صحیح غلط ۴- "كَيْفَ نُصِيبُ" : چگونه برافراشته شد صحیح غلط
۷	با استفاده از کلمات داخل پرانتز و ترجمه های داده شده، عبارات قرآنی را کامل کنید. (یک کلمه اضافه است) (يَسْتَعْفِرُونَ - تَشْكُرُونَ - مُدْكِرٍ - نَجْمٍ - الْحَدِيدِ) ۱- "لَوْ نَشَاءُ جَعَلْنَاهُ أُجَاجًا فَلَوْ لَا -----" اگر بخواهیم آن را تلخ و شور قرار می دهیم، پس چرا شکر نمی کنید؟ ۲- "وَلَقَدْ يَسَّرْنَا الْقُرْآنَ لِلذِّكْرِ فَهَلْ مِنْ -----" قطعاً قرآن را برای پند آسان نمودیم پس آیا هیچ پندگیرنده ای هست؟ ۳- "وَبِالْأَسْحَارِ هُمْ -----" و در سحرها، آنها آموزش می خواهند. ۴- "وَأَنْزَلْنَا ----- فَبِهِ بِأَسُّ شَدِيدٌ" و فرورستادیم آهن را، در آن سختی زیادی است.
۸	آیات و عبارات قرآنی را ترجمه کنید. ۱- "أَفَلَا يَنْظُرُونَ إِلَى الْإِبْلِ كَيْفَ خُلِقَتْ" (۱/۲۵) ۲- "رَبُّ الْمَشْرِقِ وَ الْمَغْرِبِ لَا إِلَهَ إِلَّا هُوَ" (۱/۲۵) ۳- تَبَارَكَ الَّذِي بِيَدِهِ الْمُلْكُ وَ هُوَ عَلَى كُلِّ شَيْءٍ قَدِيرٌ" (۱/۵) ۴- لَا يَسْتَوِي أَصْحَابُ النَّارِ وَ أَصْحَابُ الْجَنَّةِ" (۱) ۵- "لَقَدْ أَرْسَلْنَا رُسُلَنَا بِالْبَيِّنَاتِ" (۱)

شماره داوطلب	باسمه تعالی	نام درس : مطالعات اجتماعی
نام خانوادگی :	وزارت آموزش و پرورش	تاریخ امتحان : ۹۷/۰۳/۲۴
نام پدر :	اداره کل آموزش و پرورش استان یزد	تعداد صفحه : ۶
نام آموزشگاه :	اداره سنجش	تعداد سؤال : ۵۰
پایه : نهم	((نوبت خرداد ماه))	زمان شروع : ۸ صبح
		وقت : ۷۰ دقیقه

ضمن خیرمقدم به دانش آموزان و داوطلبان عزیز، سوالات زیر را به دقت بخوانید و با توکل به خدا و آرامش خاطر پاسخ دهید.

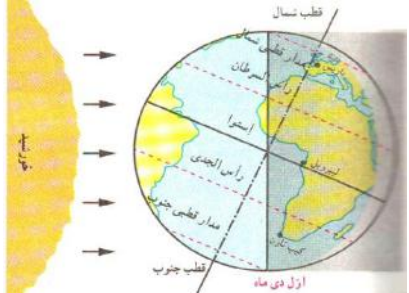
ردیف	بخش اجباری : دانش آموزان عزیز لطفاً به تمام سوالات فصل هفتم تا دوازدهم پاسخ دهید.	بارم
	نام و نام خانوادگی مصحح اول : نمره با عدد نمره با حروف	نام و نام خانوادگی مصحح دوم : نمره تجدید نظر با عدد نمره تجدید نظر با حروف
	فصل هفتم	
۱	۱ - جملات صحیح و غلط را مشخص کنید. الف (مهم ترین خواسته مردم در حرم حضرت عبدالعظیم تأسیس عدالت خانه بود. <input type="checkbox"/> صحیح <input type="checkbox"/> غلط ب (رهبران نهضت ملی شدن صنعت نفت آیت الله مدرس و دکتر مصدق بودند. <input type="checkbox"/> صحیح <input type="checkbox"/> غلط	۰/۵
۲	۲ - قرارداد ۱۹۱۹ در زمان نخست وزیری بسته شد.	۰/۲۵
۳	۳ - هدف اصلی متفقین از اشغال ایران در جنگ جهانی دوم را بنویسید.	۰/۷۵
۴	۴ - دو مورد موانع و مشکلات حکومت مشروطه را نام ببرید. ۱ - ۲ -	۱
	فصل هشتم	
۵	۵ - سخن حضرت آیت الله خامنه ای درباره نقش امام خمینی در انقلاب اسلامی را بنویسید.	۰/۵
۶	۶ - چرا امام خمینی با تغییرات تصویب نامه انجمن های ایالتی و ولایتی مخالفت نمود؟	۰/۵
۷	۷ - دو مورد از دلایل نارضایتی مردم از حکومت پهلوی را بنویسید. ۱ - ۲ -	۱
۸	۸ - نام دو نهاد از مهمترین نهادهایی را که پس از پیروزی انقلاب اسلامی به فرمان امام خمینی شکل گرفتند را بنویسید. ۱ - ۲ -	۰/۵
	فصل نهم	
۹	۹ - سخن استاد مرتضی مطهری که « ایرانیان از دین اسلام نیرو و حیات گرفتند و هم نیرو و حیات خود را صرف خدمت به آن کردند» مربوط به کدام ویژگیهای هویت ایرانی می باشد؟ الف (سرزمین ایران <input type="checkbox"/> ب (تاریخ کهن و میراث فرهنگ غنی <input type="checkbox"/> ج (مسلمان بودن <input type="checkbox"/> د (انقلاب اسلامی نمایانگر آرمانهاست <input type="checkbox"/>	۰/۵

شماره داوطلب نام : نام خانوادگی : نام پدر : نام آموزشگاه : پایه : نهم		باسمه تعالی وزارت آموزش و پرورش اداره کل آموزش و پرورش استان یزد اداره سنجش ((نوبت خرداد ماه))		نام درس : مطالعات اجتماعی تاریخ امتحان : ۹۷/۰۳/۲۴ تعداد صفحه : ۶ تعداد سؤال : ۵۰ زمان شروع : ۸ صبح وقت : ۷۰ دقیقه	
۰/۵	۱۰ - به آگاهی و اندیشه مشترک اعضای یک جامعه می گویند.				
۰/۵	۱۱ - مهمترین دلایل پیروی از هنجارها را بنویسید. (۲ مورد)				
	۱ -				
	۲ -				
۱	۱۲ - ویژگیهای انتسابی و اکتسابی هویت را با ذکر مثالی مقایسه کنید.				
۰/۵	۱۳ - از دیدگاه اسلام مهمترین عاملی که باید در همسرگزینی باید به آن توجه کرد است.				
	الف (ایمان و اعتقادات دینی <input type="checkbox"/> ب) تناسب و همگونی <input type="checkbox"/> ج (اخلاق نیکو <input type="checkbox"/> د) وضعیت خانوادگی <input type="checkbox"/>				
۰/۵	۱۴ - یکی از مهمترین کارکردهای خانواده در طول تاریخ فرزند آوری بوده است؟ صحیح <input type="checkbox"/> غلط <input type="checkbox"/>				
۱	۱۵ - چرا اجتماعی شدن هم نیاز فرد و هم نیاز جامعه است؟				
۰/۵	۱۶ - چگونه می توان از بروز ناسازگاری ها ، میان والدین و فرزندان جلوگیری کرد؟ (۱ مورد)				
۰/۷۵	۱۷ - هر یک از موارد زیر جزء وظایف کیست؟ موارد مربوط را به یکدیگر وصل کنید. (یک مورد اضافی است)				
	الف (حفظ میراث فرهنگی	۱ - شهروندان			
	ب (عفو یا تخفیف مجازات محکومان	۲ - حکومت			
	ج (دفاع از کشور در زمان صلح و جنگ	۳ - رهبر			
		۴ - قوه قضاییه			
۰/۲۵	۱۸ - رهبری در جمهوری اسلامی بر پایه استوار است.				
۰/۵	۱۹ - چرا حق حاکمیت بر انسان از آن خداست؟				
۱	۲۰ - منظور از عدالت قانونی چیست؟				

فصل دهم

فصل یازدهم

شماره داوطلب	باسمه تعالی	نام درس : مطالعات اجتماعی
نام خانوادگی :	وزارت آموزش و پرورش	تاریخ امتحان : ۹۷/۰۳/۲۴
نام پدر:	اداره کل آموزش و پرورش استان یزد	تعداد صفحه : ۶
نام آموزشگاه :	اداره سنجش	تعداد سؤال : ۵۰
پایه : نهم	((نوبت خرداد ماه))	زمان شروع : ۸ صبح
		وقت : ۷۰ دقیقه

فصل دوازدهم	۲۱ - برای افزایش بهره وری در فعالیتهای اقتصادی باید بهره وری را در و افزایش دهیم. ۲۲ - دو راهکار برای افزایش بهره وری در زندگی فردی و خانوادگی بنویسید. ۱ - ۲ - ۲۳ - دانش آموز عزیز به منظور بالا بردن بازدهی کولرهای آبی یک راهکار بنویسید. ۲۴ - منظور از اقتصاد مقاومتی چیست؟ ۱	۰/۵ ۰/۵ ۰/۵ ۱
	جمع بخش اجباری	۱۵
تذکره	بخش اختیاری : دانش آموزان عزیز لطفاً در این بخش دو فصل را انتخاب کنید و به سؤالات همان دو فصل پاسخ دهید.	بارم
فصل اول	۱ - چگونه موقعیت مکانی پدیده ها را روی کره زمین مشخص می کنند؟ الف (با استفاده از نصف النهار <input type="checkbox"/>) ب (با استفاده از جهت یابی <input type="checkbox"/>) ج (با استفاده از مدار <input type="checkbox"/>) د (با استفاده از مختصات جغرافیایی <input type="checkbox"/>) ۲ - به چهار سیاره نزدیک به خورشید که سطوح سنگی و جامد دارند سیاره های می گویند. ۳ - دو مورد از نتایج حرکت وضعی زمین را بنویسید. ۱ - ۲ - ۴ - با توجه به تصویر مقابل عبارت صحیح / غلط را مشخص کنید.  خورشید در اول دی ماه به مدار رأس الجدی در نیمکره جنوبی عمود می تابد صحیح <input type="checkbox"/> غلط <input type="checkbox"/>	۰/۵ ۰/۵ ۱ ۰/۵

شماره داوطلب	باسمه تعالی	نام درس : مطالعات اجتماعی
نام :	وزارت آموزش و پرورش	تاریخ امتحان : ۹۷/۰۳/۲۴
نام خانوادگی :	اداره کل آموزش و پرورش استان یزد	تعداد صفحه : ۶
نام پدر :	اداره سنجش	تعداد سؤال : ۵۰
نام آموزشگاه :	((نوبت خرداد ماه))	زمان شروع : ۸ صبح
پایه : نهم		وقت : ۷۰ دقیقه

۰/۵	۵- گازهایی که دور تا دور کره زمین را فرا گرفته اند کدامیک از محیط های کره زمین را می سازند؟ الف (لیتوسفر <input type="checkbox"/> ب (اتمسفر <input type="checkbox"/> ج (هیدروسفر <input type="checkbox"/> د (بیوسفر <input type="checkbox"/>	فصل دوم												
۱	۶- دو مورد از عوامل مؤثر بر آب و هوای مناطق مختلف جهان را بنویسید. ۱- ۲-													
۰/۵	۷- چرا سفر به اعماق اقیانوسها دشوارتر از صعود به قله هاست؟ (دو مورد) ۱- ۲-													
۰/۵	۸- انسان همواره برای رفع و چهره ناهمواریها را تغییر داده است.													
۱	۹- گزینه های ستون «الف» را به گزینه مربوط به آن در ستون «ب» وصل کنید. (یک مورد اضافی است)	فصل سوم												
	<table border="1"> <thead> <tr> <th>الف</th> <th>ب</th> </tr> </thead> <tbody> <tr> <td>درختان بانوباب از گونه های گیاهی این ناحیه هستند</td> <td>تایگا</td> </tr> <tr> <td>بیشترین تنوع زیستی جهان مربوط به این زیست بوم است</td> <td>جنگلهای بارانی استوایی</td> </tr> <tr> <td>میزان بارندگی سالیانه در این زیست بوم کمتر از ۵۰ میلی متر است</td> <td>توندرا</td> </tr> <tr> <td>در این زیست بوم گیاهانی چون خزه و گل سنگ می توانند برویند</td> <td>بیابان</td> </tr> <tr> <td></td> <td>ساوان</td> </tr> </tbody> </table>		الف	ب	درختان بانوباب از گونه های گیاهی این ناحیه هستند	تایگا	بیشترین تنوع زیستی جهان مربوط به این زیست بوم است	جنگلهای بارانی استوایی	میزان بارندگی سالیانه در این زیست بوم کمتر از ۵۰ میلی متر است	توندرا	در این زیست بوم گیاهانی چون خزه و گل سنگ می توانند برویند	بیابان		ساوان
الف	ب													
درختان بانوباب از گونه های گیاهی این ناحیه هستند	تایگا													
بیشترین تنوع زیستی جهان مربوط به این زیست بوم است	جنگلهای بارانی استوایی													
میزان بارندگی سالیانه در این زیست بوم کمتر از ۵۰ میلی متر است	توندرا													
در این زیست بوم گیاهانی چون خزه و گل سنگ می توانند برویند	بیابان													
	ساوان													
۰/۵	۱۰- دو عنصر مهم آب و هوایی که بیشترین تأثیر را بر میزان پوشش گیاهی یک منطقه دارند را نام ببرید. ۱- ۲-													
۱	۱۱- مهمترین عواملی که باعث از بین رفتن پوشش گیاهی ، نابودی گونه های جانوری و آلودگی آب و خاک و هوای زیستگاه ها می شوند را بنویسید. (دو مورد) ۱- ۲-													

شماره داوطلب نام : نام خانوادگی : نام پدر : نام آموزشگاه : پایه : نهم		باسمه تعالی وزارت آموزش و پرورش اداره کل آموزش و پرورش استان یزد اداره سنجش ((نوبت خرداد ماه))		نام درس : مطالعات اجتماعی تاریخ امتحان : ۹۷/۰۳/۲۴ تعداد صفحه : ۶ تعداد سؤال : ۵۰ زمان شروع : ۸ صبح وقت : ۷۰ دقیقه	
۰/۵	۱۲ - مهاجرت در داخل مرزهای یک کشور را مهاجرت می گویند.	فصل چهارم	۰/۵	۱۳ - دو عامل مهم در جهت کاهش مرگ و میر در جهان را بنویسید.	فصل پنجم
	۱ -			۲ -	
۰/۵	۱۴ - امید به زندگی به چه معناست؟				
۰/۵	۱۵ - دو مورد از علل داخلی نابرابری جهانی را بنویسید.		۱ -	۲ -	
۰/۵	۱۶ - عوامل طبیعی جذب جمعیت را نام ببرید. (دو مورد)		۱ -	۲ -	
۰/۷۵	۱۷ - هر یک از اقدامات زیر مربوط به کدام پادشاه صفوی است؟ موارد مربوط را به یکدیگر وصل کنید. (یک مورد اضافی است)				
	الف (رسمی کردن مذهب شیعه	۱ - شاه تهماسب			
	ب (انتقال پایتخت از تبریز به قزوین	۲ - شاه عباس اول			
	ج (تشکیل سپاه جدید از افراد غیر قزلباش	۳ - شاه اسماعیل			
		۴ - شاه سلطان حسین			
۰/۵	۱۸ - علل شکست ایرانیان در جنگ چالدران چه بود؟				
۰/۲۵	۱۹ - پرسودترین کالای صادراتی ایران در دوره صفویه بود.				
۰/۵	۲۰ - دو مورد از دلایل رونق تجارت داخلی و خارجی در زمان صفویه را بنویسید.	۱ -	۲ -		
۰/۵	۲۱ - از فیلسوفان و عالمان بزرگ عصر صفوی دو مورد را نام ببرید.	۱ -	۲ -		

شماره داوطلب	باسمه تعالی	نام درس : مطالعات اجتماعی
نام :	وزارت آموزش و پرورش	تاریخ امتحان : ۹۷/۰۳/۲۴
نام خانوادگی :	اداره کل آموزش و پرورش استان یزد	تعداد صفحه : ۶
نام پدر :	اداره سنجش	تعداد سؤال : ۵۰
نام آموزشگاه :	((نوبت خرداد ماه))	زمان شروع : ۸ صبح
پایه : نهم		وقت : ۷۰ دقیقه

فصل ششم	۲۲ - یکی از گسترده ترین جنبشهای اجتماعی در اعتراض به واگذاری امتیازهای اقتصادی به بیگانگان بود.	۰/۵
	۲۳ - علت لشکرکشی نادر به هندوستان را بنویسید.	۰/۵
	۲۴ - دو مورد از بناهای مهم عصر زندیه را نام ببرید.	۰/۵
	۱ - ۲	
	۲۵ - به موجب عهدنامه گلستان چه مناطقی از ایران جدا گردید. (دو مورد)	۰/۵
۱ - ۲		
۲۶ - دو مورد از اقدامات مهم امیرکبیر را بنویسید.	۰/۵	
۱ - ۲		

« موفق و سربلند باشید »

شماره داوطلب	باسمه تعالی	نام درس : مطالعات اجتماعی
نام :	وزارت آموزش و پرورش	تاریخ امتحان : ۱۳۹۷/۳/۹
نام خانوادگی :	اداره کل آموزش و پرورش استان یزد	تعداد صفحه : ۶
نام پدر :	اداره سنجش	تعداد سؤال : ۲۲+۲۸
نام آموزشگاه :	((نوبت خرداد ماه))	زمان شروع : ۹:۳۰
پایه : نهم		وقت : ۷۵ دقیقه

ضمن خیرمقدم به دانش آموزان و داوطلبان عزیز، سوالات زیر را به دقت بخوانید و با توکل به خدا و آرامش خاطر پاسخ دهید.

نام و نام خانوادگی مصحح اول :	نام و نام خانوادگی مصحح دوم :
نمره تجدید نظر با عدد	نمره تجدید نظر با عدد
نمره تجدید نظر با حروف	نمره تجدید نظر با حروف
بارم	(بخش اجباری) دانش آموزان عزیز لطفاً به همه ی سوالات فصل هفتم تا دوازدهم پاسخ دهید .
	فصل هفتم (اجباری)
۰/۵	۱- اولین دوره ی مجلس شورای ملی در زمان کدام پادشاه قاجار به وجود آمد؟ الف: ناصر الدین شاه <input type="checkbox"/> ب: مظفر الدین شاه <input type="checkbox"/> ج: محمد علی شاه <input type="checkbox"/> د: احمد شاه <input type="checkbox"/>
۰/۵	۲- رهبری مجاهدان مشروطه خواه تبریز در برابر حکومت استبداد محمد علی شاه چه شخصیت هایی بودند؟
۰/۵	۳- هدف اصلی متفقین از اشغال ایران در جنگ جهانی دوم را بنویسید.
۱	۴- دو مورد از اقدامات رضا شاه پهلوی را بنویسید. (نوسازی یا تخریب فرهنگ ایرانی، اسلامی)
	فصل هشتم (اجباری)
۰/۵	۵- در روند تاسیس حکومت جمهوری اسلامی کدام یک از گزینه های زیر از نظر زمانی زودتر به وقوع پیوسته است؟ الف- همه پرسى تایید قانون اساسی <input type="checkbox"/> ب- همه پرسى تعیین نظام سیاسی <input type="checkbox"/> ج- انتخابات ریاست جمهوری <input type="checkbox"/> د- انتخابات مجلس شورای اسلامی <input type="checkbox"/>
۰/۵	۶- اساسی ترین تغییرات قانون انجمن های ایالتی و ولایتی در سال ۱۳۴۱ را بنویسید. (یک مورد ذکر کنید)

شماره داوطلب	نام	نام خانوادگی	نام پدر	نام آموزشگاه	پایه : نهم
بسمه تعالی	وزارت آموزش و پرورش	اداره کل آموزش و پرورش استان یزد	اداره سنجش	((نوبت خرداد ماه))	
نام درس : مطالعات اجتماعی	تاریخ امتحان : ۱۳۹۷/۳/۹	تعداد صفحات : ۶	تعداد سؤال : ۲۲+۲۸	زمان شروع : ۹:۳۰	وقت : ۷۵ دقیقه

۰/۵	۷- دو مورد از توطئه ها و دسیسه های دشمنان پس از پیروزی انقلاب اسلامی را نام ببرید.
۱	۸- به نظر شما چرا مردم از محمد رضا شاه و سیاست های او ناراضی بودند ؟ (دو مورد را ذکر کنید.)

فصل نهم (اجباری)

۰/۵	۹- مهم ترین دلایل پیروی از هنجار ها چیست ؟ ۱- عبارات صحیح و غلط را مشخص کنید . الف) فرهنگ از طریق ژن به ارث می رسد . ب) نماد ها و هنجارها لایه های عمیق تر فرهنگ هستند . ج) موضوع هویت در واقع همان پاسخ به پرسش «کیستی» است. د) هویت فردی و اجتماعی بر یکدیگر تاثیر می گذارند . ۱۱- ویژگی های انتسابی و اکتسابی هویت را با ذکر مثال با یکدیگر مقایسه کنید .
۱	۲- ص <input type="checkbox"/> غ <input type="checkbox"/> ص <input type="checkbox"/> غ <input type="checkbox"/> ص <input type="checkbox"/> غ <input type="checkbox"/> ص <input type="checkbox"/> غ <input type="checkbox"/>

فصل دهم (اجباری)

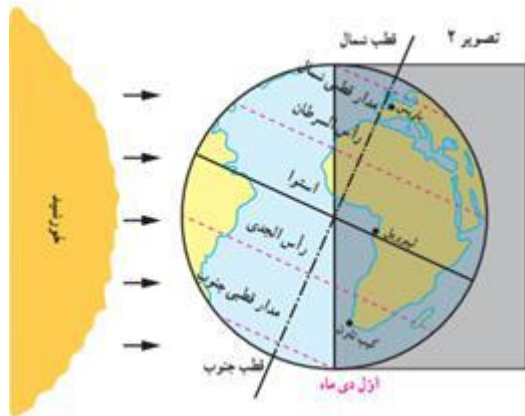
۰/۵	۱۲- اولین شرط بقای هر جامعه چیست؟ الف) ازدواج <input type="checkbox"/> ب) جمعیت <input type="checkbox"/> ج) فرزند آوری <input type="checkbox"/> د) تربیت فرزندان <input type="checkbox"/>
۰/۵	۱۳- دو مورد از کار کرد های خانواده را نام ببرید .
۰/۵	۱۴- فواید صله ی ارحام برای خانواده ها چیست ؟ (دو مورد را ذکر کنید.)

شماره داوطلب	باسمه تعالی	نام درس : مطالعات اجتماعی
نام :	وزارت آموزش و پرورش	تاریخ امتحان : ۱۳۹۷/۳/۹
نام خانوادگی :	اداره کل آموزش و پرورش استان یزد	تعداد صفحات : ۶
نام پدر :	اداره سنجش	تعداد سؤال : ۲۲+۲۸
نام آموزشگاه :	((نوبت خرداد ماه))	زمان شروع : ۹:۳۰
پایه : نهم		وقت : ۷۵ دقیقه

۱	۱۵- به نظر شما برای رفع ناسازگاری بین والدین و فرزندان چه اقداماتی می توان انجام داد؟(دو مورد پیشنهاد بنویسید.)
	فصل یازدهم (اجباری)
۰/۵	۱۶- ولایت به معنی است .
۰/۵	۱۷- مالیات چیست ؟
۰/۵	۱۸- دو مورد از حقوق شهروندی بر پایه ی قانون اساسی جمهوری اسلامی ایران را نام ببرید.
۱	۱۹- دو مورد از وظایف حکومت ها را بنویسید.
	فصل دوازدهم (اجباری)
۰/۵	۲۰- به استفاده ی درست از ابزارها و روش ها و فناوری های مختلف در همه ی مراحل تولید ، توزیع و مصرف بدون ضربه زدن به محیط زیست چه می گویند؟
۰/۵	الف - بهره وری <input type="checkbox"/> ب- بهره وری سبز <input type="checkbox"/> ج- نهاد اقتصاد <input type="checkbox"/> د فعالیت اقتصادی <input type="checkbox"/>
۰/۵	۲۱- منظور از اقتصاد مقاومتی چیست؟
۰/۵	۲۲- دو راهکار مهم برای افزایش بهره وری در زندگی فردی و اجتماعی را نام ببرید.
۱	۲۳- آقای احمدی در فصل تابستان برای خنک کردن خانه ی خود از کولر آبی استفاده می کند. برای افزایش بهره وری راهکار مهم به ایشان پیشنهاد دهید .

شماره داوطلب	نام	نام خانوادگی	نام پدر	نام آموزشگاه	پایه : نهم
بسمه تعالی	وزارت آموزش و پرورش	اداره کل آموزش و پرورش استان یزد	اداره سنجش	((نوبت خرداد ماه))	
نام درس : مطالعات اجتماعی	تاریخ امتحان : ۱۳۹۷/۳/۹	تعداد صفحات : ۶	تعداد سؤال : ۲۲+۲۸	زمان شروع : ۹:۳۰	وقت : ۷۵ دقیقه

	(بخش اختیاری) دانش آموزان عزیز لطفا در این بخش دو فصل را انتخاب کنید و به سوالات همان دو فصل پاسخ دهید
	فصل اول (اختیاری)
۱	<p>۱- عبارات صحیح و غلط را مشخص کنید .</p> <p>الف: سیارات بیرونی گازی شکل هستند .</p> <p>ب: مبنای زمان رسمی، موقعیت خورشید در آسمان است .</p> <p>ج: عرض جغرافیایی هر مکان عبارت است از فاصله ی آن مکان با نصف النهار مبدا .</p> <p>د: مسافری که از تهران به توکیو سفر می کند باید ساعت خود را جلو بکشد .</p> <p>۲- سال ۳۶۶ روزه را سال می نامند .</p> <p>۳- منظور از موقعیت مکانی یک پدیده چیست؟</p> <p>۴- با توجه به تصویر مشخص کنید .</p> <p>الف: انقلاب تابستانی <input type="checkbox"/> ب: انقلاب زمستانی <input type="checkbox"/></p>
+/۵	
+/۵	
+/۵	



شماره داوطلب	باسمه تعالی	نام درس : مطالعات اجتماعی
نام :	وزارت آموزش و پرورش	تاریخ امتحان : ۱۳۹۷/۳/۹
نام خانوادگی :	اداره کل آموزش و پرورش استان یزد	تعداد صفحات : ۶
نام پدر :	اداره سنجش	تعداد سؤال : ۲۲+۲۸
نام آموزشگاه :	((نوبت خرداد ماه))	زمان شروع : ۹:۳۰
پایه : نهم		وقت : ۷۵ دقیقه

فصل دوم (اختیاری)	
۱	<p>۵- عبارات صحیح و غلط را مشخص کنید.</p> <p>الف: وسعت خشکی های زمین نسبت به آبها کم است . <input type="checkbox"/> ص <input type="checkbox"/> غ</p> <p>ب: تشکیل ابر و بسیاری از تغییرات آب و هوایی در لایه ی پوشش سپهر صورت می گیرد . <input type="checkbox"/> ص <input type="checkbox"/> غ</p> <p>ج: هر چه از مدار استوا به سمت عرض های بالاتر حرکت کنیم دمای هوا افزایش می یابد . <input type="checkbox"/> ص <input type="checkbox"/> غ</p> <p>د: فشار هوا در یک مکان متغیر است و زیاد یا کم می شود. <input type="checkbox"/> ص <input type="checkbox"/> غ</p> <p>۶- سه مورد از نتایج حرکت ورقه های زمین را نام ببرید .</p> <p>۷- به نظر شما گرم شدن کره ی زمین چه پیامد های ناخوشایندی دارد؟ سه مورد ذکر کنید .</p>
+۷۵	
+۷۵	

فصل سوم (اختیاری)									
+۵	<p>۸- مهم ترین عواملی که باعث تخریب زیستگاهها می شوند را بنویسید. (از چهار مورد دو مورد را ذکر کنید).</p> <p>۹- هر کدام از عبارات زیر ویژگی کدام یک از زیست بوم هاست. الف) درختان بائو باب از گونه های گیاهی مشهور این ناحیه هستند ب) در این ناحیه فقط گیاهانی چون خزه و گلسنگ می توانند برویند ج) این ناحیه به داشتن جنگل های مخروطی و سوزنی برگ ها معروف است..... د) میزان بارندگی سالیانه ی این ناحیه کمتر از ۵۰ میلی متر و از نظر پوشش گیاهی فقیر است</p> <p>۱۰- جدول زیر را کامل کنید .</p> <table border="1" style="width: 100%; border-collapse: collapse;"> <thead> <tr> <th style="width: 50%;">اهمیت جنگل های آمازون</th> <th style="width: 50%;">علل تخریب جنگل های آمازون</th> </tr> </thead> <tbody> <tr> <td> </td> <td> </td> </tr> <tr> <td> </td> <td> </td> </tr> <tr> <td> </td> <td> </td> </tr> </tbody> </table>	اهمیت جنگل های آمازون	علل تخریب جنگل های آمازون						
اهمیت جنگل های آمازون	علل تخریب جنگل های آمازون								
۱									
۱									

شماره داوطلب	باسمه تعالی	نام درس : مطالعات اجتماعی
نام خانوادگی :	وزارت آموزش و پرورش	تاریخ امتحان : ۱۳۹۷/۳/۹
نام پدر :	اداره کل آموزش و پرورش استان یزد	تعداد صفحات : ۶
نام آموزشگاه :	اداره سنجش	تعداد سؤال : ۲۲+۲۸
پایه : نهم	((نوبت خرداد ماه))	زمان شروع : ۹:۳۰
		وقت : ۷۵ دقیقه

فصل چهارم (اختیاری)	
۰/۵	۱۱- کدام یک از گزینه های زیر از عوامل داخلی نابرابری نمی باشد .
۱	الف: حکومت های ستمگر و وابسته <input type="checkbox"/> ب: بی سوادى و ناآگاهى مردم <input type="checkbox"/> ج: جنگ و کشمکش داخلی <input type="checkbox"/> د: کشور های سلطه گر <input type="checkbox"/>
۱	۱۲- مهاجرت اجبارى و اختیاری را با ذکر مثال مقایسه کنید .
۱	۱۳- به نظر شما رشد اقتصادى ژاپن با سوریه چه تفاوتى دارد؟
فصل پنجم (اختیاری)	
۰/۵	۱۴- قرن های شانزدهم تا نوزدهم میلادى را در تاریخ اروپا مى نامند .
۰/۵	۱۵- دو عامل گسترش تجارت در عصر صفوى را بنویسید.
۰/۵	۱۶- به نظر شما حکومت صفوى با پهلوى اول از نظر برگزاری آیین های مذهبی چه تفاوتى دارد؟
۱	۱۷- هر کدام از حوادث زیر مربوط به کدام یک از شاهان صفوى است ؟ الف: انتقال پایتخت از تبریز به قزوین ب: بیرون راندن پرتغالى ها از سواحل و جزایر ایران ج: رسمى کردن مذهب شیعه د: حمله ی افغان های شورشى و تصرف اصفهان
فصل ششم (اختیاری)	
۰/۵	۱۸- فتوای مرجع تقلید شیعیان موجب لغو امتیاز تالبوت (توتون و تنباکو) شد .
۰/۵	۱۹- به موجب عهد نامه ایالت گرجستان و داغستان از حاکمیت ایران خارج و تحت حاکمیت روسیه قرار گرفت.
۰/۵	۲۰- به نظر شما کدام یک از اقدامات امیر کبیر در زمینه ی حقوق شهروندى و توسعه ی علمى و فرهنگى کشور بود . دو مورد
۱	۲۱- هر یک از اقدامات انجام شده توسط کدام پادشاه مى باشد.(یک مورد اضافى است) ۱- لشکرکشى به هندوستان () ۲- حمله روسیه به ایران () ۳- انتخاب تهران به پایتختى ایران () ۴- تشکیل سلسله زند () الف) کریم خان (ب) لطفعلی خان (ج) آقا محمدخان (د) فتحعلی شاه (ه) نادرشاه