



به نام خدا

دوستان واقعی، راه نیک بختی را به ما نشان می دهند و همراهان خوبی هستند. آن ها مثل آینه همان قدر که خوبی ها را پیش چشم می آورند، عیب ها را هم به ما می نمایانند و مهم تر آن که این همه را بی هیاهو، باز می گویند. رسم دوستی، شکستن آینه نیست؛ درست آن است که فرصت بازاندیشی و خودشکوفایی را پدید آوریم. (ص ۲۴)

اگر خواهی به درجه مورچه قناعت کنی، می باش و اگر نه، راهت داده اند تا در بستان معرفت حق تعالی، تماشا کنی و بیرون آیی؛ چشم باز کن تا عجایب بینی که مدهوش و متحیر شوی. (ص ۱۹)

آنچه در شناخت افراد به ما یاری می رساند، مشورت با پدر و مادر، معلمان دلسوز و مرتبان با تجربه است که ما را از دام و چاه این راه آگاه می سازد و آسیب های این مسیر را نشان می دهد. (ص ۳۰)

یکی از زمینه های اجتماعی گمراه شدن، تأثیر هم نشین بد است. به تجربه ثابت شده است که انسان تحت تأثیر رفتار دوست قرار می گیرد و رفیق بد، عامل ویرانگری و همدم نیکوخال، باعث پرورش شخصیت متعالی انسان می شود. (ص ۳۲)

در میان جمع هیچ کس را پند مده. از جای تهمت زده پرهیز کن و از یار بداندیش و بدآموز بگریز. به غم مردمان شادی مکن تا مردمان نیز به غم تو شادی نکنند. اگر طالب علم باشی، پرهیزگار و قانع باش. (ص ۴۸)

مادر، گرمی گوهری است که در کارگاه آفرینش خدای مهربان، همتایی ندارد. از این روست که هرچیز گرانبه را اگر بخواهند از راه همانندی، بزرگ بشمارند و عزیز بدانند، به مادر مانند می کنند. (ص ۶۱)

سوالات امتحان درس آمادگی دفاعی

دبیرستان رسولیان

نام خانوادگی

کلاس ۹۰

تاریخ ۱۳۹۴/۱۰/۱۷

وقت ۳۰ دقیقه

ردیف	سوال در ۲ صفحه	بارم
۱	گزینه های صحیح زیر را با علامت * مشخص کنید . یکی از مهم ترین دلایل پیدایش سکونت گاه ها و شهر ها چه بود؟ الف) نیاز مشترک انسان ها به امنیت <input type="radio"/> ب) نیاز آنها به حکومت <input type="radio"/> ج) علاقه به زندگی جمعی <input type="radio"/> د) نیاز به آسایش و آمادگی <input type="radio"/>	۰/۵
۲	هدف از تهاجم نظامی چیست؟ الف) تخریب کشور <input type="radio"/> ب) غارت کردن اموال کشور <input type="radio"/> ج) اشغال خاک و سرزمین <input type="radio"/> د) اشغال فکر و ذهن <input type="radio"/>	۰/۵
۳	دوران پس از دفاع مقدس (سال ۱۳۶۷) به چه دورانی معروف است؟ الف) دوران آزادی <input type="radio"/> ب) دوران سازندگی <input type="radio"/> ج) دوران شهامت <input type="radio"/> د) همه موارد <input type="radio"/>	۰/۵
۴	این سخن: بسیج مدرسه عشق و مکتب شاهدان و شهیدان گمنامی است که پیروانش برگلدسته های رفیع آن اذان شهادت و رشادت سرداده اند: از کیست؟ الف) مقام معظم رهبر <input type="radio"/> ب) شهید باهنر <input type="radio"/> ج) شهید مطهری <input type="radio"/> د) امام خمینی (ره) <input type="radio"/>	۰/۵
۵	جمله های زیر را با کلمه های مناسب کامل کنید. سلاح نیروهای بسیجی در زمان شروع جنگ تحمیلی ایمان و و ایثار و بود.	۰/۵
۶	ملت ما درس عزت و آزادی را از و آموخته اند.	۰/۵
۷	ایمنی در برابر زلزله : + + آگاهی	۰/۵
۸	گروه آتش نشان با هدف کنترل و برای تشکیل می شود.	۰/۵
۹	به سوال زیر پاسخ دهید. آمادگی دفاعی را تعریف کنید.	۰/۵
۱۰	تهدید را تعریف کنید.	۰/۵
۱۱	قیام مردم به رهبری امام خمینی (ره) از چه سالی شروع شد و پس از چند سال گسترش پیدا کرد؟	۰/۵

۰/۵	۱۲	رمز پیروزی انقلاب اسلامی ایران را بنویسید .
۰/۵	۱۳	فرمان تشکیل ارتش ۲۰ میلیونی (بسیج) توسط چه کسی و در چه تاریخی صادر شد؟
۰/۵	۱۴	چرا باید قبل از وقوع زلزله شورای ایمنی زلزله تشکیل داد؟
۰/۵	۱۵	چرا باید پس از وقوع زلزله به فضای باز و امن رفت؟
۰/۵	۱۶	یکی از عوامل مهم پیروزی و استمرار انقلاب اسلامی چیست؟
۱	۱۷	مردم ایران وقتی متوجه شدند که حکومت پهلوی برنامه ها و اعتقادات دینی مردم را به بازی گرفته چه کردند؟
۱	۱۸	چرا حضرت امام خمینی و مقام معظم رهبری بارها سفارش کردند که حفظ و دفاع از انقلاب مهم تر از پیروزی آن است؟
۱	۱۹	چگونه می توان اثرات خطر ناشی از زلزله را کاهش داد؟
۱	۲۰	مکان های مناسب برای پناه گیری در هنگام زلزله به چه جاهایی گفته می شود؟

موفق باشید.

۱- آیه شریفه مقابل را ترجمه نمایید. (۱/۵) «إِنَّمَا الْمُؤْمِنُونَ الَّذِينَ إِذَا ذُكِرَ اللَّهُ وَجِلَتْ قُلُوبُهُمْ وَإِذَا تُلِيَتْ عَلَيْهِمْ آيَاتِهِ زَادَتْهُمْ إِيمَانًا»

۲- صحیح یا غلط بودن عبارات زیر را مشخص کنید. (۱)

الف - خدا شکرگزار و قدردان کارهای نیک بندگان است. (.....)

ب - انسان ها به گونه ای خلق شده اند که خداجو و خدادوست هستند. (.....)

ج - اعتقاد به ظهور منجی، تنها به ما شیعیان اختصاص دارد. (.....)

د - کسی که ایمان به خدا دارد، مقصد و جایگاه نهایی خود را در دنیا جستجو می کند. (.....)

۳- جاهای خالی را با کلمات مناسب کامل کنید. (۲)

۱ - تمامی معارف قرآن کریم در..... سوره ودر قالب بیش از..... آیه بیان شده است.

۲- حضرت نوح مردم زمان خود را..... سال به یکتاپرستی دعوت کرد.

۳- دعوت به..... و..... دو اصل اساسی است که همه پیامبران مأمور به انجام آن بوده اند.

۴- بنا به فرموده امام صادق (ع)، آنچه ایمان را در دل پایدار می کند،..... است.

۵- نوع اخلاق و رفتار هرکسی بر خاسته از..... و..... اوست.

۴- صفات ثبوتی و سلبی را تعریف کرده و برای هر کدام مثالی بنویسید. (۱/۵)

۵- راههای شناخت صفات خداوند را نام ببرید. (۰/۵)

۶- یکی از دلایلی که باعث می شود انسان مومن از آرامش برخوردار باشد را بیان کنید. (۱)

۷- سه مورد از سوالات اساسی انسان ها چیست؟ (۱/۵)

۸- تنها کسی که صلاحیت ارائه دین به انسان ها را دارد چه کسی است؟ چرا؟ (۱/۵)

۹- حضرت موسی (ع) چگونه در برابر امر خدا تسلیم بود؟ (۱)

۱۰- مردم زمان پیامبر اکرم (ص) چه چیزهایی را پرستش می کردند؟ دلیل عقیده باطل آنها چه بود؟ (۱)

۱۱- حضرت ابراهیم (ع) چگونه در راه خدا استقامت و پایداری می نمودند؟ (۱/۵)

۱۲- گام های بهره مندی از قرآن کریم را بیان کنید. (۱/۵)

۱۳- امام علی (ع) در مورد ارزش و اهمیت قرآن چه می فرمایند؟ (۱/۵)

۱۴- دو مورد از اتفاقات بعد از ظهور امام زمان را بیان کنید. (۱)

۱۵- دو شرط مهم از شرایط ظهور حضرت مهدی (عج) چیست؟ (۱)

۱۶- با توجه به سخن امام رضا (ع) چهار مورد از ویژگی های منتظران واقعی امام زمان را بنویسید. (۱)

تاریخ امتحان: ۹۴/۱۰/۱۲

مدیریت آموزش و پرورش نامیه یک یزد

نام و نام خانوادگی:

درس: ریاضیات

دبیرستان نمونه (سولیان) (دوره اول)

شماره دفتر کلاسی:

طراح: گروه ریاضی

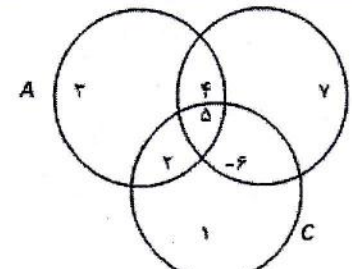

وقت امتحان: ۱۰۰ دقیقه

پایه: نهم

تعداد سوال: ۲۱

تعداد صفحات: ۳ برگ

کلاس:

بارم	نام دبیر			ردیف
	نمره با عدد	نمره با حروف	امضاء	
۱				<p>جاهای خالی را کامل کنید .</p> <p>(۱) مجموعه ای که هیچ عضوی ندارد را مجموعه می نامیم .</p> <p>(۲) مجموعه $A = \{x \in N \mid x < 5\}$ دارای عضو است .</p> <p>(۳) به اجتماع مجموعه اعداد گویا و مجموعه اعداد گنگ (اصم) ، مجموعه اعداد می گوئیم .</p> <p>(۴) مثالی که نادرستی یک حکم را نشان می دهد را مثال می گویند .</p>
۱				<p>عبارت درست را با + و عبارت نادرست را با x مشخص کنید .</p> <p>(۱) دو مجموعه \emptyset و $\{\emptyset\}$ با هم تفاوت دارند . ()</p> <p>(۲) عبارت سه عدد صحیح منفی یک مجموعه را مشخص می کند . ()</p> <p>(۳) کسری که مخرج آن صفر باشد یک عدد حقیقی است . ()</p> <p>(۴) دو پنج ضلعی منتظم دلخواه متشابه اند . ()</p>
۱				<p>گزینه صحیح را مشخص کنید .</p> <p>الف) کدام عبارت صحیح است .</p> <p>(۱) $Q \subseteq W$</p> <p>(۲) $\sqrt{7} \notin Q$</p> <p>(۳) $-4^2 \in N$</p> <p>(۴) $\frac{7}{3} \in Z$</p> <p>ب) کدام یک از اعداد زیر کسر مختوم است .</p> <p>(۱) $\frac{9}{22}$</p> <p>(۲) $\frac{6}{7}$</p> <p>(۳) $\frac{14}{25}$</p> <p>(۴) $\frac{22}{23}$</p> <p>ج) اگر تاسی را شش بار بیندازیم انتظار داریم بار عدد فرد بیاید .</p> <p>(۱) ۲</p> <p>(۲) ۳</p> <p>(۳) $\frac{1}{2}$</p> <p>(۴) $\frac{1}{3}$</p> <p>د) - کدام یک نادرست است ؟</p> <p>(۱) لوزی نوعی متوازی الاضلاع است .</p> <p>(۲) در لوزی زاویه های روبرو مساویند .</p> <p>(۳) لوزی نوعی مربع است .</p> <p>(۴) در مثلث متساوی الاضلاع نیمساز ، عمود منصف نیز هست .</p>
۰/۷۵				<p>به جای $A = \left\{ -(-2) \text{ و } 0 \text{ و } 2 \text{ و } 15 \text{ و } \frac{14}{8} \text{ و } \sqrt{4} \right\}$ باید بنویسیم : $A = \{ \dots \}$</p>
۰/۷۵				<p>یا توجه به نمودار زدر $(A - B) \cup (B \cap C)$ را یا نوشتن اعضایش مشخص کنید .</p> 
۰/۱۵				<p>مجموعه های داده شده را با هاشور زدن در نمودار ون مشخص کنید .</p>  <p>$(A - B) \cup (B - A)$</p>

نام و نام خانوادگی :

مدیریت آموزش و پرورش نامیه یک یزد

تاریخ امتحان : ۹۴/۱۰/۱۲

شماره دفتر کلاسی :

دبیرستان نمونه (سولیان) دوره اول

درس : ریاضیات

کلاس :




تعداد صفحات : ۳ برگ تعداد سوال : ۲۱

پایه : نهم

وقت امتحان : ۱۰۰ دقیقه

طراح : گروه ریاضی

مجموعه زیر را با اعضا نشان دهید .

۷	مجموعه زیر را با اعضا نشان دهید .	۰/۵	$A = \{x \in N \mid \frac{1}{5} < x < 5\}$
۸	مقدار x را طوری تعیین کنید که دو مجموعه $A = \{-3, 6, 5\}$ و $B = \{5, 2x - 1, 6\}$ برابر باشند .	۱	
۹	دو تاس به رنگ های آبی و قرمز را با هم پرتاب می کنیم . الف) چند حالت پیش می آید ؟ ب) احتمال پیشامد اینکه مجموع عدد های ظاهر شده حداکثر ۴ باشد چقدر است ؟ (با نوشتن فرمول)	۰/۷۵	
۱۰	الف) بین $\frac{1}{3}$ و $\frac{1}{4}$ سه عدد گویا بنویسید	۰/۷۵	
	ب) بین ۴ و $\sqrt{10}$ سه عدد گنگ بنویسید .	۰/۷۵	
۱۱	عدد $-3 + \sqrt{5}$ را در نظر بگیرید . الف) این عدد بین کدام دو عدد صحیح متوالی قرار دارد . ب) آن را روی محور نشان دهید .	۱	
۱۲	مجموعه $A = \{x \in R \mid -2 \leq x < 3\}$ را روی محور نشان دهید .	۰/۵	
۱۳	اگر $a = 2\frac{2}{3}$, $b = -4$, $c = -5$ باشد ، مقدار عبارت زیر را به دست آورید .	۱	$ a + b + c =$
۱۴	عبارت های زیر را به ساده ترین شکل ممکن بنویسید .	۱/۵	$\sqrt{(1 - \sqrt{3})^2} =$ $ 12 - \sqrt{12} - 2\sqrt{3} - 12 =$
۱۵	آیا نتیجه گرفته شده معتبر است ؟ علی دانش آموز مدرسه رسولیان است هیچ کدام از دانش آموزان مدرسه رسولیان قبل از سال ۱۳۸۰ به دنیا نیامده اند . علی در سال ۱۳۸۲ به دنیا آمده	۰/۵	

نام و نام خانوادگی :

مدیریت آموزش و پرورش نامیه یک یزد

تاریخ امتحان : ۹۴/۱۰/۱۲


شماره دفتر کلاسی :

دبیرستان نمونه (سولیان) (دوره اول)

درس : ریاضیات

کلاس :

تعداد صفحات : ۳ برگ تعداد سوال : ۲۱ پایه : نهم وقت امتحان : ۱۰۰ دقیقه طراح : گروه ریاضی

۱	<p>۱۶ برای مسئله زیر شکل بکشید و فقط فرض و حکم بنویسید . اثبات نیاز نیست . هر نقطه روی عمود منصف یک پاره خط از دو سر پاره خط به یک فاصله است.</p> <table border="1" data-bbox="772 405 1370 577"> <tr> <td>فرض</td> <td></td> </tr> <tr> <td>حکم</td> <td></td> </tr> </table>	فرض		حکم		۱۶
فرض						
حکم						
۱	<p>۱۷ ثابت کنید دو قطر مربع مساویند . (نوشتن فرض و حکم لازم نیست) فقط شکل مناسب بکشید و استدلال کنید .</p>	۱۷				
۰/۷۵	<p>۱۸ مقیاس نقشه ای $\frac{1}{۱۰۰۰۰}$ است . اگر فاصله ی امیرچخماق تا مسجد جامع روی نقشه $۱/۲cm$ باشد فاصله ی حقیقی آن چند متر است ؟</p>	۱۸				
۲	<p>۱۹ نقاط زیر را روی محور مختصات پیدا کنید .</p> <p>مثث ABC $A = \begin{bmatrix} ۱ \\ ۲ \end{bmatrix}$ $B = \begin{bmatrix} ۱ \\ ۰ \end{bmatrix}$ $C = \begin{bmatrix} ۳ \\ ۰ \end{bmatrix}$</p> <p>مثث $A'B'C'$ $A' = \begin{bmatrix} ۳ \\ ۲ \end{bmatrix}$ $B' = \begin{bmatrix} ۳ \\ ۶ \end{bmatrix}$ $C' = \begin{bmatrix} ۷ \\ ۲ \end{bmatrix}$</p> <p>اندازه هر ضلع را پیدا کنید و مشخص کنید آیا هر دو شکل متشابه هستند؟ نسبت تشابه چند است؟</p> 	۱۹				
۱	<p>۲۰ حاصل را به صورت عددی تواندار بنویسید.</p> <p>$(\frac{1}{۲})^{-۱۰} \times ۲۷^{-۳} =$</p>	۲۰				
۱	<p>۲۱ الف) شعاع خورشید تقریباً ۶۹۵۰۰۰ کیلومتر است . این عدد را با نماد علمی نمایش دهید . ب) اندازه یک باکتری ۵×۱۰^{-۷} است . به صورت اعشاری نشان دهید .</p>	۲۱				

موفق باشید

نام و نام خانوادگی:

مدیریت آموزش و پرورش ناحیه یک یزد

تاریخ امتحان: ۹۳/۱۰/۱۴


نام درس: زبان انگلیسی پایه هفتم

دبیرستان نمونه دولتی رسولیان (دوره اول)

وقت امتحان: ۴۰ دقیقه

شماره ردیف/کلاسی:

نوبت امتحانی: نوبت اول



1) کلمات ناهماهنگ را مشخص کنید. (2)




1) kind- helpful- brave- cruel 2) talk-check- receptionist- exchange

3) my- their-our-you 4) ceremony-pay toll-festival-anniversary

2) برای تصاویر زیر عبارات و کلمات مناسب را انتخاب کنید وزیر ان بنویسید (1.5)

nervous boy- pleasant environment -check the time table

make a voyage- go out on Nature Day- Islamic Iranian Culture



3) جواب صحیح را انتخاب کنید. (2)

1) She a special food for Norooz. (wears- makes- sings)

2) My best friends study their books and help me with my lessons. They are (selfish- careless -helpful)

3) Do you eat in New Year? (nuts- stories- water)

4) He's filling out the reservation in a hotel.

(ticket- map- form)

4) ستون اول با ستون دوم جور کنید فقط حرف ستون دوم را جلوی ستون اول بنویسید. (2)

1) How are they traveling? ()

a) Yes, they like them.

2) Is your sister hard working? ()

b) No, she isn't.

3) What's your teacher like? ()

c) By train.

4) Do young children color the eggs? ()

d) Patient.

5) با توجه به تصویر املاي کلمات را کامل کنید. (1.5)




b-y a ticket



watch milit-ry par-de




take o-f



wear special clot-es



a brave sold-er



a fun-y story

6) گزینه صحیح را انتخاب کنید. (2)

1) Your brother serious in his job. (am - is - are)

2) Do they NE martyrs?

(commemorating - commemorates - commemorate)

3) Ali's the Haft Seen table. (setting - sets - set)

4) When your cousin watch fireworks? (is - does - do)

7) کلمات داده شده را در جای مناسب قرار دهید. (یک لغت اضافی است) (2)

(problem - hold - neat - trip - generous)

1) people give some money to their relatives.

2) Iranian a good ceremony on Yalda Night.

3) All the students like classrooms.

4) Before going to another country you should pack for a

8) با کلمات درهم ریخته زیر جمله بسازید. (2)

1) class/is/of/brown/the/ door/the/.

2) reading/mother/what/your/is/?/

9) در متن زیر چهار اشتباه گرامری وجود دارد انرا پیدا کنید و شکل درست انرا بنویسید. (1)

Amir is my best friend. Her job is a mechanic. He fix the car.
He likes his work and he is hardworking. Now he is at home.
He watching TV in the living room. He don't go to work on Fridays.

10) متن زیر را بخوانید و به سوالات زیر جواب دهید.

My name is Rose. I'm from Italy. I am living in Iran. I don't know anyone here. I live with my parents. I'm good at speaking English and Persian. I am working in a hotel as a receptionist. I see many tourists. They like to see Iran. I work on weekdays and I stay at home on weekends. I love my job.

الف) با توجه به متن جملات درست را با (T) و جملات غلط را با (F) مشخص کنید. (2)

- 1) Rose is originally Italian ()
- 2) She doesn't speak Persian. ()
- 3) She works all days a week. ()
- 4) She likes her job. ()

ب) با توجه به متن جواب کامل دهید. (2)

1) What do tourists like to do?

2) Where is Rose living now?

Good Luck

بسمه تعالی

لواره کتب آموزشی و پرورش (سنه ۹۵) - آموزش و پرورش ناحیه یک یزد

دیرستان پسرانه نمونه دولتی «رسولیا» دوره اول

نوبت اول - سال تحصیلی ۹۵-۹۴

و فرجه سوالات عربی سال نهم

تعداد سؤال: ۲۲ سؤال

وقت: ۶۰ دقیقه

تاریخ برگزاری آزمون: شنبه ۱۳۹۴/۱۰/۱۹

طراح: گروه عربی

نام و امضاء مصحح:

نمره:

نام دبیر:

تعداد صفحه: ۴ صفحه

نام:

نام خانوادگی:

نام پدر:

نام کلاس:

مشخصات دانش آموز

بِسْمِ اللَّهِ الرَّحْمَنِ الرَّحِيمِ

۱/۲۵	<p>۱ نام تصویر روبرو را به عربی بنویس.</p>  <p>.....</p>
۱/۲۵	<p>۲ کدام عبارت مناسب تصویر روبروست؟</p> <p>الف) الرَّصِيفُ <input type="checkbox"/> ب) تَقْتَرِبُ مِنَ الْمَطْعَمِ <input type="checkbox"/> ج) مَمَرُ الْمَشَاةِ <input type="checkbox"/> د) الْعَمَّالُ يَعْمَلُونَ <input type="checkbox"/></p> 
۰/۵	<p>۳ فقط کلمات مشخص شده را ترجمه کن.</p> <p>ا) ماصنَع النَّجَّارُ جِدَارًا حَشِييًّا بَيْنَ الْأَخْوَانِ ب) لِمَسْحَاوِلٍ؟ اِقْبَلْ مَصِيرًاكَ.</p>
۰/۵	<p>۴ ترجمه درست هر جمله را با علامت (X) مشخص کن.</p> <p>الف) هَلْ تَعْرِفُ صَدِيقِي حُسَيْنًا؟ ۱- آیا حسین ، دوستم را می شناسد؟ <input type="checkbox"/> ۲- آیا دوستم حسین را می شناسی؟ <input type="checkbox"/></p> <p>ب) هُوَ ظَنَّنَ أَنَّ الْحَمَامَةَ تَشْجَعُهُ عَلَى الْخُرُوجِ. ۱- او گمان کرد که او کبوتر را تشویق به خارج شدن می کند. <input type="checkbox"/> ۲- او گمان که کبوتر او را تشویق به خارج شدن می کند. <input type="checkbox"/></p>
۱/۷۵	<p>۵ ترجمه عبارات زیر را کامل کن.</p> <p>الف) رَسَمُوا فِيهَا عَلَامَاتِ الْمُرُورِ. « را در آن نقاشی کردند.» ب) مَاذَا تَطْلُبُ مِنِّي؟ « از من؟» ج) عَلَيَّ الذَّهَابُ لِصُنْعِهَا. « باید برای بروم.»</p>
۰/۵ ۰/۵ ۰/۵ ۰/۵ ۰/۵ ۰/۵ ۰/۵	<p>۶ جمله ها و عبارات های زیر را ترجمه کن.</p> <p>الف) أَذْكَرُّرَتِي عِنْدَ جُلُوسِي. ب) الشَّوَارِعُ مَمْلُوءَةٌ بِالْبَنِينَ وَالْبَنَاتِ. ج) هُوَ وَكَذَلِكَ وَهَادِي. د) عِنْدِي مُشْكَلَةٌ وَحَلَّهَا بِيَدِكَ. ه) فَأَصَابَتْ سَفِينَتُهُمْ صَخْرَةً. و) رَأَيْنَا دُخَانًا مِنْ بَعِيدٍ، فَأَتَيْنَا. ز) حَاوَلَ الثَّعْلَبُ وَالْفَرْزَالَةُ لِلنَّجَاةِ.</p>

۷	احادیث و عبارات های قرآنی زیر را ترجمه کن. الف) قَوْلُ لَا أَعْلَمُ نَصْفُ الْعِلْمِ. ب) لَمْ تَقُولُوا مَا لَا تَفْعَلُونَ. ج) لِكُلِّ شَيْءٍ طَرِيقٌ وَطَرِيقُ الْجَنَّةِ الْعِلْمُ د) لَا يَنْظُرُ اللَّهُ إِلَى قَاطِعِ الرَّحِمِ وَجَارِ السَّوِّءِ.	۰/۱۵ ۰/۱۵ ۰/۱۵ ۰/۱۵
۸	از بین کلمات داده شده ، کلمات مترادف و متضاد را پیدا کن و در جاهای مناسب بنویس. « جَمَالٌ ، صِغَرٌ ، سَقَاوَةٌ ، عِنْدَمَا ، تَامِيذٌ ، كِبَرٌ ، ثَقِيلٌ ، لَمَّا ، شِرَاءٌ ، ≠ = »	۰/۱۵
۹	در هر ردیف ، کدام کلمه از نظر معنایی با بقیه کلمات ناهماهنگ است؟ الف) أُسْبُوعٌ ○ شَهْرٌ ○ ذَهَبٌ ○ سَنَةٌ ○ ب) جَامِعَةٌ ○ فَكِهَةٌ ○ مَكْتَبَةٌ ○ مَلْعَبٌ ○	۰/۱۵
۱۰	وزن کدام کلمه نادرست است؟ الف) نَصَادُمَاتٌ : تَفَاعُلَاتٌ ○ ب) اِفْتِخٌ : اِفْعَلٌ ○ ج) اَمِيرٌ : فَعِيلٌ ○ د) مَحَافِظَةٌ : مُعَاقَلَةٌ ○	۰/۱۵
۱۱	حروف اصلی کلمات زیر را بنویس. الف) مَنَشُورٌ : ب) يَتَدَيُّ :	۰/۱۵
۱۲	از میان فعل های داخل کمانک ، فعل ماضی و مضارع مناسب را انتخاب کن و در جای خالی بنویس. الف) وَالِدِي إِلَى مَكَّةَ الْمُكْرَمَةِ عَدَاً . (يَذْهَبُ ، ذَهَبَ ، تَذْهَبُ ، ذَهَبْتَ) ب) الَّذِينَ يَجْعَلُونَ مَعَ اللَّهِ إِلَهًا آخَرَ فَسَوْفَ (عَلِمُوا ، تَعَامُونَ ، عَلِمْتُمْ ، يَعَامُونَ)	۰/۱۵
۱۳	با توجه به تصویر ، فعل امر مناسب را از میان فعل های داخل کمانک انتخاب کن و در جای خالی بنویس. (اِجْتَمَعُوا ، اِجْتَمَعِي ، اِجْتَمَعَا ، اِجْتَمَعْتِ) «..... عَنِ الْجَوَابِ فِي الْكِتَابِ.»	۱/۲۵ 
۱۴	فعل امر و نهی مناسب را انتخاب کن و در جای خالی بنویس. الف) يَا مُحَمَّدُ ، دُرُوسَكَ فِي وَقْتِهَا . (اِقْرَأْ ، لَا تَقْرَأْ ، اِقْرَأِي ، لَا تَقْرَأِي) ب) يَا أَصْدِقَانِي ، رَجَاءٌ مِنَ الْخَافِلَةِ . (اَنْزِلْنِي ، اَنْزِلَا ، اَنْزِلِي ، اَنْزِلُوا) ج) يَا أُخْتِي ، شَيْئًا عَلَى الشَّجَرِ . (اَكْتُبِي ، لَا تَكْتُبِي ، لَا تَكْتُبِي ، اَكْتُبْ)	۱/۷۵
۱۵	به سؤالات زیر پاسخ ده. الف) فِي أَيِّ صَفِّ أَنْتِ ؟ ب) يَمْشِي إِلَى مَدِينَةِ مَشْهَدٍ ؟	۰/۱۵

<p>۰/۵</p>	<p>۱۶ هر یک از گزینه های ستون «الف»، را به گزینه ی مناسبی در ستون «ب» وصل کن. (دو گزینه اضافی است)</p> <p style="text-align: center;">«الف» المواصلة الفرج الجامعة الجسر</p> <p style="text-align: center;">«ب» مكان تعبر منه السيارة. حل الصعاب والمشكلات.</p>
<p>۰/۵</p>	<p>۱۷ از بین کلمات داخل کمانک ، کلمه مناسب را انتخاب کن و در جای خالی هر جمله بنویس.</p> <p>(تَلْمِيذٌ / لَا تَلْبَسُ / حَدَثٌ / فَخَزْنَا / الدُّمُوعُ / غَضَبَانُ / حَسِبَ)</p> <p>الف) الْبَسَ قَمِيصًا أَيْضًا فِي اللَّيْلِ لِعُبُورِ الشَّارِعِ وَ..... أَسْوَدَ.</p> <p>ب) جَارِيَةٌ عَلَى وَجْهِ الطِّفْلِ.</p>
<p>۱</p>	<p>۱۸ درستی یا نادرستی جملات زیر را بر اساس واقعیت مشخص کن.</p> <p>الف) الْإِنْسَانُ صَانِعُ كُلِّ مَتَّصِنُوعٍ. <input type="checkbox"/> ص <input type="checkbox"/> غ</p> <p>ب) فِي الصَّحِيفَةِ أَخْبَارٌ وَمَعْلُومَاتٌ أُخْرَى. <input type="checkbox"/> ص <input type="checkbox"/> غ</p> <p>ج) الْغَابَةُ أَرْضٌ وَاسِعَةٌ فِيهَا أَشْجَارٌ كَثِيرَةٌ. <input type="checkbox"/> ص <input type="checkbox"/> غ</p> <p>د) الْعَالِمُ الْحَقِيقِيُّ لَا يَكْتُمُ عِلْمَهُ. <input type="checkbox"/> ص <input type="checkbox"/> غ</p>
<p>۱</p>	<p>۱۹ متن زیر را با دقت بخوان ، سپس پاسخ هر سؤال را با علامت (X) مشخص کن.</p> <p>السَّيِّدُ يُوَسِّفُ مَوْطِفٌ فِي مُنْظَمَةِ الْعَمَلِ. يَذْهَبُ إِلَى إِدَارَتِهِ فِي الصَّبَاحِ وَيَرْجِعُ إِلَى الْبَيْتِ بَعْدَ الظُّهْرِ. هُوَ مُنْظِمٌ وَدَقِيقٌ فِي عَمَلِهِ. يَكْتُبُ رَسَائِلَ إِدَارِيَّةً بِدِقَّةٍ لَهُ وَآدَانِ: عَلِيُّ وَحُسَيْنٌ. عَلَى تَخْرُجَ مِنَ الْمَدْرَسَةِ وَالْآنَ شُرْطَى الْمُرورِ حُسَيْنٌ أَصْغَرُ مِنَ عَلِيٍّ، هُوَ طَالِبٌ مِنْ طُلَّابِ جَامِعَةِ يَزْدَ. هُمُ مِنَ مَدِينَةِ «كَاشَانَ» فِي مُحَافَظَةِ إِصْفَهَانَ.</p> <p>الف) مِنْ أَيْنَ هَذِهِ الْأُسْرَةُ؟ ب) مَنْ تَخْرُجَ مِنَ الْمَدْرَسَةِ؟</p> <p>ج) فِي أَيِّ إِدَارَةٍ يَعْمَلُ السَّيِّدُ يُوَسِّفُ؟ د) أَيْنَ يَدْرُسُ حُسَيْنٌ؟</p>
<p>/۲۵</p>	<p>۲۰ از میان ضمایر داخل کمانک ، ضمیر مناسب را انتخاب کن.</p> <p>«..... مَانْفَعٌ» (نَحْنُ، أَنَا، هُوَ، هُمَا)</p>
<p>۳</p>	<p>۲۱ نمره روان خوانی: + * + * + این قسمت توسط دبیر محترم و با توجه به آزمون شفاهی تکمیل می شود.</p>
<p>۲</p>	<p>۲۲ نمره مکالمه: + * + * + این قسمت توسط دبیر محترم و با توجه به آزمون شفاهی تکمیل می شود.</p>

نام و نام خانوادگی:

بسمه تعالی

تاریخ امتحان ۹۴/۱۰/۲۲

سوال درس: علوم تجربی

مدیریت آموزش و پرورش ناحیه یک یزد

مدت پاسخگویی: ۷۰ دقیقه

کلاس: نهم

دبیرستان نمونه رسولیان (دوره اول)

ساعت امتحان

۱) جملات زیر را با کلمات مناسب کامل کنید. (۱ نمره)

- الف) برای تشکیل یک مولکول آب هر اتم اکسیژن الکترون به اشتراک می گذارد. (یک - دو)
ب) هر چه عمق مایع بیشتر شود فشار مایع میابد. (کاهش - افزایش)
ج) وقتی به جسم ساکن نیرو وارد شود و حرکت نکند نیروهای وارد بر آن هستند. (خالص - متوازن)
د) مناسب ترین راه از بین بردن زباله های پلاستیکی است. (بازگردانی - سوزاندن)

۲) گزینه مناسب را انتخاب کنید. (1/25 نمره)

A - کدام عنصر زیر با $15P$ در یک گروه قرار دارد؟

- الف : $12Mg$ ب : $7N$ ج : $16S$ د : $18Ar$

B- عددی که کیلومتر شمار اتومبیل نشان می دهد معرف چه کمیتی است؟

- الف : تندى متوسط ب : شتاب متوسط ج : تندى لحظه ای د : شتاب لحظه ای

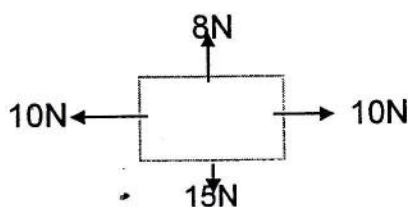
C- با حرارت دادن در ظرف در بسته ماده تولید می شود.

- الف : اتن - پلاستیک ب : اتان - الیاف ج : پلی تن - اتن د : اتین - پلاستیک

D- کدام روغن زیر آسان تر جاری می شود؟ (گران روی کمتری دارد)

- الف: $C_{12}H_{24}$ ب: $C_{24}H_{50}$ ج: $C_{17}H_{36}$ د: $C_{20}H_{42}$

F- برابند نیروهای وارد بر جسم A چند نیوتون است و جسم به کدام جهت حرکت می کند



- الف: $20N$ - به طرف پایین ب: $23N$ - به طرف بالا

- ج: $7N$ - به طرف پایین د: $18N$ - به طرف چپ

۱۰) لورازیا شامل کدام سرزمین های امروزی می شود؟ (دومورد) (۰/۵ نمره)

۱۱) دو مورد از شواهد وگنر برای متصل بودن قاره ها را بنویسید. (۰/۵ نمره)

- مسأله های زیر را حل کنید. (تذکر: در حل مسأله نوشتن فرمول و یکا الزامی است)

۱۲) متحرکی در مدت ۲ ثانیه ۱۲ متر به طرف غرب و در مدت ۱ ثانیه ۵ متر به طرف جنوب می رود. (۱/۵ نمره)
الف) تندی متوسط را حساب کنید.

ب) سرعت متوسط را حساب کنید.

۱۳) موتور سواری در یک مسیر مستقیم در مدت ۸ ثانیه سرعت را از ۲۰۰ کیلومتر بر ساعت به ۵۶ کیلومتر بر ساعت می رساند شتاب موتور را بر حسب متر بر ثانیه حساب کنید. (۱ نمره)

۱۴) یک بلوک آجری به ابعاد ۲۰ و ۱۰ و ۴۰ سانتی متر به جرم ۸ کیلوگرم روی زمین قرار دارد بیشترین فشار وارد بر زمین چقدر است؟ (۱ نمره)

۱۵) اتومبیلی ۲۰۰۰ کیلوگرمی از حالت سکون در مدت ۲۰ ثانیه به سرعت 300m/s می رسد نیروی خالص وارد بر اتومبیل چه قدر است؟ (۱ نمره)

(موفق باشید)

نام و نام خانوادگی:	بسمه تعالی	تاریخ امتحان : ۹۴/۱۰/۹
سوال درس: قرآن	مدیریت آموزش و پرورش ناحیه یک یزد	مدت پاسخگویی: ۳۰ دقیقه
پایه : نهم	دبیرستان پسرانه نمونه دولتی رسولیان (دوره اول)	ساعت امتحان:
کلاس-ردیف :		تعداد سوال : ۵ سوال
		تعداد صفحه

ردیف	سوالات	بارم
۱	با استفاده از کلمات داده شده جدول زیر را کامل کنید؟ «مفرد مذکر، شاید، پند، یاد، پاداش، ترس، اندازه»	انمره
	ذکر: عسی: خوف: قدر:	
۲	درست یا نادرست بودن گزینه ها را با علامت × مشخص کنید؟ الف) اِنْ شَاءَ اللّٰهَ : اگر خواست خدا <input type="radio"/> اگر بخواهد خدا <input type="radio"/> ب) اِنْ كُنْتُمْ مُؤْمِنِيْنَ : اگر باشید مومن <input type="radio"/> اگر بودید مومن <input type="radio"/> ج) وَ لَئِنْ سَأَلْتَهُمْ : و اگر پرسیدی از آنها <input type="radio"/> و اگر بپرسی از آنها <input type="radio"/>	۵/۱ انمره
۳	معنی کلمه «مَنْ خَلَقَ» کدام است؟ الف) چه کسی آفرید <input type="radio"/> ب) هر کس آفرید <input type="radio"/> ج) هر کسی می آفریند <input type="radio"/> د) از آفرینش <input type="radio"/>	۵/۰ انمره
۴	معنای ترکیب های و عبارات قرآنی را بنویسید؟ الف) لَيَقُوْنُ لَنْ خَلَقْنَهُ الْعَزِيْزُ الْعَلِيْمُ : ب) وَ لَقَدْ يَسْرُنَا الْقُرْآنُ لَلذِّكْرِ : ج) عَسَى اَنْ يَكُوْنُوْا خَيْرًا مِنْهُمْ : د) سَوَاءٌ مَحْيَاهُمْ وَمَمَاتُهُمْ : و) قَالُوْا رَبَّنَا اللّٰهُ : ز) فِى جَنَّتٍ وَ عِيُوْنٍ : ه) اَنْزَلَ السَّكِيْنَةَ	۶/۷۵ نمره
۵	در کدام عبارت «مِنْ» هیچ معنا می شود ؟ الف) لَا يَسْخَرُ قَوْمٌ مِنْ قَوْمٍ <input type="checkbox"/> ب) فَهَلْ مِنْ مُدْكِرٍ <input type="checkbox"/> ج) كَانُوْا قَلِيْلًا مِّنَ اللَّيْلِ مَا يَهْجَعْنَ <input type="checkbox"/>	۰/۲۵ نمره
	موفق باشید	

نام و نام خانوادگی:

مدیریت آموزش و پرورش ناحیه یک یزد

تاریخ امتحان: ۹۴/۱۰/۱۴

نام درس: مطالعات اجتماعی

دبیرستان نمونه دولتی رسولیان (دوره اول)

وقت امتحان: ۴۵ دقیقه

شماره ردیف/کلاسی:

نوبت امتحانی: نوبت اول

امضاء دبیر:

نمره به حروف:

نمره به عدد:

نام و نام خانوادگی دبیر:

ردیف پیام: «به احترام پدرت و معلمت از جا برخیز اگر چه فرمانروا باشی» امام علی (ع)

۳	الف) گزینه صحیح را انتخاب کنید. (هر مورد ۰/۵ نمره) ۱- بزرگترین سیاره درونی منظومه شمسی چه نام دارد؟ الف- ناهید <input type="radio"/> ب- زمین <input type="radio"/> ج- تیر <input type="radio"/> د- مریخ <input type="radio"/> ۲- هریک از قاچ ها بر روی کره زمین چند درجه پهنا دارد؟ الف- ۲۴ درجه <input type="radio"/> ب- ۳۶۰ درجه <input type="radio"/> ج- ۷/۵ درجه <input type="radio"/> د- ۱۵ درجه <input type="radio"/> ۳- منابع سرشار از نفت و گاز در چه بخشی از بستر اقیانوس ها وجود دارد؟ الف- گودال اقیانوس <input type="radio"/> ب- دشت اقیانوس <input type="radio"/> ج- فلات قاره <input type="radio"/> د- شیب قاره <input type="radio"/> ۴- کدام پادشاه موفق شد حکومت صفوی را تثبیت و تحکیم کند. الف- شاه عباس اول <input type="radio"/> ب- شاه تهماسب <input type="radio"/> ج- شیخ صفی الدین <input type="radio"/> د- شاه اسماعیل <input type="radio"/> ۵- کدام پادشاه لقب وکیل الرعایا را برای خود برگزید؟ الف- کریم خان زند <input type="radio"/> ب- نادرشاه <input type="radio"/> ج- شاه اسماعیل <input type="radio"/> د- آقامحمدخان <input type="radio"/> ۶- در زمان چند عهدنامه میان ایران و انگلستان بسته شد. الف- ناصرالدین شاه <input type="radio"/> ب- احمدشاه <input type="radio"/> ج- فتحعلی شاه <input type="radio"/> د- کریم خان <input type="radio"/>
۲/۵	ب کدامیک از گزینه ها صحیح و کدامیک غلط است مشخص کنید. ۷- سیاره بهرام یا مریخ یک قمر به نام ماه دارد. <input type="radio"/> <input type="radio"/> ۸- طول جغرافیایی هر مکان عبارتند از فاصله آن مکان با نصف النهار مبدأ بر حسب درجه <input type="radio"/> <input type="radio"/> ۹- به بخش خارجی کره زمین که حالت جامد دارد و از سنگ تشکیل شده زیست کره می گویند. <input type="radio"/> <input type="radio"/> ۱۰- هر چه از سطح زمین بالاتر برویم فشار هوا کم می شود. <input type="radio"/> <input type="radio"/> ۱۱- تقریباً تمام جنگل های کشور کانادا از نوع توندرا می باشد. <input type="radio"/> <input type="radio"/>
۳	ج در جاهای خالی کلمات مناسب بنویسید. ۱۲- به نیم دایره های فرضی که از قطب شمال تا قطب جنوب کشیده شده است می گویند. ۱۳- در دو موقع از سال یعنی و درازای روز و شب برابر می شوند. ۱۴- مهاجرت روستاییان به شهرها یا مهاجرت کارگران فصلی در داخل کشور مهاجرت می گویند. ۱۵- حکومت صفوی در زمان سقوط کرد. ۱۶- مهمترین مستعمره انگلستان بود.
۰/۵	د به سوالات زیر پاسخ دهید. ۱- سال کیسه یعنی چه؟