

نمره پایانی	نمره شفاهی (۵)	نمره شنیداری (۵)	نمره نوشتاری (۱۰)

۱- مینا و مریم به تصاویر زیر نگاه می کنند و در مورد درست و نا درست بودن جملات گفت و گو می کنند. پیشنهاد شما چیست؟ (۱ نمره)



1-I have a headache.

2-I have a backache.



1-It's an airport

2-It's a train station.



1-He's good at drawing.

2-He can take good photos.



1-It's snowy.

2-It's sunny.

۲- امیر در مورد توانایی های خود و خانواده اش صحبت می کند. با توجه به تصاویر صحبت او را کامل کنید. (۱ نمره)



There are four people in my family. My father is good at

And my mother can I'm good at and my brother can



۳- بچه ها مراقب خود باشید. زهرا بیمار است. او بیماری خود را با معلم در میان گذاشته با کامل کردن جملات متوجه بیماری او و توصیه معلم شوید. (۱ نمره) (یک کلمه اضافی است)

Zahra: Excuse me, madam. I can't in the classroom.

Teacher: What's the , Zahra?

Zahra: I think I have a

Teacher: Oh, yes, you have sore eyes, too. you should go home and

cold - rest -
matter -
bring - stay

۸-دانش آموزان عزیز در کتاب در مورد پاسخ به سوالات زیر آموخته اید. اکنون محبت کنید برای یاد آوری جواب سوالات را مشخص کنید.

(با ذکر حروف) یک پاسخ اضافی است. (۱/۲۵ نمره)

- | | |
|---|----------------------|
| 1- When do you go shopping? <input type="radio"/> | a - Sore throat. |
| 2- What do you do as a hobby? <input type="radio"/> | b - For its flowers. |
| 3- What's the weather like? <input type="radio"/> | c - On Saturdays. |
| 4-What's the problem? <input type="radio"/> | d - Raising animals. |
| 5-What's the people's job? <input type="radio"/> | e - Watching T.V . |
| | f - Hot and dry |

۹-رایانه شما ویروسی شده و محتوای فایل ها به هم ریخته شما باید در هر فایل کلمه نا مربوط را حذف کنید.
(۰/۷۵ نمره)

- ability \Rightarrow type - draw a picture - play tennis - week
city \Rightarrow metro - tractor - museum - stadium
animal \Rightarrow dog - horse - tree - chicken

**الهی: غم ها با یاد تو سرور است
و شادیهها با یاد تو غرور.**

**Sorrows are joyful with the memory of you
And happiness is delusion without the sight of you.**

۱- به مکالمه بین فریبا و مادرش گوش کنید و جدول را کامل کنید. (۱ نمره)

health problem	health advice

۲- به متن گوش کنید و جدول را کامل کنید. (۲ نمره)

name	ability	hobby	free time activity

۳- به متن گوش کنید و جدول را کامل کنید. (۱ نمره)

name of the village	location	What's it like?	famous for

۴- به جملات گوش کنید و شماره مربوط به هر تصویر را زیر آن بنویسید. (۱ نمره)



۴- سا را خود را معرفی می کند به گفته های او توجه کنید و سپس موارد خواسته شده را در جدول کامل کنید. (۱/۲۵)

I'm Sara. I am from Iran, but I live in Paris. I work in a hospital. I am a nurse.

I can work with a computer well. I read stories as a hobby and walk in the park in my free time.


nationality	job	ability	hobby	free time activity

۵- سلمان در مورد شهر خود کرج صحبت می کند. با استفاده از کلمات داده شده صحبت او را کامل کنید. (۱/۵ نمره)

buildings-weekends-restaurants-climb-centers-near

My name is Salman. I live in Karaj. It's the capital. There are many new in my city. For example: shopping, universities, parks and Ziba Dasht is a village in the west of Karaj. My family and I go there on the We a mountain there.

۶- معلم امیر تعدادی فلش کارت تصویر و کلمه به او داده تا آنها را با هم جور کند. با نوشتن شماره هر تصویر به او کمک کنید. (۱/۲۵ نمره)



1-ride a horse 2-play chess 3-snowy 4-shrine 5-stomachache

۷- دانش آموزان عزیز شما با شهرهای ایران آشنا می باشید. درستی و نادرستی جملات زیر را مشخص کنید. (۱ نمره)

- 1-Isfahan is in the center of Iran.
- 2-Tehran isn't the capital of Iran.
- 3-Yazd is famous for its old mosques.
- 4-Bandar Abbas is in the north of Iran.

متن شنیداری پایه هشتم ۹۷/۳/۵

برای دانش آموزان زیراکس نشود.

۱- به مکالمه فریبا و مادرش گوش کنید و جدول را کامل کنید... (۱نمره)

Fariba: Mom, I can't study my lessons.

Mom: What's wrong?

Fariba: I have a headache.

Mom: O.K. You should see a doctor.

۲- به متن گوش کنید و جدول را کامل کنید. (۲نمره)

This is my cousin, Behnam. He's good at riding a horse. He watches TV as a hobby and he listens to the radio in his free time.

۳- به متن گوش کنید و جدول را کامل کنید. (۱نمره)

Aliabad is a village in the south of Yazd. It's a mountain village with a lot of trees and it is famous for its flowers.

۴- گوش کنید و شماره هر تصویر را زیر آن بنویسید. (۱نمره)

1- He has a toothache.

2- It's rainy today.

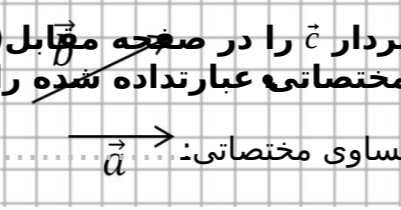

3- He is Chinese.

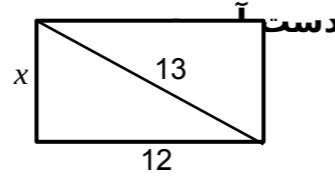
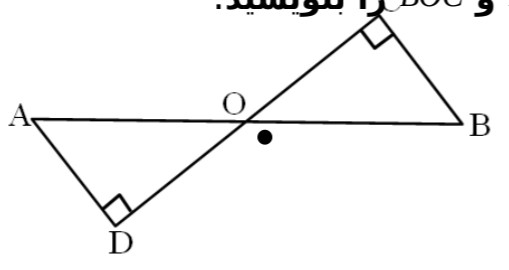
4- I go to the library on Sundays.

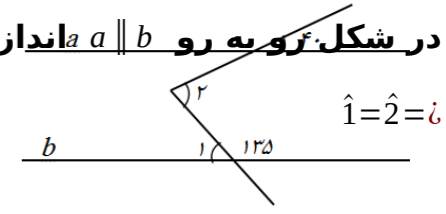
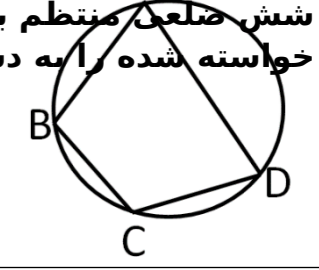
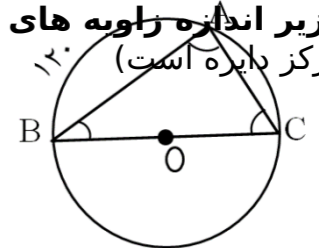
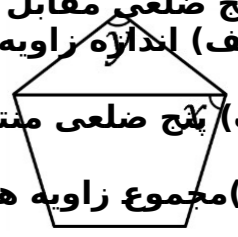


سوال‌ات ارزشیابی نوبت: دوم	مدیریت آموزش و پرورش ناحیه یک یزد دبیرستان نمونه دولتی رسولیان دوره اول			نام خانوادگی	نام
	مهر آموزشگاه				
درس: ریاضیات	مدت امتحان 90 دقیقه	تاریخ آزمون / 3 / 7 97	جمع نمره:		
تعداد صفحه و سوال : 4 صفحه 17 سوال					

ردیف	بارم	« هر جایی راهی دارد و راه بهشت دانش است. پیامبر(ص) »
1	1	درستی یا نادرستی هر یک را با $\sqrt{\quad}$ یا \times مشخص کنید. 1. مثلثی که اضلاع آن 6 و 8 و 10 باشد، قائم الزویه است. <input type="checkbox"/> 2. متوازی الاضلاع شکلی است که مرکز تقارن و محور تقارن دارد. <input type="checkbox"/> 3. اگر تمام اضلاع دو شکل برابر باشند، آن دو شکل هم نهشت اند. <input type="checkbox"/> 4. هر نقطه بر روی نیم سازه یک زاویه از دو ضلع زاویه به یک فاصله است. <input type="checkbox"/>
2	1	در جای خالی عدد یا کلمه ی مناسب بنویسید. الف) حاصل $\sqrt{4+\sqrt{25}}$ برابر می باشد. <input type="checkbox"/> جذر $\sqrt{16}$ مساوی می شود. <input type="checkbox"/> ج) 25% عدد 4^9 مساوی 4 به توان است. <input type="checkbox"/> د) عددهای $\sqrt{12}$ و $2\sqrt{\quad}$ برابرند. <input type="checkbox"/>
3	1	گزینه صحیح را انتخاب کنید. 1. میانگین 4 نمره 5/17 می باشد. اگر دو نمره 20 و 18 را به آنها اضافه کنیم، میانگین 6 نمره کدام است؟ الف) 25/18 <input type="checkbox"/> ب) 18 <input type="checkbox"/> ج) 19 <input type="checkbox"/> د) 5/18 <input type="checkbox"/> 2. بر روی کارت هایی یکسان اعداد 21 و 22 و 23 و ... و 40 را نوشته ایم. به طور تصادف یک کارت را انتخاب می کنیم. با کدام احتمال عدد روی کارت مضرب 5 می باشد؟ الف) $\frac{1}{3}$ <input type="checkbox"/> ب) $\frac{1}{4}$ <input type="checkbox"/> ج) $\frac{1}{5}$ <input type="checkbox"/> د) $\frac{2}{5}$ <input type="checkbox"/> 3. اگر بردار $\vec{a}=3i-2j$ و $\vec{b}=i+j$ باشد، مختصات بردار $\vec{c}=-\vec{a}+\vec{b}$ کدام گزینه است؟ الف) $\begin{bmatrix} -1 \\ 1 \end{bmatrix}$ <input type="checkbox"/> ب) $\begin{bmatrix} 1 \\ -1 \end{bmatrix}$ <input type="checkbox"/> ج) $\begin{bmatrix} 2 \\ -3 \end{bmatrix}$ <input type="checkbox"/> د) $\begin{bmatrix} -2 \\ 3 \end{bmatrix}$ <input type="checkbox"/> 4. در شکل زیر O مرکز دایره است. مثلث های OAC و OBD بنا به کدام حالت هم نهشت هستند؟ الف) (ز ض ز) <input type="checkbox"/> ب) (ض ز ض) <input type="checkbox"/> ج) (و ض) <input type="checkbox"/> د) (و ز) <input type="checkbox"/>

4	2	مختصات \vec{x} را به دست آورید. $\begin{bmatrix} -3 \\ 8 \end{bmatrix} + 4\vec{x} = -3 \begin{bmatrix} 5 \\ -4 \end{bmatrix}$ بردار \vec{c} را در صفحه مقابل (از نقطه مشخص شده) رسم کنید و سپس تساوی مختصاتی عبارت داده شده را بنویسید. $\vec{c} = \vec{a} + \vec{b}$ تساوی مختصاتی: 												
5	5/1	حاصل هر عبارت را به دست آورید. الف) $\left[\left(\frac{-5}{16} \right) + \frac{7}{12} \right] \div \left(\frac{-3}{4} - \frac{1}{3} \right) = \text{؟}$ ب) $1\frac{1}{20} + 1\frac{2}{20} + 1\frac{3}{20} + \dots + 1\frac{15}{20} = \text{؟}$												
6	2	جدول زیر را کامل کرده و سپس میانگین را حساب کنید. <table border="1" style="display: inline-table; margin-left: 20px;"> <tr> <td>$12 \leq x < 18$</td> <td></td> <td></td> <td></td> </tr> <tr> <td>$18 \leq x \leq 24$</td> <td></td> <td></td> <td></td> </tr> <tr> <td>جمع</td> <td>۱۰</td> <td>-</td> <td></td> </tr> </table>	$12 \leq x < 18$				$18 \leq x \leq 24$				جمع	۱۰	-	
$12 \leq x < 18$														
$18 \leq x \leq 24$														
جمع	۱۰	-												
7	1	الف) در تعیین اعداد اول از عدد 1 تا عدد 100 (به روش غربال)، 77 چندمین عددی است که خط می خورد؟ ب) عدد 113 مرکب است یا اول؟ چرا؟												
8	5/0	الف) عدد $-5 + \sqrt{12}$ بین کدام دو عدد صحیح متوالی قرار دارد؟ ب) نقطه A نمایش کدام عدد روی محور می باشد؟ 												
9	1	حاصل هر عبارت را به صورت یک عدد توان دار بنویسید. $(7^5 + 7^5 + 7^5) \times 9^2 = \text{؟}$ $\frac{8^9 \times 9^8}{8^5 \times 9^{12}} = \text{؟}$												

1	<p>اگر طول مستطیل 12 و قطر آن 13 سانتی متر باشد، مساحت مستطیل را به دست آورید.</p> 	1 6
1	<p>در شکل مقابل نقطه O وسط پاره خط AB قرار دارد. دلیل هم نهشتی دو مثلث AOD و BOC را بنویسید.</p> 	1 7
« موفق باشید »		

1	<p>حاصل هر عبارت را بنویسید.</p> $\sqrt{16+3\sqrt{25-16}}=\sqrt{49 \times 0/36}=i$	1 0
25 /2	<p>الف) عبارت جبری مقابل را ساده کنید.</p> <p>ب) به کمک تجزیه ی صورت و مخرج، کسر زیر را ساده کنید.</p> $\frac{6a^2b-4a^2c}{3ab-2ac}=i$ <p>ج) معادله زیر را حل کنید.</p> $\frac{x-2}{3}-\frac{3}{4}=\frac{1}{4}$	1 1
1	<p>در شکل زیر دو خط موازی $a \parallel b$ اندازه زاویه های خواسته شده را بنویسید.</p> 	1 2
1	<p>اگر AB یک وتر از پنج ضلعی منتظم و BC یکی از اضلاع شش ضلعی منتظم باشد، اندازه کمان ها و زاویه های خواسته شده را به دست آورید.</p> <p>$\hat{B} =$ $\widehat{AB} =$</p> <p>$\hat{D} =$ $\widehat{BC} =$</p> 	1 3
75 /.	<p>در شکل زیر اندازه زاویه های مثلث ABC را بنویسید.</p> <p>(نقطه O مرکز دایره است)</p>  <p>$\hat{B} =$</p> <p>$\hat{C} =$</p>	1 4
1	<p>پنج ضلعی مقابل منتظم است.</p> <p>الف) اندازه زاویه های مجهول را بنویسید. $x=y=i$</p> <p>ب) پنج ضلعی منتظم چند خط تقارن دارد؟</p> <p>ج) مجموع زاویه های خارجی هر پنج ضلعی چند درجه است؟</p> 	1 5

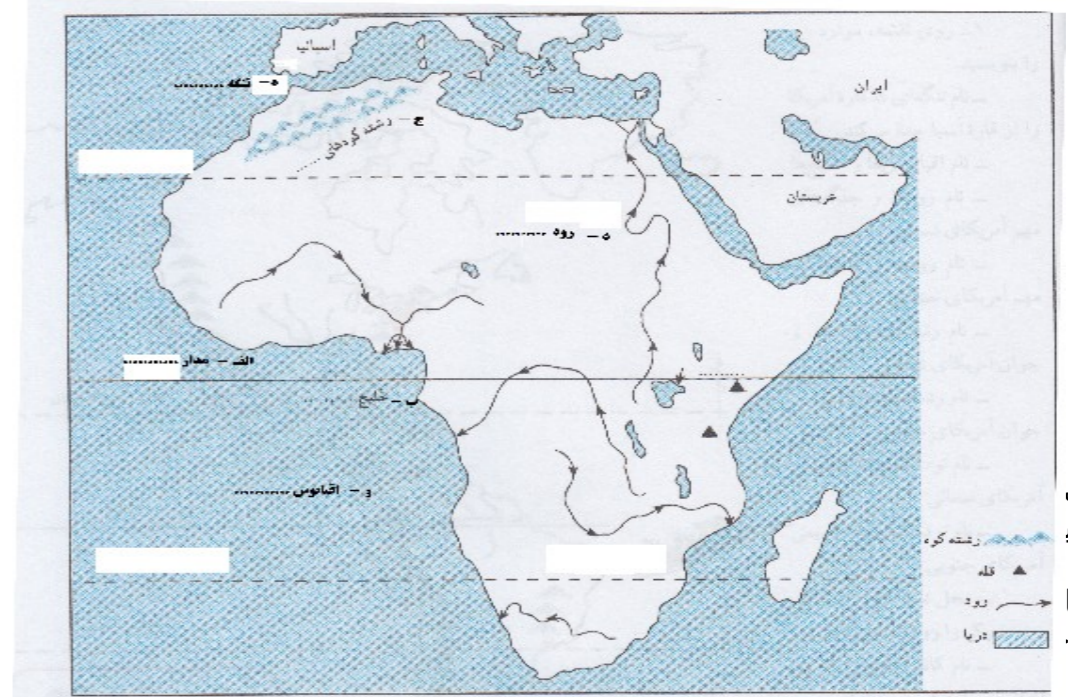
باسمه تعالی

مهر آموزشگاه	مدت امتحان	مدیریت آموزش و پرورش ناحیه یک یزد دبیرستان نمونه دولتی رسولیان دوره اول			سوالات ارزشیابی نوبت:		
	50 دقیقه				درس: مطالعات اجتماعی		
	تاریخ آزمون	تعداد صفحه و سوال : صفحه 26 سوال		نام	نام خانوادگی	کد دانش آموزی	پایه
	3 / 9 97						
	جمع نمره:						

بارم	متن سوال	ردیف
5/0	1- ساسانیان در جنگ های و از سپاهیان مسلمان شکست خوردند.	فصل 1 تا 6
5/0	2- حضرت علی (ع) در جنگ صفین به مقابله با سپاهیان معاویه رفت. صحیح	
1	3- سلسله های ایرانی را از نظر رابطه با خلیفه عباسی و به قدرت رسیدن با هم مقایسه کنید.	
1	4- دو مورد از مهمترین منابع درآمدی دولت را بنویسید.	
1	5- چرا پایه های حکومت خوارزمشاهیان چندان محکم نبود 2 دلیل بیاورید.	
5/0	6- هدف سلطان محمود غزنوی از لشکرکشی به هند چه بود؟	فصل 7
5/0	7- وزیر طغرل خواجه نظام الملک بود. صحیح غلط	
5/0	8- یکی از کارهای ارزشمند خواجه نصیرالدین طوسی تشویق هلاکوبه ساخت بود.	
5/0	9- گنبد سلطانی که یکی از شاهکارهای معماری در جهان اسلام است توسط چه کسی ساخته شد؟	فصل 8
5/0	الف- غازان خان ب- سلطان محمد خدابنده ج- ابوسعید د- بایسنقر	
1	10- چهار مورد از پیامدهای حمله چنگیز به ایران را بنویسید.	
5/0	11- جلگه بزرگ چین در غرب آسیا از آبرفت رودیانگ تسه کیانگ بوجود آمده است. صحیح	فصل 9

5/0	12- قاره آسیا از طریق از آمریکای شمالی جدامی شود. غلط	فصل 10
5/0	13- متراکم ترین ناحیه کره زمین از نظر جمعیت کجاست؟ الف. چین ب. هند ج. جزیره جاوه د. موارالف وب	
1	14- دلتا چیست؟ مثال بزنید.	
1	15- برهه های اقتصادی آسیا را نام ببرید. (چهار مورد)	
5/0	16- کمبود آب شیرین یکی از مسائلی مهم منطقه ی جنوب غرب آسیا است. صحیح غلط	فصل 11
5/0	17 - کدامیک از کشورهای زیر توانسته اند از طریق رونق تجارت و بازرگانی اقتصاد خود را متحول کنند الف-ترکیه-امارات ب-ترکیه-عربستان ج-عربستان-قطر د-امارات-بحرین	
1	18- ویژگی آب و هوای مدیترانه ای را بنویسید.	
5/1	19- چرا جنوب غرب آسیا منطقه ای پرتنش است؟ 3 مورد	
1	20- اروپای پیرو جوان را با هم مقایسه کنید.	فصل 12
1	21- چرا کناره های آفریقا برای ساخت بندر و پهلو گرفتن کشتی مناسب نیست؟	
5/0	22- جلگه استرالیا از آبرفت رود بوجود آمده است.	فصل 12
5/0	23- دو بندر مهم استرالیا را نام ببرید.	
5/0	24- در آمریکای شمالی بیابان کالاهاری قرار دارد. صحیح غلط	
1	25- اهمیت حفر کانال پاناما چیست؟	

26- باتوجه به نقشه به سوال زیر پاسخ دهید :



نقشه

الف
آفریقا
ج-نا
رود

5/1

و-
کند؟

20

پیروز باشید

جم
ع

باسمه تعالی

مهر آموزشگاه	مدت امتحان	مدیریت آموزش و پرورش ناحیه یک یزد دبیرستان نمونه دولتی رسولیان دوره اول			سوالات ارزشیابی نوبت: دوم	
	40 دقیقه				درس: قرآن	
	تاریخ آزمون			تعداد صفحه و سوال : 2 صفحه 5 سوال		
	97/ 3 / 10	پایه	کد دانش آموزی	نام خانوادگی	نام	
	جمع نمره:					

بار م	متن سوال	ردیف
2	معنای کامات زیر را بنویسید. لايُخْلِفُ : داعی : يَعْرُجُ : طُولُ : يُوتُونَ : فَطَرَ : إِتَّقِ : بَشَّرْنَا :	1
6	ترکیبها و عبارات قرآنی زیر را معنا کنید. فَأَحْسَنَ صُورَكُمْ : تَجْرِي المُحْسِنِينَ : فَاتَّخِذُوهُ : فَيُضِلَّكَ : قُلِ اللَّهُ فَاعْبُدْ * : هُمْ يُوقِنُونَ : مَنْ جَاهَدَ : لَوْ كَانُوا يَعْلَمُونَ : وَلَا تُطِيعِ الْكَافِرِينَ : وَسِيرَا مُنِيرَا : عِبَادَتَا الْمُؤْمِنِينَ * :	2
2	باتوجه به آیات و عبارات جاهای خالی زیر را با کلمه مناسب کامل کنید. فَاصْبِرْ إِنَّ وَعْدَ اللَّهِ حَقٌّ : قطعاً وعده خدا حق است. أَحْسِبَ النَّاسَ أَنْ يُتْرَكُوا : که به حال خود رها می شوند. أُدْعُونِي أَسْتَجِبْ لَكُمْ : بخوانید مرا تا شمارا. تَعَالَى اللَّهُ عَمَّا يُشْرِكُونَ : برتر است	3

	<p>خدا..... وَتُرِيدُ أَنْ تَمُنَّ عَلَى الَّذِينَ اسْتُضِعِفُوا : که منت گذاریم بر مستضعفان .</p>	
2	<p>باتوجه به ترجمه عبارات قرانی زیررا کامل کنید. عَلَى اللَّهِ : توکل کن بر خدا وَالِيهِ : وبه سوی او بازگردانیده می شوید. و مِنْ أَقْصَا الْمَدِينَةِ : و آمداز دورترین نقطه شهر وَتَجْعَلَهُمْ : و قرار می دهیم آنها را پیشوایان الطَّاغُوتِ : ودوری کردند از طاغوت الَّتِيعَلَى : که نعمت دادی بر من الدَّنْبِ وَالتَّوْبِ : آمرزنده گناه و قبول کننده توبه</p>	4
8	<p>ترجمه آیات و عبارات قرانی زیر را بنویسد. اولئك الَّذِينَ هَدَيْهُمْ اللَّهُ : فَاحْكُم بَيْنَ النَّاسِ بِالْحَقِّ : إِتَّبِعُوا مَنْ لَا يَسْئَلُكُمْ أَجْرًا : هَلْ مِنْ خَالِقٍ غَيْرُ اللَّهِ : وَعَدَالِهِ لَا يُخْلِفُ اللَّهُ وَعْدَهُ : وَأَحْسِنَ كَمَا أَحْسَنَ اللَّهُ</p>	5

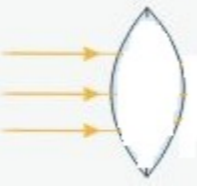
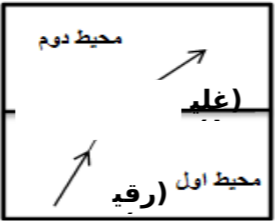
	<p>إِلَيْكَ :</p> <p>وَبَشِّرْنَاهُ يَاسْحَاقَ نَبِيَّامِنَ الصَّالِحِينَ :</p> <p>.....</p>		
20	<p>نمره کتبی (20) :</p>	<p>نمره قرائت (20) :</p> <p>نمره پایانی (20):</p>	<p>جم</p> <p>ع</p>

باسمه تعالی

مهر آموزشگاه	مدت امتحان	مدیریت آموزش و پرورش ناحیه یک یزد دبیرستان نمونه دولتی رسولیان دوره اول	سوالات ارزشیابی نوبت: دوم		
	80 دقیقه		درس: علوم تجربی		
	تاریخ آزمون		تعداد صفحه و سوال : 3 صفحه 18 سوال		
	97 / 3 / 3	پایه	نام خانوادگی	نام	نام
	جمع نمره:				

بارم	ردیف	متن سوال
5/1	1	<p>در هر سوال گزینه درست را علامت بزنید</p> <p>1- در کدام مورد اجزای مخلوط پس از مدتی ته نشین می شوند؟ /25</p> <p>الف- شربت معده ب- شکر در آب ج- روغن در بنزین د- سکه طلا</p> <p>2- کدام مورد از نشانه های " تغییر رنگ " در تغییر شیمیایی است؟ /25</p> <p>الف- تخم مرغ در سرکه ب- میخ آهنی در محلول کات کیود</p> <p>ج- آزمایش کوه آتشفشان د- جوشیدن آب</p> <p>3- نشانه شیمیایی یون کلرید کدام است؟ /25</p> <p>الف- Cl^{2-} ب- Cl^{-} ج- Cl^{+} د- Cl^{2+}</p> <p>4- کدام عمل زیر فعالیت انعکاسی محسوب نمی شود؟ /25</p> <p>الف- ریزش اشک ب- پلک زدن ج- سرفه د- فکر کردن</p> <p>5- کدام جمله در مورد تولید گوجه مقاوم به سرما درست است؟ /25</p> <p>الف - ژن مربوطه مقاومت در برابر سرما را از DNA ماهی جدا می کنند</p> <p>ب - ای ژن از نوعی ماهی آب سرد به دست آمد</p> <p>ج - ژن را در DNA گیاه گوجه فرنگی می گذارند د - هر سه مورد درست است</p> <p>6- کدام جاندار زیر به روش هاگزیایی تولید مثل می کند؟ /25</p> <p>الف- هیدر ب- کپک نان ج- باکتری د- مخمر</p>
5/0	2	سرعت تنظیم عصبی(زیاد- کم) و ماهیت تنظیم هورمونی
5/0	3	کار بند ناف در پستانداران چیست؟
1	4	دوسر یک لامپ رشته ای به ولتاژ 220 ولت وصل است. اگر مقاومت لامپ 8 اهم باشد چند آمپر جریان الکتریکی از آن می گذرد؟

1	5	<p>الف - چرا مواد نارسانا جریان برق را به خوبی هدایت نمی کنند؟ /25</p> <p>ب- عاملی که باعث جاری شدن الکترونها می شود چیست؟ /25</p> <p>د- ولت سنج چگونه در مدار قرار می گیرد؟ /25</p> <p>ج- یکی از کاربردهای برق نما را بنویسید؟ /25</p>
1	6	چگونه در آهن ربای الکتریکی خاصیت مغناطیسی قوی تر می شود؟(دوره بنویسید)
5/0	7	<p>الف - به روش ساختن آهن ربا بدون تماس چه می گویند؟ /25</p> <p>ب- جایی از آهن ربا که خاصیت مغناطیسی قوی تری دارد چه نامیده می شود؟ /25</p>
25/1	8	<p>الف - یک کانی تبخیری نام ببرید؟ /25</p> <p>ب- در نوک مداد از کدام کانی استفاده می شود؟ /25</p> <p>ج- یک کانی سیلیکاتی نام ببرید؟ /25</p> <p>د- یک کانی ملی نام ببرید؟ /25</p> <p>و- یک کانی نامهربان نام ببرید؟ /25</p>
25/1	9	<p>الف - سنگ آهک بر اثر دگرگونی به چه سنگی تبدیل می شود؟ /25</p> <p>ب- یک نمونه سنگ رسوبی آواری نام ببرید؟ /25</p> <p>ج- ماگما چیست؟ /5</p> <p>د- تفاوت سنگهای آذرین درونی و بیرونی چیست؟ یک مورد /25</p>
5/1	10	<p>الف - جانوران چگونه باعث هوازدگی فیزیکی می شوند؟ /5</p> <p>ب- تشکیل غار در سنگهای آهکی چه نوع هوازدگی است؟ /25 ()</p> <p>ج - سنگهای زاویدار مربوط به چه رسوباتی است؟ /25 ()</p> <p>د- چرخه سنگ چیست؟ /5</p>
5/0	11	قانون بازتاب نور را بیان کنید؟
5/0	12	علت تشکیل سایه چیست؟
5/0	13	یک کاربرد آینه مقعر و یک کاربرد آینه محدب را بنویسید. آینه مقعر : آینه محدب :
5/0	14	کسوف را توضیح دهید؟ (میتوانید شکل آن را رسم کنید)

75/0	<p>ادامه پرتو نور را در جسم نوری مقابل رسم نمایید نام آن چیست؟ یک کاربرد آن را بنویسید .</p> 	15
5/0	<p>طیف نور سفید چیست؟</p>	16
75/0	<p>شکل و بهر و مسیر پرتو نور برادر دو محیط شفاف متفاوت نشانمیدهد. ادامه پرتو را رسم کرده و دلیل آن را بیان کنید.</p> 	17
1	<p>در هر یک از موارد زیر یک تفاوت بنویسید الف - تفاوت بارهای الکتریکی با قطب های آهن ربا ب- تفاوت بازتاب منظم با بازتاب نامنظم</p> <p>پیروز باشید</p>	18

تاریخ امتحان: 03/1397/ 13
مدت پاسخگویی: 45 دقیقه
ساعت امتحان: 9:30 صبح
تعداد سؤال: 12
تعداد صفحه: 2

باسمه تعالی
مدیریت آموزش و پرورش ناحیه
یک یزد
دبیرستان نمونه دولتی
رسولیان
(دوره اول)

نام : «نام»
نام خانوادگی: «نام_خانوادگی»
سوال درس: عربی پایه:
هشتم

ردیف	با نام و یاد خدا به سؤالات زیر به دقت پاسخ دهید.	بارم
1	جملات زیر را به فارسی ترجمه کنید. الف الغزاة الصغيرة ما يئست فشاهدت حمامة و سألتها ب هل الجوال مسموح في السفرة ج الامانة تجلب الرزق و الخيائة تجلب الفقر د قالت أم القرس تحن نعيش مع الانسان و تحدمه	25/4
2	جملات و روایات زیر را ترجمه کنید. الف الكلام كالذواء قليله ينفع و كثيره قاتل ب إضاعة الفرضه عضة ج من زرع العدوان حصد الخسران	3
3	ترجمه درست را در جملات زیر مشخص کنید. الف 5/0 يدأ... مع الجماعة. ب أنتم تصرثم أصدقاءكم . ج شما دوستانتان را یاری کردید 2 د () یاری خدا در جماعت است ه () شما دوستانتان را یاری می کنید	5/0
4	کلمات مترادف و متضاد را مشخص کنید. (= یا #) حار [] بارد خلف [] وراء	5/0
5	کلماتی که زیر آن خط کشیده شده را ترجمه کنید. أعندك ضغط الدم أو مَرَضُ السُّكَّرِ	1
6	در جمله زیر فعل ماضی و مضارع و مستقبل را مشخص کنید. انت قِيلت كلام والدك و الان تعملُ به و عَدًا سَيَذْهَبُ الى بيته	75/0
	فعل ماضى : فعل مضارع : فعل مستقبل :	

تاریخ امتحان: 03/1397/ 13
مدت پاسخگویی: 45 دقیقه
ساعت امتحان: 9:30 صبح
تعداد سؤال: 12
تعداد صفحه: 2

باسمه تعالی
مدیریت آموزش و پرورش ناحیه
یک یزد
دبیرستان نمونه دولتی
رسولیان
(دوره اول)

نام : «نام»
نام خانوادگی: «نام_خانوادگی»
سوال درس: عربی پایه:
هشتم

ردیف	سؤال	پاسخ
7	فعل‌های مناسب را برای جاهای خالی انتخاب کن. الف هَاتَانِ الْبَيْتَانِ الْعَاقِلَتَانِ واجبهما. (تَكْتَبَانِ- يَكْتُبَانِ- تَكْتُبُ) ب هل هذا المجاهد؟ نعم تَعْرِفُهُ (تَعْرِفُ- تَعْرِفُونَ- تعرفينَ) د نَا مُدَّ رَسَنَةً الدرس (تَشْرَحُ- أَسْرَحُ- تَشْرُحُ) ج نحن الى البُستانِ قبل ثلاثة أيام. (نَذْهَبُ- سَنَذْهَبُ- ذهبنا)	1
8	در هر ردیف کلمه ناهماهنگ را مشخص کنید. الف - السَّبْتِ □ الأَثَاءِ □ السَّابِعِ □ الخَمِيسِ □ ب - الَذِّي □ لِمَاذَا □ كَيْفَ □ أَيْنَ □ 9 به جملات زیر پاسخ مناسب دهید. (به عربی) الف ما اسمک؟ ب من أين أنت؟ ج ما هي مهنتک؟	5/0
10	گزینه مناسب را برای جای خالی انتخاب کن. الف طعام الصَّبَاحِ ب اثنا عَشَرَ شهرًا: اسبوع □ سنة □ ج يَسْأَلُونَ المدير. هما □ هُم □ 75/0	5/1
11	جمع لغات زیر را بنویسید. دَمَع جار	5/0
12	فعل‌های داده شده را ترجمه کنید: سوف تَعْمَلُ : ما حَزَيْتَ : لايَفْرَحانِ :	75/0

«موفق و پیروز باشید»

سوال‌های ارزشیابی نوبت: دوم	مدیریت آموزش و پرورش ناحیه یک یزد		مدت امتحان	مهر آموزشگاه
درس: پیام های آسمانی	دبیرستان نمونه دولتی رسولیان دوره اول		۳۵ دقیقه	
تعداد صفحه و سوال: ۲ صفحه ۱۰ سوال			تاریخ آزمون	
نام	نام خانوادگی	کدرانش آموزی	پایه	۹۷ / ۳ / ۱
			جمع نمره:	

سوالات : وقت 40

ردیف	سوالات
الف	<p>گزینه درست را با علامت × مشخص کنید. (2 نمره)</p> <p>1- طبق حدیث حضرت علی+ هدف از آفرینش زمین و آنچه در آن است برای انسان چیست؟</p> <p>الف) استفاده درست از نعمت ها <input type="checkbox"/></p> <p>ب) عبادت خداوند <input type="checkbox"/></p> <p>ج) تفکر در عالم خلقت <input type="checkbox"/></p> <p>د) راه یافتن به بهشت و رهایی از دوزخ <input type="checkbox"/></p> <p>2- کدام یک از واجبات روزه است؟</p> <p>الف) نیت کردن <input type="checkbox"/></p> <p>ب) سحری خوردن <input type="checkbox"/></p> <p>ج) قرائت قرآن <input type="checkbox"/></p> <p>د) غیبت نکردن <input type="checkbox"/></p> <p>3- اهل جهنم بیشتر از همه چه کسی را عامل بدبختی خود می دانند؟</p> <p>الف) دوستان و بستگان گناهکار <input type="checkbox"/></p> <p>ب) فرمانروایان و حاکمان <input type="checkbox"/></p> <p>ج) شیطان <input type="checkbox"/></p> <p>د) خودشان <input type="checkbox"/></p> <p>4- در روز غدیر پیامبر از مردم چه درخواستی در مورد حضرت علی (ع) کردند؟</p> <p>الف) ایشان را چون پیامبر دوست بدارند. <input type="checkbox"/></p> <p>ب) ایشان را خلیفه ی پیامبر بدانند. <input type="checkbox"/></p> <p>ج) ولایت و سرپرستی ایشان را بپذیرند. <input type="checkbox"/></p> <p>د) با دشمنان علی+ به مبارزه برخیزند. <input type="checkbox"/></p>
ب	<p>درستی یا نادرستی عبارتهای زیر را مشخص کنید. (2 نمره) درست نادرست</p> <p>1- نماز خواندن با لباسی که از پوست حیوان حرام گوشت تهیه شده صحیح است. <input type="checkbox"/></p> <p>2- نماز خواندن با لباس غصبی حتی دکمه های لباس نماز باطل است. <input type="checkbox"/></p> <p>3- حدیث ثقلین از حضرت علی+ نقل شده است. <input type="checkbox"/></p> <p>4- منظور از نعیم در آیهی «ثُمَّ لِنُسْأَلُنَّ يَوْمَئِذٍ عَنِ النَّعِيمِ» نعمت محمد و آل محمد است. <input type="checkbox"/></p>
ج	<p>جاهای خالی را با کلمه ی مناسب کامل کنید. (2 نمره)</p> <p>1- روزه سپری است در برابر دنیا و پوششی است در برابر عذاب</p> <p>2- یکی از نامهای خداوند بلند مرتبه غفار است. غفار یعنی</p> <p>3- کسی که اذان و اقامه بگوید و نماز بخواند از فرشتگان پشت سر او به نماز می ایستند.</p> <p>4- خداوند حکیم پیامبر را اولین قرآن قرار داد.</p>
د	<p>به سوالات زیر پاسخ دهید.</p> <p>1- سه مورد از فواید کار کردن را بنویسید. (5/1 نمره)</p> <p>2- چهار مورد از عوامل هدر رفتن عمر را بنویسید. (2 نمره)</p>

د 3- عفو و گذشت از خطای دیگران چه اثری در زندگی انسان دارد؟ (1 نمره)

4- بهترین راه درمان غیبت چگونه است؟ (1 نمره)

5- منظور از حق ا...، حق الناس، حق النفس چیست؟ برای هر کدام مثالی بزنید. (5/1 نمره)

6- اصلی ترین موضوعی که شیعیان و اهل سنت در آن با هم اختلاف دارند چیست؟ توضیح دهید. (2 نمره)

7- دو مورد از آثار و فواید دعا کردن را بنویسید. نزدیک ترین دعاها به اجابت چه دعایی است؟ (2 نمره)

8- امام حسن عسکری⁺ در مورد زشتی دروغ گفتن چه می فرماید؟ (1 نمره)

9- دو راه درمان مصرف گرایبی را بنویسید. (1 نمره)

10- آثار و پیامد بدحجابی را به صورت خلاصه بنویسید. (1 نمره)

آزمون درس انشا فارسی پایه هشتم - نوبت دوم - تاریخ آزمون 20/3/1397 - وقت 60 دقیقه

1- یکی از موضوعات زیر را انتخاب کنید و در پشت برگه انشایی بنویسید.

الف) کلاغ خواست راه رفتن کبک را یا د
بگیرد راه رفتن خودش را هم فراموش
کرد.

ب) ویژگی های یک دوست خوب و نقش
او در زندگی شما

ج) کتاب و کتاب خوانی

معیارهای ارزیابی 2-

الف) پروراندن موضوع و بهره گیری مناسب از شیوه های پرورش فکر

ب) نوشتن بند مقدمه ، بند بدنه و بند نتیجه

ج) استفاده از واژگان مترادف ، متضاد و آرایه های ادبی

د) ساختار زبانی (جمله بندی) و تنوع فعل ها

ه) پاراگراف بندی و حاشیه گذاری

و) املا صحیح واژگان

ز) خط خوش و پاکیزه نویسی

ح) رعایت علائم نگارشی

باسمه تعالی

مهر آموزشگاه	مدت امتحان	مدیریت آموزش و پرورش ناحیه یک یزد دبیرستان نمونه دولتی رسولیان دوره اول	سوالات ارزشیابی نوبت: دوم
	60 دقیقه		درس: انشا فارسی کلاس هشتم
	تاریخ		تعداد صفحه و سوال : 2

باسمه تعالی

مهر آموزشگاه	مدت امتحان	مدیریت آموزش و پرورش ناحیه یک یزد دبیرستان نمونه دولتی رسولیان دوره اول			سوالات ارزشیابی نوبت:	
	50 دقیقه				درس: مطالعات اجتماعی	
	تاریخ آزمون			تعداد صفحه و سوال : صفحه 26 سوال		
	جمع نمره:	پایه	کد دانش آموزی	نام خانوادگی	نام	

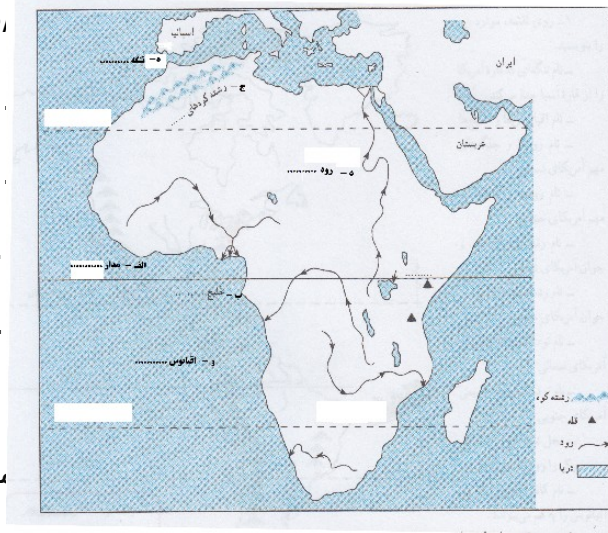
بارم	متن سوال	ردیف
	<p>1- ساسانیان در جنگ های..... و از سپاهیان مسلمان شکست خوردند 5 /</p> <p>2- حضرت علی (ع) در جنگ صفین به مقابله با سپاهیان معاویه رفت. صحیح /</p> <p>3- سلسله های ایرانی را از نظر رابطه با خلیفه عباسی و به قدرت رسیدن با هم مقایسه کنید. 1نمره</p> <p>4- دومورد از مهمترین منابع درآمدی دولت را بنویسید. 1نمره</p>	فصل 1 تا 6
	<p>5- چرا پایه های حکومت خوارزمشاهیان چندان محکم نبودند 2 دلیل بیاورید. 1نمره</p> <p>6- هدف سلطان محمود غزنوی از لشکرکشی به هند چه بود؟ 5/نمره</p> <p>7- وزیر طغرل خواجه نظام الملک بود. صحیح / غلط 5 /نمره</p>	فصل 7
	<p>8- یکی از کارهای ارزشمند خواجه نصیرالدین طوسی تشویق هلاکوبه ساخت بود. 5/نمره</p> <p>9- گنبد سلطانی که یکی از شاهکارهای معماری در جهان اسلام است توسط چه کسی ساخته شد؟ 5 /</p> <p>الف- غازان خان / ب - سلطان محمد خدابنده / ج- ابوسعید / د-</p> <p>بایسنقر /</p> <p>10- چهارمورد از پیامدهای حمله چنگیز به ایران را بنویسید. 1نمره</p>	فصل 8
		فصل

	<p>11- جلگه بزرگ چین در غرب آسیا از آبرفت رودیانگ تسه کیانگ بوجود آمده است. صحیح / غلط 5 /نمره</p> <p>12- قاره آسیا از طریق..... از آمریکای شمالی جدامی شود. 5 /نمره</p> <p>13- متراکم ترین ناحیه کره زمین از نظر جمعیت کجاست؟ 5 /</p> <p>الف. چین / ب. هند / ج. جزیره جاوه / د. موارالف وب /</p> <p>14- دلتا چیست؟ مثال بزنید. 1نمره</p> <p>15- بیرهای اقتصادی آسیا را نام ببرید. (چهار مورد) 1نمره</p>	9
	<p>16 - کمبود آب شیرین یکی از مسائل مهم منطقه ی جنوب غرب آسیا است. صحیح / غلط 5 /نمره</p> <p>17 - کدامیک از کشورهای زیر توانسته اند از طریق رونق تجارت و بازرگانی اقتصاد خود را متحول کنند 5 /نمره=</p> <p>الف- ترکیه-امارات / ب- ترکیه-عربستان / ج- عربستان-قطر / د- امارات-بحرین</p> <p>18- ویژگی آب وهوای مدیترانه ای را بنویسید. 1نمره</p> <p>19- چرا جنوب غرب آسیا منطقه ای پرتنش است؟ 3 مورد 5/1نمره</p>	فصل 10
	<p>20- اروپای پیرو جوان را با هم مقایسه کنید. 1نمره</p> <p>21- چرا کناره های آفریقا برای ساخت بندر و پهلو گرفتن کشتی مناسب نیست؟ 1نمره</p>	فصل 11
	<p>22- جلگه استرالیا از آبرفت رود..... بوجود آمده است. 5/</p> <p>23- دو بندر مهم استرالیا را نام ببرید. 5/نمره</p> <p>24- در آمریکای شمالی بیابان کالاهاری قرارداد. صحیح / غلط 5/نمره</p> <p>25- اهمیت حفر کانال پاناما چیست؟ 1نمره</p>	فصل 12

5. نمره

.....
.....
.....
.....

..... می کند ؟



.....
.....
.....
.....
.....
.....