

نام و نام خانوادگی : مدیریت آموزش و پرورش ناحیه یک یزد  
تاریخ امتحان : 4/3/96  
نام درس : املا دبیرستان نمونه دولتی رسولیان ( دوره ی اول )  
شماره کلاس - ردیف : پایه : هفتم نوبت: دوم  
وقت امتحان : 30 دقیقه  
ساعت امتحان : 10:00

الهی ، د لی ده که در کار تو جان بازیم ؛ توفیق ده تا در دین استوار  
شویم .

نوجوانی ، دوره ای شبیه به رویا است . زیبایی و قشنگی آن را با کم  
حوصلگی و دلخوری های بیهوده ،  
زشت و تاریک نکنیم .

عمر حقیقی را شناسنامه ی ما تعیین نمی کند . زیستن و زندگی زیبا ،  
تنها همان فرصت هایی است که با  
رفتارهای زیبا و کارهای بزرگ می گذرد .

رسول اکرم با فرزندان خود به مهر و عطوفت رفتار می کرد . در میان  
جمع گشاده رو بود و در تنهایی ،

سیمایی محزون و متفکر داشت . از بیماران عیادت می کرد . بیش از حد  
لزوم ، سخن نمی گفت و اجازه

نمی داد کسی جز در مقام دادخواهی ، در حضور او از دیگری بد بگوید و یا  
به کسی دشنام دهد .

آری ، این چنین است که هر وقت نظم و نثری دلپذیر و شیرین و استوار  
به زبان فارسی می خوانم و

می شنوم زبان به تحسین می گشایم و هر گاه می بینم زبان یا خط فارسی  
، خوار شده و خدشه و خطری بر

آن وارد آمده است ، غمگین و تلخ کام می شوم .

آدم آهنی ساکت بود ولی شب ، وقتی باد با خود رایحه ی گل های درخت  
بلوط و صدای خش خش برگ هایش را می آورد ، به نظر می رسید که  
کسی چیزی یاد می گیرد و دایم می گوید : بال بالی ... بلوط ...  
به او آسیب رسید .



	<hr/> <hr/> <hr/> <hr/> <hr/> <hr/> <hr/> <hr/> <hr/> <hr/>	
--	---	--

موفق باشید

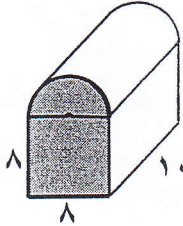


بارم	سوالات	ردیف
5/1	آیه شریفه مقابل را ترجمه کنید. 0 «وَعَسَىٰ أَن تَكْرَهُوا شَيْئًا وَهُوَ خَيْرٌ لَّكُمْ وَعَسَىٰ أَن تُحِبُّوا شَيْئًا وَهُوَ شَرٌّ لَّكُمْ وَاللَّهُ يَعْلَمُ وَأَنْتُمْ لَا تَعْلَمُونَ»	1
2	جاهای خالی را با کلمات مناسب پر کنید 0 الف - امام علی (ع) می فرماید: «پشیمانی انسان ..... از همه مردم بیشتر است؛ زیرا ..... او وقتی به کمکش می آید که دیگرکار از کار گذشته باشد 0 ب- امام رضا (ع) می فرماید: «خداوند حکیم هر چیزی را که برای سلامتی مردم زیان آور باشد و موجب هلاکت و نابودی آنان شود، ..... کرده و آنچه را برای سلامتی آنها مفید باشد، ..... کرده است.»	2
2	گزینه ی صحیح را انتخاب کنید. الف- حدیث: « <b>علم و دانش گنجی است پایان ناپذیر</b> » با کدام مفهوم، هماهنگ است؟ 1- زندگی همیشگی <input type="checkbox"/> 2- تواضع نسبت <input type="checkbox"/> معلم 3- ثروت <input type="checkbox"/> 4- علم آموزی برای همه ب- پیامبر اکرم (ص) فرمود: هرگاه تصمیم گرفتی کاری کنی، اول به ..... آن خوب بیندیش 0 1- <input type="checkbox"/> به وعاقبت <input type="checkbox"/> شروع و آغاز <input type="checkbox"/> 3- نحوه انجام <input type="checkbox"/> 4- مهارت خود در انجام ج- آیه «وَالَّذِينَ هُمْ لِأَمَانَاتِهِمْ وَعَهْدِهِمْ رَاعُونَ» به کدام ویژگی انتخاب دوست اشاره می کند؟ 1- را <input type="checkbox"/> گویی <input type="checkbox"/> 2- هل نماز بودن <input type="checkbox"/> 3- کمک به هم نوعا <input type="checkbox"/> 4- وفای به عهد د- یکی از گام های اساسی مبارزه با تنبلی، ..... است 0 1- <input type="checkbox"/> نگرانی <input type="checkbox"/> 2- برنامه ریزی <input type="checkbox"/> 3- تصمیم <input type="checkbox"/> قاطع <input type="checkbox"/> 4- دوستی با انسان های کوشا	3
1	جملات درست و نادرست را مشخص کنید. الف- دوست خوب، کسی است که فقط در ایام خوشی در کنار انسان باشد 0 ( ) ب- در انجام کارهای نیک هرگز نباید تأخیر و کوتاهی کنیم، بلکه باید در اولین فرصت آنها را به انجام برسانیم 0 ( ) ج- حفظ حجاب از دستورات مهم اسلام است و هیچ مانعی برای رشد و پیشرفت نیست 0 ( ) د- اگر مقدار آب از 384 لیتر بیشتر باشد به آن آب قلیل گفته می شود 0 ( )	4
1	شکر واقعی نعمت چیست؟ توضیح دهید 0	5

1	دومورد از آثار صدقه دادن را بنویسید 0	6
5/1	7- توضیح دهید ما چگونه می توانیم خداوند را یاری دهیم 0 (5/1)	7
1	بنابر سخن امام علی (ع) خداوند از آگاهان در برابر شکم بارگی ستمگران چه عهد و پیمانی گرفته است؟	8
1	چهار مورد از ویژگی های اخلاقی حضرت فاطمه (س) را بیان کنید 0	9
1	به چه افرادی مجتهد یا فقیه می گویند؟	10
5/1	تفاوت ارکان نماز با سایر واجبات نماز چیست؟	11
5/1	دومورد از فایده های نماز جماعت را بنویسید 0	12
1	مسئولیت مشترک مردان و زنان برای حفظ پاکی جامعه چیست؟	13
25/ 1	بنابر سخن پیامبر اکرم (ص) ، علم آموزی شامل چه مراحل است؟	14
25/ 1	مفهوم اولویت بندی کارها چیست؟	15
5/0	با توجه به آیات قرآن کریم، مهم ترین فایده حجاب برای بانوان چیست؟	16

موفق باشید

نمره به عدد:	نمره به حروف:	نام و نام خانوادگی دبیر:	امضاء
نمره ی تجدید نظر به عدد:	نمره ی تجدید نظر به حروف:	نام و نام خانوادگی تجدید نظر کننده:	امضاء
ردیف	سوالات	بارم	
۱	<p>(۱) یک منشور پنج پهلو دارای ..... یال است.</p> <p>(الف) ۵ (ب) ۱۰ (ج) ۱۵ (د) ۲</p> <p>(۲) قرینه ی نقطه <math>\begin{bmatrix} -۲ \\ ۳ \end{bmatrix}</math> نسبت به محور طول ها برابر است با:</p> <p>(الف) <math>\begin{bmatrix} ۳ \\ -۲ \end{bmatrix}</math> (ب) <math>\begin{bmatrix} ۲ \\ -۳ \end{bmatrix}</math> (ج) <math>\begin{bmatrix} -۲ \\ ۲ \end{bmatrix}</math> (د) <math>\begin{bmatrix} -۲ \\ -۳ \end{bmatrix}</math></p> <p>(۳) عدد <math>\sqrt{۵} - ۶</math> بین کدام دو عدد صحیح متوالی قرار دارد؟</p> <p>(الف) ۱ و ۲ (ب) ۲ و ۳ (ج) ۳ و ۴ (د) ۴ و ۵</p> <p>(۴) یکی از جواب های معادله ی <math>\frac{x^2-1}{۴} = ۱</math> کدام گزینه است؟</p> <p>(الف) -۲ (ب) ۳ (ج) -۳ (د) ۴</p>	۱	
۲	<p>درستی یا نادرستی هر یک را با <math>\sqrt{\quad}</math> یا <math>\times</math> مشخص کنید.</p> <p>(۱) بزرگترین عدد صحیح منفی را نمی توان مشخص کرد. <input type="checkbox"/></p> <p>(۲) کوچکترین شمارنده هر عدد زوج عدد ۲ است. <input type="checkbox"/></p> <p>(۳) مجذور هر عدد از مربع آن قطعاً بزرگتر است. <input type="checkbox"/></p> <p>(۴) «ک.م.م» دو عدد اول برابراست با حاصل ضرب آنها. <input type="checkbox"/></p>	۱	
۳	<p>در جای خالی عدد یا کلمه ی مناسب بنویسید.</p> <p>(۱) به محل برخورد سه سطح ..... می گویند.</p> <p>(۲) اگر ضلع مکعبی را دو برابر کنیم حجم آن ..... برابر می شود.</p> <p>(۳) اگر <math>a</math> و <math>b</math> دو عدد اول متمایز باشند، <math>b</math> م <math>a</math> آنها عدد ..... است.</p> <p>(۴) استوانه از نوع حجم های ..... می باشد.</p>	۱	
۴	<p>با رسم یک جدول نظام دار دو عدد طبیعی پیدا کنید که مجموع آنها ۱۲ و حاصل ضرب دو عدد بیشترین مقدار باشد.</p>	۱	

۱/۵	<p>الف) حجم شکل مقابل را حساب کنید. (<math>\pi = 3</math>)</p>  <p>ب) برای ساختن مکعبی به ضلع ۵ سانتی متر، چند سانتی متر مربع مقوا نیاز داریم؟</p>	۵
۱/۵	<p>الف) حاصل را به دست آورید.</p> $\frac{[24,90]}{(72,42)} =$ <p>ب) سه ظرف به گنجایش ۱۲ و ۳۶ و ۳۰ لیتر داریم. می خواهیم با یک پیمانه که هر بار پرو خالی می شود سه ظرف را پر کنیم. بزرگترین پیمانه ی مناسب چه گنجایشی دارد؟</p>	۶
۱/۵	<p>الف) قرینه ی عدد ۵- نسبت به عدد ۳+ کدام عدد است؟</p> <p>ب) دمای هوای تهران ۳ درجه زیر صفر است و شهر ارومیه ۶ درجه از تهران سردتر است. دمای هوای ارومیه چند درجه است؟</p> <p>میانگین دمای هوای این دو شهر چند درجه است؟</p> <p>ج) حاصل عبارت مقابل را به دست آورید.</p> $-20 \div 5 - 2 \times 4 + 1 =$	۷
۲	<p>الف) مقدار عبارت جبری زیر را به ازای عدد های داده شده به دست آورید. <math>a = -11, b = -2</math></p> $3(a - 2b - 1) - (3a + b) + 2 =$ <p>ب) جمله <math>n</math> ام الگوی عددی مقابل را بنویسید.</p> <p>ج) معادله مقابل را حل کنید.</p> $2(x - 2) = 6x + 8$	۸

الف) حاصل هر عبارت را به صورت یک عدد توان دار بنویسید.

۹

$$۸^۲ \times ۴^۵ =$$

$$۲^۵ \times ۳^۲ \times ۶^۵ \times ۴^۲ =$$


$$\sqrt{\frac{۹}{۲۵}} + \frac{\sqrt{۱۶}}{۵} =$$

ب) حاصل را به دست آورید.

ج) مساحت یک زمین مربع شکل ۸۱ متر مربع است. محیط این زمین چند متر است؟

۱/۵

نقطه های  $A = \begin{bmatrix} -۳ \\ ۲ \end{bmatrix}$  و  $B = \begin{bmatrix} ۲ \\ -۱ \end{bmatrix}$  را روی صفحه ی مختصات پیدا کنید.



ب) بردار  $\overrightarrow{AB}$  را رسم کنید و مختصات آن را به دست آورید.

$$\overrightarrow{AB} = \begin{bmatrix} \quad \\ \quad \end{bmatrix}$$

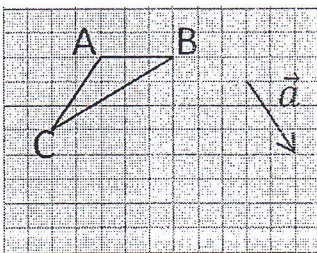
ج) جمع متناظر با بردار  $\overrightarrow{AB}$  را بنویسید.

۱۰

۱

$$\begin{bmatrix} -۵ \\ ۱ \end{bmatrix} + \begin{bmatrix} x \\ y \end{bmatrix} = \begin{bmatrix} ۲ \\ -۱ \end{bmatrix}$$

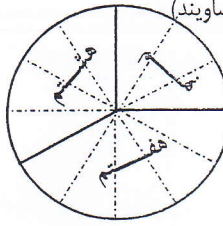

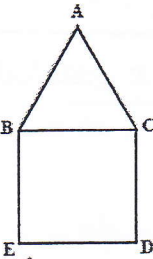
الف) مقادیر  $x$  و  $y$  را به دست آورید.



ب) مثلث ABC را با بردار  $\vec{a}$  انتقال دهید.

۱۱



۱/۵	<p>۱۲ مدرسه ای ۱۸۰ دانش آموز دارد. با توجه به نمودار دایره ای این مدرسه: (تمام قسمت ها مساویند)</p>  <p>الف) تعداد دانش آموزان پایه ی هفتم چند نفر است؟</p> <p>ب) تعداد دانش آموزان پایه ی هشتم چند نفر است؟</p> <p>ج) تعداد دانش آموزان پایه ی نهم چند نفر است؟</p>	۱۲
۱/۵	<p>۱۳ الف) در کیسه ای ۶ مهره قرمز، ۴ مهره آبی و ۳ مهره زرد وجود دارد. یک مهره از کیسه خارج می کنیم. چقدر احتمال دارد مهره آبی نباشد؟</p> <p>ب) انتظار دارید در ۳۰۰ بار پرتاب یک تاس تقریباً چند بار عدد ۶ ظاهر شود؟</p> <p>ج) با قرار دادن علامت <math>&gt; = &lt;</math> احتمال وقوع اتفاق های را مقایسه کنید.</p> <p>تاس ۶ یا ۲ بیاید <input type="checkbox"/> تاس ۳ بیاید <input type="checkbox"/> تاس زوج بیاید <input type="checkbox"/> تاس عددی بزرگتر از ۳ بیاید <input type="checkbox"/></p>	۱۳
۲	<p>۱۴ در شکل زیر پاره خط های <math>AB</math>, <math>BC</math>, <math>CD</math> و <math>DE</math> مساویند.</p>  <p>الف) با توجه به شکل هر عبارت را کامل کنید. (با نوشتن نام یک پاره خط)</p> $\overline{AB} + \overline{BD} = \dots$ $\overline{BE} - \overline{DE} = \dots$ <p>ب) با توجه به شکل در جای خالی عدد مناسب قرار دهید.</p> $\overline{AD} = \dots \overline{BC}$ $\overline{BE} = \dots \overline{DE}$ <p>ج) در شکل رو به رو یک مربع و یک مثلث متساوی الاضلاع دیده می شود. چرا <math>\overline{BE} = \overline{AC}</math> ؟</p>  <p>د) دو زاویه متمم یکدیگرند و یکی از سه برابر دیگری ۱۴ درجه بیشتر است. اندازه هر یک را به دست آورید.</p> <p>«موفق باشید»</p>	۱۴



## 1) شماره هر جمله را زیر تصویر مربوط به خودش بنویسید. (1)

.It's seven thirty.

2) My father is a pilot.I like him (1

.He's at home and studying.

4) My favorite food is chicken(3



2) جواب صحیح را انتخاب کنید. (2)

.A: ..... are you? B: I am in my school(1

a)How b)Where c)How old d)When

.A:Who is that ..... ? B:She's my aunt(2

a)son b)man c)boy d)daughter

. ..... What's Ali doing? He is(3

a)great today b)watching TV c)in his class d)13 years old

. ..... A: Are you hungry? B:Yes, let's have some(4

a)bread b)water c)tea d)milk

(3) متن زیر را بخوانید و جدول زیر را کامل کنید. (3)

Hello. I am Amir Alavi. I am fourteen years old and my birthday is in Aban. My father's name is Akbar and he is a cook. My address is **20** Enghelab Street. My favorite food is rice and fish .I like to drink tea

Name	Age	Father's job	Favorite food	Favorite drink	Month of birth

(4) با استفاده از کلمات داده شده جملات زیر را کامل کنید. (یک کلمه اضافی است) (2)

(which - office - wearing - something - who)

.He's ..... black trousers(1

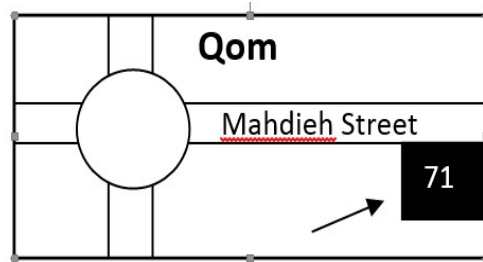
.What's your ..... phone number? **35268914**(2

.Let's take ..... to eat(3

.one is your friend? He's the tall boy ..... (4

(5) به توجه به تصاویر به سوالات زیر جواب دهید. (1)

?What's your address(1



?What time is it(2



(6) به سوال زیر جواب دهید. (1)


A)What are **هویج** , **سیب** and **برج** in English

B) ..... for **به** ..... for **سیب**

..... for **هویج** ..... for **برج**

*Good luck*

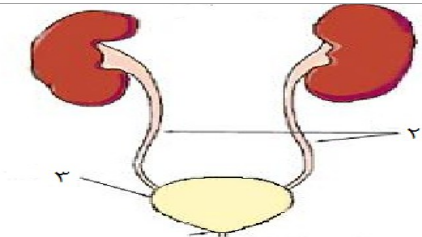

نمر ۵	بسمه تعالی مدیریت آموزش و پرورش ناحیه یک دبیرستان نمونه	نام و نام خانوادگی : تاریخ : سوال درسی : علوم تجربی مدت پاسخگویی : 60 دقیقه رسولیان
1	تعداد سوال : 13	<p>جملات زیر را کامل کنید .</p> <ul style="list-style-type: none"> <li>- پروتئین ها از مولکول هایی به نام ..... ساخته شده اند.</li> <li>- انرژی که از سوزاندن سوخت های ..... بدست می آید از منابع انرژی تجدید پذیر است .</li> <li>- محل ساخت بیشتر آنزیم های روده باریک در ..... می باشد.</li> <li>- سرخرگ آئورت به حفره ..... متصل است.</li> </ul>
1		<p>گزینه مناسب را انتخاب کنید</p> <ul style="list-style-type: none"> <li>- کدام یک از اندامک های زیر در سلول پروتئین میسازد؟ الف ( ریبوزوم )      ب( هسته )      ج( واکوئل )      د( میتوکندری )</li> <li>- در شیره گوارشی معده کدام ماده یافت نمی شود؟ الف ( اسید )      ب ( مواد قلیایی )      ج ( آب )      د ( آنزیم )</li> <li>- ضخامت کدام حفره ی قلب از بقیه بیشتر است ؟ الف ( بطن راست )      ب ( بطن چپ )      ج ( دهلیز راست )      د ( دهلیز چپ )</li> <li>- انرژی درون باتری به کدام گزینه شبیه نیست؟ الف ( انرژی درون ماهیچه )      ب ( انرژی فنر فشرده شده )      ج ( آب پشت سد )      د ( انرژی صدا )</li> </ul>
25 /1		<p>جملات صحیح و غلط را مشخص کنید</p> <ul style="list-style-type: none"> <li>الف ( وقتی سلول ها کنار هم قرار می گیرند اندام تشکیل می شود. )</li> <li>ب ( تارهای صوتی در قسمت حلق قرار گرفته اند . )</li> <li>ج ( هنگام بلع غذا کام نرم راه بینی را می بندد. )</li> <li>د ( جهت حرکت نسیم دریا در شب از ساحل به دریا است . )</li> <li>هـ ( انتقال گرما به روش همرفت در همه مواد صورت می گیرد . )</li> </ul>
2		<p>پاسخ کوتاه دهید .</p> <ul style="list-style-type: none"> <li>- دو مورد از عواملی که در میزان نفوذ آب در زمین اثر دارند ) ( )</li> <li>- دو راه حفاظت منابع طبیعی ) ( )</li> <li>- وظیفه گلبول سفید ) ( )</li> <li>- جانداري که هسته مشخصی ندارد ) ( )</li> <li>- دو ویژگی فلزات ) ( )</li> </ul>
1		<p>علت هریک از موارد زیر را بنویسید پزشکان توصیه می کنند چربی های حیوانی کمتر مصرف شود.</p>

	پوست خرس های قطبی سفید رنگ است .	
1	تفاوت موارد زیر را بنویسید ( یک مورد). - سرخگ با سیاهرگ - سلول گیاهی با جانوری	6
1	کارگری آجر 15 نیوتنی را با نیروی 50 نیوتنی تا ارتفاع 3 متری به طرف بالا پرتاب می کند. کار کارگر را حساب کنید ( نوشتن فرمول ویکا الزامی است )	7
2	کمبود هر یک از موارد زیر باعث چه بیماری یا مشکلی می شود؟ الف) ویتامین D ب) آهن ج) ویتامین A د) ید	8
1	منظور از فشارخون چیست؟	9
25 /1	باتوجه به شکل به سوالات داده شده پاسخ دهید ؟ الف ) شماره های 2 و 3 را نام گذاری کنید . ب) یکی از کارهای کلیه را بنویسید . ج) ادرار تشکیل شده در نفرون ابتدا به کدام قسمت می ریزد ؟	10
5/ 0	دونمونه از کاربردهای انرژی زمین گرمایی را بنویسید .	11
1	برای هر کدام یک وظیفه بنویسید. خون: کبد:	12
1	اگر جرم یک کلید 25 گرم باشد، با توجه به شکل چگالی کلید را محاسبه کنید. (نوشتن فرمول و واحد الزامی است.)	13
		

موفق باشید



1	<p>جملات زیر را کامل کنید .</p> <p>- پروتئین ها از مولکول هایی به نام ..... ساخته شده اند.</p> <p>- انرژی که از سوزاندن سوخت های ..... بدست می آید از منابع انرژی تجدید پذیر است .</p> <p>- محل ساخت بیشتر آنزیم های روده باریک در ..... می باشد.</p> <p>- سرخرگ آئورت به حفره ..... متصل است.</p>	1
1	<p>گزینه مناسب را انتخاب کنید</p> <p>- کدام یک از اندامک های زیر در سلول پروتئین میسازد؟</p> <p>الف ( ریبوزوم )      ب ( هسته )      ج ( واکوئل )      د ( میتوکندری )</p> <p>- در شیره گوارشی معده کدام ماده یافت نمیشود؟</p> <p>الف ( اسید )      ب ( مواد قلیایی )      ج ( آب )      د ( آنزیم )</p> <p>- ضخامت کدام حفره ی قلب از بقیه بیشتر است ؟</p> <p>الف ( بطن راست )      ب ( بطن چپ )      ج ( دهلیز راست )      د ( دهلیز چپ )</p> <p>- انرژی درون باتری به کدام گزینه شبیه نیست؟</p> <p>الف ( انرژی درون ماهیچه )      ب ( انرژی فنر فشرده شده )      ج ( آب پشت سد )      د ( انرژی صد )</p>	2
25 / 1	<p>جملات صحیح و غلط را مشخص کنید</p> <p>الف ( وقتی سلول ها کنار هم قرار می گیرند اندام تشکیل می شود. )</p> <p>ب ( تارهای صوتی در قسمت حلق قرار گرفته اند. )</p> <p>ج ( هنگام بلع غذا کام نرم راه بینی را می بندد. )</p> <p>د ( جهت حرکت نسیم دریا در شب از ساحل به دریا است. )</p> <p>ه ( انتقال گرما به روش همرفت در همه مواد صورت می گیرد. )</p>	3
2	<p>پاسخ کوتاه دهید .</p> <p>- دو مورد از عواملی که در میزان نفوذ آب در زمین اثر دارند ) ( ) ( )</p> <p>- دو راه حفاظت منابع طبیعی ) ( ) ( )</p> <p>- وظیفه گلبول سفید ) ( ) ( )</p> <p>- جانداري که هسته مشخصی ندارد ) ( ) ( )</p> <p>- دو ویژگی فلزات ) ( ) ( )</p>	4
1	<p>علت هریک از موارد زیر را بنویسید.</p> <p>پزشکان توصیه می کنند چربی های حیوانی کمتر مصرف شود.</p> <p>پوست خرس های قطبی سفید رنگ است .</p>	5
1	<p>تفاوت موارد زیر را بنویسید ( یک مورد).</p> <p>- سرخگ با سیاهرگ</p> <p>- سلول گیاهی با جانوری</p>	6
1	<p>کارگری آجر 15 نیوتنی را با نیروی 50 نیوتنی تا ارتفاع 3 متری به طرف بالا پرتاب می کند.</p>	7

	کار کارگر را حساب کنید ( نوشتن فرمول ویکا الزامی است )	
2	کمبود هر یک از موارد زیر باعث چه بیماری یا مشکلی می شود؟ الف) ویتامین D ب) آهن ج) ویتامین A د) ید	8
1	منظور از فشارخون چیست؟	9
25 /1	 <p>باتوجه به شکل به سوالات داده شده پاسخ دهید ؟ الف ) شماره های 2 و 3 را نام گذاری کنید . ب) یکی از کارهای کلیه را بنویسید . ج) ادرار تشکیل شده در نفرون ابتدا به کدام قسمت می ریزد ؟</p>	1 0
5/ 0	دونمونه از کاربردهای انرژی زمین گرمایی را بنویسید .	1 1
1	برای هر کدام یک وظیفه بنویسید. خون: کبد:	1 2
1	<p>اگر جرم یک کلید 25 گرم باشد، با توجه به شکل چگالی کلید را محاسبه کنید. (نوشتن فرمول و واحد الزامی است.)</p> 	1 3



بارم	سوالات	ردیف
1	معنای لغات قرآنی داده شده را پیدا کنید و در جدول بنویسید؟ ( دو کلمه اضافی است ) (دانا - بیاموز- روزی - دانست - قرار داد - قرار می دهد) رِزْقُ : جَعَلَ : إِغْفِرُ : عَالِمُ :	1
1	معنای کلمات زیر را بنویسید؟ أَقِيمُوا دَهَبَ مَهْدَ قَضَلَ	2
25/6	ترکیب های زیر را معنا کنید ؟ - وَاعْبُدُوا رَبَّكُمْ (1) (75/0) - عَذَابٌ مُهِينٌ (5/0) (75/0) - إِنَّا مِنْ لَدُنْكَ (25/1) (75/0) - عَذُّوْا مُبِينًا (5/0) (75/0) - لِقَوْمٍ يَعْفُلُونَ ) - سَمِعُ الدُّعَاءِ - عَمَّا تَعْمَلُونَ - مِنْ دُرِّيَّتِي	3
75/0	این ترکیب ها را مانند نمونه کامل کنید ؟ ل + هُم لَهْم - برای آنها - برایشان ل + ه ه ..... - ..... - .....	4
5/0	جدول زیر را مانند نمونه کامل کنید ؟ جَنَّةَ بَهْشْتِ بَاغِ مُمُوتِهَ زَن مومِنِ جَنَاتِ بَهْشْتِ هَا بَاغِ هَا .....	5
1	به سوالات زیر جواب بدهید ؟ الف) معنای کلمه اَطِيعُونَ با کدام کلمه های داده شده هم معناست ؟ 1) اَطِيعُونَ <input type="checkbox"/> 2) اِطِيعُوهُ <input type="checkbox"/> 3) يُطِيعُ <input type="checkbox"/> 4) اَطِيعُونَ <input type="checkbox"/> ب) کدام کلمه معنای (سجده کردند) می دهد ؟ 1) عَمِلُوا <input type="checkbox"/> 2) وَجَدُوا <input type="checkbox"/> 3) سَجَدَ <input type="checkbox"/> 4) كَذَّبُوا <input type="checkbox"/> ج) کدامیک از کلمات قرآنی داده شده معنای ( هشدار دهنده ) می دهد؟ 1) بَشِيرٌ <input type="checkbox"/> 2) تَذِيرٌ <input type="checkbox"/> 3) حَكِيمٌ <input type="checkbox"/> 4) <input type="checkbox"/> د) مفرد (سُبُل) می شود: .....	6
5/8	عبارت های قرآنی زیر را ترجمه کنید؟ - قَالُوا يَا وَيْلَنَا إِنَّا كُنَّا ظَالِمِينَ (75/1) - قُلْ إِنَّمَا آتَا بَشَرٌ مِثْلُكُمْ يُوحَىٰ إِلَيَّْ (25/2) - وَوَجَدُوا مَا عَمِلُوا حَاضِرًا (25/1) - وَلَكِنَّ أَكْثَرَ النَّاسِ لَا يَشْكُرُونَ (1) - أَلَا إِنَّ وَعْدَ اللَّهِ حَقٌّ (25/1) - فَإِنَّ اللَّهَ لَا يُضِيعُ أَجْرَ الْمُحْسِنِينَ (1) از بین نمی برد	7
5/0	ص	8



	<p>غ          1) معنی کلمه ( اِئْمَا ) در کَیْبِ اِئْمَانِ لِيُكْمِلَ اللهُ ( قطعاً ) می باشد          2) معنی اَنْتُمْ وَ اِبَاءُكُمْ ( شما و پدرانتان )</p>	
5/0	<p>با دقت در کلمات قرآنی زیر حروف ناخوانا را داخل پرانتز بنویسید.          وَالْعَاقِبَةُ ( ) فَاعْفِرْ ( )</p>	9

موفق باشید



ردیف	سوالات	بارم
1	<p>جملات درست یا نادرست زیر را مشخص کنید.</p> <p>(الف) <input type="checkbox"/> ایران در بین کشورهای همسایه خود کشوری نسبتاً پر جمعیت است.</p> <p>(ب) <input type="checkbox"/> یکی بنادر مهم و مراکز گردشگری در سواحل خلیج فارس بندر چابهار است.</p> <p>(ج) <input type="checkbox"/> مردم تمدن جیرفت بر روی لوح های گلی قانونهایی که پادشاهان وضع کرده بودند می نوشتند.</p> <p>(د) <input type="checkbox"/> اصل قانون اساسی در مورد زبان و خط رسمی و مشترک ایران است.</p>	1
2	<p>جمله های زیر را کامل کنید.</p> <p>1- مهمترین محصول زراعی ایرانیان باستان ..... و ..... بود.</p> <p>2- به نسبت افرادی که در یک مکان زندگی می کنند ..... می گویند.</p> <p>3- پیروان زرتشت تعالیم او را در کتابی به نام ..... گردآوری کردند.</p> <p>4- موسسه بیمه برای جبران زیانهای ..... و ..... به وجود آمده است.</p> <p>5- در ایران باستان ..... هسته اولیه جامعه بود.</p> <p>6- در کشور ما مسئولیت سرشماری جمعیت به عهده ..... کشور است.</p> <p>7- مصرف کننده کسی است که ..... یا ..... را به منظور ..... خود می خرد.</p> <p>8- پیامبران سرزمین مصر ..... و ..... بودند.</p> <p>9- زبان ایرانیان در دوره هخامنشان ..... و در دوره ساسانیان و اشکانیان ..... بود.</p> <p>10- مورخان در کار خود از دانش ..... استفاده می کنند.</p> <p>11- در ایران باستان اغلب مردم در ..... زندگی می کردند و ..... بیشترین جمعیت آن زمان را تشکیل می دادند.</p>	5/4
3	<p>پاسخ درست را انتخاب کنید.</p> <p>1- رودهای موقت یا فصلی به کدام حوضه ی آبریز می ریزند؟</p> <p>(الف) حوضه ی آبریز خلیج فارس</p> <p>(ب) حوضه ی آبریز دریای خزر</p> <p>(ج) حوضه ی آبریز دریای عمان</p> <p>(د) حوضه ی آبریز دریای عمان</p> <p>2- شکل واقعی بخشهای مختلف سیاره ی زمین را از روی کدام بهتر می توان مشاهده کرد؟</p> <p>(الف) عکسهای هوایی</p> <p>(ب) کره جغرافیایی</p> <p>(ج) نقشه</p> <p>(د) کتابها و فرهنگ نامه ها</p> <p>3- گزینه ی <b>نادرست</b> را مشخص کنید.</p> <p>(الف) هنر سفال ساز = ایلام</p> <p>(ب) لروف سنگی = جیرفت</p> <p>(ج) چغا زنبیل = شوپ</p> <p>(د) سیلک = اذربایجان غربی</p> <p>4- در کدام دوره دین زردشتی دین رسمی کشور اعلام شد؟</p> <p>(الف) هخامنشیا</p> <p>(ب) مادها</p> <p>(ج) اشکانیان</p> <p>(د) ساسانیان</p>	2
4	<p>سوالات کوتاه پاسخ</p> <p>در زمان داریوش اداره ی هر ایالت به عهده چه کسی بود؟</p> <p>تاریخ دوره ی اسلامی با سقوط این حکومت همراه بود؟</p> <p>چیزهای ارزشمندی که به فرهنگ یک ملت مربوط می شود؟</p> <p>نخستین حکومت ایرانی را تشکیل دادند؟</p> <p>در ایران باستان چه کسانی می توانستند شاه را عزل یا برکنار کنند؟</p> <p>و .....</p>	5/1

5/1	آریائی هایی که به ایران وارد شدند شامل چه گروه هایی بودند و هر یک در کدام قسمت ایران ساکن شدند؟	5
1	دو وظیفه مهم شورای نگهبان را بنویسید .	6
1	پارکهای ملی به چه منظوری ایجاد شده است ؟ (دو مورد)	7
1	در دوره ساسانیان چه زمانی مالیات افزایش می یافت و چه زمانی بخشش هایی صورت می گرفت ؟	8
75/0	چرا مأمون ، امام رضا (ع) را به خراسان آورد و به ولایت عهدی برگزید ؟ ( سه مورد)	9
75/0	چرا در جلگه های کنار دریای خزر کشاورزی رونق فراوان دارد ؟ ( سه مورد)	10
75/0	چه عواملی باعث نابودی خاک می شود ؟ ( سه مورد)	11
75/0	مهمترین جشن های ایران باستان را نام ببرید . ( سه مورد)	12
75/0	انواع گردشگری را بنویسید . ( سه مورد)	13
75/0	ایرانیان باستان صادرکننده ی چه کالاهایی بودند ؟ ( سه مورد)	14
5/0	چرا رود های ایران برای کشتیرانی مناسب <u>نیستند</u> ؟	15
5/0	زیستگاه چیست ؟	16
5/0	مبداء تاریخ ما مسلمانان چیست ؟	17
5/0	در دوره ساسانیان طبقه ی عامه ی مردم از چه امتیازاتی محروم بودند ؟ ( دو مورد)	18