

روزها یکی پس از دیگری، می گذرد و همین که سپری شدند، باز آوردنشان محال است؛ از گذشته درس بگیریم و به آینده امیدوار باشیم.

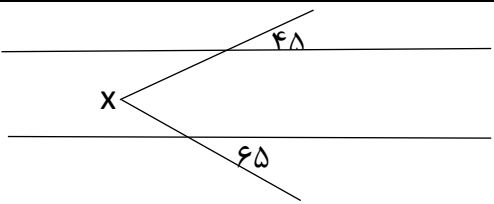
زندگی کردن به یادگیری اصول و روش هایی نیاز دارد. زندگی، یک سفر است. مدت این سفر برای عده ای کم و برای عده ای دیگر طولانی و پر فراز و نشیب است. اگر همیشه خود را یک مسافر به حساب بیاوریم، باید ویژگی های یک مسافر دائمی را در خود ایجاد کنیم.

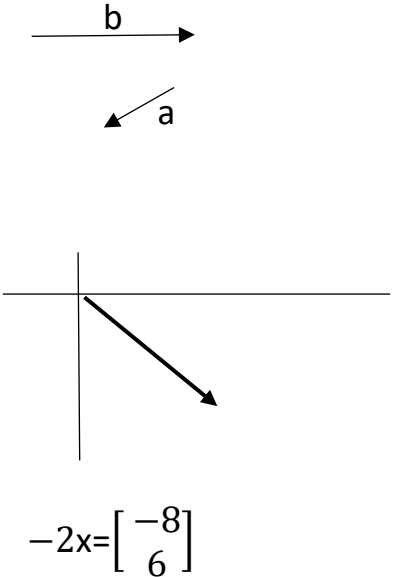
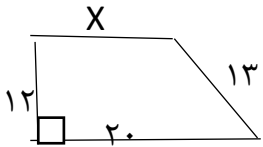
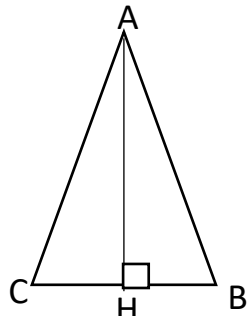
در آن ایام که دشمن، از آسمان و زمین، آتش بمب و موشک بر سر مردم بی گناه این سرزمین فرو می ریخت، ایران سرافراز هرگز رنگ نباخت و بر خود نلرزید و جنب و جوش خود را رها نکرد؛ پابرجا ماند و درس پاکی، پایداری و پاسداری را به انسان های آزاده و دل زنده جهان آموخت.

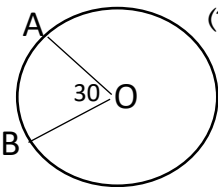
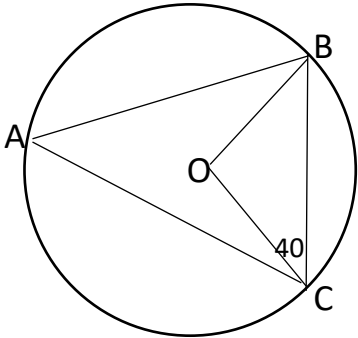
روزگار دریایی است که کشتی زندگانی ما بر روی آن به سوی ساحل مقصود می رود. این دریای بزرگ، همیشه در جزر و مد است. اگر امروز آرام باشد، مسلماً فردا توفانی خواهد شد؛ بنابراین وقتی آرام است، فرصت را غنیمت بشمارید.

بارم	پیام های آسمانی هشتم	ردیف
۱/۵	آیه شریفه را ترجمه کنید. (۱/۵) (یا ایها الذین آمنوا ولا یغتب بعضکم بعضا)	۱
۱/۲۵	جاهای خالی را کامل کنید. (۱) الف) نعمتهای بهشتی..... به بهشت فرستاده می شوند. ب) به فرموده پیامبر عبادت..... جزء دارد که..... جزء آن کار است. ج) مسلمانان به دو گروه..... و..... تقسیم می شوند.	۲
۱/۵	به سوالات زیر پاسخ کوتاه بدهید. (۱/۵) الف) به فرموده پیامبر پاداش کسی که در ماه رمضان اخلاق خود را نیکو کند چیست؟ ب) مهم ترین فایده روزه چیست؟ ج) نزدیک ترین دعاها به اجابت دعای چه کسی است؟	۳
۱/۲۵	سخن حضرت علی را درباره آفرینش انسان بیان کنید.	۴
۱	چرا خداوند پیامبر را اولین معلم قرآن قرار داد؟	۵
۱	سخن پیامبر درباره ثواب اذان گفتن بیان کنید.	۶
۱/۵	چه چیزهایی روزه را باطل می کند؟ (۳ مورد) -۱ -۲ -۳	۷
۱	آثار پوشش نامناسب را بیان کنید. (۲ مورد) -۱ -۲	۸

۹	مصرف گرایی چه زیان های فردی و اجتماعی را به دنبال دارد؟	۱
۱۰	عوامل هدر دادن عمر را بیان کنید. (۴ مورد)	۲
	<ul style="list-style-type: none"> -۱ -۲ -۳ -۴ 	
۱۱	بهترین راه درمان غیبت چیست؟	۱
۱۲	چند کار را نام ببرید که درآمد آن حرام است؟ (۳مورد)	۱/۵
	<ul style="list-style-type: none"> -۱ -۲ -۳ 	
۱۳	چهار مورد از آداب دعا کردن را بیان کنید.	۲
	<ul style="list-style-type: none"> -۱ -۲ -۳ -۴ 	
۱۴	سه مورد از وظایف یک مسلمان را نسبت به مسلمان دیگر بیان کنید.	۱/۵
	<ul style="list-style-type: none"> -۱ -۲ -۳ 	
۱۵	دعا کردن چه فوایدی دارد؟ (۲مورد)	۱
	<ul style="list-style-type: none"> -۱ -۲ 	

۱	<p>درستی و نادرستی را مشخص کنید.</p> <p>الف) قرینه هر عدد از خود عدد کوچکتر است.</p> <p>ب) اگر تمام اضلاع دو شکل برابر باشند آن دو شکل هم نهشتند.</p> <p>ج) شعاع نقطه تماس بر خط مماس عمود است.</p> <p>د) عدد $\sqrt{50}$ و $5\sqrt{2}$ با هم برابرند.</p>	۱
۱	<p>جاهای خالی عدد یا کلمه مناسب بگذارید.</p> <p>الف) هر نقطه روی پاره خط از دو سر ضلع به یک فاصله است.</p> <p>ب) اختلاف کمترین و بیشترین داده نام دارد.</p> <p>ج) در غربال عددهای اول بین ۱ تا ۱۰۰ بعد از حذف عدد ۴۹ عدد را حذف می کنیم.</p> <p>د) اندازه زاویه محاطی مقابل به قطر برابر است با.....</p>	۲
۱	<p>گزینه صحیح انتخاب کنید.</p> <p>الف) کدام یک از اعداد زیر گویا نیست.</p> <p>۱) صفر ۲) $\sqrt{36}$ ۳) $\frac{-8}{2}$ ۴) $\sqrt{17}$</p> <p>ب) محل برخورد عمود منصف دو وتر غیر موازی در دایره چه قسمتی از دایره است.</p> <p>۱) محیط دایره ۲) خارج دایره ۳) مرکز دایره ۴) نقطه ای غیر مرکز</p> <p>ب) ثلث عدد 9^6 برابر با</p> <p>۱) 3^2 ۲) 3^{11} ۳) 9^3 ۴) 9^5</p> <p>ج) مقدار عددی $x^3 - x$ به ازای $x = -1$ برابر است با</p> <p>۱) صفر ۲) ۱ ۳) ۲ ۴) ۳</p> <p>د) احتمال رخ دادن یک پیشامد $\frac{2}{7}$ است احتمال رخ ندادن چقدر است</p> <p>۱) $\frac{2}{7}$ ۲) $\frac{7}{7}$ ۳) $\frac{3}{7}$ ۴) $\frac{5}{7}$</p>	۳
۱	<p>الف) اندازه یک زاویه داخلی ۵ ضلعی منتظم را حساب کنید.</p> <p>ب) اندازه هر زاویه خارجی n ضلعی ۴۵ درجه است مقدار n را حساب کنید.</p>	۴
۱	<p>الف) عبارت جبری مقابل را ساده کنید.</p> <p>$(x - 7)(2x + 7) =$</p> <p>ب) عبارت جبری مقابل را تجزیه کنید.</p> <p>$18ab - 12a^2 =$</p>	۵
۱.۵	<p>اندازه زاویه مجهول بدست آورید.</p> 	۶

۷	معادله مقابل را حل کنید .	۱	$\frac{x-1}{2} = -\frac{3x+1}{3}$
۸	حاصل عبارتهای زیر را بدست آورید.	۱/۵	$1+2+3+\dots+99+100 =$ $-3\frac{2}{3} \div \left(-1\frac{1}{3} + \frac{1}{2}\right) =$
۹	الف) اگر بردار $a = 2i + j$ و $b = -a$ باشد مختصات $c = a - b$ را حساب کنید. ب) باتوجه به بردارهای داده شده بردار d را رسم کنید. $d = 2a - b$ ج) بردار داده شده روی امتداد داده شده تجزیه کنید. د) در معادله مختصاتی مقابل مختصات بردار x را حساب کنید .	۲	
۱۰	با توجه به شکل مقدار مجهول را حساب کنید.	۱	
۱۱	الف) عدد $-1 + \sqrt{8}$ روی محور نشان دهید. ب) عدد مقابل را به صورت ضرب یک عدد طبیعی و یک عدد رادیکالی بنویسید .	۱	$\sqrt{48}$
۱۲	در شکل مقابل AH عمود منصف ضلع BC است دلیل همنهشتی دو مثلث ABH و ACH را بنویسید .	۱	

۱	$4^9 \div (4^2)^3 =$ $\frac{3^3 + 3^3 + 3^3}{3^5} =$	حاصل به عدد تواندار بنویسید.	۱۳																
۱	$\sqrt{8} \times 5\sqrt{2} =$	$\frac{\sqrt{72}}{\sqrt{8}} =$	حاصل عبارات زیر را حساب کنید .	۱۴															
۱/۵	<table border="1"> <thead> <tr> <th>حدود دسته</th> <th>فراوانی</th> <th>مرکز دسته</th> <th>مرکز دسته × فراوانی</th> </tr> </thead> <tbody> <tr> <td>$0 \leq X < 20$</td> <td>۴</td> <td></td> <td></td> </tr> <tr> <td>$20 \leq X < 40$</td> <td></td> <td></td> <td>۱۸۰</td> </tr> <tr> <td>جمع</td> <td></td> <td></td> <td></td> </tr> </tbody> </table>	حدود دسته	فراوانی	مرکز دسته	مرکز دسته × فراوانی	$0 \leq X < 20$	۴			$20 \leq X < 40$			۱۸۰	جمع				جدول را کامل سپس بر اساس آن میانگین را محاسبه کنید.	۱۴
حدود دسته	فراوانی	مرکز دسته	مرکز دسته × فراوانی																
$0 \leq X < 20$	۴																		
$20 \leq X < 40$			۱۸۰																
جمع																			
۱/۵		<p>یک سکه و یک تاس را پرتاب می کنیم .</p> <p>الف) تعداد حالت های ممکن بنویسید.</p> <p>ب) احتمال اینکه سکه رو و تاس عدد ۵ بیاید چقدر است؟</p>	۱۵																
۱		دایره ای به شعاع ۴ سانتیمتر طول کمان مقابل به زاویه مرکزی را حساب کنید. ($\pi = 3$)	۱۶																
۱		فاصله مرکز دایره ای از خط برابر ۲ سانتیمتر و قطر دایره ۵ سانتیمتر بارسم شکل وضعیت خط و دایره را نسبت بهم نشان دهید. رابطه آنها بنویسید	۱۷																
۱		<p>الف) با توجه به شکل اندازه زاویه ها و کمانهای خواسته شده حساب کنید.</p> <p>$\widehat{BOC} =$ $\widehat{A} =$</p> <p>$\overset{\frown}{BC} =$</p> <p>ب) زاویه های محاطی مقابل به یک کمان..... هستند.</p>	۱۸																



دبیرستان نمونه و هوشمند رسولیان - ناحیه یک یزد

آزمون نوبت دوم انگلیسی - شنیداری پایه هشتم - ۱۱ خرداد ۱۴۰۱ - وقت ۲۰ دقیقه

نام: محمدطاها آبیبار

کلاس: ۸۰۱



دبیرستان نمونه و هوشمند رسولیان - ناحیه یک یزد

آزمون نوبت دوم انگلیسی - شنیداری پایه هشتم - ۱۱ خرداد ۱۴۰۱ - وقت ۲۰ دقیقه

نام: امیرحسین احمدی

کلاس: ۸۰۱



دبیرستان نمونه و هوشمند رسولیان - ناحیه یک یزد

آزمون نوبت دوم انگلیسی - شنیداری پایه هشتم - ۱۱ خرداد ۱۴۰۱ - وقت ۲۰ دقیقه

نام: امیرحسین امین الرعایا

کلاس: ۸۰۱



دبیرستان نمونه و هوشمند رسولیان - ناحیه یک یزد

آزمون نوبت دوم انگلیسی - شنیداری پایه هشتم - ۱۱ خرداد ۱۴۰۱ - وقت ۲۰ دقیقه

نام: سجاد پورعلی آبادی

کلاس: ۸۰۱



دبیرستان نمونه و هوشمند رسولیان - ناحیه یک یزد

آزمون نوبت دوم انگلیسی - شنیداری پایه هشتم - ۱۱ خرداد ۱۴۰۱ - وقت ۲۰ دقیقه

نام: معراج جلایر

کلاس: ۸۰۱



دبیرستان نمونه و هوشمند رسولیان - ناحیه یک یزد

آزمون نوبت دوم انگلیسی - شنیداری پایه هشتم - ۱۱ خرداد ۱۴۰۱ - وقت ۲۰ دقیقه

نام: سیددانیال حیدری

کلاس: ۸۰۱



دبیرستان نمونه و هوشمند رسولیان - ناحیه یک یزد

آزمون نوبت دوم انگلیسی - شنیداری پایه هشتم - ۱۱ خرداد ۱۴۰۱ - وقت ۲۰ دقیقه

نام: کامیار خزعلی

کلاس: ۸۰۱



دبیرستان نمونه و هوشمند رسولیان - ناحیه یک یزد

آزمون نوبت دوم انگلیسی - شنیداری پایه هشتم - ۱۱ خرداد ۱۴۰۱ - وقت ۲۰ دقیقه

نام: سینا خلیلی مجومرد

کلاس: ۸۰۱



دبیرستان نمونه و هوشمند رسولیان - ناحیه یک یزد

آزمون نوبت دوم انگلیسی - شنیداری پایه هشتم - ۱۱ خرداد ۱۴۰۱ - وقت ۲۰ دقیقه

نام: آریا خورشیدنام

کلاس: ۸۰۱



دبیرستان نمونه و هوشمند رسولیان - ناحیه یک یزد

آزمون نوبت دوم انگلیسی - شنیداری پایه هشتم - ۱۱ خرداد ۱۴۰۱ - وقت ۲۰ دقیقه

نام: ابوالفضل دانائی زارچی

کلاس: ۸۰۱



دبیرستان نمونه و هوشمند رسولیان - ناحیه یک یزد

آزمون نوبت دوم انگلیسی - شنیداری پایه هشتم - ۱۱ خرداد ۱۴۰۱ - وقت ۲۰ دقیقه

نام: امیرحسین دهستانی

کلاس: ۸۰۱

دبیرستان نمونه و هوشمند رسولیان - ناحیه یک یزد

آزمون نوبت دوم انگلیسی - شنیداری پایه هشتم - ۱۱ خرداد ۱۴۰۱ - وقت ۲۰ دقیقه

نام: محمدطاها دهقان طزرجانی

کلاس: ۸۰۱



دبیرستان نمونه و هوشمند رسولیان - ناحیه یک یزد

آزمون نوبت دوم انگلیسی - شنیداری پایه هشتم - ۱۱ خرداد ۱۴۰۱ - وقت ۲۰ دقیقه

نام: محمدجواد ذوالفقاری ندوشن

نام:

کلاس: ۸۰۱

کلاس:





دبیرستان نمونه و هوشمند رسولیان - ناحیه یک یزد

آزمون نوبت دوم انگلیسی - شنیداری پایه هشتم - ۱۱ خرداد ۱۴۰۱ - وقت ۲۰ دقیقه

نام: **علی رحیمیان**

کلاس: **۸۰۱**



دبیرستان نمونه و هوشمند رسولیان - ناحیه یک یزد

آزمون نوبت دوم انگلیسی - شنیداری پایه هشتم - ۱۱ خرداد ۱۴۰۱ - وقت ۲۰ دقیقه

نام: وحیدرضا زارع زردینی

کلاس: ۸۰۱

دبیرستان نمونه و هوشمند رسولیان - ناحیه یک یزد

آزمون نوبت دوم انگلیسی - شنیداری پایه هشتم - ۱۱ خرداد ۱۴۰۱ - وقت ۲۰ دقیقه

نام: ابوالفضل سلطانی

گرددفراهمری

کلاس: ۸۰۱





دبیرستان نمونه و هوشمند رسولیان - ناحیه یک یزد

آزمون نوبت دوم انگلیسی - شنیداری پایه هشتم - ۱۱ خرداد ۱۴۰۱ - وقت ۲۰ دقیقه

نام: محمدامین عبداللہی

کلاس: ۸۰۱



دبیرستان نمونه و هوشمند رسولیان - ناحیه یک یزد

آزمون نوبت دوم انگلیسی - شنیداری پایه هشتم - ۱۱ خرداد ۱۴۰۱ - وقت ۲۰ دقیقه

نام: معین غدیر

کلاس: ۸۰۱



دبیرستان نمونه و هوشمند رسولیان - ناحیه یک یزد

آزمون نوبت دوم انگلیسی - شنیداری پایه هشتم - ۱۱ خرداد ۱۴۰۱ - وقت ۲۰ دقیقه

نام: پویان فاتحی

کلاس: ۸۰۱



دبیرستان نمونه و هوشمند رسولیان - ناحیه یک یزد

آزمون نوبت دوم انگلیسی - شنیداری پایه هشتم - ۱۱ خرداد ۱۴۰۱ - وقت ۲۰ دقیقه

نام: سامان فرزادنیا

کلاس: ۸۰۱



دبیرستان نمونه و هوشمند رسولیان - ناحیه یک یزد

آزمون نوبت دوم انگلیسی - شنیداری پایه هشتم - ۱۱ خرداد ۱۴۰۱ - وقت ۲۰ دقیقه

نام: محمد قانع عز آبادی

کلاس: ۸۰۱



دبیرستان نمونه و هوشمند رسولیان - ناحیه یک یزد

آزمون نوبت دوم انگلیسی - شنیداری پایه هشتم - ۱۱ خرداد ۱۴۰۱ - وقت ۲۰ دقیقه

نام: سینا قدمی

کلاس: ۸۰۱



دبیرستان نمونه و هوشمند رسولیان - ناحیه یک یزد

آزمون نوبت دوم انگلیسی - شنیداری پایه هشتم - ۱۱ خرداد ۱۴۰۱ - وقت ۲۰ دقیقه

نام: حسین کارگر بیده

کلاس: ۸۰۱

دبیرستان نمونه و هوشمند رسولیان - ناحیه یک یزد

آزمون نوبت دوم انگلیسی - شنیداری پایه هشتم - ۱۱ خرداد ۱۴۰۱ - وقت ۲۰ دقیقه

نام: علیرضا محمودآبادی

کلاس: ۸۰۱



دبیرستان نمونه و هوشمند رسولیان - ناحیه یک یزد

آزمون نوبت دوم انگلیسی - شنیداری پایه هشتم - ۱۱ خرداد ۱۴۰۱ - وقت ۲۰ دقیقه

نام: امیررضا میرجلیلی

کلاس: ۸۰۱





دبیرستان نمونه و هوشمند رسولیان - ناحیه یک یزد

آزمون نوبت دوم انگلیسی - شنیداری پایه هشتم - ۱۱ خرداد ۱۴۰۱ - وقت ۲۰ دقیقه

نام: سیدابوالفضل میرجلیلی

کلاس: ۸۰۱



دبیرستان نمونه و هوشمند رسولیان - ناحیه یک یزد

آزمون نوبت دوم انگلیسی - شنیداری پایه هشتم - ۱۱ خرداد ۱۴۰۱ - وقت ۲۰ دقیقه

نام: محمدسجاد میرشمسی

کلاس: ۸۰۱

دبیرستان نمونه و هوشمند رسولیان - ناحیه یک یزد

آزمون نوبت دوم انگلیسی - شنیداری پایه هشتم - ۱۱ خرداد ۱۴۰۱ - وقت ۲۰ دقیقه

نام: محمد امین نظریان ندوشن

کلاس: ۸۰۱



دبیرستان نمونه و هوشمند رسولیان - ناحیه یک یزد

آزمون نوبت دوم انگلیسی - شنیداری پایه هشتم - ۱۱ خرداد ۱۴۰۱ - وقت ۲۰ دقیقه

نام: محمدمتین نعیمی

کلاس: ۸۰۱





دبیرستان نمونه و هوشمند رسولیان - ناحیه یک یزد

آزمون نوبت دوم انگلیسی - شنیداری پایه هشتم - ۱۱ خرداد ۱۴۰۱ - وقت ۲۰ دقیقه

نام: محمدپارسا نوروزپورهنزائی

کلاس: ۸۰۱



دبیرستان نمونه و هوشمند رسولیان - ناحیه یک یزد

آزمون نوبت دوم انگلیسی - شنیداری پایه هشتم - ۱۱ خرداد ۱۴۰۱ - وقت ۲۰ دقیقه

نام: سیددانیال احمدی هنزائی

کلاس: ۸۰۲



دبیرستان نمونه و هوشمند رسولیان - ناحیه یک یزد

آزمون نوبت دوم انگلیسی - شنیداری پایه هشتم - ۱۱ خرداد ۱۴۰۱ - وقت ۲۰ دقیقه

نام: علیرضا امین الرعایائی

کلاس: ۸۰۲



دبیرستان نمونه و هوشمند رسولیان - ناحیه یک یزد

آزمون نوبت دوم انگلیسی - شنیداری پایه هشتم - ۱۱ خرداد ۱۴۰۱ - وقت ۲۰ دقیقه

نام: محمدعلی برزگر بیوکی

کلاس: ۸۰۲



دبیرستان نمونه و هوشمند رسولیان - ناحیه یک یزد

آزمون نوبت دوم انگلیسی - شنیداری پایه هشتم - ۱۱ خرداد ۱۴۰۱ - وقت ۲۰ دقیقه

نام: **علی جمال پور**

کلاس: **۸۰۲**

دبیرستان نمونه و هوشمند رسولیان - ناحیه یک یزد

آزمون نوبت دوم انگلیسی - شنیداری پایه هشتم - ۱۱ خرداد ۱۴۰۱ - وقت ۲۰ دقیقه

نام: سیدعلی حسینی زاده

خضرآباد

کلاس: ۸۰۲





دبیرستان نمونه و هوشمند رسولیان - ناحیه یک یزد

آزمون نوبت دوم انگلیسی - شنیداری پایه هشتم - ۱۱ خرداد ۱۴۰۱ - وقت ۲۰ دقیقه

نام: **علی حیدری بندرآبادی**

کلاس: **۸۰۲**



دبیرستان نمونه و هوشمند رسولیان - ناحیه یک یزد

آزمون نوبت دوم انگلیسی - شنیداری پایه هشتم - ۱۱ خرداد ۱۴۰۱ - وقت ۲۰ دقیقه

نام: امیر رضا دهقان

کلاس: ۸۰۲



دبیرستان نمونه و هوشمند رسولیان - ناحیه یک یزد

آزمون نوبت دوم انگلیسی - شنیداری پایه هشتم - ۱۱ خرداد ۱۴۰۱ - وقت ۲۰ دقیقه

نام: امیررضا دهقانی سانج

کلاس: ۸۰۲

دبیرستان نمونه و هوشمند رسولیان - ناحیه یک یزد

آزمون نوبت دوم انگلیسی - شنیداری پایه هشتم - ۱۱ خرداد ۱۴۰۱ - وقت ۲۰ دقیقه

نام: سبحان دهقانی فیروزآبادی

کلاس: ۸۰۲



دبیرستان نمونه و هوشمند رسولیان - ناحیه یک یزد

آزمون نوبت دوم انگلیسی - شنیداری پایه هشتم - ۱۱ خرداد ۱۴۰۱ - وقت ۲۰ دقیقه

نام: ایلیا رضائی دشت آبادی

کلاس: ۸۰۲



دبیرستان نمونه و هوشمند رسولیان - ناحیه یک یزد

آزمون نوبت دوم انگلیسی - شنیداری پایه هشتم - ۱۱ خرداد ۱۴۰۱ - وقت ۲۰ دقیقه



نام: محمدپارسا رعیت ابراهیم

آبادی

کلاس: ۸۰۲



دبیرستان نمونه و هوشمند رسولیان - ناحیه یک یزد

آزمون نوبت دوم انگلیسی - شنیداری پایه هشتم - ۱۱ خرداد ۱۴۰۱ - وقت ۲۰ دقیقه

نام: امیرمهدی زاده دهقان

کلاس: ۸۰۲

دبیرستان نمونه و هوشمند رسولیان - ناحیه یک یزد

آزمون نوبت دوم انگلیسی - شنیداری پایه هشتم - ۱۱ خرداد ۱۴۰۱ - وقت ۲۰ دقیقه

نام: معین زارع

کلاس: ۸۰۲





دبیرستان نمونه و هوشمند رسولیان - ناحیه یک یزد

آزمون نوبت دوم انگلیسی - شنیداری پایه هشتم - ۱۱ خرداد ۱۴۰۱ - وقت ۲۰ دقیقه

نام: عارف زاهدنیا

کلاس: ۸۰۲



دبیرستان نمونه و هوشمند رسولیان - ناحیه یک یزد

آزمون نوبت دوم انگلیسی - شنیداری پایه هشتم - ۱۱ خرداد ۱۴۰۱ - وقت ۲۰ دقیقه

نام: سیدابوالفضل ساداتی

کلاس: ۸۰۲



دبیرستان نمونه و هوشمند رسولیان - ناحیه یک یزد

آزمون نوبت دوم انگلیسی - شنیداری پایه هشتم - ۱۱ خرداد ۱۴۰۱ - وقت ۲۰ دقیقه

نام: محمد سینا سلطانی

کلاس: ۸۰۲

دبیرستان نمونه و هوشمند رسولیان - ناحیه یک یزد

آزمون نوبت دوم انگلیسی - شنیداری پایه هشتم - ۱۱ خرداد ۱۴۰۱ - وقت ۲۰ دقیقه

نام: محمدطاها سلطانی

گرددفرامرزی

کلاس: ۸۰۲





دبیرستان نمونه و هوشمند رسولیان - ناحیه یک یزد

آزمون نوبت دوم انگلیسی - شنیداری پایه هشتم - ۱۱ خرداد ۱۴۰۱ - وقت ۲۰ دقیقه

نام: حسین شاطرائی

کلاس: ۸۰۲

دبیرستان نمونه و هوشمند رسولیان - ناحیه یک یزد

آزمون نوبت دوم انگلیسی - شنیداری پایه هشتم - ۱۱ خرداد ۱۴۰۱ - وقت ۲۰ دقیقه

نام: امیرحسین شمس الدینی

زارچ

کلاس: ۸۰۲





دبیرستان نمونه و هوشمند رسولیان - ناحیه یک یزد

آزمون نوبت دوم انگلیسی - شنیداری پایه هشتم - ۱۱ خرداد ۱۴۰۱ - وقت ۲۰ دقیقه

نام: سیدامیررضا طباطبائی

کلاس: ۸۰۲



دبیرستان نمونه و هوشمند رسولیان - ناحیه یک یزد

آزمون نوبت دوم انگلیسی - شنیداری پایه هشتم - ۱۱ خرداد ۱۴۰۱ - وقت ۲۰ دقیقه

نام: محمد عشقان ملک

کلاس: ۸۰۲



دبیرستان نمونه و هوشمند رسولیان - ناحیه یک یزد

آزمون نوبت دوم انگلیسی - شنیداری پایه هشتم - ۱۱ خرداد ۱۴۰۱ - وقت ۲۰ دقیقه

نام: محمدطاها غنی نی زارچ

کلاس: ۸۰۲

دبیرستان نمونه و هوشمند رسولیان - ناحیه یک یزد

آزمون نوبت دوم انگلیسی - شنیداری پایه هشتم - ۱۱ خرداد ۱۴۰۱ - وقت ۲۰ دقیقه

نام: آراین فرهی

کلاس: ۸۰۲





دبیرستان نمونه و هوشمند رسولیان - ناحیه یک یزد

آزمون نوبت دوم انگلیسی - شنیداری پایه هشتم - ۱۱ خرداد ۱۴۰۱ - وقت ۲۰ دقیقه

نام: هومان فلفلی

کلاس: ۸۰۲



دبیرستان نمونه و هوشمند رسولیان - ناحیه یک یزد

آزمون نوبت دوم انگلیسی - شنیداری پایه هشتم - ۱۱ خرداد ۱۴۰۱ - وقت ۲۰ دقیقه

نام: سینا کارگرشورکی

کلاس: ۸۰۲



دبیرستان نمونه و هوشمند رسولیان - ناحیه یک یزد

آزمون نوبت دوم انگلیسی - شنیداری پایه هشتم - ۱۱ خرداد ۱۴۰۱ - وقت ۲۰ دقیقه

نام: امیرمحمد کاظمی دمنه

کلاس: ۸۰۲

دبیرستان نمونه و هوشمند رسولیان - ناحیه یک یزد

آزمون نوبت دوم انگلیسی - شنیداری پایه هشتم - ۱۱ خرداد ۱۴۰۱ - وقت ۲۰ دقیقه

نام: محمدامین میرجلیلی

کلاس: ۸۰۲





دبیرستان نمونه و هوشمند رسولیان - ناحیه یک یزد

آزمون نوبت دوم انگلیسی - شنیداری پایه هشتم - ۱۱ خرداد ۱۴۰۱ - وقت ۲۰ دقیقه

نام: محمد مهدی میر جلیلی

کلاس: ۸۰۲

دبیرستان نمونه و هوشمند رسولیان - ناحیه یک یزد

آزمون نوبت دوم انگلیسی - شنیداری پایه هشتم - ۱۱ خرداد ۱۴۰۱ - وقت ۲۰ دقیقه

نام: سیدمحمدجواد میرحسینی

کلاس: ۸۰۲





دبیرستان نمونه و هوشمند رسولیان - ناحیه یک یزد

آزمون نوبت دوم انگلیسی - شنیداری پایه هشتم - ۱۱ خرداد ۱۴۰۱ - وقت ۲۰ دقیقه

نام: ماهان نواب پور

کلاس: ۸۰۲



دبیرستان نمونه و هوشمند رسولیان - ناحیه یک یزد

آزمون نوبت دوم انگلیسی - شنیداری پایه هشتم - ۱۱ خرداد ۱۴۰۱ - وقت ۲۰ دقیقه

نام: سپنتا یزدانی

کلاس: ۸۰۲



دبیرستان نمونه و هوشمند رسولیان - ناحیه یک یزد

آزمون نوبت دوم انگلیسی - شنیداری پایه هشتم - ۱۱ خرداد ۱۴۰۱ - وقت ۲۰ دقیقه

نام: امیرعلی ارزانی

کلاس: ۸۰۳

دبیرستان نمونه و هوشمند رسولیان - ناحیه یک یزد

آزمون نوبت دوم انگلیسی - شنیداری پایه هشتم - ۱۱ خرداد ۱۴۰۱ - وقت ۲۰ دقیقه

نام: پوریا توکل

کلاس: ۸۰۳





دبیرستان نمونه و هوشمند رسولیان - ناحیه یک یزد

آزمون نوبت دوم انگلیسی - شنیداری پایه هشتم - ۱۱ خرداد ۱۴۰۱ - وقت ۲۰ دقیقه

نام: حسن حسن پوربهبادی

کلاس: ۸۰۳



دبیرستان نمونه و هوشمند رسولیان - ناحیه یک یزد

آزمون نوبت دوم انگلیسی - شنیداری پایه هشتم - ۱۱ خرداد ۱۴۰۱ - وقت ۲۰ دقیقه

نام: **طاها خطائی نسب**

کلاس: **۸۰۳**



دبیرستان نمونه و هوشمند رسولیان - ناحیه یک یزد

آزمون نوبت دوم انگلیسی - شنیداری پایه هشتم - ۱۱ خرداد ۱۴۰۱ - وقت ۲۰ دقیقه

نام: محمدیاسین خوشنود

کلاس: ۸۰۳



دبیرستان نمونه و هوشمند رسولیان - ناحیه یک یزد

آزمون نوبت دوم انگلیسی - شنیداری پایه هشتم - ۱۱ خرداد ۱۴۰۱ - وقت ۲۰ دقیقه

نام: محمد عرفان دستوار

کلاس: ۸۰۳

دبیرستان نمونه و هوشمند رسولیان - ناحیه یک یزد

آزمون نوبت دوم انگلیسی - شنیداری پایه هشتم - ۱۱ خرداد ۱۴۰۱ - وقت ۲۰ دقیقه

نام: امید دهقانی اشکذری

کلاس: ۸۰۳





دبیرستان نمونه و هوشمند رسولیان - ناحیه یک یزد

آزمون نوبت دوم انگلیسی - شنیداری پایه هشتم - ۱۱ خرداد ۱۴۰۱ - وقت ۲۰ دقیقه

نام: محمدمتین رضائی مقدم

کلاس: ۸۰۳



دبیرستان نمونه و هوشمند رسولیان - ناحیه یک یزد

آزمون نوبت دوم انگلیسی - شنیداری پایه هشتم - ۱۱ خرداد ۱۴۰۱ - وقت ۲۰ دقیقه

نام: یاسین زارع بیدکی

کلاس: ۸۰۳



دبیرستان نمونه و هوشمند رسولیان - ناحیه یک یزد

آزمون نوبت دوم انگلیسی - شنیداری پایه هشتم - ۱۱ خرداد ۱۴۰۱ - وقت ۲۰ دقیقه

نام: ابوالفضل زارع زردینی

کلاس: ۸۰۳



دبیرستان نمونه و هوشمند رسولیان - ناحیه یک یزد

آزمون نوبت دوم انگلیسی - شنیداری پایه هشتم - ۱۱ خرداد ۱۴۰۱ - وقت ۲۰ دقیقه

نام: حسین سلطانی

کلاس: ۸۰۳



دبیرستان نمونه و هوشمند رسولیان - ناحیه یک یزد

آزمون نوبت دوم انگلیسی - شنیداری پایه هشتم - ۱۱ خرداد ۱۴۰۱ - وقت ۲۰ دقیقه

نام: محمد معراج سلطانی

کلاس: ۸۰۳

دبیرستان نمونه و هوشمند رسولیان - ناحیه یک یزد

آزمون نوبت دوم انگلیسی - شنیداری پایه هشتم - ۱۱ خرداد ۱۴۰۱ - وقت ۲۰ دقیقه

نام: امیرمحمد سلطانی

کلاس: ۸۰۳



دبیرستان نمونه و هوشمند رسولیان - ناحیه یک یزد

آزمون نوبت دوم انگلیسی - شنیداری پایه هشتم - ۱۱ خرداد ۱۴۰۱ - وقت ۲۰ دقیقه



نام: محسن سیف الدینی

بنادکوی

کلاس: ۸۰۳



دبیرستان نمونه و هوشمند رسولیان - ناحیه یک یزد

آزمون نوبت دوم انگلیسی - شنیداری پایه هشتم - ۱۱ خرداد ۱۴۰۱ - وقت ۲۰ دقیقه

نام: مستعان شجاع الساداتی

کلاس: ۸۰۳



دبیرستان نمونه و هوشمند رسولیان - ناحیه یک یزد

آزمون نوبت دوم انگلیسی - شنیداری پایه هشتم - ۱۱ خرداد ۱۴۰۱ - وقت ۲۰ دقیقه

نام: سیدمحمدطاها شهابی یزدی

کلاس: ۸۰۳



دبیرستان نمونه و هوشمند رسولیان - ناحیه یک یزد

آزمون نوبت دوم انگلیسی - شنیداری پایه هشتم - ۱۱ خرداد ۱۴۰۱ - وقت ۲۰ دقیقه

نام: محمد صالح عبداللہی

کلاس: ۸۰۳



دبیرستان نمونه و هوشمند رسولیان - ناحیه یک یزد

آزمون نوبت دوم انگلیسی - شنیداری پایه هشتم - ۱۱ خرداد ۱۴۰۱ - وقت ۲۰ دقیقه

نام: کارن کریمی

کلاس: ۸۰۳

دبیرستان نمونه و هوشمند رسولیان - ناحیه یک یزد

آزمون نوبت دوم انگلیسی - شنیداری پایه هشتم - ۱۱ خرداد ۱۴۰۱ - وقت ۲۰ دقیقه

نام: مبین گل زارگردفرامرزی

کلاس: ۸۰۳





دبیرستان نمونه و هوشمند رسولیان - ناحیه یک یزد

آزمون نوبت دوم انگلیسی - شنیداری پایه هشتم - ۱۱ خرداد ۱۴۰۱ - وقت ۲۰ دقیقه

نام: سیدعمادالدین محمدی

کلاس: ۸۰۳



دبیرستان نمونه و هوشمند رسولیان - ناحیه یک یزد

آزمون نوبت دوم انگلیسی - شنیداری پایه هشتم - ۱۱ خرداد ۱۴۰۱ - وقت ۲۰ دقیقه

نام: حمیدرضا مظفری دهشیری

کلاس: ۸۰۳



دبیرستان نمونه و هوشمند رسولیان - ناحیه یک یزد

آزمون نوبت دوم انگلیسی - شنیداری پایه هشتم - ۱۱ خرداد ۱۴۰۱ - وقت ۲۰ دقیقه

نام: متین ملانوری شمسی

کلاس: ۸۰۳



دبیرستان نمونه و هوشمند رسولیان - ناحیه یک یزد

آزمون نوبت دوم انگلیسی - شنیداری پایه هشتم - ۱۱ خرداد ۱۴۰۱ - وقت ۲۰ دقیقه

نام: سجاد مهدی

کلاس: ۸۰۳



دبیرستان نمونه و هوشمند رسولیان - ناحیه یک یزد

آزمون نوبت دوم انگلیسی - شنیداری پایه هشتم - ۱۱ خرداد ۱۴۰۱ - وقت ۲۰ دقیقه

نام: سیدصادق موسوی ندوشن

کلاس: ۸۰۳



دبیرستان نمونه و هوشمند رسولیان - ناحیه یک یزد

آزمون نوبت دوم انگلیسی - شنیداری پایه هشتم - ۱۱ خرداد ۱۴۰۱ - وقت ۲۰ دقیقه

نام: محمد معین میر جلیلی

کلاس: ۸۰۳



دبیرستان نمونه و هوشمند رسولیان - ناحیه یک یزد

آزمون نوبت دوم انگلیسی - شنیداری پایه هشتم - ۱۱ خرداد ۱۴۰۱ - وقت ۲۰ دقیقه

نام: محمدیاسین میرجلیلی

کلاس: ۸۰۳



دبیرستان نمونه و هوشمند رسولیان - ناحیه یک یزد

آزمون نوبت دوم انگلیسی - شنیداری پایه هشتم - ۱۱ خرداد ۱۴۰۱ - وقت ۲۰ دقیقه

نام: سهراب میرزازضائی

کلاس: ۸۰۳



دبیرستان نمونه و هوشمند رسولیان - ناحیه یک یزد

آزمون نوبت دوم انگلیسی - شنیداری پایه هشتم - ۱۱ خرداد ۱۴۰۱ - وقت ۲۰ دقیقه

نام: محمدمیثم نادری سامانی

کلاس: ۸۰۳

دبیرستان نمونه و هوشمند رسولیان - ناحیه یک یزد

آزمون نوبت دوم انگلیسی - شنیداری پایه هشتم - ۱۱ خرداد ۱۴۰۱ - وقت ۲۰ دقیقه

نام: محمدطاها نوق جوزم

کلاس: ۸۰۳





دبیرستان نمونه و هوشمند رسولیان - ناحیه یک یزد

آزمون نوبت دوم انگلیسی - نوشتاری پایه هشتم - ۱۱ خرداد ۱۴۰۱ - وقت ۴۵ دقیقه

نام: محمدطاها آبیبار

کلاس: ۸۰۱



دبیرستان نمونه و هوشمند رسولیان - ناحیه یک یزد

آزمون نوبت دوم انگلیسی - نوشتاری پایه هشتم - ۱۱ خرداد ۱۴۰۱ - وقت ۴۵ دقیقه

نام: امیرحسین احمدی

کلاس: ۸۰۱



دبیرستان نمونه و هوشمند رسولیان - ناحیه یک یزد

آزمون نوبت دوم انگلیسی - نوشتاری پایه هشتم - ۱۱ خرداد ۱۴۰۱ - وقت ۴۵ دقیقه

نام: امیرحسین امین الرعایا

کلاس: ۸۰۱



دبیرستان نمونه و هوشمند رسولیان - ناحیه یک یزد

آزمون نوبت دوم انگلیسی - نوشتاری پایه هشتم - ۱۱ خرداد ۱۴۰۱ - وقت ۴۵ دقیقه

نام: سجاد پورعلی آبادی

کلاس: ۸۰۱



دبیرستان نمونه و هوشمند رسولیان - ناحیه یک یزد

آزمون نوبت دوم انگلیسی - نوشتاری پایه هشتم - ۱۱ خرداد ۱۴۰۱ - وقت ۴۵ دقیقه

نام: معراج جلایر

کلاس: ۸۰۱



دبیرستان نمونه و هوشمند رسولیان - ناحیه یک یزد

آزمون نوبت دوم انگلیسی - نوشتاری پایه هشتم - ۱۱ خرداد ۱۴۰۱ - وقت ۴۵ دقیقه

نام: سیددانیال حیدری

کلاس: ۸۰۱



دبیرستان نمونه و هوشمند رسولیان - ناحیه یک یزد

آزمون نوبت دوم انگلیسی - نوشتاری پایه هشتم - ۱۱ خرداد ۱۴۰۱ - وقت ۴۵ دقیقه

نام: کامیار خزعلی

کلاس: ۸۰۱



دبیرستان نمونه و هوشمند رسولیان - ناحیه یک یزد

آزمون نوبت دوم انگلیسی - نوشتاری پایه هشتم - ۱۱ خرداد ۱۴۰۱ - وقت ۴۵ دقیقه

نام: سینا خلیلی مجومرد

کلاس: ۸۰۱



دبیرستان نمونه و هوشمند رسولیان - ناحیه یک یزد

آزمون نوبت دوم انگلیسی - نوشتاری پایه هشتم - ۱۱ خرداد ۱۴۰۱ - وقت ۴۵ دقیقه

نام: آریا خورشیدنام

کلاس: ۸۰۱



دبیرستان نمونه و هوشمند رسولیان - ناحیه یک یزد

آزمون نوبت دوم انگلیسی - نوشتاری پایه هشتم - ۱۱ خرداد ۱۴۰۱ - وقت ۴۵ دقیقه

ابوالفضل دانائی زارچی

نام:

۸۰۱

کلاس:



دبیرستان نمونه و هوشمند رسولیان - ناحیه یک یزد

آزمون نوبت دوم انگلیسی - نوشتاری پایه هشتم - ۱۱ خرداد ۱۴۰۱ - وقت ۴۵ دقیقه

نام: امیرحسین دهستانی

کلاس: ۸۰۱

دبیرستان نمونه و هوشمند رسولیان - ناحیه یک یزد

آزمون نوبت دوم انگیزی - نوشتاری پایه هشتم - ۱۱ خرداد ۱۴۰۱ - وقت ۴۵ دقیقه

نام: محمدطاها دهقان طزرجانی

کلاس: ۸۰۱



دبیرستان نمونه و هوشمند رسولیان - ناحیه یک یزد

آزمون نوبت دوم انگیزی - نوشتاری پایه هشتم - ۱۱ خرداد ۱۴۰۱ - وقت ۴۵ دقیقه

نام: محمدجواد ذوالفقاری ندوشن

کلاس: ۸۰۱



Photo Lencxxy



دبیرستان نمونه و هوشمند رسولیان - ناحیه یک یزد

آزمون نوبت دوم انگیزی - نوشتاری پایه هشتم - ۱۱ خرداد ۱۴۰۱ - وقت ۴۵ دقیقه

نام: **علی رحیمیان**

کلاس: **۸۰۱**



دبیرستان نمونه و هوشمند رسولیان - ناحیه یک یزد

آزمون نوبت دوم انگلیسی - نوشتاری پایه هشتم - ۱۱ خرداد ۱۴۰۱ - وقت ۴۵ دقیقه

نام: وحیدرضا زارع زردینی

کلاس: ۸۰۱

دبیرستان نمونه و هوشمند رسولیان - ناحیه یک یزد

آزمون نوبت دوم انگلیسی - نوشتاری پایه هشتم - ۱۱ خرداد ۱۴۰۱ - وقت ۴۵ دقیقه

نام: ابوالفضل سلطانی

گرددفراهمری

کلاس: ۸۰۱





دبیرستان نمونه و هوشمند رسولیان - ناحیه یک یزد

آزمون نوبت دوم انگلیسی - نوشتاری پایه هشتم - ۱۱ خرداد ۱۴۰۱ - وقت ۴۵ دقیقه

نام: محمدامین عبداللہی

کلاس: ۸۰۱



دبیرستان نمونه و هوشمند رسولیان - ناحیه یک یزد

آزمون نوبت دوم انگلیسی - نوشتاری پایه هشتم - ۱۱ خرداد ۱۴۰۱ - وقت ۴۵ دقیقه

نام: معین غدیر

کلاس: ۸۰۱



دبیرستان نمونه و هوشمند رسولیان - ناحیه یک یزد

آزمون نوبت دوم انگلیسی - نوشتاری پایه هشتم - ۱۱ خرداد ۱۴۰۱ - وقت ۴۵ دقیقه

نام: پویان فاتحی

کلاس: ۸۰۱



دبیرستان نمونه و هوشمند رسولیان - ناحیه یک یزد

آزمون نوبت دوم انگلیسی - نوشتاری پایه هشتم - ۱۱ خرداد ۱۴۰۱ - وقت ۴۵ دقیقه

نام: سامان فرزادینیا

کلاس: ۸۰۱



دبیرستان نمونه و هوشمند رسولیان - ناحیه یک یزد

آزمون نوبت دوم انگلیسی - نوشتاری پایه هشتم - ۱۱ خرداد ۱۴۰۱ - وقت ۴۵ دقیقه

نام: محمد قانع عز آبادی

کلاس: ۸۰۱



دبیرستان نمونه و هوشمند رسولیان - ناحیه یک یزد

آزمون نوبت دوم انگلیسی - نوشتاری پایه هشتم - ۱۱ خرداد ۱۴۰۱ - وقت ۴۵ دقیقه

نام: سینا قدمی

کلاس: ۸۰۱



دبیرستان نمونه و هوشمند رسولیان - ناحیه یک یزد

آزمون نوبت دوم انگلیسی - نوشتاری پایه هشتم - ۱۱ خرداد ۱۴۰۱ - وقت ۴۵ دقیقه

نام: حسین کارگر بیده

کلاس: ۸۰۱



دبیرستان نمونه و هوشمند رسولیان - ناحیه یک یزد

آزمون نوبت دوم انگلیسی - نوشتاری پایه هشتم - ۱۱ خرداد ۱۴۰۱ - وقت ۴۵ دقیقه

نام: علیرضا محمودآبادی

کلاس: ۸۰۱



دبیرستان نمونه و هوشمند رسولیان - ناحیه یک یزد

آزمون نوبت دوم انگلیسی - نوشتاری پایه هشتم - ۱۱ خرداد ۱۴۰۱ - وقت ۴۵ دقیقه

نام: امیررضا میرجلیلی

کلاس: ۸۰۱



دبیرستان نمونه و هوشمند رسولیان - ناحیه یک یزد

آزمون نوبت دوم انگلیسی - نوشتاری پایه هشتم - ۱۱ خرداد ۱۴۰۱ - وقت ۴۵ دقیقه

نام: سیدابوالفضل میرجلیلی

کلاس: ۸۰۱



دبیرستان نمونه و هوشمند رسولیان - ناحیه یک یزد

آزمون نوبت دوم انگلیسی - نوشتاری پایه هشتم - ۱۱ خرداد ۱۴۰۱ - وقت ۴۵ دقیقه

نام: محمدسجاد میرشمسی

کلاس: ۸۰۱

دبیرستان نمونه و هوشمند رسولیان - ناحیه یک یزد

آزمون نوبت دوم انگلیسی - نوشتاری پایه هشتم - ۱۱ خرداد ۱۴۰۱ - وقت ۴۵ دقیقه

نام: محمد امین نظریان ندوشن

کلاس: ۸۰۱





دبیرستان نمونه و هوشمند رسولیان - ناحیه یک یزد

آزمون نوبت دوم انگلیسی - نوشتاری پایه هشتم - ۱۱ خرداد ۱۴۰۱ - وقت ۴۵ دقیقه

نام: محمدمتین نعیمی

کلاس: ۸۰۱



دبیرستان نمونه و هوشمند رسولیان - ناحیه یک یزد

آزمون نوبت دوم انگلیسی - نوشتاری پایه هشتم - ۱۱ خرداد ۱۴۰۱ - وقت ۴۵ دقیقه

نام: محمدپارسا نوروزپورهنزائی

کلاس: ۸۰۱



دبیرستان نمونه و هوشمند رسولیان - ناحیه یک یزد

آزمون نوبت دوم انگلیسی - نوشتاری پایه هشتم - ۱۱ خرداد ۱۴۰۱ - وقت ۴۵ دقیقه

نام: سیددانیال احمدی هنزائی

کلاس: ۸۰۲



دبیرستان نمونه و هوشمند رسولیان - ناحیه یک یزد

آزمون نوبت دوم انگلیسی - نوشتاری پایه هشتم - ۱۱ خرداد ۱۴۰۱ - وقت ۴۵ دقیقه

نام: علیرضا امین الرعایائی

کلاس: ۸۰۲



دبیرستان نمونه و هوشمند رسولیان - ناحیه یک یزد

آزمون نوبت دوم انگلیسی - نوشتاری پایه هشتم - ۱۱ خرداد ۱۴۰۱ - وقت ۴۵ دقیقه

نام: محمدعلی برزگر بیوکی

کلاس: ۸۰۲



دبیرستان نمونه و هوشمند رسولیان - ناحیه یک یزد

آزمون نوبت دوم انگلیسی - نوشتاری پایه هشتم - ۱۱ خرداد ۱۴۰۱ - وقت ۴۵ دقیقه

نام: **علی جمال پور**

کلاس: **۸۰۲**

دبیرستان نمونه و هوشمند رسولیان - ناحیه یک یزد

آزمون نوبت دوم انگلیسی - نوشتاری پایه هشتم - ۱۱ خرداد ۱۴۰۱ - وقت ۴۵ دقیقه

نام: سیدعلی حسینی زاده

خضرآباد

کلاس: ۸۰۲





دبیرستان نمونه و هوشمند رسولیان - ناحیه یک یزد

آزمون نوبت دوم انگلیسی - نوشتاری پایه هشتم - ۱۱ خرداد ۱۴۰۱ - وقت ۴۵ دقیقه

نام: **علی حیدری بندرآبادی**

کلاس: **۸۰۲**



دبیرستان نمونه و هوشمند رسولیان - ناحیه یک یزد

آزمون نوبت دوم انگلیسی - نوشتاری پایه هشتم - ۱۱ خرداد ۱۴۰۱ - وقت ۴۵ دقیقه

نام: امیر رضا دهقان

کلاس: ۸۰۲



دبیرستان نمونه و هوشمند رسولیان - ناحیه یک یزد

آزمون نوبت دوم انگلیسی - نوشتاری پایه هشتم - ۱۱ خرداد ۱۴۰۱ - وقت ۴۵ دقیقه

نام: امیررضا دهقانی سانج

کلاس: ۸۰۲



دبیرستان نمونه و هوشمند رسولیان - ناحیه یک یزد

آزمون نوبت دوم انگلیسی - نوشتاری پایه هشتم - ۱۱ خرداد ۱۴۰۱ - وقت ۴۵ دقیقه

نام: سبحان دهقانی فیروزآبادی

کلاس: ۸۰۲

دبیرستان نمونه و هوشمند رسولیان - ناحیه یک یزد

آزمون نوبت دوم انگلیسی - نوشتاری پایه هشتم - ۱۱ خرداد ۱۴۰۱ - وقت ۴۵ دقیقه

نام: ایلیا رضائی دشت آبادی

کلاس: ۸۰۲



دبیرستان نمونه و هوشمند رسولیان - ناحیه یک یزد

آزمون نوبت دوم انگلیسی - نوشتاری پایه هشتم - ۱۱ خرداد ۱۴۰۱ - وقت ۴۵ دقیقه

نام: محمدپارسا رعیت ابراهیم

آبادی

کلاس: ۸۰۲





دبیرستان نمونه و هوشمند رسولیان - ناحیه یک یزد

آزمون نوبت دوم انگلیسی - نوشتاری پایه هشتم - ۱۱ خرداد ۱۴۰۱ - وقت ۴۵ دقیقه

نام: امیرمهدی زاده دهقان

کلاس: ۸۰۲



دبیرستان نمونه و هوشمند رسولیان - ناحیه یک یزد

آزمون نوبت دوم انگلیسی - نوشتاری پایه هشتم - ۱۱ خرداد ۱۴۰۱ - وقت ۴۵ دقیقه

نام: معین زارع

کلاس: ۸۰۲



دبیرستان نمونه و هوشمند رسولیان - ناحیه یک یزد

آزمون نوبت دوم انگلیسی - نوشتاری پایه هشتم - ۱۱ خرداد ۱۴۰۱ - وقت ۴۵ دقیقه

نام: عارف زاهدنیا

کلاس: ۸۰۲



دبیرستان نمونه و هوشمند رسولیان - ناحیه یک یزد

آزمون نوبت دوم انگلیسی - نوشتاری پایه هشتم - ۱۱ خرداد ۱۴۰۱ - وقت ۴۵ دقیقه

نام: سیدابوالفضل ساداتی

کلاس: ۸۰۲



دبیرستان نمونه و هوشمند رسولیان - ناحیه یک یزد

آزمون نوبت دوم انگلیسی - نوشتاری پایه هشتم - ۱۱ خرداد ۱۴۰۱ - وقت ۴۵ دقیقه

نام: محمد سینا سلطانی

کلاس: ۸۰۲

دبیرستان نمونه و هوشمند رسولیان - ناحیه یک یزد

آزمون نوبت دوم انگلیسی - نوشتاری پایه هشتم - ۱۱ خرداد ۱۴۰۱ - وقت ۴۵ دقیقه

نام: محمدطاها سلطانی

گرددفرامرزی

کلاس: ۸۰۲





دبیرستان نمونه و هوشمند رسولیان - ناحیه یک یزد

آزمون نوبت دوم انگلیسی - نوشتاری پایه هشتم - ۱۱ خرداد ۱۴۰۱ - وقت ۴۵ دقیقه

نام: حسین شاطرائی

کلاس: ۸۰۲

دبیرستان نمونه و هوشمند رسولیان - ناحیه یک یزد

آزمون نوبت دوم انگلیسی - نوشتاری - پایه هشتم - ۱۱ خرداد ۱۴۰۱ - وقت ۴۵ دقیقه

نام: امیرحسین شمس الدینی

زارچ

کلاس: ۸۰۲





دبیرستان نمونه و هوشمند رسولیان - ناحیه یک یزد

آزمون نوبت دوم انگلیسی - نوشتاری پایه هشتم - ۱۱ خرداد ۱۴۰۱ - وقت ۴۵ دقیقه

نام: سیدامیررضا طباطبائی

کلاس: ۸۰۲



دبیرستان نمونه و هوشمند رسولیان - ناحیه یک یزد

آزمون نوبت دوم انگلیسی - نوشتاری پایه هشتم - ۱۱ خرداد ۱۴۰۱ - وقت ۴۵ دقیقه

نام: محمد عشقان ملک

کلاس: ۸۰۲



دبیرستان نمونه و هوشمند رسولیان - ناحیه یک یزد

آزمون نوبت دوم انگلیسی - نوشتاری پایه هشتم - ۱۱ خرداد ۱۴۰۱ - وقت ۴۵ دقیقه

نام: محمدطاها غنی نی زارچ

کلاس: ۸۰۲

دبیرستان نمونه و هوشمند رسولیان - ناحیه یک یزد

آزمون نوبت دوم انگلیسی - نوشتاری پایه هشتم - ۱۱ خرداد ۱۴۰۱ - وقت ۴۵ دقیقه

نام: آراین فرهی

کلاس: ۸۰۲





دبیرستان نمونه و هوشمند رسولیان - ناحیه یک یزد

آزمون نوبت دوم انگیزی - نوشتاری پایه هشتم - ۱۱ خرداد ۱۴۰۱ - وقت ۴۵ دقیقه

نام: هومان فلغلی

کلاس: ۸۰۲



دبیرستان نمونه و هوشمند رسولیان - ناحیه یک یزد

آزمون نوبت دوم انگلیسی - نوشتاری پایه هشتم - ۱۱ خرداد ۱۴۰۱ - وقت ۴۵ دقیقه

نام: سینا کارگرشورکی

کلاس: ۸۰۲



دبیرستان نمونه و هوشمند رسولیان - ناحیه یک یزد

آزمون نوبت دوم انگلیسی - نوشتاری پایه هشتم - ۱۱ خرداد ۱۴۰۱ - وقت ۴۵ دقیقه

نام: امیرمحمد کاظمی دمنه

کلاس: ۸۰۲



دبیرستان نمونه و هوشمند رسولیان - ناحیه یک یزد

آزمون نوبت دوم انگلیسی - نوشتاری پایه هشتم - ۱۱ خرداد ۱۴۰۱ - وقت ۴۵ دقیقه

نام: محمدامین میرجلیلی

کلاس: ۸۰۲



دبیرستان نمونه و هوشمند رسولیان - ناحیه یک یزد

آزمون نوبت دوم انگلیسی - نوشتاری پایه هشتم - ۱۱ خرداد ۱۴۰۱ - وقت ۴۵ دقیقه

نام: محمد مهدی میر جلیلی

کلاس: ۸۰۲



دبیرستان نمونه و هوشمند رسولیان - ناحیه یک یزد

آزمون نوبت دوم انگلیسی - نوشتاری پایه هشتم - ۱۱ خرداد ۱۴۰۱ - وقت ۴۵ دقیقه

نام: سیدمحمدجواد میرحسینی

کلاس: ۸۰۲



دبیرستان نمونه و هوشمند رسولیان - ناحیه یک یزد

آزمون نوبت دوم انگلیسی - نوشتاری پایه هشتم - ۱۱ خرداد ۱۴۰۱ - وقت ۴۵ دقیقه

نام: ماهان نواب پور

کلاس: ۸۰۲



دبیرستان نمونه و هوشمند رسولیان - ناحیه یک یزد

آزمون نوبت دوم انگلیسی - نوشتاری پایه هشتم - ۱۱ خرداد ۱۴۰۱ - وقت ۴۵ دقیقه

نام: سپنتا یزدانی

کلاس: ۸۰۲



دبیرستان نمونه و هوشمند رسولیان - ناحیه یک یزد

آزمون نوبت دوم انگلیسی - نوشتاری پایه هشتم - ۱۱ خرداد ۱۴۰۱ - وقت ۴۵ دقیقه

نام: امیرعلی ارزانی

کلاس: ۸۰۳



دبیرستان نمونه و هوشمند رسولیان - ناحیه یک یزد

آزمون نوبت دوم انگلیسی - نوشتاری پایه هشتم - ۱۱ خرداد ۱۴۰۱ - وقت ۴۵ دقیقه

نام: پوریا توکل

کلاس: ۸۰۳



دبیرستان نمونه و هوشمند رسولیان - ناحیه یک یزد

آزمون نوبت دوم انگلیسی - نوشتاری پایه هشتم - ۱۱ خرداد ۱۴۰۱ - وقت ۴۵ دقیقه

نام: حسن حسن پوربهبادی

کلاس: ۸۰۳



دبیرستان نمونه و هوشمند رسولیان - ناحیه یک یزد

آزمون نوبت دوم انگلیسی - نوشتاری پایه هشتم - ۱۱ خرداد ۱۴۰۱ - وقت ۴۵ دقیقه

نام: **طاها خطائی نسب**

کلاس: **۸۰۳**



دبیرستان نمونه و هوشمند رسولیان - ناحیه یک یزد

آزمون نوبت دوم انگلیسی - نوشتاری پایه هشتم - ۱۱ خرداد ۱۴۰۱ - وقت ۴۵ دقیقه

نام: محمدیاسین خوشنود

کلاس: ۸۰۳



دبیرستان نمونه و هوشمند رسولیان - ناحیه یک یزد

آزمون نوبت دوم انگلیسی - نوشتاری پایه هشتم - ۱۱ خرداد ۱۴۰۱ - وقت ۴۵ دقیقه

نام: محمد عرفان دستوار

کلاس: ۸۰۳



دبیرستان نمونه و هوشمند رسولیان - ناحیه یک یزد

آزمون نوبت دوم انگلیسی - نوشتاری پایه هشتم - ۱۱ خرداد ۱۴۰۱ - وقت ۴۵ دقیقه

نام: امید دهقانی اشکذری

کلاس: ۸۰۳



دبیرستان نمونه و هوشمند رسولیان - ناحیه یک یزد

آزمون نوبت دوم انگلیسی - نوشتاری پایه هشتم - ۱۱ خرداد ۱۴۰۱ - وقت ۴۵ دقیقه

نام: محمدمتین رضائی مقدم

کلاس: ۸۰۳



دبیرستان نمونه و هوشمند رسولیان - ناحیه یک یزد

آزمون نوبت دوم انگلیسی - نوشتاری پایه هشتم - ۱۱ خرداد ۱۴۰۱ - وقت ۴۵ دقیقه

نام: یاسین زارع بیدکی

کلاس: ۸۰۳



دبیرستان نمونه و هوشمند رسولیان - ناحیه یک یزد

آزمون نوبت دوم انگلیسی - نوشتاری پایه هشتم - ۱۱ خرداد ۱۴۰۱ - وقت ۴۵ دقیقه

نام: ابوالفضل زارع زردینی

کلاس: ۸۰۳



دبیرستان نمونه و هوشمند رسولیان - ناحیه یک یزد

آزمون نوبت دوم انگلیسی - نوشتاری پایه هشتم - ۱۱ خرداد ۱۴۰۱ - وقت ۴۵ دقیقه

نام: حسین سلطانی

کلاس: ۸۰۳



دبیرستان نمونه و هوشمند رسولیان - ناحیه یک یزد

آزمون نوبت دوم انگلیسی - نوشتاری پایه هشتم - ۱۱ خرداد ۱۴۰۱ - وقت ۴۵ دقیقه

نام: محمد معراج سلطانی

کلاس: ۸۰۳

دبیرستان نمونه و هوشمند رسولیان - ناحیه یک یزد

آزمون نوبت دوم انگلیسی - نوشتاری پایه هشتم - ۱۱ خرداد ۱۴۰۱ - وقت ۴۵ دقیقه

نام: امیرمحمد سلطانی

کلاس: ۸۰۳



دبیرستان نمونه و هوشمند رسولیان - ناحیه یک یزد

آزمون نوبت دوم انگلیسی - نوشتاری پایه هشتم - ۱۱ خرداد ۱۴۰۱ - وقت ۴۵ دقیقه

نام: محسن سیف الدینی

بنادکوی

کلاس: ۸۰۳





دبیرستان نمونه و هوشمند رسولیان - ناحیه یک یزد

آزمون نوبت دوم انگلیسی - نوشتاری پایه هشتم - ۱۱ خرداد ۱۴۰۱ - وقت ۴۵ دقیقه

نام: مستعان شجاع الساداتی

کلاس: ۸۰۳



دبیرستان نمونه و هوشمند رسولیان - ناحیه یک یزد

آزمون نوبت دوم انگلیسی - نوشتاری پایه هشتم - ۱۱ خرداد ۱۴۰۱ - وقت ۴۵ دقیقه

نام: سیدمحمدطاها شهابی یزدی

کلاس: ۸۰۳



دبیرستان نمونه و هوشمند رسولیان - ناحیه یک یزد

آزمون نوبت دوم انگلیسی - نوشتاری پایه هشتم - ۱۱ خرداد ۱۴۰۱ - وقت ۴۵ دقیقه

نام: محمد صالح عبداللہی

کلاس: ۸۰۳



دبیرستان نمونه و هوشمند رسولیان - ناحیه یک یزد

آزمون نوبت دوم انگلیسی - نوشتاری پایه هشتم - ۱۱ خرداد ۱۴۰۱ - وقت ۴۵ دقیقه

نام: کارن کریمی

کلاس: ۸۰۳



دبیرستان نمونه و هوشمند رسولیان - ناحیه یک یزد

آزمون نوبت دوم انگلیسی - نوشتاری پایه هشتم - ۱۱ خرداد ۱۴۰۱ - وقت ۴۵ دقیقه

نام: مبین گل زارگردفرامرزی

کلاس: ۸۰۳



دبیرستان نمونه و هوشمند رسولیان - ناحیه یک یزد

آزمون نوبت دوم انگیزی - نوشتاری پایه هشتم - ۱۱ خرداد ۱۴۰۱ - وقت ۴۵ دقیقه

نام: سیدعمادالدین محمدی

کلاس: ۸۰۳



دبیرستان نمونه و هوشمند رسولیان - ناحیه یک یزد

آزمون نوبت دوم انگلیسی - نوشتاری پایه هشتم - ۱۱ خرداد ۱۴۰۱ - وقت ۴۵ دقیقه

نام: حمیدرضا مظفری دهشیری

کلاس: ۸۰۳



دبیرستان نمونه و هوشمند رسولیان - ناحیه یک یزد

آزمون نوبت دوم انگلیسی - نوشتاری پایه هشتم - ۱۱ خرداد ۱۴۰۱ - وقت ۴۵ دقیقه

نام: متین ملانوری شمسی

کلاس: ۸۰۳



دبیرستان نمونه و هوشمند رسولیان - ناحیه یک یزد

آزمون نوبت دوم انگلیسی - نوشتاری پایه هشتم - ۱۱ خرداد ۱۴۰۱ - وقت ۴۵ دقیقه

نام: سجاد مهدی

کلاس: ۸۰۳



دبیرستان نمونه و هوشمند رسولیان - ناحیه یک یزد

آزمون نوبت دوم انگلیسی - نوشتاری پایه هشتم - ۱۱ خرداد ۱۴۰۱ - وقت ۴۵ دقیقه

نام: سیدصادق موسوی ندوشن

کلاس: ۸۰۳



دبیرستان نمونه و هوشمند رسولیان - ناحیه یک یزد

آزمون نوبت دوم انگلیسی - نوشتاری پایه هشتم - ۱۱ خرداد ۱۴۰۱ - وقت ۴۵ دقیقه

نام: محمد معین میر جلیلی

کلاس: ۸۰۳



دبیرستان نمونه و هوشمند رسولیان - ناحیه یک یزد

آزمون نوبت دوم انگلیسی - نوشتاری پایه هشتم - ۱۱ خرداد ۱۴۰۱ - وقت ۴۵ دقیقه

نام: محمد یاسین میر جلیلی

کلاس: ۸۰۳



دبیرستان نمونه و هوشمند رسولیان - ناحیه یک یزد

آزمون نوبت دوم انگلیسی - نوشتاری پایه هشتم - ۱۱ خرداد ۱۴۰۱ - وقت ۴۵ دقیقه

نام: سهراب میرزارضائی

کلاس: ۸۰۳



دبیرستان نمونه و هوشمند رسولیان - ناحیه یک یزد

آزمون نوبت دوم انگلیسی - نوشتاری پایه هشتم - ۱۱ خرداد ۱۴۰۱ - وقت ۴۵ دقیقه

نام: محمدمیثم نادری سامانی

کلاس: ۸۰۳



دبیرستان نمونه و هوشمند رسولیان - ناحیه یک یزد

آزمون نوبت دوم انگلیسی - نوشتاری پایه هشتم - ۱۱ خرداد ۱۴۰۱ - وقت ۴۵ دقیقه

نام: محمدطاها نوق جوزم

کلاس: ۸۰۳

(۱) با توجه به تصاویر به سوالات پاسخ دهید (۲)



1) A: Are you from Brazil ?

B)



2) A: What do you do on Monday evenings ?

B:



3) A: What is Mashhad famous for?

B:



4) A: What do you do in your free time?

B:

(۲) با توجه به تصاویر جملات زیر را کامل کنید. (۱)



1. It's in spring.

2) Dezful is in the of Iran.



(۳) کلمات داده شده را در جای مناسب آن در جملات بنویسید (دو کلمه اضافی است) (۳)

(interesting , skiing, fishing, take, city, cattle, call, minarets)

1) I'm not good at drawing but I can good photos.

2) There is a lot of snow in winter, so you can go

3) It's in the south of Yazd, near theof Taft.

4) Jamkaran mosque has two tall

5) I see many cows in the field. That is a

6) There are many things in this book.

(۴) در هر گروه کدام کلمه از نظر تلفظ با بقیه ناهماهنگ است. (۱)

1) thermometer / thanks / south / there

2) father / weather / three / this

۵) جواب هر سوال را پیدا کنید و فقط حرف مربوط به آن را در داخل پرانتز جلوی آن بنویسید. (یک عبارت اضافی است. (۱)

- | | |
|------------------------------------|--------------------------------|
| 1) Is there a stadium ?() | a)She has a toothache. |
| 2) What's the matter ?() | b)They are doctors and nurses. |
| 3) What's your hobby?() | c) Yes, a new one in my city. |
| 4) What's the people's job? () | d) Yes, very much |
| | e) I listen to stories. |

۶) متن زیر را بخوانید و به سوالات مربوط به آن جواب دهید.

I'm from Dehbala. It's a small village near the city of Yazd. It is famous for its beautiful farms. The weather is warm in spring and summer. There is a lot of rain and snow in fall and winter. The people work on farms and raise animals. They plow the farms in winter. There are many farms in my village. I go there in my free time and enjoy walking in the gardens.

الف) با توجه به متن جمله درست را با T و جمله غلط را با F مشخص کنید. (۱)

- 1) It is windy in fall. ()
- 2) They plow the farms in spring. ()

ب) با توجه به متن به سوالات زیر جواب کامل دهید. (۱)

1) Where is Dehbala?



2) What's Dehbala famous for?

Good luck


Listening Test/8

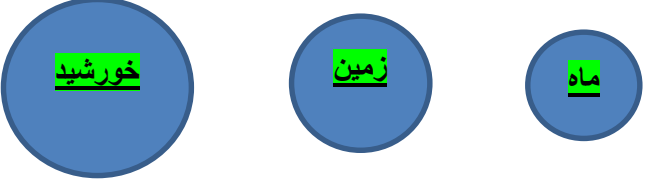
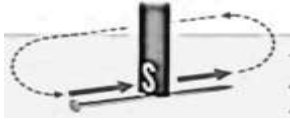
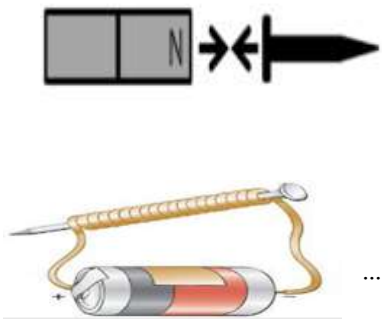
.۷۵	<p>به مکالمه گوش کنید. سپس به سوالات پاسخ دهید.</p> <p>۱. Alice is from.....</p> <p>۲. Sara is from.....</p> <p>۳. They live in now.</p>	۱												
۱/۲۵	<p>به فایل صوتی گوش کنید و گزینه صحیح را انتخاب کنید.</p> <p>۱. I'm</p> <p>a. Chinese <input type="checkbox"/> b. British <input type="checkbox"/> c. Spanish <input type="checkbox"/></p> <p>۲. I study my lessons</p> <p>a. in the mornings <input type="checkbox"/> b. in the afternoons <input type="checkbox"/> c. in the evenings <input type="checkbox"/></p> <p>۳. I go to the gym</p> <p>a. every weekends <input type="checkbox"/> b. every weekdays <input type="checkbox"/> c. every afternoon <input type="checkbox"/></p> <p>۴. My brother is good at</p> <p>a. playing basketball <input type="checkbox"/> b. taking photos <input type="checkbox"/> c. playing football <input type="checkbox"/></p> <p>۵. My mother can</p> <p>a. make a cake <input type="checkbox"/> b. take good photos <input type="checkbox"/> c. draw pictures <input type="checkbox"/></p>	۲												
۱	<p>پرستار بیمارستان در مورد بیماران با دکتر صحبت می کند. به فایل صوتی گوش دهید و جدول را کامل کنید.</p> <table border="1" data-bbox="451 989 1190 1262"> <thead> <tr> <th>Name</th> <th>Health problem</th> </tr> </thead> <tbody> <tr> <td>Reza</td> <td></td> </tr> <tr> <td>Mr. Ahmadi</td> <td></td> </tr> <tr> <td>Mrs. Rajabi</td> <td></td> </tr> <tr> <td>Mina</td> <td></td> </tr> </tbody> </table>	Name	Health problem	Reza		Mr. Ahmadi		Mrs. Rajabi		Mina		۳		
Name	Health problem													
Reza														
Mr. Ahmadi														
Mrs. Rajabi														
Mina														
۱	<p>به فایل صوتی گوش دهید و به سوالات پاسخ دهید.</p> <p>۱. Where is Qom? It's in the</p> <p>۲. What is Qom like? It's a big andcity.</p> <p>۳. How is the weather like in Qom in spring? It's</p> <p>۴. What's her grandfather's job? He works</p>	۴												
۱	<p>به فایل صوتی گوش کنید و گزینه های مناسب را به هم وصل کنید. (در هر ستون دو کلمه اضافی است)</p> <table border="1" data-bbox="185 1650 1227 1955"> <tbody> <tr> <td>Sadegh</td> <td>playing football</td> <td>Monday</td> </tr> <tr> <td>Reza</td> <td>watching movies</td> <td>Tuesday</td> </tr> <tr> <td>Amin</td> <td>horse riding</td> <td>Thursday</td> </tr> <tr> <td>Ali</td> <td>playing tennis</td> <td>Friday</td> </tr> </tbody> </table>	Sadegh	playing football	Monday	Reza	watching movies	Tuesday	Amin	horse riding	Thursday	Ali	playing tennis	Friday	۵
Sadegh	playing football	Monday												
Reza	watching movies	Tuesday												
Amin	horse riding	Thursday												
Ali	playing tennis	Friday												

/۵	<p>در هر مورد، از میان کلمات داخل کمانک، اسم اشاره ی مناسب را انتخاب کن.</p> <p>(۱) الْحَافِلَةُ، كَبِيرَةٌ. (هَذَا / هَاتَانِ / تِلْكَ)</p> <p>(۲) الْأُمَّهَاتُ، جَالِسَاتٌ. (أَوْلِيَّتِكَ / هَذِهِ / هُذَانِ)</p>	۶
/۷۵	<p>ترجمه ی مناسب هر فعل را با علامت (x) مشخص کن.</p> <p>(۱) جَدِّي مَا طَلَبَ مِنَّا مُسَاعَدَةً. <input type="radio"/> چه چیزی خواست <input type="radio"/> نخواست</p> <p>(۲) رَجَعَتْ أَخَوَاتِي مِنْ بَيْتِ جَدِّي. <input type="radio"/> برمی گردند <input type="radio"/> برگشتند</p> <p>(۳) أَوْلِيَّتِكَ الطَّالِبَاتُ يَذْهَبْنَ إِلَى سَفَرَةٍ عِلْمِيَّةٍ. <input type="radio"/> می روند <input type="radio"/> خواهند رفت</p>	۷
/۷۵	<p>با توجه به تصاویر و جملات فقط فعل های مشخص شده را ترجمه کن.</p> <div style="display: flex; justify-content: space-around;"> <div data-bbox="199 719 563 1021">  <p>هَمْ يَزْرَعُونَ الْقَمْحَ.</p> <p>﴿ ﴾</p> </div> <div data-bbox="655 741 938 1043">  <p>أَنْتِ تَحْصُدِينَ الرُّزَّ.</p> <p>﴿ ﴾</p> </div> <div data-bbox="1046 768 1437 1025">  <p>نَحْنُ نَقْرَأُ الْقُرْآنَ.</p> <p>﴿ ﴾</p> </div> </div>	۸
/۵	<p>کلمه خواسته شده را، در هر مجموعه مشخص کن .</p> <p>۱. جمع مذکر سالم: <input type="radio"/> غُرَابِيْنِ <input type="radio"/> شَجَرَاتِ <input type="radio"/> كُتُبِ <input type="radio"/> وَاقْفِيْنِ</p> <p>۲. مُثْنِيْ مذکر: <input type="radio"/> خُسْرَانِ <input type="radio"/> بُسْتَانِ <input type="radio"/> يَوْمَانِ <input type="radio"/> نَسِيَانِ</p>	۹
/۲۵	<p>از نظر معنا، کدام کلمه با بقیه ناهماهنگ است؟</p> <p>(۱) <input type="radio"/> الْفِضَّةُ <input type="radio"/> الْسَّبْتُ <input type="radio"/> الْثَلَاثَاءُ <input type="radio"/> الْإِثْنَيْنِ</p>	۱۰
/۵	<p>در بین کلمات مترادف، علامت (=) و در بین کلمات متضاد، علامت (≠) قرار بده.</p> <p>بَيْعٌ شِرَاءٌ أَتَى جَاءَ</p>	۱۱
/۵	<p>با توجه به تصاویر، پاسخ کوتاه و مناسبی برای هر سؤال بنویس.</p> <div style="display: flex; justify-content: space-around;"> <div data-bbox="296 1843 411 1995">  <p>ما هذا؟</p> </div> <div data-bbox="1206 1861 1353 2007">  <p>كَمِ السَّاعَةِ الْآنَ؟</p> </div> </div>	۱۲

	<p>شماره ردیف : نام: نام خانوادگی: نام پدر: نام کلاس:</p>	<p>بِسْمِ تَعَالَى وزارت آموزش و پرورش اداره کل آموزش و پرورش استان یزد آموزش و پرورش ناحیه یک یزد دیرستان / دوره اول</p>	<p>نام درس: عربی تاریخ امتحان: چهارشنبه ۱۸/۰۳/۱۴۰۱ پایه: هشتم وقت: ۶۰ دقیقه زمان شروع: ۸ صبح صفحه: ۳</p>
۱۳	۱۳	<p>برای هریک از سؤالات زیر پاسخ کوتاه و مناسبی بنویس. (۱) مِنْ أَيْنَ أَنْتَ؟ (۲) مَاذَا فِي حَقِيقتِكَ؟</p>	/۵
۱۴	۱۴	<p>با توجه به تصاویر و عبارات ها، فعل مناسب را از میان فعل های داده شده، انتخاب کن. الف) یا نَجَّارٌ، أ أَنْتَ فِي الْمَصْنَعِ أَمْسِ؟ ۱. عَمِلْتُ □ ۲. تَعْمَلِينَ □ ب) أَيُّهَا الْبُنْتَانِ، هَلْ التَّمَارِينَ؟ ۱. كَتَبْتُ □ ۲. تَكْتُبَانِ □</p>	<p> </p>
۱۵	۱۵	<p>درستی یا نادرستی عبارات های زیر را بر اساس واقعیت مشخص کن. ص غ (۱) الْحَدَّادُ يَصْنَعُ الْأَبْوَابَ وَ النَّوَافِذَ. ○ ○ (۲) الْفَصْلُ الثَّلَاثُ فِي السَّنَةِ، فَصْلُ الْخَرِيفِ. ○ ○ (۳) إِضَاعَةُ الْفُرْصَةِ، حَسَنَةٌ. ○ ○ (۴) الْأَصِيدَلِيَّةُ مَكَانٌ مَنَاسِبٌ لِلرِّيَاضَةِ. ○ ○</p>	۱
۱۶	۱۶	<p>در هر مورد، فعل ماضی مناسب را از میان کلمات داخل کمانک ها انتخاب کن و در جای خالی عبارات ها بنویس. ۱. هَذَا الْعُصْفُورُ الْمَاءِ. (يَشْرَبُ / تَشْرَبُ) ۲. مَاذَا تَفْعَلُ؟ عَنْ مِفْتَاحِ الْعُرْفَةِ. (أَبْحَثُ / نَبْحْتُ) ۳. أَنَا سَوْفَ إِلَى بِلَادِي فِي الْأُسْبُوعِ الْقَادِمِ. (أَرْجِعُ / رَجَعْتُ) ۴. الْمُسَافِرَانِ إِلَى الْفُنْدُقِ أَمْسِ. (تَذْهَبُونَ / ذَهَبَا)</p>	۱
۱۷	۱۷	<p>گزینه‌ی مناسب را انتخاب کن. ۱. الشَّهْرُ فِي السَّنَةِ شَهْرٌ بِهِمَنْ . ○ الْحَادِي عَشَرَ ○ الثَّانِي عَشَرَ ○ ۲. نَحْنُ فِي هَذِهِ السَّنَةِ فِي الصَّفِّ ○ السَّابِعِ ○ الثَّامِنِ ○</p>	/۵

۱	<p>هر یک از عبارت های ستون «الف» را به گزینه‌ی مناسبی در ستون «ب» وصل کن. (در ستون «ب» دو کلمه اضافی است.)</p> <p style="text-align: center;">الف</p> <ul style="list-style-type: none"> • طَعَامٌ نَأْكُلُهُ فِي الصَّبَاحِ • مَكَانٌ لِفَحِصِ الْمَرَضِي • بَيْتُ الطَّائِرِ • الْيَوْمُ الْخَامِسُ فِي الْأُسْبُوعِ يَوْمٌ <p style="text-align: center;">ب</p> <ul style="list-style-type: none"> • أَلْعَشِ • أَلْخَمِيْسُ • أَلْفُطُورِ • أَلْمُسْتَوْصَفِ • أَلْعَدَاءِ • أَلْأَرْبَعَاءِ 	۱۸
۱۲۵	<p>مفرد کلمه‌ی « فِرَاخ » در کدام گزینه آمده است؟</p> <p>۱. أَفْرَحَةَ ۲. فَرَحَيْنِ ۳. فَرَحٌ ۴. فَحْرٌ <input type="checkbox"/></p>	۱۹
۱۵	<p>متن زیر را با دقت بخوان .</p> <p>«أُسْرِين» طَالِبَةٌ فِي الصَّفِّ الثَّانِي الْمَتَوَسِّطِ. هِيَ جَاءَتْ مِنْ سَنَدَجٍ إِلَى «طَهْرَان». هِيَ طَالِبَةٌ جَدِيدَةٌ فِي الْمَدْرَسَةِ وَ بَقِيَتْ مُدَّةَ أُسْبُوعَيْنِ وَحِيدَةً.</p> <p>با توجه به متن، پاسخ مناسب هر سؤال را با علامت (x) مشخص کن.</p> <p>۱. كَمْ أُسْبُوعًا بَقِيَتْ أُسْرِين وَحِيدَةً ؟ <input type="radio"/> أُسْبُوعَيْنِ <input type="radio"/> أُسْبُوعًا وَاحِدًا</p> <p>۲. فِي أَيِّ صَفٍّ كَانَتْ أُسْرِين؟ <input type="radio"/> فِي الصَّفِّ الْأَوَّلِ <input type="radio"/> فِي الصَّفِّ الثَّانِي</p>	۲۰
۴	<p>نمره روان خوانی: ✨ نمره این قسمت با توجه به فعالیت های شفاهی و کلاسی شما ، در طول سال تحصیلی توسط دبیر محترم تکمیل می گردد. ✨</p>	۲۱
۱	<p>نمره مکالمه: ✨ نمره این قسمت با توجه به فعالیت های شفاهی و کلاسی شما ، در طول سال تحصیلی توسط دبیر محترم تکمیل می گردد. ✨</p>	۲۲

۱	<p>کدام مورد صحیح و کدام غلط است؟ علامت «ص» و «غ» در داخل پرانتز مقابل هر عبارت قرار دهید</p> <p>الف) تعداد کروموزومها به اندازه ی پیکر جاندار بستگی دارد ()</p> <p>ب) فلزات دارای الکترون آزاد بیشتری نسبت به نافلزات هستند ()</p> <p>ج) بخش مرکزی نخاع خاکستری و بخش قشری آن سفید است ()</p> <p>د) مزه ی شیرینی در نوک زبان احساس می شود ()</p>	۱
۱	<p>کلمات داخل پرانتز را در جای مناسب خود قرار دهید.</p> <p>*ذخایر نفت و گاز در بین سنگهای.....تشکیل می شوند.(رسوبی - آذرین)</p> <p>*ماهیچه دیواره دستگاه گوارش.....رنگ است (سفید-قرمز)</p> <p>*کانی.....نشان دهنده ی شرایط آب و هوایی گرم و خشک در زمان تشکیل آنهاست.(هالیت - گرافیت)</p> <p>*تشکیل غارهای آهکی نوعی از هوازدگی..... می باشد.(فیزیکی - شیمیایی)</p>	۲
۱/۲۵	<p>دور گزینه ی صحیح خط بکشید</p> <p>الف - در موتور الکتریکی چه تبدیل انرژی صورت می گیرد؟</p> <p>۱) شیمیایی به مکانیکی (۲) الکتریکی به مکانیکی (۳) صوتی به الکتریکی (۴) مکانیکی به الکتریکی</p> <p>ب) تعداد نوترونهای موجود در ایزوتوپ هیدروژن با عدد اتمی ۱ و عدد جرمی ۳ چه تعداد است؟</p> <p>۱) (۱) ۲) (۲) ۳) (۳) ۴) (۴) صفر</p> <p>ج) کدام مخلوط را می توان با وسیله ی تقطیر از هم جدا کرد؟</p> <p>۱) روغن و آب (۲) شکر و آب (۳) نمک و آب (۴) آب و الکل</p> <p>د) میدان دید کدام آینه وسیع تر و بیشتر از بقیه است؟</p> <p>۱) کوژ (۲) مقعر (۳) تخت (۴) گزینه ۱ و ۲</p> <p>ح) با توجه به تصویر ؛ زاویه تابش چند درجه است ؟</p> <p>۱) (۳۵) ۲) (۵۵) ۳) (۷۰) ۴) (۶۰) ۵) (۴۵)</p> 	۳
۱/۲۵	<p>به سؤالات زیر پاسخ کوتاه دهید؟</p> <p>الف) یک کانن غیر سیلیکاتی را نام ببرید؟ ()</p> <p>ب) کدام یک از عدسی ها در دوربین شکاری و تلسکوپ کاربرد دارد؟ ()</p> <p>ج) کمترین میزان شکست نور ، در تجزیه نور سفید، مربوط به کدام نوری است؟ ()</p> <p>د) ژن مقاومت در برابر سرما از کدام قسمت ماهی جدا می کنند؟ ()</p> <p>ه) یکی از نشانه های تغییر شیمیایی را بنویسید ()</p>	۴
۱	<p>علت هریک از موارد خواسته شده را بنویسید:</p> <p>الف) ماگما نسبت به سنگهای اطراف سبک تر است و به سمت بالا حرکت می کند؟</p> <p>ب) مقاومت الکتریکی در برابر عبور جریان الکتریسیته باعث تولید گرما می شود؟</p>	۵
/۵	<p>حس بویایی چگونه میتواند از انسان در برابر خطرات محافظت کند؟</p>	۶

۱	<p>جدول مقابل را تکمیل کنید</p> <table border="1" data-bbox="172 69 963 264"> <thead> <tr> <th>نوع تنظیم</th> <th>ماهیت</th> <th>ماندگاری</th> </tr> </thead> <tbody> <tr> <td>عصبی</td> <td></td> <td></td> </tr> <tr> <td>هورمونی</td> <td></td> <td></td> </tr> </tbody> </table>	نوع تنظیم	ماهیت	ماندگاری	عصبی			هورمونی			۷
نوع تنظیم	ماهیت	ماندگاری									
عصبی											
هورمونی											
۱	<p>با توجه به شکل به موارد خواسته شده پاسخ دهید نام پدیده ای که اتفاق افتاده چیست؟ توضیح دهید چگونه این پدیده اتفاق می افتد؟</p> <div style="display: flex; justify-content: space-around; align-items: center;">  </div>	۸									
۱	<p>برای هر یک از موارد زیر یک کاربرد بنویسید:</p> <p>الف) آینه مقعر: ب) آینه تخت: ج) گرافیت: د) کانی تالک:</p>	۹									
/۵	<p>هریک از موجودات زیر به چه روشی تولید مثل میکنند؟ الف) باکتری ب) مخمر</p>	۱۰									
۱/۵	<p>کلمات زیر را تعریف کنید:</p> <p>*جسم منیر: *شکست نور: *گرده افشانی:</p>	۱۱									
/۵	<p>وقتی بادکنک را با موی سر مالش می دهیم ، بادکنک وموی سر دارای چه نوع باری می شوند؟</p>	۱۲									
۱	<p>هر یک از شکلها، کدام روش آهن ربا کردن را نشان می دهد؟</p> <p>۱- در شکل (۱) نوک تیز میخ چه قطبی شده است. ()</p> <p>۲- </p> <p>۳- </p>	۱۳									
۱	<p>در یک مدار الکتریکی اختلاف پتانسیل ۱۱۰ ولت ومقاومت مدار ۲۰ اهم است. شدت جریان چه قدر است؟ (نوشتن فرمول الزامی است)</p>	۱۴									
۱/۵	<p>تفاوت هر یک از موارد داده شده را بایکدیگر بنویسید (یک تفاوت برای هر مورد کافی است)</p> <p>الف) رسوبات و سنگهایی که با یخچالها حمل می شوند با رسوبات یا سنگهایی که با رودخانه هاحمل می شوند؟ ب) ماسه سنک با کنگلومرا: ج) قطب های آهنربا با بارهای الکتریکی:</p>	۱۵									

نام خانوادگی:	نام: باسمه تعالی	تاریخ آزمون: ۱۴۰۱/۰۳/۰۴
نام پدر:	اداره کل آموزش و پرورش استان یزد	ساعت برگزاری: ۸ صبح
شماره کلاسی:	مدیریت آموزش و پرورش ناحیه یک یزد	تعداد صفحات: ۲ صفحه
نام دبیر مربوطه:	دبیرستان نمونه و هوشمند رسولیان (دوره اول)	تعداد سوالات: ۶ سوال
طراح: جواد وطنخواه		مدت پاسخگویی: ۵۰ دقیقه

نام و نام خانوادگی دبیر:	نمره به عدد:	نمره به حروف:	تاریخ و امضاء دبیر:
--------------------------	--------------	---------------	---------------------

الف: معنی واژه های مشخص شده را بنویسید. (۱ نمره)

- وقتی جولاهه ای به وزارت رسیده بود، هر روز بامداد برخاستی و کلید برداشتی و در خانه باز کردی... (.....)
- گفت: «آری خانه او بی ریاست فرس هایش از گلیم و بوریاست (.....)
- ... استعمال توتون و تنباکو، در حکم محاربه با امام زمان (عج) است. (.....)
- از علی آموز اخلاص عمل شیر حق را دان منزه از دغل (.....)

ب: جاهای خالی را با کلمات مناسب پر کنید. (۱ نمره)

- قائلی شیرازی از شاعران دوره قاجار، کتاب را به شیوه گلستان سعدی نوشته است.
- کتابی است که محمد بن منور در شرح حال و سخنان ابوسعید ابوالخیر تألیف کرده است.
- جامی، شاعر قرن نهم هجری، کتاب را به تقلید از خمسه نظامی سروده است.
- شاعر و عارف بزرگ قرن پنجم و ششم هجری. وی ابتدا شاعری مدیحه سرا بود اما پس از مدتی به سرودن اشعار عرفانی و اخلاقی روی آورد. از جمله آثار او می توان به حدیقه الحقیقه اشاره کرد.

ج: به پرسش های زیر پاسخ دهید. (۱/۵ نمره)

- * تعریف زیر معرف کدام قالب شعری است؟ (۰/۵)
- «شعری است که هر بیت آن قافیۀ جداگانه دارد و معمولاً بلند و طولانی است و بیشتر برای داستان ها از آن بهره می گیرند.»
- * آرایه ادبی بیت های زیر را بنویسید. (۰/۵)
- لبخند تو خلاصه خوبی هاست لختی بخند، خنده گل زیباست (.....)
- سرو چمان من چرا میل چمن نمی کند همدم گل نمی شود، یاد سمن نمی کند (.....)
- * معنای کنایی عبارت مشخص شده را بنویسید. (۰/۲۵)
- میهنی که در دوران دفاع مقدس، شهدای بسیاری را در دل خود جای داده و از گستاخی ها و بی رحمی های دشمن، خون دل ها خورده است.
- * ردیف در بیت زیر مشخص کنید. (۰/۲۵)
- با وضویی دست و رویی تازه کرد با دل خود گفت و گویی تازه کرد

د: به پرسش های زیر پاسخ دهید. (۱/۵ نمره)

- * نقش واژه های مشخص شده را بنویسید.
- با مادر خویش مهربان باش (.....)
- خامه با سوز، رقم کر به دفتر تشنه (.....)
- * هسته را در عبارت های زیر مشخص کنید.
- نخستین عامل مهم (.....)
- ملت سرافراز ایران (.....)
- * نوع وابسته های مشخص شده در عبارات زیر را بنویسید.
- این عرصه خدایی (.....)
- این انقلاب امیدبخش (.....)

پ: بیت ها و جمله های زیر را به فارسی روان بازنویسی کنید. (۲/۵ نمره)

- ... در راه طراری به وی بازخورد و آن زر به حیلت ببرد. چون آن مرد واقف شد، خجل وار بازگشت.

- یکی را به سر برنهد تاج بخت
یکی را به خاک اندر آرد ز تخت

- نام نیکو گر بماند ز آدمی
به کزو ماند سرای زرنگار

- وزیر گفت: یا امیر، این همه دولت که مرا هست، همه از امیر است. ما ابتدای خویش فراموش نکرده ایم.

- الهی، جانب من کن نگاهی
مرا بنما به سوی خویش راهی

ه: به پرسش های مطرح شده پاسخ دهید. (۲/۵ نمره)

* مفهوم و معنای واژه «خداوند» در هر کدام از جمله های زیر چیست؟

- مرد گفت: «خداوندش را بگوی که گرگ ببرد.» غلام گفت: «به خدای چه بگویم؟!»

* مفهوم بیت زیر را بنویسید.

- زنهار مگو سخن به جز راست
هرچند تو را در آن، ضررهاست

* مفهوم عبارت های مشخص شده را بنویسید.

- از مکافات عمل، غافل مشو
گندم از گندم بروید جو ز جو

- این یکی از عادات ماست که هرچه داریم، پاس نمی داریم و همین که از دست رفت، متوجه خطای خود می شویم و انگشت ندامت به دندان می گزیم.

* با توجه به بیت زیر، تحول معنایی واژه «دولت» را توضیح دهید.

- در دولت به رخم بگشادی
تاج عزت به سرم بنهادی

* منظور از «خاکدان غم» در بیت زیر چیست؟

- حیف است طایری چو تو، در خاکدان غم
زین جا به آشیان وفا می فرستمت

۱- کلمات قرآنی زیر را ترجمه نمایید. (۳).

يُوءتُونَ : لا يُخْلِفُ : طَهُورٌ : أَحْكَمُ : كَذَبَ : هَدَى :
داعی : يَرْزُقُ : نُزْلٌ : فَطَرَ : اتَّبَعُوا : يَلِجُ :

۲- در ترکیب کلمه (آن) با فعلهای زیر ، کدام ترکیب صحیح است؟ (۱)

الف - آن أَعْبُدُ : که عبادت کنم
ب - آن أَنْتَلُوْ : که تلاوت می کنم
ج - آن أَشْكُرُ : که شکر کنم
د - آن أَعْمَلُ : که انجام می دهم

۳- معنای ترکیب ها و عبارات قرآنی زیر را بنویسید. (۴)

وَأَتَّقُوهُ : صَوْرَكُمْ : ذِي الطُّوْلِ : كَمْ أُنَبِّتُنَا :
ذُرِّيَّتَيْهِمَا : فَيُضِلِّكَ : فَفَدَّرَهُ : سِرَاجًا مُنِيرًا :

۴- با توجه به جمله (و بر خدا توکل کن) جای خالی (و عَلَى اللَّهِ) با کدام گزینه کامل می شود؟ (۱)

الف - يَتَوَكَّلُ ب - تَوَكَّل ج - تَوَكَّلُوا د - يَتَوَكَّلُونَ

۵- با توجه به عبارت قرآنی (وَلَا تَتَّبِعِ الْهَوَى) جای خالی (..... هوى وهوسى را) با کدام گزینه کامل می شود؟ (۱)

الف- پیروی نکنید ب- پیروی نکردند ج- پیروی نمی کنند د- پیروی نکن

۶- صحیح یا غلط بودن جملات زیر را با (ص یا غ) مشخص کنید. (۲)

الف - حرف (ت) مانند (ط) درشت و با تکیه بر گلو تلفظ می شود. ()

ب - هر گاه حرف (ل) قبل از فعل بیاید بصورت (نا) معنا می شود. ()

ج - گاهی فعل (مفرد) با توجه به اجزای جمله (جمع) معنا می شود. ()

د - معمولاً حرف تاکید (ل) بعد از (ان) می آید و لازم است در فارسی معنا شود. ()

۷- ترجمه آیات و عبارات قرآنی زیر را بنویسید. (۸)

يُولِجُ اللَّيْلَ فِي النَّهَارِ : إِنَّ اللَّهَ لَا يُحِبُّ الْمُفْسِدِينَ :

هَلْ مِنْ خَالِقٍ غَيْرِ اللَّهِ : وَمَنْ يُرْسِلِ الرِّيحَ بُشْرًا :

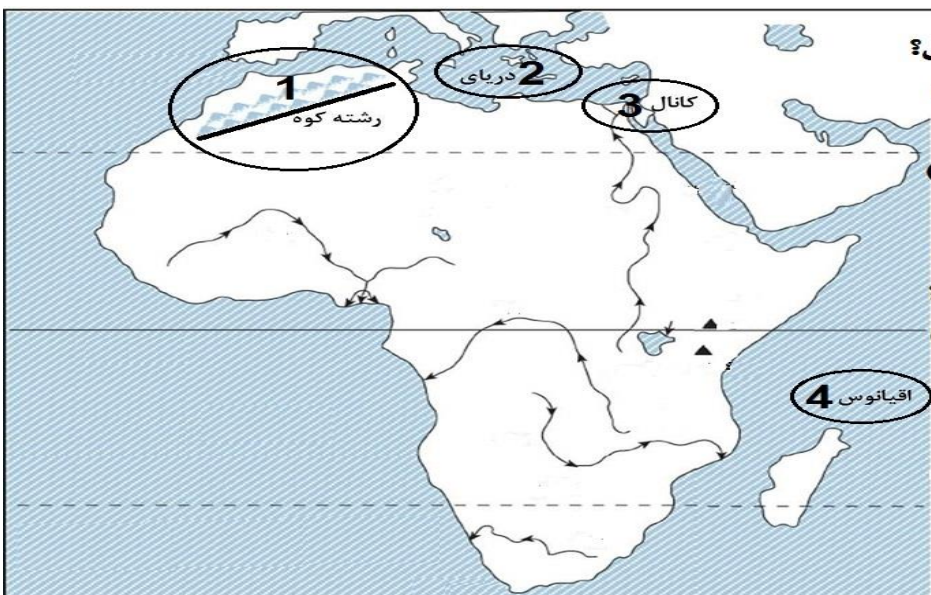
لِيَكُونَ لِلْعَالَمِينَ نَذِيرًا : الَّتِي فَطَرَ النَّاسَ عَلَيْهَا :

أُولَئِكَ الَّذِينَ هَدَى اللَّهُ : تَعَالَى اللَّهُ عَمَّا يُشْرِكُونَ :

	<p style="text-align: center;">به نام خدا دبیرستان نمونه و هوشمند رسولیان آزمون نوبت دوم مطالعات اجتماعی هشتم شماره کلاس:</p> <p style="text-align: right;">نام و نام خانوادگی:</p> <p style="text-align: left;">مدت آزمون: 60 دقیقه</p>	
بارم	سوالات	ردیف
1/5	<p style="text-align: right;">➤ صحیح یا غلط بودن جملات زیر را مشخص کنید؟</p> <p>1- سلطان محمود غزنوی نخست حکومت شیعه مذهب آل بویه را برانداخت. <input type="radio"/> ص <input type="radio"/> غ</p> <p>2- مغولان در زمان خوارزمشاهیان به ایران هجوم آوردند. <input type="radio"/> ص <input type="radio"/> غ</p> <p>3- ژاپن و روسیه عضو گروه هشت هستند. <input type="radio"/> ص <input type="radio"/> غ</p> <p>4- به اموال و دارایی هایی که وقف می شود، واقف می گویند. <input type="radio"/> ص <input type="radio"/> غ</p> <p>5- فرانسه، اسپانیا و ایتالیا از مهم ترین کشورهای اروپا از نظر جذب گردشگر و به دست آوردن درآمد از این طریق هستند. <input type="radio"/> ص <input type="radio"/> غ</p> <p>6- در یک ارتباط کلامی، زبان یک رسانه است. <input type="radio"/> ص <input type="radio"/> غ</p>	الف
3	<p style="text-align: right;">➤ گزینه صحیح را مشخص کنید؟</p> <p>7- لایحه بودجه توسط تنظیم و توسط تصویب می شود؟ الف) مجلس شورای اسلامی - دولت <input type="radio"/> (ب) شورای نگهبان - مجلس شورای اسلامی <input type="radio"/> ج) شورای نگهبان - دولت <input type="radio"/> (د) دولت - مجلس شورای اسلامی <input type="radio"/></p> <p>8- در نقشه ای با مقیاس $\frac{1}{300000}$ فاصله دو مکان 3 سانتی متر است. فاصله واقعی این دو مکان چقدر است؟ الف) 90 کیلومتر <input type="radio"/> (ب) 900 متر <input type="radio"/> (ج) 9 کیلومتر <input type="radio"/> (د) 90 متر <input type="radio"/></p> <p>9- کدام یک از گزینه های زیر جلگه آمریکای شمالی است؟ الف) می سی سی پی <input type="radio"/> (ب) آمازون <input type="radio"/> (ج) پارانا <input type="radio"/> (د) برزیل <input type="radio"/></p> <p>10- بخش های داخلی و مرکزی آسیا، چه نوع آب و هوایی دارند؟ الف) معتدل اقیانوسی <input type="radio"/> (ب) قاره ای یا بری <input type="radio"/> (ج) مدیترانه ای <input type="radio"/> (د) سرد و یخبندان <input type="radio"/></p> <p>11- کدام گزینه از عوامل داخلی توسعه نیافتگی آفریقا نیست؟ الف) شرایط سخت محیطی <input type="radio"/> (ب) شیوع بیماری ها <input type="radio"/> (ج) حکومت های وابسته و استبدادی <input type="radio"/> (د) استعمار <input type="radio"/></p> <p>12- حکومت ایلخانان را چه کسی تأسیس کرد؟ الف) هلاکو خان <input type="radio"/> (ب) ابوسعید <input type="radio"/> (ج) تیمور <input type="radio"/> (د) آلب ارسلان <input type="radio"/></p>	ب
3	<p style="text-align: right;">➤ تکمیل کنید؟</p> <p>13- مهم ترین محصول کشاورزی در قاره آسیا است</p> <p>14- پرجمعیت ترین شهر ایالات متحده آمریکا است که مرکز اصلی سازمان ملل متحد و مجسمه آزادی در آنجاست.</p> <p>15- و دو بندر مهم استرالیا از مراکز مهم صنایع کشتی سازی و صنایع شیمیایی به شمار می روند.</p> <p>16- بیشتر مردم اروپا پیرو دین هستند.</p> <p>17- وزیر آلب ارسلان و ملکشاه نام داشت.</p>	ج
1	<p style="text-align: right;">➤ پاسخ دهید.</p> <p>18- وقتی دیگری از دست ما عصبانی است باید چه کارهایی انجام دهیم؟ (دو مورد)</p>	د
1	<p>19- مهمترین ویژگی ها و دستاوردهای حکومت امام علی (ع) را نام ببرید؟ (دو مورد)</p>	د
1	<p>20- بهانه و علت حمله سلطان محمود غزنوی به هندوستان چه بود؟</p>	
ادامه سوالات پشت برگه		

1	21- قیام سربداران براساس تعلیمات چه کسانی شکل گرفت؟ شعار آنها را بنویسید؟	
1	22- دو مورد از اقدامات غازان خان را بنویسید؟	
1	23- اوراسیا را تعریف کنید؟	
1	24- چرا منطقه جنوب غربی آسیا استراتژیک (راهبردی) است؟ (دو مورد)	
1	25- بهره‌های اقتصادی آسیا را نام ببرید؟ (هر 4 کشور را نام ببرید)	
1/5	26- به موارد خواسته شده پاسخ دهید؟ 1- دو کشور که پرجمعیت‌ترین کشورهای جهان هستند: و 2- دو کشور منطقه جنوب غربی آسیا که توانسته اند از طریق رونق گردشگری یا تجارت و بازرگانی، اقتصاد خود را متحول کنند و درآمد زیادی به دست بیاورند: و 3- دو مورد از جزایر ایران در خلیج فارس: و	
1	27- اروپای پیر به کدام بخش از اروپا گفته می‌شود؟ دو مورد از ویژگی‌های آن را بنویسید؟	
1	28- مهم‌ترین عللی که موجب پیشرفت و توسعه آمریکای شمالی شده است را نام ببرید؟ (دو مورد)	
1	29- موارد خواسته شده مربوط به نقشه زیر را بنویسید؟ 1- نام اقیانوسی؟ (.....) 2- نام بیابانی؟ (.....) 3- نام خلیجی؟ (.....) 4- نام کشوری؟ (.....)	
20	جمع بارم	موفق باشید

	<p style="text-align: center;">به نام خدا دبیرستان نمونه و هوشمند رسولیان آزمون نوبت دوم مطالعات اجتماعی هشتم شماره کلاس: نام و نام خانوادگی:</p> <p style="text-align: left;">مدت آزمون: 50 دقیقه</p>	
بارم	سوالات	ردیف
1/5	<p style="text-align: right;">➤ صحیح یا غلط بودن جملات زیر را مشخص کنید؟</p> <p>1- هیئت دولت از نمایندگان مجلس شورای اسلامی، رئیس جمهور، معاونان و سفیران تشکیل می شود. <input type="radio"/> ص <input type="radio"/> غ</p> <p>2- در یک ارتباط کلامی، زبان یک رسانه است. <input type="radio"/> ص <input type="radio"/> غ</p> <p>3- حکومت تیموریان سرانجام با ظهور حکومت صفویان در ایران از میان رفت. <input type="radio"/> ص <input type="radio"/> غ</p> <p>4- غازان خان در نبرد ملازگرد رومیان را شکست سختی داد و امپراتور روم شرقی را به اسارت گرفت. <input type="radio"/> ص <input type="radio"/> غ</p> <p>5- چین و هند در پیمان اقتصادی بریکس حضور دارند. <input type="radio"/> ص <input type="radio"/> غ</p> <p>6- هلند و دانمارک از تولیدکنندگان و صادرکنندگان بزرگ فرآورده های گوشتی و لبنی هستند. <input type="radio"/> ص <input type="radio"/> غ</p>	الف
2/5	<p style="text-align: right;">➤ گزینه صحیح را مشخص کنید؟</p> <p>7- سازمان های مردم نهاد برای فعالیت خود باید از کجا مجوز بگیرند؟ الف) وزارت کشور <input type="radio"/> ب) وزارت امور اقتصاد و دارایی <input type="radio"/> ج) وزارت کار، تعاون و رفاه اجتماعی <input type="radio"/> د) سازمان اوقاف و امور خیریه <input type="radio"/></p> <p>8- بخش های داخلی و مرکزی آسیا، چه نوع آب و هوایی دارند؟ الف) معتدل اقیانوسی <input type="radio"/> ب) قاره ای یا بری <input type="radio"/> ج) مدیترانه ای <input type="radio"/> د) سرد و یخبندان <input type="radio"/></p> <p>9- در نقشه ای با مقیاس $\frac{1}{100000}$ فاصله دو مکان 4 سانتی متر است. فاصله واقعی این دو مکان چقدر است؟ الف) 4 کیلومتر <input type="radio"/> ب) 400 متر <input type="radio"/> ج) 40 کیلومتر <input type="radio"/> د) 40 متر <input type="radio"/></p> <p>10- طولانی ترین رود جهان چه نام دارد؟ الف) آمازون <input type="radio"/> ب) دانوب <input type="radio"/> ج) راین <input type="radio"/> د) نیل <input type="radio"/></p> <p>11- کدام یک از گزینه های زیر چین خوردگی جوان آمریکای شمالی است؟ الف) آپالاش <input type="radio"/> ب) برزیل <input type="radio"/> ج) راکی (روشوز) <input type="radio"/> د) آند <input type="radio"/></p>	ب
2/5	<p style="text-align: right;">➤ تکمیل کنید؟</p> <p>12- پرخاشگری و نزاع، نتیجه..... است.</p> <p>13- برطبق قانون اساسی رئیس قوه قضائیه توسط..... انتخاب می شود.</p> <p>14- متراکم ترین منطقه جهان از نظر جمعیت..... است.</p> <p>15- بیشتر مردم اروپا پیرو دین..... هستند.</p> <p>16- به بومیان قاره آمریکا،..... گفته می شود.</p>	ج
1	<p style="text-align: right;">➤ پاسخ دهید.</p> <p>17- مهمترین ویژگی ها و دستاوردهای حکومت امام علی (ع) را نام ببرید؟ (دو مورد)</p>	د
1	<p>18- چرا پایه های حکومت خوارزمشاهیان چندان محکم نبود؟</p>	
1	<p>19- چرا سلجوقیان برای اداره حکومت خود ناگزیر بودند از وزیران ایرانی استفاده کنند؟</p>	
ادامه سوالات پشت برگه		

1	20- دو مورد از اقدامات هلاکوخان را بنویسید؟	
1	21- هر یک از مکان های زیر توسط چه کسی بنا شد؟ بنای ربع رشیدی: 2- گنبد سلطانیه:	
1	22- دلتا را تعریف کنید؟	
1	23- بیرهای اقتصادی آسیا را نام ببرید؟(هر 4 کشور را نام ببرید)	
1/5	24- به موارد خواسته شده پاسخ دهید؟ 1- دو مورد از زبان های پرتکلم در منطقه جنوب غربی آسیا: و 2- دو کشور منطقه جنوب غربی آسیا که به دلیل جنگ و نبودن امنیت نتوانستند پیشرفت کنند: و 3- دو مورد از کشورهای عمده صادر کننده نفت در منطقه جنوب غربی آسیا: و	
1	25- چرا منطقه جنوب غربی آسیا پر تنش است؟(دو مورد)	
1	26- اروپای جوان به کدام بخش از اروپا گفته می شود؟ دو مورد از ویژگی های آن را بنویسید؟	
1	27- مهمترین عللی که موجب پیشرفت و توسعه آمریکای شمالی شده است را نام ببرید؟(دو مورد)	
1	28- دو بندر مهم استرالیا که از مراکز مهم صنایع کشتی سازی و صنایع شیمیایی به شمار می روند را نام ببرید؟	
1	29- موارد خواسته شده مربوط به نقشه زیر را بنویسید؟  <p>۱- نام رشته کوهی؟ (.....) ۲- نام دریایی؟ (.....) ۳- نام کانالی؟ (.....) ۴- نام اقیانوسی؟ (.....)</p>	
20	جمع بارم	موفق باشید

