

نام و نام خانوادگی :

مدیریت آموزش و پرورش نامیه یک یزد

تاریخ امتحان : ۱۳۹۵/۱۰/۱۸

نام درس : پیام های آسمان هفتم

دبیرستان پسرانه نمونه دولتی (سولیان) (دوره اول)

وقت امتحان : ۴۰ دقیقه

ساعت امتحان : ۸:۳۰

تعداد صفحه : ۲

شماره کلاس - ردیف :

..... - -

شماره کلاس - شماره ردیف

نمبره په عدد - نمبره په مروف - امضاء

۱- معنا و مفهوم آیه مقابل چیست؟ (۱/۵) «لَقَدْ جَاءَكُمْ رَسُولٌ مِّنْ أَنْفُسِكُمْ عَزِيزٌ عَلَيْهِ مَا عَنِتُّمْ حَرِيصٌ عَلَيْكُمْ بِالْمُؤْمِنِينَ رَؤُوفٌ رَّحِيمٌ»

۲- گزینه صحیح را انتخاب کنید. (۱)

الف) آیه شریفه ی زیر به کدام موضوع اشاره دارد؟ «لئن شکرتم لازیدنکم»

شکر واقعی نعمت مراقبت و توجه دائمی خداوند طعام و روزی انسان ناسپاسی نعمت

ب) آیه ی «وَمِنَ النَّاسِ مَنْ يَشْرِي نَفْسَهُ ابْتِغَاءَ مَرْضَاتِ اللَّهِ» (بعضی از مردم از جان خود در راه رضای خدا در می گذرند) درباره چه کسی نازل شده است؟

حضرت محمد (ص) حضرت علی (ع) حضرت فاطمه (س) امام حسین (ع)

ج) کدام یک از عوامل زیر مسلمانان را در جنگ احد شایسته پیروزی کرد؟

صبر و توبه توکل و شکر صبر و شکر توبه و دعا

د) آیه ی شریفه «إِيَّاكَ نَعْبُدُ وَإِيَّاكَ نَسْتَعِينُ» از نظر مفهوم با کدام گزینه ارتباط دارد؟

الف) روزی دادن خداوند به بندگان ب) خدا ناظر اعمال و رفتار ماست

ج) بی نیازی خداوند از بندگان د) استعانت از خداوند

۳- جاهای خالی را با کلمات مناسب پر کنید. (۲)

الف- از ویژگی های بارز شخصیت حضرت علی (ع) می توان و ایشان را نام برد.

ب- امام صادق (ع) می فرماید: صدقه دادن موجب نجات از و رهایی از است.

ج- برخی افراد با یا که مرتکب می شوند خودشان را از حفاظت خداوند و حمایت فرشتگان محروم می کنند.

د- و که تمام زندگی خود را به خوش گذرانی و تفریح در دنیا می پردازند و برای سفر آخرت توشه ای فراهم نمی کنند دوست ندارند از این دنیا خارج شوند.

۴- حضرت فاطمه (س) سعادت زنان را در چه می دانستند؟ (۵/)

۵- چرا حضرت زهرا (س) هرگز از امیرالمومنین چیزی درخواست نمی نمودند؟ (۱)

۶- هرگاه حضرت فاطمه(س) وارد خانه می شد پیامبر خدا چگونه از ایشان استقبال می نمود؟ و سپس چه می فرمود؟ (۱)

۷- سه نمونه از فداکاریهای حضرت علی(ع) را به صورت خلاصه بیان کنید. (۱/۵)

۸- نظر دین اسلام در مورد افراد فدا کار چیست؟ (۱)

۹- با ذکر یک نمونه عزت نفس را تعریف کنید. (۱/۵)

۱۰- سه مورد از ویژگی های امانتداری پیامبر(ص) را بیان کنید. (۱/۵)

۱۱- نیکی به پدر و مادر چه تاثیری بر زندگی ما در دنیا و آخرت دارد؟ (۱/۵)

۱۲- بنابر آیات قرآن حالت مومنان در هنگام مرگ چگونه است؟ (۱)

۱۳- در موارد مطرح شده زیر چه شباهتی بین زندگی ما و آن پادشاه زیرک وجود دارد؟ (۱)

الف - زمان پادشاهیش خیلی زود سپری شد. زمان زندگی مانیز.....

ب- او در آن جزیره زیبا درجایی زندگی می کرد که خودش ساخته بود. مانیز.....

۱۴- چرا خداوند همه دعاها را مستجاب نمی کند؟ توضیح دهید. (۱/۵)

۱۵- توضیح دهید ما چگونه می توانیم خداوند را یاری دهیم. (۱/۵)

۱۶- ساده ترین نوع تشکر چیست؟ توضیح دهید. (۱)

تاریخ امتحان: ۱۳۹۵/۱۰/۲۰
 وقت امتحان: ۹۰ دقیقه
 ساعت امتحان: ۸:۳۰
 تعداد صفحه: ۳



مدیریت آموزش و پرورش نامیه یک یزد
 دبیرستان پسرانه نمونه دولتی (سولیان دوره اول)

نام و نام خانوادگی:
 نام درس: ریاضیات هفتم
 شماره کلاس - ردیف:

شماره کلاس - شماره ردیف - شماره به عدد - شماره به حرف - امضاء دبیر

« هر کس به دانش از دیگران پیش تر است قیمتش بیشتر است. پیامبر(ص) »

ردیف	سوال	بارم
۱	<p>۱) کدام یک از اعداد زیر اول است؟ الف) ۵۱ ب) ۸۱ ج) ۱۰۱ د) ۱۴۱</p> <p>۲) حاصل عبارت مقابل چیست؟ $۱ - ۲ + ۳ - ۴ + ۵ - ۶ + \dots - ۶۰ =$ الف) -۳۰ ب) ۳۰ ج) -۳۱ د) ۳۱</p> <p>۳) چند ضلعی هایی که هیچ زاویه ی بزرگتر از ۱۸۰° ندارند، نامیده می شوند. الف) محدب ب) مقعر ج) منتظم د) کاو</p> <p>۴) جمله پانزدهم دنباله اعداد مقابل کدام گزینه است؟ الف) ۹۸ ب) ۱۰۰ ج) ۱۰۵ د) ۱۰۷</p>	۱
۲	<p>درستی یا نادرستی هر یک را با \checkmark یا \times مشخص کنید.</p> <p>۱) اگر مجموع دو عدد اول ۴۵ باشد، عدد بزرگتر ۴۷ است. <input type="checkbox"/></p> <p>۲) قرینه ی هر عدد صحیح منفی از خودش کوچکتر است. <input type="checkbox"/></p> <p>۳) اگر پاره خطی را از یک طرف امتداد دهیم دو نیم خط به وجود می آید. <input type="checkbox"/></p> <p>۴) هر عدد طبیعی حداقل یک شمارنده اول دارد. <input type="checkbox"/></p>	۱
۳	<p>در جای خالی عدد یا کلمه ی مناسب بنویسید.</p> <p>۱) بزرگترین عدد صحیح منفی است.</p> <p>۲) اگر جمله ی nام یک الگو $۴n+۳$ باشد، جمله عدد ۳۱ می شود.</p> <p>۳) عبارت جبری محیط مستطیلی به ابعاد a و b برابر است با</p> <p>۴) اندازه ی زاویه بین نیم سازهایی دو زاویه متمم درجه است.</p>	۲
۴	<p>حاصل عبارت های زیر را به دست آورید.</p> <p>$-۸ - ۳ \times (-۵) =$</p> <p>$[۱۸ - ۲۷] \times (-۸۱ \div ۲۷) =$</p>	۱
۵	<p>دمای هوای شهر تهران ۹ درجه بالای صفر و تبریز ۱۴ درجه از تهران سردتر است. میانگین دمای هوای شهرهای تهران و تبریز چند درجه است؟</p>	۱
۶	<p>تویی از ارتفاع ۴۰ متری رها می شود و پس از هر بار زمین خوردن نصف ارتفاع قبلی بالا می آید. این توپ از ابتدا تا لحظه ای که برای سومین بار به زمین می خورد، چه مسافتی را طی می کند؟</p>	۱

نام و نام خانوادگی :

مدیریت آموزش و پرورش نامیه یک یزد

نام درس : ریاضیات هفتم

دبیرستان پسرانه نمونه دولتی (سولیان) (دوره اول)

شماره کلاس - ردیف :

.....

شماره

آموزشگاه

شماره کلاس - شماره ردیف - شماره به عدد - شماره به حرف - امضاء دبیر

تاریخ امتحان : ۱۳۹۵/۱۰/۲۰

وقت امتحان : ۹۰ دقیقه

ساعت امتحان : ۸:۳۰

تعداد صفحه : ۳

۲	<p>الف) معادله مقابل را حل کنید.</p> $x - 11 = 3x - 55$ <p>ب) برای مسئله زیر معادله ای بنویسید، سپس آن را حل کنید. « اگر از نصف عددی ۵ واحد کم شود، حاصل ۱۲ می شود. آن عدد چیست؟ »</p>	۷
۲	<p>الف) حاصل عبارت جبری زیر را ساده کنید.</p> $3(2a - 5b + 1) + 2(-3a + 2b - 3) =$ <p>ب) اگر $x = -2$ و $y = 3$ باشد، مقدار عددی عبارت $5x - 3xy + y$ را به دست آورید.</p>	۸
۱	<p>می خواهیم مستطیلی به ابعاد ۲۴ و ۳۶ سانتی متر را با کاشی های مربع شکل هم اندازه بپوشانیم. الف) اندازه ی ضلع هر کاشی چه عددی می تواند باشد؟ ب) اگر بخواهیم کاشی های مصرف شده کمترین تعداد باشند، چه عددی برای ضلع کاشی مناسب است؟</p>	۹
۱	<p>الف) شمارنده های عدد ۲۸ را بنویسید. ب) دو عدد بنویسید که شمارنده های اول آن ها ۳ و ۵ و ۷ باشد.</p>	۱۰
۱	<p>به کمک تجزیه، بزرگترین شمارنده مشترک ۹۰ و ۵۴ را به دست آورید.</p> $90 =$ $54 =$ $(90, 54) =$	۱۱
۱	<p>حاصل عبارت زیر را به دست آورید.</p> $\frac{1}{2} + \frac{1}{4} + \frac{1}{8} + \frac{1}{16} + \dots + \frac{1}{2048} =$	۱۲

تاریخ امتحان: ۱۳۹۵/۱۰/۲۰

وقت امتحان: ۹۰ دقیقه

ساعت امتحان: ۸:۳۰

تعداد صفحه: ۳

شماره

آموزشگاه

مدیریت آموزش و پرورش نامیه یک یزد

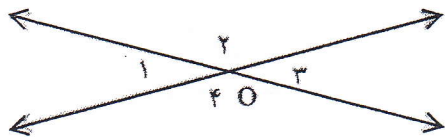
دبیرستان پسرانه نمونه دولتی رسولیان (دوره اول)

نام و نام خانوادگی: نام درس: ریاضیات هفتم شماره کلاس - ردیف:

شماره کلاس - شماره ردیف - شماره په عدد - شماره په صروف - امضاء دبیر

۱

نقطه O محل برخورد دو خط می باشد. نشان دهید که زاویه های O_1 و O_3 مساویند؟



۱۳

۱

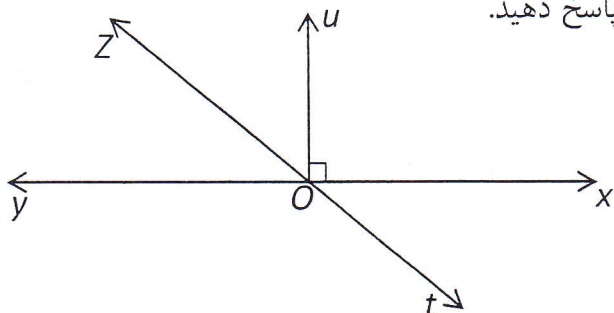
در شکل مقابل zt نیم ساز yOu است. سوالات زیر را پاسخ دهید.

(الف) نام دو نیم خط را بنویسید.

(ب) نام دو خط را بنویسید

(ج) نام دو زاویه مکمل را بنویسید.

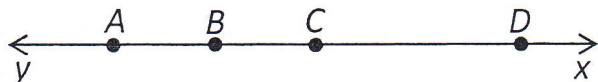
(د) اندازه زاویه yOt چند درجه است؟



۱۴

۱

در شکل نقطه C وسط AD و B وسط AC رابطه های زیر را با عدد یا حروف مناسب کامل کنید.



$\overline{AB} + \overline{BD} = \dots$

$\overline{BD} = \dots \overline{AB}$

$(\overline{AD} - \overline{BD}) + \overline{BC} = \dots$

$\overline{BD} + \overline{AC} = \dots \overline{AD}$

۱۵

۱

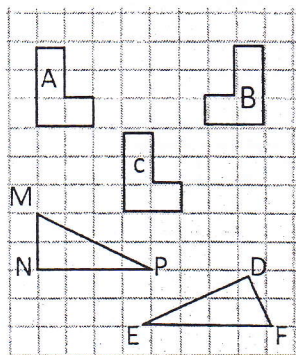
دو زاویه متمم یکدیگرند و یکی از سه برابر دیگری ۶ درجه بیشتر می باشد، مکمل زاویه کوچکتر چند درجه است؟

۱۶

۱

نام هر تبدیل هندسی را بنویسید.

۱۷



$C \rightarrow A$

$A \rightarrow B$

MP=

NP=

MN=

دو مثلث هم نهشت هستند. تساوی اضلاع متناظر را بنویسید

نام و نام خانوادگی:

بسمه تعالی

تاریخ امتحان: ۹۵/۱۰/۲۷

سوال درس: زبان انگلیسی - صحتی

مدت پاسخگویی:

مدیریت آموزش و پرورش ناحیه یک یزد

ساعت امتحان: ۸:۳۰

دبیرستان نمونه دولتی رسولیان (دوره اول)

تعداد سوال: ۴

کلاس: هفتم

تعداد صفحه: یک

۱- معاون اجرایی مدرسه برای پر کردن فرم مشخصات بابک با او صحبت می کند به گفتگوی بین آنها گوش کنید و اطلاعات خواسته شده ره در جاهای خالی بنویسید. (۳)

First name:.....

Last name:.....

Age:.....

Father's name:.....

Month of birth:.....

Father's job:.....

۲- در یک تست شنوایی سنجی زیر حرف اول هر کلمه ای که می شنوید را بنویسید. (۲)

1).....

2).....

3).....

4).....

۳- به مکالمه ها گوش کنید و گزینه صحیح را انتخاب کنید. (۲)

Conversation 1	father- mother-uncle	dentist-teacher-doctor
Conversation 2	sister- brother-aunt	nurse-housewife-florist

۴- به مکالمه ها گوش کنید و گزینه صحیح را انتخاب کنید. (۲)

First name	Last name	month of birth	Day of birth
Bitra-Sima-Bina	Ebadi-Emami-Ekrami	Mehr-Aban_Azar	13-14-15

Good luck

Listening Grade 7

معارف و اطلاعات خود را در این بخش بنویسید. به آواز گوئی کنید و اطلاعات خود را در این بخش بنویسید.

A) Good morning Mr Ahmadi? B) Hi, how are you?

A) Fine, thanks B) I'm a completing a form. What's your name?

A) Babak Samadi

B) Sorry. How do you spell your last name?

A) It's Samadi. S-A-M-A-D-I

B) Thanks. And how old are you?

A) I'm fifteen.

B) When's your birthday?

A) In Bahman

B) What's your father's name? A) Arash

B) What's his job? A) He's a teacher.

⑤ در دست نوشته ای بنویسید که حرف اول هر کلمه ای را که می شنوید بنویسید

- 1. marker 2. backpack 3. sharpener 4. eraser

⑥ به مکالمه گوش کنید و در کتب صحیح را انتخاب کنید

① A) Is that your father in the picture? B) No, he's my uncle. A) Really, what's his job? B) He's a teacher

② A) Who is that girl overthere? B) She's my sister. A) What's her job? B) She's a nurse

⑦ به مکالمه گوش کنید و در کتب صحیح را انتخاب کنید

Who's that girl overthere?

She's Bitar Emami, my friend.

When's her birthday?

It's in Aban. Fifteenth of Aban.

Let's meet her.

Sure.

۱) در هر گروه کلمه ناهماهنگ را مشخص کنید. (۱)

- 1) Farvardin-Mordad-December-Tir
- 2) Monday-Day-Tuesday-Friday
- 3) postman- cook-florist- friend
- 4) three- sixty- fine- five

۲) به سوالات زیر فقط با یک کلمه پاسخ دهید. (۲)

- 1) How old is Mohammad?
- 2) What is his job?
- 3) What is his last name?
- 4) When is his birthday?

نام: محمد
نام خانوادگی: شاکری
تاریخ تولد: ۱۳۶۱/۱۰/۲۷
شغل: دکتر

۳) مکالمه زیر را بخوانید سپس اطلاعات خواسته شده را در فرم زیر بنویسید. (۱)

- A) What's your name?
- B) I'm Ahmad Kabiri.
- A) How old are you?
- B) Fifteen
- A) And your parents' job?
- B) My father is a dentist and my mother is a nurse.

Personal information
First name:.....
Last name:.....
Age:.....
Father's Job: dentist
Mother's job:.....

۴) با کلمات در هم ریخته زیر جمله بسازید. (۱)

- 1) years- I- old- am- six .

۵) با کلمات زیر را به ترتیب الفبای انگلیسی بنویسید (۲)

Danesh- Ebadi- Zeini- Ghadiri- Chamran- Hakimi- Eskandari- Moradi

۶) جواب صحیح را انتخاب کنید. (۲)

1) Your mother's brother is your

- a) aunt b) grandfather c) uncle

2) A: Who is that? B: She is Mrs Ehsani.

- a) man b) woman c) boy

3) Amini is my father.

- a) Mr b) Mrs c) Miss

4) How are you? I am

- a) ten b) fine c) a student

۹) مکالمه زیر را مرتب کنید (۱)

Ali {
What is his job?
Hello Amin.
Who is that man?

Amin {
Hi, my friend.
He is my uncle.
He's a dentist.

Ali) Hello Amin .

Amin) Hi, my friend .

Ali)?

Amin)

Ali)?

Amin)

Good Luck

نام و نام خانوادگی:

باسمه تعالی

تاریخ امتحان: ۱۳۹۵/۱۰/۲۹

سوال درس: عربی

مدیریت آموزش و پرورش ناحیه یک یزد

مدت پاسخگویی: ۶۰ دقیقه

پایه: هفتم

دبیرستان پسرانه نمونه دولتی رسولیان (دوره اول)

ساعت امتحان: ۸:۳۰

تعداد سوال: ۱۴

تعداد صفحه: ۲

کلاس-ردیف:

۱- کلمه های مشخص شده را ترجمه کنید. (۱)

آفَه الْعِلْمِ، النَّسِيَانِ. - سَلَامَةُ الْعَيْشِ فِي الْمُدَارَاهِ -

۲- ترجمه عبارت های زیر را کامل کنید. (۱)

هَذِهِ جَائِزَةٌ ذَهَبِيَّةٌ لِلْفَائِزِ الْأَوَّلِ. این جایزه برای برنده اول است.

الضُّيُوفُ فِي الْغُرْفَةِ. در اتاق هستند.

الْخَيْرُ كَثِيرٌ وَفَاعِلُهُ قَلِيلٌ. کار خوب زیاد، ولی کم است.

تَفَكَّرْتُ سَاعَةً خَيْرًا مِنْ عِبَادَةِ سَبْعِينَ سَنَةً. ساعتی فکر کردن بهتر از سال عبادت است.

۳- عبارت های زیر را ترجمه کنید. (۴)

أَرْبَعَةٌ قَلِيلٌهَا كَثِيرٌ: «الْفَقْرُ وَالْوَجَعُ وَالْعِدَاوَةُ وَالنَّارُ»

الْجَنَّةُ تَحْتَ أَقْدَامِ الْأُمَّهَاتِ.

إِنَّ حُسْنَ الْعَهْدِ مِنَ الْإِيمَانِ.

۴- به پرسش های زیر پاسخ دهید. (۱)

مَنْ أَنْتَ؟ - مِنْ أَيْنَ أَنْتَ؟

۵- کلمات مرتبط در ستون «الف» و «ب» را به هم وصل کنید. (۱)

الف	ب
كَلَامٌ بَيْنَ شَخْصَيْنِ	اللِّسَانِ
أَبْوَالَابٌ وَ أَبْوَالِأُمَّ	الْحِوَارِ
	الْجَدِّ

۶- پاسخ صحیح را انتخاب کنید. (۱)

كَمْ أُسْبُوعًا فِي الشَّهْرِ؟	عَشْرَةٌ	أَرْبَعَةٌ
كَمْ شَهْرًا فِي السَّنَةِ؟	ثَمَانِيَةٌ	إِثْنَا عَشَرَ

۷- به پرسش های زیر به دلخواه پاسخ صحیح دهید. (۱)

..... - أَيْنَ الْوَلَدِ؟
..... - أَيْنَ السَّيَّارَةِ؟

۸- با توجه به کلمات مقابل، متضاد کلمات زیر را بنویسید. (۱) «حَسَنٌ - غَالِيَهُ - قَلِيلٌ - قَرِيبٌ - وَحْدَهُ - جَالِسٌ»

رَخِيصَهُ =
كَثِيرٌ =

بَعِيدٌ =
جَمَاعَهُ =

۹- با توجه به کلمات مقابل، معادل مؤنث کلمات زیر را بنویسید. «الْبَنَاتُ - أَنْتَ - هِيَ - النِّسَاءُ - الْمَرْأَةُ - الْأُخْتُ»

الرَّجُلُ:.....
الأولاد:.....

الرِّجَالُ:.....
هُوَ:.....

۱۰- پاسخ صحیح هر سوال را انتخاب کنید. (۱)

لِمَنْ هَذَا الْقَلَمُ؟	لِتِلْكَ الطَّالِبَةِ	الْقَلَمُ هُنَا
مَنْ ذَلِكَ الرَّجُلُ؟	أَنْتَ سَائِقُ السَّيَّارَةِ	هُوَ سَائِقُ السَّيَّارَةِ
مَنْ تِلْكَ الْبِنْتُ؟	هِيَ أُخْتُ ثُرَيَّا	هُوَ أَخُو ثُرَيَّا
أَنْتَ..... يَا وَدُدُ.	طَالِبٌ عَزِيزٌ	طَالِبَتَانِ عَزِيزَتَانِ

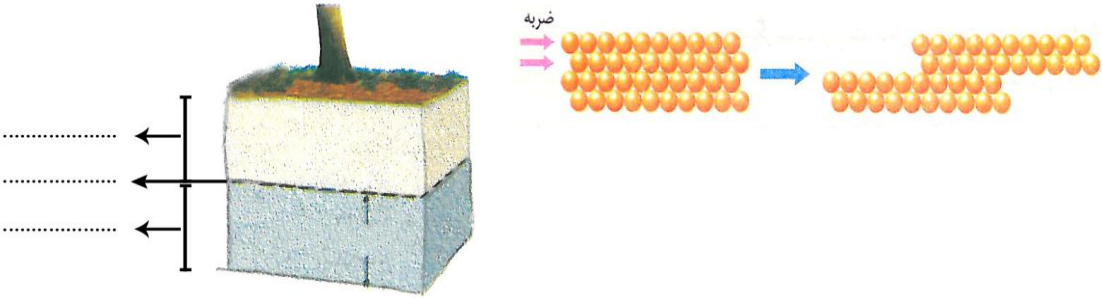
۱۱- کلمه های «جمع سالم و مکسر» و نیز «مثنی» را در عبارات زیر مشخص کرده و نوع کلمه را بنویسید. (۷۵/)



«أُولَئِكَ الرِّجَالُ، جَالِسُونَ عِنْدَ عَالِمِينَ.»

۱۲- پاسخ مناسب برای هر عبارت را مشخص کنید. (۱/۲۵)

- - أَلْوَرْدَتَانِ، جَمِيلَتَانِ. (هذَانِ - هَاتَانِ)
- - ذَلِكَ.....، نَظِيفٌ. (الْوَلَدُ - الْبِنْتُ)
- - تِلْكَ.....، كَبِيرَةٌ. (الْمَدْرِسَةُ - الْمَسْجِدُ)
- - هُوَ لَاحِقٌ.....، فَائِزَاتٌ. (اللاعِبَاتُ - اللاعِبُونَ)
- - أُولَئِكَ الْمُجَاهِدُونَ.....، (صَابِرَاتٌ - صَابِرُونَ)

ردیف	شرح سوال	بارم
نام: نام خانوادگی: نام درس: علوم تجربی هفتم کلاس-ردیف:	بسمه تعالی اداره‌ی آموزش و پرورش استان یزد آموزش و پرورش ناحیه یک دیپستان پسرانه نمونه رسولیان (دوره اول)	تاریخ: ۱۳۹۵/۱۰/۲۵ زمان: ۶۰ دقیقه تعداد سوال: ۱۶ عدد تعداد صفحه: ۳
۱	جاهای خالی را با کلمه‌ی مناسب کامل کنید. الف- مقدار ماده‌ی تشکیل دهنده‌ی جسم را..... می‌نامند. ب- افزودن به مغز مداد باعث سختی آن می‌شود. ج- بیشتر آبی که بر اثر بارش به سطح زمین می‌آید می‌شود. د- تبدیل علم به عمل را می‌گویند.	۱
۲	در جمله‌ها کلمه‌ی غلط را اصلاح کنید. (فعل جمله را تغییر ندهید) الف: ماده‌ای که از یک نوع اتم ساخته شده است ترکیب نام دارد. ب: دریاچه ارومیه باقیمانده دریای قدیمی تیتیس است. ج: اگر جنس سنگ‌های سواحل سخت باشد ساحل ماسه‌ای به وجود می‌آید. د: هر چیزی که شکل معین و حجم معینی دارد گاز می‌باشد.	۱
۳	گزینه‌ی صحیح را مشخص کنید. - در حجم معین و دمای معین انبساط کدام ماده بیشتر است؟ الف: مس <input type="checkbox"/> ب: آب <input type="checkbox"/> ج: اکسیژن <input type="checkbox"/> د: شیشه <input type="checkbox"/> - وقتی دمای هوا بالای صفر درجه‌ی سانتی‌گراد باشد بارش چگونه است؟ الف: تگرگ <input type="checkbox"/> ب: باران <input type="checkbox"/> ج: برف <input type="checkbox"/> د: همه‌ی موارد - کدام یک از مواد زیر فقط از یک نوع ماده تشکیل شده است؟ الف: چدن <input type="checkbox"/> ب: آب <input type="checkbox"/> ج: نمک خوراکی <input type="checkbox"/> د: مس <input type="checkbox"/> - یک سیب ۲۵۰ گرمی چند نیوتون وزن دارد؟ الف: ۰/۲۵ <input type="checkbox"/> ب: ۲/۵ <input type="checkbox"/> ج: ۲۵ <input type="checkbox"/> د: ۲۵۰ <input type="checkbox"/>	۱
۴	پاسخ کوتاه بدهید. الف: املاح آب سخت را نام ببرید (.....)(.....) ب: مثال فناوری: (.....) ج: ماده‌ای که برای افزایش استحکام به گل اضافه می‌شود (.....) د: یکی از شاخه‌های علوم تجربی: (.....)	۱
۵	تفاوت هر یک از موارد زیر را بنویسید. (هر کدام یک مورد) الف) جرم با وزن ب) عنصر با ترکیب	۱

۰/۷۵	<p>در هر مورد از کدام روش محافظت از منابع طبیعی استفاده می‌شود؟ «بازیافت، کاهش مصرف، مصرف دوباره»</p> <p>الف: پلاستیک‌های کهنه را ذوب می‌کنیم و دوباره مصرف می‌کنیم؟</p> <p>ب: برای خرید با خود زنبیل می‌بریم؟</p> <p>ج: ظرف‌های ترشی را می‌توان شست و حبوبات را در آن کرد؟.....</p>	۶
۱/۲۵	<p>با توجه به شکل‌ها به سؤالات پاسخ دهید.</p> <p>الف: چرا فلزات چکش خوارند.</p> <p>ب: در شکل عمق سطح ایستایی، منطقه‌ی اشباع، سطح ایستایی را مشخص کنید.</p> 	۷
۰/۷۵	سه ویژگی آب‌های زیر زمینی را بنویسید.	۸
۱	<p>علت هر یک از موارد زیر را بنویسید.</p> <p>الف- جزر و مد :</p> <p>ب- تراکم پذیری گازها</p>	۹
۱	<p>مسئله‌ی زیر را حل کنید. (نوشتن فرمول و راه‌حل الزامی است)</p> <p>دانش‌آموزی برای اندازه‌گیری چگالی یک سنگ کوچک ابتدا جرم آن را با تراز و اندازه می‌گیرد (۴۰۰ گرم) و بعد آن را درون استوانه‌ی مدرج که ۵۰۰ سانتی‌متر مکعب آب دارد می‌اندازد سطح آب روی ۶۰۰ سانتی‌متر مکعب قرار می‌گیرد چگالی سنگ چقدر می‌باشد؟</p>	۱۰

۰/۷۵	<p>هر کدام از چه نوع اتم‌هایی ساخته شده‌اند؟</p> <p>الف- آب: و <u>هیدروژن</u></p> <p>ب: گاز متان: <u>کربن</u> و</p> <p>ج: کربن دی‌اکسید: و <u>کربن</u></p>	۱۱
۰/۵	چرا برای باز کردن درب فلزی یک ظرف شیشه ای آن را زیر آب داغ میگیریم؟	۱۲
۰/۷۵	<p>شکل‌های زیر ساختار اتمی ۳ عنصر را نشان می‌دهد با توجه به آن سه ویژگی کلی برای اتم‌ها بنویسید.</p> <div style="display: flex; justify-content: space-around; align-items: center;"> <div style="text-align: center;"> <p>(۲۲p, ۲۶n)</p>  <p>۲۲Fe</p> </div> <div style="text-align: center;"> <p>(۱۴p, ۱۴n)</p>  <p>۱۴Si</p> </div> <div style="text-align: center;"> <p>(۷p, ۸n)</p>  <p>۷N</p> </div> </div>	۱۳
/۷۵	<p>با توجه به فرایند تولید آهن به سوالات پاسخ دهید.</p> <p>الف) سنگ آهن معمولاً به چه صورت در طبیعت یافت میشود؟</p> <p>ب) نقش کربن (زغال کک) در تولید آهن چیست؟</p> <p>ج) چرا از آهن خالص برای ساختن تیر آهن استفاده نمیشود؟</p>	۱۴
۰/۵	دو خصوصیت عناصر نافلز را بنویسید.	۱۵
۲	<p>مفاهیم زیر را تعریف کنید.</p> <p>الف) انعطاف پذیری</p> <p>ب) سونامی</p> <p>ج) آلیاژ</p> <p>د) چشمه</p>	۱۶

ردیف	سوالات	نمره																
۱	ترجمه فارسی لغات قرآنی زیر را بنویسید؟ أَكْثَرُ: وَ نِيلٌ: تَوَكَّلْ: مُقِيمٌ: غَفُورٌ: ظَلُمَاتٌ: لَعَلَّ: يَعْقِلُونَ:	۴																
۲	جدول زیر را مثل نمونه کامل کنید؟	۱																
	<table border="1"> <thead> <tr> <th>مفرد</th> <th>معنا</th> <th>جمع</th> <th>معنا</th> </tr> </thead> <tbody> <tr> <td>جَنَّةٌ</td> <td>بهشت، باغ</td> <td>جَنَّات</td> <td>بهشت‌ها، باغ‌ها</td> </tr> <tr> <td>ثَمَرَةٌ</td> <td>میوه</td> <td></td> <td></td> </tr> <tr> <td>مُؤْمِنَةٌ</td> <td>زن با ایمان</td> <td></td> <td></td> </tr> </tbody> </table>	مفرد	معنا	جمع	معنا	جَنَّةٌ	بهشت، باغ	جَنَّات	بهشت‌ها، باغ‌ها	ثَمَرَةٌ	میوه			مُؤْمِنَةٌ	زن با ایمان			
مفرد	معنا	جمع	معنا															
جَنَّةٌ	بهشت، باغ	جَنَّات	بهشت‌ها، باغ‌ها															
ثَمَرَةٌ	میوه																	
مُؤْمِنَةٌ	زن با ایمان																	
۳	ترکیبها را مثل نمونه کامل کنید؟ هـ : عَلِيهِ : براو : هِم : : كُمْ :	۱																
۴	ترکیبها را معنا کنید: ۱- وَعَدَ اللَّهُ ۰/۱۵ ۲- قَدْ جَاءَ كُمْ ۰/۱۵ ۳- قَالَ يَا قَوْمِ ۰/۱۵ ۴- أَلَيْكَ ۰/۱۵ ۵- عَمَّا تَعْمَلُونَ ۰/۱۵ ۶- مَلَأَ بَاطِنَهُ ۰/۱۵ ۷- اجر المحسنين ۰/۱۵ ۸- فِي السَّمَاءِ ۰/۱۵	۶,۷۵																

عبارات قرآنی زیر را به فارسی ترجمه کنید؟

۹،۲۵

۱- وَ مَا خَلَقَ اللَّهُ فِي السَّمَوَاتِ وَ الْأَرْضِ
وَأَنْجِدُ

۲- وَ هُوَ عَلَى كُلِّ شَيْءٍ قَدِيرٌ

۳- قَالَ يَا قَوْمِ اعْبُدُوا اللَّهَ

۴- ذَلِكَ مِنْ فَضْلِ اللَّهِ عَلَيْنَا وَ عَلَى النَّاسِ

و بر مردم است

۵- قَالُوا أَ أَنْتَ يَوسُفُ

همان یوسف هستی؟

۶- إِنَّ رَبِّي لَسَمِيعُ الدُّعَاءِ

۷- يُنَبِّئُكُمْ بِهَ الزَّرْعِ وَ الزَّيْتُونِ وَ النَّخِيلِ وَ الْأَعْنَابِ

می رویند یا آب باران و و و را

۲۰

و من الله التوفيق

تاریخ امتحان : ۱۳۹۵/۱۰/۲۶

وقت امتحان : ۳۰ دقیقه

ساعت امتحان : ۸:۳۰

تعداد صفحه : ۱

مهر

آموزشگاه

مدیریت آموزش و پرورش نامیه یک یزد

دبیرستان پسرانه نمونه دولتی (سولیان) (دوره اول)

نام و نام خانوادگی :

نام درس : املای فارسی هفتم

شماره کلاس - (ردیف) :

شماره کلاس - شماره ردیف

نمره به عدد - نمره به حرف - امضاء

آب ، این روح مذاب امید و زندگی ، زلال و نیرومند با گام های استوار ، شتابان می رفت تا خود را به صدها کشتزار سوخته برساند . کودکان پر نشاط گل بوته ها و نوجوانان امیدوار ذرت ها در گوش نسیم ، آمین می گفتند .

من قبول نمی کنم حرف ها و تحلیل های کسانی را که گاهی در برخی از مطبوعات یا رسانه ها از انحراف نسل جوان سخن می گویند ؛ اگر گاهی اشتباه و خطایی از جوان سر بزند ، کاملاً قابل جبران است . اینها چرا صلاح و پارسایی و صداقت جوانان را نمی بینند ؟

استقلال طلبی ، کنجکاو و دانایی ، نوجوان را گاهی نا آرام جلوه می دهد ، این جلوه های گوناگون هیچ کدام بیهوده نیستند؛ ریشه در نیاز ها و علایق ما دارند .

در اولین ساعات حضورش در قم به حرم حضرت معصومه پناه برد . سر بر ضریح آن حضرت گذاشت و از خداوند خواست به او در راهی که انتخاب کرده است ، اخلاص و همت بلند عطا کند و به قلب نگران مادر نیز آرامش و نشاط بخشد و کسالت او را شفا دهد .

الهی دلی ده که در کار تو جان بازیم ؛ توفیق ده ، تا در دین استوار شویم ، نگاه دار تا پریشان نشویم .

نام و نام خانوادگی:

بسمه تعالی

تاریخ: ۱۳۹۵/۱۰/۲۲
وقت: ۵۰ دقیقه
تعلیمات اجتماعی

دبیرستان نمونه دولتی رسولیان

پایه هفتم

کلاس:

نوبت اول

«با نام و یاد حضرت دوست که هر آنچه داریم و نداریم همه از عنایت اوست»

۱- جملات صحیح و غلط را مشخص کنید. (۰/۷۵)

- (الف) مهمترین قانون کشور قانون اساسی است که ۱۷۸ اصل دارد. صحیح غلط
- (ب) بیمه ی وسایل نقلیه جزء بیمه ی اجباری می باشد. صحیح غلط
- (ج) همدلی یعنی پس از درک احساس فرد حادثه دیده به کمک او بشتاییم. صحیح غلط

۲- جملات زیر را با کلمات مناسب کامل کنید. (۱/۵)

(الف) مهمترین عناصر آب و هوا و است.

(ب) نمونه کوچکی از زمین که می توان شکل واقعی بخش های مختلف سیاره زمین را روی آن مشاهده کرد نام دارد.

(ج) رشته کوه در غرب ایران کشیده شده و جهت آن است.

۳- پاسخ صحیح را مشخص کنید. (۰/۷۵)

(الف) شش نفر فقیه شورای نگهبان را کدام گزینه معرفی می کند؟

- (الف) رئیس مجلس (ب) رهبر (ج) رئیس قوه قضاییه (د) رئیس جمهور

۴- جمله ، همه حق دارند در کوچه و خیابان امنیت داشته باشند ، از حقوق افراد در کجاست؟

- (الف) مدرسه (ب) خانه (ج) کلاس (د) محیط زندگی و کشور

۵- نظارت بر حمل و نقل عمومی از وظایف کدام موسسه است؟

- (الف) شهرداری (ب) راهنمایی رانندگی (ج) بهداشت و درمان (د) محیط زیست

۶- موسسه ای که برای هر یک تلاش می کند را بنویسید. (۱/۵)

امنیت..... آموزش..... بهداشت.....

۷- دو دلیل بوجود آمدن قانون ومقررات را بنویسید. (۰/۵)

۸- دو وظیفه ی مهم شورای نگهبان را بنویسید. (۱)

۹- به چه کسی مصرف کننده می گویند؟ (۰/۵)

۱۰- سه گروه فعالیت های اقتصادی را نام ببرید. (۱/۵)

۱۱- دو سوره قرآن را که به نام جانور است نام ببرید. (۱)

۱۲- اصل ۵۰ قانون اساسی چه می گوید؟ (۱)

۱۳- چرا از زیستگاه ها حفاظت می کنیم؟ (سه مورد) (۱/۵)

۱۴- چهار ناحیه ی آب و هوایی ایران را بنویسید. (۲)

۱۵- دانش جغرافیا چه کمکی به ما می کند؟ (۱)

۱۶- موسسه بیمه برای چه بوجود آمده است؟ (۰/۵)

۱۷- کدام ویژگی انسانی یا طبیعی است؟ (۱)

رود..... زندگی جانوری..... سواد..... زبان.....

۱۸- شورای اسلامی روستا در چه کارهایی تصمیم گیری می کند؟ (سه مورد) (۱/۵)

۱۹- در مورد کلمات زیر توضیح مناسب بنویسید. (۲/۵)

زیستگاه:

نقشه:

بیمه:

عوارض نوسازی:

استاندارد: