

شماره داوطلب	باسمه تعالی	نام درس : ریاضی
نام :	وزارت آموزش و پرورش	تاریخ امتحان : ۹۷/۰۳/۰۷
نام خانوادگی :	اداره کل آموزش و پرورش استان یزد	تعداد صفحه : ۴
نام پدر :	اداره سنجش	تعداد سؤال : ۱۶
نام آموزشگاه :	(( نوبت خرداد ))	زمان شروع : ۹:۳۰
پایه : نهم		وقت : ۱۰۰ دقیقه

ضمن خیرمقدم به دانش آموزان و داوطلبان عزیز، سوالات زیر را به دقت بخوانید و با توکل به خدا و آرامش خاطر پاسخ دهید.

ردیف	سؤالات	بارم
	نام و نام خانوادگی مصحح اول : نمره با عدد نمره با حروف	نام و نام خانوادگی مصحح دوم : نمره تجدید نظر با عدد نمره تجدید نظر با حروف
۱	درستی یا نادرستی هر عبارت را مشخص کنید. الف ( مجموعه تهی را بصورت $\{\phi\}$ نشان می دهیم . ب ) اگر $\alpha - b = 5$ باشد آنگاه $\alpha < b$ است. ج ) اگر کره ای در استوانه محاط شود حجم استوانه $1/5$ برابر حجم کره است. د ) عبارت $\frac{1}{x^2 + 4}$ به ازای همه مقادیر $x$ تعریف شده می باشد.	ص غ <input type="checkbox"/> <input type="checkbox"/> <input type="checkbox"/> <input type="checkbox"/>
۲	جمله های زیر را کامل کنید. الف ) اگر $A \subset B$ باشد آنگاه $A \cup B = \dots$ ب ) اگر زاویه بین دو خط در نقشه $65$ درجه باشد ، زاویه بین دو خط در طبیعت ..... درجه است. ج ) از دوران $(360^\circ)$ یک مستطیل حول طولش ..... بوجود می آید. د ) حاصل $2^3 \times 5^{-2}$ برابر است با .....	۱
۳	الف ) با توجه به مجموعه های $A = \{4, 5, 6, 7\}$ و $B = \{5, 7, 3, 2\}$ و $C = \{x \in N \mid -2 < x < 3\}$ اعضای مجموعه های زیر را بنویسید. $A - B = \{ \quad \}$ $C = \{ \quad \}$	۱
	ب ) یک تاس و یک سکه را با هم پرتاب می کنیم چقدر احتمال دارد تاس عدد اول و سکه رو بیاید؟	۰/۵

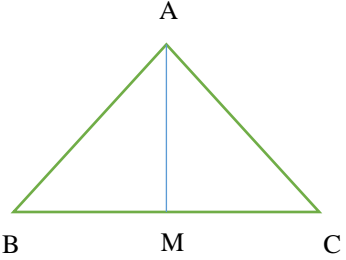
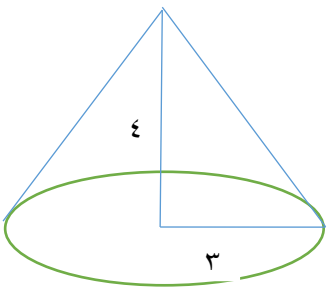
شماره داوطلب	باسمه تعالی	نام درس : ریاضی
نام :	وزارت آموزش و پرورش	تاریخ امتحان : ۹۷/۰۳/۰۷
نام خانوادگی :	اداره کل آموزش و پرورش استان یزد	تعداد صفحه : ۴
نام پدر :	اداره سنجش	تعداد سؤال : ۱۶
نام آموزشگاه :	(( نوبت خرداد ))	زمان شروع : ۹:۳۰
پایه : نهم		وقت : ۱۰۰ دقیقه

۴	<p>به سوالات چهار گزینه ای زیر پاسخ دهید.</p> <p>(A) کدام گزینه نادرست است؟</p> <p>الف) <math>\pi \in \mathbb{Q}</math> (ب) <math>\sqrt[3]{3} \in \mathbb{W}</math> (ج) <math>0.75 \in \mathbb{R}</math> (د) <math>(\sqrt{-1})^2 = -1</math></p> <p>(B) اگر <math>a</math> یک عدد حقیقی منفی باشد آنگاه <math> a  + a</math> برابر است با:</p> <p>الف) صفر (ب) <math>2a</math> (ج) <math>a</math> (د) <math>-2a</math></p> <p>(C) حجم هرمی که مساحت قاعده آن ۶ سانتی متر مربع و ارتفاع آن ۵ سانتی متر باشد برابر است با:</p> <p>الف) ۶۰ (ب) ۳۰ (ج) ۱۰ (د) ۵۰</p> <p>(D) عبارت <math>\frac{x}{y}</math> با کدام یک از عبارت های زیر برابر است؟</p> <p>الف) <math>\frac{y-x}{y-y}</math> (ب) <math>\frac{x}{5}</math> (ج) <math>\frac{6x}{6y}</math> (د) <math>\frac{x+3}{y+3}</math></p>
۵	<p>الف) حاصل را بدست آورید.</p> $\sqrt{(-4)^2} +  -6  -  -1  =$ <p>ب) عدد <math>2 + \sqrt{5}</math> بین کدام دو عدد صحیح متوالی قرار دارد؟</p>
۶	<p>حاصل عبارت های زیر را به ساده ترین صورت ممکن بنویسید.</p> <p>الف) <math>\left[ -\left(\frac{4}{3}\right)^2 \right]^{-1} =</math></p> <p>ب) <math>\sqrt[3]{16} + \sqrt[3]{128} =</math></p>
۷	<p>الف) مخرج کسر مقابل را گویا و سپس ساده نمائید.</p> $\frac{12}{\sqrt{8}} =$ <p>ب) عدد مقابل را بصورت نماد علمی بنویسید.</p> $2560000 =$

شماره داوطلب	نام خانوادگی:	نام درس: ریاضی	باسمه تعالی
نام:	نام پدر:	تاریخ امتحان: ۹۷/۰۳/۰۷	وزارت آموزش و پرورش
نام آموزشگاه:	پایه: نهم	تعداد صفحه: ۴	اداره کل آموزش و پرورش استان یزد
		تعداد سؤال: ۱۶	اداره سنجش
		زمان شروع: ۹:۳۰	(( نوبت خرداد ))
		وقت: ۱۰۰ دقیقه	

۰/۲۵	الف) در چند جمله ای $5xy^2 + 4x^3y^3$ درجه نسبت به $x$ و $y$ چیست؟	۸
۰/۷۵	ب) حاصل را به کمک اتحادها بدست آورید.	
۰/۷۵	ج) تجزیه کنید.	
۰/۷۵	$(x-4)(x+6) =$ $y^4 - 1 =$	
۰/۷۵	خط $1 - 2x = y$ را رسم کنید.	۹
۰/۵	الف) معادله خطی را بنویسید که با خط $x = \frac{1}{2}$ موازی و محور عرض ها را در نقطه ای به عرض ۵ قطع کند.	۱۰
۰/۲۵	ب) معادله خطی را بنویسید که با محور $x$ موازی و از نقطه $\begin{bmatrix} 4 \\ 3 \end{bmatrix}$ بگذرد.	
۰/۵	ج) شیب و عرض از مبدا خط $10 = 2y - 6x$ را بدست آورید.	
۰/۵	الف) مختصات نقطه ای از خط به معادله $4x - 5 = y$ را بیابید که عرض آن نقطه ۳+ باشد.	۱۱
۰/۵	ب) مختصات نقطه محل برخورد دو خط $7 = y$ و $-1 = x$ را بنویسید.	
۱/۵	عبارت گویای زیر را به ساده ترین صورت ممکن بنویسید. (عبارتهای گویا تعریف شده می باشند)	۱۲
	$\left(\frac{5}{x^2 - 9}\right) \div \left(\frac{2}{x-3} + \frac{1}{x+3}\right) =$	
۱	$\begin{cases} x + y = 6 \\ x - 4y = -19 \end{cases}$	۱۳
	دستگاه مقابل را حل کنید.	

شماره داوطلب	نام خانوادگی:	نام درس: ریاضی	باسمه تعالی
نام:	نام پدر:	تاریخ امتحان: ۹۷/۰۳/۰۷	وزارت آموزش و پرورش
نام آموزشگاه:	پایه: نهم	تعداد صفحات: ۴	اداره کل آموزش و پرورش استان یزد
		تعداد سؤال: ۱۶	اداره سنجش
		زمان شروع: ۹:۳۰	(( نوبت خرداد ))
		وقت: ۱۰۰ دقیقه	

۲	<p>الف) در مثلث متساوی الساقین ABC پاره خط AM نیمساز زاویه A است ثابت کنید AM میانه است.</p>  <p>ب) دو لوزی متشابه اند و نسبت تشابه آنها <math>\frac{3}{5}</math> است اگر ضلع لوزی بزرگتر ۳۵ باشد ضلع لوزی کوچکتر را بدست آورید.</p> <p>ج) در جمله « کمان های نظیر وترهای مساوی از یک دایره، با هم برابرند » فرض چیست؟</p>	۱۴
۱	<p>تقسیم زیر را انجام دهید و خارج قسمت و باقی مانده را مشخص کنید.</p> $3x^2 - 6x + 34 \quad   \quad x - 5$	۱۵
۰/۵	<p>الف) مساحت کره ای به شعاع ۲ را بدست آورید. (نوشتن فرمول الزامی است)</p> <p>ب) حجم شکل زیر را بدست آورید. (نوشتن فرمول الزامی است)</p> 	۱۶

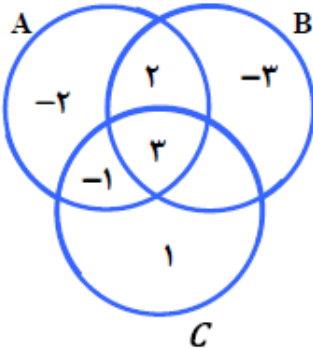
« موفق و سربلند باشید »

بسمه تعالی  
وزارت آموزش و پرورش  
اداره کل آموزش و پرورش استان یزد  
اداره سنجش

شماره داوطلب :  
نام :  
نام خانوادگی :  
نام پدر :  
نام آموزشگاه :  
پایه : نهم

نام درس : ریاضی  
تاریخ امتحان : ۹۷/۳/۲۹  
تعداد صفحه : ۴  
تعداد سؤال : ۱۷  
زمان شروع : ۸ صبح  
وقت : ۱۰۰ دقیقه

**ضمن خیرمقدم به دانش آموزان و داوطلبان عزیز، سوالات زیر را به دقت بخوانید و با توکل به خدا و آرامش خاطر پاسخ دهید.**

		نام و نام خانوادگی مصحح اول : نمره با عدد	نام و نام خانوادگی مصحح دوم : نمره تجدید نظر با عدد
		نمره با حروف	نمره تجدید نظر با حروف
بارم		سوالات	
۱	۱	درستی یا نادرستی هر عبارت را مشخص کنید. الف) مجموعه عدد های صحیح بین $-۱$ و $۱$ یک مجموعه تهی را نمایش می دهد. ب) حاصل $(-۲)^{-۲}$ برابر با $\frac{۱}{۴}$ است. ج) خط $y = ۵$ موازی محور طول ها است. د) هر دو لوزی دلخواه متشابه اند.	درست <input type="checkbox"/> نادرست <input type="checkbox"/>
۱	۲	جاهای خالی را کامل کنید. الف) در پرتاب یک تاس احتمال اینکه عدد رو شده مرکب باشد برابر ..... است. ب) عبارت گویای $\frac{۲x+۳}{x-۵}$ به ازای ..... تعریف نشده است. ج) از دوران یک ربع دایره حول شعاع آن ..... بدست می آید. د) دلیل آوردن و استفاده از دانسته های قبلی، برای معلوم کردن موضوعی که در ابتدا مجهول بوده است ..... نامیده می شود.	درست <input type="checkbox"/> نادرست <input type="checkbox"/>
۰/۵	۳	گزینه مناسب را انتخاب کنید. الف) نمایش اعشاری کدام یک از کسرهای زیر مختوم است؟ $\square \frac{۱}{۱۱}$ (۱) $\square \frac{۵}{۹}$ (۲) $\square \frac{۷}{۳۰}$ (۳) $\square \frac{۳}{۲۰}$ (۴) ب) خانواده ای دارای سه فرزند است احتمال اینکه این خانواده دارای دو دختر باشد چقدر است؟ $\square \frac{۳}{۸}$ (۱) $\square \frac{۱}{۴}$ (۲) $\square \frac{۱}{۲}$ (۳) $\square \frac{۵}{۸}$ (۴)	
۱/۲۵	۴	با توجه به نمودار ون داده شده، ابتدا اعضای مجموعه $A$ و $B$ را مشخص کنید. $A = \{ \quad \quad \quad \}$ $B = \{ \quad \quad \quad \}$ ب) حاصل عبارت های زیر را بدست آورید. $A \cup B =$ $B - C =$ $A \cap C =$	

شماره داوطلب :

نام :

نام خانوادگی :

نام پدر :

نام آموزشگاه :

پایه : نهم

بسمه تعالی

وزارت آموزش و پرورش

اداره کل آموزش و پرورش استان یزد

اداره سنجش

نام درس : ریاضی

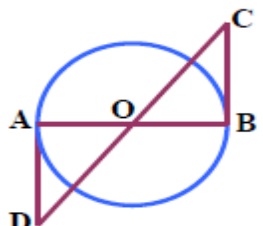
تاریخ امتحان : ۹۷/۳/۲۹

تعداد صفحه : ۴

تعداد سؤال : ۱۷

زمان شروع : ۸ صبح

وقت : ۱۰۰ دقیقه

۱/۵	<p>الف) بین دو عدد <math>1 - \frac{4}{5}</math> و <math>-\frac{4}{5}</math> دو کسر بنویسید.</p> <p>ب) مجموعه زیر را روی محور نشان دهید.</p> $A = \{x \in R \mid -2 \leq x < 3\}$ <p>ج) داخل دایره علامت (<math>\in</math> و <math>\notin</math>) قرار دهید.</p> $\sqrt{3} \circ Q' \quad \pi \circ Q$	۵
۰/۷۵	<p>حاصل عبارت های زیر را بدست آورید.</p> $ 2 - \sqrt{3}  =$ $\sqrt{(2 - \sqrt{5})^2} =$	۶
۱	<p>در شکل مقابل <math>O</math> مرکز دایره است، <math>AD</math> و <math>BC</math> بر دایره مماس اند. نشان دهید که <math>AD = BC</math>.</p> 	۷
۱/۵	<p>الف) حاصل عبارت های زیر را بدست آورید. (۰/۵)</p> $3^{-10} \times 27^{-3} =$ $2\sqrt[3]{16} \times 3\sqrt[3]{4} =$ <p>ب) حاصل عبارت زیر را به صورت نماد علمی بنویسید. (۰/۵)</p> $\frac{12 \times 10^{-4}}{24 \times 10^{-15}} =$ <p>ج) مخرج کسر های زیر را گویا کنید. (۰/۵)</p> $\frac{3}{\sqrt[3]{2}} =$	۸

بسمه تعالی  
وزارت آموزش و پرورش  
اداره کل آموزش و پرورش استان یزد  
اداره سنجش

شماره داوطلب :  
نام :  
نام خانوادگی :  
نام پدر :  
نام آموزشگاه :  
پایه : نهم

نام درس : ریاضی  
تاریخ امتحان : ۹۷/۳/۲۹  
تعداد صفحه : ۴  
تعداد سؤال : ۱۷  
زمان شروع : ۸ صبح  
وقت : ۱۰۰ دقیقه

۲	<p>الف) حاصل عبارت های زیر را با استفاده از اتحاد ها بدست آورید.</p> $(2a + 3b)^2 =$ $99 \times 101 =$ <p>ب) عبارت های زیر را تجزیه کنید.</p> $x^2 - 5x + 6 =$ $x^2 - 16 =$	۹
۱	<p>مجموعه جواب نامعادله زیر را بدست آورید.</p> $2(x - 3) < -x + 9$	۱۰
۱	<p>الف) خط <math>y = 2x + 1</math> را رسم کنید.</p> <p>ب) معادله خطی بنویسید که شیب آن <math>\frac{1}{3}</math> و محور عرض ها را در نقطه ای به عرض ۲ قطع کند.</p>	۱۱
۱	<p>الف) آیا نقطه <math>\left[ \begin{matrix} 2 \\ 4 \end{matrix} \right]</math> روی خط <math>y = \frac{1}{3}x + 3</math> قرار دارد؟ چرا؟</p> <p>ب) در خط به معادله <math>6x - 3y = 3</math> شیب و عرض از مبدأ را بیابید.</p>	۱۲

بسمه تعالی  
وزارت آموزش و پرورش  
اداره کل آموزش و پرورش استان یزد  
اداره سنجش

شماره داوطلب :  
نام :  
نام خانوادگی :  
نام پدر :  
نام آموزشگاه :  
پایه : نهم

نام درس : ریاضی  
تاریخ امتحان : ۹۷/۳/۲۹  
تعداد صفحه : ۴  
تعداد سؤال : ۱۷  
زمان شروع : ۸ صبح  
وقت : ۱۰۰ دقیقه

۱	$\begin{cases} 3x - 5y = 1 \\ 2x + 3y = 7 \end{cases}$	دستگاه مقابل را حل کنید.	۱۳
۱/۵	$\frac{x^2 - 4}{x} \times \frac{4x}{x - 2} =$ $\frac{a}{a - 1} + \frac{3}{a + 1} =$	حاصل عبارت مقابل را بدست آورید.	۱۴
۱/۲۵		حاصل تقسیم $x^3 - 2x^2 + 3x - 2$ بر $x - 1$ را انجام داده و باقیمانده و خارج قسمت را مشخص کنید.	۱۵
۱/۲۵		<p>مثلث قائم الزاویه به اضلاع ۳ و ۴ را حول ضلع ۳ سانتی متری دوران می دهیم، الف) نام شکل حاصل از دوران را بنویسید. ب) حجم آن را بدست آورید. (نوشتن فرمول الزامی است و <math>\pi = 3</math> در نظر بگیرید).</p>	۱۶
۱/۵		حجم و مساحت کره ای به شعاع ۵ سانتی متر را بدست آورید. (نوشتن فرمول الزامی است و $\pi = 3$ در نظر بگیرید).	۱۷
۲۰			مجموع



شماره:	باسمه تعالی	نام درس: املاء
نام:	وزارت آموزش و پرورش	تاریخ امتحان: ۹۸/۰۳/۰۷
نام خانوادگی:	اداره کل آموزش و پرورش استان یزد	تعداد صفحه: ۱
نام پدر:	<b>اداره سنجش</b>	تعداد سؤال: -
نام آموزشگاه:		زمان شروع: ۹:۳۰
پایه: نهم		وقت: - دقیقه

ضمن خیرمقدم به دانش آموزان و داوطلبان عزیز، سوالات زیر را به دقت بخوانید و با توکل به خدا و آرامش خاطر پاسخ دهید.

نام و نام خانوادگی مصحح اول:	نام و نام خانوادگی مصحح دوم:
نمره با عدد	نمره تجدید نظر با عدد
نمره با حروف	نمره تجدید نظر با حروف

### متن املاء

اگر خواهی به درجهء مورچه قناعت کنی، می باش و اگر نه، راهت داده اند تا در بستان معرفت حق تعالی، تماشا کنی و بیرون آیی؛ چشم باز کن تا عجایب بینی که مدهوش و متحیر شوی.

مادران، دل به مهر فرزندان، گرم و تپنده می دارند و فرزندان در پرتو گرم و گوارای مادر، جان می گیرند و می پرورند و می بالند. این دو را پیوندها و آوندهایی به سرچشمه های یکتایی می رساند و خوشی و ناخوشی یکی را به دیگری پیوند می زند.

چون رابعه بزرگ شد، پدر و مادرش بمردند و در بصره قحطی عظیم پیدا شد و خواهران متفرق شدند و رابعه به دست ظالمی افتاد. او را به چند درم بفروخت. آن خواجه او را به رنج و مشقت، کار می فرمود. روزی بیفتاد و دستش بشکست. روی بر خاک نهاد و گفت: « الهی! غریبم و بی مادر و پدر، اسیرم و دست شکسته، مرا از این همه، هیچ غم نیست، آلا رضای تو؛ می باید تا بدانم که راضی هستی یا نه؟ » آوازی شنید که « غم مخور، فردا جاهیت خواهد بود، چنان که مقربان آسمان به تو نازند.»

تأمل کن ای مفضل، در مصلحت پنهان کردن عمر هر کس از او، زیرا که اگر مقدار عمر خود را بداند، اگر عمرش کوتاه باشد، زندگی بر او ناگوار خواهد بود و اگر بداند که عمرش دراز خواهد بود، امید بقا خواهد داشت.

گفتم: من گلی دارم که هر روز صبح آبش می دهم، سه آشفشان دارم که هر هفته آنها را پاک می کنم؛ پس مالک بودن من، هم برای آشفشان هایم مفیداست و هم برای گلم، ولی تو برای ستارگان فایده نداری و آنها نیز برای تو فایده ای ندارند.

شکر انعام تو هرگز نکند شکرگزار

نعمتت بار خدایا، ز عدد بیرون است

شماره:	باسمه تعالی	نام درس: املاء
نام:	وزارت آموزش و پرورش	تاریخ امتحان: ۹۸/۰۳/۰۷
نام خانوادگی:	اداره کل آموزش و پرورش استان یزد	تعداد صفحه: ۱
نام پدر:	<b>اداره سنجش</b>	تعداد سؤال: -
نام آموزشگاه:		زمان شروع: ۹:۳۰
پایه: نهم		وقت: - دقیقه

ضمن خیرمقدم به دانش آموزان و داوطلبان عزیز، سوالات زیر را به دقت بخوانید و با توکل به خدا و آرامش خاطر پاسخ دهید.

نام و نام خانوادگی مصحح اول:	نام و نام خانوادگی مصحح دوم:
نمره با عدد	نمره تجدید نظر با عدد
نمره با حروف	نمره تجدید نظر با حروف

### متن املاء

دانش آموز عزیز متن زیر ۲۰ غلط املائی دارد کلمات غلط را پیدا کن و زیر آنها خط بکش.

اگر خواهی به درجهء مورچه قنات کنی، می باش و اگر نه، راحت داده اند تا در بوستان معرفت حق تعالی، تماشا کنی و بیرون آیی؛ چشم باز کن تا عجایب بینی که مدهوش و متهیّر شوی.

مادران، دل به مهر فرزندان، گرم و طپنده می دارند و فرزندان در پرتو گرم و گواری مادر، جان می گیرند و می پرورند و می بالند. این دو را پیوندها و آوندهایی به سرچشمه های تکیایی می رساند و خوشی و ناخوشی یکی را به دیگری پیوند می زند.

چون رابعه بزرگ شد، پدر و مادرش بمردند و در بصره قطعی عضیم پیدا شد و خواهران مفترق شدند و رابعه به دست ضالمی افتاد. او را به چند درم بفروخت. آن خواجه او را به رنج و مشقت، کار می فرمود. روزی بیتفاد و دستش بسکشت. روی بر خاک نهاد و گفت: «الهی! قریبم و بی مادر و پدر، اسیرم و دست شکسته، مرا از این همه، هیچ غم نیست، آلا رضای تو؛ می باید تا بدانم که رازی هستی یا نه؟» آوازی شنید که «غم مخور، فردا جاهیت خواهد بود، چنان که مقربان آسمان به تو نازند».

تعمل کن ای مفضل، در مسلحت پنهان کردن عمر هر کس از او، زیرا که اگر مقدار عمر خود را بداند، اگر عمرش کوتاه باشد، زندگی بر او ناگوار خواهد بود و اگر بداند که عمرش دارز خواهد بود، امید بقا خواهد داشت.

گفتم: من گلی دارم که هر روز صبه آبش می دهم، سه آتشفشان دارم که هر هفته آنها را پاک می کنم؛ پس مالک بودن من، هم برای آتشفشان هایم مفید است و هم برای گلم، ولی تو برای ستارگان فایده نداری و آنها نیز برای تو فایده ای ندارند.

شکرِ عنعامِ تو هرگز نکند شکرگزار

نعمتت بار خدایا، ز عدد بیرون است

شماره داوطلب :

نام :

نام خانوادگی :

نام پدر :

نام آموزشگاه :

پایه : نهم

بسمه تعالی

وزارت آموزش و پرورش

اداره کل آموزش و پرورش استان یزد

اداره سنجش

نام درس : انشاء

تاریخ امتحان : ۱۳۹۸/۰۳/۲۱

تعداد صفحه : ۱

تعداد سؤال : -

زمان شروع : ۹:۳۰ صبح

وقت : ۶۰ دقیقه

ضمن خیرمقدم به دانش آموزان و داوطلبان عزیز، سوالات زیر را به دقت بخوانید و با توکل به خدا و آرامش خاطر پاسخ دهید.

نام و نام خانوادگی مصحح اول :

نام و نام خانوادگی مصحح دوم :

نمره با عدد

نمره تجدید نظر با عدد

نمره با حروف






نمره تجدید نظر با حروف

دانش آموز عزیز یکی از موضوع های زیر را انتخاب کن و پس از طراحی نقشه ذهنی به کمک یکی از راههای پرورش فکر متنی درباره آن بنویس.

الف) کوه به کوه نمی رسد، آدم به آدم می رسد.      ب) تلفن همراه و فضای مجازی      ج) رمضان ماه خدا

شماره داوطلب	باسمه تعالی	نام درس : شنیداری زبان انگلیسی
نام :	وزارت آموزش و پرورش	تاریخ امتحان : ۱۳۹۸ / ۳ / ۱۸
نام خانوادگی :	اداره کل آموزش و پرورش استان یزد	تعداد صفحه : یک
نام پدر :	اداره سنجش	تعداد سؤال : ۵
نام آموزشگاه :	(( نوبت خرداد ماه ))	زمان شروع : ۹:۳۰ صبح
پایه : نهم		وقت : ۲۰ دقیقه

ضمن خیرمقدم به دانش آموزان و داوطلبان عزیز، سوالات زیر را به دقت بخوانید و با توکل به خدا و آرامش خاطر پاسخ دهید.

نام و نام خانوادگی مصحح اول :	نام و نام خانوادگی مصحح دوم :	
نمره با عدد	نمره تجدید نظر با عدد	
نمره با حروف	نمره تجدید نظر با حروف	
ردیف	سؤالات	بارم
۱	به فایل صوتی گوش کرده و شماره هر جمله را در زیر تصویر مربوط به آن بنویسید. ( ۱ تصویر اضافی است )	۱
	    	
۲	به فایل صوتی گوش کنید در برابر جملات درست ( ✓ ) و در برابر جملات غلط ( ✗ ) بگذارید .	۱
	<p>1. Her brother went out to buy goldfish last spring . <input type="checkbox"/></p> <p>2. His brother fell and broke his arm . <input type="checkbox"/></p> <p>3. He connected to the Internet and send an e-mail to his friend . <input type="checkbox"/></p> <p>4. It was a good Nature Day for him . <input type="checkbox"/></p>	
۳	با توجه به فایل صوتی متن زیر را کامل کنید .	۱
	<p>Omid is a fire fighter. Last week he went to put out a big fire in a small house. There was a ..... in the fire. The child hurt her ankle and could not come out of the house. Omid went into the fire and saved the child. He hurt his ..... He got some bruises on his hands and legs. He is in the ..... now. But he is very happy because he ..... the child.</p>	
۴	با توجه به فایل صوتی ، به سوالات زیر پاسخ دهید .	۱
	<p>۱. What did he download ? .....</p> <p>۲. Did he receive her e-mail ? .....</p>	
۵	با توجه به فایل صوتی جملاتی که آهنگ سعودی (خیزان) دارند را با علامت ↗ و جملاتی که آهنگ نزولی (افتان) دارند را با علامت ↘ مشخص کنید .	۱
	<p>۱: <input type="text"/></p> <p>۲: <input type="text"/></p> <p>۳: <input type="text"/></p> <p>۴: <input type="text"/></p>	
۵	جمع نمرات بخش شنیداری	

شماره داوطلب :	باسمه تعالی	نام درس : زبان انگلیسی ( کتبی )
نام :	وزارت آموزش و پرورش	تاریخ امتحان : ۱۳۹۸/۳/۱۸
نام خانوادگی :	اداره کل آموزش و پرورش استان یزد	تعداد صفحه : سه
نام پدر :	اداره سنجش	تعداد سؤال : ۹
نام آموزشگاه :	(( نوبت خرداد ماه ))	زمان شروع : ۹:۳۰ صبح
پایه : نهم		وقت : ۶۰ دقیقه

ضمن خیر مقدم به دانش آموزان و داوطلبان عزیز، سؤالات زیر را به دقت بخوانید و با توکل به خدا و آرامش خاطر پاسخ دهید.


نام و نام خانوادگی مصحح اول :	نام و نام خانوادگی مصحح دوم :
نمره با عدد	نمره تجدید نظر با عدد
نمره با حروف	نمره تجدید نظر با حروف

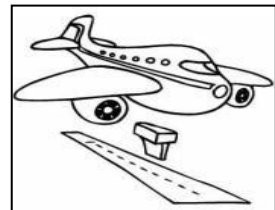
بارم	سؤالات	ردیف
------	--------	------

تصویر مناسب هر جمله را مشخص نمایید و شماره هر جمله را در زیر تصویر مربوط به آن بنویسید . ( ۲ تصویر اضافی است )












1. They watch military parade .
2. He texted a message yesterday .
3. My uncle had a car crash last week .
4. He is recharging his E-ticket .
5. They're getting on a bus now .
6. The plane is landing now .








جملاتی که الاز در مورد اعضای خانواده اش نوشته است را با انتخاب گزینه مناسب کامل کنید .

1. My sister is in the kitchen . She is ..... lunch .

wearing ○ making ○ talking ○

2. She cut her finger . My father is putting a ..... on the wound .

cast ○ plaster ○ scar ○

3. My father is generous . He ..... blood yesterday .

donated ○ participated ○ received ○

4. My brother was in his room . He ..... an e-mail to my cousin .

studied ○ helped ○ sent ○



۲

۲



شماره داوطلب :	باسمه تعالی	نام درس : زبان انگلیسی ( کتبی )
نام :	وزارت آموزش و پرورش	تاریخ امتحان : ۱۳۹۸/۳/۱۸
نام خانوادگی :	اداره کل آموزش و پرورش استان یزد	تعداد صفحات : سه
نام پدر :	اداره سنجش	تعداد سؤال : ۹
نام آموزشگاه :	(( نوبت خرداد ماه ))	زمان شروع : ۹:۳۰ صبح
پایه : نهم		وقت : ۶۰ دقیقه

۲	<p>متنی را که دانش آموزی در مورد آقای دانش نوشته است را بخوانید و با انتخاب گزینه صحیح جاهای خالی را کامل نمایید .</p> <p>Mr. Danesh is a patient teacher . He's forty years old . There ..... ( is - are ) twenty students in his class .He ..... ( connected - connect ) to the Internet yesterday and updated his blog . Last Friday , he saw an old man in the park . He enjoyed.....(his - her)visit very much . He .....(doesn't - didn't ) watch TV last night . He went to bed at ten .</p>	
---	---	--

۲	<p>حسین درباره پدرش یادداشت کوتاهی را نوشته است ولی متن او بدلیل بی دقتی دارای چهار اشتباه گرامری (دستوری) می باشد . شما اشتباهات او را پیدا نموده و صحیح آنها را در محل مشخص شده بنویسید .</p> <p>My father is a police officer . He drive his car around the city every day . He see a bad accident last week . There was four people in the car . One man hurt his back . My father helped her . He loves his job .</p> <p>1. .... 2. .... 3. .... 4. ....</p>	۸
---	---	---

۱/۵	<p>متن زیر را بدقت بخوانید .</p> <p>Last weekend , something happened to our TV . It didn't work . At first , we were upset . But then we talked about our day . It was really fun ! Later , we helped our mother and cleaned the house . In the afternoon , my grandfather showed us how to play an old game . we enjoyed it a lot . All day we were busy doing different things . At night , we all were happy . No one talked about TV !</p> <p>الف - با توجه به متن بالا در مقابل جملات صحیح علامت ( T ) و در مقابل جملات غلط علامت ( F ) بگذارید .</p> <p>1. They weren't happy at first.( )</p> <p>2. They enjoyed watching TV.( )</p> <p>ب- با توجه به متن بالا جاهای خالی را با کلمات مناسب کامل کنید .</p> <p>1.Their TV didn't ..... last weekend .</p> <p>2.They learned to play an old .....</p> <p>ج- با توجه به متن بالا به سوالات زیر پاسخ کامل دهید .</p> <p>1. What did they talk about? .....</p> <p>2. Did they clean the house ? .....</p> <p>4. Were they busy all day ? .....</p>	۹
-----	---	---

	<table border="1"> <tr> <td>جمع نمره کتبی تقسیم بر دو</td> <td>نمره شنیداری از ۵</td> <td>نمره گفتاری از ۵</td> <td>نمره پایانی</td> </tr> <tr> <td></td> <td></td> <td></td> <td></td> </tr> </table>	جمع نمره کتبی تقسیم بر دو	نمره شنیداری از ۵	نمره گفتاری از ۵	نمره پایانی					
جمع نمره کتبی تقسیم بر دو	نمره شنیداری از ۵	نمره گفتاری از ۵	نمره پایانی							

۲۰	جمع نمرات بخش کتبی	« موفق و سربلند باشید »
----	--------------------	-------------------------

## Part 1

- 1.He has his leg in a cast .
- 2.What did Ali receive ? He received an e-mail .
- 3.Who helps lost children ? The police help them .
- 4.Do you buy new clothes for the new year ?Yes , I do .

## Part 2

My family and I usually go out on Nature Day .Last spring , my brother went out to buy some gold fish .He fell and broke his leg .My brother is clever but he is careless .We stayed home all the New Year holidays .On Nature Day , we were angry . We stayed home and watched TV .I connected to the Internet and downloaded some movies but they weren't interesting . Suddenly ,My father said we can have a picnic at home . It was interesting . I really liked it . I never forget that home picnic .

## Part 3

Omid is a fire fighter. Last week he went to put out a big fire in a small house. There was a child in the fire. The child hurt her ankle and could not come out of the house. Omid went into the fire and saved the child. He hurt his back. He got some bruises on his hands and legs. He is in the hospital now. But he is very happy because he saved the child.

## Part 4

- What did you do yesterday , Hamid ?
- I stayed home . I worked with my computer .
- Did you connect to the Internet ?
- Yes , I surfed some websites and downloaded some good programs and clips .
- Really ! What did you download ?
- I downloaded a dictionary and antivirus .
- Did you receive my e-mail ?
- No , When did you send it ?
- In the evening
- Sorry , I wasn't at home in the evening .

## Part 5

- 1.I twisted my ankle last year .
2. Did you cut your finger ?
- 3.What happened to your face ?
4. That's too bad !



شماره داوطلب	باسمه تعالی	نام درس : آمادگی دفاعی
نام :	وزارت آموزش و پرورش	تاریخ امتحان : ۹۸/۳/۲۰
نام خانوادگی :	اداره کل آموزش و پرورش استان یزد	تعداد صفحه : ۲
نام پدر :	اداره <b>سنجش</b>	تعداد سؤال : ۲۳
نام آموزشگاه :	<b>(( نوبت خرداد ))</b>	زمان شروع : ۹:۳۰
پایه : نهم		وقت : ۶۰ دقیقه

ضمن خیرمقدم به دانش آموزان و داوطلبان عزیز، سؤالات زیر را به دقت بخوانید و با توکل به خدا و آرامش خاطر پاسخ دهید.

بارم	سؤالات	ردیف
	نام و نام خانوادگی مصحح اول : نمره با عدد نمره با حروف	
	نام و نام خانوادگی مصحح دوم : نمره با عدد نمره با حروف	
۲/۵	<p><b>جواب صحیح را در ستون سمت چپ پیدا کنید و در جاهای مناسب قرار دهید. ( هر مورد ۵/۰ نمره )</b></p> <p>۱ از مهم ترین نیازهای فطری و ضروری انسان است. ....</p> <p>۲ ..... از جهات مختلف خطرناک تر از تهاجم نظامی است.</p> <p>۳ این سخن از کیست؟ حفظ و دفاع از انقلاب اسلامی مهم تر از پیروزی آن است. ....</p> <p>۴ ..... همواره حافظ و نگهبان ارزشها و دستاوردهای انقلاب اسلامی است.</p> <p>۵ خرمشهر در تاریخ ..... آزاد شد.</p>	
۲/۵	<p><b>صحیح یا غلط بودن را مشخص کنید. ( هر مورد ۵/۰ نمره )</b></p> <p>۶ نقش اساسی زنان در هشت سال دفاع مقدس " رساندن وسایل و ادوات جنگی به رزمندگان بود". ص <input type="radio"/> غ <input type="radio"/></p> <p>۷ استتار از موثرترین دفاع عامل در دنیاست. ص <input type="radio"/> غ <input type="radio"/></p> <p>۸ تفرقه افکنی دامن زدن به اختلافات موجود در یک کشور است. ص <input type="radio"/> غ <input type="radio"/></p> <p>۹ نظام جمع تاثیر فراوانی در هماهنگی یک دانش آموز با کارهای جمعی مدرسه دارد. ص <input type="radio"/> غ <input type="radio"/></p> <p>۱۰ آموزش صحیح همگانی خطرات زمین لرزه را کاهش می دهد. ص <input type="radio"/> غ <input type="radio"/></p>	
۲	<p><b>به سؤالات به صورت موردی جواب دهید. ( هر مورد ۵/۰ نمره )</b></p> <p>۱۱ از انواع تهدید ..... یک مورد از وظایف بسیج دانش آموزی ..... ۱۲ کدام عملیات خود باوری و اعتماد به نفس را در رزمندگان افزایش داد ..... ۱۳ از بزرگ مردانی که برای سرافرازی و استقلال کشورمان تلاش کردند ..... ۱۴</p>	

شماره داوطلب	باسمه تعالی	نام درس : آمادگی دفاعی
نام :	وزارت آموزش و پرورش	تاریخ امتحان : ۹۸/۳/۲۰
نام خانوادگی :	اداره کل آموزش و پرورش استان یزد	تعداد صفحه : ۲
نام پدر :	اداره سنجش	تعداد سؤال : ۲۳
نام آموزشگاه :	(( نوبت خرداد ))	زمان شروع : ۹:۳۰
پایه : نهم		وقت : ۶۰ دقیقه

	<b>سؤالات را تعریف کنید. ( هر مورد ۱ نمره )</b>	
۳	پدافند غیر عامل : .....	۱۵
	جنگ نرم : .....	۱۶
	تبلیغات : .....	۱۷
۱	<b>فقط با یک نمونه مثال پاسخ دهید. ( هر مورد ۰/۵ نمره )</b>	
	ترور شخصیت : .....	۱۸
	یک نوع اسلحه انفرادی : .....	۱۹
۰/۵	<b>گزینه صحیح را انتخاب کنید. ( هر مورد ۰/۲۵ نمره )</b>	
	مشارکت همه افراد جامعه برای دستیابی به ایمنی ..... را گویند.	۲۰
	الف ) آگاهی      ب ) آمادگی      ج ) همکاری      د ) شورای ایمنی	
	برگزاری دوره های آموزشی وظیفه کدام گروه شورای ایمنی است؟	۲۱
	الف ) گروه تدارکات      ب ) گروه نجات و امداد      ج ) گروه جست و جو      د ) گروه آتش نشانی	
۰/۵	<b>برای مکان های مناسب و نامناسب در زمان وقوع زمین لرزه فقط یک نمونه ذکر کنید.</b>	۲۲
	الف ) مکان مناسب : .....      ب ) مکان نامناسب : .....	
۱۲		جمع بارم

« موفق و سربلند باشید »

شماره داوطلب :	بسمه تعالی	نام درس : پیام های آسمان
نام :	وزارت آموزش و پرورش	تاریخ امتحان : ۹۸/۰۲/۲۱
نام خانوادگی :	اداره کل آموزش و پرورش استان یزد	تعداد صفحه : ۴
نام پدر :	<b>اداره سنجش</b>	تعداد سؤال : ۱۷
نام آموزشگاه :		زمان شروع : ۹:۳۰
پایه : نهم		وقت : ۶۰ دقیقه

ضمن خیرمقدم به دانش آموزان و داوطلبان عزیز، سؤالات زیر را به دقت بخوانید و با توکل به خدا و آرامش خاطر پاسخ دهید.

ردیف	سؤالات	بارم
	نام و نام خانوادگی مصحح اول : نمره با عدد نمره با حروف	نام و نام خانوادگی مصحح دوم : نمره تجدید نظر با عدد نمره تجدید نظر با حروف
۱	آیه زیر را کامل نمایید و مفهوم آن را بنویسید. (عَدَّوَاللَّهُ - رِبَاطِ الْخَيْلِ - مَا اسْتَطَعْتُمْ ) (وَ أَعِدُّوا لَهُمْ ..... مِنْ قُوَّةٍ وَ مِنْ ..... تُرْهِبُونَ بِهِ ..... وَ عَدَّوْكُمْ )	۱
۲	درستی یا نادرستی عبارات زیر را با (ص) و (غ) مشخص نمایید. الف) با تفکر در جهان خلقت علاوه بر پی بردن به خالق بی همتا، امکان آشنایی با برخی از ویژگی ها و صفات اوست. ب) نمازگزار می تواند در نماز به دیگران سلام کند. ج) با توجه به فرموده امام صادق (ع) آنچه ایمان را در دل پایدار می کند، دوری از گناهان است.	۰,۷۵
۳	در هریک از عبارات های زیر، پاسخ مناسب در داخل پرانتز را انتخاب کنید. (زیر پاسخ مناسب خط بکشید) الف) با آب ( مطلق / مضاف) می توان وضو گرفت و هنگام همراه داشتن قرآن ( مستحب / واجب) است وضو داشت. ب) از نشانه های دوست ( خردمند / خیرخواه)، آن است که ( عیب های دوستش را در نزد دیگران آشکار می کند / به دوستش پنهانی کمک می کند تا عیب هایش را برطرف کند).	۱
۴	جاهای خالی زیر را با عبارت مناسب کامل کنید. الف) بهترین راه برای شناخت صفات خداوند، ..... است. ب) بنا به فرموده حضرت علی (ع) خداوند، اقوام پیشین را به خاطر ترک امر به معروف و نهی از منکر عذاب کرد؛ پس بی خردان را به دلیل ..... و خردمندان به دلیل ..... ج) قدرت های استکباری دریافتند که جنگ های نظامی علاوه بر ..... باعث ..... نیز می شود و این مسئله، ادامه کارشان در کشورهای دیگر را مشکل می کند.	۲,۵

شماره داوطلب :	بسمه تعالی	نام درس : پیام های آسمان
نام :	وزارت آموزش و پرورش	تاریخ امتحان : ۹۸/۰۲/۳۱
نام خانوادگی :	اداره کل آموزش و پرورش استان یزد	تعداد صفحه : ۴
نام پدر :	<b>اداره سنجش</b>	تعداد سؤال : ۱۷
نام آموزشگاه :		زمان شروع : ۹:۳۰
پایه : نهم		وقت: ۶۰ دقیقه

۵	<p>هریک از موارد زیر به کدامیک از انواع جهادها مربوط می باشد؟</p> <p>الف) مبارزه نظام اسلامی با گروهک تروریستی منافقین ( )</p> <p>ب) نبرد سپاه اسلام با حکومت ایران ( )</p> <p>ج) جنگ احزاب در صدر اسلام ( )</p>	۰,۷۵
۶	<p>در هر مورد گزینه صحیح را انتخاب کنید.</p> <p>الف) آیه شریفه ﴿لَمْ تَعْبُدُوا مَا لَا يَسْمَعُ وَلَا يُبْصِرُ وَلَا يُغْنِي عَنْكَ شَيْئًا يَا أَبْتِ اِنِّي قَدْ جَاءَنِي مِنَ الْعِلْمِ مَا لَمْ يَأْتِكَ فَاتَّبِعْنِي اَهْدِكُمْ صِرَاطًا سَوِيًّا﴾</p> <p>از سوی ..... خطاب به ..... است که بیانگر ویژگی ..... پیامبران است.</p> <p>۱- حضرت ابراهیم(ع) - نمرود - استقامت و پایداری در راه خدا <input type="checkbox"/></p> <p>۲- حضرت موسی(ع) - فرعون - تسلیم در برابر امر خدا <input type="checkbox"/></p> <p>۳- حضرت ابراهیم(ع) - آزر - مبارزه با عقاید باطل و خرافات <input type="checkbox"/></p> <p>۴- حضرت موسی(ع) - بنی اسرائیل - استقامت و پایداری در راه خدا <input type="checkbox"/></p> <p>ب) خداوند در قرآن، چه کسانی را هواداران شیطان نامیده است؟</p> <p>۱- حاکمانی که به قوانین اسلام بی توجه اند <input type="checkbox"/></p> <p>۲- زورگویانی که به کشورهای غیر مسلمان حمله می کنند <input type="checkbox"/></p> <p>۳- حاکمان سرکشی که مردم ناتوان را زیر سلطه خود نگه داشته اند <input type="checkbox"/></p> <p>۴- مردمی که به حکومت ظالمان و زورگویان، راضی می شوند <input type="checkbox"/></p>	۱
۷	<p>صحیح یا باطل بودن وضو و نماز را در هر یک از موارد زیر بنویسید.</p> <p>الف) وضو با آبی که فراموش کردیم نجس بوده است ( )</p> <p>ب) حرف زدن از روی بی توجهی در نماز ( )</p>	۰,۵

شماره داوطلب :	بسمه تعالی	نام درس : پیام های آسمان
نام :	وزارت آموزش و پرورش	تاریخ امتحان : ۹۸/۰۲/۳۱
نام خانوادگی :	اداره کل آموزش و پرورش استان یزد	تعداد صفحه : ۴
نام پدر :	<b>اداره سنجش</b>	تعداد سؤال : ۱۷
نام آموزشگاه :		زمان شروع : ۹:۳۰
پایه : نهم		وقت : ۶۰ دقیقه

۸	<p>به سوالات زیر پاسخ کوتاه دهید.</p> <p>الف) خداوند چه کسانی را از رحمت خود محروم و به عذاب دردناک گرفتار می کند؟</p> <p>ب) دو مورد از راه های تقویت ایمان را نام ببرید؟</p> <p>ج) چرا پیامبران الهی در راه انجام دستورات خداوند استقامت فراوانی می کردند؟</p> <p>د) چه زمانی شکستن نماز واجب مانعی ندارد؟</p> <p>و) هدف اصلی دشمن از تحریم اقتصادی و شیخون فرهنگی چیست؟</p>	۲,۵
۹	<p>در رابطه با انتخاب دوست و ویژگی های آن، به سوالات زیر پاسخ دهید.</p> <p>الف) چرا انتخاب دوست در دوران نوجوانی از اهمیت بسیاری برخوردار است؟</p> <p>ب) چرا حضرت علی(ع) انسان را از دوستی با افراد بی بند و بار نهی می کردند؟</p>	۰,۵
۱۰	<p>پیشرفت های علمی و فناوری ایران چه فوایدی داشته است؟ (دو مورد)</p>	۱
۱۱	<p>چه کسانی می توانند از یاران امام زمان محسوب شوند و آن حضرت را یاری نمایند؟</p>	۱
۱۲	<p>آثار منفی ترک امر به معروف و نهی از منکر را نام ببرید؟ (۴مورد)</p>	۱
۱۳	<p>۴ نمونه از جنگ نرم علیه ملت و فرهنگ ایران را نام ببرید؟</p>	۱

شماره داوطلب : نام : نام خانوادگی : نام پدر : نام آموزشگاه : پایه : نهم	بسمه تعالی وزارت آموزش و پرورش اداره کل آموزش و پرورش استان یزد <b>اداره سنجش</b>	نام درس : پیام های آسمان تاریخ امتحان : ۹۸/۰۲/۲۱ تعداد صفحه : ۴ تعداد سؤال : ۱۷ زمان شروع : ۹:۳۰ وقت : ۶۰ دقیقه
--	--	--

۱	۲ مانع بزرگ امامان برای اجرای دستورهای الهی و هدایت مردم، چه بود؟	۱۴
۱	انفاق بر چند نوع است؟ برای هر یک مثال بزنید.	۱۵
۱	دو مورد از مواردی که مکلف باید به جای وضو یا غسل، تیمم کند را بیان کنید؟	۱۶
۱,۵	وقف را تعریف نمایید و بنویسید نتیجه وقف چیست؟	۱۷
۲۰	جمع بارم	

« موفق و سربلند باشید »

شماره داوطلب :	بسمه تعالی	نام درس : ریاضی
نام :	وزارت آموزش و پرورش	تاریخ امتحان : ۹۸/۰۳/۰۲
نام خانوادگی :	اداره کل آموزش و پرورش استان یزد	تعداد صفحه : ۴
نام پدر :	اداره سنجش	تعداد سوال : ۱۷
نام آموزشگاه :		زمان شروع : ۹:۳۰
پایه : نهم		وقت : ۱۰۰ دقیقه

ضمن خیرمقدم به دانش آموزان و داوطلبان عزیز ، سوالات زیر را به دقت بخوانید و با توکل به خدا و آرامش خاطر پاسخ دهید.

ردیف	سوالات	بارم
	<p>نام و نام خانوادگی مصحح اول : <input type="text"/></p> <p>نمره با عدد : <input type="text"/></p> <p>نمره با حروف : <input type="text"/></p> <p>نام و نام خانوادگی مصحح دوم : <input type="text"/></p> <p>نمره تجدید نظر با عدد : <input type="text"/></p> <p>نمره تجدید نظر با حروف : <input type="text"/></p>	
۱	<p>درستی یا نادرستی هر عبارت را مشخص کنید.</p> <p>(الف) مجموعه <math>A = \{ ۵ , -۲ , \sqrt{۲۵} , -۵ \}</math> دارای ۸ زیر مجموعه است.</p> <p>(ب) دو مربع دلخواه همواره متشابه اند.</p> <p>(ج) اگر <math>a &gt; b</math> باشد ، <math>a &gt; -۳b</math> است. <math>( a , b \neq ۰ )</math></p> <p>(د) مساحت کل نیم کره (توپر) <math>۳ \pi r^2</math> ، است.</p>	۱
۲	<p>جاهای خالی را کامل کنید.</p> <p>(الف) حاصل عبارت <math>\sqrt[3]{۵۴} - \sqrt{۲}</math> ، برابر با ..... است.</p> <p>(ب) شیب خط <math>y = -۵x + ۱</math> ، عدد ..... است.</p> <p>(ج) اگر <math>A \subseteq B</math> باشد ، حاصل <math>A - B</math> برابر با ..... است.</p> <p>(د) عبارت گویای <math>\frac{۲x-۱۰}{۳x+۱۲}</math> به ازای <math>x</math> مساوی با ..... تعریف نشده است.</p>	۱
۳	<p>گزینه صحیح را مشخص کنید.</p> <p>(الف) کدام گزینه درست است.</p> <p>(۱) <math>N \cup Z = N</math>      (۲) <math>-\frac{۲}{۳} \in Z</math>      (۳) <math>R - Q = Q</math>      (۴) <math>Q \subseteq W</math></p> <p>(ب) از مجموعه اعداد طبیعی یک رقمی یک عدد انتخاب می کنیم احتمال اینکه عدد اول باشد چقدر است.</p> <p>(۱) <math>\frac{۵}{۱۰}</math>      (۲) <math>\frac{۴}{۹}</math>      (۳) <math>\frac{۴}{۱۰}</math>      (۴) <math>\frac{۵}{۹}</math></p> <p>(ج) کدام عبارت گویا را می توان ساده کرد.(مخرج کسرها مخالف صفر است).</p> <p>(۱) <math>\frac{۶-a}{a-۳}</math>      (۲) <math>\frac{۹a}{a+۳}</math>      (۳) <math>\frac{a^2+۹}{a+۳}</math>      (۴) <math>\frac{a-b}{b-a}</math></p>	۱/۵

شماره داوطلب :

بسمه تعالی

نام :

نام درس : ریاضی

وزارت آموزش و پرورش

تاریخ امتحان : ۹۸/۰۳/۰۲

نام خانوادگی :

اداره کل آموزش و پرورش استان یزد

تعداد صفحه : ۴

نام پدر :

اداره سنجش

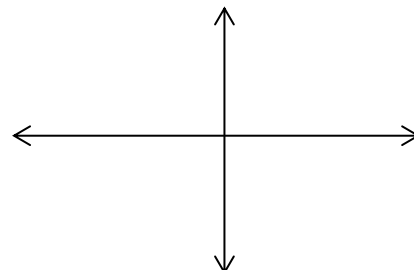
تعداد سوال : ۱۷

نام آموزشگاه :

زمان شروع : ۹:۳۰

پایه : نهم

وقت : ۱۰۰ دقیقه

بارم	سوالات	ردیف
۰.۷۵	اگر $A = \{-3, -2, -1, 0, 1, 2\}$ و $B = \{8, 2, -4, -3, 5\}$ باشد: الف) مجموعه مقابل را با اعضا بنویسید. ب) با توجه به سوال، درستی یا نادرستی هر عبارت را مشخص کنید.	۴
۰.۷۵	$B - A = \{ \quad \quad \}$	
۰.۵	$n(A \cup B) = 9$ $3 \in (B \cap A)$	
۰.۷۵	الف) حاصل را به ازای $b = 5$ و $a = -\frac{2}{3}$ به دست آورید.	۵
۰.۷۵	$ 3a - 2b  =$	
۰.۵	ب) دو عدد گنگ بین $\sqrt{2}$ و ۳ بنویسید.	
۱/۵	الف) حاصل را به دست آورید.	۶
۰.۷۵	$2^{-3} + 4^{-1} =$ $\frac{\sqrt[3]{-4} \times \sqrt[3]{10}}{\sqrt[3]{5}} =$ $\frac{5}{\sqrt[3]{9}} =$	
۰.۷۵	ب) مخرج کسر مقابل را گویا کنید.	
۱	خط به معادله $y = -\frac{3}{4}x$ را رسم کنید.	۷
۰.۵		
۰.۵	الف) معادله خطی را بنویسید که با خط $y = 2x - 7$ موازی باشد و از نقطه $(5, 0)$ بگذرد.	۸
۰.۵	ب) آیا نقطه $(-2, 1)$ روی خط $12 = 5y - 2x$ قرار دارد؟ (چرا)	
۰.۲۵	ج) معادله خطی را بنویسید که از دو نقطه $(-3, -3)$ و $(-2, -5)$ بگذرد.	



شماره داوطلب :	بسمه تعالی	نام درس : ریاضی
نام :	وزارت آموزش و پرورش	تاریخ امتحان : ۹۸/۰۳/۰۲
نام خانوادگی :	اداره کل آموزش و پرورش استان یزد	تعداد صفحه : ۴
نام پدر :	اداره سنجش	تعداد سوال : ۱۷
نام آموزشگاه :		زمان شروع : ۹:۳۰
پایه : نهم		وقت : ۱۰۰ دقیقه

ردیف	سوالات	بارم
۹	الف) حاصل را با اتحاد به دست آورید. $(2x - 3)(2x + 8) =$	۰.۷۵
	ب) تجزیه کنید. $a^2 - 81 =$	۰.۵
۱۰	نا معادله را حل کرده و روی محور نمایش دهید. $2(x + 5) \leq 6x + 18$	۱
	←————→	
۱۱	الف) حاصل را به صورت عدد تواندار بنویسید. $\left(\frac{1}{3}\right)^{-7} \times 3^{-12} =$	۰.۵
	ب) نماد علمی عدد مقابل را بنویسید. $.10000721 \times 10^{15} =$	۰.۵
۱۲	حاصل را بدست آورده و به ساده ترین صورت بنویسید.	۰.۷۵
	$\frac{3}{a-b} + \frac{2}{a} =$	
	$\frac{8ab^2}{a^2-b^2} \div \frac{4ab}{a^2+ab} =$	۱
۱۳	در شکل مقابل $\overline{AB}$ و $\overline{CD}$ بر دایره مماس اند. ثابت کنید دو مثلث $AOB$ و $COD$ ، هم نهشت اند.	۱

شماره داوطلب :	بسمه تعالی	نام درس : ریاضی
نام :	وزارت آموزش و پرورش	تاریخ امتحان : ۹۸/۰۳/۰۲
نام خانوادگی :	اداره کل آموزش و پرورش استان یزد	تعداد صفحه : ۴
نام پدر :	اداره سنجش	تعداد سوال : ۱۷
نام آموزشگاه :		زمان شروع : ۹:۳۰
پایه : نهم		وقت : ۱۰۰ دقیقه

بارم	سوالات	ردیف
۱	دستگاه مقابل را حل کنید. $\begin{cases} 2x + y = 5 \\ x - y = 7 \end{cases}$	۱۴
۱	تقسیم مقابل را حل و باقی مانده را مشخص کنید. $6^2x + x - 7 \quad   \quad 2x - 1$	۱۵
۰.۵	نسبت عرض دو مستطیل متشابه $\frac{3}{7}$ است، اگر طول مستطیل بزرگتر ۲۸ باشد، طول مستطیل کوچکتر چند است.	۱۶
۰.۲۵	الف- از دوران مربع حول ضلع آن چه شکلی حاصل می شود. ب- حجم هرمی را بدست آورید که قاعده آن مستطیلی به طول ۸ سانتی متر و عرض ۵ سانتی متر و ارتفاع هرم ۶ سانتی متر است.	۱۷
۰.۷۵		
۲۰	جمع بarm	

" موفق باشید "

بسمه تعالی  
وزارت آموزش و پرورش  
اداره کل آموزش و پرورش استان یزد  
اداره سنجش

نام درس: عربی  
تاریخ امتحان: ۹۸/۰۳/۰۹  
تعداد صفحه: ۳  
تعداد سؤال: ۱۴  
زمان شروع: ۹:۳۰  
وقت: ۶۰ دقیقه

شماره داوطلب:  
نام:  
نام خانوادگی:  
نام پدر:  
نام آموزشگاه:  
پایه: نهم

ضمن خیرمقدم به دانش آموزان و داوطلبان عزیز، سؤالات زیر را به دقت بخوانید و با توکل به خدا و آرامش خاطر پاسخ دهید.

ردیف	سؤالات	نام و نام خانوادگی مصحح اول: نمره با عدد نمره با حروف	نام و نام خانوادگی مصحح دوم: نمره با عدد نمره با حروف
۱	احادیث زیر را ترجمه کنید: الف: «كُلُّ شَيْءٍ يَنْقُصُ عَلَى الْإِنْفَاقِ إِلَّا الْعِلْمَ.» ب: «أَحَبُّ الْأَعْمَالِ إِلَى اللَّهِ حِفْظُ اللِّسَانِ.» ج: «عَلَيْكَ بِذِكْرِ اللَّهِ فَإِنَّهُ نَوْرُ الْقَلْبِ.»		
۲	عبارات عربی زیر را به فارسی ترجمه کنید: الف: شَاهِدَتْهُ عَلَى الرَّصِيفِ الْمُقَابِلِ وَ نَادَيْتَهُ. (۱) ب: تِلْكَ سَفِينَةٌ حَرَبِيَّةٌ تَقْتَرِبُ مِنَّا. (۱) ج: فَبِأَيِّ شَيْءٍ نَسْتَرْجِعُ الْبِلَادَ مِنْكَ؟ (۱) د: كَانَ الطَّيَّارُونَ فِي الْحَرْبِ الْعَالَمِيَّةِ الثَّانِيَةِ يَتَنَاوَلُونَ فَيْتَامِينَ «A» (۱) ه: لَا تَكْشِفُوا عِيُوبَكُمْ. (۰/۵)		
۳	ترجمه صحیح را انتخاب کنید: الف: لَا تَنْظُرُوا إِلَى كَثْرَةِ صَلَاتِهِمْ. ۱- به فراوانی نمازهایشان نگاه نکن. <input type="checkbox"/> ۲- به فراوانی نمازشان نگاه نکنید. <input type="checkbox"/> ب: قَسَمْتَ مَزْرَعَتَنَا الْكَبِيرَةَ إِلَى نِصْفَيْنِ. ۱- مزرعه‌ی بزرگمان را به دو نیم تقسیم کردی. <input type="checkbox"/> ۲- مزرعه‌ی ما را به دو قسمت بزرگ تقسیم کردی. <input type="checkbox"/>		

شماره داوطلب :	بسمه تعالی	نام درس : عربی
نام :	وزارت آموزش و پرورش	تاریخ امتحان : ۹۸/۰۳/۰۹
نام خانوادگی :	اداره کل آموزش و پرورش استان یزد	تعداد صفحه : ۳
نام پدر :	<b>اداره سنجش</b>	تعداد سؤال : ۱۴
نام آموزشگاه :		زمان شروع : ۹:۳۰
پایه : نهم		وقت : ۶۰ دقیقه



۴	کلمات مترادف و متضاد را در کنار هم بنویسید. « دو کلمه اضافی است » (وَضَعَ ، بَغْتَةً ، أبيض ، رَسَبَ ، أسود ، جَعَلَ) (..... = ..... ) (..... # ..... )	۰/۵
۵	نام هر تصویر را از بین کلمات داده شده انتخاب کنید: (مَطْبَعَةٌ ، تِمثال ، مُسجَلٌ ، جِسْرٌ)  .....  .....	۰/۵
۶	کلمات مشخص شده را به فارسی ترجمه کنید. الف: كَانَ الصَّفُّ مُزْدَجِمًا. ( ) ب: فِي هَذَا الوَقْتِ قَبْلَ أَخَاهُ وَاعْتَذَرَ. ( )	۰/۵
۷	در هر گروه کدام کلمه با بقیه ناهماهنگ است؟ دور آن خط بکشید. ۱- مَوْظَفٌ ، سَائِقٌ ، حَقِيْبَةٌ ، طَبَّاخَةٌ ۲- جَزْرٌ ، رُمَانٌ ، مِشْمِشٌ ، مُجَفَّفٌ	۰/۵
۸	وزن و حروف اصلی کلمات مشخص شده را بنویسید. الف: أَنَا أَشْتَنِعُلُ هُنَا: وزن: .....	۰/۵
۹	برای جاهای خالی زیر، فعل ماضی یا مضارع مناسب انتخاب کنید. الف: أَنْتُمْ ..... الحاسوبَ عَلَى المِنضَةِ. <input type="checkbox"/> تَجْعَلُونَ <input type="checkbox"/> يَجْعَلُونَ ب: ..... الطَّالِبَانِ إِلَى حَدِيْقَةِ الحَيَوَانَاتِ. <input type="checkbox"/> ذَهَبَ <input type="checkbox"/> ذَهَبَا	۰/۵



بسمه تعالی  
وزارت آموزش و پرورش  
اداره کل آموزش و پرورش استان یزد  
اداره سنجش

شماره داوطلب :  
نام :  
نام خانوادگی :  
نام پدر :  
نام آموزشگاه :  
پایه : نهم

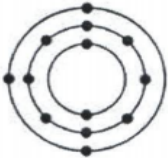
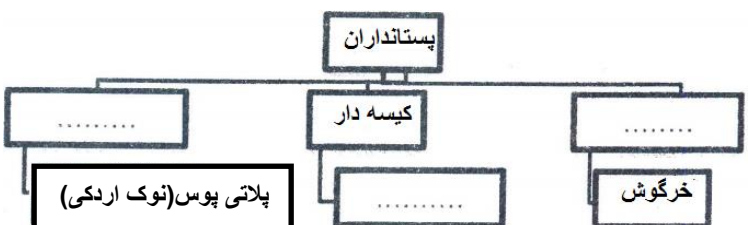
نام درس : عربی  
تاریخ امتحان : ۹۸/۰۳/۰۹  
تعداد صفحه : ۳  
تعداد سؤال : ۱۴  
زمان شروع : ۹:۳۰  
وقت : ۶۰ دقیقه

۱	<p>درستی یا نادرستی جملات زیر را بر اساس واقعیت مشخص کنید:</p> <p>الف: الْمَطْعَمُ مَكَانٌ يَأْكُلُ النَّاسُ فِيهِ الْفَطُورَ وَالْغَدَاءَ وَالْعِشَاءَ. ( )</p> <p>ب: الْمُسْتَشْفَى مَرْكَزٌ لِلتَّعْلِيمِ الْعَالِي يَتَخَرَّجُ مِنْهُ الطُّلَّابُ. ( )</p> <p>ج: كُرَةُ الْمَنْضَدَةِ رِيَاضَةٌ يَلْعَبُ فِيهَا أَحَدُ عَشَرَ لَاعِبًا. ( )</p> <p>د: الْمَتْحَفُ مَكَانٌ لِحِفْظِ الْآثَارِ التَّارِيخِيَّةِ. ( )</p>	۱۳
۱	<p>با توجه به تصاویر به پرسشهای زیر پاسخ کوتاه دهید:</p> <p>الف: كَمْ السَّاعَةُ الْآنَ؟  .....</p> <p>ب: يَا تَلْمِيذَاتُ، كَيْفَ حَالُكُنَّ؟  .....</p>	۱۴
۳	روخوانی	۱۵
۲	مکالمه	۱۶
۲۰	جمع بارم «موفق و سربلند باشید»	

شماره داوطلب :	بسمه تعالی	نام درس : علوم تجربی
نام :	وزارت آموزش و پرورش	تاریخ امتحان : ۹۸/۰۳/۰۵
نام خانوادگی :	اداره کل آموزش و پرورش استان یزد	تعداد صفحه : ۳
نام پدر :	<b>اداره سنجش</b>	تعداد سؤال : ۱۹
نام آموزشگاه :		زمان شروع : ۹:۳۰
پایه : نهم		وقت : ۷۰ دقیقه

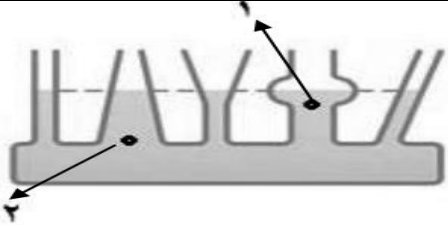
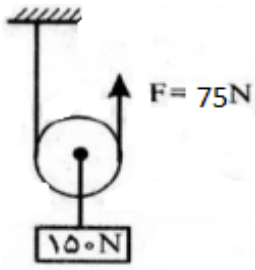
ضمن خیرمقدم به دانش آموزان و داوطلبان عزیز، سوالات زیر را به دقت بخوانید و با توکل به خدا و آرامش خاطر پاسخ دهید.

ردیف	سؤالات	بارم
	نام و نام خانوادگی مصحح اول : نمره با عدد نمره با حروف	نام و نام خانوادگی مصحح دوم : نمره با عدد نمره با حروف
۱	هر یک از جمله های زیر را با کلمه های مناسب داخل پرانتز کامل کنید . الف ( سمندر ها در گروه دوزیستان ..... قرار می گیرند . ( دم دار - بی دم ) ب) آمونیاک در تهیه ..... کاربرد دارد . ( کود شیمیایی - رنگ ) ج ) در سیب زمینی ، مواد مغذی در قسمت ..... ذخیره می شود . ( ریشه - ساقه )	۰/۷۵
۲	درستی یا نادرستی عبارت های زیر را با گذاشتن (( ص )) یا (( غ )) داخل مستطیل مشخص کنید . الف ( عامل بیماری ایدز نوعی قارچ تک سلولی است که سیستم ایمنی انسان را ضعیف می کند . ب) امروزه مهم ترین خطر برای کاهش تنوع زیستی و انقراض گونه ها ، عوامل طبیعی می باشد . ج ) ستاره قطبی دم صورت فلکی دب اصغر است و جهت شمال را به ما نشان می دهد . د) هنگام ترمز گرفتن در حین حرکت ، نیروی اصطکاک ایستایی باعث کاهش سرعت اتومبیل می شود .	۱
۳	گزینه صحیح را انتخاب کنید. الف ( خودرویی با سرعت ثابت در یک مسیر مستقیم در حال حرکت است کدام گزینه در مورد آن صحیح نیست ؟ ۱) نیروهای وارد بر خودرو متوازن هستند ۲) تندی متوسط با تندی لحظه ای برابر است ۳) شتاب خودرو صفر است ۴) تندی لحظه ای آن در حال زیاد شدن است ب ) کدام یک از بوم سازگان زیر (( خشکی - آبی )) محسوب می شود ؟ ۱) تالاب شادگان ۲) دریاچه زریوار ۳) جنگل گلستان ۴) کویر لوت ج ) در رده بندی جانداران افراد کدام گروه بیشترین شباهت را دارند ؟ ۱) رده ۲) راسته ۳) سلسله ۴) گونه د) کدام ویژگی نیروهای کنش و واکنش نیست ؟ ۱) همواره بر دو جسم وارد می شوند. ۲) همواره هم اندازه اند. ۳) همواره در یک جهت وارد می شوند. ۴) همواره خلاف جهت یکدیگرند.	۱
۴	برای هر یک از عبارات زیر دلیل علمی مناسب بیان کنید . الف) باکتری ها در گروه پروکاریوت قرار می گیرند : ب ) با آچار بلندتر می توان مهره پیچ را راحت تر باز کرد : ج ) بیشتر شخانه ها در اقیانوس ها سقوط می کنند : د ) پوست خزندگان از پولک های ضخیم یا صفحات استخوانی پوشیده شده است :	۲

۵	عنصری با مدل اتمی روبرو : الف) در کدام گروه ( ستون ) جدول تناوبی عناصر قرار دارد؟ ب) این عنصر برای شرکت در واکنش ها تمایل دارد به آنیون تبدیل شود یا کاتیون ؟	۰/۵													
۶	برای هر مورد یک کاربرد بنویسید . جلبک ها : پوسته های سیلیسی آغازیان :	۰/۵													
۷	هریک از توضیحات ستون الف را به کلمه مناسب در ستون ب وصل کنید ( یک کلمه در ستون ب اضافی است )	۱	<table border="1"> <thead> <tr> <th>الف</th> <th>ب</th> </tr> </thead> <tbody> <tr> <td>۱- ساده ترین کرم ها هستند که خروج مواد از سطح بدنشان انجام می شود.</td> <td>بندپایان</td> </tr> <tr> <td>۲- بزرگترین گروه جانوران روی زمین را تشکیل می دهند.</td> <td>کرم های پهن</td> </tr> <tr> <td>۳- از کرم های این گروه می توان آسکاریس و کرمک را نام برد.</td> <td>خارتنان</td> </tr> <tr> <td>۴- این جانوران دریازی اند و به جای خون ، دستگاه گردش آب دارند.</td> <td>کرم های لوله ای</td> </tr> <tr> <td></td> <td>نرم تنان</td> </tr> </tbody> </table>	الف	ب	۱- ساده ترین کرم ها هستند که خروج مواد از سطح بدنشان انجام می شود.	بندپایان	۲- بزرگترین گروه جانوران روی زمین را تشکیل می دهند.	کرم های پهن	۳- از کرم های این گروه می توان آسکاریس و کرمک را نام برد.	خارتنان	۴- این جانوران دریازی اند و به جای خون ، دستگاه گردش آب دارند.	کرم های لوله ای		نرم تنان
الف	ب														
۱- ساده ترین کرم ها هستند که خروج مواد از سطح بدنشان انجام می شود.	بندپایان														
۲- بزرگترین گروه جانوران روی زمین را تشکیل می دهند.	کرم های پهن														
۳- از کرم های این گروه می توان آسکاریس و کرمک را نام برد.	خارتنان														
۴- این جانوران دریازی اند و به جای خون ، دستگاه گردش آب دارند.	کرم های لوله ای														
	نرم تنان														
۸	در چه صورت بدن جاندار به فسیل تبدیل شده و قالب داخلی تشکیل می شود؟	۰/۵													
۹	با توجه به هیدروکربن های روبرو به سوالات پاسخ دهید : الف) نقطه جوش کدام هیدروکربن از همه کمتر است ؟ ب) کدام یک دیرتر جاری می شود ؟	۰/۵	$C_4H_{10}$ $C_8H_{18}$ $C_{20}H_{42}$												
۱۰	نقشه مفهومی زیر را کامل کنید .	۰/۷۵													
۱۱	در خلیج فارس در نتیجه تجمع اسکلت نوعی از بی مهرگان ، آبسنگ ها و جزایر خاصی تشکیل می شوند . الف) کدام گروه از کیسه تنان باعث تشکیل این آبسنگ ها شده اند؟ ب) وجود آبسنگ ها در سواحل دریاها چه فایده ای دارد ؟ ( یک مورد )	۰/۵													
۱۲	با توجه به کلمات داخل پرانتز به سوالات زیر پاسخ دهید : (گل انگشتانه - خزه ها- سرخس ها- کاج - باقلا) الف) در کدام یک از گیاهان، دانه درون میوه تشکیل نمی شود ، بلکه روی پولک مخروط تشکیل می شود؟ ب) اولین گروه از گیاهان آوند دار که ساقه زیرزمینی دارد کدام است؟ ج) از کدام گیاه ماده ای به دست می آید که برای شناسایی گروه خونی استفاده می شود؟ د) از قدیمی ترین گیاهان روی زمین که با هاگ تولیدمثل می کنند و ارتفاع کمی دارند کدام است؟	۱													



نام درس : علوم تجربی تاریخ امتحان : ۹۸/۰۳/۰۵ تعداد صفحه : ۳ تعداد سؤال : ۱۹ زمان شروع : ۹:۳۰ وقت : ۷۰ دقیقه	بسمه تعالی وزارت آموزش و پرورش اداره کل آموزش و پرورش استان یزد <b>اداره سنجش</b>	شماره داوطلب : نام : نام خانوادگی : نام پدر : نام آموزشگاه : پایه : نهم
--	--	--

۰/۵		۱۳ شکل مقابل ظروف مرتبطه را نشان می دهد . الف ) مقدار فشار مایع در نقطه شماره ۱ بیشتر است یا ۲ ؟ ب ) برای پاسخ خود دلیل بیاورید.
۰/۵	زنجیره غذایی سه حلقه ای زیر را کامل کنید : روباه → ..... → .....	۱۴
۰/۵	همزیستی بین جانداران به سه شکل همیاری ، همسفرگی و انگلی دیده می شود در هر مورد نوع رابطه را مشخص کنید : کنه و انسان ( ) زنبور و گیاه گل دار ( )	۱۵
۱	الف ) در علم نجوم منظور از سال نوری چیست ؟ ب ) بیشترین گازهای تشکیل دهنده خورشید را نام ببرید ؟ ..... و .....	۱۶
۰/۵	هر یک از پدیده های زیر در اثر کدام حرکت ورقه های سنگ کره تشکیل می شوند : الف ) تشکیل رشته کوه های زاگرس ( ) ب ) تشکیل پوسته جدید در اقیانوس ( )	۱۷
۱/۲۵		۱۸ الف ) شکل مقابل چه نوع قرقره ای را نشان می دهد ؟ ب ) مزیت مکانیکی قرقره را به دست آورید. ج ) در شکل مقابل اگر طناب را ۳ متر به طرف بالا بکشیم ، کار نیروی محرک چقدر می شود؟ (از اصطکاک صرف نظر شود)
۰/۷۵	مکعب مستطیلی به وزن ۱۸۰ نیوتن و به ابعاد ۳ × ۴ × ۵ متر روی سطح زمین قرار دارد. بیشترین فشاری که این مکعب به سطح زمین وارد می کند چند پاسکال است ؟	۱۹
۱۵	<b>جمع بارم</b>	

شماره داوطلب :	بسمه تعالی	نام درس : قرآن
نام :	وزارت آموزش و پرورش	تاریخ امتحان : ۹۸/۰۳/۱۹
نام خانوادگی :	اداره کل آموزش و پرورش استان یزد	تعداد صفحه : ۳
نام پدر :	اداره سنجش	تعداد سؤال : ۹
نام آموزشگاه :		زمان شروع : ۹:۳۰
پایه : نهم		وقت : ۵۰ دقیقه

ضمن خیرمقدم به دانش آموزان و داوطلبان عزیز، سوالات زیر را به دقت بخوانید و با توکل به خدا و آرامش خاطر پاسخ دهید.

ردیف	سؤالات	بارم
	نام و نام خانوادگی مصحح اول : نام و نام خانوادگی مصحح دوم : نمره با عدد نمره با حروف	
۱	با استفاده از کلمات داخل پرانتز، ترجمه عبارات قرآنی را کامل کنید. عَمَّ يَتَسَاءَلُونَ عَنِ النَّبَاِ الْعَظِيمِ الَّذِي هُمْ فِيهِ مُخْتَلِفُونَ كَلَّا سَيَعْلَمُونَ از چه، از یکدیگر می پرسند از ----- ( پیامبر - خبر ) بزرگ که ----- ( آنها در آن - آنها ) اختلاف دارند هرگز چنین نیست ----- ( خواهند دانست - عمل می کنند )	۰/۷۵
۲	ترجمه عبارات قرآنی را بیابید و شماره مربوطه را مقابل آن بنویسید. کَيْفَ سَطِحَتْ : <input type="text"/> ۱- تلاشی طولانی خَلَقْنَاكُمْ : <input type="text"/> ۲- خلق کردیم شما را قُمِ اللَّيْلِ : <input type="text"/> ۳- فرمانروایی به دست اوست قَالَ يَا قَوْمِ : <input type="text"/> ۴- به پا خیز شب را سَبْحًا طَوِيلًا : <input type="text"/> ۵- چگونه گسترده شد بَيَّهَ الْمَلِكُ : <input type="text"/> ۶- گفت ای قوم من	۳
۳	با استفاده از ترجمه، کلمات داخل پرانتز را در جاهای مناسب قرار دهید. ( قَدْرًا - محرومونَ - ذِكْرٌ - نَسُوا - أَلِيمٌ - الميزان ) الف - قَدْ جَعَلَ اللَّهُ لِكُلِّ شَيْءٍ ----- ب - فَاسْعُوا إِلَى اللَّهِ ----- ج - تُنْجِيكُمْ مِنْ عَذَابٍ ----- د - وَلَا تَكُونُوا كَالَّذِينَ ----- اللَّهُ هـ - وَ أَنْزَلْنَا مَعَهُمُ الْكِتَابَ وَ ----- و - بَلْ نَحْنُ -----	۳

نام درس : قرآن تاریخ امتحان : ۹۸/۰۳/۱۹ تعداد صفحه : ۳ تعداد سؤال : ۹ زمان شروع : ۹:۳۰ وقت : ۵۰ دقیقه	بسمه تعالی وزارت آموزش و پرورش اداره کل آموزش و پرورش استان یزد <b>اداره سنجش</b>	شماره داوطلب : نام : نام خانوادگی : نام پدر : نام آموزشگاه : پایه : نهم
---	--	--

۳	ترجمه آیات و عبارات قرآنی را کامل کنید. الف - وَالنَّجْمُ وَالشَّجَرُ يَسْجُدَانِ . ب - كَذَّبُوا بِآيَاتِنَا كُفْهًا . ج - وَفِي أَنْفُسِكُمْ أَفَلَا تُبْصِرُونَ . د - فَاصْلِحُوا بَيْنَ أَخْوَيْكُمْ . هـ - مَنْ يَتَّقِ اللَّهَ يَجْعَلْ لَهُ مَخْرَجًا . و - فِيهِ بَاسٌ شَدِيدٌ وَمَنَافِعٌ لِلنَّاسِ . و گیاه و درخت ----- همه آیات ما را ----- و در ----- پس آیا نمی بینید. پس ----- بین دو برادرتان. کسی که تقوای خدا داشته باشد قرار بدهد برای او ----- در آن ----- بسیار و منفعت هایی برای مردم است.	۴
۰/۵	ترجمه کدام ترکیب نادرست می باشد؟ الف- لئن سألتهُم : اگر بپرسی از آنها <input type="checkbox"/> ب- یحیی ء و یمیت : زنده می کند و می میراند <input type="checkbox"/> ج- کالذین آمنوا : مانند کسانی که ایمان آوردند. <input type="checkbox"/> د- أجل مسمی : پاداش مساوی <input type="checkbox"/>	۵
۰/۵	کدام گزینه با ترجمه مطابقت دارد؟ الف- فوزاً عظیماً : سخنی بزرگ <input type="checkbox"/> ب- علم القرآن : یاد داد قرآن را <input type="checkbox"/> ج- ء انتم : آیا ما <input type="checkbox"/> د- أنزلنا الحديد : فرو فرستادیم آب را <input type="checkbox"/>	۶
۱	با توجه به ترجمه، مفهوم عبارات قرآنی را از داخل کادر بیابید. الف) تُجَاهِدُونَ فِي سَبِيلِ اللَّهِ بِأَمْوَالِكُمْ وَأَنْفُسِكُمْ <input type="checkbox"/> ب) إِذَا نُودِيَ لِلصَّلَاةِ مِنْ يَوْمِ الْجُمُعَةِ. <input type="checkbox"/> ج) إِنْ اللَّهُ خَبِيرٌ بِمَا تَعْمَلُونَ. <input type="checkbox"/> د) يَا أَيُّهَا الَّذِينَ آمَنُوا لَا يَسْخَرْ قَوْمٌ مِنْ قَوْمٍ. <input type="checkbox"/>	۷
۲	لغات زیر را با استفاده از کلمات داده شده ترجمه کنید. ( زندگی - آسایش و استراحت - هلاکت - دوزخ - هر کجا - خرید و فروش - گناهان - جاودان ) عَدَن : دُنُوب : مَعَاش : بَيْع : حَيْث : سَعِير : تَبَار : سُبَات :	۸

نام درس : قرآن تاریخ امتحان : ۹۸/۰۳/۱۹ تعداد صفحه : ۳ تعداد سؤال : ۹ زمان شروع : ۹:۳۰ وقت : ۵۰ دقیقه	بسمه تعالی وزارت آموزش و پرورش اداره کل آموزش و پرورش استان یزد اداره سنجش	شماره داوطلب : نام : نام خانوادگی : نام پدر : نام آموزشگاه : پایه : نهم
---	---	--

۶/۲۵	آیات قرآنی را ترجمه کنید. الف) أَفَلَا يَنْظُرُونَ إِلَى الْآيَاتِ الْكُبْرَىٰ (۰/۷۵) ب) سَيَجْعَلُ اللَّهُ بَعْدَ عُسْرٍ يُسْرًا. (۰/۷۵) ج) رَبُّ الْمَشْرِقِ وَالْمَغْرِبِ لَا إِلَهَ إِلَّا هُوَ. (۱/۲۵) د) اغْفِرْ لِي وَلِوَالِدَيَّ وَلِمَنْ دَخَلَ بَيْتِي مُؤْمِنًا. (۱/۲۵) هـ) فَإِذَا قُضِيَتِ الصَّلَاةُ فَانْتَشِرُوا فِي الْأَرْضِ. (۱/۲۵) و) أَنْ اعْبُدُوا اللَّهَ وَاتَّقُوهُ وَأَطِيعُوا أَمْرًا. (۱)	۹
۲۰	جمع بارم	

« موفق و سر بلند باشید »

شماره داوطلب :

نام :

نام خانوادگی :

نام پدر :

نام آموزشگاه :

پایه : نهم

بسمه تعالی

وزارت آموزش و پرورش

اداره کل آموزش و پرورش استان یزد

اداره سنجش

نام درس : مطالعات اجتماعی

تاریخ امتحان : ۹۸/۳/۱۱

تعداد صفحه : ۴

تعداد سؤال : ۴۶

زمان شروع : ۹:۳۰

وقت : ۹۰ دقیقه

ضمن خیرمقدم به دانش آموزان و داوطلبان عزیز، سؤالات زیر را به دقت بخوانید و با توکل به خدا و آرامش خاطر پاسخ دهید.

نام و نام خانوادگی مصحح اول :		نام و نام خانوادگی مصحح دوم :	
نمره با عدد		نمره تجدید نظر با عدد	
نمره با حروف		نمره تجدید نظر با حروف	
(بخش اجباری) دانش آموزان عزیز لطفا در این بخش به کلیه سوالات پاسخ دهید.			
ردیف	سؤالات	بارم	
۱	انقلاب مشروطیت در دوره کدام پادشاه در ایران اتفاق افتاد؟ الف) ناصرالدین شاه <input type="checkbox"/> ب) مظفرالدین شاه <input type="checkbox"/> ج) احمدشاه <input type="checkbox"/> د) محمدعلی شاه <input type="checkbox"/>	۰/۵	
۲	رهبری نهضت ملی شدن صنعت نفت را چه کسانی به عهده گرفتند؟ -----	۰/۵	
۳	هدف اصلی متفقین از اشغال ایران در جنگ جهانی دوم چه بود؟	۰/۵	
۴	علت مخالفت شیخ فضل الله نوری با انقلاب مشروطیت چه بود؟	۱	
۵	از جمله مهمترین نهادهای انقلابی که پس از پیروزی انقلاب اسلامی تشکیل شد دو مورد نام ببرید. -----	۰/۵	
۶	علت قیام ۱۹ دی ۱۳۵۶ در قم چه بود؟	۰/۵	
۷	اساسی ترین تغییرات قانون انجمن های ایالتی و ولایتی در سال ۱۳۴۱ را بنویسید. (یک مورد)	۰/۵	
۸	چرا به ۱۷ شهریور ۱۳۵۷ جمعه سیاه می گویند؟	۱	
۹	عبارات صحیح و غلط را مشخص کنید. الف) فرهنگ در جریان اجتماعی شدن آموخته می شود. ب) اجتماعی شدن فرایندی طولانی مدت از ازدواج تا آخر عمر است. ص <input type="checkbox"/> غ <input type="checkbox"/> ص <input type="checkbox"/> غ <input type="checkbox"/>	۰/۵	
۱۰	لایه های عمیق تر فرهنگ ----- و ----- هستند.	۰/۵	
۱۱	ویژگی های انتسابی را تعریف کنید.	۰/۵	

شماره داوطلب :

نام :

نام خانوادگی :

نام پدر :

نام آموزشگاه :

پایه : نهم

بسمه تعالی

وزارت آموزش و پرورش

اداره کل آموزش و پرورش استان یزد

اداره سنجش

نام درس : مطالعات اجتماعی

تاریخ امتحان : ۹۸/۳/۱۱

تعداد صفحه : ۴

تعداد سؤال : ۴۶

زمان شروع : ۹:۳۰

وقت : ۹۰ دقیقه

۱	مهمترین ویژگی های مشترک جامعه ایرانی را نام ببرید. (دومورد)	۱۲
۰/۵	یکی از مهمترین کارکردهای خانواده ها در طول تاریخ چه بوده است؟ الف) تربیت فرزندان <input type="checkbox"/> ب) فرزندآوری <input type="checkbox"/> ج) رفع نیاز اقتصادی <input type="checkbox"/> د) جمعیت <input type="checkbox"/>	۱۳
۰/۵	خانواده ها به چه روشهایی اعضای خانواده را اجتماعی می کنند؟ (دومورد).	۱۴
۰/۵	چگونه می توان از بروز ناسازگاری های زن و مرد جلوگیری کرد؟ (دو مورد)	۱۵
۱	منظور از صلح ارحام چیست؟	۱۶
۰/۵	براساس قانون اساسی انتخاب کدامیک به صورت غیرمستقیم صورت می گیرد. الف) رئیس جمهور <input type="checkbox"/> ب) اعضای شوراهای شهر <input type="checkbox"/> ج) انتخاب رهبر <input type="checkbox"/> د) نمایندگان مجلس <input type="checkbox"/>	۱۷
۱	نصب و عزل و قبول استعفا چه کسانی برعهده رهبر جمهوری اسلامی می باشد. (دومورد)	۱۸
۱	دو مورد از حقوق شهروندی بر پایه قانون اساسی را نام ببرید.	۱۹
۰/۵	امروزه با توجه به اهمیت حفظ محیط زیست به جای واژه بهره وری از ----- استفاده می شود.	۲۰
۱	منظور از اقتصاد مقاومتی چیست؟	۲۱
۱	دو راهکار مهم برای افزایش بهره وری در زندگی فردی و خانوادگی را نام ببرید.	۲۲
	(بخش اختیاری) دانش آموزان عزیز لطفاً در این بخش دو فصل را انتخاب کنید و به سوالات همان فصل پاسخ دهید.	
۱	فصل اول (اختیاری) عبارات صحیح و غلط را مشخص کنید. الف) درمیان چهارسیاره نزدیک به خورشید مشتری بزرگ ترین است. <input type="checkbox"/> ص <input type="checkbox"/> غ ب) موقعیت مکانی یک پدیده یعنی مکان دقیق قرار گرفتن آن روی کره زمین <input type="checkbox"/> ص <input type="checkbox"/> غ ج) محورقطب ها بر سطح مدارگردش انتقالی زمین مایل است. <input type="checkbox"/> ص <input type="checkbox"/> غ د) سال ۳۶۵ روزه را سال کبیسه می گویند. <input type="checkbox"/> ص <input type="checkbox"/> غ	۲۳

شماره داوطلب :	بسمه تعالی	نام درس : مطالعات اجتماعی
نام :	وزارت آموزش و پرورش	تاریخ امتحان : ۹۸/۳/۱۱
نام خانوادگی :	اداره کل آموزش و پرورش استان یزد	تعداد صفحه : ۴
نام پدر :	<b>اداره سنجش</b>	تعداد سؤال : ۴۶
نام آموزشگاه :		زمان شروع : ۹:۳۰
پایه : نهم		وقت : ۹۰ دقیقه

۲۴	دو موقع از سال یعنی اول بهار و اول پاییز درازی شب و روز برابر می شود به این دو زمان ----- می گویند.	۰/۵
۲۵	حرکت وضعی زمین چه نتایج دارد؟ (دو مورد)	۰/۵
۲۶	عرض جغرافیایی را تعریف کنید.	۰/۵
۲۷	<b>فصل دوم ( اختیاری )</b> پایین ترین لایه جو که نزدیک به سطح زمین است ----- نام دارد.	۰/۵
۲۸	دو مورد از عوامل مؤثر بر آب و هوای جهان را نام ببرید.	۱
۲۹	فلات قاره یا ایوان خشکی را تعریف کنید.	۱
۳۰	<b>فصل سوم ( اختیاری )</b> کدام یک از عوامل زیر مهم ترین و بیشترین تاثیر را بر نوع و میزان پوشش گیاهی دارد؟ الف) شکل ناهمواری ها <input type="checkbox"/> ب) آب و هوا <input type="checkbox"/> ج) میزان ارتفاع زمین <input type="checkbox"/> د) جنس خاک <input type="checkbox"/>	۰/۵
۳۱	این ناحیه که به داشتن جنگل های مخروطیان معروف است و درختان آن مانند کاج و سرو همیشه سبزند، مربوط به کدام زیست بوم است؟ -----	۰/۵
۳۲	دو مورد از اهمیت و ارزش جنگل های بارانی استوایی بنویسید. (۲مورد)	۰/۵
۳۳	مهمترین عواملی که باعث تخریب زیستگاه ها می شود را بنویسید. (۲مورد)	۱
۳۴	<b>فصل چهارم ( اختیاری )</b> معمولا میزان ثروت مادی و رشد اقتصادی کشورها باچه چیز هایی اندازه گیری می کنند؟ ----- و -----	۰/۵
۳۵	دو مورد از عوامل طبیعی که باعث جذب جمعیت می شود را نام ببرید.	۰/۵

شماره داوطلب :	بسمه تعالی	نام درس : مطالعات اجتماعی
نام :	وزارت آموزش و پرورش	تاریخ امتحان : ۹۸/۳/۱۱
نام خانوادگی :	اداره کل آموزش و پرورش استان یزد	تعداد صفحه : ۴
نام پدر :	<b>اداره سنجش</b>	تعداد سؤال : ۴۶
نام آموزشگاه :		زمان شروع : ۹:۳۰
پایه : نهم		وقت : ۹۰ دقیقه

۰/۵	ملاک های توسعه انسانی را نام ببرید؟ (۲مورد)	۳۶
۱	مهاجرت داخلی را با ذکر مثال توضیح دهید.	۳۷
۰/۵	فصل پنجم ( اختیاری ) کدام پادشاه پایتخت خود را از تبریز به قزوین انتقال داد؟ الف) شاه عباس اول <input type="checkbox"/> ب) شاه سلطان حسین <input type="checkbox"/> ج) شاه اسماعیل <input type="checkbox"/> د) شاه طهماسب <input type="checkbox"/>	۳۸
۰/۵	مهمترین طرفداران خانقاه شیخ صفی ایل های مختلف ترک بودند که به----- شهرت داشتند.	۳۹
۰/۵	در دوره ی صفوی بعد از شاه وزیر بزرگ قرار داشت که به او----- نیز می گفتند.	۴۰
۰/۵	یکی از اقدامات شاه اسماعیل صفوی پس از تاج گذاری چه بود؟	۴۱
۰/۵	دو عامل گسترش تجارت در عصر صفوی را بنویسید.	۴۲
۰/۵	فصل ششم ( اختیاری ) یکی از مهمترین اقدامات امیرکبیر تأسیس-----بود.	۴۳
۰/۵	دلیل اصلی شکل گیری نهضت تنباکو چه بود؟	۴۴
۰/۵	چرا نادرشاه افشار به هندوستان لشکر کشید؟	۴۵
۱	بر اساس عهدنامه ترکمانچای چه خسارت هایی به ایران تحمیل شد؟ (دو مورد)	۴۶

« موفق و سر بلند باشید »