

رسول اکرم در میان جمع گشاده رو بود و در تنهایی ، سیمایی محزون و متفکر داشت. هرگز به روی کسی خیره نگاه نمی کرد و بیشتر اوقات ، چشم هایش را به زمین می دوخت. در سلام کردن به همه ، حتی به کودکان پیش دستی می کرد.

امام خمینی پس از پیروزی انقلاب بیش از ده سال ، رهبری کشور را به عهده داشت. در زمان رهبری ، خصوصیات دوره جوانی و میان سالی خویش را حفظ کرد و همچنان افتاده و فروتن بود. هیچ گاه قدرت ، او را از یاد خدا و محبت به مردم غافل نساخت. او محبوب همه ی مسلمانان جهان و مایه ی افتخار مردم ایران بود .

شهید رجایی ، فرد بسیار منظمی بود و برنامه هایش به هم ریخته نبود. سر ساعت به جلسه می آمد. برنامه ورزش ، خوراک، مطالعه و خواب او ساعت دقیق و معینی داشت و دقیقه ای عوض نمی شد. وقتی از پیدایش این خصلت در ایشان از او سؤال می شد ، می گفت : من این نظم را از آقای بهشتی یاد گرفته ام .

دکتر حسابی به زبان و فرهنگ و ادب فارسی نیز عشق می ورزید و آثار بیشتر بزرگان شعر و ادب را با دقت مطالعه می کرد. دیوان حافظ را به خوبی می خواند و از آن لذت می برد و معتقد بود که یک ایرانی نباید غزل حافظ را غلط بخواند و یا نادرست بفهمد.

باسمه تعالی

سوالات ارزشیابی نوبت دوم	مدیریت آموزش و پرورش ناحیه یک یزد	مدت امتحان	مهر آموزشگاه
--------------------------	-----------------------------------	------------	--------------



.....

.....

.....

.....

.....

.....

.....

.....

.....

.....

.....

.....

.....

.....

.....

.....

.....

عیب رندان مکن ای زاهد پاکیزه سرشت که گناه

دگران بر تو نخواهند نوشت عنه حافظ - غزل شماره 80

(( پیروز و سرفراز باشید ))

آزمون درس انشا فارسی پایه هفتم - نوبت دوم - تاریخ آزمون 20/3/1397 - وقت 70 دقیقه

1- یکی از موضوعات زیر را انتخاب کنید و در پشت برگه انشایی بنویسید.

- الف) فصل زیبای بهار را توصیف کنید .  
ب) چگونه می توانیم از زحمات پدر و مادر خود قدر دانی کنیم ؟  
ج) بار کج به منزل نمی رسد

معیارهای ارزیابی 2-

الف) پروراندن موضوع و بهره گیری مناسب از شیوه های پرورش فکر

ب) نوشتن بند مقدمه ، بند بدنه و بند نتیجه

ج) استفاده از واژگان مترادف ، متضاد و آرایه های ادبی

د) ساختار زبانی (جمله بندی) و تنوع فعل ها

ه) پاراگراف بندی و حاشیه گذاری

و) املا صحیح واژگان

ز) خطّ خوش و پاکیزه نویسی

ح) رعایت علائم نگارشی

باسمه تعالی

مهر آموزشگاه	مدت امتحان	مدیریت آموزش و پرورش ناحیه یک یزد دبیرستان نمونه دولتی رسولیان دوره اول		سوالات ارزشیابی نوبت: دوم	
	70 دقیقه			درس: انشا فارسی کلاس هفتم	
	تاریخ آزمون	تعداد صفحه و سوال : 2 صفحه			
	20 / 3 / 97	پایه	نام خانوادگی	کد دانش آموزی	نام



سوال‌ات ارزشیابی نوبت: دوم	مدیریت آموزش و پرورش ناحیه یک یزد		مدت امتحان	مهر آموزشگاه
درس: پیام‌های آسمانی هفتم	دیرستان نمونه دولتی رسولیان دوره اول		۵۰ دقیقه	
تعداد صفحه و سوال: ۲ صفحه ۱۲ سوال			تاریخ آزمون	
نام	نام خانوادگی	کدرانش آموزی	پایه	۹۷ / ۳ / ۱
			جمع نمره:	

ردیف	سوال‌ات
الف	<p><b>گزینه درست را با علامت X مشخص کنید. (2 نمره)</b></p> <p><b>1- حدیث «شکر نعمت آن است که از آنچه خداوند حرام کرده است دوری کنی» از کیست؟</b></p> <p>الف) امام صادق <input type="checkbox"/>      ب) امام علی <input type="checkbox"/></p> <p>ج) پیامبر اکرم <input type="checkbox"/>      د) امام رضا <input type="checkbox"/></p> <p><b>2- کدام یک از موارد زیر از راه‌های جلب کمک خداوند نیست؟</b></p> <p>الف) صبر و تقوا <input type="checkbox"/>      ب) یاری خداوند <input type="checkbox"/></p> <p>ج) دعا <input type="checkbox"/>      د) بی‌دقتی در انجام کارها <input type="checkbox"/></p> <p><b>3- علت فشار قبر سعد بن معاذ چه بود؟</b></p> <p>الف) نماز نمی‌خواند. <input type="checkbox"/>      ب) روزه نمی‌گرفت. <input type="checkbox"/></p> <p>ج) با خانواده‌اش خوش رفتار نبود. <input type="checkbox"/>      د) زکات نمی‌داد. <input type="checkbox"/></p> <p><b>4- حضرت علی <input checked="" type="checkbox"/> کدام سوره را در مکه برای مشرکان خواند؟</b></p> <p>الف) توحید <input type="checkbox"/>      ب) بقره <input type="checkbox"/>      ج) کافرون <input type="checkbox"/>      د) توبه <input type="checkbox"/></p>
ب	<p><b>درستی یا نادرستی عبارتهای زیر را مشخص کنید. (3 نمره) درست نادرست</b></p> <p>1- هنگام سفر آخرین کسی که پیامبر با ایشان خداحافظی می‌کرد حضرت علی <input checked="" type="checkbox"/> بود. <input type="checkbox"/></p> <p>2- حس استقلال طلبی مربوط به خصوصیات دوران بلوغ <u>نیست</u>. <input type="checkbox"/></p> <p>3- زمین جزء مطهرات است. <input type="checkbox"/></p> <p>4- قنوت از واجبات غیر ارکان نماز است. <input type="checkbox"/></p> <p>5- پیامبر ز جمع علمی را در مسجد انتخاب کردند. <input type="checkbox"/></p> <p>6- تنبلی باعث می‌شود تصمیم قاطع نگیریم. <input type="checkbox"/></p>
ج	<p><b>جاهای خالی را با کلمه‌ی مناسب کامل کنید. (2 نمره)</b></p> <p>1- یکی از بهترین حالت‌هایی که در دعا مستجاب می‌شود ..... است.</p> <p>2- امام رضا <input checked="" type="checkbox"/> فرمودند: هر رکعت نماز جماعت به اندازه‌ی ..... ثواب دارد.</p> <p>3- به دستور پیامبر ز هر اسیری که به ..... از مسلمانان خواندن و نوشتن بیاموزد آزاد می‌شود.</p> <p>4- عاقبت راستگویی ..... است و عاقبت دروغگویی ..... است.</p>
د	<p><b>به سوالات زیر پاسخ دهید.</b></p> <p>1- واجبات رکنی نماز را نام ببرید. (1/25 نمره)</p> <p>2- راه‌های بهره‌مندی از یاری خداوند را بنویسید. (1/5 نمره)</p>

3- اصطلاحات زیر را تعریف کنید. (2 نمره)

الف) اولویت بندی :

ب) آب کر :

ج) عزت نفس :

د) ليله المبيت :

4- دو راه مقابله با تنبلی را بنویسید. (1 نمره)

5- آیهی «قَدْ أَفْلَحَ الْمُؤْمِنُونَ... هُمْ لَأَمَانَاتِهِمْ وَعَهْدِهِمْ رَاعُونَ» به کدام یک از ویژگی‌های مومنان اشاره دارد؟ (1 نمره)

6- چهار مورد از ویژگی‌های اخلاقی حضرت فاطمه  را بنویسید. (1 نمره)

7- چرا خداوند تکالیفی را بر ما واجب کرده است؟ (1 نمره)

8- ظرفی را که سگ از آن آب خورده چگونه می‌توان پاک کرد؟ (1 نمره)

9- نحوه انجام غسل جمعه را توضیح دهید. (1 نمره)

10- مهمترین فایده‌ی حجاب برای زن چیست؟ (1 نمره)

11- سه نمونه از فداکاری‌های حضرت علی  را بنویسید. (75/0 نمره)

12- داستان پادشاه زیرک به کدام یک از اصل‌های اصول دین اشاره دارد؟ (5/ نمره)



سوال‌های ارزشیابی نوبت دوم	مدیریت آموزش و پرورش ناحیه یک بزرگ دبیرستان نمونه دولتی رسولیان دوره اول	مدت امتحان 90 دقیقه	مهر آموزشگاه		
			تاریخ آزمون / 3 / 7	جمع نمره:	
درس: ریاضی	تعداد صفحه و سوال : 4 صفحه 25 سوال	نام خانوادگی	کد دانش آموزی	پایه	نام

4	خوردن 22 متر حرکت کرده است. الف : 6 □ ب : 5 □ ج : 4 □ د : 7 □ قرینه نقطه نسبت به محور طولها برابر است با : الف : □ ب : □ ج : □ د : □
5	در عبارت مقابل مقدار $x + y^2$ کدام گزینه است؟ الف : □ ب : □ ج : □ د : □
6	مقدار عددی عبارت $f^{21} - 2a^{31}$ به ازای $f = -1$ کدام عدد می‌باشد؟ الف : -3 □ ب : -1 □ ج : 3 □ د : 1 □
7	مجموع دو عدد اول 99 می‌باشد. حاصل ضرب آن دو عدد اول کدام است؟ الف : 152 □ ب : 150 □ ج : 194 □ د : 154 □
8	اگر نقطه را توسط قرینه بردار انتقال دهیم به کدام نقطه میرسیم؟ الف : □ ب : □ ج : □ د : □
9	اختلاف کوچکترین عدد صحیح مثبت با بزرگترین عدد صحیح منفی چقدر است؟ الف : 3 □ ب : 10 □ ج : 2 □ د : 1 □
10	حاصل $(-6 - 2) \div (-4 + 2x)$ کدام است؟ الف : -1 □ ب : $\frac{1}{3}$ □ ج : 1 □ د : $\frac{01}{3}$ □
11	دو زاویه متمم یکدیگرند یکی از زاویه‌ها از دو برابر دیگری 30 درجه کمتر است. اندازه هر یک از زاویه‌ها را بدست آورید.

12	حاصل عبارت مقابل را بدست آورید : $\frac{1}{2} + \frac{1}{4} + \frac{1}{8} + \frac{1}{61} + \dots + \frac{1}{652} =$
----	--

ردیف	نمره	سوال
1	2	درستی یا نادرستی هر یک را مشخص کنید. الف - عدد یک مضرب تمام اعداد می‌باشد. ب - مکعب یک عدد منفی یک عدد مثبت است. ج - مثلثی را با اضلاع 3 و 4 و 7 سانتی‌متر می‌توان رسم کرد. د - قرینه هر عدد صحیح از خودش بزرگتر است. ه - مجذور هر عدد از مربع آن عدد بزرگتر است. و - در ناحیه چهارم طول و عرض هر نقطه منفی است. ت - دو زاویه که دارای یک متمم باشند مساوی هستند. ی - عدد 4 - از قرینه‌اش 8 واحد کوچکتر است. کامل کنید.
2	2	الف - از دَوَران دایره حول قطر آن ..... بدست می‌آید. ب - به محل برخورد سه سطح ..... می‌گویند. ج - برای تعیین درصد هر داده از نمودار ..... استفاده می‌کنیم. د - از نمودار خط شکسته برای نمایش ..... استفاده می‌شود. ه - اگر روی یک خط 5 نقطه انتخاب کنیم مجموع تعداد پاره خط‌ها و نیم‌خط‌ها ..... می‌باشد.
		و - قرینه‌ی بردار نسبت به مبداء مختصات بردار ..... می‌باشد. ت - اگر ضلع مکعبی را دو برابر کنیم. حجم آن ..... برابر می‌شود. ی - تبدیلی که جهت شکل را تغییر نمی‌دهد ..... نام دارد.

3	5/0	تویی از ارتفاع 8 متری سطح زمین رها میشود. پس از زمین خوردن تا نصف ارتفاع قبلی خود بالا می‌آید این توپ از لحظه‌ی رها شدن پس از چندبار زمین
---	-----	---

	$19 - 2 \times 5 + 2 \times 5 =$	
5/0	دو تاس را پرتاب می‌کنیم : - احتمال اینکه اعداد رو شده 2 و 3 باشد چقدر است؟ - احتمال اینکه مجموع اعداد رو شده 10 باشد چقدر است؟	23
1	مدرسه‌ای 120 دانش‌آموز دارد. با توجه به نمودار دایره‌ای این مدرسه : الف - تعداد دانش‌آموزان پایه هفتم چند نفر است؟ ب - تعداد دانش‌آموزان پایه هشتم چند نفر است؟ (تمام قسمت‌های خط چین مساوی اند) علامت مناسب < , = , > را انتخاب کنید.	24
5/0	$\left(\frac{1}{2}\right)^2$ <input type="radio"/> $\left(\frac{1}{2}\right)^3$ <input type="radio"/> $\sqrt{961}$ <input type="radio"/> $\sqrt{9+61}$	25

5/0	مقدار n را تعیین کنید بطوریکه نقطه روی محور عرض‌ها باشد.	13
5/0	بجای $\triangle$ چه عددی قرار دهیم تا تساوی مقابل برقرار باشد : $5 \quad 4 \quad 3 \quad 2$ $\_ + \_ + \_ + \_ + \_ = 3$	14
1	جمله $n$ ام سری عددی مقابل را نوشته و جمله بیستم را بنویسید. $\frac{1}{2}, \frac{2}{3}, \frac{3}{4}, \frac{4}{5}, \dots$	15
1	در یک دامداری 20 تا شتر و شترمرغ نگهداری می‌شود. تعداد پاهای آنها روی هم 54 عدد می‌باشد. در این دامداری چند شتر و چند شترمرغ وجود دارند؟	16
1	معادله مقابل را حل کنید. $3x - 4 = 2x - 4$ ?	17
1	دمای هوای یزد 4- و دمای هوای تهران 14- درجه است . الف : میانگین دمای هوای دو شهر را بدست آورید . ب : اختلاف دمای هوای دو شهر را بدست آورید.	18
5/0	دو عدد صحیح را مشخص کنید که حاصل ضرب آنها 28 و حاصل جمع آنها کمترین مقدار را داشته باشد.	19
1	حاصل را بصورت یک عدد تواندار بنویسید. $25^{\frac{2}{3}} \left(\frac{1}{2}\right)^{\frac{5}{2}}$ $25^{\frac{2}{3}} \times 4^2 \quad 2^{\frac{3}{2}} \times 4^{\frac{5}{2}} \times 6^{\frac{3}{2}} \times 3^{\frac{5}{2}}$	20
1	منبع آبی داریم به شکل استوانه به شعاع قاعده 2 متر و ارتفاع 5 متر. یک شیر آب در هر دقیقه 100 لیتر آب به داخل منبع می‌ریزد. این منبع پس از چند دقیقه پر می‌شود؟	21
1	مقدار دقیق جذرها را بنویسید :	22

مهر آموزشگاه	مدت امتحان	مدیریت آموزش و پرورش ناحیه یک یزد		سوالات ارزشیابی نوبت: دوم	
	50 دقیقه	دبیرستان نمونه دولتی رسولیان دوره اول		درس: عربی	
	تاریخ آزمون			تعداد صفحه و سوال: 2 صفحه 10 سؤال	
	13 / 3 / 97	پایه	کد دانش آموزی	نام خانوادگی	نام
	جمع نمره:				

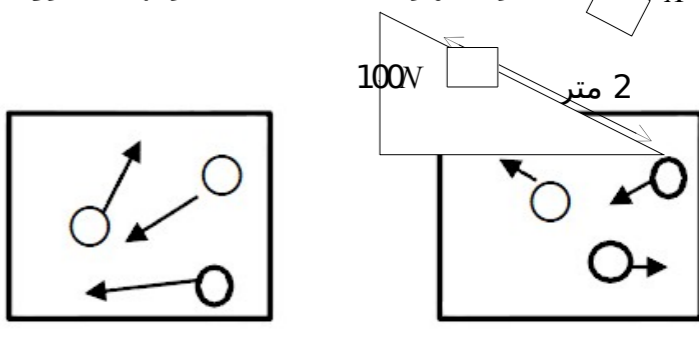
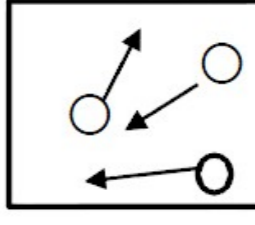
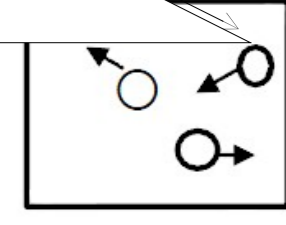
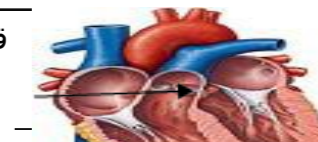
ردیف	متن سوال	بارم
1	کلمات مشخص شده را ترجمه کنید. *لَا تَنكِ عَمَلْتَ عِنْدِي سِنَوَاتٍ كَثِيرَةً * *وَلَكِنَّهُمْ قَدَفَوْهَا فِي الْمَاءِ * .....	1
5/1	ترجمه های ناقص را کامل کنید. الف- وَطَلَبَ مِنْهُ صُنْعَ بَيْتِ خَشْبِيٍّ. .... راخواست. ب- السَّمَكَتَانِ خَافَتَا وَهَرَبَتَا. .... دو ماهی ..	5/1
2	سخنان حکیمانه زیر را به فارسی ترجمه کنید. - ((مَنْ زَرَعَ الْعُدْوَانَ، حَصَدَ الْخُسْرَانَ.)) ..... - ((الْخَيْرُ كَثِيرٌ وَفَاعِلُهُ قَلِيلٌ.)) .....	2
4	جمله های زیر را به فارسی ترجمه کنید. *ماهی ألوان علم الجمهورية الإسلامية الإيرانية؟ ..... *جاء صاحب المصنع وأعطاه مفتاحاً ذهبياً. ..... *الأسماك فرحن لنجاتها. ..... *كم «قل» في بداية هذه السور؟ .....	4
1	گزینه مناسب را انتخاب کنید. (دور یکی خط بکشید) 1- أمس كان يوم الأحد فاليوم يوم..... السبت الإثنين 2- لماذا..... أيتها البنات؟ ذهبن ذهبتما 3- كيف..... يا صادق ويا حامد؟ رجعتما رجعتم	1


	4-نَحْنُ.....لَأَخِذِ الْجَوَانِزِ. وَقَفْتُ وَقَفْنَا	
-6	ترجمه کنید. *أَنْتَنَ بَدَأْتَنَ ..... *أَنْتَمَ مَا وَصَلْتُمَ..... *هُنَّ دَفَعْنَ ..... *هُمَ مَانظَرُوا.....	2
-7	کلمات مرتبط در دو ردیف را به هم وصل کنید. العلمُ الجوار السؤالُ كَنْزٌ كلامٌ بَيْنَ شَخْصَيْنِ مِفْتَاحُ الْعِلْمِ النَّظْرُ فِي وَجْهِهِمَا عِبَادَةٌ الْوَالِدَيْنِ	1
-8	در جای خالی ضمیر مناسب بنویسید. .....حَزِنْتُ قَلِيلًا..... .....نَصْرَتَهُ..... .....لَبِسْتُ عِبَاءَةً جَمِيلَةً..... .....وَقَعَ عَلَى الْأَرْضِ.....	1
-9	کلمات مترادف و متضاد را مشخص کنید. ( یک کلمه اضافی است ) ( (أرذل- خَلْفَ- غَالِيَهُ- أَفْضَلَ- وَرَاءَ) ) مترادف:..... = ..... متضاد:.....#.....	.15
-10	با توجه به متن به سواها پاسخ دهید. ( (ذَهَبَ النَّجَّارُ إِلَى السُّوقِ لِشِرَاءِ الْوَسَائِلِ لِصُنْعِ الْبَيْتِ الْخَشَبِيِّ الْجَدِيدِ . هُوَ اشْتَرَى وَسَائِلَ رَخِيصَةً وَغَيْرَ مَنَاسِبِهِ وَبَدَأَ بِالْعَمَلِ لِكِنَّهُ مَا كَانَ مُجِدًّا. ) ) 1- أَيْنَ ذَهَبَ النَّجَّارُ لِشِرَاءِ الْوَسَائِلِ؟..... 2- مَاذَا اشْتَرَى النَّجَّارُ لِصُنْعِ الْبَيْتِ؟.....	1
-11	روخوانی	3
-12	مکالمه موفق باشید.	2

باسمه تعالی

مهر آموزشگاه	مدت امتحان	مدیریت آموزش و پرورش ناحیه یک یزد دبیرستان نمونه دولتی رسولیان دوره اول	سوالات ارزشیابی نوبت: دوم		
	80 دقیقه		درس: علوم تجربی	تعداد صفحه و سوال : 3	صفحه 19 سوال
	تاریخ آزمون		نام	نام خانوادگی	پایه
	97 / 3 / 3				
	جمع نمره:				

ردیف	متن سوال	بارم
1	درستی یا نادرستی عبارت های زیر را با ص یا غ مشخص کنید. الف- خون از طریق سرخرگ ششی، از بطن چپ خارج شده و برای گرفتن اکسیژن به شش ها می رود. ( ) ب- بیشتر آنزیم های روده باریک، در پانکراس ساخته می شود. ( ) ج) آنزیم های تولیدی در پانکراس به معده می ریزد. ( ) د) هویج دارای مقدار بسیار زیاد ویتامین A می باشد. ( ) ه) امروزه از آسیا های بادی در جهت تولید انرژی الکتریکی از انرژی باد به کار گرفته می شود. ( )	25/2
2	جاهای خالی را با کلمات مناسب کامل کنید: الف- برای اندازه گیری قطر نوک مداد از واحد ..... استفاده می شود. (سانتی متر- میلی متر) ب- در رادیو انرژی الکتریکی به انرژی ..... تبدیل می شود. ج- در ساخته شدن غشای سلول، ..... به کار می رود. (چربی- پروتئین) د- نوعی آنزیم بزاقی در تجزیه نشاسته به ..... نقش دارد. ه- ادرار تشکیل شده در نفرون ها به ..... می ریزد و از آنجا از طریق میز نای به ..... وارد و در آنجا ذخیره می شود و) نقش غضروف در نای و نایژه ها ..... است.	75/1
3	در سؤالات زیر گزینه صحیح را مشخص کنید: 1- کدام گزینه می تواند آخرین مرحله ی روش علمی باشد: الف- ارائه نظریه ▲ ب- آزمایش فرضیه ▲ ج- مدل سازی ▲ د- جمع آوری داده ها ▲ 2- چگالی جسمی به جرم 20 گرم و حجم 200 سانتی مترمکعب، چند گرم برسانتی مترمکعب است؟ الف- 10 □ ب - 1/0 □ ج - 20 □ د - 400 □ 3- کدام گزینه در مورد تنفس صحیح است؟ الف- گازهای تنفسی فقط با گلبول های قرمز منتقل می شود ▲ ب- گازهای تنفسی فقط با پلاسما منتقل می شود ▲ ج- گازهای تنفسی با گلبول ها سفید و پلاسما منتقل می شود ▲ د- گازهای تنفسی با گلبول های قرمز و پلاسما منتقل می شود ▲ 4 - برای شناسایی کدام ماده از لوگول استفاده می شود: الف- ویتامین ب- پروتئین ج- نشاسته د- چربی 5 - محل گوارش نهایی غذا ..... است: الف- معده ب- روده بزرگ ج- روده باریک د- کبد 6 - کدام جز منابع انرژی تجدید پذیر است؟ الف- نفت ▲ ب- سوختهستهای ▲ ج- زمینگرمایی ▲ د- بنزین ▲	5/1
4	چرا از فلز آهن خالص نمی توان به عنوان تیرآهن در ساخت اسکلت های ساختمانی استفاده کرد؟	5/0

25/1	الف- برای هر یک از موارد زیر دلیل مناسبی بنویسید: الف- برای ساخت بناهای خشتی، به گل، آهک اضافه می کنند. ب- برای ساختن چدن، به آهن، کربن اضافه می کنند. ج- استخوان های پای بعضی از کودکان نرم می مانند. د- علی هنگام مسواک زدن از لثه هایش خون می آید. ه) آنزیم های معده به بافت معده آسیب نمی زنند.	5
5/0	شکل مقابل، بخشی از مسیر یک رود را نشان می دهد. کدام مطلب زیر در مورد این رود صحیح است: الف- شیب رود کم است. □ ب - سرعت آب رود زیاد است ▲	6
75/0	در شکل پابل اگر جعبه را تا نقطه A بالا ببریم، چند ژول کار انجام داده ایم؟ (با ذکر فرمول) 	7
75/0	با توجه به شکل به سؤالات پاسخ دهید: الف- کدام جمله درست است: <input checked="" type="checkbox"/> □ □ دمای جسم A بیشتر است. □ جنبش ذرات جسم B بیشتر است. ب- اگر این دو جسم را با هم تماس دهیم، جنبش مولکولی آنها چه تغییری می کند؟ A  B 	8
5/0	در یک روز سرد، رضا دمای بخاری را زیاد کرده بود. هوای اتاق بیش از اندازه گرم شده بود. رضا پنجره اتاق را باز کرد تا هوای اتاق خنک شود. به نظر شما کار رضا صحیح بوده است؟ شما چه پیشنهاد بهتری دارید؟	9
5/0	در شکل مقابل، آب درون ظرف را گرم می کنیم. جهت حرکت مایع درون ظرف را مشخص کنید: این روش انتقال گرما چه نام دارد؟	10
5/0	در استان یزد استفاده از کدام منابع تجدید پذیر گزینه مناسبی است ؟ چرا؟	11
5/0	به چه علت در ایران می توان از انرژی های زمین گرمایی استفاده کرد؟	12
5/0	قسمت های مشخص شده روی شکل را بنویسید. 	13

5/0	در جملات زیر، یکی از کلماتی که زیر آن خط کشیده شده است، غلط است. آن را مشخص کنید و صحیح آن را بنویسید: الف- <u>سرخرگ</u> ها خون را به قلب <u>یرمی</u> گردانند. ب- در سمت <u>راست</u> قلب ، خون روشن (اکسیژن دار) جریان دارد.	14	
	از بین کلمات داخل کادر، ویژگی سیاهرگ ها را مشخص کنید و دور آنها خط بکشید. (2 مورد)	15	
5/0	اگر فردی هیچ گونه مواد غذایی جانوری مصرف نکند ممکن است دچار چه مشکلاتی شود؟	16	
75/0	مقابل وظایف نوشته شده اندامک مربوطه را مشخص کنید (یک وظیفه اضافه می باشد): اندامک الف) میتوکوندری ب) هسته 2 ذخیره آب و مواد غذایی پ) دستگاه گلژی 1) بسته بندی و ترشح مواد 3) فرماندهی ساخته 4) تولید انرژی	17	
5/0	تفاوت سلول های گیاهی و جانوری را ذکر کنید.	18	
5/0	عمق سطح ایستابی به چه عواملی بستگی دارد؟	19	

دیواره ضخیم  
کم  
قابل ارتجاع  
دیواره نازک  
قابلیت ارتجاعی

باسمه تعالی

مهر آموزشگاه	مدت امتحان	مدیریت آموزش و پرورش ناحیه یک یزد دبیرستان نمونه دولتی رسولیان دوره اول			سوالات ارزشیابی نوبت: دوم	
	45 دقیقه				درس: قرآن	
	تاریخ آزمون			تعداد صفحه و سوال : صفحه 2 و 7 سوال		
	/ 3 / 10 97	پایه	کد دانش آموزی	نام خانوادگی	نام	
	جمع نمره:					

بار م	متن سوال	ردیف
2	<p>ترجمه کلمات را بنویسید</p> <p>جاء: مُهین: كُنَّا: نَبَأُ</p> <p>لُدُن: سراج: نَعِم: سُبَات:</p>	1
2	<p>گزینه صحیح را انتخاب کنید</p> <p>الف: کدام یک از کلمات قرآنی داده شده به معنای (روی گردان) است؟</p> <p>بشیر 1. حکیم 2. نذیر 4. مُعْرِض 3. □ □</p> <p>ب: ترجمه کلمه (يَعْمَلُونَ)</p> <p>می دانید 2. انجام □ دهید 3. انجام می دهی □ 4. می دانند 1. □ □</p> <p>ج- ترجمه عبارت (أَعْتَدْنَا لَهُمْ عَذَابًا أَلِيمًا)</p> <p>آماده کرد برای شماعذابی دردناک 0 □ 2. آماده کردیم برای شماعذاب دردناک 1. □</p> <p>آماده کردیم برای آنها عذابی دردناک 0 □ 4. آماده کرد برای آنها عذابی دردناک 0 3. □</p> <p>د- معنای عبارت (وَالِيهِ تُرْجَعُونَ)</p> <p>وبه سوی من بازگشتید 0 □ 2. وبه سوی او بازگردانده می شوید 0 1. □</p> <p>وشمابه سوی من بازگشت خواهید کرد 0 □ 4. به سوی من بازگردانده می شوید 0 3. □</p>	2
2	<p>ترکیب هارا کامل و سپس ترجمه کنید 0</p> <p>.....: صادق+ين: .....: .....: الی+ها</p> <p>خالق+ون: .....: .....: ل+هم: .....</p>	3
1	<p>شماره هر آیه را در کنار ترجمه مربوط به آن بنویسید 0</p> <p>رَبِّكَ الْعَفْوَ رُدُّو الرِّحْمَةَ ( ) - پس باید انجام دهد کاری خوب 0-1</p> <p>إِنَّمَا إِلَهُكُمُ إِلَهٌ وَاحِدٌ ( ) - و روزی پروردگارت بهتر و پایدارتر است 0-2</p> <p>فَلْيَعْمَلْ عَمَلًا صَالِحًا ( ) - پروردگارت آمرزنده و صاحب رحمت است 0-3</p>	4

	<p>وَرَزَقُ رَبِّكَ خَيْرًا وَأَبْقَى ( ) - پروردگار شما فقط خدای یکتا است 0-4</p>	
1	<p>معنای کدام یک از گزینه ها نادرست است؟</p> <p>الف- 1- كُنْتُ: هستم <input type="checkbox"/> 2- سَبَّحْتُ: تسبیح <input type="checkbox"/></p> <p>ب- 1- نادى: صدازد <input type="checkbox"/> 2- نَصِيرٌ: یاری کننده <input type="checkbox"/></p> <p>3- مولی: سرپرست <input type="checkbox"/> 4- وَالِدَتِي: پدر و مادر <input type="checkbox"/></p>	5
3	<p>ترجمه عبارات قرآنی را کامل کنید</p> <p>الف. فَاصْبِرْ عَلَى مَا يَقُولُونَ: پس صبر کن.....0</p> <p>ب. وَوَجِدُوا مَا عَمِلُوا حَاضِرًا: .....حاضر 0</p> <p>ج. جَنِّبَاهُ مِنَ النَّعَمِ: .....بناراحتی 0</p> <p>د. فِيهِ شِفَاءٌ لِلنَّاسِ: در آن.....0</p>	6
9	<p>عبارات قرآنی را معنا کنید</p> <p>الف.....فَقَالُوا رَبَّنَا إِنَّا مِن لَّدُنكَ رَحْمَةً (2)0</p> <p>ب.....بِحَمْدِ رَبِّكَ قَبْلَ طُلُوعِ الشَّمْسِ وَقَبْلَ غُرُوبِهَا (2)0</p> <p>ج.....قَالُوا يَا وَيْلَنَا إِنَّا كُنَّا ظَالِمِينَ (2)0</p> <p>د.....الَّذِينَ يُقِيمُونَ الصَّلَاةَ وَيُؤْتُونَ الزَّكَاةَ (5/1)0</p> <p>ه.....إِنَّ رَبِّي لَسَمِيعُ الدُّعَاءِ (5/1)0</p>	7



مهر آموزشگاه	مدت امتحان	مدیریت آموزش و پرورش ناحیه یک یزد دبیرستان نمونه دولتی رسولیان دوره اول			سوالات ارزشیابی نوبت: دوم	
	50 دقیقه				درس: مطالعات اجتماعی	
	تاریخ آزمون			تعداد صفحه و سوال : 2 صفحه 25 سوال		
	97 / 3 / 9	پایه	کد دانش آموزی	نام خانوادگی	نام	
	جمع نمره:					

بار م	متن سوال	ردیف
2	<p>درستی یا نادرستی جملات زیر را مشخص کنید.</p> <p>1) مشهد مقدس مهم‌ترین قطب زیارتی در کشور ما می باشد. ص ^ غ ^</p> <p>2) روده‌ها جزء آب‌های زیرزمینی نمی باشند. ص ^ غ ^</p> <p>3) در سی سال اخیر تعداد مسافرتها در کشور ما افزایش یافته است. ص ^ غ ^</p> <p>4) اولین حکومت قدرتمند در ایران بدست مآدها پایه گذاری شد. ص ^ غ ^</p>	الف
2	<p>به سوالات زیر پاسخ کوتاه دهید.</p> <p>5- مهم‌ترین پیشه و وسیله زندگی و معیشت مردم در ایران باستان چه بود؟</p> <p>6- مهم‌ترین رویداد تاریخی در کشور ما چیست؟</p> <p>7- نخستین امپراطوری جهانی کدام حکومت است؟</p> <p>8- پر جمعیت‌ترین و متراکم‌ترین ناحیه در کشور ما است؟</p>	ب
2	<p>گزینه صحیح را انتخاب کنید.</p> <p>9- کدام یک از ورزش‌های زیر را ایرانیان باستان ابداع کردند؟ الف) تیراندازی ^ ب) پرتاب سنگ ^ ج) فلاخن ^ د) چوگان بازی ^</p> <p>10- کدام یک از عوامل تولید جزء سرمایه محسوب می شود؟ (نوبت اول) الف) معادن ^ ب) جنگل‌ها ^ ج) زمین ^ د) دانش و مهارت ^</p> <p>11- کدام کشورها با رشد منفی جمعیت روبرو هستند؟ الف) فرانسه و انگلیس ^ ب) ایران و عراق ^ ج) عربستان و سوریه ^ د) سوئیس و دانمارک ^</p> <p>12- گردشگری نقش مهمی در افزایش ..... مردم یک منطقه دارد.</p>	ج

	الف) تولید خدمات	ب) درآمد	ج) توزیع	د)
5/1	د	ظروف سنگی و مفرعی چشم مصنوعی معبد چغا زنبیل	تمدن شهر سوخته تمدن ایلام تمدن جیرفت	13- گزینه های مناسب را به یکدیگر وصل کنید.
3	ه	14- خط در دوره هخامنشیان ..... و زیان آن دوره ..... بود. 15- برخی از مورخان معتقدند که ایرانیان باستان از یونان ..... و از هندوستان ..... را وارد کشور می کردند. 16- در ایران باستان ..... و ..... می توانستند شاه را عزل یا برکنار کنند.	جاهای خالی را با کلمات مناسب کامل کنید	
1	17	توزیع چیست؟ (نوبت اول)		
1	18	خاک با توجه به کدام عوامل تشکیل می شود؟ الف) ..... ب) ..... ج) ..... د) .....		
1	19	چرا کوهپایه های البرز و زاگرس دارای جمعیت زیادی هستند؟ الف) ..... ب) .....		
1	20	ایرانیان باستان با توجه به چه چیز خانه های خود را می ساختند؟ الف) ..... ب) .....		
1	21	به طور کلی میراث فرهنگی به چند دسته تقسیم می شود؟ نام برده و برای هر کدام مثالی بیاورید؟		
1	22	نظر ایرانیان باستان در مورد خانواده و ازدواج چه بود؟ توضیح دهید.		
1	23	داریوش برای اداره بهتر کشور چه کرد؟ توضیح دهید.		
1	24	مردم کشور ما در تابستان به کجا سفر می کنند و چرا؟		
5/	25	سه مورد از وظایف هلال احمر را بنویسید (نوبت اول)		

1		الف) ب) ج)
---	--	------------------