

<p>تاریخ امتحان: ۱۴۰۱/۳/۱۶ ..</p> <p>ساعت شروع امتحان: ۱۱</p> <p>مدت زمان امتحان: ۶۰ دقیقه</p> <p>نام دبیر:</p> <p>تعداد صفحات: ۲</p>	 <p>جمهوری اسلامی ایران وزارت آموزش و پرورش</p> <p>مدیریت آموزش و پرورش ناحیه یک یزد دبیرستان نمونه و هوشمند رسولیان</p>	<p>نام: «نام»</p> <p>نام خانوادگی: «نام_خانوادگی»</p> <p>پایه: هفتم «ردیف_و_کد»</p> <p>نام درس: مطالعات اجتماعی</p>
---	--	---

بارم	سوالات	ردیف
۲	<p>در سوالات زیر گزینه مناسب را با ✓ مشخص کنید.</p> <p>۱) کدام پیامبران الهی در منطقه بین النهرین می زیستند؟</p> <p>الف) حضرت نوح- ابراهیم □ ب) حضرت عیسی- موسی □ ج) حضرت ابراهیم- یوسف □ د) حضرت نوح- موسی □</p> <p>۲) کدام یک از پادشاهان زیر بابل و لیدی را به تصرف خود درآوردند و قلمرو ایران را تا دریای مدیترانه گسترش دادند؟</p> <p>الف) کوروش □ ب) داریوش □ ج) اردشیر بابکان □ د) شاپور اول □</p> <p>۳) کدام یک از گزینه های زیر پایتخت حکومت مادها می باشد؟</p> <p>الف) تیسفون □ ب) همدان (هگمتانه) □ ج) صد دروازه □ د) شوش □</p> <p>۴) کدام یک از موارد زیر از وظایف جمعیت هلال احمر نمی باشد؟</p> <p>الف) کمک به آسیب دیدگان □ ب) حفظ محیط زیست □ ج) برقراری نظم و امنیت □ د) جمع آوری کمک های مردمی □</p>	۱
۳	<p>جاهای خالی را با کلمات مناسب کامل کنید.</p> <p>۱) در کشور ما حفاظت از خاک بر عهده سازمان می باشد.</p> <p>۲) مهمترین قطب زیارتی در کشور ایران می باشد.</p> <p>۳) آخرین پادشاه سلسله ساسانی و ایران باستان نام داشت.</p> <p>۴) در دوران ایران باستان از ارزشمندترین و پرسودترین کالای تجاری به شمار می رفت.</p> <p>۵) در دوران اشکانیان و ساسانیان خط رایج بود.</p> <p>۶) حکومت در تاریخ جهان به جنگ آوری مشهور بودند و مهارت زیادی در تیر اندازی و سوارکاری داشتند.</p>	۲
۲	<p>صحیح یا غلط بودن عبارات زیر را با حروف ص و غ مشخص کنید.</p> <p>۱) توزیع فعالیتی است که بین تولید کننده و مصرف کننده ارتباط برقرار می کند.</p> <p>۲) میزان دمای یک ناحیه با نمودار ستونی نمایش داده می شود.</p> <p>۳) اغلب رودهای دائمی و پرآب ایران از کوههای البرز و زاگرس سرچشمه می گیرند.</p> <p>۴) مسجد شیخ لطف الله از بناهای باشکوه مربوط به آستان قدس رضوی مشهد می باشد.</p>	۳
۶	<p>موارد زیر را شرح دهید.</p> <p>دین زرتشت:</p> <p>گردشگر:</p> <p>بیمه:</p> <p>مورخ:</p>	۴

	تراکم جمعیت: نقشه:
۱,۵	۵ رودهای ایران از نظر جهت جریان آب یعنی جایی که به آن می ریزند به چند حوضه تقسیم می شوند؟ نام برده توضیح دهید؟
۱	۶ ویژگی های تمدن را ذکر کنید؟ (۴ مورد)
۱	۷ چگونگی تشکیل حکومت سلوکیان را به صورت کامل شرح دهید؟
۰,۷۵	۸ بنا به گفته هرودوت ایرانیان باستان چه چیزهایی را به فرزند خود می آموختند؟
۲	۹ وضعیت اختلاف طبقاتی در دوره ساسانیان چگونه بود؟ شرح دهید؟
۰,۷۵	۱۰ زرتشت به پیروان خود سفارش می کرد که به یاری اهورا مزدا چه کارهایی (شعاری) را سرمشق زندگی خود قرار دهند؟
	با آرزوی موفقیت برای شما جمع نمرات

نام درس : زبان انگلیسی

بسمه تعالی

نام :

پایه : هفتم

وزارت آموزش و پرورش

نام خانوادگی :

تاریخ امتحان : ۱۴۰۱/۰۳/۱۱

اداره کل آموزش و پرورش استان یزد

طراح : شادان پور

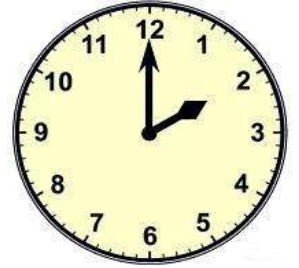
زمان : ۳۰ دقیقه

مدیریت آموزش و پرورش ناحیه یک

نام آموزشگاه : رسولیان

Reading and Writing: () Listening: () speaking: () Total: ()

۱. با توجه به تصاویر عبارات صحیح را با ✓ و عبارات غلط را با × مشخص کنید. (۵ نمره)




1. He is a driver. 2. He is in the bedroom. 3. It's a coconut. 4. It's 12 o'clock.

۲. کلمات کادر زیر را در جای مناسب آن در جملات قرار دهید. (۱ کلمه اضافی است) (۵ نمره)

live , eat , last , garage , hands , orange , fruit

1. A: What do you like to? B: Bread and cheese.
 2. A: Where do you? B: 5 Azadi street.
 3. A: Who is Maryam? B: She is wearing an dress.
 4. A: I'm hungry. B: wash your and come for lunch.
 5. A: Where is Ali? B: He is in the
 6. A: What's yourname? B: Ahmadi.

۳. با توجه به تصویر و حروف داده شده کلمه مربوط به هر جمله را بنویسید. (۲ نمره)



(1)

(2)

(3)

(4)

- 1) A: How old is your brother? B: He is (e,r,h,t,e) years old.
 2) A: What is he doing? B: He is (k,c,o,i,g,o,n).
 3) A: What's your favorite food? B: Rice and (s,f,h,i).
 4) A: What's his job? B: He's a (n,c,c,a,m,e,h,i)

۴. با توجه به تصویر دور گزینه مناسب برای جملات زیر خط بکشید. (۵۰ نمره)



1. Which one is Ali?

He is the boy.

(tall /short)

2. Who is your Math teacher?

He is the Man.

(young/old)

Math



English



۵. در متن زیر دور کلمات مربوط به رنگ خط بکشید. (۴ کلمه) (۱ نمره)

Mr. Danesh is our math teacher. He is 25 years old. He is a tall young man, with black eyes. He is wearing a white shirt and a blue suit. He has a brown bag with him. He teaches us very well. We like him very much.

۶. هر عبارت (A) را به عبارت مربوط به آن در ستون B وصل کنید. (۱ نمره)

A

- What's Ali's home number? ●
- What's your e-mail address? ●
- What time are you going? ●
- When is your birthday? ●

B

- It's 721-9827
- At 7 in the evening.
- h-alavi22@xmail.com
- It's in May.

۷. کلمه ناهماهنگ در هر گروه را مشخص کنید. (۵۰ نمره)

1) aunt , uncle , wife , comb

2) eleven , ten , five , too

۸. با توجه به متن زیر جدول زیر را در مورد امین کامل کنید. (۲۰ نمره)

I am Amin Fallah. I am 12 years old. I am from Isfahan. I live in a house on Laleh Street. I am a student. I go to Razi School. My father is an employee, and my mother is a housewife. I have a sister. Her name is Sara. She is 5 years old. My telephone number is 6543257.

Amin's age	Mother's job	Phone number	Sister's name	Address

Good Luck

Shadanpour

نام درس : زبان انگلیسی (شنیداری)

بسمه تعالی

نام :

پایه : هفتم

وزارت آموزش و پرورش

نام خانوادگی :

تاریخ امتحان : ۱۴۰۱/۰۳/۱۱

اداره کل آموزش و پرورش استان یزد

طراح : شادان پور

زمان : ۱۰ دقیقه

مدیریت آموزش و پرورش ناحیه یک

نام آموزشگاه : رسولیان

۱. به مکالمه ها گوش دهید و گزینه مناسب برای هر قسمت را مشخص کنید. (۳ نمره)

Conversation	First Name	Last Name
1	Mina <input type="checkbox"/> Mahsa <input type="checkbox"/> Kimia <input type="checkbox"/>	Amini <input type="checkbox"/> Ahmadi <input type="checkbox"/> Ehsani <input type="checkbox"/>

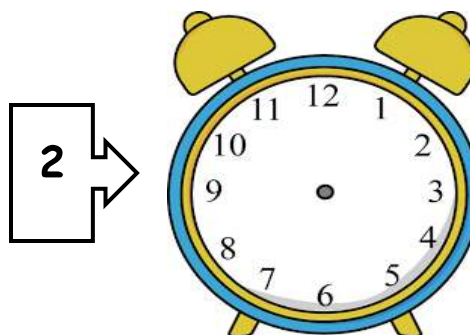

Conversation	Day	Month
2	15 <input type="checkbox"/> 17 <input type="checkbox"/> 19 <input type="checkbox"/>	Tir <input type="checkbox"/> Mehr <input type="checkbox"/> Mordad <input type="checkbox"/>

Conversation	Height	Clothes
3	tall <input type="checkbox"/> short <input type="checkbox"/>	black manteau <input type="checkbox"/> brown manteau <input type="checkbox"/> black coat <input type="checkbox"/>

۲. به فایل صوتی گوش دهید و هر فرد را به مکانی که در آن قرار دارد وصل کنید. (۱ نمره)

a) father ●	● 1) kitchen
b) sister ●	● 2) garage
c) mother ●	● 3) bedroom
d) brother ●	● 4) living room

۳. با توجه به هر یک از مکالمه ها برای ساعت های زیر عقربه بکشید. (۱ نمره)



Good Luck

Shadanpour



شماره سوال	دانش آموز گرامی با توکل به خدا، با دقت سوالات امتحان را مطالعه و پاسخ صحیح آنها را بنویسید.	بارم
۱	کدام گزینه از عوامل تولید نمی باشد؟ الف) آموزش () ب) منابع طبیعی () ج) سرمایه () د) نیروی انسانی ()	۰/۱۵
۲	صحیح یا غلط بودن عبارت زیر را مشخص کنید. الف) از نمودار ستونی برای نشان دادن میزان دمای یک منطقه استفاده می شود.	۰/۱۵
۳	همدلی را تعریف کنید.	۱
۴	منظور از حق چیست؟	۱
۵	کدام رود در حوضه آبریز دریای خزر جریان دارد؟ الف) کارون () ب) زاینده رود () ج) سفید رود () د) جراحی ()	۰/۱۵
۶	در کدام گزینه تراکم جمعیت پایین یا کم است؟ الف) نواحی داخلی () ب) منطقه شهری تهران () ج) ناحیه خوزستان () د) جلگه های کناره ی خزر ()	۰/۱۵
۷	جملات درست و نادرست را مشخص کنید . الف) در ایران ، بخشی از کارون قابل کشتی رانی است . ب) اگر تعداد متولدین از تعداد کسانی که از دنیا می روند بیشتر باشد جمعیت افزایش می یابد .	۰/۱۵
۸	چه عواملی موجب از بین رفتن خاک می شود؟ (دو مورد) ۱- ۲-	۰/۱۵
۹	رشد منفی جمعیت برای کشورها چه مشکلاتی به همراه دارد؟ (دو مورد) ۱- ۲-	۱
۱۰	کدام اقدام در پارک های ملی ممنوع نیست؟ الف) بوته کنی () ب) چرای دام () ج) گردش مسافران () د) شکار ()	۰/۱۵
۱۱	مهمترین قطب زیارتی ایران کجاست؟ الف) شیراز () ب) مشهد () ج) سواحل جنوب ایران () د) سواحل شمال ایران ()	۰/۱۵
۱۲	به کسانی که به سفرهای زیارتی می روند می گویند .	۰/۱۵
۱۳	دو شخصیت علمی و مذهبی کشور که آرامگاهشان در حرم امام رضا (ع) است را نام ببرید . ۱- ۲-	۰/۱۵
۱۴	گردشگری در یک ناحیه چه شغل هایی را ایجاد می کند؟ (۴ مورد) ۱- ۲- ۳- ۴-	۱
۱۵	کدام یک از میراث فرهنگی زیر غیر مادی است؟ الف) کتاب ها () ب) کتیبه ها () ج) دستاوردهای هنری () د) مساجد ()	۰/۱۵

۱۶ تمدن شهر سوخته در استان قرار دارد .

۱۷ مورخ به چه کسی گفته می شود ؟

۱۸ با توجه به ویژگی های تمدن ، چرا ایلام را تمدن به حساب می آوریم ؟ دو مورد بیان کنید

۱-
۲-

سوالات فصل دهم

۱۹ درست یا نادرست بودن جملات زیر را مشخص کنید .

۰/۵ الف) قبایل ماد در شمال و شمال غرب ایران به صورت پراکنده زندگی می کردند . ()

ب) سرزمین ایران به دلیل موقعیت جغرافیایی مهم همواره از شرق و غرب در معرض هجوم دشمنان بود. ()

۰/۵ ۲۰ **گوروش که بود ؟**

۰/۵ ۲۱ **مبدأ تقویم میلادی چیست ؟**

۲۲ برای هر حکومت یک پایتخت مشخص کنید . ۱ نمره

۰/۵ الف) هخامنشیان ب) ساسانیان

۱ ۲۳ سپاه جاویدان ابتکار کدام پادشاه بود ؟ درباره ی آن توضیح دهید .

سوالات فصل یازدهم

۲۴ کتاب از فردوسی بزرگ یکی از منابع ایران باستان است .

۱ ۲۵ حقوق و امتیازات طبقه ی اشراف و بزرگان را با حقوق عامه ی مردم مقایسه کنید . (دو مورد)

۱-
۲-

۱ ۲۶ **واژه های زیر را تعریف کنید.**

الف) جاده ابریشم :

ب) دریک یا زیریک :

سوالات فصل دوازدهم

۲۷ درست یا نادرست بودن جملات زیر را مشخص کنید .

۰/۵ الف) دین رسمی دوره ی ساسانیات زرتشتی بود. () ب) مهمترین و بزرگترین و با شکوه ترین جشن ایران باستان مهرگان بود ()

۲۸ **خط و زبان را در هر دوره مشخص کنید .**

زبان	خط	دوره
پارسی باستان	هخامنشیان
.....	خط پهلوی	ساسانیان

۱ ۲۹ ایرانیان باستان برای سر سفره نشستن چه آدابی را رعایت می کردند ؟ (دو مورد)

۱-
۲-

۱ ۳۰ هر مورد را به گزینه ی مرتبط وصل کنید . (یک مورد اضافی است)

زرتشت

هر مورد را به گزینه ی مرتبط وصل کنید . (یک مورد اضافی است)

نوروز

یک هنر در دوره ی ایران باستان

نقاشی

یک بنای باقی مانده از ایران باستان

پاسارگاد

قدیمی ترین مدرسه پزشکی

جندی شاپور

پیامبر ایران باستان

سوال‌های ارزشیابی نوبت: دوم	مدیریت آموزش و پرورش ناحیه یک یزد		مدت امتحان	مهر آموزشگاه
درس: پیام‌های آسمانی هفتم	دیرستان نمونه دولتی رسولیان دوره اول		۵۰ دقیقه	
نام	نام خانوادگی	کد دانش‌آموزی	پایه	تاریخ: ۱۳۰۱ / ۳ / ۹
«نام»	«نام خانوادگی»	«کد دانش‌آموزی»	«پایه»	جمع نمره:

ردیف	سوال‌ها
الف	<p>گزینه درست را با علامت ✓ مشخص کنید. (۲ نمره)</p> <p>۱- شخصی در یک روز تمام نمازهای واجب یومیه اش را به جماعت خوانده است ارزش این نمازهای او روی هم، به اندازه چند رکعت نماز فرادی است (با توجه به سخن امام رضا)</p> <p>الف) ۱۷۰۰۰ <input type="checkbox"/> ب) ۳۴۰۰۰ <input type="checkbox"/> ج) ۲۰۰۰۰ <input type="checkbox"/> د) ۸۰۰۰۰ <input type="checkbox"/></p> <p>۲- تمام از موارد زیر، از راه های جلب کمک خداوند می باشد به غیر از: (طبق کتاب درسی)</p> <p>الف) صبر و تقوا <input type="checkbox"/> ب) یاری خداوند <input type="checkbox"/></p> <p>ج) دعا <input type="checkbox"/> د) بی دقتی در انجام کارها <input type="checkbox"/></p> <p>۳- علت فشار قبر سعد بن معاذ چه بود؟</p> <p>الف) نماز نمی خواند. <input type="checkbox"/> ب) روزه نمی گرفت. <input type="checkbox"/></p> <p>ج) با خانواده اش بد رفتار بود. <input type="checkbox"/> د) زکات نمی داد. <input type="checkbox"/></p> <p>۴- بدون شک (انسان) را از گناهان و زشتی ها باز می دارد.*</p> <p>الف) صدقه دادن <input type="checkbox"/> ب) نماز <input type="checkbox"/> ج) خمس <input type="checkbox"/> د) نیکی به والدین <input type="checkbox"/></p>
ب	<p>درستی یا نادرستی عبارتهای زیر را مشخص کنید. (۳ نمره)</p> <p>۱- حضرت خدیجه سلام الله علیه سرور زنان اولین و آخرین است <input type="checkbox"/> درست <input type="checkbox"/> نادرست</p> <p>۲- طبق حدیث امام صادق (ع) هر کسی که پیوند خود را با بستگانش محکم کند و با پدر و مادرش بسیار خوش رفتار و مهربان باشد در دنیا نیز هرگز فقیر و تهی دست نمی شود <input type="checkbox"/> درست <input type="checkbox"/> نادرست</p> <p>۳- آب لوله کشی در حکم آب کر می باشد <input type="checkbox"/> درست <input type="checkbox"/> نادرست</p> <p>۴- از دو نفر مجتهد، باید از کسی که داناتر از دیگری است، تقلید کرد <input type="checkbox"/> درست <input type="checkbox"/> نادرست</p> <p>۵- برادر شوهر بر زن برادر محرم است <input type="checkbox"/> درست <input type="checkbox"/> نادرست</p> <p>۶- تنبلی باعث می شود که نتوانیم تصمیم قاطع بگیریم. <input type="checkbox"/> درست <input type="checkbox"/> نادرست</p>
ج	<p>جاهای خالی را با کلمه‌ی مناسب کامل کنید. (۲ نمره)</p> <p>۱- یکی از بهترین حالت‌هایی که در دعا مستجاب می شود است.</p> <p>۲- نه تنها موجب سلامتی جسم و روح ما می شود، بلکه مقدمه و شرط قبولی برخی عبادات نیز هست (رعایت طهارت و دوری از نجاسات- نماز و کمک به هم نوعان)</p> <p>۳- به دستور پیامبر ﷺ هر اسیری که به از مسلمانان خواندن و نوشتن بیاموزد آزاد می شود. (۱۰ - ۱۰۰)</p> <p>۴- عاقبت راستگویی است (پشیمانی - نجات)</p>
د	<p>به سوالات پاسخ کامل دهید. (۱۳ نمره)</p> <p>۱- فرق واجباتی که جزء ارکان نماز هستند با دیگر واجبات نماز در چیست؟ (۱ نمره)</p> <p>۲- زمین، به چند شرط می تواند نجاست را پاک کند (۳ مورد آن)؟ (۱/۵ نمره)</p>

۳- اصطلاحات زیر را تعریف کنید. (۲ نمره)

الف) فقیه یا مجتهد :

ب) آب قلیل :

ج) عزت نفس :

د) اولویت بندی در کارها

۴- دو راه مقابله با تنبلی را بنویسید. (۱ نمره)

۵- آیهی «قَدْ أَفْلَحَ الْمُؤْمِنُونَ الَّذِينَ ... هُمْ لِأَمَانَتِهِمْ وَعَهْدِهِمْ رَاعُونَ» به کدام یک از ویژگی‌های مومنان اشاره دارد؟ (۵/ نمره)

۶- چهار مورد از ویژگی‌های اخلاقی حضرت فاطمه را بنویسید. (۱ نمره)

۷- چرا خداوند تکالیفی را بر ما واجب کرده است؟ (۱ نمره)


۸- از نماز ظهر عاشورای امام حسین علیه السلام و یارانش چه می‌آموزیم؟ (۷۵/)


۹- دو ویژگی که اگر در کسی نبود نباید او را به دوستی انتخاب کنیم و باید از آن کس دوری کنیم کدام است؟ (با توجه به فرمایش امام صادق علیه السلام در این باره) (۱ نمره)



۱۰- با توجه به آیات قرآن، مهمترین فایده‌ی حجاب برای زن چیست؟ (۷۵/ نمره)


۱۱- سه نمونه از فداکاری‌های حضرت علی (علیه السلام) را بنویسید (۱/۵ نمره)

۱۲- بیشترین پیشرفت‌های علمی مسلمانان در چه زمانی روی داده است؟ با یک مثال آن را توضیح دهید. (۱ نمره)

۱/۵	<p>الف) جمله n ام الگوی روبرو را بنویسید.</p> <p>۲ و ۵ و ۸ و ...</p> <p>ب) مقدار عددی عبارت جبری زیر را به ازای مقادیر داده شده به دست آورید.</p> $3a^2b - 2ab$ <p>$a = 2$ و $b = -3$</p> <p>ج) معادله زیر را حل کنید.</p> $3x + 6 = 5x - 8$	۵
۱	<p>با توجه به شکل مقابل جاهای خالی را پر کنید.</p> $\overline{AB} + \overline{BD} - \dots = \overline{CD}$ $\overline{AE} = \dots \overline{CE}$ 	۶
۱	<p>ب م م و ک م م دو عدد ۶۰ و ۱۵۰ را به روش تجزیه به دست آورید.</p>	۷
۱	<p>مستطیلی به ابعاد ۶ و ۴ سانتی متر را حول طولش دوران می دهیم حجم شکل حاصل را به دست آورید.</p> <p>(عدد پی را ۳ در نظر بگیرید)</p>	۸
۱	<p>جعبه ای به شکل مکعب مستطیل به ابعاد ۲۰ و ۳۰ و ۴۰ داریم می خواهیم این جعبه را با کاغذ کادو بپوشانیم حداقل چند سانتی متر مربع کاغذ کادو لازم داریم؟</p>	۹
۱/۵	<p>الف) حاصل عبارت زیر را به ترتیب اولویت های ریاضی به دست آورید.</p> $\frac{-40 \times (2^3 - 5^1)}{(-2)^2 - 3^4 \div 9^2} =$ <p>ب) حاصل عبارت زیر را بصورت توان دار بنویسید.</p> $(-3)^4 \times 2^5 \times 12^5 \times (-8)^4 =$	۱۰

۱	<p>۱۱ جذر تقریبی عدد ۷۸ را به دست آورید (با راه حل کامل)</p> <table border="1" data-bbox="159 134 829 257"> <tr> <td>عدد</td> <td></td> <td></td> <td></td> <td></td> <td></td> </tr> <tr> <td>مجذور</td> <td></td> <td></td> <td></td> <td></td> <td></td> </tr> </table>	عدد						مجذور						۱۱
عدد														
مجذور														
۱	<p>۱۲ اگر $A = \begin{bmatrix} -۲ \\ ۵ \end{bmatrix}$ و $B = \begin{bmatrix} ۴ \\ -۶ \end{bmatrix}$ باشد مختصات بردار AB را به دست آورید.</p>	۱۲												
۲	<p>۱۳ الف) نقطه ی $A = \begin{bmatrix} -۲ \\ ۲ \end{bmatrix}$ را در صفحه مختصات مشخص کنید.</p> <p>ب) مختصات نقطه B را بنویسید.</p> <p>ج) بردار AB را رسم کنید و مختصات آن را بنویسید.</p> <p>د) جمع متناظر بردار AB را بنویسید.</p> <p>ه) نقطه E را با بردار AB انتقال دهید و آن را H بنامید.</p> 	۱۳												
۱/۵	<p>۱۴ جدول زیر تعداد شرکت کنندگان یک مدرسه در مسابقات علمی را نشان می دهد.</p> <table border="1" data-bbox="159 1254 1452 1388"> <tr> <td>پایه</td> <td>هفتم</td> <td>هشتم</td> <td>نهم</td> </tr> <tr> <td>تعداد</td> <td>۱۵</td> <td>۹</td> <td>۱۲</td> </tr> </table> <p>الف) برای اطلاعات داده شده یک نمودار میله ای رسم کنید.</p> <p>ب) میانگین تعداد شرکت کنندگان این مدرسه از این سه پایه را به دست آورید.</p> 	پایه	هفتم	هشتم	نهم	تعداد	۱۵	۹	۱۲	۱۴				
پایه	هفتم	هشتم	نهم											
تعداد	۱۵	۹	۱۲											
۱	<p>۱۵ در کیسه ای ۶ مهره قرمز ۴ مهره آبی و ۳ مهره سفید قرار دارد.</p> <p>الف) احتمال آن که مهره قرمز بیرون بیاید چقدر است؟</p> <p>ب) احتمال آن که مهره آبی بیرون نیاید چقدر است؟</p> <p>موفق باشید</p> 	۱۵												

سؤالات امتحان درس عربی نوبت دوم پایه هفتم		محل مهر مدرسه		نمره به عدد	نمره به حروف	امضا و تاریخ
				مدت امتحان ۶۰ دقیقه		
۱	نام هر تصویر را از میان واژگان داخل پرانتز انتخاب کرده و زیر تصویر مورد نظر بنویسید [دو کلمه اضافه است].	[طالبات - طلاب - فُنْدُق - صُنْدُق]		(.....)	(.....)	۵/۰
						
۲	معنای کلمات مشخص شده را در جاهای خالی بنویسید.	الف) لِمَنْ تِلْكَ السَّيَّارَةُ؟ (.....)		ب) هَلْ عِنْدَكَ تَأْشِيرَةٌ؟ (.....)		۵/۰
۳	در هر ردیف کلمه ناهماهنگ را به لحاظ معنا مشخص کنید.	الف) عُرْفَةٌ <input type="checkbox"/>	ب) بَابٌ <input type="checkbox"/>	ج) أَصْفَرٌ <input type="checkbox"/>	د) نَافِذَةٌ <input type="checkbox"/>	۵/۰
		الف) بُسْتَانٌ <input type="checkbox"/>	ب) نَجَارٌ <input type="checkbox"/>	ج) حَدِيقَةٌ <input type="checkbox"/>	د) أَشْجَارٌ <input type="checkbox"/>	
۴	متضاد کلمات داده شده را از میان واژگان داخل پرانتز انتخاب کرده و در جای خود بنویسید [دو کلمه اضافه است].	[جاهل - فَوْقَ - أَفْضَلِ - أُخْت]		الف) عَالِمٌ (.....)	ب) أَرَادِلٌ (.....)	۵/۰
۵	جملات زیر را به فارسی روان ترجمه کنید؛	الف) مَنْ رَبُّ السَّمَاوَاتِ وَالْأَرْضِ؟		ب) نَحْنُ مَا عَبَرْنَا الْحُدُودَ:	ج) ذَلِكَ الطَّرِيقُ أَقْرَبُ	۴
		د) قَطَعْتَ شَبَكَةَ الصِّيَّادِينَ بِسُرْعَةٍ؛				
۶	ترجمه درست را انتخاب کنید.	الف) الرَّبِيعُ حَيَاةَ الْجَدِيدَةِ. <input type="checkbox"/>	ب) هُوَا فِي رَاسِ مَعْتَدَلٍ. <input type="checkbox"/>	ج) بَهَارُ زَنْدِغِي تَاَزَهْ اسْت. <input type="checkbox"/>	د) مَن اَهْلِ اِيرانِ اَز شَهْرِ يَزْدِ هَسْتَم. <input type="checkbox"/>	۵/۰
		الف) أَنَا مِنْ اِيرانِ مِنْ مَدِينَةِ يَزْدِ. <input type="checkbox"/>	ب) مَن اَهْلِ اِيرانِ اَز شَهْرِ يَزْدِ هَسْتَم. <input type="checkbox"/>	ج) مَن اَهْلِ اِيرانِ اَز روستای يَزْدِ هَسْتَم. <input type="checkbox"/>	د) مَن اَهْلِ اِيرانِ اَز روستای يَزْدِ هَسْتَم. <input type="checkbox"/>	
۷	ترجمه ناقص را در جملات زیر کامل کنید.	الف) «بَعْدَ شَهْرَيْنِ ذَهَبَ عِنْدَ صَاحِبِ الْمَصْنَعِ»	ب) بعد از نزد صاحب کارخانه رفت.			۵/۰


	ب	«الشَّجَرُ أَخْضَرُ وَ الْبَحْرُ أَرْقُ»	درخت، است و دریا آبی است.
۸	۵/	در جملات زیر، نوع اسم مشخص شده را به لحاظ مفرد، مثنی و یا جمع بنویسید. (ب) هَذَانِ الصَّفَانِ كَبِيرَانِ. (.....) (ج) لَبِسْنَا مَلَابِسَ مُنَاسِبَةً. (.....)	
۹	۵/ ۱	ترجمه فعل‌های ماضی را در جملات زیر به شکل دقیق بنویسید. (الف) قَدَّفُوا شَبَكَةً كَبِيرَةً. (.....) (ب) مَا صَنَعْتُمَا بَيْتًا؟ (.....) (ج) غَسَلْتُ وَجْهِي. (.....)	
۱۰	۵/ ۰	برای جاهای خالی اسم اشاره مناسب را انتخاب کرده و بنویسید [یک کلمه اضافه است]. [هَذِهِ - هَاتَانِ - هَذَانِ - ذَلِكَ] (الف) سُوْقُ النَّجْفِ. طالبان.	(ب)
۱۱	۵/ ۰	در هر جمله، زیر ضمیر خط بکشید و متصل یا منفصل بودن آن را بنویسید. (الف) مَا اسْمُكَ؟ (.....) (ب) هَلْ أَنْتُمْ فَائِزُونَ؟ (.....)	
۱۲	۱	با توجه به فعل داده شده ترجمه جملات زیر را کامل کنید. (الف) سَمِعَ: شنید [أَنْتُمْ سَمِعْتُمْ: شما]. دو ماهی]	هَرَبَ: فرار کرد [السَّمَكَتَانِ هَرَبْتَا:
۱۳	۵/ ۱	فعل ماضی مناسب را برای جملات زیر انتخاب کنید. (الف) أَنَا وَ عَلِيٌّ الْمَاءِ. (ب) اللَّاعِبُ عَلَى الْأَرْضِ. (ج) يَا زَيْنَبُ وَ يَا فَاطِمَةُ وَ يَا كَوْتَرُ لِمَاذَا كَثِيرًا؟ <input type="checkbox"/> شَرِبْنَا <input type="checkbox"/> شَرِبْنَا <input type="checkbox"/> وَقَعْنَا <input type="checkbox"/> وَقَعْنَا <input type="checkbox"/> فَرِحْتُمْ <input type="checkbox"/> فَرِحْتُمْ	
۱۴	۱	به جملات زیر پاسخ کوتاه دهید. (الف) كَمْ عَدَدُ الْمُسَافِرِينَ؟ (ب) مَنْ هُوَ مُدِيرُ الْمَدْرَسَةِ؟	
۱۵	۵/ ۰	کلمات ستون سمت چپ را به جملات مربوطه در سمت راست وصل کنید. (۱) آفَةُ الْعِلْمِ (۲) يَدُ اللَّهِ مَعَ <input type="checkbox"/> (الف) الْجَمَاعَةِ <input type="checkbox"/> <input type="checkbox"/> (ب) النَّسِيَانِ <input type="checkbox"/>	

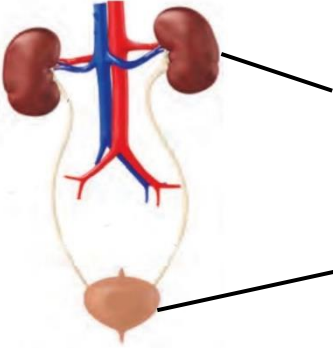
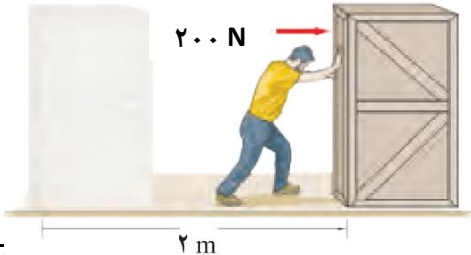
	□ (ج) اليوم	
۱۶	در هر ردیف کلمه مناسب را برای جاهای خالی انتخاب کنید. الف) «ذَهَبَ الصَّيَّادُ بِـ ... إِلَى الْبَحْرِ.» □ (۱) الْجَبَلِ □ (۲) السَّفِينَةِ □ (۳) الشَّجَرَةِ □ (۴) الْمَكْتَبَةِ ب) «الْيَوْمُ الْخَمِيسُ وَعَدَائِيَوْمٌ ... فِي الْأَسْبُوعِ.» □ (۱) السَّبْتِ □ (۲) الْإِثْنَيْنِ □ (۳) الثَّلَاثَاءِ □ (۴) الْجُمُعَةِ	/۵
۱۷	با توجه به متن داده شده به سوالات زیر پاسخ دهید. كَانَ نَجَّارٌ وَ صَاحِبُ مَصْنَعِ صَدِيقَيْنِ. فِي يَوْمٍ مِّنَ الْأَيَّامِ قَالَ النَّجَّارُ لَصَاحِبِ الْمَصْنَعِ: «أَنَا بِحَاجَةٍ إِلَى التَّقَاعِدِ.» أَجَابَ صَاحِبُ الْمَصْنَعِ: «وَلَكِنَّكَ مَاهِرٌ فِي عَمَلِكَ وَ نَحْنُ بِحَاجَةٍ إِلَيْكَ يَا صَدِيقِي.» «النَّجَّارُ مَاقِبِلَ. الف- ما قال النَّجَّارُ لصَاحِبِ الْمَصْنَعِ؟ ب- هل كان نَجَّارٌ وَ صَاحِبُ مَصْنَعِ صَدِيقَيْنِ؟ نَعَمْ؛ □ لا؛ □	/۵
۱۸	نمره روان خوانی:	۴
۱۹	نمره مکالمه:	۱
	جمع نمرات با حروف نام دبیر تاریخ و امضاء	

نام و نام خانوادگی:	بسمه تعالی	تاریخ: ۱۴۰۱/۳/۷	مهر آموزشگاه
نام پدر:	مدیریت آموزش و پرورش ناحیه یک یزد	زمان پیشنهادی: ۶۰ دقیقه	
شماره کلاس:	واحد سنجش و ارزشیابی	تعداد سوال: ۲۱ در ۳ صفحه	
دبیر:	آزمون نوبت دوم علوم تجربی پایه هفتم	ساعت شروع: ۱۱ صبح	
	متوسطه دوره اول.....	سوالات سری الف	

تصحیح نمره آزمون: نمره آزمایشگاه: نمره کل: به حروف: تاریخ و امضا:

ردیف	شرح سوالات	بارم
۱	<p>جاهای خالی را با کلمه درست از کلمات داده شده کامل کنید. (هر مورد ۰,۲۵ نمره)</p> <p>الف) وزن جسم توسط اندازه گیری می شود. (ترازو-نیروسنج)</p> <p>ب) به شکل خالصی از ماده که فقط از یک نوع اتم ساخته شده می گویند. (عنصر-ترکیب)</p> <p>ج) حفره های بالایی قلب نام دارد. (بطن - دهلیز)</p> <p>د) پسران و مردان نسبت به دختران و زنان کمی به انرژی نیاز دارند. (بیشتر-کمتر)</p> <p>ه) غشا یاخته عمدتاً از ساخته شده است. (چربی-قند)</p> <p>و) ها از مولکول هایی به نام آمینو اسید ساخته شده اند. (پروتئین - ویتامین)</p>	۱,۵
۲	<p>صحیح یا غلط بودن عبارت های زیر را با نوشتن (ص) و (غ) در داخل پرانتز مشخص کنید. (هر مورد ۰,۲۵ نمره)</p> <p>الف) فاصله بین ذرات یک ماده در حالت مایع نسبت به حالت گاز بیشتر است. (.....)</p> <p>ب) فولاد، آلیاژی است که از ترکیب دو فلز مس و نیکل به دست می آید. (.....)</p> <p>ج) هرچه اندازه ذرات خاک بزرگ تر باشد، میزان نفوذپذیری آب به داخل آن بیشتر می شود. (.....)</p> <p>د) غشا یاخته نفوذپذیری انتخابی دارد. (.....)</p>	۱
۳	<p>در هر مورد گزینه صحیح را مشخص کنید: (هر مورد ۰,۲۵ نمره)</p> <p>الف) به مقدار ماده تشکیل دهنده یک جسم می گویند.</p> <p>وزن <input type="checkbox"/> جرم <input type="checkbox"/> حجم <input type="checkbox"/> چگالی <input type="checkbox"/></p> <p>ب) در گردش خون ششی، خون از طریق به شش ها فرستاده می شود؟</p> <p>سرخرگ آنورت <input type="checkbox"/> سیاهرگ ششی <input type="checkbox"/> بزرگ سیاهرگ زیرین <input type="checkbox"/> سرخرگ ششی <input type="checkbox"/></p> <p>ج) بهترین راه مطالعه درستی یا نادرستی یک پیش بینی چیست؟</p> <p>سوال از افراد <input type="checkbox"/> مشاهده و جمع آوری اطلاعات <input type="checkbox"/> مطالعه بیشتر <input type="checkbox"/> طراحی و انجام دادن آزمایش <input type="checkbox"/></p> <p>د) از توربین های بادی برای تولید انرژی از انرژی باد استفاده می شود؟</p> <p>الکتریکی-شیمیایی <input type="checkbox"/> الکتریکی - جنبشی <input type="checkbox"/> گرمایی- جنبشی <input type="checkbox"/> جنبشی-پتانسیل <input type="checkbox"/></p> <p>ه) دماسنج براساس انبساط (افزایش حجم) مایعات کار می کند.</p> <p>نواری <input type="checkbox"/> الکلی <input type="checkbox"/> دیجیتالی <input type="checkbox"/> هیچ کدام <input type="checkbox"/></p> <p>و) محل گوارش نهایی غذا است.</p> <p>دهان <input type="checkbox"/> معده <input type="checkbox"/> کبد <input type="checkbox"/> باریک روده <input type="checkbox"/></p>	۱,۵

ردیف	شرح سوالات	بارم
۴	هر یک از موارد ستون الف را به مورد مناسب خودش در ستون ب متصل کنید. (هرمورد ۰,۲۵ - نمره)	۱
	<p>ستون الف</p> <p>○ سلامت پوست و لثه</p> <p>○ پیشگیری از کم خونی و ریزش مو</p> <p>○ سلامت چشم و بینایی</p> <p>○ تنظیم فعالیت یاخته ها و رشد بدن</p> <p>ستون ب</p> <p>● ویتامین آ (A)</p> <p>● ید</p> <p>● ویتامین ث (C)</p> <p>● ویتامین های ب (B)</p>	
۵	با استفاده از کلمات داده شده در کادر ، عبارت های زیر را کامل کنید. (۳ کلمه داخل کادر اضافی است) (هرمورد ۰,۲۵ - نمره)	۰,۲۵
	<p>دریاچه سبلان - جزر - آبخوان تحت فشار - دریاچه خزر - مد - آبخوان آزاد</p> <p>الف) به بالا آمدن آب دریا و حرکت آن به سمت ساحل..... می گویند.</p> <p>ب)..... از باقیمانده دریای قدیمی به نام تتیس به وجود آمده است.</p> <p>ج) از قرار گرفتن یک لایه نفوذ پذیر بین دو لایه نفوذناپذیر..... به وجود می آید.</p>	
۶	شکل زیر کدام یکی از ویژگی فلز ها را نشان می دهد؟	۰,۲۵
		
۷	هرمورد به کدام روش محافظت از منابع طبیعی (کاهش مصرف - بازیافت - مصرف دوباره) اشاره می کند. (هرمورد ۰,۲۵ - نمره)	۰,۵
	<p>الف) وسایل فلزی خراب را جمع آوری کرده و پس از ذوب کردن به حالت شمش در می آورند.....</p> <p>ب) ظرف شیشه ای رب گوجه را می شویند و از آن برای نگهداری نخود و لوبیا استفاده می کنند.....</p>	
۸	منظور از قانون پایستگی انرژی چیست؟	۰,۵
۹	منظور از زیست گاز چیست؟	۰,۵
۱۰	الف) انرژی خورشید، منبع انرژی « تجدیدپذیر » محسوب می شود یا « تجدیدناپذیر »؟ ب) اگر به جای استفاده از « سوخت های فسیلی » از « انرژی باد » و « انرژی موج دریا » استفاده کنیم چه فوایدی دارد؟ (دو مورد)	۰,۲۵
۱۱	در طول روز جهت حرکت باد از دریا به طرف ساحل است یا برعکس؟ چرا؟	۰,۲۵
۱۲	در هر مورد مشخص کنید انتقال گرما از کدام طریق (رسانش - همرفت - تابش) صورت گرفته است. (هرمورد ۰,۲۵ - نمره)	۰,۲۵
	<p>الف) قسمت هایی از یک مایع وقتی جابجا می شوند گرما را نیز به همراه خود جابجا می کنند.....</p> <p>ب) اگر دست خود را با فاصله زیر اتوی داغ بگیریم حرارت اتو را حس می کنیم.....</p> <p>ج) اگر یک طرف میله آهنی را روی شعله بگیریم، طرف دیگر میله نیز گرم می شود.....</p>	

ردیف	شرح سوالات	بارم						
۱۳	سوالات با پاسخ کوتاه: (هر مورد ۰.۲۵ نمره) الف) اگر هر گرم کربوهیدرات ۳۰ کیلوژول انرژی داشته باشد، هر گرم چربی تقریباً چقدر انرژی دارد؟ ب) هنگام صحبت کردن، «دم» انجام می‌دهیم یا «بازدم»؟ ج) در هوای سالم و بدون آلودگی حدود چند درصد اکسیژن وجود دارد؟	۰.۷۵						
۱۴	دو وظیفه خون را بنویسید؟	۰.۵						
۱۵	دو تفاوت «یاخته گیاهی» و «یاخته جانوری» را بنویسید؟	۰.۵						
۱۶	خوردن شیرینی چگونه موجب پوسیدگی دندان می‌شود؟	۰.۵						
۱۷	کدام اندامک مانند یک موتورخانه، وظیفه تامین انرژی یاخته را برعهده دارد؟	۰.۵						
۱۸	آنزیم‌های ساخته شده توسط لوزالمعده (پانکراس) به کجا ریخته می‌شوند؟	۰.۵						
۱۹	جدول زیر را کامل کنید؟ (هر مورد ۰.۲۵ نمره)	۰.۵						
<table border="1"> <thead> <tr> <th>وظیفه</th> <th>نوع یاخته خونی</th> </tr> </thead> <tbody> <tr> <td>دفاع از بدن در برابر عوامل بیگانه مثل میکروب‌ها</td> <td>.....</td> </tr> <tr> <td>.....</td> <td>گرده (پلاکت)</td> </tr> </tbody> </table>			وظیفه	نوع یاخته خونی	دفاع از بدن در برابر عوامل بیگانه مثل میکروب‌ها	گرده (پلاکت)
وظیفه	نوع یاخته خونی							
دفاع از بدن در برابر عوامل بیگانه مثل میکروب‌ها							
.....	گرده (پلاکت)							
۲۰	قسمت‌های مشخص شده در شکل را نامگذاری کنید. (هر مورد ۰.۲۵ نمره)	۰.۵						
 <p>۱.</p> <p>۲.</p>								
۲۱	مسئله: (توجه: نوشتن راه حل، فرمول و واحد الزامی است) شخصی با وارد کردن نیروی افقی ۲۰۰ نیوتن جعبه‌ای را به اندازه ۲ متر جابجا می‌کند، کاری که شخص بر روی جعبه انجام داده است چقدر است؟	۱						
								
پرتلاش و پیروز باشید.		۱۵						
جمع بام								

و) پاسخ دهید. (۱/۵ نمره)

۱- ترجمه را تعریف کنید؟

۲- داستان های رمزی و نمادین چیست؟

۳- انواع ضمیر را فقط نام ببرید؟

ی) نویسنده ی کتاب های زیر را بنویسید؟ (۱ نمره)

تنفس صبح (.....)

گلستان (.....)

ک) واژه های زیر همگی غیر ساده هستند نوع آنها را از نظر ساختار مشخص کنید؟ (۱ نمره)

گلدان (.....)

کتاب ها (.....)

کتاب فروشی (.....)

بزرگ تر (.....)

گ) ماضی یا مضارع بودن فعل های زیر را مشخص کنید؟ (۱ نمره)


می گویند (.....)

گفتیم (.....)

می روی (.....)


خریدم (.....)

موفق و پایدار باشید

مهر آموزشگاه	وقت	مدیریت آموزش و پرورش ناحیه یک یزد		سوالات ارزشیابی نوبت: دوم	
	۵۰ دقیقه	دبیرستان نمونه دولتی رسولیان دوره اول		درس: قرآن پایه هفتم	
	تاریخ آزمون	تعداد صفحه و سوال: یک صفحه ۸ سؤال			
	۹۸ / ۳ / ۲۰	پایه	کردانش آموزی	نام خانوادگی	نام
	جمع نمره:	هفتم	«ردیف_۷۰۳»	«نام_خانوادگی»	«نام»

۷۵ /	<p>۱ صحیح یا غلط بودن هر یک از عبارتهای زیر را مشخص کنید.</p> <p>کلمه « احسن » به معنی « بهترین، بهتر » می باشد</p> <p>کلمه « آلیم » به معنی « دانا » می باشد.</p> <p>« اِنْ قَالَ لِابْنِهِ » به معنای « هنگامی که می گویند برای پدرانشان » می باشد.</p>								
۱	<p>۲ معنی کلمات قرآنی داده شده را در کادر داده شده پیدا کرده و در مقابل آنها بنویسید.</p> <p>یافتند - فقط - غار - گمان کرد</p> <p>* وَجَدُوا () * كهف () * اِنَّمَا، اِنَّمَا () * ظَنَ ()</p>								
۷۵ /	<p>۳ کلمه ی قرآنی ستون الف را ، به معنی آن ، در ستون ب وصل نمایید یا شماره کلمات را در کنار آنها بنویسید.</p> <table border="1"> <thead> <tr> <th>الف</th> <th>ب</th> </tr> </thead> <tbody> <tr> <td>۱) مهین</td> <td>() خوار کننده</td> </tr> <tr> <td>۲) مهد</td> <td>() فرمانروا</td> </tr> <tr> <td>۳) ملک</td> <td>() محل آرامش و آسایش</td> </tr> </tbody> </table>	الف	ب	۱) مهین	() خوار کننده	۲) مهد	() فرمانروا	۳) ملک	() محل آرامش و آسایش
الف	ب								
۱) مهین	() خوار کننده								
۲) مهد	() فرمانروا								
۳) ملک	() محل آرامش و آسایش								
۱	<p>۴ گزینه صحیح را انتخاب کنید.</p> <p>* معنای تمام کلمات ، صحیح نوشته شده است ؛ به غیر از :</p> <p>الف) (الف) ألوان = رنگ ها () ب) أعناب = درختان انگور () ج) كان = هستیم () د) سمیع = شنوا ()</p> <p>* معنای « وَلَا يَظْلِمُ رَبُّكَ أَحَدًا » در کدام گزینه آمده است؟</p> <p>(ب) پروردگارت به تو ظلم نمی کند () ج) و پروردگار تو ظلم به کسی نمی کند () د) هیچ کدام ()</p> <p>* أجرًا كبيرًا: به معنای چیست ؟</p> <p>الف) هدیه بزرگی () ب) پاداش بزرگی () ج) مزد زیادی () د) پاداش وسیعی ()</p> <p>* فَإِذَا قَرَأْتَ الْقُرْآنَ فَاسْتَعِذْ بِاللَّهِ مِنَ الشَّيْطَانِ الرَّجِيمِ : موضوع این آیه در باره چیست؟</p> <p>الف) سکوت در هنگام قرآن خواندن () ب) گوش دادن به قرآن () ج) پناه بردن به خدا هنگام شروع قرآن () د) تمام موارد ()</p>								
۱/۵	<p>۵ ترکیبات قرآنی زیر را معنا کنید.</p> <p>* أَقِيمُوا الصَّلَاةَ: ()</p> <p>* أَفَلَا تَعْقِلُونَ: پس ()</p> <p>* فاعبده: پس ()</p>								
۱	<p>۶ با توجه به عبارات قرآنی ، یا معانی آنها ، کلمه جا افتاده کدام است؟ (از بین کلمات داخل کمانگ)</p> <p>* وَ كَذَلِكَ نُنْجِي: و این چنین نجات می دهیم افراد با ایمان را (الْمُؤْمِنِينَ - الْمُسْلِمِينَ)</p> <p>* ذَلِكَ مِنْ فَضْلِ اللَّهِ وَ عَلَى النَّاسِ : این از لطف و رحمت خداوند بر ما و بر مردم است. (عَلَيْهِمْ - عَلَيْنَا)</p> <p>* فِي ضَلَالٍ مُّبِينٍ: « در » (گمراهی آشکار - تاریکی های بیان شده)</p> <p>* وَلَا نُضِيعُ أَجْرَ الْمُحْسِنِينَ « و از بین نمی بریم پاداش را » (مؤمنین - نیکوکاران)</p>								
۳	<p>۷ معنای آیات زیر را کامل کنید.</p> <p>* وَالنَّجْوَمُ مُسَخَّرَاتٌ بِأَمْرِ: و رام شده به هستند ۷۵</p> <p>* لَهُمْ مَغْفِرَةٌ وَ رِزْقٌ كَرِيمٌ: برای آنها..... و ارزشمندی است ۵</p> <p>* وَاعْتَصِمُوا بِاللَّهِ هُوَ مَوْلَاكُمْ: و تمسک بجوید به خدا. او..... ۱۵</p> <p>* فَاصْبِرْ عَلَىٰ مَا يَقُولُونَ: پس بر آن چه ۱۵</p> <p>* أَلَا إِنَّ وَعْدَ اللَّهِ حَقٌّ: آگاه باشید که است ۷۵</p>								
۱	<p>۸ جدول را کامل کنید.</p> <table border="1"> <tr> <td>مفرد</td> <td>معنا</td> <td>جمع</td> <td>معنا</td> </tr> </table>	مفرد	معنا	جمع	معنا				
مفرد	معنا	جمع	معنا						

	مۇمىنات	زن مۇمىن	
	بىدىگان	عبد	

مهر آموزشگاه	وقت ۶۰ دقیقه	مدیریت آموزش و پرورش ناحیه یک یزد			ارزشیابی نوبت دوم : املا فارسی هفتم
	تاریخ آزمون ۰۳ / ۰۳ / ۱۴۰۱	دبیرستان نمونه دولتی رسولیان (دوره اول)			تعداد صفحه و سوال : ۱ صفحه سنوال
	جمع نمره از ۲۰:	هشتم	«ردیف_و_کد»	«نام_خانوادگی»	«نام»

متن تقریری املاي هفتم

من وقتی دیدم همه ی آدم‌های خوب را دارم توی قلبم جا می‌دهم، سعی کردم این عموی پدرم را هم ببرم توی قلبم و یک گوشه بهش جا بدم، اما جا نگرفت، دلم هم سوخت، اما چه کار کنم؟ جا نگرفت دیگر. حتماً تقصیر خودش است.

استاد حسابی خود حافظ قرآن بود و فرزندانش را از کودکی به یادگیری و انجام واجبات دینی تشویق می‌کرد حتی آنان را به تلاوت آیات به شیوه ی صحیح و درک کامل معانی وامی‌داشت.

دونا معلم مدرسه ی کوچکی بود و دو سال تا بازنشستگی فرصت داشت. من هم به‌عنوان بازرس در کلاس‌ها شرکت می‌کردم و سعی داشتم در امر آموزش تسهیلاتی را فراهم آورم.

می‌گویند وقت طلاست. ولی بدون تردید وقت از طلا گران‌بهاتر است، زیرا با صرف وقت می‌توان طلا به دست آورد ولی دقایق تلف‌شده را با طلا نمی‌توان خرید.

حجره ای ساده و کوچ نصیب او شد. حجره ای که فضای آن بیش از شش متر مربع نبود و گلیم کهنه و ساده ای کف آن را پوشانده بود و برای محمد تقی از همه ی دنیا بزرگ تر بود.

نام درس : زبان انگلیسی

بسمه تعالی

نام :

پایه : هفتم

وزارت آموزش و پرورش

نام خانوادگی :

تاریخ امتحان : ۱۴۰۱/۰۳/۱۱

اداره کل آموزش و پرورش استان یزد

طراح : شادان پور

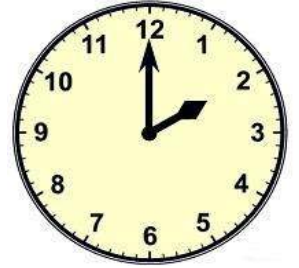
زمان : ۳۰ دقیقه

مدیریت آموزش و پرورش ناحیه یک

نام آموزشگاه : رسولیان

Reading and Writing: () Listening: () speaking: () Total: ()

۱. با توجه به تصاویر عبارات صحیح را با ✓ و عبارات غلط را با × مشخص کنید. (۵ نمره)




1. He is a driver. 2. He is in the bedroom. 3. It's a coconut. 4. It's 12 o'clock.

۲. کلمات کادر زیر را در جای مناسب آن در جملات قرار دهید. (۵ کلمه اضافی است) (۵ نمره)

live , eat , last , garage , hands , orange , fruit

1. A: What do you like to? B: Bread and cheese.
 2. A: Where do you? B: 5 Azadi street.
 3. A: Who is Maryam? B: She is wearing an dress.
 4. A: I'm hungry. B: wash your and come for lunch.
 5. A: Where is Ali? B: He is in the
 6. A: What's yourname? B: Ahmadi.

۳. با توجه به تصویر و حروف داده شده کلمه مربوط به هر جمله را بنویسید. (۲ نمره)



(1)

(2)

(3)

(4)

- 1) A: How old is your brother? B: He is (e,r,h,t,e) years old.
 2) A: What is he doing? B: He is (k,c,o,i,g,o,n).
 3) A: What's your favorite food? B: Rice and (s,f,h,i).
 4) A: What's his job? B: He's a (n,c,c,a,m,e,h,i)

۴. با توجه به تصویر دور گزینه مناسب برای جملات زیر خط بکشید. (۵۰ نمره)



1. Which one is Ali?

He is the boy.

(tall /short)

2. Who is your Math teacher?

He is the Man.

(young/old)

Math



English



۵. در متن زیر دور کلمات مربوط به رنگ خط بکشید. (۴ کلمه) (۱ نمره)

Mr. Danesh is our math teacher. He is 25 years old. He is a tall young man, with black eyes. He is wearing a white shirt and a blue suit. He has a brown bag with him. He teaches us very well. We like him very much.

۶. هر عبارت (A) را به عبارت مربوط به آن در ستون B وصل کنید. (۱ نمره)

A

- What's Ali's home number? ●
- What's your e-mail address? ●
- What time are you going? ●
- When is your birthday? ●

B

- It's 721-9827 ●
- At 7 in the evening. ●
- h-alavi22@xmail.com ●
- It's in May. ●

۷. کلمه ناهماهنگ در هر گروه را مشخص کنید. (۵۰ نمره)

1) aunt , uncle , wife , comb

2) eleven , ten , five , too

۸. با توجه به متن زیر جدول زیر را در مورد امین کامل کنید. (۲۰ نمره)

I am Amin Fallah. I am 12 years old. I am from Isfahan. I live in a house on Laleh Street. I am a student. I go to Razi School. My father is an employee, and my mother is a housewife. I have a sister. Her name is Sara. She is 5 years old. My telephone number is 6543257.

Amin's age	Mother's job	Phone number	Sister's name	Address

Good Luck

Shadanpour

نام درس : زبان انگلیسی (شنیداری)

بسمه تعالی

نام :

پایه : هفتم

وزارت آموزش و پرورش

نام خانوادگی :

تاریخ امتحان : ۱۴۰۱/۰۳/۱۱

اداره کل آموزش و پرورش استان یزد

طراح : شادان پور

زمان : ۱۰ دقیقه

مدیریت آموزش و پرورش ناحیه یک

نام آموزشگاه : رسولیان

۱. به مکالمه ها گوش دهید و گزینه مناسب برای هر قسمت را مشخص کنید. (۳ نمره)

Conversation	First Name	Last Name
1	Mina <input type="checkbox"/> Mahsa <input type="checkbox"/> Kimia <input type="checkbox"/>	Amini <input type="checkbox"/> Ahmadi <input type="checkbox"/> Ehsani <input type="checkbox"/>

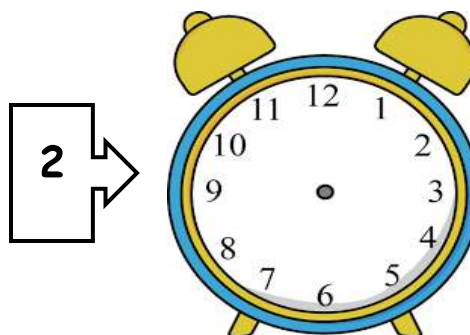

Conversation	Day	Month
2	15 <input type="checkbox"/> 17 <input type="checkbox"/> 19 <input type="checkbox"/>	Tir <input type="checkbox"/> Mehr <input type="checkbox"/> Mordad <input type="checkbox"/>

Conversation	Height	Clothes
3	tall <input type="checkbox"/> short <input type="checkbox"/>	black manteau <input type="checkbox"/> brown manteau <input type="checkbox"/> black coat <input type="checkbox"/>

۲. به فایل صوتی گوش دهید و هر فرد را به مکانی که در آن قرار دارد وصل کنید. (۱ نمره)

a) father ●	● 1) kitchen
b) sister ●	● 2) garage
c) mother ●	● 3) bedroom
d) brother ●	● 4) living room

۳. با توجه به هر یک از مکالمه ها برای ساعت های زیر عقربه بکشید. (۱ نمره)



Good Luck

Shadanpour

1

A: Hi, are you Mina Ahmadi?

B: No, I'm Kimia Ahmadi. Mina is my sister in grade 3.

2

A: I bring a big cake to class on my birthday.

B: When is that?

A: Mehr 19

B: Good idea!

3

A: Which one is Mrs. Amini?

B: She is the tall one in a black manteau.

4

My sister, Sara, is in the kitchen. She is cooking something to eat. My mother is in the living room. She is watching TV. My little brother, Hamed, is in the bedroom. He is reading a story book and my father is in the garage. He is fixing his car.

5

1. I go to school at 7:45 every morning.
2. What time are they leaving? They are leaving at 9 p.m.