



به نام خدا

الهی، دلی ده که در کار تو جان بازیم؛ جانی ده که کار آن جهان سازیم، دانایی ده که از راه نیفتیم، بینایی ده تا در چاه نیفتیم.

نسیم، مانند مادری مهربان و آداب دان، سرهای نهال های جوان و بوته های نوزاد خویش را به نشانه احترام و وداع با من خم کرده بود و من بار دیگر با تکان دادن دست هایم به احساسات خاموش اما سرشار از پاکی و صفای این طبیعت و سبزه های معصوم، پاسخ می گفتم و به خالق آن ها می اندیشیدم.

تا می توانیم بیاموزیم. این همه کتاب خوب و مطالب آموختنی ما را به سوی خود می خوانند. کتاب پر راز و رمز آفرینش و شگفتی های طبیعت، سرشار از درس ها و اندرزهاست.

دوره نوجوانی، دوران شور و شوق و شکوفایی است. در این دوره، رابطه و رفتار ما با خود، خانواده و دوستان، شخصیت ما را شکل می دهد. دوستی خوب است که گفتار و رفتارش پسندیده باشد. در دلش ایمان و مهربانی موج بزند و از چهره و نگاهش امیدواری و نشاط بجوشد. دوست خوب کیمیاست.

عمر حقیقی را، شناسنامه ما تعیین نمی کند. زیستن و زندگی زیبا، تنها همان فرصت هایی است که در جست و جوی دانش و یا کار مفید و سازنده بگذرد. با این قرار، هیچ کس بیش از ده سال زندگی نمی کند؛ زیرا قسمت اعظم عمر به غفلت سپری می شود.

تاریخ امتحان : ۱۳۹۸/۱۰/۱۲

وقت امتحان : ۶۰ دقیقه

امضاء - - - - -
نمره به مزهف



مدیریت آموزش و پرورش نامیه یک یزد

دبیرستان پسرانه نمونه دولتی (سولیان) (دوره اول)

نام درس : انشای فارسی هفتم

نام و نام خانوادگی و شماره ردیف - کلاس : «نام» «نام_خانوادگی» «کد»

شماره ردیف - - - - - شماره کلاس
نمره به عدد

از سه موضوع زیر یکی را انتخاب کنید و درباره آن انشایی بنویسید. (در حدود ۱۲ سطر)


الف) اگر من بودم،

ب) درد دل های یک جفت کفش. (به شیوه جان بخشی)

ج) یک ضرب المثل نوشته و سپس برای آن داستانی بسازید.

موضوع انتخابی :

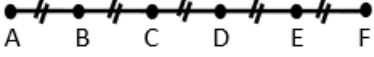
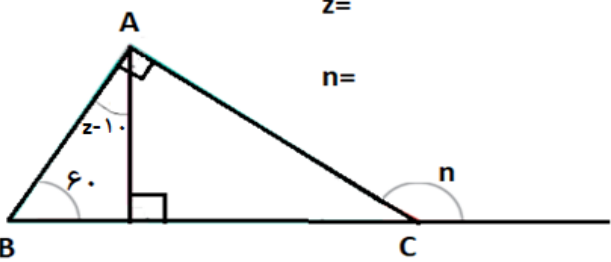
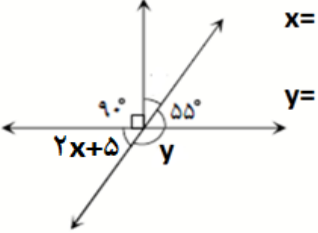
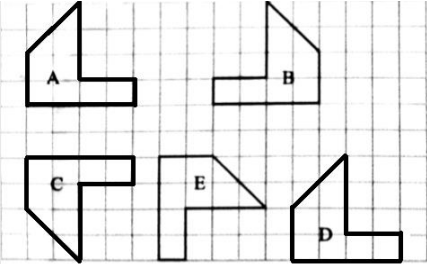
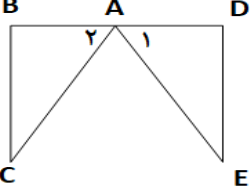



مهر آموزشگاه	مدت امتحان	مدیریت آموزش و پرورش ناحیه یک یزد			سوالات ارزشیابی نوبت: اول	
	۹۰ دقیقه	دبیرستان نمونه دولتی رسولیان دوره اول			درس: ریاضی هفتم	
	تاریخ آزمون				تعداد صفحه و سوال: ۱۵ سوال در ۳ صفحه	
	۹۸ / ۱۰ / ۱۱	پایه	کدرانش آموزی	نام قانوارگی	نام	
	جمع نمره:	هفتم				

هرگز کوری را به خاطر آرامش تحمل نکن

بارم	شرح سوالات	ردیف
۱	<p>درستی یا نادرستی هر عبارت را مشخص کنید.</p> <p>(الف) قرینه عبارت (۱-۲) - مساوی ۱- است.</p> <p>(ب) در دوران ۹۰ درجه لازم نیست جهت دوران را مشخص کنیم.</p> <p>(ج) حاصل تقسیم هر عدد بر قرینه اش برابر صفر است.</p> <p>(د) ۵ واحد بیشتر از ۳ برابر عددی به صورت $5x+3$ نوشته می شود.</p>	۱
۲	<p>جاهای خالی را کامل کنید .</p> <p>(الف) اگر جمله nام الگوی $\frac{2n+2}{3}$ باشد. اختلاف جمله دوم و چهارم است.</p> <p>(ب) دو زاویه متقابل به راس متمم یکدیگرند اندازه هر کدام درجه است.</p> <p>(ج) حاصل عبارت $\frac{2}{3} \times \frac{3}{4} \times \frac{4}{5} \times \dots \times \frac{99}{100}$ عدد کسری است.</p> <p>(د) بزرگترین عدد صحیح منفی سه رقمی است.</p>	۲
۲	<p>گزینه صحیح را انتخاب کنید.</p> <p>۱- بر روی یک خط راست ۱۰ نقطه قرار می دهیم چند پاره خط به وجود می آید؟</p> <p>(الف) ۱۰ (ب) ۲۰ (ج) ۴۵ (د) ۹۰</p> <p>۲) حاصل عبارت $\frac{(-3+2+1) \times (4+5-12)}{3}$ برابر با کدام گزینه است؟</p> <p>(الف) صفر (ب) -۱ (ج) ۱ (د) -۴</p> <p>۳) اگر $AB < MN$ و $MN = CD$ باشد کدام رابطه صحیح است؟</p> <p>(الف) $CD < AB$ (ب) $CD > AB$ (ج) $MN < CD$ (د) $MN > CD$</p> <p>۴) محیط یک مربع به ضلع $3b+2$ برابر کدام گزینه است؟</p> <p>(الف) $3b+8$ (ب) $(3b+2)(3b+2)$ (ج) $12b+8$ (د) $12b+2$</p>	۳
۱/۵	<p>حاصلضرب دو عدد صحیح ۱۸ است.</p> <p>(الف) تمام حالت‌های ممکن را بنویسید .</p> <p>(ب) در کدام حالت حاصل جمع کمترین مقدار است؟</p>	۴

۱	<p>دمای هوای تبریز ۱۲ درجه زیر صفر و یزد ۱۶ درجه گرمتر از تبریز است. الف) دمای هوای یزد چند درجه است؟</p> <p>ب) دمای تبریز از میانگین دمای دو شهر چقدر سرد تر است؟</p>	۵
۱/۵	<p>حاصل عبارتهای زیر را به دست آورید.</p> $[-۸ - (-۱۶)] \div (-۲ \times ۲) =$ $[۵ \times (۲ - (-۲)) \div ۱۰] - ۲ =$	۶
۱/۵	<p>عبارت های جبری زیر را ساده کنید.</p> $۵a + ۳b - (۳a - ۲b - ۱) =$ $۳(x - ۲y - ۲) - ۶(x - y + ۱) =$	۷
۱/۵	<p>الف) معادله زیر را حل کنید.</p> $۲(۲x + ۱) = ۳(۲x - ۸)$ <p>ب) علی برای خرید ۶ خودکار ۵۰۰۰ تومان به فروشنده داد و ۲۰۰ تومان پس گرفت. قیمت هر خودکار را بیابید. (معادله تشکیل دهید و حل کنید)</p>	۸
۱	<p>مقدار عددی عبارت مقابل را به ازای مقادیر داده شده به دست آورید.</p> $(x - ۲y) - ۲(۲x - y) =$ $x = ۵, y = -۳۰$	۹
۱	<p>دو زاویه متمم اند اگر یکی از آنها از سه برابر دیگری ۱۰ درجه کمتر باشد اندازه هر زاویه را بیابید. (روش حل نوشته شود).</p>	۱۰

۱	<p>یک باغچه مستطیل شکل به طول ۸ و عرض ۴ متر است. اگر به فاصله دو متر دور تا دور آن را نرده کشیم به چند متر نرده نیاز داریم؟</p>	۱۱
۱	<p>با توجه به شکل زیر در جاهای خالی عدد یا عبارت مناسب قرار دهید.</p>  <p> $(\overline{AE} - \overline{AC}) + \dots = \overline{BE}$ $\overline{BE} - \dots = \overline{BC}$ $\overline{AF} - (\overline{BC} + \overline{CF}) = \dots$ $\overline{AD} = \dots \overline{CE}$ </p>	۱۲
۱/۵	<p>مقادیر x, y, n, z را بیابید.</p>  	۱۳
۱	<p>با توجه به شکل مقابل در هر قسمت نام تبدیل مناسب را بنویسید. (در صورتی که تبدیلی دوران بود اندازه زاویه آن را مشخص کنید.)</p>  <p> A → D A → B A → E E → D </p>	۱۴
۱/۵	<p>دو مثلث مقابل هم نهشت هستند.</p>  <p>الف) هم نهشتی دو مثلث را به زبان ریاضی بنویسید.</p> <p>ب) تساوی اجزای متناظر داده شده را کامل کنید.</p> <p> $\hat{C} = \dots$ $\widehat{A_1} = \dots$ $\overline{AB} = \dots$ $\overline{AC} = \dots$ </p>	۱۵

مهر آموزشگاه	مدت امتحان	مدیریت آموزش و پرورش ناحیه یک یزد			سوالات ارزشیابی نوبت: اول
	۶۰ دقیقه	دبیرستان نمونه دولتی رسولیان دوره اول			درس: زبان انگلیسی هفتم
	تاریخ آزمون				تعداد صفحه و سوال: ۲ صفحه ۷ سوال
	۹۸ / ۱۰ / ۰۹	پایه	کدرانش آموزی	نام خانوادگی	نام
	جمع نمره:	هفتم	«کد»	«نام خانوادگی»	«نام»

۱- با توجه به تصاویر دیکته آن را بنویسید. (۱)

(d)



(c)

۲- در هر گروه کلمه ناهماهنگ را مشخص کنید. (۲)

1) pen - book - pencil - door

2) red - yellow - blue - color

3) two - three - four - fine

4) worker - teacher - mother - farmer

۳- جملات ستون اول را با ستون دوم جور کنید. فقط حرف مربوط به آن را داخل پرانتز بنویسید. (۱)

1) Nice to meet you. ()

a) She's my grandmother.

2) Can I help you? ()

b) A-L-A-V-I.

3) Who is that woman? ()

c) Sure.

4) How do you spell your last name? ()

d) Nice to meet you, too.

۴- مکالمه زیر را با استفاده از عبارات و جملات در کادر کامل کنید. (یک جمله اضافی است) (۱)

Zahra) Hello, Mina. Who is that woman?

Mina).....

Zahra) How old is she?

Mina).....

Zahra) When is her birthday?

Mina).....

Zahra) What's her job?

Mina).....

- a) It's in July.
b) About forty
c) She's an employee
d) I am a florist.
e) She is my aunt.

1) Your mother's brother is your

- a)uncle b)aunt c)grandmother d)grandfather

2) A) Who is that ? B) He is Mr Amini.

- a)woman b)girl c)boy d)lesson

3) What is "مهندس" in English?

- a)employee b)dentist c) baker d)engineer

4) How are you, Ali?

- a) I'm great. b) I'm ten. c) I'm Amir. d) I'm a student.

۶- با کلمات در هم ریخته زیر جمله بسازید. (۲)

1) last name - Mr - is - Ahmadi - my .

2) job - father's - what - is - your ?

۷- متن زیر را بخوانید و مقابل جمله صحیح حرف (T) و مقابل جمله غلط (F) بگذارید. (۲)

Good morning. My name is Matin. My father is a pilot. He is 45 years old. My mother is a housewife. She's 39 . My friend, Amin is a worker.

1) Matin's mother is a teacher. ()

2) His mother is forty five. ()

3) His father is a pilot. ()

4) Matin's friend is a worker. ()

Good luck

مهر آموزشگاه	نام و نام خانوادگی : نام پدر : شماره داوطلب :	مدیریت آموزش و پرورش ناحیه یک یزد واحد سنجش و ارزشیابی تحصیلی امتحان علوم پایه هفتم دوره اول متوسطه
	تعداد صفحه : ۴	تاریخ امتحان: ۱۴/ ۱۰/ ۱۳۹۸ زمان : ۷۰ دقیقه
نمره آزمون :		نمره آزمایشگاه :
نام دبیر: امضا و تاریخ:		نمره نهایی به عدد و حروف:

بارم	ردیف	به راستی که دانش روشن کننده ی دیدگان و نیرو بخش بدن های ناتوان است . حضرت علی (ع)
۱/۲۵	A	<p>گزینه صحیح را مشخص کنید.</p> <p>۱ - مهمترین نکته در علم است.</p> <p>الف) مشاهده دقیق <input type="checkbox"/></p> <p>ب) طراحی آزمایش <input type="checkbox"/></p> <p>ج) نتیجه گیری و تفسیر اطلاعات <input type="checkbox"/></p> <p>د) پرسیدن سوال و یافتن جواب <input type="checkbox"/></p> <p>۲ - مقدار ماده تشکیل دهنده ی هر جسم را می گویند.</p> <p>الف) وزن <input type="checkbox"/></p> <p>ب) جرم <input type="checkbox"/></p> <p>ج) چگالی <input type="checkbox"/></p> <p>د) حجم <input type="checkbox"/></p> <p>۳ - کدام گزینه با بقیه متفاوت است ؟</p> <p>الف) مولکول کلر <input type="checkbox"/></p> <p>ب) مولکول کربن دی اکسید <input type="checkbox"/></p> <p>ج) مولکول اکسیژن <input type="checkbox"/></p> <p>د) مولکول گوگرد <input type="checkbox"/></p> <p>۴ - چهار میله کاملاً هم اندازه داریم همه را از دمای ۲۵ درجه سانتی گراد به +۴ درجه سانتی گراد می رسانیم با توجه به جنس میله ها کدام یک طول بیشتری خواهد داشت؟</p> <p>الف) میله آهنی <input type="checkbox"/></p> <p>ب) میله مسی <input type="checkbox"/></p> <p>ج) میله آلومینیومی <input type="checkbox"/></p> <p>د) میله شیشه ای <input type="checkbox"/></p> <p>۵ - زهرا از برگه های سفید دفاتر سال قبل خود دفتر جدید درست کرد، این کدام یک از راههای حفاظت از منابع طبیعی را نشان میدهد ؟</p> <p>الف) باز یافت <input type="checkbox"/></p> <p>ب) کاهش مصرف <input type="checkbox"/></p> <p>ج) مصرف دوباره <input type="checkbox"/></p> <p>د) همه موارد <input type="checkbox"/></p>
۱/۲۵	B	<p>جاهای خالی را با کلمات مناسب داخل پرانتز پر کنید.</p> <p>۱ - وزن یک جسم را به وسیله (نیرو سنج - ترازو) اندازه گیری می کنند .</p> <p>۲ - شکل خالصی از ماده که از یک نوع اتم ساخته شده را (ترکیب- عنصر) می گویند.</p> <p>۳ - یک (مایع - گاز) را می توان به دلیل بیشتر بودن فاصله ی ذره های آن به آسانی و به مقدار زیاد متراکم کرد</p> <p>۴ - بزرگ ترین ذخیره ی آبهای شیرین پس از یخچال ها را (رود خانه ها - آب های زیر زمینی) تشکیل می دهند.</p> <p>۵ - از ویژگی آبهای زیرزمینی (آلودگی میکروبی کمتر - املاح معدنی کمتر) است .</p>

۰/۷۵	<p>C جمله صحیح را با (ص) و جمله غلط را با (غ) مشخص کنید زیر کلمه غلط خط کشیده و صحیح آن را بنویسید.</p> <p>الف) وقتی به آب گرما دهیم انرژی مولکولهای آب کاهش می یابد و جنبش آنها افزایش یافته در نتیجه آب به بخار تبدیل می شود ()</p> <p>ب) با مشاهده ی غیرمستقیم می توان اتم ها را بررسی و خواص آنها را کشف کرد. ()</p>
۱	<p>D هر یک از عبارات های سمت راست مربوط به یکی از اصطلاحات سمت چپ است. شماره مربوط به آن را در داخل پرانتز بنویسید. (یک کلمه اضافه است)</p> <p>الف) در اثر وارد کردن نیرو ماده خم یا کشیده شده و پس از حذف نیرو به حالت اول بر میگردد. ()</p> <p>ب) در لوازم دندانپزشکی و قاب عینک استفاده می شود. ()</p> <p>ج) با استفاده از یک ماده سخت می توان روی ماده دیگر خراش ایجاد کرد. ()</p> <p>د) مخلوط آهک و خاک رس ()</p> <div style="border: 1px solid black; padding: 5px; width: fit-content;"> <p>۱ - بتن</p> <p>۲ - سختی</p> <p>۳ - سیمان</p> <p>۴ - انعطاف پذیری</p> <p>۵ - مواد هوشمند</p> </div>
۰/۵ ۰/۵	<p>E علت هریک از موارد زیر را بنویسید.</p> <p>الف) آبشار (تند آب)</p> <p>ب) جزر و مد</p>
۰/۵ ۰/۵	<p>F در هر مورد یک تفاوت بنویسید.</p> <p>الف) تفاوت چشمه با قنات</p> <p>ب) تفاوت عمق سطح ایستابی در استان یزد با استان گیلان</p>
۰/۵ ۰/۲۵	<p>G اتم ها دارای ذره هایی هستند که بعضی در داخل هسته قرار دارند :</p> <p>الف) نام ذره های داخل هسته اتم ها را بنویسید.</p> <p>ب) ذره های سازنده نوافلزات اتم هستند یا مولکول ؟</p>
۰/۵	<p>H نمودار زیر درباره عنصر آهن است که در معادن به صورت ترکیب های آهن یافت می شود، آن را کامل کنید.</p> <p>فلز آهن + → گرما + اکسیدهای آهن</p>

مهر آموزشگاه	مدیریت آموزش و پرورش ناحیه یک یزد	نام و نام خانوادگی :
	واحد سنجش و ارزشیابی تحصیلی	نام پدر :
	امتحان علوم پایه هفتم دوره اول متوسطه	شماره داوطلب :
	تاریخ امتحان: ۱۴/ ۱۰/ ۱۳۹۸	تعداد صفحه : ۴
	زمان : ۷۰ دقیقه	

۰/۵	درباره فلزات به سوالات زیر پاسخ دهید. الف) دو ویژگی فلزات را بنویسید.	I
۰/۵	ب) چرا فلزی مانند آلومینیم در صنعت هواپیما سازی کاربرد دارد؟ (۲ مورد)	
۰/۲۵	کربن نافلزی سیاه رنگ و نرم است که آن برای تولید مغز مداد استفاده می شود. الف) چگونه می توان سختی کربن را افزایش داد؟	J
۰/۷۵	ب) فولاد زنگ نزن از چه عنصر هایی ساخته شده است؟	
۰/۲۵	برای تهیه ظروف سفالی به گل کوزه گری شکل می دهند و به آن لعاب داده سپس در کوره می پزند. الف) ماده اولیه گل کوزه گری چه نوع خاکی است؟	K
۰/۵	ب) برای تولید ظروف سفالی رنگی از اکسید چه فلزاتی استفاده می کنند؟ (۲ مورد)	
۰/۲۵	بخشی از آب کره که در سطح خشکی قرار دارد و به دریای آزاد راه ندارد را دریاچه میگویند، شما بنویسید: الف) بزرگ ترین دریاچه جهان چه نام دارد؟	L
۰/۲۵	ب) چرا به آن دریا می گویند؟	
۰/۲۵	دریاچه های مصنوعی براساس نوع و کاربرد متفاوت اند. الف) نام دریاچه ای که از ذخیره آب در پشت سد ها ایجاد شده را بنویسید.	M
۰/۵	ب) ۲ مورد از کاربرد های دریاچه مصنوعی که در منطقه چیتگر تهران است را بنویسید.	


۰/۷۵	<div style="border: 1px solid black; padding: 2px; text-align: center;">رس</div> <div style="border: 1px solid black; padding: 2px; text-align: center;">منطقه اشباع</div> <div style="border: 1px solid black; padding: 2px; text-align: center;">رس</div>	<p>شکل مقابل روش تشکیل یک آبخوان را نشان می دهد، توضیح دهید : این نوع سفره ی آب زیر زمینی (آبخوان) چگونه و در چه مناطقی تشکیل می شود؟</p>	N
.۰/۵	<p>حدس میزنید اگر یک مکعب چوبی و یک مکعب فلزی توپر را که شبیه یکدیگرند روی آب قرار دهید : کدام یک روی آب شناور می ماند چرا؟</p>		O
.۰/۵	<p>یک جسم به حجم 100 cm^3 و به جرم 400 g داریم: الف) چگالی این جسم چقدر است؟ (نوشتن فرمول الزامی است)</p>		P
.۰/۲۵	<p>ب) اگر جسم جامد شکل هندسی معینی نداشته باشد، از چه وسیله ای برای اندازه گیری حجم آن استفاده می کنیم؟</p>		
.۰/۵	<p>درباره مفاهیم زیر توضیح دهید. الف) فناوری:</p>		R
.۰/۵	<p>ب) آلیاژ:</p>		
.۰/۵	<p>ج) چرخه آب:</p>		







موفق و پیروز باشید

مهر آموزشگاه	مدت امتحان	مدیریت آموزش و پرورش ناحیه یک یزد			سوالات ارزشیابی نوبت: اول	
	۶۰ دقیقه	دبیرستان نمونه دولتی رسولیان دوره اول			درس: زبان عربی هفتم	
	تاریخ آزمون				تعداد صفحه و سوال: ۲ صفحه ۷ سؤال	
	۹۸ / ۱۰ / ۲۱	پایه	کدرانش آموزی	نام خانوادگی	نام	
	جمع نمره:	هفتم	«کد»	«نام خانوادگی»	«نام»	

نام و نام خانوادگی:	اداره کل آموزش و پرورش استان یزد	تاریخ امتحان: ۹۸/۱۰/۱۶
پایه تحصیلی: هفتم	مدیریت آموزش و پرورش ناحیه یک	وقت: ۶۰ دقیقه
کلاس:	آزمون عربی	تعداد سوالات: ۱۸
نام آموزشگاه:	نوبت اول سال تحصیلی ۱۳۹۸-۱۳۹۹	تعداد صفحات: ۲

نمرد:	نمرد:	نمرد:	نمرد:
-------------	-------------	-------------	-------------



ردیف	فرصت‌ها چون ابر می‌گذرد از فرصت‌های نیک به خوبی استفاده کنید. (بهج البلاغه)	بارم
۱	اسم مرتبط با هر تصویر را از داخل عبارات زیر انتخاب کنید و در کنار آن بنویسید.   الْعَالِمُ بِالْعَمَلِ، كَالشَّجَرِ بِالثَّمَرِ. عَدَدُ الْمَسَافِرِينَ فِي الْفُنْدُقِ كَثِيرٌ.	۱۵
۲	فقط کلمات مشخص شده را ترجمه کنید. ۱- طَلَبُ الْعِلْمِ فَرِيضَةٌ ۲- حِوَارٌ بَيْنَ وَكَدَيْنِ	۱۵
۳	عبارات زیر را ترجمه کنید. ۱- هُنَا قَرِيبٌ مِنَ الْمَدْرَسَةِ. (۰/۵) ۲- يَدُ اللَّهِ مَعَ الْجَمَاعَةِ. (۰/۵) ۳- فِي كُتُبِ الْقِصَصِ، عِبْرٌ لِلْأَطْفَالِ. (۱) ۴- خَيْرُ الْأُمُورِ، أَوْسَطُهَا. (۰/۷۵) ۵- رَبُّ كَلَامٍ كَالْحُسَامِ. (۰/۵) ۶- سَكُوتُ اللِّسَانِ سَلَامَةٌ الْإِنْسَانِ. (۱) ۷- هَلْ هَذِهِ شَجَرَةُ الرَّمَّانِ؟ (۰/۷۵) ۸- آفَةُ الْعِلْمِ النِّسْيَانُ. (۰/۵)	۵/۵
۴	ترجمه ناقص را کامل کنید. ۱- ماهذا؟ هذا مفتاح البيت. ۲- الجوال فوق المنضدة. این؟ این خانه است. موبایل میز است.	۱۷۵
۵	متضاد کلمات داده شده را از میان کلمات داخل کمانک پیدا کنید و در مقابل آن بنویسید. (دو کلمه اضافی است) (واقف ، حُسن ، جَمَاعَةٌ ، رَخِيصَةٌ) جالسه ≠ غالية ≠	۱۵
۶	کلمه پرسشی مناسب را پیدا کنید و در جای خالی بنویسید. ۱ شَجَرَةٌ فِي هَذِهِ الْحَدِيقَةِ؟ عَشْرَةٌ. (كَمْ ، مَا ، مَنْ ، أَيْنَ) ۲ هَذَا الْكِتَابُ؟ لِمُدِيرَةٍ. (مَا ، مَنْ ، أَيْنَ ، لِمَنْ) ۳ هَذِهِ مَدِينَةٌ؟ نَعَمْ. (هَلْ ، مَاذَا ، كَمْ ، مَا)	۱۷۵
۷	از میان کلمات داده شده کلمه ی مناسب را انتخاب کنید و در جای خالی بنویسید. ۱- ما الْمُشْكِلَةُ؟ (هِيَ ، هُو ، أَنْتَ) ۲- لَاعِبَاتٌ، فَائِزَاتٌ (هَذَانِ ، هُوَ ، هَذِهِ) ۳- الْمِرَاتَانِ، مَسْرُورَتَانِ (هَذَانِ ، هَذِهِ ، هَاتَانِ) ۴- عَبَّاسٌ وَ هَاشِمٌ وَ مِيثَمٌ (مَسْرُورُونَ ، مَسْرُورَانِ)	۱







۱۷۵	۸	گزینه مناسب را انتخاب کنید و در جای خالی بنویسید. ۱- حُسْنُ الْعَهْدِ عَلَامَةُ الْإِيمَانِ (مَنْ ، مِنْ) ۲- الْخَيْرُ كَثِيرٌ وَ فَاعِلُهُ (قَلِيلٌ، بَعِيدٌ) ۳- مَنْ تَلَكَ الْبَيْتَ؟ (هِيَ أُخْتُ سَيْنَا، هُوَ أَخُو ثَرِيَا)
۱۵	۹	کدام یک از کلمات داده شده مناسب تصویر زیر است آن را با علامت (x) مشخص کنید. ۱- الف) طالبان ب: ولدان ۲- الف) الدَّوْرَانِ إِلَى الْيَسَارِ مَمْنُوعٌ ب: الدَّوْرَانِ إِلَى الْيَمِينِ مَمْنُوعٌ  
۱۵	۱۰	در هر ردیف کلمه ی ناهماهنگ را با علامت (x) مشخص کنید. الف) اَنَا ب) هِيَ ج) أَنْتَ د) هَذِهِ ه) كَاتِبٌ و) طَيِّبٌ ز) خَشَبِيَّةٌ ح) عَالِمٌ
۱۲۵	۱۱	کدام سوال برای عبارت (.....؟ الْمِنْضَدَّةُ فِي الْغُرْفَةِ) مناسب است. ۱- هَلْ هَذَا ضَيْفٌ؟ ۲- مَنْ فِي الْغُرْفَةِ؟ ۳- مَاذَا فِي الْغُرْفَةِ؟ ۴- كَمْ ضَيْفًا فِي الْغُرْفَةِ؟
۱۵	۱۲	ترجمه ی صحیح هر عبارت را انتخاب کنید. ۱- عَلَيْكَ بِمَدَارَاةِ النَّاسِ. الف) مدارا کردن با مردم لازم است ب) تو باید با مردم مدارا کنی ۲- مَا مَعْنَى هَذِهِ الْعَلَامَةِ؟ الف) معنای این علامت چیست؟ ب) چه چیزی در معنی این نشانه است؟
۱۵	۱۳	در عبارت زیر یک اسم جمع مکسر و یک اسم جمع مذکر سالم را بیابید. اولئك الرجال، واقفون عند عالمين. جمع مکسر () جمع مذکر سالم ()
۱۵	۱۴	به سوال های مقابل پاسخ دهید. مِنْ أَيْنَ أَنْتَ (أَنْتِ)؟ أَيْنَ بَيْتِكَ (بَيْتِكِ)؟
۱	۱۵	با توجه به تصاویر به سوالات زیر پاسخ دهید. ۱- كَمْ جِوَالًا هُنَاكَ؟ ۲- مَا هَذَا؟ ۳- مَنْ هُوَ؟ ۴- هَلْ هُوَ بَائِعُ الْحَقَائِبِ؟    
۱	۱۶	معادل مونث کلمه های زیر را با کمک کلمات داخل کمانک بنویسید. (یک کلمه اضافی است) (هذه - النساء - المرأة - الأخت - أنتِ) ۱- الأَخْ: ۲- الرَّجَالُ: ۳- هَذَا: ۴- أَنْتَ:
۳	۱۷	روان خوانی
۲	۱۸	مکالمه

مهر آموزشگاه	مدت امتحان	مدیریت آموزش و پرورش ناحیه یک یزد			سوالات ارزشیابی نوبت: اول	
	۶۰ دقیقه	دبیرستان نمونه دولتی رسولیان دوره اول			درس: زبان عربی هفتم	
	تاریخ آزمون				تعداد صفحه و سوال: ۲ صفحه ۱۶ سؤال	
	۹۸ / ۱۰ / ۲۱	پایه	کدرانش آموزی	نام خانوادگی	نام	
	جمع نمره:	هفتم	«کد»	«نام خانوادگی»	«نام»	

نام و نام خانوادگی:	اداره کل آموزش و پرورش استان یزد	تاریخ امتحان: ۹۸/۱۰/۱۶
پایه تحصیلی: هفتم	مدیریت آموزش و پرورش ناحیه یک	وقت: ۶۰ دقیقه
کلاس:	آزمون عربی	تعداد سوالات: ۱۸
نام آموزشگاه:	نوبت اول سال تحصیلی ۱۳۹۸-۱۳۹۹	تعداد صفحات: ۲

نمرد:	نمرد:	نمرد:	نمرد:
-------------	-------------	-------------	-------------

ردیف	فرصت‌ها چون ابر می‌گذرد از فرصت‌های نیک به خوبی استفاده کنید. (بجای بگذارید)	بارم
۱	اسم مرتبط با هر تصویر را از داخل عبارات زیر انتخاب کنید و در کنار آن بنویسید.   الْعَالِمُ بِالْعَمَلِ، كَالشَّجَرِ بِالثَّمَرِ. عَدَدُ الْمَسَافِرِينَ فِي الْفُنْدُقِ كَثِيرٌ.	۱۵
۲	فقط کلمات مشخص شده را ترجمه کنید. ۱- طَلَبُ الْعِلْمِ فَرِيضَةٌ ۲- حِوَارٌ بَيْنَ وَكَدَيْنِ	۱۵
۳	عبارات زیر را ترجمه کنید. ۱- هُنَا قَرِيبٌ مِنَ الْمَدْرَسَةِ. (۰/۵) ۲- يَدُ اللَّهِ مَعَ الْجَمَاعَةِ. (۰/۵) ۳- فِي كُتُبِ الْقِصَصِ، عِبْرَةٌ لِلْأَطْفَالِ. (۱) ۴- خَيْرُ الْأُمُورِ، أَوْسَطُهَا. (۰/۷۵) ۵- رَبُّ كَلَامٍ كَالْحُسَامِ. (۰/۵) ۶- سَكُوتُ اللِّسَانِ سَلَامَةٌ لِلْإِنْسَانِ. (۱) ۷- هَلْ هَذِهِ شَجَرَةُ الرَّمَّانِ؟ (۰/۷۵) ۸- آفَةٌ الْعِلْمِ النِّسْيَانُ. (۰/۵)	۵/۵
۴	ترجمه ناقص را کامل کنید. ۱- ماهذا؟ هذا مفتاح البيت. ۲- الجوال فوق المنضدة. این؟ این خانه است. موبایل میز است.	۱۷۵
۵	متضاد کلمات داده شده را از میان کلمات داخل کمانک پیدا کنید و در مقابل آن بنویسید. (دو کلمه اضافی است) (واقف ، حُسن ، جَمَاعَةٌ ، رَخِيصَةٌ) جالسیه ≠ غالیه ≠	۱۵
۶	کلمه پرسشی مناسب را پیدا کنید و در جای خالی بنویسید. ۱ شَجَرَةٌ فِي هَذِهِ الْحَدِيقَةِ؟ عَشْرَةٌ. (کَمْ ، مَا ، مَنْ ، أَيْنَ) ۲ هَذَا الْكِتَابُ؟ لِمُدِيرَةٍ. (مَا ، مَنْ ، أَيْنَ ، لِمَنْ) ۳ هَذِهِ مَدِينَةٌ؟ نَعَمْ. (هَلْ ، مَاذَا ، كَمْ ، مَا)	۱۷۵
۷	از میان کلمات داده شده کلمه ی مناسب را انتخاب کنید و در جای خالی بنویسید. ۱- ما الْمُشْكِلَةُ؟ (هِيَ ، هُوَ ، أَنْتَ) ۲- لَاعِبَاتٌ، فَائِزَاتٌ (هَذَانِ ، هُوَلاءِ ، هَذِهِ) ۳- الْمِرَاتَانِ، مَسْرُورَتَانِ (هَذَانِ ، هَذِهِ، هَاتَانِ) ۴- عَبَّاسٌ وَ هَاشِمٌ وَ مِيثَمٌ (مَسْرُورُونَ، مَسْرُورَانِ)	۱

۱۷۵	۸	گزینه مناسب را انتخاب کنید و در جای خالی بنویسید. ۱- حُسْنُ الْعَهْدِ عَلَامَةُ الْإِيمَانِ (مَنْ ، مِنْ) ۲- الْخَيْرُ كَثِيرٌ وَ فَاعِلُهُ (قَلِيلٌ، بَعِيدٌ) ۳- مَنْ تَلَكَ الْبَيْتَ؟ (هِيَ أُخْتُ سَيْنَا، هُوَ أَخُو ثَرِيَا)
۱۵	۹	کدام یک از کلمات داده شده مناسب تصویر زیر است آن را با علامت (x) مشخص کنید. ۱- الف) طالبان <input type="radio"/> ب: ولدان <input type="radio"/> ۲- الف) الدَّوْرَانِ إِلَى الْيَسَارِ مَمْنُوعٌ <input type="radio"/> ب: الدَّوْرَانِ إِلَى الْيَمِينِ مَمْنُوعٌ <input type="radio"/>  
۱۵	۱۰	در هر ردیف کلمه ی ناهماهنگ را با علامت (x) مشخص کنید. الف) انا <input type="radio"/> انت <input type="radio"/> هي <input type="radio"/> هذه <input type="radio"/> ب) كاتب <input type="radio"/> طبيب <input type="radio"/> خشبيّة <input type="radio"/> عالم <input type="radio"/>
۱۲۵	۱۱	کدام سوال برای عبارت (.....؟ الْمِنْضَدَّةُ فِي الْغُرْفَةِ) مناسب است. ۱- هل هذا ضيف؟ <input type="radio"/> ۲- من في الغرفة؟ <input type="radio"/> ۳- ماذا في الغرفة؟ <input type="radio"/> ۴- كم ضيفاً في الغرفة؟ <input type="radio"/>
۱۵	۱۲	ترجمه ی صحیح هر عبارت را انتخاب کنید. ۱- عليكِ بمداواة الناس. الف) مدارا کردن بامردم لازم است <input type="radio"/> ب) تو باید بامردم مدارا کنی <input type="radio"/> ۲- ما معنى هذه العلامة؟ الف) معنای این علامت چیست؟ <input type="radio"/> ب) چه چیزی در معنی این نشانه است؟ <input type="radio"/>
۱۵	۱۳	در عبارت زیر یک اسم جمع مکسر و یک اسم جمع مذکر سالم را بیابید. اولئك الرجال، واقفون عند عالمين. جمع مکسر () جمع مذکر سالم ()
۱۵	۱۴	به سوال های مقابل پاسخ دهید. من أين أنت (أنت)؟ أين بيتك (بيتك)؟
۱	۱۵	با توجه به تصاویر به سوالات زیر پاسخ دهید. ۱- كم جوالا هُناك؟ ۲- ما هذان؟ ۳- من هو؟ ۴- هل هو بائع الحقائق؟    
۱	۱۶	معادل مونث کلمه های زیر را با کمک کلمات داخل کمانک بنویسید. (یک کلمه اضافی است) (هذه - النساء - المرأة - الأخت - أنت) ۱- الأَخ: ۲- الرِّجَال: ۳- هذا: ۴- أنت:
۳	۱۷	روان خوانی
۲	۱۸	مکالمه

نام و نام خانوادگی:	اداره کل آموزش و پرورش استان یزد	تاریخ امتحان: ۹۸/۱۰/۱۶
پایه تحصیلی: هفتم	مدیریت آموزش و پرورش ناحیه یک	وقت: ۶۰ دقیقه
کلاس:	آزمون عربی	تعداد سوالات: ۱۸
نام آموزشگاه:	نوبت اول سال تحصیلی ۱۳۹۸-۱۳۹۹	تعداد صفحات: ۲

نام دبیر:	نمرد: عدد:	نمرد: حرف:	اسماء: ویر:
-----------------	------------	------------	-------------

ردیف	فرصت‌ها چون ابر می‌گذرد از فرصت‌های نیک به خوبی استفاده کنید. (نهج البلاغه)	بارم
۱	اسم مرتبط با هر تصویر را از داخل عبارات زیر انتخاب کنید و در کنار آن بنویسید. العالمُ بلاعمل، كالتاجرِ بلاثمر. عَدَدُ المسافِرین فی الفُنْدُقِ کَثیرٌ.	۱۵
		
		
۲	فقط کلمات مشخص شده را ترجمه کنید. ۱- طَلَبُ الْعِلْمِ فَرِيضَةٌ ۲- حَوَارٌ بَيْنَ وَكَدَيْنِ.	۱۵
۳	عبارات زیر را ترجمه کنید. ۱- هُنَا قَرِيبٌ مِنَ الْمَدْرَسَةِ. (۰/۵) ۲- يَدُ اللَّهِ مَعَ الْجَمَاعَةِ. (۰/۵) ۳- فِي كُتُبِ الْقِصَصِ، عِبْرٌ لِلْأَطْفَالِ. (۱) ۴- خَيْرُ الْأُمُورِ، أَوْسَطُهَا. (۰/۷۵) ۵- رَبُّ كَلَامٍ كَالْحُسَامِ. (۰/۵) ۶- سَكُوتُ اللِّسَانِ سَلَامَةٌ الْإِنْسَانِ. (۱) ۷- هَلْ هَذِهِ شَجَرَةُ الرَّمَّانِ؟ (۰/۷۵) ۸- آفَةُ الْعِلْمِ النَّسِيَانُ. (۰/۵)	۵/۵
۴	ترجمه ناقص را کامل کنید. ۱- ماهذا؟ هذا مفتاح البيت. ۲- الجوال فوق المنضدة. این؟ این خانه است. موبایل میز است.	۱۷۵
۵	متضاد کلمات داده شده را از میان کلمات داخل کمانک پیدا کنید و در مقابل آن بنویسید. (دو کلمه اضافی است) (واقف، حُسن، جَمَاعَةٌ، رَخِيصَةٌ) غالبية ≠ جالس ≠	۱۵
۶	کلمه پرسشی مناسب را پیدا کنید و در جای خالی بنویسید. ۱ شَجَرَةٌ فِي هَذِهِ الْحَدِيقَةِ؟ عَشْرَةٌ. (کَم، مَا، مَنْ، أَيْنَ) ۲ هَذَا الْكِتَابُ؟ لِإِمْدِيرَةٍ. (مَا، مَنْ، أَيْنَ، لِمَنْ) ۳ هَذِهِ مَدِينَةٌ؟ نَعَمْ. (هَلْ، مَاذَا، كَمْ، مَا)	۱۷۵
۷	از میان کلمات داده شده کلمه ی مناسب را انتخاب کنید و در جای خالی بنویسید. ۱- ما المُشْكِلَةُ؟ (هی، هو، انت) ۲- لَاعِبَاتٌ، فَائِزَاتٌ (هَذَانِ، هَوْلَاءُ، هَذِهِ) ۳- المرأتان، مسروران (هَذَانِ، هَذِهِ، هَاتَانِ) ۴- عباسٌ و هاشمٌ و میثمٌ (مسروران، مسروران)	۱

۸	گزینه مناسب را انتخاب کنید و در جای خالی بنویسید. ۱- حُسْنُ الْعَهْدِ..... عَلائِمُ الْإِيْمَانِ (مَنْ ، مَنْ) ۲- الْخَيْرُ كَثِيرٌ وَ فاعِلُهُ..... (قَلِيلٌ، بَعِيدٌ) ۳- مَنْ تَلَكَ الْبَيْتَ؟..... (هِيَ أُخْتُ سَيْنَا، هُوَ أَخُو ثَرِيَا)	۱۷۵
۹	کدام یک از کلمات داده شده مناسب تصویر زیر است آن را با علامت (x) مشخص کنید. ۱- الف) طالبتان <input type="radio"/> ب: ولدان <input type="radio"/> ۲- الف) الدَّوران إلى اليسار ممنوع <input type="radio"/> ب: الدَّوران إلى اليمين ممنوع <input type="radio"/>	۱۵
۱۰	در هر ردیف کلمه ی ناهماهنگ را با علامت (x) مشخص کنید. الف) أنا <input type="radio"/> أنت <input type="radio"/> هي <input type="radio"/> هذه <input type="radio"/> ب) كاتب <input type="radio"/> طبيب <input type="radio"/> خشبيّة <input type="radio"/> عالم <input type="radio"/>	۱۵
۱۱	کدام سوال برای عبارت (.....؟ الْمِنْضَدَةُ فِي الْعُرْفَةِ) مناسب است. ۱- هل هذا ضيف؟ <input type="radio"/> ۲- مَنْ فِي الْعُرْفَةِ؟ <input type="radio"/> ۳- ماذا فِي الْعُرْفَةِ؟ <input type="radio"/> ۴- كَمْ ضيفاً فِي الْعُرْفَةِ؟ <input type="radio"/>	۱۲۵
۱۲	ترجمه ی صحیح هر عبارت را انتخاب کنید. ۱- عليكِ بمداواة النَّاسِ. الف) مدارا کردن با مردم لازم است <input type="radio"/> ب) تو باید با مردم مدارا کنی <input type="radio"/> ۲- ما معنى هذه العلامة؟ الف) معنای این علامت چیست؟ <input type="radio"/> ب) چه چیزی در معنی این نشانه است؟ <input type="radio"/>	۱۵
۱۳	در عبارت زیر یک اسم جمع مکسر و یک اسم جمع مذکر سالم را بیابید. اولئك الرجال، واقفون عند عالمين. جمع مکسر () جمع مذکر سالم ()	۱۵
۱۴	به سوال های مقابل پاسخ دهید. مِنْ أَيْنَ أَنْتَ (أَنْتِ)؟ أَيْنَ بَيْتِكَ (بَيْتِكِ)؟.....	۱۵
۱۵	با توجه به تصاویر به سوالات زیر پاسخ دهید. ۱- كَمْ جِوَالًا هُنَاكَ؟ ۲- مَا هَذَا؟ ۳- مَنْ هُوَ؟ ۴- هَلْ هُوَ بَائِعُ الْحَقَائِبِ؟    	۱
۱۶	معادل مونث کلمه های زیر را با کمک کلمات داخل کمانک بنویسید. (یک کلمه اضافی است) (هذه - النساء - المرأة - الأخت - أنتِ) ۱- الأَخ: ۲- الرَّجَال: ۳- هذا: ۴- أَنْتَ:	۱
۱۷	روان خوانی	۳
۱۸	مکالمه	۲

مهر آموزشگاه	مدت امتحان	مدیریت آموزش و پرورش ناحیه یک یزد دبیرستان نمونه دولتی رسولیان دوره اول			سوالات ارزشیابی نوبت: اول	
	۳۵ دقیقه				درس: قرآن هفتم	
	تاریخ آزمون	تعداد صفحه و سوال: ۱ صفحه ۵ سوال			تعداد صفحات	
	۹۸ / ۱۰ / ۱۵				نام	
	جمع نمره:	پایه	کدرانش آموزی	نام خانوادگی	نام	نام خانوادگی
	هفتم	«کد»	«نام خانوادگی»	«نام»		

۱- معنی را کامل کنید. (۲/۲۵ نمره) هر کدام ۰/۲۵

فُلٌّ: ... عیون: ... (جمع عین)
مَلَّةٌ: ... عَفُورٌ: ...
عَمِینٌ: ... ظَلَمَاتٌ: ...
أَمْرٌ... (فرمان) ... مُتَّقِینٌ: ...
ذُرِّیَّةٌ: ...

۲- ترکیب های قرآنی زیر را معنی کنید. (۴/۲۵ نمره) هر ... ۰/۲۵

قَدْ جَاءَكُمْ:
أَفَلَا تَعْقِلُونَ: پس آیا
أَجْرَ الْمُحْسِنِينَ
ذَلِكَ مِنْ فَضْلِ اللَّهِ:
فَاعْبُدْهُ (فَ+أَعْبُدْ+ه):
وَيَلِّ لِلْكَافِرِينَ لَوْلَا الَّذِي:

۳- ترکیب های زیر را مانند نمونه کامل و معنا کرده و نکته آن را بنویسید. (۱/۵) هر کدام ۱۵۰/۵ ج ۲


نمونه: صادق: راستگو + ین
صادقین: راستگویان
کافر: + ین -
صادقین: راستگویان

۴- مانند نمونه ترکیب ها را کامل و معنا کنید. (۱/۵) ۲۵۰/۲۵ ج ۱

نمونه: اِلَى+ه = اِلَيْهِ: به سوی او؛ بسویش
نمونه: عَلَى+ه = عَلَيْهِ: بر او؛ بر آن
کامل و معنا کنید: اِلَى+كُم = : ؛
کامل و معنا کنید: عَلَى+هَم = : ؛

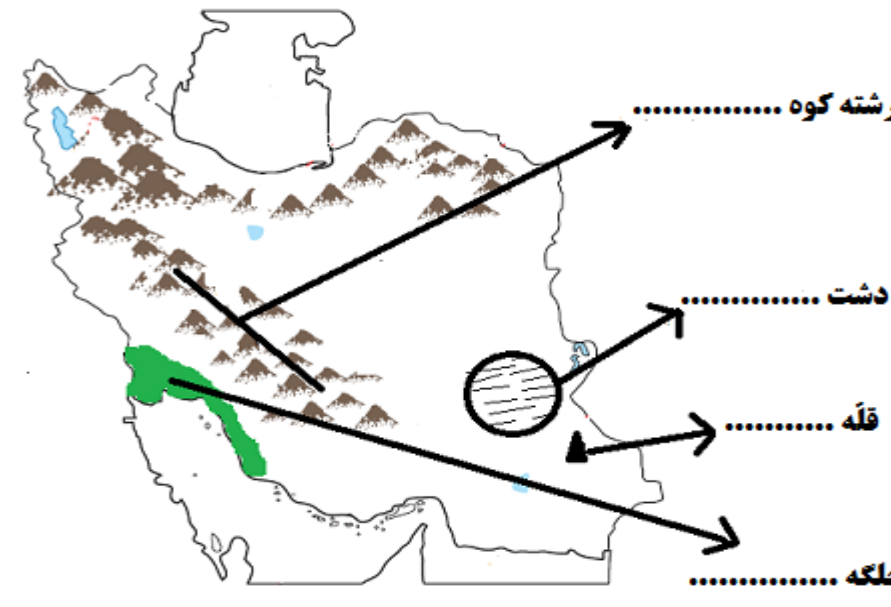
۵- ترجمه عبارات قرآنی داده شده را کامل کنید. (۱۰/۵ نمره هر جای خالی ۰/۲۵)


- ✓ اَلَا اِنَّ وَعْدَ اللّٰهِ حَقٌّ است؛
- ✓ وَهُوَ عَلٰى كُلِّ شَيْءٍ قَدِيرٌ و است
- ✓ قَالَ: يَقُومُ اَعْبُدُوا اللّٰهَ : را
- ✓ وَمَارَبَّكَ بِغَافِلٍ عَمَّا تَعْمَلُونَ و نیست غافل
- ✓ وَلٰكِنَّ اَكْثَرَ النَّاسِ لَا يَشْكُرُونَ و
- ✓ اِلَى النُّورِ بِاِذْنِ رَبِّهِمْ اِلَى صِرَاطِ الْعَزِيزِ الْحَمِيدِ به (خداوند) ستوده.
- ✓ اِنَّ رَبِّي لَسَمِيعُ الدُّعَاءِ
- ✓ خَلَقَ السَّمٰوٰتِ وَالْاَرْضَ بِالْحَقِّ

	آموزش و پرورش ناحیه یک یزد	کلاس و کد : ۷۱۰۳
	دبیرستان نمونه و هوشمند رسولیان (متوسطه اول)	
تاریخ آزمون: ۹۸/۱۰/۱۹	امتحان نوبت اول - دی ماه ۹۸	نام: محمدیاسین
مدت آزمون: ۶۰ دقیقه	درس: مطالعات اجتماعی پایه: هفتم ۳ صفحه ۳۱ سؤال	نام خانوادگی: برزگری

بخش اول: اجتماعی (مدنی)		
ردیف	سوالات	بارم
الف	<p>➤ صحیح یا غلط بودن جملات زیر را مشخص کنید؟</p> <p>۱- مسئولیت پذیر کسی است که وظایف و تکالیف خود را به خوبی انجام دهد. ص <input type="radio"/> غ <input type="radio"/></p> <p>۲- افراد در نقش های مختلف مسئولیت های مختلف دارند. ص <input type="radio"/> غ <input type="radio"/></p> <p>۳- اعضای جامعه در استفاده از حقوق خود آزادی بی قید و شرط دارند. ص <input type="radio"/> غ <input type="radio"/></p> <p>۴- جلوگیری از نظم و امنیت به نفع همه افراد جامعه است. ص <input type="radio"/> غ <input type="radio"/></p>	۱
ب	<p>➤ تکمیل کنید؟</p> <p>۵- مهمترین حق انسان ها است</p> <p>۶- بیمه یک قرارداد بین و است</p>	۱/۵
ج	<p>➤ گزینه صحیح را مشخص کنید؟</p> <p>۷- در روابطی که با دیگران برقرار می کنیم، حق داریم ، دیگران هم حقی بر ما دارند. این یعنی چه؟ الف) مسئولیت <input type="radio"/> ب) حقوق متقابل <input type="radio"/> ج) نقش <input type="radio"/> د) حقوق طبیعی <input type="radio"/></p> <p>۸- «محافظة از اموال عمومی مدرسه» از دانش آموزان و «بیان نظرات خود درباره مشکلات درسی» از دانش آموزان در مدرسه است؟ الف) مسئولیت - حقوق <input type="radio"/> ب) مسئولیت - مسئولیت <input type="radio"/> ج) حقوق - حقوق <input type="radio"/> د) حقوق - حقوق <input type="radio"/></p> <p>۹- در عبارت « با کفش وارد مسجد نشویم» کدام نوع مقررات را رعایت می کنیم؟ الف) اجتماعی <input type="radio"/> ب) مذهبی و اخلاقی <input type="radio"/> ج) بهداشتی <input type="radio"/> د) عادت و رسم <input type="radio"/></p> <p>۱۰- شش نفر حقوقدان شورای نگهبان از طرف به مجلس معرفی می شوند؟ الف) قوه قضائیه <input type="radio"/> ب) قوه مجریه <input type="radio"/> ج) رهبر <input type="radio"/> د) قوه مقننه <input type="radio"/></p>	۲
د	<p>➤ به سوالات زیر پاسخ کوتاه بدهید؟</p> <p>۱۱- فعالیتی که بین تولید کننده و مصرف کننده رابطه برقرار می کند چیست؟</p> <p>۱۲- سازمانی که وظیفه بررسی کیفیت کالاها را در کشور ما بر عهده دارد چه نام دارد؟</p>	۰/۵
	ادامه سوالات در صفحه دوم	

۱	<p style="text-align: center;">➤ پاسخ دهید؟</p> <p>۱۳- جدول زیر که متعلق به حقوق و مسئولیت شما می باشد را تکمیل کنید؟(هر کدام دو مورد)</p> <table border="1" style="width: 100%; border-collapse: collapse;"> <tr> <td style="width: 33%; text-align: center;">مستولیت من در برابر اعضای خانواده</td> <td style="width: 33%; text-align: center;">-۱</td> <td style="width: 33%; text-align: center;">-۲</td> </tr> <tr> <td style="text-align: center;">حق من در محیط زندگی و کشور</td> <td style="text-align: center;">-۱</td> <td style="text-align: center;">-۲</td> </tr> </table>	مستولیت من در برابر اعضای خانواده	-۱	-۲	حق من در محیط زندگی و کشور	-۱	-۲	۵
مستولیت من در برابر اعضای خانواده	-۱	-۲						
حق من در محیط زندگی و کشور	-۱	-۲						
۰/۵	۱۴- دو مورد از دلایل بوجود آمدن قوانین و مقررات در جامعه را بنویسید؟							
۱	۱۵- یک مورد از وظایف شورای نگهبان را بنویسید؟							
۱	۱۶- جمعیت هلال احمر در شرایط عادی چه فعالیتهایی انجام می دهد؟							
۱	۱۷- همدلی را تعریف کنید؟							
۰/۵	۱۸- یکی از وظایف بیمه مرکزی را بنویسید؟							
۰/۷۵	۱۹- هر یک از موارد زیر جزء کدام یک از عوامل تولید است؟ الف) کارگر ماهر (.....) ب) معادن(.....) ج) ماشین آلات (.....)							
۰/۷۵	۲۰- معمولا چه اطلاعاتی بر روی برچسب مشخصات کالاها وجود دارد؟(سه مورد)							
۱	۲۱- مصرف گرایی را تعریف کنید؟							
	بخش دوم(جغرافیا)							
۱/۵	<p style="text-align: center;">➤ گزینه صحیح را انتخاب کنید؟</p> <p>۲۲- کدام گزینه از ویژگی های طبیعی یک مکان نیست؟ الف) موقعیت جغرافیایی ○ ب) آثار تاریخی ○ ج) زندگی جانوری ○ د) پوشش گیاهی ○</p> <p>۲۳- به ترتیب قلّه های «سهند - دنا - دماوند» مربوط به کدام کوه های زیر است؟ الف) آذربایجان- زاگرس - البرز ○ ب) آذربایجان - خراسان - زاگرس ○ ج) خراسان - زاگرس - البرز ○ د) زاگرس - خراسان - آذربایجان ○</p> <p>۲۴- منطقه حفاظت شده دشت ارژن در قرار دارد؟ الف) لرستان ○ ب) اصفهان ○ ج) تبریز ○ د) فارس ○</p>	الف						
	ادامه سوالات صفحه سوم							

ب	<p>➤ پاسخ دهید؟</p> <p>۲۵- دو مورد از خدمات شهرداری را بنویسید؟</p>	۰/۵
	<p>۲۶- دامنه های شمالی و جنوبی رشته کوه البرز را با هم مقایسه کنید؟</p>	۱
	<p>۲۷- زیستگاه را تعریف کنید؟</p>	۱
	<p>۲۸- نقشه چیست؟</p>	۰/۵
	<p>۲۹- هر یک از ویژگیهای زیر متعلق به کدام یک از نواحی آب و هوایی ایران است؟ الف) اختلاف دمای شب و روز در این ناحیه زیاد است و از نظر پوشش گیاهی فقیر است. (ناحیه آب و هوایی.....) ب) این ناحیه مرطوب ترین ناحیه آب و هوایی ایران است. (ناحیه آب و هوایی.....) ج) این ناحیه تقریباً ۹ ماه از سال را بارش دارد و زمستان سرد و تابستان معتدل دارد. (ناحیه آب و هوایی.....) د) این ناحیه تابستان های بسیار گرم و زمستان های ملایم دارد. (ناحیه آب و هوایی.....)</p>	۱
	<p>۳۰- مهمترین دلایل حفاظت از زیستگاه ها را بنویسید؟ (۲ مورد)</p>	۰/۵
ج	<p>۳۱- موارد خواسته شده در نقشه زیر را تکمیل کنید؟</p> 	۱

مهر آموزشگاه	مدت امتحان	مدیریت آموزش و پرورش ناحیه یک یزد دبیرستان نمونه دولتی رسولیان دوره اول			سوالات ارزشیابی نوبت: اول	
	۵۰ دقیقه				درس: هدیه های آسمانی هفتم	
	تاریخ آزمون				تعداد صفحه و سوال: ۲ صفحه ۱۳ سؤال	
	۹۸ / ۱۰ / ۰۷	پایه	کدرانش آموزی	نام خانوادگی	نام	
	جمع نمره:	هفتم	«کد»	«نام خانوادگی»	«نام»	

۱_ آیه شریفه را ترجمه کنید: (۱/۲۵ نمره) **وَإِنَّكَ لَعَلَىٰ خُلُقٍ عَظِيمٍ**

۲_ جاهای خالی را کامل کنید: (۱/۲۵ نمره)

الف) کسی که و دشواری های مرگ بر او آسان می شود.

ب) ساده ترین راه جلب یاری خداست.

ج) حالت جوان با و بهتر شد.

۳_ به سوالات زیر پاسخ کوتاه بدهید. (۱/۵ نمره)

الف) تقوا یعنی چه؟

ب) صدقه چیست؟

ج) شکر نعمت یعنی چه؟

۴_ راه های بهره مندی از یاری خدا چیست؟ (۱/۵ نمره)

۵_ چگونه و با چه کارهایی می توانیم خدا را یاری کنیم؟ ۴ مورد را نام ببرید. (۲ نمره)

۶_ مرگ برای چه کسانی وحشتناک و ناخوشایند است؟ (۲ نمره)

۷_ حضرت علی(ع) چگونه خود را برای مرگ آماده کرده بود که از آن ترسی نداشت؟ (۱/۵ نمره)

۸_ سه ویژگی اخلاقی و رفتار اجتماعی پیامبر اکرم(ص) را بیان کنید. (۱/۵ نمره)

۹_ سخن پیامبر اکرم(ص) را درباره اهمیت امانت‌داری بیان کنید. (۱/۵ نمره)

۱۰_ فداکار به چه کسی گفته می‌شود؟ (۱/۵ نمره)

۱۱_ دو نمونه از فداکاری‌های حضرت علی(ع) را بیان کنید. (۲ نمره)

۱۲_ حضرت علی(ع) علت پذیرفتن حکومت را چه چیزی بیان کردند؟ (۱/۵ نمره)

۱۳_ سخن امام صادق(ع) را درباره ساده زیستی پیامبر اکرم(ص) بیان کنید. (۱ نمره)