

آب این روح مذاب امید و زندگی، تازه نفس ، جوان ، زلال ، و نیرومند با گام های استوار و امیدوار شتابان می رفت تا خود را به دهان خشک زمین و صدها کشتزار سوخته و نگاه های پژمرده ی هزاران درخت تشنه برساند و در رگ ها ی خشکیده ی جوی های مزرعه و کوچه باغ های مرده ، جاری گردد.

من به هیچ وجه قبول نمی کنم حرف ها و تحلیل های کسانی را که گاهی در برخی از مطبوعات یا رسانه ها از انحراف نسل جوان سخن می گویند ، این طور نیست. اگر گاهی اشتباه و خطایی از جوان سربزند با توجه به دل پاک و نورانی جوان ، این اشتباه کاملاً قابل جبران است . اینها چرا صلاح و پاکدامنی و پارسایی و صداقت و شور و شعور جوانان را نمی بینند ؟

این همه کتاب خوب و مطالب آموختنی ما را به سوی خود می خوانند. کتاب پر از راز و رمز آفرینش و شگفتی های طبیعت ، سرشار از درس ها و اندرزهاست. اگر نیروی جوانی و شادابی و چالاکی این دوره را با تأمل ، تفکر و بصیرت همراه کنیم به شکوفایی خواهیم رسید.



آزمون درس انشا فارسی پایه هفتم - نوبت اول - تاریخ آزمون 1396/10/18 - وقت 60 دقیقه

1- یکی از موضوعات زیر را انتخاب کنید و در پشت برگه انشایی بنویسید.

الف) فصل رنگارنگ و زیبای پاییز را توصیف کنید.

ب) کتاب و کتابخوانی (با توجه به طبقه بندی موضوع)

ج) ضرب المثل (یک دست صدا ندارد) را به زبان ساده بازآفرینی کنید.

2- معیارهای ارزیابی

الف) پروراندن موضوع و بهره گیری مناسب از شیوه های پرورش فکر

ب) نوشتن بند مقدمه ، بند بدنه و بند نتیجه

ج) استفاده از واژگان مترادف ، متضاد و آرایه های ادبی

د) ساختار زبانی (جمله بندی) و تنوع فعل ها

ه) پاراگراف بندی و حاشیه گذاری

و) املا صحیح واژگان

ز) خط خوش و پاکیزه نویسی

ح) رعایت علائم نگارشی



---

مهر آموزشگاه	مدت امتحان	مدیریت آموزش و پرورش ناحیه یک یزد		سوالات ارزشیابی نوبت: اول	
	50 دقیقه	دبیرستان نمونه دولتی رسولیان دوره اول		درس: پیام های آسمانی	
	تاریخ آزمون			تعداد صفحه و سوال: 2 صفحه	
	96 / 10 / 9	پایه	کدرانش آموزشی	نام خانوادگی	نام
	جمع نمره:				

**الف - گزینه صحیح را انتخاب کنید. (2)**

1- گفین الحمد لله چه شکری است؟

- الف-شکرزبانی  ب-شکرعملی  ج-شکرقلبی  د-شکر اخلاقی

2-چه کاری باعث نجات یافتن از مرگ بد ورهایی از هفتاد نوع بلاست ؟

- الف -نماز  ب -صدقه دادن  ج -خوش اخلاقی  د -نیکي به پدر ومادر

3-خدای متعال از چه کسانی عهدوپیمان گرفته است که در برابرزاده خواهی ستمگران سکوت نکنند ؟

- الف- آگاهان  ب- حاکمان  ج - ثروتمندان  د- فقرا

4-سخن زیر از کیست ؟(فاطمه مایه شادمانی من است )

- الف -امام علی (ع)  ب -امام حسین (ع)  ج- پیامبر اکرم (ص)  د-امام حسن (ع)

**ب - جاهای خالی را با کلمات مناسب کامل کنید. (2)**

- ❖ یکی از بهترین حالت‌هایی که دعا در آن مستجاب می شود ..... است.
- ❖ حضرت علی (ع) در جنگ ..... در قلعه را کند ویهودیان را شکست داد .
- ❖ عزت نفس یعنی احساس ..... یعنی خودمان را در مقابل دیگران .....
- ❖ علت فشار قبر سعد این بود که ..... بود .

**ج - درستی یا نادرستی عبارتهای زیر را مشخص کنید . (✓ یا ×) (1)**

- شایسته ترین الگوی انسانها پیامبران هستند.ص
- جنگ خیبر میان پیامبر (ص) ومشرکین مکه روی داد .
- حضرت علی (ع) مامور بازگرداندن امانتها به مردم شد .
- هارون خواسته های بهلول را به خوبی بر آورد .

د - به سوالات زیر پاسخ کوتاه بدهید. (8)

- 1- شکر واقعی نعمتهای خداوند چگونه است ؟
- 2 - یاری دادن خداوند به چه معناست ؟
- 3- چرا پادشاه زیرک از رفتن به جزیره هیچ ترسی نداشت ؟
- 4- امام سجاد (ع) توشه خود را برای چه سفری حمل می کرد ؟
- 5- چرا پیامبر (ص) قبول نکرد که جوان چوپان گوسفند ها را به سپاه مسلمین بدهد ؟
- 6- منظور از ليله المبيت چیست؟
- 7- چرا حضرت فاطمه از تقسیم کار پیامبر خوشحال شد ؟
- 8- فداکار کیست ؟

ه - به سوالات زیر پاسخ کامل دهید. (7)

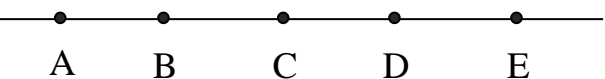
- 1- نمونه ای از ایثار و بخشندگی حضرت زهرا (س) بنویسید. (1)
- 2- این سخن پیامبر (ص) در مورد حضرت فاطمه کامل کنید . (1/5)  
خداوند فاطمه را دوست دارد و ..... خداوند با .....  
و با خشم او .....
- 3- سه نمونه از فداکاریهای حضرت علی (ع) را بنویسید. ( 1/5 )
- 4- آیه ( وَمَا أَرْسَلْنَاكَ إِلَّا رَحْمَةً الْعَالَمِينَ ) را ترجمه کرده و بگویید چه ویژگی پیامبر اشاره دارد؟ (1/5)  
( ..... )  
ویژگی :
- 5- چه کارهایی موجب آسانی زندگی در دنیا و آخرت می شود؟ (1/5)

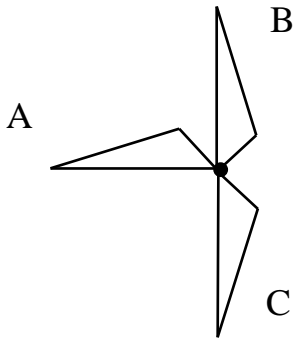
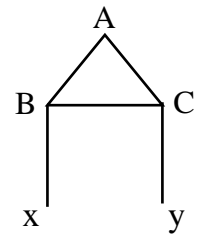


مهر آموزشگاه	مدت امتحان	مدیریت آموزش و پرورش ناحیه یک یزد		سوالات ارزشیابی نوبت: اول	
	80 دقیقه	دبیرستان نمونه دولتی رسولیان دوره اول		درس: ریاضیات	
	تاریخ آزمون			تعداد صفحه و سوال : 3 صفحه 25 سوال	
	96/10/13	پایه	کدرانش آموزی	نام خانوادگی	نام
	جمع نمره:				

ردیف	ریاضی نوبت اول پایه هفتم	نمره
1	<p>درستی یا نادرستی هریک را مشخص کنید. ( ✓ یا × )</p> <p>- تمام اعداد طبیعی شمارنده اول دارند.</p> <p>- تمام مضرب های یک عدد طبیعی مرکب هستند.</p> <p>- قرینه هر عدد صحیح از خودش بزرگتر است.</p> <p>- قرینه قرینه هر عدد با خودش برابر است.</p> <p>- بزرگترین عدد صحیح منفی دو رقمی 99- می باشد.</p> <p>- حاصل تقسیم دو عدد منفی یک عدد منفی است.</p> <p>- حاصل ضرب هر عدد صحیح در قرینه اش برابر صفر است.</p> <p>- دو زاویه که دارای یک متمم باشند مساوی هستند.</p>	2
2	<p>کامل کنید.</p> <p>- بزرگترین عدد اول دو رقمی عدد ..... می باشد.</p> <p>- چند ضلعی که یک زاویه آن از 180 درجه بیشتر باشد ..... نام دارد.</p> <p>- اگر روی یک خط 5 نقطه انتخاب کنیم مجموع تعداد پاره خطها و نیم خطها ..... می باشد.</p> <p>- حاصل ضرب سه عدد صحیح منفی عددی ..... است.</p> <p>- 210 دارای ..... شمارنده اول می باشد.</p> <p>- دو عدد 20 و ..... نسبت بهم اولند.</p> <p>- بزرگترین شمارنده هر عدد ..... می باشد.</p> <p>- تبدیلی که جهت شکل را تغییر نمی دهد ..... نام دارد.</p>	2
3	<p>حاصل هر یک را بدست آورید.</p> $4 \times 4 \div 4 + 4 - 4 =$ $[(-30) \div (-5) \times [-5 - (-10)]] =$	1/5
4	<p><math>\frac{3}{5}</math> ظرفی با 4 پیمانه 6 لیتری پر می شود گنجایش این ظرف چند لیتر است؟</p>	0/5
5	<p>تساوی ها را کامل کنید.</p> $(36, 48) =$ $[36, 48] =$	1



0/5	6	میانگین دمای دو شهر 12- و اختلاف دمای این دو شهر 20 درجه است دمای هوای شهر سردتر کدام است. الف) -8 □ ب) -11 □ ج) -17 □ د) -22 □
0/5	7	قرینه نقطه 10- نسبت به نقطه 2- کدام گزینه است؟ الف) +10 □ ب) +8 □ ج) +6 □ د) +12 □
0/5	8	حاصل کدام گزینه است؟ -80+79 ..... -6+5-4+3-2+1 الف) 40 □ ب) 160 □ ج) -40 □ د) -160 □
0/5	9	در یک میدان اسب سواری تعداد سرها 22 و تعداد پاها 72 می باشد. در این میدان چند اسب وجود دارد. الف) 8 □ ب) 10 □ ج) 12 □ د) 14 □
1	10	دو زاویه متمم یکدیگرند یکی از آنها از سه برابر دیگری 10 درجه بیشتر است اختلاف آنها را بدست آورید.
0/5	11	دو عدد صحیح را مشخص کنید که حاصل ضرب آنها 26 و حاصل جمع آنها کمترین مقدار را داشته باشد.
0/75	12	دمای هوای کرمان 2 درجه زیر صفر است و دمای هوای تهران 4 برابر دمای هوای کرمان است. میانگین دمای هوای دو شهر را بدست آورید.
0/5	13	یک راننده تاکسی از هر مسافر 500 تومان به عنوان ورودی و به ازای هر 500 متر 300 تومان کرایه می گیرد. کدام عبارت برای محاسبه n کیلومتر درست است؟ الف) $500n + 500$ □ ب) $300n + 500$ □ ج) $600n + 500$ □ د) $500n + 300$ □
1	14	معادله زیر را حل کنید. $\frac{2x+3}{x-2} = \frac{3}{2}$
0/75	15	پس از ضرب ساده کنید. $6 - 6x(2x + 4y) + 12x + 10$
0/5	16	دمای هوای شیراز در روز 4- و در شب 14- می باشد. هوا در شب چند درجه سردتر می شود.
0/5	17	در شکل مقابل پاره خط ها مساویند. تساوی ها را کامل کنید.  , $AE = \dots$ $BCAE - \dots = AD$

1	18	حاصل را بدست آورید. $\frac{1}{2} + \frac{1}{4} + \frac{1}{8} + \dots + \frac{1}{32} + \frac{1}{64} \times 24$
0/5	19	با توجه به شکل نام هر تبدیل را بنویسید.  A → B → C
0/5	20	اگر اندازه ضلع مربعی را ده درصد افزایش دهیم. مساحت آن چند درصد افزایش می یابد.
0/5	21	الف) عبارت کلامی را به جبری تبدیل کنید. * 4 واحد کمتر از قرینه عددی ب) عبارت جبری را به کلامی تبدیل کنید. $\frac{2}{3}x + 2$
1	22	مقدار عددی $\frac{4x + 4xy}{x}$ را به ازای $x = 4$ و $y = 4$ بدست آورید.
0/5	23	حاصل جمع دو عدد اول 99 می باشد اختلاف آن دو عدد را بدست آورید.
1	24	محسن 5000 تومان به فروشنده داد و 5 دفتر خرید و 5 خودکار 500 تومانی خرید. قیمت هر دفتر را بدست آورید.
0/5	25	در شکل مقابل زاویه $\hat{A}$ را با سه حرف بنویسید. - نام یک نیم خط را بنویسید. 

سوالات ارزشیابی نوبت: اول	مدیریت آموزش و پرورش ناحیه یک یزد	مدت امتحان	مهر آموزشگاه
درس: عربی کلاس هفتم	دبیرستان نمونه دولتی رسولیان دوره اول	45 دقیقه	
تعداد صفحه و سوال: 2 صفحه 12 سوال		تاریخ آزمون	
نام خانوادگی	کردانش آموزی	96/10/21	
نام	پایه	جمع نمره:	

1- کلمه های مشخص شده را ترجمه کنید. (1)

- أَفْضَلُ النَّاسِ أَنْفَعُهُمُ لِلنَّاسِ. (-) سَلَامَةُ الْعَيْشِ فِي الْمُدَارَاهِ. ( )

2- ترجمه عبارت های زیر را کامل کنید. (1)

- هذه جائزة ذهبيه للفائز الاول. : این جایزه ..... برای برنده اول است.

- الضيوف في الغرفه. : ..... در اتاق هستند.

- الوحدہ خیر من جلیس السوء. : تنهایی بهتر از ..... است.

- عَلَيْكَ بِالشُّكْرِ. : تو باید.....

3- عبارت های زیر را ترجمه کنید. (4)

- اربعه قليلها كثير: «الفقر والوجع والعداوه والنار» : .....

- الجنه تحت اقدام الامهات: : .....

- ((انَّ عَدَّةَ الشُّهُورِ عِنْدَ اللَّهِ اثْنَا عَشَرَ شَهْرًا)): .....

4- به پرسش های زیر پاسخ دهید. (1)

- مَنْ أَنْتَ؟ ..... - مَنْ أَيْنَ أَنْتَ؟ .....

5- کلمات مرتبط در ستون «الف» و «ب» رابه هم وصل کنید. (1) الف

ب

((در ستون ب یکی اضافه است)) النَّظْرُ فِي وَجْهِمَا عِبَادَةٌ ✍️ الوالدان

ابوالاب و ابوالام ✍️ الحوار

الجد ✍️

6- پاسخ صحیح را انتخاب کنید. (1)

الف - كم اسبوعا في الشهر؟  عشرة  اربعه

ب - قيمه الانسان ب.....  عقله  سنه

7- به پرسش های زیر به دلخواه پاسخ صحیح دهید.(1)

- أين الرجل؟ .....  
- أين السيارة؟.....

8- باتوجه به کلمات مقابل، متضاد کلمات زیر را بنویسید. (1) «حسن - غاليه - قليل - قريب - وحده - جالس» (2 کلمه اضافی)

رخصه ← .....  
كثير ← .....

بعيد ← .....  
جماعه ← .....

9- باتوجه به کلمات مقابل، معادل مؤنث کلمات زیر را بنویسید. «البنات - انت - هي - النساء - المرأة - الاخت» (2 کلمه اضافی)

الرجل:.....  
الاولاد:.....

الرجال:.....  
الاخ:.....

10- پاسخ صحیح هر سوال را انتخاب کنید.(1)

- لمن هذا القلم؟ لتلك الطالبة  القلم هنا
- من ذلك الرجل؟ انت سائقه السيارة  هو سائق السيارة
- من تلك البنت؟ هي اخت ثريا  هو اخو ثريا
- انت.....يا ولد. طالب عزيز  طالبتان عزيزتان

11- کلمه های «جمع سالم و مکسر» و نیز «مثنی» را در عبارات زیر مشخص کرده و نوع کلمه را بنویسید.(75/)

«اولئك اللاعبين، فانزوا في مسابقتين»

جمع سالم :  
جمع مکسر :  
مثنی :

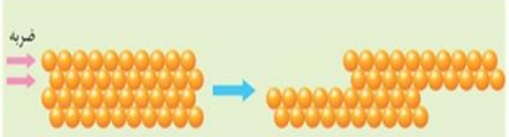
12- پاسخ مناسب برای هر عبارت را مشخص کنید.(25/1)

- .....الوردتان، جميلتان.(هذان - هاتان)
- ذلك.....نظيف.(الولد - البنت)
- .....الجبلان، مرتفعان.(هذان - هاتان)
- هؤلاء.....فائزات.(اللاعبات - اللاعبون)
- اولئك المجاهدون،.....(صبرات - صابرون)

14- نمره مکالمه (2)

13- نمره روان خوانی (3)

2	<p>اصطلاحات یا کلمات داده شده را تعریف کنید.</p> <p>فناوری:.....</p> <p>آلیاژ:.....</p> <p>آب سخت:.....</p> <p>آبتاز(سونامی):.....</p>	1
3	<p>علت هر یک از موارد زیر را بنویسید</p> <p>از لاستیک در تایر اتومبیل استفاده می شود . علت؟.....</p> <p>از آلومینیم در هواپیما سازی استفاده می شود علت؟.....</p> <p>سیاره زمین از فضا به رنگ آبی دیده می شود؟ علت؟.....</p> <p>برای ذخیره آبهای زیر زمینی ، زمینهای آبرفتی مناسب اند؟ علت؟.....</p> <p>در ساخت قاشق و چنگال استیل علاوه بر آهن از فلزات نیکل و کروم استفاده می کنند؟ علت؟.....</p> <p>اغلب پل ها و اسکله های فلزی را از فولاد می سازند؟ علت؟.....</p>	2
1	<p>جاهای خالی را تکمیل کنید.</p> <p>آهن + ..... → کربن + اکسیدهای آهن. (کربن دی اکسید-اکسیژن)</p> <p>بزرگترین منبع ذخیره آب های شیرین..... است؟(یخچالها-آبهای زیر زمینی- دریاچه ها کاربرد های یک ماده به..... آن ماده بستگی دارد. (ویژگی های- اندازه )</p> <p>در دوران دفاع مقدس، رزمندگان برای عبور از اروند رود از پدیده.....استفاده می کردند.(امواج دریا- جزرومد)</p>	3
2	<p>صحیح یا غلط بودن هریک را مشخص کنید.( با گذاشتن علامت ص و غ در داخل کمانک)</p> <p>ماده ی اولیه ی برای ساخت شیشه ماسه ( سیلیس ) می باشد. ( )</p> <p>گازها خاصیت تراکم پذیری دارند. ( )</p> <p>گوگرد عنصر نافلزی است که مولکول آن از 7 اتم ساخته شده است. ( )</p> <p>مهم ترین نکته در علم ، ساختن فرضیه است. ( )</p> <p>به بالا آمدن آب دریا و حرکتشان به سمت ساحل جزر گفته می شود.( )</p> <p>الف- الماس را می توان در سنگهای آتشفشانی جست و جو کرد. ( )</p> <p>ب- افزودن مقداری کربن به گرافیت باعث افزایش سختی آن می شود. ( )</p> <p>-اگر قطرات باران در مسیر پایین آمدن، از توده هوای سرد عبور کنند، به برف تبدیل می شوند. ( )</p>	4
/5	<p>هر کدام از عبارات زیر به کدام یک از راههای محافظت از منابع طبیعی اشاره دارد؟</p> <p>الف)از بطری پلاستیکی نوشابه برای نگهداری آب در یخچال استفاده می شود.( )</p> <p>از آهن قراضه و قوطی های فلزی خراب را در کارخانه ذوب و به صورت شمش در می آورند.( )</p>	5
1/25	<p>گزینه صحیح را با علامت ضربدر مشخص کنید.</p> <p>1-تمام موارد داده شده، از ویژگیهای آبهای زیر زمینی می باشد به غیراز:</p> <p>الف) فاقد مواد تیره کننده است</p> <p>ب) ترکیب و دمای آن ها ثابت است</p> <p>ج)املاح معدنی محلول در آنها کمتر از آب های سطحی است</p> <p>د) غالباً بی رنگ اند</p>	6

	<p>2- علت تشکیل کدام دریاچه ، شکستگی های قسمتی از سنگ کره، می باشد؟  الف ( ارومیه      ب ) سبلان      ج ) خزر      د) غارعلیصدر</p> <p>3-در مناطقی که آب های زیرزمینی به طور طبیعی به سطح زمین برسند و جاری شوند چه پدیده ای رخ داده است ؟  الف ) چاه      ب ) کاریز      ج ) چشمه      د ) رود</p> <p>4-دو عنصری که با اضافه کردن آنها به آهن ، فولاد زنگ نزن(استیل) ، ایجاد می شود کدامند؟  الف ) نیکل و کروم      ب ) مس و روی      ج ) قلع و سرب      د ) روی و قلع</p> <p>5-در ساخت کاغذ تمام موارد داده شده بکار می رود به جز  الف) گچ      ب ) نشاسته      ج) چوب      د) آهک</p>	
/75	<p>7 از روی شکل چکش خواربودن فلزات را با توجه به ساختار اتمی آنها توضیح دهید</p> 	7
2/5	<p>8 برای هریک از موارد داده شده یک تفاوت را بنویسید؟</p> <p>-جرم با وزن.....</p> <p>- فلزات با نافلزات.....</p> <p>-جنش ذرات گازها با جنش ذرات جامدات.....</p> <p>-سواحل صخره ای باسواحل هموار و ماسه ای.....</p> <p>-سفره های(آبخوان)آب زیر زمینی آزاد با سفره های زیر زمینی تحت فشار.....</p>	8
1/5	<p>9 به سؤالات زیر پاسخ کوتاه دهید</p> <p>دقت اندازه گیری ، علاوه بر دقت شخصی که اندازه گیری می کند به چیز دیگری بستگی دارد؟.....</p> <p>یکی از موادی که از نفت خام به دست می آید را نام ببرید.....</p> <p>در یک مولکول کربن دی اکسیدمجموعا چه تعداد ذره(الکترون و پروتون و نوترون)وجود دارد؟.....</p> <p>یک نمونه از کاربردهای مواد هوشمند را نام ببرید.....</p> <p>اگر رودخانه در مسیر خود به محلی برسد که به طور ناگهانی دچار اختلاف ارتفاع شود چه چیز به وجود می آید؟.....</p> <p>به سطح بالایی منطقه اشباع( مرز بین منطقه اشباع و منطقه تهویه) چه می گویند؟.....</p>	9
/5	<p>10 دلایل اهمیت دریاچه ها را بنویسید؟(2 مورد)</p>	10

مهر آموزشگاه	مدت امتحان	مدیریت آموزش و پرورش ناحیه یک یزد دبیرستان نمونه دولتی رسولیان دوره اول		سوالات ارزشیابی نوبت: اول	
	45 دقیقه			درس: قرآن کلاس هفتم	
	تاریخ آزمون	تعداد صفحه و سوال: 1 صفحه 5 سوال			
	96/10/14	پایه	کدرانشن آموزی	نام	نام خانوادگی
جمع نمره:					

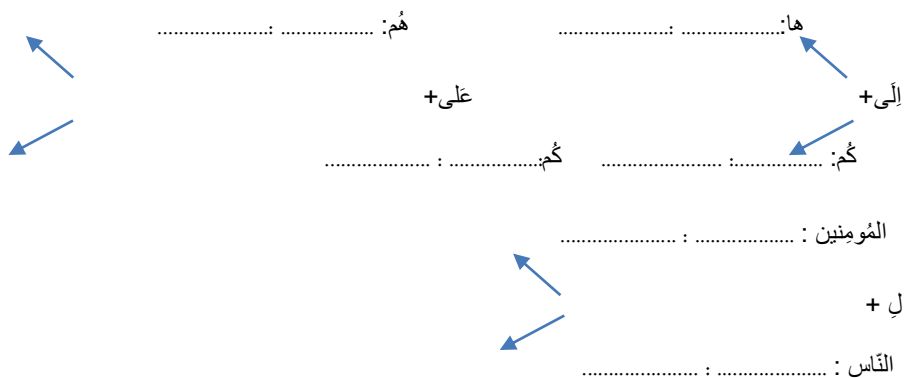
1- کلمات قرآنی را ترجمه کنید. (4)

مُتَّقِينَ	ذُرِّيَّه	مِلَّه	أَجْر
أَلِيم	ظُلُمَات	وَاجِد	أَخَا
حَمْد	قَالُوا	أَنْزَلْنَا	قُلْ
أَلَا	هُمْ	الَّذِي	كُم

2- ترکیب ها و عبارات قرآنی را معنا کنید. (4)

- فِي جَنَّاتٍ وَعُيُونٍ ..... - أَكْثَرَ النَّاسِ .....
- مُقِيمِ الصَّلَاةِ ..... - لَعَلَّكُمْ تَعْقِلُونَ .....
- وَيَلِّ لِلْكَافِرِينَ ..... - قَدْ جَاءَكُمْ .....
- أَجْرَ الْمُحْسِنِينَ ..... - هُدًى وَرَحْمَةً لِلْمُؤْمِنِينَ .....

3- ترکیب های زیر را کامل و معنا کنید. (2)



4- ترجمه عبارات قرآنی را بنویسید. (7)

- 1- خَلَقَ السَّمَاوَاتِ وَالْأَرْضَ بِالْحَقِّ : .....
- 2- إِنَّ رَبِّي لَسَمِيعُ الدُّعَاءِ : .....
- 3- أَلَى النُّورِ يَازُنَ رَبِّهِمْ : .....
- 4- عَلَى اللَّهِ رَبِّي وَرَبِّكُمْ : .....
- 5- ذَلِكَ مِنْ فَضْلِ اللَّهِ عَلَيْنَا : .....
- 6- فَاعْبُدْهُ وَتَوَكَّلْ عَلَيْهِ : .....
- 7- وَهُوَ عَلَى كُلِّ شَيْءٍ قَدِيرٌ : .....

5- ترکیب های زیر را کامل و معنا کنید. (3)

کلمه	ترجمه	جمع با (ون) یا (بن)	ترجمه
مُحْسِن			
عَالِم			
مُهَاجِر			
ظَالِم			



مهر آموزشگاه	مدت امتحان	مدیریت آموزش و پرورش و رشناحیه یک یزد		سوالات ارزشیابی نوبت: اول	
	70 دقیقه	دبیرستان نمود ولتی رسولیان دورهاول		درس: مطالعات کلاس هفتم	
	تاریخ آزمون			تعداد صفحات و سوال: 2 صفحه 13 سوال	
	96 / 10 / 17	پایه	کدرانشاموزی	نام قانودگی	نام
	جمع نمره:				

بارم	سوال (آزمون مطالعات هفتم)	ردیف
1	<p><b>جملات صحیح و غلط را مشخص کنید</b></p> <p>الف) ما در استفاده از حقوق خود آزادی مطلق نداریم. ص <input type="checkbox"/> غ <input type="checkbox"/></p> <p>ب) سالروز شهادت حسین فهمیده به عنوان روز بسیج دانش آموزی نامگذاری شده. ص <input type="checkbox"/> غ <input type="checkbox"/></p> <p>ج) مهمترین قانون هر کشور قانون اساسی است که 178 اصل دارد. ص <input type="checkbox"/> غ <input type="checkbox"/></p> <p>د) ما فقط در هنگام حوادث بزرگ به یاری هم وطنان خود می شتاییم. ص <input type="checkbox"/> غ <input type="checkbox"/></p>	1
3	<p><b>جملات زیر را با کلمات مناسب کامل کنید</b></p> <p>الف) مهمترین عناصر آب و هوا ..... و ..... است</p> <p>ب) رشته کوه ..... در غرب ایران کشیده شده است و جهت آن ..... ، ..... است.</p> <p>ج) ما در روابطی که با دیگران برقرار می کنیم دارای ..... هستیم.</p> <p>د) در بیمه دانش آموزی بیمه شونده ..... است و موسسه ای که او را بیمه کرده است ..... می شود.</p> <p>ه) کدامیک ویژگی طبیعی یا انسانی است.</p> <p>نوع آب و هوا: ..... آثار تاریخی: ..... فعالیت اقتصادی: ..... پوشش گیاهی: .....</p>	2
1	<p><b>سوالات کوتاه پاسخ</b></p> <p>الف) تولید محصول به چه منظور صورت می گیرد؟</p> <p>ب) مهمترین حق انسانهاست؟</p> <p>ج) پس از پیروزی انقلاب برای نوشتن قانون اساسی در کشور تشکیل شد؟</p> <p>د) مسئول اجرای قوانین و مقررات محیط زیست در یک منطقه می باشد؟</p>	3
1	<p><b>پاسخ صحیح را مشخص کنید</b></p> <p>الف) جمله «همه حق دارند در کوچه و خیابان امنیت داشته باشند» از حقوق افراد در کجاست؟</p> <p>الف) مدرسه <input type="checkbox"/> خانه <input type="checkbox"/> کلاس <input type="checkbox"/> (ج) محیط زندگی و کشور <input type="checkbox"/></p> <p>ب) وقتی گروهی بصورت توافقی با رسم یا عادت از مقررات پیروی می کنند کدام نوع مقررات بوجود می آید؟</p> <p>الف) مقررات مذهبی <input type="checkbox"/> مقررات اجتماعی <input type="checkbox"/> (ج) مقررات اخلاقی <input type="checkbox"/> (د) قانون اساسی <input type="checkbox"/></p> <p>ج) کدام یک از عوامل تولید جزء سرمایه محسوب می شود؟</p> <p>الف) زمین <input type="checkbox"/> (ب) معادن <input type="checkbox"/> (ج) جنگل ها <input type="checkbox"/> (د) دانش و مهارت <input type="checkbox"/></p>	4



	<p>د) از کدام نوع عکس ها برای تهیه نقشه های جغرافیایی استفاده می شود؟</p> <p>الف) عکس های معمولی <input type="checkbox"/></p> <p>ب) عکس های ماهواره ای <input type="checkbox"/></p> <p>ج) عکس های هوایی <input type="checkbox"/></p> <p>د) عکس معمولی و ماهواره ای <input type="checkbox"/></p>	
1	<p>به سوالات زیر پاسخ کامل دهید.</p>	5
1	<p>مسئولیت یعنی چه؟</p>	6
1	<p>چرا قانون و مقررات بوجود آمده است؟</p>	7
1	<p>از اصل پنجاهم قانون اساسی چه می فهمیم؟</p>	8
1	<p>موسسه بیمه برای چه بوجود آمده است؟</p>	9
1	<p>ناحیه گرم و شرجی سواحل جنوب چه مناطقی از ایران را در بر می گیرد؟</p>	10
2	<p>دو وظیفه مهم شورای نگهبان را بنویسید؟</p>	11
1/5	<p>سه مورد از خدمات شهرداری را بنویسید؟</p>	12
1/5	<p>سه مورد از وظایف هلال احمر را بنویسید؟</p>	13
4	<p>در مورد کلمات زیر توضیح مناسب بنویسید؟</p> <p>الف) استاندارد چیست؟</p> <p>ب) زیستگاه چیست؟</p> <p>ج) نقشه چیست؟</p> <p>د) توزیع چیست؟</p>	
<p>پیروز باشید</p>		

1	الف) ص (ب) ص (ج) غ (د) غ	1
3	الف) دما و بارش (ب) زاگرس - شمال غربی، جنوب شرقی (ج) حقوق متقابل (د) دانش آموز، بیمه گر ه) طبیعی، انسانی - انسانی، طبیعی	2
1	الف) رفع نیاز و خواسته انسان ج) مجلس خبرگان (ب) حق حیات (زندگی) (د) محیط بان	3
1	الف) د (ب) ب (ج) الف (د) ج	4
1	یعنی وظایفی که هر یک از ما به عهده داریم و انتظار می رود آنها را انجام دهیم.	5
1	الف) حفظ حقوق افراد (ب) برقراری نظم و امنیت	6
1	حفظ محیط زیست و وظیفه همگانی است زیرا متعلق به نسل های امروز و فردای جامعه است.	7
1	برای جبران زیان های مالی و جانی به وجود آمده است.	8
1	در کناره های خلیج فارس و دریای عمان از جلگه خوزستان تا بندر چابهار کشیده شده است	9
2	الف) همه قوانینی را که مجلس تصویب می کند با قانون اساسی و احکام اسلام تطبیق می دهد و اگر مغایرت داشت رد می کند یا برمی گرداند تا اصلاح شود ب) بر انتخابات کشور نظارت می کند و پس از بررسی و تایید صلاحیت نامزدهای انتخاباتی به آنها اجازه انتخاب شدن می دهد.	10
1/5	احداث و تعمیر یا آسفالت خیابان ها و ..... برای رفت و آمد مردم ایجاد فضای سبز و کاشت درخت و نهال و احداث پارک و زمین بازی نظارت بر ساخت و سازها یعنی افراد باید از شهرداری پروانه ساختمان بگیرند ایجاد فرهنگسراها و خانه های سلامت برای اوقات فراغت مردم نظافت کوچه ها و خیابان ها و جمع آوری زباله ها نظارت بر حمل و نقل عمومی (اتوبوس، تاکسی، مترو)	11
1/5	کمک به مردم در زمان وقوع حوادث طبیعی یا جنگ کمک رسانی به مجروحین و انتقال آنها به بیمارستان برپایی چادر برای اسکان موقت آسیب دیدگان جمع آوری کمکهای مردمی مانند خوراک، پوشاک، چادر و غیره	12
4	الف) کلمه انگلیسی است به معنای نمونه قابل قبول یعنی ویژگی ها و معیارهایی که برای تولید کالا باید رعایت شود. ب) به منطقه بزرگی که در آن مجموعه ای از گیاهان و جانوران خاص زندگی می کنند. ج) تصویری از سطح زمین است که به نسبت مورد نیاز کوچک شده است د) توزیع در لغت به معنای پخش کردن و فعالیتی است که بین تولید کننده و مصرف کننده رابطه برقرار می کند.	13