

از صحرا باز می گشتم و نسیم ، مانند مادری مهربان و آداب دان که به کودکانخویش حق شناسی و ادب می آموزد ،
سرهای نهال های جوان و بوته های نوزاد خویش را به نشانه ی احترام و وداع با من خم کرده بود.

تا می توانیم ، بیاموزیم. این همه کتاب خوب و مطالب آموختنی ما را به سوی خود می خوانند. کتاب پر راز و رمز آفرینش
و شگفتی های طبیعت ، سرشار از درس ها و اندرزهاست. اگر نیروی جوانی و شادابی و چالاکی این دوره را با تأمل ، تفکر
و بصیرت همراه کنیم ، به شکوفایی خواهیم رسید.

کسی در زندگی موفق است که اکنون فرصت حال را در یابد و همیشه فکر کند که بهترین فرصت من امروز است. امروز
را به فردا افکندنو به امید آینده نشستن ، کار درستی نیست همچنان که امروز را به یادآوری گذشته های از دست رفته ،
گذراندن و افسوس خوردن نیز شایسته نیست .

پدرم می گوید : قلب مهمان خانه نیست که آدم ها بیایند دو سه ساعت یا دو سه روز توی آن بمانند و بعد بروند.

قلب ، لانه ی گنجشک نیست که بهار ساخته شود و در پاییز ، باد آن را با خودش ببرد .

آزمون درس انشا فارسی پایه هفتم - نوبت اول - تاریخ آزمون 1397/10/18 - وقت 60 دقیقه

1- یکی از موضوعات زیر را انتخاب کنید و در پشت برگه انشایی بنویسید.

الف) فصل رنگارنگ و زیبای پاییز را توصیف کنید.

ب) کلاغ

ج) نماز می خوانم زیرا ...

2- معیارهای ارزیابی

الف) پروراندن موضوع و بهره گیری مناسب از شیوه های پرورش فکر

ب) نوشتن بند مقدمه ، بند بدنه و بند نتیجه

ج) استفاده از واژگان مترادف ، متضاد و آرایه های ادبی


د) ساختار زبانی (جمله بندی) و تنوع فعل ها

ه) پاراگراف بندی و حاشیه گذاری


و) املا صحیح واژگان

ز) خط خوش و پاکیزه نویسی

ح) رعایت علائم نگارشی

مهر آموزشگاه  دبیرستان نمونه دولتی شهید بهشتی (تهران)	مدت امتحان	مدیریت آموزش و پرورش ناحیه یک یزد			سوالات ارزشیابی نوبت: نوبت اول	
	60 دقیقه	دبیرستان نمونه دولتی رسولیان دوره اول			درس: معارف اسلامی هفتم	
	تاریخ آزمون				تعداد صفحه و سوال : 2 صفحه 15 سوال	
	/ 10 / 08 97	پایه	کدرانش آموزشی	نام خانوادگی	نام	
جمع نمره:						

ردیف	سؤال	بارم
	با نام و یاد خدا به سؤالات زیر به دقت پاسخ دهید.	
1	آیات شریفه را ترجمه کنید. الف) اِيَّاكَ نَعْبُدُ و اِيَّاكَ نَسْتَعِينُ ب) اِنَّكَ لَعَلَىٰ خَلْقِ عَظِيْمٍ	2
2	الف) یکی از بهترین حالت‌هایی که دعا در آن مستجاب می‌شود هنگام است. ب) استفاده صحیح از نعمت و استفاده ناصحیح از نعمت است.	1
3	شکر واقعی نعمت چیست؟	1
4	منظور از یاری دادن خداوند چیست؟	1/5
5	حالت مومنان را در هنگام مرگ توضیح دهید.	1
6	بنا به سخن ابوذر چرا ما از مرگ می‌ترسیم؟	1
7	انجام چه کارهایی موجب آسانی زندگی در دنیا و آخرت می‌شود؟	1/5
8	دو مورد از آثار صدقه دادن را بنویسید.	1

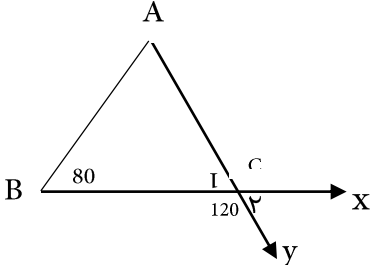
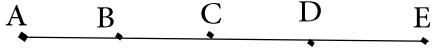
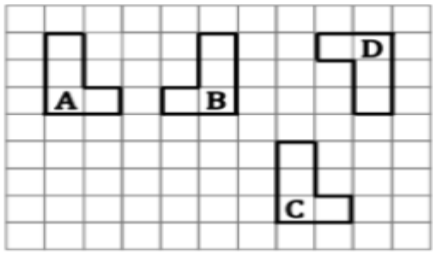
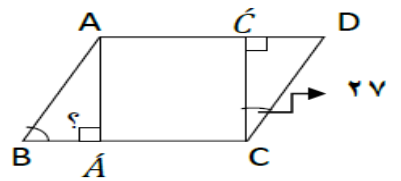
مهر آموزشگاه  دبیرستان نمونه دولتی شهید رجایی (تهران)	مدت امتحان	مدیریت آموزش و پرورش ناحیه یک یزد			سوالات ارزشیابی نوبت: نوبت اول	
	60 دقیقه	دبیرستان نمونه دولتی رسولیان دوره اول			درس: معارف اسلامی هفتم	
	تاریخ آزمون				تعداد صفحه و سوال : 2 صفحه 15 سوال	
	/ 10 / 08 97	پایه	کردارشن آموزی	نام خانوادگی	نام	
جمع نمره:						

ردیف	با نام و یاد خدا به سؤالات زیر به دقت پاسخ دهید.	بارم
9	حضرت علی(ع) چگونه خود را برای مرگ آماده کرده بود که از آن هراسی نداشت؟	1
10	سه ویژگی از ویژگی‌های اخلاقی و رفتار اجتماعی پیامبر را بیان کنید و یک مورد را مختصر توضیح دهید.	2
11	دو نمونه از فداکاری‌های حضرت علی(ع) را بیان کنید.	2
12	ماجرای ليله المبیت را شرح دهید.	2
13	مرد مسیحی چگونه به حقانیت دین اسلام پی برد و مسلمان شد.	1
14	چرا حضرت فاطمه(س) از حضرت علی(ع) چیزی درخواست نمی کرد؟	1
15	پیشنهاد پیامبر به حضرت علی(ع) و حضرت فاطمه(س) در تقسیم کارهای خانه چه بود؟	1

مهر آموزشگاه  دبیرستان نمونه دولتی شهید رجایی (تهران)	مدت امتحان	مدیریت آموزش و پرورش ناحیه یک یزد			سوالات ارزشیابی نوبت: نوبت اول	
	60 دقیقه	دبیرستان نمونه دولتی رسولیان دوره اول			درس: معارف اسلامی هفتم	
	تاریخ آزمون				تعداد صفحه و سوال : 2 صفحه 15 سوال	
	/ 10 / 08 97	پایه	کدرانشن آموزی	نام خانوادگی	نام	
جمع نمره:						

بارم	با نام و یاد خدا به سؤالات زیر به دقت پاسخ دهید.	ردیف
	«موفق و پیروز باشید»	

ردیف	بارم	سوال
۱	۱	جملات درست یا نادرست را مشخص کنید. الف) روی محور اعداد هر عدد از اعداد سمت راستش کوچکتر است. ب) مثلث قائم الزاویه بایک زاویه باز وجود ندارد. ج) چند ضلعیهای محدب همان چند ضلعی های کاوهستند. د) جملات $abc - 5abc$ و cab باهم متشابهند.
۲	۱	جملات زیر را کامل کنید. الف) حاصل تقسیم دو عدد منفی از حاصل جمع همان دو عدد همواره است. ب) تبدیل هندسی جهت شکل را تغییر نمی دهد. ج) قرینه نصف یک عدد به صورت است . د) عدد شمارنده هر عدد طبیعی است.
۳	۱	الف) حاصل کدام گزینه با بقیه متفاوت است. $1+0 \div 5+1$ (۱) $0 \div 5+1$ (۲) $1+(1-1) \times 0$ (۳) $(0 \times 1) \div (1 \times 0)$ (۴) ب) عددهای اول تشکیل دهنده عدد ۴۲ کدام دسته از عددهای زیر است. 5 و 3 (۱) 7 و 1 (۲) 7 و 3 و 5 (۳) 7 و 3 و 7 (۴) ج) اگر $a < b$ و $b > c$ و $c = d$ باشد کدام گزینه صحیح است . $a = d$ (۱) $a < d$ (۲) $a > d$ (۳) $c > d$ (۴) د) اگر روی پاره خط ۳ نقطه بگذاریم تعداد نیم خط ها برابر است با 3 (۱) 6 (۲) 3 (۳) 0 (۴)
۴	۱/۵	پس انداز ماهانه علی ۱۲۰۰۰ تومان است اگر علی شش ماه پس انداز کند ثلث پول کیفی را که دوست دارد بخرد پس انداز کرده است قیمت کیف چقدر است؟ (راهبرد زیر مسئله)
۵	۱	جمله n ام الگوی مقابل نوشته سپس اختلاف جمله دهم و ششم را حساب کنید. و ۳ و ۰ و ۳ -
۶	۱/۵	اگر دمای هوای تهران ۳- درجه و هوای زنجان از دو برابر هوای تهران ۳ درجه سردتر باشد. الف) دمای هوای زنجان چند درجه است؟ ب) میانگین دمای هوای دوشهرچه قدر است؟
۷	۱/۵	الف) حاصل عبارت مقابل را حساب کنید. ب) داخل هر دایره یکی از علامتهای + یا - یا \times قرار دهید تا تساوی برقرار شود. $-36 \bigcirc (+4) \bigcirc (-10) = 4$ $[(-4) \times (-3)] \div [42 \div (-7)] + 2 =$
۸	۱/۵	عبارتهای جبری مقابل را ساده کنید. $4x - 5y + x - 6y =$ $3(2a + 2b) + 3 - 2(a + b)$
۹	۱	معادله مقابل را حل کنید. $9x + 8 = -5x - 12$
۱۰	۱	آیا $x = 3$ جواب معادله ی مقابل می باشد؟ $\frac{x+1}{2} + \frac{x-1}{3} = \frac{1}{6}$

۱	<p>الف) عبارت کلامی جمع خاصیت جا به جایی دارد به صورت جبری بنویسید.</p> <p>ب) مقدار عددی عبارت جبری زیر به ازای $b=3$ و $a=-1$ بدست آورید.</p> $4b - 2a + 1 =$	۱۱
۱	<p>باتوجه به شکل اندازه زاویه های خواسته شده را بنویسید.</p>  <p>$C_1 =$ $A =$</p> <p>زاویه C_1 را با سه حرف بنویسید.</p>	۱۲
۱/۵	<p>در شکل مقابل باتوجه به اینکه $AB=BC=CD=DE$ تساویهای زیر را کامل کنید.</p>  <p>$AD - AC = \dots\dots\dots$</p> <p>$BE = \dots\dots\dots BC$</p>	۱۳
۱/۵	<p>باتوجه به شکل مقابل نوع تبدیل را بنویسید.</p>  <p>$A \longrightarrow B$</p> <p>$C \longrightarrow A$</p>	۱۴
۱/۵	<p>عدد b پس از تجزیه به صورت مقابل است.</p> <p>الف) شمارنده های اول آن را به دست آورید.</p> <p>ب) بزرگ ترین و کوچک ترین شمارنده ی آن را بنویسید.</p> <p>ج) آیا این عدد بر شش بخش پذیر است؟</p> <p>$b = 4 \times 3 \times 12 \times 5$</p>	۱۵
۱/۵	<p>الف) دو عدد به دلخواه بنویسید که فقط شمارنده های ۲ و ۳ و ۷ داشته باشد.</p> <p>ب) عدد $\frac{56}{48}$ را با تجزیه کردن صورت و مخرج به عدد اول ساده کنید.</p>	۱۶
۱	<p>شکل زیر متوازی الضلاع است. دو مثلث هم نهشت را با زبان ریاضی بنویسید و اندازه زاویه خواسته شده بدست آورید</p>  <p>$\hat{B} =$</p>	۱۷
۱	<p>الف) چهار ضلعی مقعری رسم کنید که یکی از زاویه های آن ۹۰ درجه باشد.</p> <p>ب) چند ضلعی منتظم تعریف و یک سه ضلعی منتظم رسم کنید.</p>	۱۸

	مدت امتحان	مدیریت آموزش و پرورش ناحیه یک یزد			سوالات ارزشیابی نوبت: اول	
	50 دقیقه	دبیرستان نمونه دولتی رسولیان دوره اول			درس: زبان خارجه هفتم	
	تاریخ آزمون				تعداد صفحه و سوال: 2 صفحه سوال	
	10 / 19 / 97	پایه	کدرانش آموزی	نام خانوادگی	نام	
	جمع نمره:					

الف: علی متن کوتاهی در باره ی همکلاسی خودش نوشته، به او کمک کنید تا متن را با انتخاب گزینه مناسب کامل کند. در مورد گزینه 5 و 6 به تصاویر دقت کنید: 1/5

This boy is our new classmate,1..... Amin Azari and that2..... is his sister, Mrs. Azari Her3..... name is Leila . She's a4..... . His father is a5..... . His birthday is in Aban. He is6..... years old .

- 1- a. Ms. b. Mr. c. Mrs.
 2 - a. woman b. man c. girl
 3 - a. last b. first c. family
 4 - a. housewife b. teacher c. nurse
 5 - a. mechanic b. pilot c. waiter
 6 - a.fiftyb.five c. fifteen




15
6


1- Who's that girl?
My friend , Mina.

ب - شماره هر سؤال را زیر تصویر مر بوطه بنویسید.

2- Who's this man?
He's our new teacher ,MrKhalili.



3- Who's that woman?
She's Mrs Akbari



4-Who's that boy?
My classmate , Ahmad.

پ - مکالمه ها را به هم وصل کنید ؛ حروف صحیح را داخل دایره بنویسید. ۱/۵

1- Hello, ○ a. I'm Kimia.

2- How are you? ○ b. Hi.

3- What's your name? ○ c. Here's your card.

4- What's your last name? ○ d. My friend, Maryam .

5- How do you spell your last name? ○ My last name is Bahmani.

6- Who's that girl? ○ f. Bahmani . B-H-M-A-N-I.


g. Fine , thanks. ○

ت - شماره هر تصویر را زیر آن بنویسید: 1

What is his job? 1

He's a

- 1- policeman 2- pilot
3- mechanic 4- driver



ث - با توجه به تصاویر؛ صحیح را با و غلط را با مشخص کنید: 1:

a: A: Good morning, Mr. Amir - A: Who is that boy?

B: Good morning.



B: She is my sister, Bita.



c: A: What is his job?

B: He's a painter. He is thirteen years old.



d-A: How old are you?



13



ج - به تصاویر و اطلاعات داده شده توجه کنید، سپس با حروف مناسب؛ کلمه های ناقص را کامل کنید. 2:

Hello, My first name is brahim.

and my last name is Raabi. I am a lorist.

I am twenty seen years old.

My birthday is in Baan.

olnar is my aunt. She is a nure.

Her birthday is in Mardad.



گلنار رجبی
تاریخ تولد:
۱۳۷۲/۰۵/۱۶



ابراهیم رجبی
تاریخ تولد:
۱۳۷۰/۱۱/۲۰

o-v-g-s-e-h-f-j

1. Saturday, _____, Monday,

Tuesday ruesday day dnesday

ج - گزینه صحیح را انتخاب کنید: 5.

2. What's _____? He is a worker.

Her job _____ his uncle's job her aunt's job

خ - ابتدا متن را بخوانید؛ با توجه به متن جدول را کامل کنید: 1

Hello, My name is Susan. I'm a student. I'm seventeen years old and my birthday is in Aban.

My mother, Leila is a housewife. She is forty-three years old.

Name	Age	Month of birth	Mother's name	Mother's job
Susan	_____	_____	_____	_____

خ - دور کلمه متفاوت از نظر معنا و مفهوم خط بکشید.

□ A - { sister * family * brother * Mother }

B - { Amir * Akbar * Ahmad * Akrami }

1

2

3

4

1

2

3

4

Good luck

الف: علی متن کوتاهی در باره ی همکلاسی خودش نوشته، به کمک کنید تا متن را با انتخاب گزینه مناسب کامل کند.

در مرد گزینه 4 و 5 و 6 به تصاویر دقت کنید: 1/5

This boy is our new classmate, 1 Amin Azari and that 2 is his sister, Mrs. Azari Her 3 name is Leila . She's a 4 His father is a 5 His birthday is in Aban. He is 6 years old .

1- a. Ms. b. Mr. c. Mrs.

2 - a. woman b. man c. girl

3 - a. last b. first c. family

4 - a. housewife b. teacher c. nurse

5 - a. mechanic b. pilot c. waite

6 - a.fifty b.five c. fifteen



5



15

6

4

A- Who's that girl?

My friend , Mina.

B- Who's this man?

He's our new teacher , Mr Khalili.


C- Who's that woman?

She's Mrs Akbari

D-Who's that boy?

My classmate , Ahmad.

ب - شماره هر سؤال را زیر تصویر مر بوطه بنویسید. ۱/۵



پ - مکالمه ها را به هم وصل کنید ؛ حروف صحیح را داخل دایره بنویسید. ۱/۵

1- Hello, ○

2- How are you? ○

3- What's your name? ○

4- What's your last name? ○

5- How do you spell your last name? ○

6- Who's that girl? ○

a. I'm Kimia.

b. Hi.

c. Here's your card.

d. My friend, Maryam .

e. My last name is Bahmani.

f. Bahmani . B-H-M-A-N-I.

g. Fine , thanks.


ت - شماره هر تصویر را زیر آن بنویسید: 1

What is his job? 1

He's a _____ .




1- policeman

3- mechanic



2- pilot

4- driver



ت - با توجه به تصاویر؛ صحیح را با و غلط را با مشخص کنید: 1

a: A : Good morning, Mr. Amiri

B: Good morning.



b-A: Who is that boy?

B: She is my sister , Bita.




c : A: What is his job?
you?



B: He's a painter .

d-A : How old are



B: I'm thirteen years old. 13

ج - به تصاویر و اطلاعات داده شده توجه کنید، سپس با حروف مناسب؛ کلمه های ناقص را کامل کنید. 2

Hello, My first name is ____ brahim.

and my last name is Ra ____ abi. I am a ____ lorist.

I am twenty se ____ en years old.

My birthday is in Ba ____ man.

____ olnar is my aunt. She is a nur ____ e.

Her birthday is in M ____ rdad.



گلنار رجبی
تاریخ تولد:
۱۳۷۲/۰۵/۱۶



ابراهیم رجبی
تاریخ تولد:
۱۳۷۰/۱۱/۲۰

o-v-g-s-e-h-f-j

Saturday , _____ , Monday ,

Tuesday



Thursday

Sunday



Wednesday



ج- گزینه صحیح را انتخاب کنید: 15.

What's _____ ? He is a worker.

Her job



her uncle's job



Mrs. Moradi's



ج - ابتدا متن را بخوانید؛ با توجه به متن جدول را کامل کنید: 1

Hello, My name is Susan. I'm a student. I'm seventeen years old and my birthday is in Aban. My mother , Leila is a housewife. She is forty-three years old.

Name	age	Month of birth	Mother's name	Mother's job
Susan	_____	_____	_____	_____

خ - کدام کلمه از نظر معنی و مفهوم با دیگران فرق دارد: ۵/۰

□ A- { sister * family * brother * Mother } B- { Amir *
Akbar * Ahmad * Akram }

1

2

3

4

1


2

3

4


Good luck



مهر	مدت امتحان	مدیریت آموزش و پرورش ناحیه یک یزد			سوالات ارزشیابی نوبت: اول	
	50 دقیقه	دیپستان نمونه دولتی رسولیان دوره اول			درس: زبان عربی هفتم	
	تاریخ آزمون	تعداد صفحه و سوال: 2 صفحه 13 سوال				
	97 / 10 / 17	پایه	کدرانش آموزشی	نام خانوادگی	نام	
	جمع نمره:					

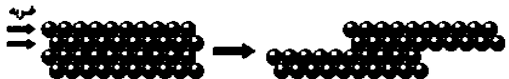
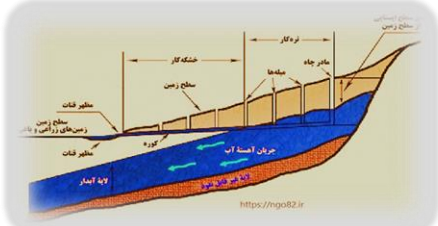
نمره	سوالات	ردیف
1	    <p>نام هر تصویر را بیا بید و بنویس (سیاره - نافذة - حقیبة - مفتاح - کرسی - سائق)</p>	1
1	<p>معنای کلمات مشخص شده را بنویسید. الف) عَلَیْكُمْ بِالسَّلَامِ (.....) ب) خَيْرُ النَّاسِ أَنْفَعُ النَّاسِ (.....) ج) قَرِيبَةٌ مِنْ إِيْلَامٍ (.....) د) سَلَامَةُ الْعَيْشِ فِي الْمُدَارَاةِ (.....)</p>	2
0/5	<p>ترجمه ناقص را کامل کنید. الف- أَلُوْحْدَةُ خَيْرٌ مِنْ جَلِيسِ السُّوءِ. تنهایی بهتر از بد است. ب- الْجَهْلُ مَوْتُ الْأَحْيَاءِ. نادانی مرگ است.</p>	3
2	<p>دو سخن حکیمانه زیر را ترجمه کنید . الف- ادَبُ الْمَرْءِ خَيْرٌ مِنْ ذَهَبِهِ ب- الْخَيْرُ كَثِيرٌ وَفَاعِلُهُ قَلِيلٌ</p>	4
2	<p>ترجمه فارسی جمله های زیر را بنویسید. الف - فِي كُتُبِ الْقَصَصِ عِبْرٌ لِلْأَطْفَالِ ب- لِمَنْ ذَلِكَ الْجَوَالُ الْجَمِيلُ</p>	5
1	<p>کلمات متضاد جمله ها را بیا بید و بنویسد. أَلْقَمُ هُنَاكَ، تَحْتَ الْكُرْسِيِّ وَالْكِتَابُ هُنَا، فَوْقَ الْمُنْضَدَةِ ≠ ≠</p>	6
1	<p>معادل مونث کلمات زیر را بنویسد. الْوَلَدُ (.....) ذَلِكَ (.....) الْأَخُ (.....) هُوَ (.....)</p>	7
1/75	<p>با توجه به جملات داده شده جاهای خالی را کامل کنید. (الضُّيُوفُ فِي الْغُرْفَةِ. الْمُدْرَسَاتُ فِي الصَّفِّ. أَنْتُمْ جَالِسُونَ فِي الْمَسْجِدِ. هَذَا الْوَلَدَانِ، شَجَاعَانِ. فِي الْحَدِيقَةِ، شَجَرَاتٌ) جمع مکسر (.....) جمع مذکر سالم (.....) مثنای مذکر (.....) (.....) مثنای مونث (.....) جمع مونث (.....) سالم (.....) مفرد مؤنث (.....)</p>	8
1	<p>در جاهای خالی اسم اشاره مناسب قرار دهید. (هُوَ لِأَخِي - هَاتَانِ - أُولَئِكَ - هَذَانِ)</p>	9


	<p>مَرَاتَانِ جَالِسَاتٌ. (آن ها)</p> <p>صَادِقَانِ مُجَاهِدُونَ.</p>	
0/5	<p>غلطهای مشخص شده را با توجه به سوال و جواب داده شده تصحیح کنید. و در جای خالی بنویسید.</p> <p>مِنَ الْمُعَلِّمَةِ؟ الْمُعَلِّمَةُ فِي هَذِهِ الصَّفِّ. (.....) (.....).</p>	10
1/25	<p>در جای خالی عدد عربی مناسب بنویسید. و ترجمه عدد ها را در جاهای خالی بنویسید.</p> <p>اثنان + ثلاثة + = عشرة (.....) (.....) (.....) (.....)</p>	11
1	<p>گزینه درست کدام است ؟</p> <p>الف- كَمْ أُسْبُوعًا فِي الشَّهْرِ؟ عَشْرَةٌ أَرْبَعَةٌ</p> <p>ب- مَنَئِنَ أَنْتَ؟ أَنَا إِيرَانِيٌّ أَنَا إِيرَانِيَّةٌ</p> <p>ج- أَوْلَادُكَ الْوَالِدُ..... مُمْتَازُونَ. لَاعِبُونَ لَاعِبَاتٌ</p> <p>د- زَمَانٌ طَوِيلٌ. الْيَوْمَ أَلَسَّنَهُ</p> <p>○ ○</p> <p>○ ○</p> <p>○ ○</p> <p>○ ○</p>	12
1	<p>به پرسشهای زیر پاسخ مناسب دهید. (به عربی)</p> <p>الف- هَلْ أَنْتَ مِنْ مَشْهَدٍ؟</p> <p>ب- كَيْفَ أَنْتَ؟</p> <p>ج- كَمْ عَدَدُ أَفْرَادِ أُسْرَتِكَ؟ أَشْخَاصٍ.</p> <p>د- مَاذَا فَعَلْتَ؟</p>	13
	<p>نمره روان خوانی: نمره مکالمه: نمره برگه: جمع نمره:</p>	

	مدت امتحان	مدیریت آموزش و پرورش ناحیه یک یزد			سوالات ارزشیابی نوبت: نوبت اول	
	60 دقیقه	دبیرستان نمونه دولتی رسولیان دوره اول			درس: علوم تجربی هفتم	
	تاریخ آزمون				تعداد صفحه و سوال: 2 صفحه 12 سوال	
	97 / 10 / 12	پایه	کدرانش آموزی	نام خانوادگی	نام	
جمع نمره:						

پیامبر اعظم (ص): صدقه بجا، نیکوکاری، نیکی والدین و صلوات رحم، بدبختی را به خوشبختی و عمر را از یاد و از پیشامدهای بد جلوگیری میکند.

2	<p>1 اصطلاحات یا کلمات داده شده را تعریف کنید.</p> <p>چگالی:</p> <p>آبتاز:</p> <p>دریاچه:</p> <p>نیرو:</p>
2/25	<p>2 علت هریک از موارد زیر را بنویسید؟</p> <p>برای بهره برداری آبهای زیرزمینی حفر چاه در زمینهای آبرفتی مناسب تر از زمینهای رسی است؟ علت؟.....</p> <p>از آلومینیم در هواپیماسازی استفاده می شود علت؟.....</p> <p>سیاره زمین از فضا به رنگ آبی دیده می شود؟ علت؟.....</p> <p>در ساخت قاشق و چنگال استیل علاوه بر آهن از فلزات نیکل و کروم استفاده می کنند؟ علت؟.....</p> <p>وزنه برداری که وزنه ای را بالای سر خود ثابت نگهداشته هیچ کاری انجام نمی دهد؟ علت؟.....</p>
1/25	<p>3 جاهای خالی را با کلمات داخل کمانک که مقابل آنها نوشته شده ، تکمیل کنید. (فقط دور جواب خط بکشید)</p> <p>آهن + کربن دی اکسید → اکسیدها یا آهن. (کربن - اکسیژن)</p> <p>اتم کربن دارای 6 پروتون می باشد تعداد الکترون های این اتم..... می باشد. (8 - 6)</p> <p>کاربرد های یک ماده به..... آن ماده بستگی دارد. (ویژگیهای - اندازه)</p> <p>در دوران فاعمقدس، رزمندگان برای عبور از رود رود از پدیده..... استفاده میکردند. (امواج دریا - جزر و مد)</p> <p>در تهیه مواد علاوه بر ویژگی های فیزیکی باید به..... و فراوانی آن هم توجه کرد. (چگونگی ذخیره آن - قیمت)</p>
2	<p>4 صحیح یا غلط بودن هر یک را مشخص کنید. (با گذاشتن علامت صیغ در داخل کمانک)</p> <p>1- ماده ی اولی هیدروکربن است. ()</p> <p>2- کربن خاصیت تراکم پذیر دارد. ()</p> <p>3- متان و آب ، در داشتن اتم هیدروژن با هم اشتراک دارند. ()</p> <p>4- مهمترین نکته تهن در علم ، انجام آزمایش است. ()</p> <p>5- مهم ترین ویژگی انرژی قابلیت تبدیل شدن از شکلی به شکل دیگر است. ()</p> <p>6- الماس را می توان در سنگهای رسوبی جست و جو کرد. ()</p> <p>7- افزودن مقدار بزرگ نیتروژن به آب منجمد آن را به یخ تبدیل میکند. ()</p> <p>8- اگر قطر اتبار اندر مسیر پایین آمدن، از توده هوا بسرد عبور کنند، تگرگ تشکیل می شود. ()</p>
1/5	<p>5 هر کدام از عبارات زیر به کدام یک از راههای محافظت از منابع طبیعی اشاره دارد؟</p> <p>الف) از بطری پلاستیکی نوشابه را اینگهدار یا بدریخچال استفاده نمیشود. ()</p> <p>ب) آهن قرصه و قوطیهای فلز یخراشده، را در کارخانه ذوب و به صورت تشمشدر میآورند. ()</p>

1/25	<p>6 گزینیه صحیح را با علامت ضربدر مشخص کنید.</p> <p>1- همهٔ موارد را می توان فناوری حساب کرد به جز:</p> <p>الف) ساخت پهپاد ب) تولید سوخت هسته ای ج) تولید خودرو د) هر 3</p> <p>2- علت تشکیل کدام دریاچه، جمع شدن آب در دهانهٔ آتشفشان خاموش، می باشد؟</p> <p>الف) ارومیهب (سبلانج) خزر د) غار علیصدر</p> <p>3- بزرگترین منبع آبهای شیرین کرهٔ زمین کدامند؟</p> <p>الف) دریاچه ب) یخچالها ج) رودخانه ها د) آبهای زیرزمینی</p> <p>4- یکای کدام یک از ویژگی های داده شده، نیوتن می باشد؟</p> <p>الف) استحکامب (سختیج) چگالید (رسانایی</p> <p>5- انرژی پتانسیل گرانشی به کدام یک از موارد داده شده ، بستگی دارد.</p> <p>الف) ارتفاع از سطح زمین، وزن، جرم جسم، سرعتج) وزن، سرعت د) جهت حرکت، حجم جسم</p>	6
175	<p>7 از روی شکل چکشخوار بودن فلزات را با توجه به ساختار اتمی آنها توضیح دهید؟</p> 	7
2	<p>8 برای هر یک از موارد داده شده یک تفاوت را بنویسید؟</p> <p>1- چگالی اغلب فلزات نسبت به نافلزات.....</p> <p>2- جنبش ذرات گازها با جنبش ذرات جامدات.....</p> <p>3- سواحل صخره ای با سواحل هموار و ماسه ای.....</p> <p>4- سفره های (آبخوان) آب زیر زمینی آزاد با سفره های زیر زمینی تحت فشار.....</p>	8
1	<p>9 به سوالات زیر پاسخ کوتاه دهید.</p> <p>دقت اندازه گیری ، علاوه بر دقت شخصی که اندازه گیری می کند به چه چیز دیگری بستگی دارد؟.....</p> <p>یکی از کاربردهای نمک طعام را نام ببرید.</p> <p>یک نمونه از کاربردهای مواد هوشمند را نام ببرید.</p> <p>اگر رودخانه در مسیر خود به محلی برسد که به طور ناگهانی دچار اختلاف ارتفاع شود چه چیز به وجود می آید؟.....</p> <p>به سطح بالایی منطقه اشباع (مرز بین منطقه اشباع و منطقه تهویه) چه می گویند؟.....</p>	9
15	<p>10 دلایل اهمیت دریاچه ها را بنویسید؟ (2 مورد)</p>	10
175	<p>11 در شکل مقابل:</p> <p>الف) کدام یک از راههای استخراج آبهای زیرزمینی را نشان می دهد؟.....</p> <p>ب) یک راه دیگر برای استخراج آبهای زیر زمینی را بنویسید؟.....</p> <p>ج) یک ویژگی آبهایی که از این طریق بدست می آید را نسبت به آبهای سطحی بنویسید؟.....</p> 	11
175	<p>12 جسمی به جرم 800 کیلوگرم را تا ارتفاع 6متر بالا برده ایم چه مقدار کار انجام شده است؟ (نوشتن فرمول لازم است)</p> <p>موفق باشید</p>	12

مهر	مدت امتحان	مدیریت آموزش و پرورش ناحیه یک یزد			سوالات ارزشیابی نوبت: نوبت اول
	50 دقیقه	دبیرستان نمونه دولتی رسولیان دوره اول			درس:
	تاریخ آزمون				تعداد صفحه و سوال: 2 صفحه 6 سوال کلی
	97 / 10 / 15	پایه	کردانش آموزی	نام خانوادگی	نام
	جمع نمره:				

بارم	صفحه 1	ردیف
2	<p>گزینه صحیح را انتخاب کنید.</p> <p>1. شکرگذار بودن یعنی چه؟ الف) استفاده صحیح از نعمت‌ها □ ب) قدر نعمت‌ها را دانستن و به هدر ندادن آنها □ ج) اطاعت از دستورات خداوند □ د) گزینه الف و ب درست است. □</p> <p>2. کوه‌های خراسان در کدام قسمت ایران قرار دارد؟ الف) شمال غربی □ ب) جنوب غربی □ ج) شمال شرقی □ د) جنوب شرقی □</p> <p>3. ایران در کجای قاره آسیا قرار دارد؟ الف) جنوب غربی آسیا □ ب) جنوب آسیا □ ج) غرب آسیا □ د) شمال غربی آسیا □</p> <p>4. مهم‌ترین عناصر آب و هوا کدامند؟ الف) دما و جهت وزش باد □ ب) بارش و سرعت وزش باد □ ج) بارش و جهت وزش باد □ د) دما و بارش □</p>	1
2	<p>در جاهای خالی کلمات مناسب بنویسید.</p> <p>1. مرطوب‌ترین و پر باران‌ترین ناحیه آب و هوایی ایران ناحیه است.</p> <p>2. یکی از مشاغل مهم در سازمان حفاظت محیط زیست است.</p> <p>3. شش نفر از حقوق‌دانان شورای نگهبان از طرف به مجلس معرفی می‌شوند.</p> <p>4. برای تولید هر محصول نیروی انسانی باید و داشته باشد.</p> <p>5. در جوامع امروزی مصرف‌گرایی به شدت به آسیب رسانده است.</p> <p>6. مؤسسه بیمه برای جبران زیان‌های و به وجود آمده است.</p>	2
2	<p>صحیح و غلط بودن جملات زیر را مشخص کنید.</p> <p>1. خداوند انسان را عزیز و محترم و گران‌قدر آفریده و آنها را بر بسیاری از مخلوقات دیگر برتری بخشیده است. ص □ غ □</p> <p>2. با استفاده از مقیاس خطی می‌توانید فاصله‌ی واقعی مکان‌ها را روی زمین محاسبه کنید. ص □ غ □</p> <p>3. جمعیت هلال احمر در شرایط عادی برای صلح و جنگ و حفظ محیط زیست تلاش می‌کند. ص □ غ □</p> <p>4. همیاری یعنی این که خود را به جای فرد دیگر که دچار حادثه شده بگذاریم و شرایط او را درک کنیم. ص □ غ □</p>	3
2/5	<p>به سؤالات زیر پاسخ کوتاه دهید.</p> <p>1. مهمترین حق انسان‌ها چیست؟</p> <p>2. دو مورد از مسئولیت فرزندان نسبت به پدر و مادر را بنویسید. 1.</p> <p>3. نقشه چیست؟</p> <p>4. دو دشت وسیع ایران را نام ببرید. 1.</p> <p>5. مهمترین عاملی که موجب تنوع زیستگاه‌ها در کشور شده چیست؟ 2.</p>	4

1. عوامل تولید را نام ببرید. (0/75 نمره)

2. سه مورد از مناطق حفاظت شده کشورمان را نام ببرید. (0/75 نمره)

1. 2. 3.

3. منظور از حق چیست؟ (1 نمره)

4. مهم علل پدید آمدن قانون و مقررات را نام ببرید. (1 نمره)

5. دو وظیفه مهم شورای نگهبان را بنویسید. (1 نمره)

1- 2-

6. وظایف بیمه مرکزی را بنویسید. (2 مورد) (1 نمره)

1. 2.

7. معمولاً چه اطلاعاتی روی برجسب کالاها وجود دارد؟ (4 مورد) (2 نمره)

1. 2. 3. 4.

8. زیستگاه را تعریف کنید. (1 نمره)

9. ویژگی‌های طبیعی هر مکان شامل چه مواردی است؟ (4 مورد) (1 نمره)

1. 2. 3. 4.

10. بیمه اجباری و بیمه اختیاری را تعریف کنید. (1 نمره)

از روی نقشه پاسخ دهید.

1. نام دریا ؟
2. نام قلّه ای ؟
3. نام جلگه ای ؟
4. نام قلّه ای ؟

