
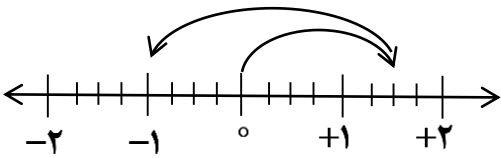
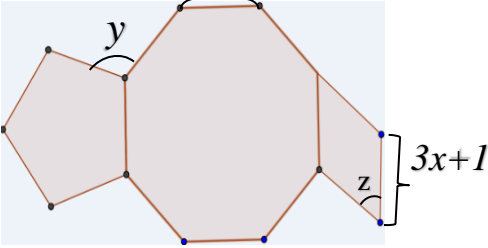




۱/۲۵	<p>۴ به سوالات زیر پاسخ دهید .          الف) کوچکترین عدد طبیعی فرد که دارای سه شمارنده اول متمایز است ؟          ب) عدد طبیعی بنویسید که فقط شمارنده های اول آن ۳ و ۲ باشد.          ج) آیا اعداد قسمت الف و ب بر ۶ بخش پذیر است؟          د) متوازی الاضلاعی که فقط تمام ضلع هایش مساوی باشد؛ چه نامیده می شود؟          ه) عبارت <math>2n - 1</math> چه اعدادی را نمایش می دهد؟</p>	۴																														
۱	<p>۵ در شکل های زیر مقدار <math>x</math> و <math>y</math> را بیابید.</p> 	۵																														
۰/۷۵	<p>۶ برای محور زیر یک جمع بنویسید.</p> 	۶																														
۰/۷۵	<p>۷ مقدار عددی عبارت زیر را به ازای مقادیر داده شده بیابید .  <math>x = -1</math> , <math>y = 1</math>      <math>x^2 + 2xy + y^3</math></p>	۷																														
۱/۵	<p>۸ کسر های زیر را ساده کنید .</p> $\frac{-8 \times (-18)}{12 \times 16} = \quad \quad \quad \frac{5 \times (-6)}{(-12) \times 10} =$	۸																														
۱/۵	<p>۹ اعداد اول کوچکتر از ۳۰ را به روش غربال تعیین کنید و روش کار را به طور خلاصه توضیح دهید</p> <table border="1" data-bbox="199 1702 1380 1859"> <tr><td>۱</td><td>۲</td><td>۳</td><td>۴</td><td>۵</td><td>۶</td><td>۷</td><td>۸</td><td>۹</td><td>۱۰</td></tr> <tr><td>۱۱</td><td>۱۲</td><td>۱۳</td><td>۱۴</td><td>۱۵</td><td>۱۶</td><td>۱۷</td><td>۱۸</td><td>۱۹</td><td>۲۰</td></tr> <tr><td>۲۱</td><td>۲۲</td><td>۲۳</td><td>۲۴</td><td>۲۵</td><td>۲۶</td><td>۲۷</td><td>۲۸</td><td>۲۹</td><td>۳۰</td></tr> </table>	۱	۲	۳	۴	۵	۶	۷	۸	۹	۱۰	۱۱	۱۲	۱۳	۱۴	۱۵	۱۶	۱۷	۱۸	۱۹	۲۰	۲۱	۲۲	۲۳	۲۴	۲۵	۲۶	۲۷	۲۸	۲۹	۳۰	۹
۱	۲	۳	۴	۵	۶	۷	۸	۹	۱۰																							
۱۱	۱۲	۱۳	۱۴	۱۵	۱۶	۱۷	۱۸	۱۹	۲۰																							
۲۱	۲۲	۲۳	۲۴	۲۵	۲۶	۲۷	۲۸	۲۹	۳۰																							
۱	<p>۱۰ آیا عدد ۲۷۱ اول است یا مرکب؟ چرا؟ (با روش تقسیم های متوالی)</p>	۱۰																														

۲	<p>حاصل عبارت های زیر را به ساده ترین صورت بنویسید.</p> $8 \div 2 \times 4 - 5 =$ $\left(\frac{2}{10} + \left(-\frac{4}{5}\right)\right) \div \left(+2\frac{2}{5}\right) =$	۱۱
۱/۵	<p>عبارت های جبری زیر را به ساده ترین صورت بنویسید.</p> $\Delta x(2x - 3) - 4x^2 + \Delta x =$ $(a - 4)(a + 4) =$	۱۲
۱	<p>عبارت های زیر را تجزیه کنید و در صورت امکان ساده کنید .</p> $\frac{ab+ac}{ab-ac} =$ $4x^2y - 8xy^2 =$	۱۳
۱/۷۵	<p>در شکل زیر مقادیر مجهول را بیابید. (چند ضلعی سمت راست لوزی و دو چند ضلعی دیگر منتظم هستند)</p> <p><math>x=?</math> <math>y=?</math> <math>z=?</math></p> 	۱۴
۱	<p>معادله زیر را حل کنید .</p> $\frac{a-1}{2} - \frac{a+1}{3} = \frac{1}{6}$	۱۵
۱	<p>از ۵ برابر عددی ۶ واحد کم کرده ایم؛ حاصل ۲ برابر عدد شده است؛ آن عدد چند است؟ (از راه معادله)</p>	۱۶

کسی اما نمیداند که با حاصل چه باید کرد"

\*\*\*\*

"تمام عمرمان سرگرم جمع و ضرب و تقسیم"

موفق باشید

دی ۹۸

## متن تقریری املا هشتم : پایان ترم اول

خانواده کوچکترین بخش اجتماع است و برای خود هنجار و حریم و قانون و آدابی دارد. اهل هر خانواده متناسب با آن آداب و معیارهای اخلاقی، تربیت می‌شوند و حریم و حرمت یکدیگر را پاس می‌دارند. هر کس به آسانی نمی‌تواند حصار خانواده را فرو بریزد و وارد فضای پاک و امن آن بشود.

متن حماسی با حالت پهلوانی و پیکارگرانه خوانده می‌شود و متنی که ستایش و نیایش پروردگار را بازگو می‌کند با حالت فروتنی و خاکساری خوانده می‌شود.

زندگی کردن به یادگیری اصول و روش‌هایی نیاز دارد. زندگی یک سفر است مدت این سفر برای عده‌ای کم و برای عده‌ای دیگر طولانی و پر فراز و نشیب است. اگر همیشه خود را یک مسافر به حساب بیاوریم باید ویژگی‌های یک مسافر دائمی را در خود ایجاد کنیم و مهارت‌های لازم را برای کم کردن دشواری‌های سفر و لذت بخش کردن آن بیاموزیم.

دشمنان تیره رأی و خیره روی ما نیز به ناچار این سرزمین را بدین نام سپند و ارجمند می‌نامند و ایرانیان را به پاس آزادگی‌شان می‌ستایند. بدین‌سان برترین و گرامی‌ترین ارمغان ایران به دیگر سرزمین‌ها، اندیشه و خرد و فرهنگ بوده است.

انشاء هشتم : پایان ترم اول

طراح : آقای منصوری

زمان : ۶۰ دقیقه

از چهار موضوع زیر یکی را انتخاب نموده و با توجه به آموخته‌های کتاب نگارش خود انشایی بنویسید.

در انشای خود به نکات زیر توجه داشته باشید :

۱ - رعایت حاشیه گذاری و بند نویسی.

۲ - داشتن چهار رکن اصلی (موضوع - مقدمه (بخش آغازین) - بدنه (بخش میانی) - نتیجه (بخش پایانی)).

۳ - زیبا نویسی و رعایت علائم نگارشی و نکات املائی

موضوع‌ها :

۱ - کلاغ خواست راه رفتن کبک را یاد بگیرد، راه رفتن خودش را هم فراموش کرد.

۲ - آنچه در مسیر خانه تا مدرسه می‌بینیم.

۳ - ایران من.

۴ - موضوع آزاد

---

---

---

---

---


---


---

---

---

---



مهر آموزشگاه	مدت امتحان	مدیریت آموزش و پرورش ناحیه یک یزد			سوالات ارزشیابی نوبت: اول	
	۴۰ دقیقه	دبیرستان نمونه دولتی رسولیان دوره اول			درس: زبان انگلیسی هشتم	
	تاریخ آزمون				تعداد صفحه و سوال : ۲ صفحه و ۷ سوال	
	۹۸ / ۱۰ / ۱۹	پایه	کدرانش آموزشی	نام خانوادگی	نام	
جمع نمره: ۱۰	هشتم	۸۳۱۶	طباطبائی عقدا	سید محمد حسین		

بارم	متن سوال	ردیف
------	----------	------

عدد مربوط به هر جمله را زیر تصویر مناسب آن بنویسید.



برزیل



Google



چس



درد شکم

۱. He is originally Brazilian.                      2. They can play chess.

3. Shayan has a stomachache.                      4. I can search the web well.

با توجه به تصاویر زیر به سوالات مربوط به آن تصاویر پاسخ مناسب دهید؟

1) A: When do you go shopping?  
B: .....

تیر  
سه شنبه  
۱۶ شوال ۱۴۳۸

2) A: Is he good at taking photos?  
B: No, he isn't. He is good at .....



3) A: Can he ride a bicycle?  
B: No, he can't. He can .....



4) A: What's wrong?  
B: He has a .....



هر عبارت سمت چپ را به عبارت مربوط به آن در سمت راست وصل کنید.

<p>When can you start? ●</p> <p>I have a toothache. ●</p> <p>What's the matter? ●</p> <p>Can you help her? ●</p>	<p>● Go to the dentist.</p> <p>● This evening.</p> <p>● Sure.</p> <p>● He has an earache.</p>
--	---

کلمات داخل کادر را در جملات زیر به کار ببرید. (یک کلمه اضافی می باشد)

speak , do , live , visit , typing , study , recite

I stay at home and ..... my lessons.

۱.۵ We ..... our relatives on Fridays.

They are originally Iranian, but they .....in France.

He can ..... the Holy Quran.

He can ..... a puzzle, but not very well.

He is good at ..... a text.

۴

دور گزینه صحیح خط بکشید.

1. A: ..... days do you go to the gym? B: On Mondays.

a) When b) How c) What d) Who

2. A: What's "ظهر" in English? B: That is .....

a) midnight b) midday c) sunrise d) sunset

3. A: I have a backache. B: You should .....

a) go to dentist b) go to library c) rest d) cook

4. A: Are you British? B: Yes, .....

a) you are b) they are c) we are d) he is

۵

مارک متنی را در مورد خودش نوشته است. جدول زیر را در مورد وی کامل کنید.

I'm Mark Smith. I'm from Spain. It is a beautiful country in Europe. I'm a student. I go to school in the morning. I go to English class on Sundays and Tuesdays. I'm good at speaking English. I can't take photos. I have an earache and I can't go to school today.

۲

۶

Country	Continent	Ability	Health problem

در مورد خودتان به سوالات زیر پاسخ دهید؟

1. Where are you from? .....

2. What do you do in the afternoons? .....

3. Can you play ping-pong? .....

۱.۵

۷

Good Luck - Shadanpour

Reading & Writing: ..... Speaking: ..... Listening: ..... Final Score: .....



تاریخ امتحان: ۱۳۹۸/۱۰/۱۱  
 نوبت: اول  
 مدت امتحان: ۷۰ دقیقه  
 تعداد صفحات: ۴ صفحه

مدیریت آموزش و پرورش ناحیه یک یزد  
 واحد سنجش و ارزشیابی  
 امتحان علوم پایه هشتم دوره اول متوسطه

نام: .....  
 نام خانوادگی: .....  
 نام پدر: .....  
 شماره داوطلب: .....

نمره آزمون:	نمره آزمایشگاه:	نمره نهایی به عدد و حروف:	نام دبیر:	تاریخ و امضا:
ردیف	سوالات			بارم
<b>جاهای خالی را با کلمات مناسب داخل پرانتز کامل کنید</b>				
۱	در تقسیم رشتمان ( میتوز ) از یک یاخته ..... یاخته به وجود می آید. ( دو - چهار )	۰/۲۵		
۲	هورمون کاهنده قند خون ..... نام دارد. ( انسولین - گلوکاگون )	۰/۲۵		
۳	بافت پیوندی که ماهیچه را به استخوان متصل می کند ..... نام دارد. ( زردپی - رباط )	۰/۲۵		
۴	بار الکتریکی الکترون ..... است. ( منفی - مثبت - خنثی )	۰/۲۵		
<b>جملات درست و نادرست را مشخص کنید</b>				
۱	با قراردادن میخ آهنی در محلول کات کبود روی میخ رسوب قرمز رنگی تشکیل میشود که نشان دهنده یک تغییر شیمیایی است.	۰/۲۵		
۲	رشد بهتر اندام ها به ویژه مغز در کودکی بر عهده غده هیپوفیز است.	۰/۲۵		
۳	برنج طلایی دارای ماده ای است که در بدن ما به ویتامین B تبدیل می شود.	۰/۲۵		
۴	در محلول ها، جزئی که مقدارش بیشتر است حل شونده می باشد.	۰/۲۵		
<b>بهترین گزینه را انتخاب کنید</b>				
۱	کدام یک از مواد زیر خاصیت اسیدی دارد؟ (۱) تخم مرغ PH= ۷/۸ <input type="checkbox"/> (۲) پاک کننده PH= ۱۱ <input type="checkbox"/> (۳) شربت معده PH= ۱۰/۵ <input type="checkbox"/> (۴) گوجه فرنگی PH= ۴/۵ <input type="checkbox"/>	۰/۲۵		
۲	گاز سمی حاصل از سوختن چوب در یک فضای بسته کدام است؟ (۱) کربن دی اکسید <input type="checkbox"/> (۲) نیتروژن دی اکسید <input type="checkbox"/> (۳) کربن مونوکسید <input type="checkbox"/> (۴) بخار آب <input type="checkbox"/>	۰/۲۵		
۳	نشانه شیمیایی کدام عنصر درست نوشته نشده است؟ (۱) فلور F <input type="checkbox"/> (۲) بور B <input type="checkbox"/> (۳) هلیوم H <input type="checkbox"/> (۴) کربن C <input type="checkbox"/>	۰/۲۵		
۴	گره حیات در کدام قسمت دستگاه عصبی قرار دارد؟ (۱) نخاع <input type="checkbox"/> (۲) مخ <input type="checkbox"/> (۳) بصل النخاع <input type="checkbox"/> (۴) مخچه <input type="checkbox"/>	۰/۲۵		

به سوالات زیر پاسخ کوتاه دهید

۰/۵	گازهای اصلی تشکیل دهنده هوا را نام ببرید؟	۱
۰/۵	تغذیه سالم و ورزش می تواند خطر سکته قلبی را در افرادی که که ژن مربوط به آن را دارند کاهش دهد، به نظر شما این موضوع تاثیر چه عاملی را بر صفات نشان می دهد؟	۲
۰/۵	چرا مصرف غذاهای یددار برای بدن مفید است؟	۳
۰/۵	چگونه مزه غذاها را تشخیص می دهیم؟	۴
۰/۵	مرکز هر یک از حس های زیر کدام بخش دستگاه عصبی است؟ حس بینایی) ( حس شنوایی) (	۵

مفاهیم زیر را توضیح دهید

۰/۵	ایزوتوپ :	۱
۰/۵	مخلوط همگن:	۲
۰/۵	مفصل:	۳

وصل کنید

۱	هریک از عبارتهای ستون الف فقط با یکی از موارد ستون ب ارتباط دارد. عبارت و کلمه مناسب را به هم وصل کنید.	۱												
	<table border="1"> <thead> <tr> <th>ب</th> <th>الف</th> </tr> </thead> <tbody> <tr> <td>مخ</td> <td>مرکز واپایش (کنترل) تنفس فشارخون است.</td> </tr> <tr> <td>مخچه</td> <td>باعث حفظ تعادل بدن می شود.</td> </tr> <tr> <td>بصل النخاع</td> <td>رابط مغز و بخش محیطی دستگاه عصبی است.</td> </tr> <tr> <td>ساقه مغز</td> <td>بیشتر حجم مغز ما را تشکیل می دهد.</td> </tr> <tr> <td>نخاع</td> <td></td> </tr> </tbody> </table>	ب	الف	مخ	مرکز واپایش (کنترل) تنفس فشارخون است.	مخچه	باعث حفظ تعادل بدن می شود.	بصل النخاع	رابط مغز و بخش محیطی دستگاه عصبی است.	ساقه مغز	بیشتر حجم مغز ما را تشکیل می دهد.	نخاع		
ب	الف													
مخ	مرکز واپایش (کنترل) تنفس فشارخون است.													
مخچه	باعث حفظ تعادل بدن می شود.													
بصل النخاع	رابط مغز و بخش محیطی دستگاه عصبی است.													
ساقه مغز	بیشتر حجم مغز ما را تشکیل می دهد.													
نخاع														

تاریخ امتحان: ۱۳۹۸ / ۱۰ / ۱۱  
 نوبت: اول  
 مدت امتحان: ۷۰ دقیقه  
 تعداد صفحات: ۴ صفحه

مدیریت آموزش و پرورش ناحیه یک یزد  
 واحد سنجش و ارزشیابی  
 امتحان علوم پایه هشتم دوره اول متوسطه

نام: .....  
 نام خانوادگی: .....  
 نام پدر: .....  
 شماره داوطلب: .....

به سوالات زیر پاسخ کامل دهید

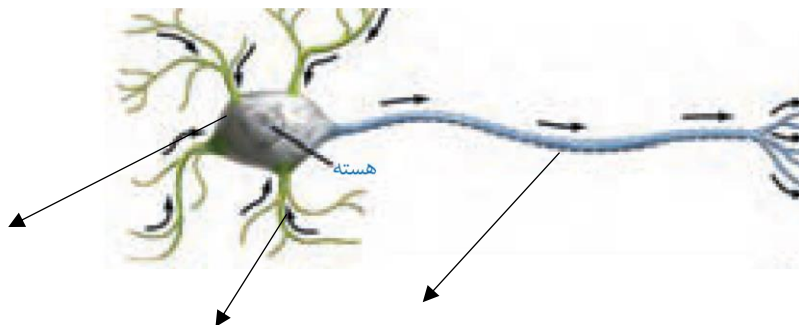
<p>۰/۲۵ ۰/۵</p>	<p>۱ در شکل مقابل اگر گلوله های سیاه نشانه الکترون باشد:                  الف) این ذره خنثی ، یون منفی یا یون مثبت است؟                  ب) اگر نشانه شیمیایی این ذره A باشد، عدد اتمی و عدد جرمی را کنار آن نمایش دهید.</p> 	<p>۱</p>
<p>۱</p>	<p>۲ <u>دو تفاوت</u> ماهیچه اسکلتی ( ماهیچه دست ) و ماهیچه صاف ( ماهیچه لوله گوارش ) را بنویسید.</p>	<p>۲</p>
<p>۱</p>	<p>۳ آ) معادله شیمیایی زیر را کامل کنید.                  گرماو نور + ..... + کربن دی اکسید <math>\xrightarrow{\text{گرما}}</math> اکسیژن + شمع                  ب) واکنش دهنده ها را مشخص کنید.</p>	<p>۳</p>
<p>۰/۷۵</p>	<p>۴ در ماده زمینه ای بافت استخوانی علاوه بر رشته های پروتئینی چه ماده ای وجود دارد؟                  - دو <u>وظیفه</u> استخوان ها برای بدن را بنویسید.</p>	<p>۴</p>
<p>۰/۲۵ ۰/۲۵</p>	<p>۵ هریک از کارهای زیر مربوط به کدام غده بدن می باشد؟                  تنظیم رشد قد بدن ( )                  مقابله با شرایط دشوار روحی و جسمی ( )</p>	<p>۵</p>
<p>۰/۷۵</p>	<p>۶ مدل زیر را کامل کنید +                  با اثر بر روی } غده                  با اثر بر روی } پاراتیروئید                  با اثر بر روی }                  استخوان باعث.....                  باعث افزایش باز جذب کلسیم از ادرار می شود.                  باعث افزایش جذب کلسیم می شود.</p>	<p>۶</p>

۷ دانشمندان چگونه از باکتری برای تولید انسولین استفاده می کنند؟

.۱۵

قسمت های مشخص شده روی شکل را نامگذاری و جدول را کامل کنید.

.۷۵



۱

۱

وسيله جداسازی اجزا	نام مخلوط
.....	شیر
دستگاه تقطیر	.....
قیف جدا کننده	.....
.....	شیر و ماسه

۲

موفق و پیروز باشید

به نام خدا

پایه هشتم

امتحان شنیداری زبان انگلیسی

نام :

تاریخ :

نام خانوادگی :

به مکالمه گوش دهید و جدول زیر را کامل کنید .

conversation	Name	Nationality
1	John <input type="radio"/> Jack <input type="radio"/> George <input type="radio"/>	

Conversation	When	What
2	Weekday <input type="radio"/> Weekend <input type="radio"/> Wednesday <input type="radio"/>	Stay at home <input type="radio"/> Study lessons <input type="radio"/> Play sports <input type="radio"/>

با دقت به فایل صوتی گوش دهید و نام هر فرد را زیر تصویر مربوط به وی بنویسید.

Daniyal

Mohsen

Reza

Aidin



به فایل صوتی گوش کنید و نام هر فرد را به بیماری آن وصل کنید.

1.Matin	a.backache	
2.Mr.Alavi	b.sneeze	
3.Nima	c.cough	
4.Omid	d.earache	

Good Luck "Shadanpour"

به نام خدا

نام : \_\_\_\_\_  
 نام خانوادگی : \_\_\_\_\_

هشتم بهشتی  
 تاریخ : \_\_\_\_\_

امتحان شنیداری زبان انگلیسی

به مکالمه گوش دهید و گزینه مناسب را انتخاب کنید .

conversation	Name	Nationality
1	Mark <input type="radio"/>	
	Michael <input type="radio"/>	
	Martin <input type="radio"/>	

Conversation	When	What
2	Weekday <input type="radio"/>	Stay at home <input type="radio"/>
	Weekend <input type="radio"/>	Study lessons <input type="radio"/>
	Wednesday <input type="radio"/>	Play sports <input type="radio"/>

با دقت به فایل صوتی گوش دهید و نام هر فرد را به فعالیت مربوط به خودش وصل کنید .

1. Danial	a. take photos	
2. Mohsen	b. swim	
3. Reza	c. play football	
4. Aidin	d. draw	

به فایل صوتی گوش کنید و نام هر فرد را زیر تصویر مربوط به وی بنویسید.

Matin  
 Mr. Alavi  
 Nima  
 Omid



--	--	--	--

Good Luck "Shadanpour"

	<p>بسمه تعالی</p> <p>نام و نام خانوادگی: اداره کل آموزش و پرورش استان یزد</p> <p>نام پدر: مدیریت آموزش و پرورش ناحیه یک یزد</p> <p>دوره تحصیلی: متوسطه اول آموزشگاه: .....</p> <p>پایه هشتم کلاس: .....</p> <p>تاریخ: ۹۸/۱۰/۹</p> <p>درس: عربی</p> <p>تعداد صفحه: ۲</p> <p>تعداد سوال: ۱۶</p> <p>زمان: ۴۵ دقیقه</p>	
	<p>نمره با عدد: ..... نمره با حروف: ..... امضاء دبیر:</p>	
۴	<p>جمله های عربی داده شده را ترجمه کنید.</p> <p>الف: إِنَّ اللُّغَةَ الْعَرَبِيَّةَ مِنَ اللُّغَاتِ الْعَالِيَةِ .</p> <p>ب: لِأَنَّهَا عَمَلٌ مُّهِمٌّ لِنَتَقَدُّمِ الْبِلَادِ .</p> <p>ج: نَحْنُ نَعِيشُ مَعَ الْإِنْسَانِ وَنُخْدِمُهُ .</p> <p>د: فَكَيْفَ مَا رَأَيْتَكَ حَتَّى الْآنَ ؟</p>	۱
.۵	<p>فقط کلمه ی مشخص شده را ترجمه کنید.</p> <p>الف: بَعْدَمَا يَسْمَحُ لِي وَالِدِي .</p> <p>ب: أَنْتَ سَتَغْرُقُ فِي الْمَاءِ .</p>	۲
.۵	<p>الف: أَنْتَ تَفْحَصُ الْمَرْضَى .</p> <p>۱-تویپاران را مداوا می کنی. ( )</p> <p>۲-تویپاران را معاینه می کنی. ( )</p> <p>ب: أَنَا نَجَارٌ. سَأَصْنَعُ كُرْسِيًّا خَشَبِيًّا.</p> <p>۱-من نجار هستم. یک صندلی چوبی می سازم. ( )</p> <p>۲-من نجار هستم. صندلی چوبی خواهم ساخت. ( )</p>	۳
.۵	<p>کلمه های مترادف و متضاد را دو به دو کنار هم بنویسید. آتی -شراء -رأى -جاء -بيع -قادم</p> <p>مترادف: .....=..... متضاد: .....#.....</p>	۴
.۵	<p>کلمه ناهم‌هنگ را در هر گروه مشخص کنید.</p> <p>الف: عَزَالَةٌ ( ) بَقْرَةٌ ( ) غَرَابٌ ( ) مِصْبَاحٌ ( )</p> <p>ب: تَذَهَبُ ( ) تَجْلِسِينَ ( ) أَقْدِرُ ( ) أَكَلٌ ( )</p>	۵
.۵	<p>نام هر تصویر را زیر آن بنویسید.</p> <div style="display: flex; justify-content: space-around;"> <div data-bbox="478 1612 813 1836">  <p>ب: .....</p> </div> <div data-bbox="973 1579 1412 1836">  <p>الف: .....</p> </div> </div>	۶
.۵	<p>در عبارت زیر فعل ماضی ومضارع را مشخص کنید.</p> <p>تِلْكَ الْبَقْرَةُ أَكَلَتِ الطَّعَامَ وَ هَذَا الْعُصْفُورُ يَشْرَبُ الْمَاءَ.</p> <p>ماضی: ..... مضارع: .....</p>	۷

۸	هریک از عبارت های ستون «الف» را به گزینه ی مناسبی در ستون «ب» وصل کنید.یک کلمه اضافی است.	<ul style="list-style-type: none"> <li>قطرة جارية من العين.</li> <li>يفحص عيون الناس .</li> <li>كتابٌ يشرح معاني الكلمات.</li> <li>مكان الصلاة عند المسلمين .</li> </ul>	<ul style="list-style-type: none"> <li>• المسجد</li> <li>• المعجم</li> <li>• الدمع</li> <li>• طبب العيون</li> <li>• المختبر</li> </ul>
۹	درستی یا نادرستی عبارت های زیر را بر اساس واقعیت مشخص کنید.	الف: عدد الأيام الأسبوع سبعة.	ص ( ) غ ( )
		ب: العقل حفظ التجارب.	ص ( ) غ ( )
		ج: أكثر خطايا ابن آدم في لسانه	ص ( ) غ ( )
۱۰	در جای خالی فعل ماضی و مضارع مناسب بنویسید.	الف: أنا.....إلى المسجد.	ذَهَبْنَا ( ) أَذْهَبُ ( )
		ب: أثنًا.....صديقًا.	ذَكَرْنَا ( ) ذَكَرْتُمْ ( )
		ج: هذه الفلاحة.....المحصول في المزرعة تحصدين ( )	تَحْصَدُ ( )
۱۱	ترجمه کنید.	الف: العلم أفضل من العبادة. /۵	.....
		ب: غاية العقل الاعتراف بالجهل. /۷۵	.....
		ج: السكوت ذهب والكلام فضة. /۷۵	.....
۱۲	متن زیر را بخوانید و به سوالات پاسخ دهید.	فاطمة طالبة في الصف الثامن هي جاءت من مدينة مشهد إلى طهران هي طالبة جديدة في المدرسة والداها طيبان. هي تعيش في الساحة خراسان. هي تحب طب العيون سوف تصير طبيبة لخدمة الناس.	
		الف: في أي صف فاطمة؟	ب: أين تعيش فاطمة؟
		ج: ماذا سوف تصير فاطمة في المستقبل؟	د: هل فاطمة من طهران؟
۱۳	هر کلمه را در جای مناسب آن در جدول قرار دهید.یک کلمه اضافی است.	مُدْرِسُونَ - حَيَاظَتَانِ - بَقْرَةٌ - مَعْلَمَاتٍ - رَسَائِلُ -	
		مفرد مؤنث	جمع مذکر سالم
		جمع مکسر	جمع مؤنث سالم
۱۴	گزینه درست را انتخاب کنید .	من هي أم الأب؟	أجد ( ) أجدة ( )
		ب: أين مكان الأشجار؟	في الحديقة ( ) في الفلاح ( )
۱۵	به عربی پاسخ دهید؟	الف: من يطبخ الخبز؟	ب: من يصنع الأبواب والتوافذ؟
۱۶	روخوانی ۳ نمره مکمله ۲ نمره		
۲۰	جمع نمرات		







إِنَّ اللَّهَ لَا يُحِبُّ الْمُفْسِدِينَ (۱۰۷۵)

قطعاً خدا .....

وَنَجْعَلَهُمْ أُمَّةً وَنَجْعَلَهُمُ الْوَارِثِينَ (۱۱)

و .....

أَمْ نَيِّدُكُمُ فِي ظُلُمَاتٍ الْبَرِّ وَالْبَحْرِ (۱۱۵)

یا کسی که .....

إِذْ قَالَ لَهُمُ أَخُوهُمْ هُودُ أَلَا تَتَّقُونَ (۱۱۵)

..... به آنها .....

كَمْ أَنْبَأْنَا فِيهَا مِنْ كُلِّ زَوْجٍ كَرِيمٍ (۱۱۵)


..... چه بسیار .....

فَاتَّقُوا اللَّهَ وَأَطِيعُوا (۱۱۷۵)

..... پس .....

وَهُوَ الَّذِي أَرْسَلَ الرِّيحَ بُشْرًا بَيْنَ يَدَيْ رَحْمَتِهِ (۱۱۲۵)


و .....

	مدت امتحان	مدیریت آموزش و پرورش ناحیه یک یزد			سوالات ارزشیابی نوبت: اول
	تاریخ آزمون	دبیرستان نمونه دولتی رسولیان دوره اول			درس: مطالعات اجتماعی هشتم
	جمع نمره:	پایه	کدرانش آموزشی	نام خانوادگی	نام
مهر آموزشگاه	۷۰ دقیقه	۹۸ / ۱۰ / ۱۴	«پایه»	«نام»	تعداد صفحه و سوال: ۳ صفحه ۲۹ سوال

ردیف	سوالات	بارم
فصل اول	<p>➤ <b>گزینه صحیح را انتخاب کنید؟</b></p> <p>۱- سازمانهای مردم نهاد برای فعالیت خود باید از کجا مجوز بگیرند؟  الف) وزارت کار، تعاون و رفاه اجتماعی ○  ب) وزارت فرهنگ و ارشاد اسلامی ○  ج) وزارت کشور ○  د) وزارت امور اقتصاد و دارایی ○</p>	۰/۵
۰/۵	<p>➤ <b>تکمیل کنید؟</b></p> <p>۲- به اموال و دارایی که وقف می شود ..... می گویند.</p>	۰/۵
۱	<p>➤ <b>پاسخ دهید؟</b></p> <p>۳- مفاهیم زیر را تعریف کنید؟  الف) تعاون:  ب) انفاق:</p>	۱
۱	<p>۴- شرکت های تعاونی را با شرکت های غیر تعاونی مقایسه کنید؟ (یک مورد)</p>	۱
فصل دوم	<p>➤ <b>صحیح یا غلط بودن جملات زیر را مشخص کنید؟</b></p> <p>۵- قوه مجریه همان مجلس شورای اسلامی است. ص ○ غ ○  ۶- هیئت دولت از رئیس جمهور، معاونان و سفیران تشکیل می شود. ص ○ غ ○</p>	۰/۵
۰/۵	<p>➤ <b>گزینه صحیح را انتخاب کنید؟</b></p> <p>۷- لایحه بودجه توسط ..... تنظیم و توسط ..... تصویب می شود؟  الف) نمایندگان مجلس - دولت ○  ب) دولت - نمایندگان مجلس ○  ج) نمایندگان مجلس - وزارت اقتصاد ○  د) نمایندگان مجلس - وزارت کشور ○</p>	۰/۵
۲	<p>➤ <b>پاسخ دهید؟</b></p> <p>۸- مفاهیم زیر را تعریف کنید؟  الف) تنفیذ:  ب) مالیات:</p>	۲
ادامه سوالات صفحه دوم		

۰/۵	۹- دو مورد از وظایف دولت را بنویسید؟	
۰/۵	<p>➤ <b>صحیح یا غلط بودن جملات زیر را مشخص کنید؟</b></p> <p>۱۰- نوجوانی گروه سنی ۱۲ تا ۱۸ سال را تشکیل می دهد. ص ○ غ ○  ۱۱- اگر نوجوانان فریب قاچاقچیان مواد مخدر را بخورند و برای آنان این مواد را جا به جا کنند مقصر نیستند. ص ○ غ ○</p>	فصل سوم
۰/۵	<p>➤ <b>گزینه صحیح را انتخاب کنید؟</b></p> <p>۱۲- رئیس قوه قضائیه از سوی ..... و به مدت ..... سال انتخاب می شود؟  الف) رئیس جمهور - ۸ سال ○  ب) مردم - ۴ سال ○  ج) رهبر - ۵ سال ○  د) رئیس مجلس - ۶ سال ○</p>	۰/۵
۰/۵	<p>➤ <b>تکمیل کنید</b></p> <p>۱۳- پرخاشگری و نزاع نتیجه ..... است.</p>	۰/۵
۰/۷۵	<p>➤ <b>پاسخ دهید؟</b></p> <p>۱۴- دعاوی کیفری را تعریف کنید؟ برای آن یک مثال بزنید؟</p>	۰/۷۵
۰/۷۵	۱۵- سه قاعده مهمی که در هنگام خشم و عصبانیت باید به خاطر بسپاریم و رعایت کنیم را بنویسید؟	۰/۷۵
۰/۵	۱۶- چرا برخی از افراد به سمت مواد مخدر گرایش پیدا می کنند؟ (دو دلیل)	۰/۵
۰/۵	<p>➤ <b>تکمیل کنید</b></p> <p>۱۷- هر وسیله ای که پیام را از فرستنده به گیرنده منتقل کند ..... نام دارد.</p>	۰/۵
۰/۵	<p>➤ <b>گزینه صحیح را انتخاب کنید؟</b></p> <p>۱۸- به ترتیب در موارد زیر از کدام کاربرد فناوری اطلاعات می توان استفاده کرد؟  «ارسال پیامک به دیگران با تلفن همراه - رزرو یا خرید بلیط قطار - کنترل ترافیک - اطلاعات هواشناسی»  الف) مکاتبه - عملیات بانکی - فعالیت های علمی - امنیت و نظارت ○  ب) مکاتبه - دولت الکترونیک - دانش نامه های الکترونیک - امنیت و نظارت ○  ج) ارتباط سریع با دیگران - دولت الکترونیک - امنیت و نظارت - دسترسی به اخبار ○  د) ارتباط سریع با دیگران - عملیات بانکی - فعالیت های علمی - دسترسی به اخبار ○</p>	۰/۵
ادامه سوالات صفحه سوم		

۱	<p>➤ <b>پاسخ دهید؟</b></p> <p>۱۹- باز خورد را تعریف کنید؟</p>	
۱	<p>۲۰- دو مورد از نکاتی که هنگام وارد شدن به فضای مجازی و استفاده از اینترنت باید رعایت کنیم را بنویسید؟</p>	
۱	<p>➤ <b>پاسخ دهید؟</b></p> <p>۲۱- دو مورد از ویژگی های عصر جاهلیت را بنویسید؟</p>	فصل پنجم
۱	<p>۲۲- در تاریخ اسلام انصار به چه کسانی گفته می شود؟</p>	
۰/۵	<p>۲۳- نخستین اقدام مهم پیامبر(ص) پس از ورود به مدینه چه بود؟</p>	
۱	<p>۲۴- دو مورد از ویژگی ها و دستاوردهای حکومت امام علی (ع) را بنویسید؟</p>	
۰/۵	<p>➤ <b>صحیح یا غلط بودن جملات زیر را مشخص کنید؟</b></p> <p>۲۵- عثمان خلیفه اول، فرمان حمله به مرزهای حکومت ساسانیان و امپراتوری روم شرقی را صادر کرد.  <input type="radio"/> ص <input type="radio"/> غ</p> <p>۲۶- با ورود اعراب مسلمان به کشور ما و فروپاشی حکومت ساسانی دوره ایران باستان به پایان رسید.  <input type="radio"/> ص <input type="radio"/> غ</p>	فصل ششم
۰/۵	<p>➤ <b>گزینه صحیح را انتخاب کنید؟</b></p> <p>۲۷- مرکز خلافت امویان ..... بود؟  <input type="radio"/> الف) شام <input type="radio"/> ب) مکه <input type="radio"/> ج) مدینه <input type="radio"/> د) کوفه</p>	
۱	<p>➤ <b>تکمیل کنید</b></p> <p>۲۸- سلسله های ایرانی به خصوص ..... و ..... نقش چشمگیری در رونق و شکوفایی فرهنگ و تمدن ایرانی - اسلامی داشتند</p>	
۱/۵	<p>➤ <b>پاسخ دهید؟</b></p> <p>۲۹- مؤسس سلسله های زیر را بنویسید؟      طاهریان(.....) سامانیان(.....) صفاریان(.....)</p>	

مهر آموزشگاه	مدت امتحان	مدیریت آموزش و پرورش ناحیه یک یزد دبیرستان نمونه دولتی رسولیان دوره اول			سوالات ارزشیابی نوبت: اول	
	۶۰ دقیقه				درس: هدیه های آسمانی هشتم	
	تاریخ آزمون	تعداد صفحه و سوال: ۲ صفحه ۱۳ سؤال			نام خانوادگی	
	۹۸ / ۱۰ / ۱۶				نام	
	جمع نمره:	پایه	کدرانش آموزی	آسایش	هادی	
	هشتم	۸۱۰۱				

۱\_ آیه شریفه را ترجمه کنید: (۲ نمره)

وَإِنِّي لَعَفَّارٌ لِّمَن تَابَ وَآمَنَ وَعَمِلَ صَالِحًا ثُمَّ اهْتَدَى.

۲\_ جاهای خالی را کامل کنید: (۱ نمره)

الف) غَفَّار یعنی .....

ب) عفو و گذشت از دیگران موجب خشنودی ..... می شود.

ج) دو چیز گرانبهای مورد سفارش پیامبر ..... و ..... است.

۳\_ صحیح یا غلط بودن موارد زیر را علامت بزنید. (۵/۰ نمره)

الف) استفاده از گردنبند و انگشتر طلا برای مردان جایز است.  صحیح  غلط

ب) نجاست ادرار کمتر از یک سکه کوچک می توان با آن نماز خواند.  صحیح  غلط

۴\_ راه رسیدن به بهشت زیبای خدا چیست؟ (۱ نمره)

۵\_ گذشت از خطاهای دیگران چه فایده ای برای انسان دارد؟ (۵/۱ نمره)

۶\_ نعمت های بهشتی نتیجه چیست؟ (۱ نمره)

۷\_ حدیث ثقلین از کیست؟ آنرا بیان کنید. (۲ نمره)

---

۸\_ چرا بعد از پیامبر اکرم(ص) تنها امیر مومنان شایسته رهبری بر مسلمانان بودند؟ (۱ نمره)

---

۹\_ پیامبر خدا نماز را به چه چیز تشبیه کردند؟ (۲ نمره)

---

۱۰\_ ۴ مورد از شرایط نماز صحیح را بیان کنید. (۲ نمره)

---

۱۱\_ درباره اهمیت گفتن اذان و اقامه قبل از نماز سخن حضرت علی(ع) را بیان کنید. (۲ نمره)

---

۱۲\_ جهنم سرانجام چه کسانی است؟ (۲ نمره)

---

۱۳\_ فرق آداب نماز و احکام نماز را با ذکر مثال بیان کنید. (۲ نمره)