

باسمه تعالی

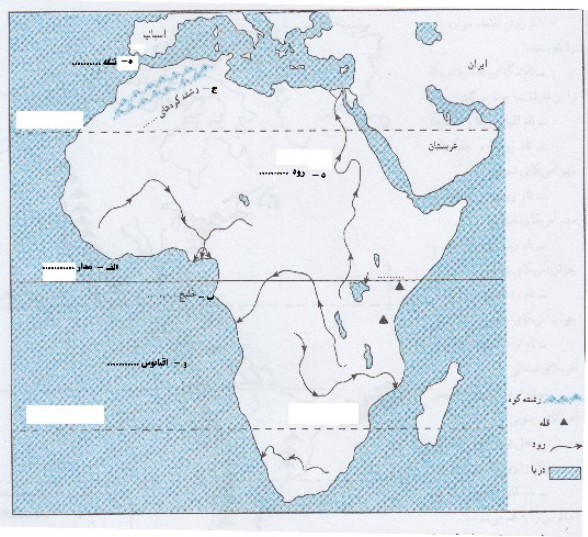
مهر آموزشگاه	مدت امتحان	مدیریت آموزش و پرورش ناحیه یک یزد دبیرستان نمونه دولتی رسولیان دوره اول			سوالات ارزشیابی نوبت:	
	50 دقیقه				درس: مطالعات اجتماعی	
	تاریخ آزمون	تعداد صفحه و سوال : صفحه 26 سوال				
	جمع نمره:	پایه	کد دانش آموزی	نام خانوادگی	نام	

بار م	متن سوال	ردیف
	<p>1- ساسانیان در جنگ های..... و از سپاهیان مسلمان شکست خوردند 5 /</p> <p>2- حضرت علی (ع) در جنگ صفین به مقابله با سپاهیان معاویه رفت. صحیح ▲</p> <p>3- سلسله های ایرانی را از نظر رابطه با خلیفه عباسی و به قدرت رسیدن با هم مقایسه کنید. 1نمره</p> <p>4- دومورد از مهمترین منابع درآمدی دولت را بنویسید. 1نمره</p>	فصل 1 تا 6
	<p>5- چرا پایه های حکومت خوارزمشاهیان چندان محکم نبود 2 دلیل بیاورید. 1نمره</p> <p>6- هدف سلطان محمود غزنوی از لشکرکشی به هند چه بود؟ 5/نمره</p> <p>7- وزیر طغرل خواجه نظام الملک بود. صحیح ▲ غلط 5 /نمره</p>	فصل 7
	<p>8- یکی از کارهای ارزشمند خواجه نصیرالدین طوسی تشویق هلاکوبه ساخت بود. 5/نمره</p> <p>9- گنبد سلطانی که یکی از شاهکارهای معماری در جهان اسلام است توسط چه کسی ساخته شد؟ 5 /</p> <p>الف- غازان خان ▲ ب- سلطان محمد خدابنده ▲ ج- ابوسعید ▲</p> <p>د- بایسنقر ▲</p> <p>10- چهارمورد از پیامدهای حمله چنگیز به ایران را بنویسید. 1نمره</p>	فصل 8
	<p>11- جلگه بزرگ چین در غرب آسیا از آبرفت رودیانگ تسه کپانگ بوجود آمده است. صحیح ▲</p>	فصل 9

	<p>غلط 5 ▲ /نمره</p> <p>12- قاره آسیا از طریق..... از آمریکای شمالی جدامی شود. 5</p> <p>/نمره</p> <p>13- متراکم ترین ناحیه کره زمین از نظر جمعیت کجاست؟ 5 /</p> <p>الف. چین ▲ ب. هند ▲ ج. جزیره جاوه ▲ د. موارالف وب ▲</p> <p>14- دلتا چیست؟ مثال بزنید. 1نمره</p> <p>15- بیره‌های اقتصادی آسیا را نام ببرید. (چهار مورد) 1نمره</p>	
	<p>16 - کمبود آب شیرین یکی از مسائل مهم منطقه ی جنوب غرب آسیا است. صحیح ▲ غلط 5 ▲ /نمره</p> <p>17 - کدامیک از کشورهای زیر توانسته اند از طریق رونق تجارت و بازرگانی اقتصاد خود را متحول کنند 5 /نمره=</p> <p>الف- ترکیه-امارات ▲ ب- ترکیه=عربستان ▲ ج- عربستان-قطر ▲ د- امارات-بحرین ▲</p> <p>18- ویژگی آب وهوای مدیترانه ای را بنویسید. 1نمره</p> <p>19- چرا جنوب غرب آسیا منطقه ای پرتنش است؟ 3 مورد 5/1نمره</p>	<p>فصل 10</p>
	<p>20- اروپای پیرو جوان را با هم مقایسه کنید. 1نمره</p> <p>21- چرا کناره های آفریقا برای ساخت بندر و پهلو گرفتن کشتی مناسب نیست؟ 1نمره</p>	<p>فصل 11</p>
	<p>22- جلگه استرالیا از ابرفت رود..... بوجود آمده است. 5/</p> <p>23- دیندر مهم استرالیا را نام ببرید. 5/نمره</p> <p>24- در آمریکای شمالی بیابان کالاهاری قرار دارد. صحیح غلط 5/نمره</p> <p>25- اهمیت حفر کانال پاناما چیست؟ 1نمره</p>	<p>فصل 12</p>

5/نمبره

.....
.....
.....
.....



..... می کند ؟

آزمون درس انشا فارسی پایه هشتم - نوبت دوم - تاریخ آزمون 20/3/1397 - وقت 60 دقیقه

1- یکی از موضوعات زیر را انتخاب کنید و در پشت برگه انشایی بنویسید.

الف) کلاغ خواست راه رفتن کبک را یا د
بگیرد راه رفتن خودش را هم فراموش
کرد.

ب) ویژگی های یک دوست خوب و نقش
او در زندگی شما

ج) کتاب و کتاب خوانی

معیارهای ارزیابی -2

الف) پروراندن موضوع و بهره گیری مناسب از شیوه های پرورش فکر

ب) نوشتن بند مقدمه ، بند بدنه و بند نتیجه

ج) استفاده از واژگان مترادف ، متضاد و آرایه های ادبی

د) ساختار زبانی (جمله بندی) و تنوع فعل ها

ه) پاراگراف بندی و حاشیه گذاری

و) املا صحیح واژگان

ز) خط خوش و پاکیزه نویسی

ح) رعایت علائم نگارشی

باسمه تعالی

مهر آموزشگاه	مدت امتحان	مدیریت آموزش و پرورش ناحیه یک یزد دبیرستان نمونه دولتی رسولیان دوره اول	سوالات ارزشیابی نوبت: دوم
	60 دقیقه		درس: انشا فارسی کلاس هشتم
	تاریخ		تعداد صفحه و سوال : 2

سوال‌ات ارزشیابی نوبت: دوم	مدیریت آموزش و پرورش ناحیه یک یزد		مدت امتحان	مهر آموزشگاه
درس: پیام های آسمانی	دبیرستان نمونه دولتی رسولیان دوره اول		۳۵ دقیقه	
تعداد صفحه و سوال: ۲ صفحه ۱۰ سوال			تاریخ آزمون	
نام	نام خانوادگی	گرایش آموزشی	پایه	۹۷ / ۳ / ۱
			جمع نمره:	

سوالات : وقت 40

ردیف	سوال
الف	<p>گزینه درست را با علامت × مشخص کنید. (2 نمره)</p> <p>1- طبق حدیث حضرت علی علیه السلام هدف از آفرینش زمین و آنچه در آن است برای انسان چیست؟</p> <p>الف) استفاده درست از نعمت ها <input type="checkbox"/></p> <p>ب) عبادت خداوند <input type="checkbox"/></p> <p>ج) تفکر در عالم خلقت <input type="checkbox"/></p> <p>د) راه یافتن به بهشت و رهایی از دوزخ <input type="checkbox"/></p> <p>2- کدام یک از واجبات روزه است؟</p> <p>الف) نیت کردن <input type="checkbox"/></p> <p>ب) سحری خوردن <input type="checkbox"/></p> <p>ج) قرائت قرآن <input type="checkbox"/></p> <p>د) غیبت نکردن <input type="checkbox"/></p> <p>3- اهل جهنم بیشتر از همه چه کسی را عامل بدبختی خود می دانند؟</p> <p>الف) دوستان و بستگان گناهکار <input type="checkbox"/></p> <p>ب) فرمانروایان و حاکمان <input type="checkbox"/></p> <p>ج) شیطان <input type="checkbox"/></p> <p>د) خودشان <input type="checkbox"/></p> <p>4- در روز غدیر پیامبر از مردم چه درخواستی در مورد حضرت علی (ع) کردند؟</p> <p>الف) ایشان را چون پیامبر دوست بدارند. <input type="checkbox"/></p> <p>ب) ایشان را خلیفه پیامبر بدانند. <input type="checkbox"/></p> <p>ج) ولایت و سرپرستی ایشان را بپذیرند. <input type="checkbox"/></p> <p>د) با دشمنان علی علیه السلام به مبارزه برخیزند. <input type="checkbox"/></p>
ب	<p>درستی یا نادرستی عبارتهای زیر را مشخص کنید. (2 نمره)</p> <p>نادرست</p> <p>1- نماز خواندن با لباسی که از پوست حیوان حرام گوشت تهیه شده صحیح است. <input type="checkbox"/></p> <p>2- نماز خواندن با لباس غصبی حتی دکمه های لباس نماز باطل است. <input type="checkbox"/></p> <p>3- حدیث ثقلین از حضرت علی علیه السلام نقل شده است. <input type="checkbox"/></p> <p>4- منظور از نعیم در آیهی «ثُمَّ لِنُسْأَلُنَّ يَوْمَئِذٍ عَنِ النَّعِيمِ» نعمت محمد و آل محمد است. <input type="checkbox"/></p>
ج	<p>جاهای خالی را با کلمه‌ی مناسب کامل کنید. (2 نمره)</p> <p>1- روزه سپری است در برابر دنیا و پوششی است در برابر عذاب</p> <p>2- یکی از نامهای خداوند بلند مرتبه عَفَّار است. عَفَّار یعنی</p> <p>3- کسی که اذان و اقامه بگوید و نماز بخواند از فرشتگان پشت سر او به نماز می ایستند.</p> <p>4- خداوند حکیم پیامبر را اولین قرآن قرار داد.</p>
د	<p>به سوالات زیر پاسخ دهید.</p> <p>1- سه مورد از فواید کار کردن را بنویسید. (5/1 نمره)</p> <p>2- چهار مورد از عوامل هدر رفتن عمر را بنویسید. (2 نمره)</p>

د 3- عفو و گذشت از خطای دیگران چه اثری در زندگی انسان دارد؟ (1 نمره)

4- بهترین راه درمان غیبت چگونه است؟ (1 نمره)

5- منظور از حق ا...، حق الناس، حق النفس چیست؟ برای هر کدام مثالی بزنید. (5/1 نمره)

6- اصلی ترین موضوعی که شیعیان و اهل سنت در آن با هم اختلاف دارند چیست؟ توضیح دهید. (2 نمره)

7- دو مورد از آثار و فواید دعا کردن را بنویسید. نزدیک ترین دعاها به اجابت چه دعایی است؟ (2 نمره)

8- امام حسن عسکری ■ در مورد زشتی دروغ گفتن چه می فرماید؟ (1 نمره)

9- دو راه درمان مصرف گرایبی را بنویسید. (1 نمره)

10- آثار و پیامد بدحجابی را به صورت خلاصه بنویسید. (1 نمره)

نام : «نام» نام خانوادگی: «نام_خانوادگی» سوال درس: عربی پایه: هشتم	باسمه تعالی مدیریت آموزش و پرورش ناحیه یک یزد دبیرستان نمونه دولتی رسولیان (دوره اول)	تاریخ امتحان: 03/1397/ 13 مدت پاسخگویی: 45 دقیقه ساعت امتحان: 9:30 صبح تعداد سؤال: 12 تعداد صفحه: 2
---	---	---

ردیف	با نام و یاد خدا به سؤالات زیر به دقت پاسخ دهید.	بارم
1	جملات زیر را به فارسی ترجمه کنید. الف الغزاة الصغيرة ما يئست فشاهدت حمامة و سألتها ب هل الجوال مسموح في السفرة ج الامانة تجلب الرزق و الخيائة تجلب الفقر د قالت أم القرس تحن نعيش مع الانسان و تحدمه	25/4
2	جملات و روایات زیر را ترجمه کنید. الف الكلام كالذواء قليله ينفع و كثيره قاتل ب إضاعة الفرضة عضة ج من زرع العدوان حصد الخسران	3
3	ترجمه درست را در جملات زیر مشخص کنید. الف 5/0 يدأ... مع الجماعة. ب (1) دست خدا با جماعت است. ب (1) شما دوستان را یاری کنید. ب (1) شما دوستان را یاری کردید. ب (1) شما دوستان را یاری می کنید. ب (1) شما دوستان را یاری کردید.	5/0
4	کلمات مترادف و متضاد را مشخص کنید. (= یا #) حار ☐ بارد خلف ☐ وراء	5/0
5	کلماتی که زیر آن خط کشیده شده را ترجمه کنید. أ عندك ضغط الدم أو مَرَضُ السُّكَّرِ	1
6	در جمله زیر فعل ماضی و مضارع و مستقبل را مشخص کنید. أنت قِبلت كلام والدك و الان تعملُ به و عَدًا سَيَذْهَبُ الى بيته فعل ماضى : فعل مضارع : فعل مستقبل :	75/0

نام : «نام» نام خانوادگی: «نام_خانوادگی» سوال درس: عربی پایه: هشتم	باسمه تعالی مدیریت آموزش و پرورش ناحیه یک یزد دبیرستان نمونه دولتی رسولیان (دوره اول)	تاریخ امتحان: 03/1397/ 13 مدت پاسخگویی: 45 دقیقه ساعت امتحان: 9:30 صبح تعداد سؤال: 12 تعداد صفحه: 2
---	---	---

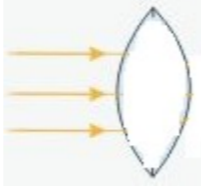

ردیف	با نام و یاد خدا به سؤالات زیر به دقت پاسخ دهید.	بارم
7	فعل‌های مناسب را برای جاهای خالی انتخاب کن. الف هَاتَانِ الْبَيْتَانِ الْعَاقِلَتَانِ واجبهما. (تَكْتَبَانِ- يَكْتُبَانِ- تَكْتُبُ) ب هل هذا المجاهد؟ نعم تَعْرِفُهُ (تَعْرِفُ- تَعْرِفُونَ- تعرفينَ) د نَا مُدَّ رَسَنَةُ الدرس (تَشْرَحُ- أَسْرَحُ- تَشْرُحُ) ج نحن الى البُستانِ قبل ثلاثة أيام. (نَذْهَبُ- سَتَذْهَبُ- ذهبنا)	1
8	در هر ردیف کلمه ناهماهنگ را مشخص کنید. الف - السَّبْتِ □ الأَثَاءِ □ السَّابِعِ □ الخَمِيسِ □ ب - الَذِي □ لِمَاذَا □ كَيْفَ □ أَيْنَ □	5/0
9	به جملات زیر پاسخ مناسب دهید. (به عربی) الف ما اسمک؟ ب من أين أنت؟ ج ما هي مهنتک؟	5/1
10	گزینه مناسب را برای جای خالی انتخاب کن. الف طعام الصَّبَاحِ ب اثنا عَشَرَ شهرًا: اسبوع □ سنة □ ج يَسْأَلُونَ المدير. هما □ هُم □	75/0
11	جمع لغات زیر را بنویسید. دَمَعٌ جار	5/0
12	فعل‌های داده شده را ترجمه کنید: سوف تَعْمَلُ : ما حَزَيْتَ : لا يَفْرَحَانِ :	75/0
	«موفق و پیروز باشید»	

باسمه تعالی

مهر آموزشگاه	مدت امتحان	مدیریت آموزش و پرورش ناحیه یک یزد دبیرستان نمونه دولتی رسولیان دوره اول	سوالات ارزشیابی نوبت: دوم		
	80 دقیقه		درس: علوم تجربی		
	تاریخ آزمون	پایه	کد دانش آموزی	نام خانوادگی	نام
	97 / 3 / 3				
	جمع نمره:				

ردیف	متن سوال	بارم
1	<p>در هر سوال گزینه درست را علامت بزیند</p> <p>1- در کدام مورد اجزای مخلوط پس از مدتی ته نشین می شوند؟ /25</p> <p>الف- شربت معده ▲ ب- شکر در آب ▲ ج- روغن در بنزین ▲ د- سکه طلا ▲</p> <p>2- کدام مورد از نشانه های " تغییر رنگ " در تغییر شیمیایی است؟ /25</p> <p>الف- تخم مرغ در سرکه ▲ ب- میخ آهنی در محلول کات کبود ▲</p> <p>ج- آزمایش کوه آتشفشان ▲ د- جوشیدن آب ▲</p> <p>3- نشانه شیمیایی یون کلرید کدام است؟ /25</p> <p>الف- Cl^{-} ب- Cl^{2-} ج- Cl^{+} د- Cl^{2+}</p> <p>4- کدام عمل زیر فعالیت انعکاسی محسوب نمی شود؟ /25</p> <p>الف- ریزش اشک ▲ ب- پلک زدن ▲ ج- سرفه ▲ د- فکر کردن ▲</p> <p>5- کدام جمله در مورد تولید گوجه مقاوم به سرما درست است؟ /25</p> <p>الف - ژن مربوطه مقاومت در برابر سرما را از DNA ماهی جدا می کنند □</p> <p>ب - ای ژن از نوعی ماهی آب سرد به دست آمد ▲</p> <p>ج - ژن را در DNA گیاه گوجه فرنگی می گذارند □ د - هر سه مورد درست است ▲</p> <p>6- کدام جاندار زیر به روش هاگزایی تولید مثل می کند؟ /25</p> <p>الف- هیدر ▲ ب- کپک نان ▲ ج- باکتری ▲ د- مخمر ▲</p>	5/1
2	سرعت تنظیم عصبی(زیاد- کم)و ماهیت تنظیم هورمونی	5/0
3	کار بند ناف در پستانداران چیست؟	5/0
4	دوسر یک لامپ رشته ای به ولتاژ 220 ولت وصل است. اگر مقاومت لامپ 8 اهم باشد چند آمپر جریان الکتریکی از آن می گذرد؟	1

5	<p>الف - چرا مواد نارسانا جریان برق را به خوبی هدایت نمی کنند؟ /25</p> <p>ب- عاملی که باعث جاری شدن الکترونها می شود چیست؟ /25</p> <p>د- ولت سنچ چگونه در مدار قرار می گیرد؟ /25</p> <p>ج- یکی از کاربردهای برق نما را بنویسید؟ /25</p>	1
6	چگونه در آهن ربای الکتریکی خاصیت مغناطیسی قوی تر می شود؟(دوره بنویسید)	1
7	<p>الف - به روش ساختن آهن ربا بدون تماس چه می گویند؟ /25</p> <p>ب- جایی از آهن ربا که خاصیت مغناطیسی قوی تری دارد چه نامیده می شود؟ /25</p>	5/0
8	<p>الف - یک کانی تبخیری نام ببرید؟ /25</p> <p>ب- در نوک مداد از کدام کانی استفاده می شود؟ /25</p> <p>ج- یک کانی سیلیکاتی نام ببرید؟ /25</p> <p>د- یک کانی ملی نام ببرید؟ /25</p> <p>و- یک کانی نامهربان نام ببرید؟ /25</p>	25/1
9	<p>الف - سنگ آهک بر اثر دگرگونی به چه سنگی تبدیل می شود؟ /25</p> <p>ب- یک نمونه سنگ رسوبی آواری نام ببرید؟ /25</p> <p>ج- ماگما چیست؟ /5</p> <p>د- تفاوت سنگهای آذرین درونی و بیرونی چیست؟ یک مورد /25</p>	25/1
10	<p>الف - جانوران چگونه باعث هوازدگی فیزیکی می شوند؟ /5</p> <p>ب- تشکیل غار در سنگهای آهکی چه نوع هوازدگی است؟ /25 ()</p> <p>ج - سنگهای زاویدار مربوط به چه رسوباتی است؟ /25 ()</p> <p>د- چرخه سنگ چیست؟ /5</p>	5/1
11	قانون بازتاب نور را بیان کنید؟	5/0
12	علت تشکیل سایه چیست؟	5/0
13	<p>یک کاربرد آینه مقعر و یک کاربرد آینه محدب را بنویسید.</p> <p>آینه مقعر:</p> <p>آینه محدب:</p>	5/0
14	کسوف را توضیح دهید؟ (میتوانید شکل آن را رسم کنید)	5/0

75/0	<p>ادامه پرتو نور را در جسم نوری مقابل رسم نمایید نام آن چیست؟ یک کاربرد آن را بنویسید .</p> 	15
5/0	<p>طیف نور سفید چیست؟</p>	16
75/0	<p>شکلروبهرومسیرپرتونوربرادردومحیطشفاقتفاوتنشانمیدهد. ادامه پرتو را رسم کرده و دلیل آن را بیان کنید.</p> 	17
1	<p>در هر یک از موارد زیر یک تفاوت بنویسید الف - تفاوت بارهای الکتریکی با قطب های آهن ربا ب-تفاوت بازتاب منظم با بازتاب نامنظم</p> <p>پیروز باشید</p>	18

باسمه تعالی

مهر آموزشگاه	مدت امتحان	مدیریت آموزش و پرورش ناحیه یک یزد دبیرستان نمونه دولتی رسولیان دوره اول			سوالات ارزشیابی نوبت:	
	40 دقیقه				درس: قرآن	
	تاریخ آزمون			تعداد صفحه و سوال : 2 صفحه 5 سوال		
	97/ 3 / 10	پایه	کد دانش آموزی	نام خانوادگی	نام	
	جمع نمره:					

بار م	متن سوال	ردیف
2	معنای کامات زیر را بنویسید. لايُخْلِفُ : يُوتُونَ : داعی : يَعْرُجُ : فَطَرَ : طُولُ : بَشَّرْنَا :	1
6	ترکیبها و عبارات قرآنی زیر را معنا کنید. فَأَحْسَنَ صُورَكُمْ : تَجْرِي المُحْسِنِينَ : فَاتَّخِذُوهُ : فَيُضِلَّكَ : قُلِ اللَّهُ قَاعِبُدْ * : هُمْ يُوقِنُونَ : مَنْ جَاهَدَ : لَوْ كَانُوا يَعْلَمُونَ : وَلَا تُطِيعِ الْكَافِرِينَ : وَسِرَاجَا مُنِيرَا : عِبَادَتَا الْمُؤْمِنِينَ * :	2
2	باتوجه به آیات و عبارات جاهای خالی زیر را با کلمه مناسب کامل کنید. فَاصْبِرْ إِنَّ وَعْدَ اللَّهِ حَقٌّ : قطعاً وعده خدا حق است. أَحْسِبَ النَّاسَ أَنْ يُتْرَكُوا : که به حال خود رها می شوند. أُدْعُونِي أَسْتَجِبْ لَكُمْ : بخوانید مراتاً شمارا. تَعَالَى اللَّهُ عَمَّا يُشْرِكُونَ : برتر است خدا.....	3

	<p>وَتُرِيدُ أَنْ تَمُنَّ عَلَى الَّذِينَ اسْتُضِعِفُوا : که منت گذاریم بر مستضعفان .</p>	
2	<p>باتوجه به ترجمه عبارات قرانی زیررا کامل کنید.عَلَى اللَّهِ : توکل کن بر خدا وَالِيهِ : وبه سوی او بازگردانیده می شوید. وَ مِنْ أَقْصَا الْمَدِينَةِ : و آمداز دورترین نقطه شهر وَتَجْعَلَهُمْ : و قرار می دهیم آنها را پیشوایانالطَّاغُوتِ : ودوری کردند از طاغوت الَّتِيعَلَى : که نعمت دادی بر منالدَّٰنِبِ وَ التَّوْبِ : آمرزنده گناه و قبول کننده توبه</p>	4
8	<p>ترجمه آیات و عبارات قرانی زیر را بنویسد. اولئك الَّذِينَ هَدَيْتُهُمُ اللَّهُ : فَاحْكُم بَيْنَ النَّاسِ بِالْحَقِّ : اتَّبِعُوا مَنْ لَا يَسْتَلْكُمْ أَجْرًا : هَلْ مِنْ خَالِقٍ غَيْرِ اللَّهِ : وَعَدَالِهِ لَا يُخْلِفُ اللَّهُ وَعْدَهُ : وَأَحْسِنَ كَمَا أَحْسَنَ اللَّهُ إِلَيْكَ : وَبَشِّرْنَاهُ يَاسْحَاقَ تَبَيَّمَنِ الصَّالِحِينَ :</p>	5

	
20	نمره کتبی (20) :	نمره قرائت (20) : نمره پایانی (20):
		جم ع

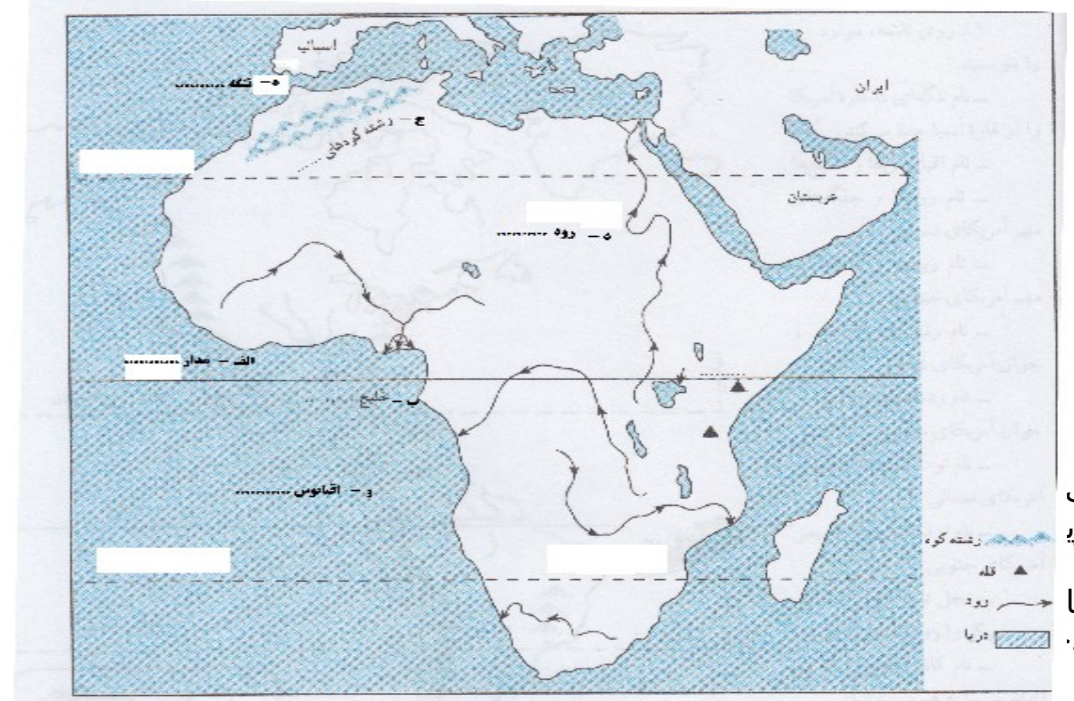
باسمه تعالی

مهر آموزشگاه	مدت امتحان	مدیریت آموزش و پرورش ناحیه یک بزد دبیرستان نمونه دولتی رسولیان دوره اول			سوالات ارزشیابی نوبت:	
	50 دقیقه				درس: مطالعات اجتماعی	
	تاریخ آزمون	تعداد صفحه و سوال :		صفحه 26 سوال		
	3 / 9 97	پایه	کد دانش آموزی	نام خانوادگی	نام	
جمع نمره:						

بار م	متن سوال	ردیف
5/0	1- ساسانیان در جنگ های..... و..... از سپاهیان مسلمان شکست خوردند.	فصل 1 تا 6
5/0	2- حضرت علی (ع) در جنگ صفین به مقابله با سپاهیان معاویه رفت. صحیح ▲	
1	3- سلسله های ایرانی را از نظر رابطه با خلیفه عباسی و به قدرت رسیدن با هم مقایسه کنید.	
1	4- دو مورد از مهمترین منابع درآمدی دولت را بنویسید.	فصل 7
1	5- چرا پایه های حکومت خوارزمشاهیان چندان محکم نبود 2 دلیل بیاورید.	
5/0	6- هدف سلطان محمود غزنوی از لشکرکشی به هند چه بود؟	
5/0	7- وزیر طغرل خواجه نظام الملک بود. صحیح ▲ غلط ▲	فصل 8
5/0	8- یکی از کارهای ارزشمند خواجه نصیرالدین طوسی تشویق هلاکوبه ساخت..... بود.	
5/0	9- گنبد سلطانی که یکی از شاهکارهای معماری در جهان اسلام است توسط چه کسی ساخته شد؟	
5/0	الف- غازان خان ▲ ب- سلطان محمد خدابنده ▲ ج- ابوسعید ▲ د- بایسنقر ▲	فصل 9
1	10- چهار مورد از پیامدهای حمله چنگیز به ایران را بنویسید.	
5/0	11- جلگه بزرگ چین در غرب آسیا از آبرفت رودیانگ تسه کیانگ بوجود آمده است. صحیح ▲	فصل 9
5/0	غلط ▲	

5/0	12- قاره آسیا از طریق..... از آمریکای شمالی جدامی شود. 13- متراکم ترین ناحیه کره زمین از نظر جمعیت کجاست؟ الف. چین ▲ ب. هند ▲ ج. جزیره جاوه ▲ د. موارالف وب ▲ 14- دلتا چیست؟ مثال بزنید.	فصل 10
1	15- بیره های اقتصادی آسیا را نام ببرید. (چهار مورد)	
1	16- کمبود آب شیرین یکی از مسائل مهم منطقه ی جنوب غرب آسیا است. صحیح ▲ غلط ▲	
5/0	17 - کدامیک از کشورهای زیر توانسته اند از طریق رونق تجارت و بازرگانی اقتصاد خود را متحول کنند الف-ترکیه-امارات ▲ ب-ترکیه-عربستان ▲ ج-عربستان-قطر ▲ د-امارات-بحرین ▲	فصل 11
5/0	18- ویژگی آب وهوای مدیترانه ای را بنویسید.	
1	19- چرا جنوب غرب آسیا منطقه ای پرتنش است؟ 3 مورد	
5/1	20- اروپای پیرو جوان را با هم مقایسه کنید.	فصل 12
1	21- چرا کناره های آفریقا برای ساخت بندر و پهلو گرفتن کشتی مناسب نیست؟	
5/0	22- جلگه استرالیا از آبرفت رود..... بوجود آمده است.	فصل 12
5/0	23- دو بندر مهم استرالیا را نام ببرید.	
5/0	24- در آمریکای شمالی بیابان کالاهاری قرار دارد. صحیح ▲ غلط ▲	
5/0	25- اهمیت حفر کانال پاناما چیست؟	

26- با توجه به نقشه به سوالات زیر پاسخ دهید :



نقشه

الف
آفریقا

ج-نا
رود

و-
کند؟

5/1

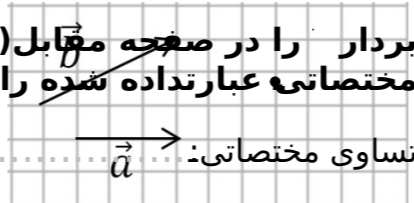

20

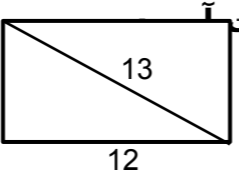
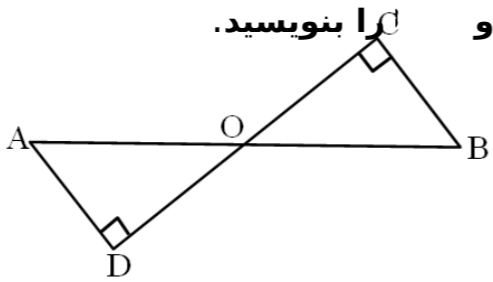
پیروز باشید

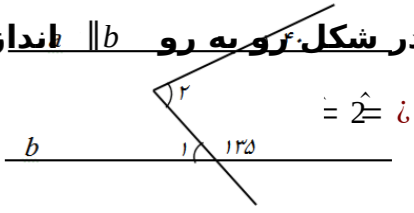
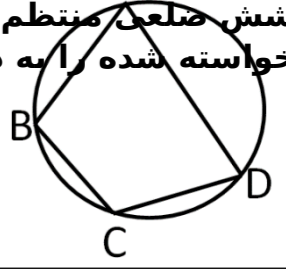
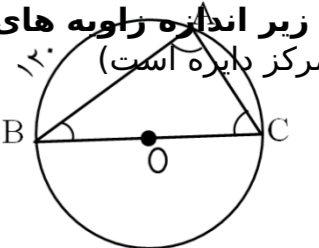
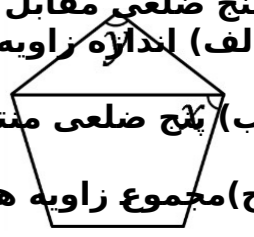
جم
ع

سوالات ارزشیابی نوبت: دوم	مدیریت آموزش و پرورش ناحیه یک یزد		مهر آموزشگاه	
	دبیرستان نمونه دولتی رسولیان		امتحان 90 دقیقه	
درس: ریاضیات	نام خانوادگی		پایه	تاریخ آزمون
تعداد صفحه و سوال : 4 صفحه 17 سوال	نام		کد دانش آموزی	3 / 7 / 97
			جمع نمره:	

ردیف	بارم	« هر جایی راهی دارد و راه بهشت دانش است. پیامبر(ص) »
1	1	درستی یا نادرستی هر یک را با یا مشخص کنید. 1. مثلثی که اضلاع آن 6 و 8 و 10 باشد، قائم الزویه است. □ 2. متوازی الاضلاع شکلی است که مرکز تقارن و محور تقارن دارد. □ 3. اگر تمام اضلاع دو شکل برابر باشند، آن دو شکل هم نهشت اند. □ 4. هر نقطه بر روی نیم ساز یک زاویه از دو ضلع زاویه به یک فاصله است. □
2	1	در جای خالی عدد یا کلمه ی مناسب بنویسید. الف) حاصل $4 + \sqrt{2}$ برابر می باشد. □ ب) جذر 1^{-} مساوی می شود. □ ج) 25% عدد 9^{-} مساوی به توان است. □ د) عددهای 1^{-} و $\sqrt{..}$ برابرند. □
3	1	گزینه صحیح را انتخاب کنید. 1. میانگین 4 نمره 5/17 می باشد. اگر دو نمره 20 و 18 را به آنها اضافه کنیم، میانگین 6 نمره کدام است؟ الف) 25/18 □ ب) 18 □ ج) 19 □ د) 5/18 □ 2. بر روی کارت هایی یکسان اعداد 21 و 22 و 23 و ... و 40 را نوشته ایم. به طور تصادف یک کارت را انتخاب می کنیم. با کدام احتمال عدد روی کارت مضرب 5 می باشد؟ الف) $\frac{1}{5}$ □ ب) $\frac{1}{4}$ □ ج) $\frac{1}{3}$ □ د) $\frac{1}{2}$ □ 3. اگر بردار $z + 2 = 3 + z$ و $z + 3 = -a + b$ باشد، مختصات بردار $-a + b$ کدام گزینه است؟ الف) $\begin{bmatrix} 1 \\ 1 \end{bmatrix}$ □ ب) $\begin{bmatrix} 1 \\ -1 \end{bmatrix}$ □ ج) $\begin{bmatrix} 2 \\ -3 \end{bmatrix}$ □ د) $\begin{bmatrix} -2 \\ 3 \end{bmatrix}$ □ 4. در شکل زیر O مرکز دایره است. مثلث های OAC و OBD بنا به کدام حالت هم نهشت هستند؟ الف) (ز ض ز) □ ب) (ض ز ض) □ ج) (و ض) □ د) (و ز) □

4	2	مختصات را به دست آورید. $\left[\begin{matrix} 5 \\ 4 \end{matrix} \right] - 3 \left[\begin{matrix} 4 \\ -3 \end{matrix} \right] + 8 \left[\begin{matrix} -3 \\ 4 \end{matrix} \right]$ بردار را در صفحه مقابل (از نقطه مشخص شده) رسم کنید و سپس تساوی مختصاتی عبارت داده شده را بنویسید. $\vec{a} + \vec{b} =$ 												
5	5/1	حاصل هر عبارت را به دست آورید. الف) $\frac{1}{3} \left(\frac{3}{4} - \frac{1}{3} \right) - \frac{5}{61} \left(\frac{7}{21} \right)$ ب) $\frac{1}{2} + \frac{1}{02} + \frac{2}{02} + \frac{1}{02} + \dots + \frac{51}{02}$												
6	2	جدول زیر را کامل کرده و سپس میانگین را حساب کنید. <table border="1" data-bbox="742 1008 1365 1155"> <tr> <td>$12 \leq x < 18$</td> <td></td> <td></td> <td></td> </tr> <tr> <td>$18 \leq x \leq 24$</td> <td></td> <td></td> <td></td> </tr> <tr> <td>جمع</td> <td>۱۰</td> <td>-</td> <td></td> </tr> </table>	$12 \leq x < 18$				$18 \leq x \leq 24$				جمع	۱۰	-	
$12 \leq x < 18$														
$18 \leq x \leq 24$														
جمع	۱۰	-												
7	1	الف) در تعیین اعداد اول از عدد 1 تا عدد 100 (به روش غربال)، 77 چندمین عددی است که خط می خورد؟ ب) عدد 113 مرکب است یا اول؟ چرا؟												
8	5/0	الف) عدد $5 + 21^{-}$ بین کدام دو عدد صحیح متوالی قرار دارد؟ ب) نقطه A نمایش کدام عدد روی محور می باشد؟ 												
9	1	حاصل هر عبارت را به صورت یک عدد توان دار بنویسید. $9^2 \times 7^5 \times 7^5 \times 7^5$ $\frac{3^9 \times 9^8}{5^x \times 9^{21}}$												

1	<p>اگر طول مستطیل 12 و قطر آن 13 سانتی متر باشد، مساحت مستطیل را به دست آورید.</p> 	1 6
1	<p>در شکل مقابل نقطه O وسط پاره خط AB قرار دارد. دلیل هم نهشتی دو مثلث AOD و BOC را بنویسید.</p> 	1 7
	« موفق باشید »	

1	<p>حاصل هر عبارت را بنویسید.</p> $\sqrt{1+3\sqrt{2}-61} = \sqrt{4 \times 063} = ?$	1 0
25 /2	<p>الف) عبارت جبری مقابل را ساده کنید.</p> $2a - 3b = ?$ <p>ب) به کمک تجزیه ی صورت و مخرج، کسر زیر را ساده کنید.</p> $\frac{a^2b - 4a^2c}{ba - 2a} = ?$ <p>ج) معادله زیر را حل کنید.</p> $\frac{x-2}{3} - \frac{3}{4} = \frac{1}{4}$	1 1
1	<p>در شکل زاویه رو $\parallel b$ اندازه زاویه های خواسته شده را بنویسید.</p> 	1 2
1	<p>اگر AB یک ضلع از پنج ضلعی منتظم و BC یکی از اضلاع شش ضلعی منتظم باشد، اندازه کمان ها و زاویه های خواسته شده را به دست آورید.</p>  <p>$\hat{B} =$ $\widehat{AB} =$</p> <p>$\hat{D} =$ $\widehat{BC} =$</p>	1 3
75 /.	<p>در شکل زیر اندازه زاویه های مثلث ABC را بنویسید. (نقطه O مرکز دایره است)</p>  <p>$\hat{B} =$</p> <p>$\hat{C} =$</p>	1 4
1	<p>پنج ضلعی مقابل منتظم است.</p> <p>الف) اندازه زاویه های مجهول را بنویسید. $x = ?$</p> <p>ب) پنج ضلعی منتظم چند خط تقارن دارد؟</p> <p>ج) مجموع زاویه های خارجی هر پنج ضلعی چند درجه است؟</p> 	1 5