



مهر آموزشگاه 	مدت امتحان	مدیریت آموزش و پرورش ناحیه یک یزد			سوالات ارزشیابی نوبت: نوبت اول	
	رقبته	دبیرستان نمونه دولتی رسولیان دوره اول			درس: معارف اسلامی هفتم	
	تاریخ آزمون				تعداد صفحه و سوال: ۲ صفحه ۱۵ سوال	
	۹۷ / ۱۰ / ۰۸	پایه	کدرانش آموزشی	۳۰ ثانوادگی	۳۰	
جمع نمره:	هفتم					

بارم	ردیف	سؤال
		با نام و یاد خدا به سوالات زیر به دقت پاسخ دهید.
۲	۱	آیات شریفه را ترجمه کنید. (الف) اِنَّا كُنَّا نَعْبُدُكَ وَاِنَّا كُنَّا نَسْتَعِينُ (ب) اِنَّكَ لَعَلَىٰ خَلْقٍ عَظِيمٍ
۱	۲	(الف) یکی از بهترین حالت‌هایی که دعا در آن مستجاب می‌شود هنگام است. (ب) استفاده صحیح از نعمت و استفاده ناصحیح از نعمت است.
۱	۳	شکر واقعی نعمت چیست؟
۱/۵	۴	منظور از یاری دادن خداوند چیست؟
۱	۵	حالت مومنان را در هنگام مرگ توضیح دهید.
۱		بنا به سخن ابوذر چرا ما از مرگ می‌ترسیم؟
۱/۵		انجام چه کارهایی موجب آسانی زندگی در دنیا و آخرت می‌شود؟
۱		دو مورد از آثار صدقه دادن را بنویسید.
۱		حضرت علی(ع) چگونه خود را برای مرگ آماده کرده بود که از آن هراسی نداشت؟

مهر آموزشگاه 	مدت امتحان	مدیریت آموزش و پرورش ناحیه یک یزد			سوالات ارزشیابی نوبت: نوبت اول
	۶۰ دقیقه	دبیرستان نمونه دولتی رسولیان دوره اول			درس: معارف اسلامی هفتم
	تاریخ آزمون	۹۷ / ۱۰ / ۰۸			تعداد صفحه و سوال: ۲ صفحه ۱۵ سوال
	جمع نمره:	پایه	کدرانش آموزشی	نام خانوادگی	نام

ردیف	سوال	بارد
۱۰	سه ویژگی از ویژگی های اخلاقی و رفتار اجتماعی پیامبر را بیان کنید و یک مورد را مختصر توضیح دهید.	۲
۱۱	دو نمونه از فداکاری های حضرت علی (ع) را بیان کنید.	۲
۱۲	ماجرای لیلہ المبیّت را شرح دهید.	۲
۱۳	مرد مسیحی چگونه به حقانیت دین اسلام پی برد و مسلمان شد.	۱
۱۴	چرا حضرت فاطمه (س) از حضرت علی (ع) چیزی درخواست نمی کرد؟	۱
۱۵	پیشنهاد پیامبر به حضرت علی (ع) و حضرت فاطمه (س) در تقسیم کارهای خانه چه بود؟	۱

«موفق و پیروز باشید»

متن املای تقریری کلاس هفتم نوبت اول - دی ماه ۱۳۹۷

از صحرا باز می گشتم و نسیم ، مانند مادری مهربان و آداب دان که به کودکان خویش حق شناسی و ادب می آموزد ،
سرهای نهال های جوان و بوته های نوزاد خویش را به نشانه ی احترام و وداع با من خم کرده بود.

تا می توانیم ، بیاموزیم. این همه کتاب خوب و مطالب آموختنی ما را به سوی خود می خوانند. کتاب پر راز و رمز
آفرینش و شگفتی های طبیعت ، سرشار از درس ها و اندرزهاست. اگر نیروی جوانی و شادابی و چالاکی این دوره را با
تأمل ، تفکر و بصیرت همراه کنیم ، به شکوفایی خواهیم رسید.

کسی در زندگی موفق است که اکنون فرصت حال را در یابد و همیشه فکر کند که بهترین فرصت من امروز است. امروز
را به فردا افکندن و به امید آینده نشستن ، کار درستی نیست همچنان که امروز را به یادآوری گذشته های از دست رفته ،
گذراندن و افسوس خوردن نیز شایسته نیست .

پدرم می گوید : قلب مهمان خانه نیست که آدم ها بیایند دو سه ساعت یا دو سه روز توی آن بمانند و بعد بروند.

قلب ، لانه ی گنجشک نیست که بهار ساخته شود و در پاییز ، باد آن را با خودش ببرد .

آزمون درس انشا فارسی پایه هفتم - نوبت اول - تاریخ آزمون ۱۳۹۷/۱۰/۱۸ - وقت ۶۰ دقیقه

۱- یکی از موضوعات زیر را انتخاب کنید و در پشت برگه انشایی بنویسید.

الف) فصل رنجارنگ و زیبای پانز را توصیف کنید.

ب) کلاغ

ج) ناز می خوانم زیرا ...

۲- معیارهای ارزیابی

الف) پروازندن موضوع و بهره گیری مناسب از شیوه های پرورش فکر

ب) نوشتن بند مقدمه ، بند بدنه و بند نتیجه

ج) استفاده از واژگان مترادف ، متضاد و آرایه های ادبی


د) ساختار زبانی (جمله بندی) و تنوع فعل ها





ه) پاراگراف بندی و حاشیه گذاری

و) املا صحیح واژگان


ز) خط خوش و پاکیزه نویسی

ح) رعایت علائم نگارشی

	مدت امتحان	مدیریت آموزش و پرورش ناحیه یک یزد		سوالات ارزشیابی نوبت: اول	
	تاریخ آزمون	دبیرستان نمونه دولتی رسولیان دوره اول		درس: زبان عربی هفتم	
	جمع نمره:	پایه	کدرانش آموزی	نام خانوادگی	نام
	۵۰ دقیقه	۹۷ / ۱۰ / ۱۷	هفتم		تعداد صفحه و سوال : ۲ صفحه ۱۳ سوال

ردیف	سوالات	نمره
۱	    <p>نام هر تصویر را بنویسید. (سِنَاوَرَة - نَافِذَة - حَقِیْبَة - مِفْتَاح - كُرْسِی - سَاوِق)</p>	۱
۲	<p>معنای کلمات مشخص شده را بنویسید. الف) عَلَیْكُمْ بِالسَّلَام (.....) ب) خَيْرُ النَّاسِ أَنْفَعُ النَّاسِ (.....) ج) قَرِیْبَة مِنْ اِیْلَامٍ (.....) د) سَلَامَةُ الْعَیْشِ فِي الْمُدَارَاةِ (.....)</p>	۱
۳	<p>ترجمه ناقص را کامل کنید. الف- اَلْوَحْدَةُ خَيْرٌ مِنْ جَلِیْسِ السُّوْءِ . تنهایی بهتر از بد است. ب- اَلْجَهْلُ مَوْتُ الْاِخْیَاءِ . نادانی مرگ است.</p>	۰/۵
۴	<p>دو سخن حکیمانه زیر را ترجمه کنید. الف- اَدَبُ الْمَرْءِ خَيْرٌ مِنْ دَهَبِهِ ب- اَلْخَيْرُ كَثِیْرٌ وَفَاعِلُهُ قَلِیْلٌ</p>	۲
۵	<p>ترجمه فارسی جمله های زیر را بنویسید. الف - فِي كُتُبِ الْقَصَصِ عِبْرٌ لِلْاَطْفَالِ ب- لِمَنْ ذَلِكَ الْجَوَالُ الْجَمِیْلُ</p>	۲
۱	<p>کلمات متضاد جمله ها را بنویسید. اَلْقَلَمُ هُنَاكَ ، تَحْتَ الْكُرْسِی وَ الْكِتَابُ هُنَا ، فَوْقَ الْمُنْضَدَةِ ≠ ≠</p>	۱
۱	<p>معادل مؤنث کلمات زیر را بنویسید. اَلْوَلَدُ (.....) اَلْاِخُ (.....) ذَلِكَ (.....) هُوَ (.....)</p>	۱
۱/۷۵	<p>با توجه به جملات داده شده جاهای خالی را کامل کنید. (اَلضُّیُوفُ فِي الْعُرْفَةِ . اَلْمُدْرَسَاتُ فِي الصَّفِّ . اَنْتُمْ جَالِسُونَ فِي الْمَسْجِدِ . هَذَانِ الْوَالِدَانِ ، شَجَاعَانِ . فِي الْحَدِیْقَةِ ، شَجَرَاتٌ) جمع مکسر (.....) جمع مذکر سالم (.....) مثنای مذکر (.....) مثنای مؤنث (.....) جمع مؤنث سالم (.....) مفرد مؤنث (.....)</p>	۱/۷۵

۱	<p>در جاهای خالی اسم اشاره مناسب قرار دهید. (هُوَءِ - هَاتَانِ - أُولَئِكَ - هَذَانِ)</p> <p>..... مَرَاتَانِ. صَادِقَانِ.</p> <p>..... جَالِسَاتِ. (آن ها) مُجَاهِدُونَ.</p>	۹
۰/۵	<p>غلطهای مشخص شده را با توجه به سوال و جواب داده شده تصحیح کنید. و در جای خالی بنویسید. مِنِ الْمَعْلَمَةِ؟ الْمَعْلَمَةُ فِي هَذِهِ الْأَصْفِ. (.....) (.....).</p>	۱۰
۱/۲۵	<p>در جای خالی عدد عربی مناسب بنویسید. و ترجمه عدد ها را در جاهای خالی بنویسید.</p> <p>اِثْنَانِ + ثَلَاثَةٌ + = عَشْرَةٌ (.....) (.....) (.....)</p>	۱۱
۱	<p>گزینه درست کدام است؟</p> <p>الف- كَمْ أُسْبُوْعًا فِي الشَّهْرِ؟ ب- مَنِ أَيْنَ أَنْتَ؟ ج- أُولَئِكَ الْأَوْلَادُ مُمْتَازُونَ. د- زَمَانٌ طَوِيلٌ.</p> <p>عَشْرَةٌ أَرْبَعَةٌ أَنَا إِيْرَانِيٌّ أَنَا إِيْرَانِيَّةٌ لَا عِبُونَ لَا عِبَاتٌ الْيَوْمَ السَّنَةُ</p>	۱۲
۱	<p>به پرسشهای زیر پاسخ مناسب دهید. (به عربی)</p> <p>الف - هَلْ أَنْتَ مِنْ مَشْهَدٍ؟</p> <p>ب - كَيْفَ أَنْتَ؟</p> <p>ج- كَمْ عَدَدُ أَفْرَادِ أُسْرَتِكَ؟ أَشْخَاصٍ.</p> <p>د- مَاذَا فِي يَدِكَ؟</p>	۱۳
	<p>نمره روان خوانی: نمره مکالمه: نمره برگه: جمع نمره:</p>	

	مدت امتحان	مدیریت آموزش و پرورش ناحیه یک یزد			سوالات ارزشیابی نوبت: اول	
	۵۰ دقیقه	دیپارتمان نمونه دولتی رسولیان دوره اول			درس: زبان خارجه هفتم	
	تاریخ آزمون				تعداد صفحه و سوال: ۲ صفحه سوال	
	۹۷ / ۱۰ / ۱۹	پایه	کدرانش آموزشی	۳۰ ثانوارگی	۳۰	
	جمع نمره:	هفتم				

الف: علی متن کوتاهی در باره ی همکلاسی خودش نوشته، به او کمک کنید تا متن را با انتخاب گزینه مناسب کامل کند. در مورد گزینه ۴ و ۵ به تصاویر دقت کنید: ۱/۵

This boy is our new classmate, ۱..... Amin Azari and that ۲..... is his sister, Mrs. Azari Her ۳..... name is Leila . She's a ۴..... . His father is a ۵..... . His birthday is in Aban. He is ۶..... years old .

- ۱ - a. Ms. b. Mr. c. Mrs.
 ۲ - a. woman b. man c. girl
 ۳ - a. last b. first c. family
 ۴ - a. housewife b. teacher c. nurse
 ۵ - a. mechanic b. pilot c. waiter
 ۶ - a. fifty b. five c. fifteen



15
6


۱- Who's that girl?
My friend , Mina.

۲- Who's this man?
He's our new teacher , Mr Khalili.

۳- Who's that woman?
She's Mrs Akbari

۴-Who's that boy?
My classmate , Ahmad.

ب - شماره هر سؤال را زیر تصویر مر بوطه بنویسید.



پ - مکالمه ها را به هم وصل کنید ؛ حروف صحیح را داخل دایره بنویسید. ۱/۵

- ۱- Hello,
- ۲- How are you?
- ۳- What's your name?
- ۴- What's your last name?
- ۵- How do you spell your last name?
- ۶- Who's that girl?

- a. I'm Kimia.
 b. Hi.
 c. Here's your card.
 d. My friend, Maryam .
 e. My last name is Bahmani.
 f. Bahmani . B-H-M-A-N-I.
 g. Fine , thanks.

ت - شماره هر تصویر را زیر آن بنویسید: ۱

What is his job? ۱

He's a _____ .

۱- policeman

۲- pilot

۳- mechanic

۴- driver



ث - با توجه به تصاویر؛ صحیح را با و غلط را با مشخص کنید: ۱

a: A: Good morning, Mr. Amiri

B: Good morning.



b-A: Who is that boy?

B: She is my sister, Biti.



c: A: What is his job?

B: He's a painter.



d-A: How old are you?

B: I'm thirteen years old.



ج - به تصاویر و اطلاعات داده شده توجه کنید، سپس با حروف مناسب؛ کلمه های ناقص را کامل کنید. ۲

Hello, My first name is ___brahim.

and my last name is Ra___abi. I am a ___lorist.

I am twenty se___en years old.

My birthday is in Ba___man.

___olnar is my aunt. She is a nur___e.

Her birthday is in M___rdad.



گلنار رجبی
تاریخ تولد:
۱۳۷۲/۰۵/۱۶



ابراهیم رجبی
تاریخ تولد:
۱۳۷۰/۱۱/۲۰

o-v-g-s-e-h-f-j

۱. Saturday, _____, Monday,

Tuesday

Thursday

Sunday

Wednesday

چ - گزینه صحیح را انتخاب کنید: ۵.

۲. What's _____? He is a worker.

Her job

her uncle's job

his aunt's job

ح - ابتدا متن را بخوانید؛ با توجه به متن جدول را کامل کنید: ۱

Hello, My name is Susan. I'm a student. I'm seventeen years old and my birthday is in Aban.
My mother, Leila is a housewife. She is forty-three years old.

Name	Age	Month of birth	Mother's name	Mother's job
Susan				

دور کلمه متفاوت از نظر معنا و مفهوم خط بکشید.

A- { sister * family * brother * Mother }

B- { Amir * Akbar * Ahmad * Akrami }

۱

۲

۳

۴


۱

۲

۳


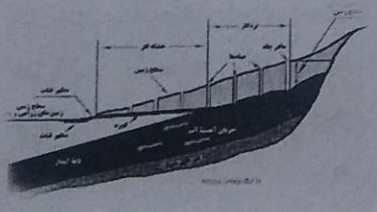
۴


Good luck

	مدت امتحان	مدیریت آموزش و پرورش ناحیه یک یزد		سوالات ارزشیابی نوبت: نوبت اول	
	تاریخ آزمون	دبیرستان نمونه دولتی رسولیان دوره اول		درس: علوم تجربی هفتم	
	جمع نمره:	پایه	کد دانش آموزی	نام خانوادگی	نام
	۶۰ دقیقه	هفتم		۴۳ قانونادگی	۴
		۹۷ / ۱۰ / ۱۳			تعداد صفحه و سوال: ۲ صفحه ۱۲ سوال

پيامبر اعظم(ص): صدقه بجا، نيكو كارى، نيكي والدین و صلۀ رحم، بدبختی را به خوشبختی و عمر را زياد و از پيشامدهای بدجلوگیری میکند

۲	<p>۱ اصطلاحات یا کلمات داده شده را تعریف کنید.</p> <p>چگالی:</p> <p>آبتاز:</p> <p>درياچه:</p> <p>نیرو:</p>
۲/۲۵	<p>۲ علت هر یک از موارد زیر را بنویسید؟</p> <p>برای بهره برداری آبهای زیرزمینی حفر چاه در زمینهای آبرفتی مناسب تر از زمینهای رسی است؟ علت؟</p> <p>از آلومینیم در هواپیما سازی استفاده می شود علت؟</p> <p>سیاره زمین از فضا به رنگ آبی دیده می شود؟ علت؟</p> <p>در ساخت قاشق و چنگال استیل علاوه بر آهن از فلزات نیکل و کروم استفاده می کنند؟ علت؟</p> <p>وزنه برداری که وزنه ای را بالای سر خود ثابت نگهداشته هیچ کاری انجام نمی دهد؟ علت؟</p>
۱/۲۵	<p>۳ جاهای خالی را با کلمات داخل کمانک که مقابل آنها نوشته شده، تکمیل کنید. (فقط دور جواب خط بکشید)</p> <p>آهن + کربن دی اکسید → + اکسیدهای آهن. (کربن-اکسیژن)</p> <p>اتم کربن دارای ۶ پروتون می باشد تعداد الکترون های این اتم..... می باشد. (۸ - ۶)</p> <p>کاربرد های یک ماده به آن ماده بستگی دارد. (ویژگی های - اندازه)</p> <p>در دوران دفاع مقدس، رزمندگان برای عبور از اروند رود از پدیده..... استفاده می کردند. (امواج دریا - جزرومد)</p> <p>در تهیه مواد علاوه بر ویژگی های فیزیکی باید به و فراوانی آن هم توجه کرد. (چگونگی ذخیره آن - قیمت)</p>
	<p>۴ صحیح یا غلط بودن هریک را مشخص کنید. (با گذاشتن علامت ص یا غ در داخل کمانک)</p> <p>۱- ماده ی اولیه ی برای ساخت چینی ماسه می باشد. ()</p> <p>۲- کربن خاصیت تراکم پذیری دارد. ()</p> <p>۳- متان و آب، در داشتن اتم هیدروژن با هم اشتراک دارند. ()</p> <p>۴- مهم ترین نکته در علم، انجام آزمایش است. ()</p> <p>۵- مهم ترین ویژگی انرژی قابلیت تبدیل شدن از شکلی به شکل دیگر است. ()</p> <p>۶- الماس را می توان در سنگهای رسوبی جست و جو کرد. ()</p> <p>۷- افزودن مقداری کربن به گرافیت باعث افزایش انعطاف پذیری آن می شود. ()</p> <p>۸- اگر قطرات باران در مسیر پایین آمدن، از توده هوای سرد عبور کنند، تگرگ تشکیل می شود. ()</p>
	<p>هر کدام از عبارات زیر به کدام یک از راههای محافظت از منابع طبیعی اشاره دارد؟</p> <p>(الف) از بطری پلاستیکی نوشابه برای نگهداری آب در یخچال استفاده می شود. ()</p> <p>(ب) آهن قراضه و قوطی های فلزی خراب شده، را در کارخانه ذوب و به صورت شمش در می آورند. ()</p>

۱/۲۵	<p>۶ گزینه صحیح را با علامت ضربدر مشخص کنید.</p> <p>۱- همه موارد را می توان فناوری حساب کرد به جز:</p> <p>الف) ساخت پهباد ب) تولید سوخت هسته ای ج) تولید خودرو د) هر ۳</p> <p>۲- علت تشکیل کدام دریاچه، جمع شدن آب در دهانه آتشفشان خاموش، می باشد؟</p> <p>الف) ارومیه ب) سیلان ج) خزر د) غارعلیصدر</p> <p>۳- بزرگترین منبع آبهای شیرین کره زمین کدامند؟</p> <p>الف) دریاچه ب) یخچالها ج) رودخانه ها د) آبهای زیرزمینی</p> <p>۴- یکای کدام یک از ویژگی های داده شده، نیوتن می باشد؟</p> <p>الف) استحکام ب) سختی ج) چگالی د) رسانایی</p> <p>۵- انرژی پتانسیل گرانشی به کدام یک از موارد داده شده، بستگی دارد.</p> <p>الف) ارتفاع از سطح زمین، وزن ب) جرم جسم، سرعت ج) وزن، سرعت د) جهت حرکت، حجم جسم</p>
۷۵/۷	<p>۷ از روی شکل چکش خواربودن فلزات را با توجه به ساختار اتمی آنها توضیح دهید؟</p> 
۲	<p>۸ برای هریک از موارد داده شده یک تفاوت را بنویسید؟</p> <p>۱- چگالی اغلب فلزات نسبت به نافلزات.....</p> <p>۲- جنبش ذرات گازها با جنبش ذرات جامدات.....</p> <p>۳- سواحل صخره ای با سواحل هموار و ماسه ای.....</p> <p>۴- سفره های (آبخوان) آب زیر زمینی آزاد با سفره های زیر زمینی تحت فشار.....</p>
۱	<p>۹ به سوالات زیر پاسخ کوتاه دهید.</p> <p>دقت اندازه گیری، علاوه بر دقت شخصی که اندازه گیری می کند به چه چیز دیگری بستگی دارد؟.....</p> <p>یکی از کاربردهای نمک طعام را نام ببرید.</p> <p>یک نمونه از کاربردهای مواد هوشمند را نام ببرید.</p> <p>اگر رودخانه در مسیر خود به محلی برسد که به طور ناگهانی دچار اختلاف ارتفاع شود چه چیز به وجود می آید؟.....</p> <p>به سطح بالایی منطقه اشباع (مرز بین منطقه اشباع و منطقه تهویه) چه می گویند؟.....</p>
۱۰	<p>۱۰ دلایل اهمیت دریاچه ها را بنویسید؟ (۲ مورد)</p>
۷۵	<p>۱ در شکل مقابل:</p> <p>الف) کدام یک از راههای استخراج آبهای زیرزمینی را نشان می دهد؟</p> <p>ب) یک راه دیگر برای استخراج آبهای زیر زمینی را بنویسید؟.....</p> <p>ج) یک ویژگی آبهایی که از این طریق بدست می آید را نسبت به آبهای سطحی بنویسید؟.....</p> 
۷۵	<p>جسمی به جرم ۸۰۰ کیلوگرم را تا ارتفاع ۶متر بالا برده ایم چه مقدار کار انجام شده است؟ (نوشتن فرمول لازم است)</p> <p>موفق باشید</p>

	مدت امتحان	مدیریت آموزش و پرورش ناحیه یک یزد			سوالات ارزشیابی نوبت: نوبت اول	
	رقیقه	دبیرستان نمونه دولتی رسولیان دوره اول			درس: ریاضیات هفتم	
	تاریخ آزمون				تعداد صفحه و سوال: ۲ صفحه ۱۸ سوال	
	جمع نمره:	پایه	کدرانش آموزشی	۳۵	۳۵	۳۵

۱	<p>جملات درست یا نادرست را مشخص کنید.</p> <p>(الف) روی محور اعداد هر عدد از اعداد سمت راستش کوچکتر است. ()</p> <p>(ب) مثلث قائم الزاویه بایک زاویه باز وجود ندارد ()</p> <p>(ج) چند ضلعیهای محدب همان چند ضلعی های کاوهستند ()</p> <p>(د) جملات $5abc -$ و cab باهم متشابهند. ()</p>
۱	<p>جملات زیر را کامل کنید.</p> <p>(الف) حاصل تقسیم دو عدد منفی از حاصل جمع همان دو عدد همواره است.</p> <p>(ب) تبدیل هندسی جهت شکل را تغییر نمی دهد.</p> <p>(ج) قرینه نصف یک عدد به صورت است .</p> <p>(د) عدد شمارنده هر عدد طبیعی است.</p>
۱	<p>الف) حاصل کدام گزینه با بقیه متفاوت است؟</p> <p>(۱) $1+5 \div 5+1$ (۲) $5 \div 5+1$ (۳) $1+(1-1) \times 5$ (۴) $(5 \times 1) \div (1 \times 5)$</p> <p>ب) عددهای اول تشکیل دهنده عدد ۴۲ کدام دسته از عددهای زیر است؟</p> <p>(۱) ۲ و ۳ و ۵ (۲) ۳ و ۷ و ۲ (۳) ۷ و ۳ و ۵ (۴) ۲ و ۳ و ۷</p> <p>ج) از دو نقطه چند خط راست می گذرد؟</p> <p>(۱) یک خط (۲) دو خط (۳) سه خط (۴) بی نهایت</p> <p>د) اگر روی پاره خط ۳ نقطه بگذاریم تعداد نیم خط ها برابر است با</p> <p>(۱) ۳ (۲) ۶ (۳) صفر (۴) ۵</p>
۱/۵	<p>۴ پس انداز ماهانه علی ۱۲۰۰۰ تومان است. اگر علی شش ماه پس انداز کند ثلث پول کیفی را که دوست دارد بخرد پس انداز کرده است. قیمت کیف چقدر است؟ (راهبرد زیر مسئله)</p>
۱	<p>۵ جمله nام الگوی مقابل نوشته سپس اختلاف جمله دهم و ششم را حساب کنید.</p> <p>..... و ۳ و ۰ و ۳ -</p>
۱/۵	<p>۶ اگر دمای هوای تهران ۳- درجه و هوای زنجان از دوبرابر هوای تهران ۳ درجه سردتر باشد.</p> <p>الف) دمای هوای زنجان چند درجه است؟</p> <p>ب) میانگین دمای هوای دوشهر چه قدر است؟</p>
۱/۵	<p>۷ الف) حاصل عبارت مقابل را حساب کنید.</p> <p>$2 = [42 \div (-7)] + 2 = [(-4) \times (-3)] \div [42 \div (-7)] + 2 =$</p> <p>ب) داخل هر دایره یکی از علامتهای + یا - یا \div یا \times قرار دهید تا تساوی برقرار شود.</p> <p>$36 - \bigcirc (+4) \bigcirc (-10) = 4$</p>
۱/۵	<p>عبارتهای جبری مقابل را ساده کنید.</p> <p>$4x - 5y + x - 6y =$</p> <p>$3(2a + 2b) + 3 - 2(a + b) =$</p>
۱	<p>معادله مقابل را حل کنید.</p> <p>$9x + 8 = -5x - 12$</p>

۱۰ آیا $x=3$ جواب معادله ی مقابل می باشد؟ دلیل بیاورید

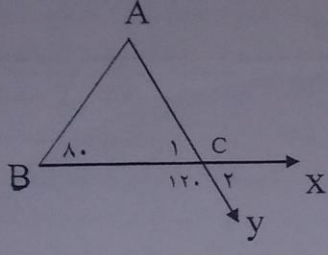
$$\frac{x+1}{2} + \frac{x-1}{3} = \frac{1}{6}$$

۱۱ الف) عبارت کلامی (جمع خاصیت جا به جایی دارد) را به صورت جبری بنویسید.

ب) مقدار عددی عبارت جبری زیر به ازای $b=3$ و $a=-1$ بدست آورید.

$$4b - 2a + 1 =$$


۱۲ با توجه به شکل اندازه زاویه های خواسته شده را بنویسید.



$C_1 =$ $A =$

زاویه C_2 را با سه حرف بنویسید.

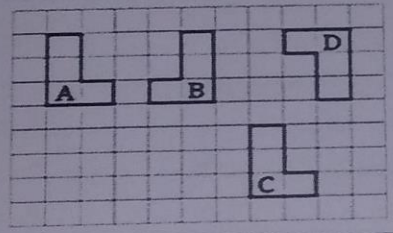
۱۳ در شکل مقابل با توجه به اینکه $AB=BC=CD=DE$ تساویهای زیر را کامل کنید.



$$AD - AC = \dots\dots\dots$$

$$BE = \dots\dots\dots BC$$

۱۴ با توجه به شکل مقابل نوع تبدیل را بنویسید.



A \longrightarrow B

C \longrightarrow A

۱۵ عدد b پس از تجزیه به صورت مقابل است.

$$b = 4 \times 3 \times 12 \times 5$$

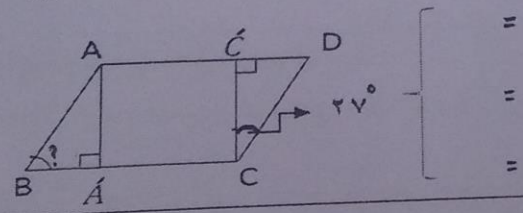
الف) شمارنده های اول آن را به دست آورید.
ب) بزرگ ترین و کوچک ترین شمارنده ی آن را بنویسید.
ج) آیا این عدد بر شش بخش پذیر است؟

۱۶ الف) دو عدد به دلخواه بنویسید که فقط شمارنده های ۲ و ۳ و ۷ داشته باشد.

ب) عدد $\frac{56}{48}$ را با تجزیه کردن صورت و مخرج به عدد اول ساده کنید.

$$\frac{56}{48} =$$


۱۷ شکل زیر متوازی الاضلاع است. دو مثلث هم نهشت را با زبان ریاضی بنویسید و اندازه زاویه خواسته شده بدست آورید.



$\left. \begin{matrix} = \\ = \\ = \end{matrix} \right\} \hat{B} =$

الف) چهار ضلعی مقعری رسم کنید که یکی از زاویه های آن ۹۰ درجه باشد.

ب) چند ضلعی منتظم را تعریف و یک سه ضلعی منتظم رسم کنید.

	مدت امتحان	مدیریت آموزش و پرورش ناحیه یک یزد		سوالات ارزشیابی نوبت: نوبت اول	
	۵۰ دقیقه	دبیرستان نمونه دولتی رسولیان دوره اول		درس:	
	تاریخ آزمون			تعداد صفحه و سوال: ۲ صفحه ۶ سوال کلی	
	۹۷ / ۱۰ / ۱۵	پایه	کدراشش آموزشی	۳۰ ثانواگرکی	۳۰
جمع نمره:	هفتم				

بارم	صفحه ۱	ردیف
۲	<p>گزینه صحیح را انتخاب کنید.</p> <p>۱. شکرگذار بودن یعنی چه؟ الف) استفاده صحیح از نعمت‌ها <input type="checkbox"/> ب) قدر نعمت‌ها را دانستن و به هدر ندادن آنها <input type="checkbox"/> ج) اطاعت از دستورات خداوند <input type="checkbox"/> د) گزینۀ الف و ب درست است. <input type="checkbox"/></p> <p>۲. کوه‌های خراسان در کدام قسمت ایران قرار دارد؟ الف) شمال غربی <input type="checkbox"/> ب) جنوب غربی <input type="checkbox"/> ج) شمال شرقی <input type="checkbox"/> د) جنوب شرقی <input type="checkbox"/></p> <p>۳. ایران در کجای قاره آسیا قرار دارد؟ الف) جنوب غربی آسیا <input type="checkbox"/> ب) جنوب آسیا <input type="checkbox"/> ج) غرب آسیا <input type="checkbox"/> د) شمال غربی آسیا <input type="checkbox"/></p> <p>۴. مهم‌ترین عناصر آب و هوا کدامند؟ الف) دما و جهت وزش باد <input type="checkbox"/> ب) بارش و سرعت وزش باد <input type="checkbox"/> ج) بارش و جهت وزش باد <input type="checkbox"/> د) دما و بارش <input type="checkbox"/></p>	۱
۲	<p>در جاهای خالی کلمات مناسب بنویسید.</p> <p>۱. مرطوب‌ترین و پر باران‌ترین ناحیه آب و هوایی ایران ناحیه است.</p> <p>۲. یکی از مشاغل مهم در سازمان حفاظت محیط زیست است.</p> <p>۳. شش نفر از حقوق‌دانان شورای نگهبان از طرف به مجلس معرفی می‌شوند.</p> <p>۴. برای تولید هر محصول نیروی انسانی باید و داشته باشد.</p> <p>۵. در جوامع امروزی مصرف‌گرایی به شدت به آسیب رسانده است.</p> <p>۶. مؤسسه بیمه برای جبران زیان‌های و به وجود آمده است.</p>	۲
۲	<p>صحیح و غلط بودن جملات زیر را مشخص کنید.</p> <p>۱. خداوند انسان را عزیز و محترم و گران‌قدر آفریده و آنها را بر بسیاری از مخلوقات دیگر برتری بخشیده است. ص <input type="checkbox"/> غ <input type="checkbox"/></p> <p>۲. با استفاده از مقیاس خطی می‌توانید فاصله‌ی واقعی مکان‌ها را روی زمین محاسبه کنید. ص <input type="checkbox"/> غ <input type="checkbox"/></p> <p>۳. جمعیت هلال احمر در شرایط عادی برای صلح و جنگ و حفظ محیط زیست تلاش می‌کند. ص <input type="checkbox"/> غ <input type="checkbox"/></p> <p>۴. همیاری یعنی این که خود را به جای فرد دیگر که دچار حادثه شده بگذاریم و شرایط او را درک کنیم. ص <input type="checkbox"/> غ <input type="checkbox"/></p>	۳
۲/۵	<p>به سوالات زیر پاسخ کوتاه دهید.</p> <p>۱. مهمترین حق انسان‌ها چیست؟</p> <p>۲. دو مورد از مسئولیت فرزندان نسبت به پدر و مادر را بنویسید. ۱. ۲.</p> <p>۳. نقشه چیست؟</p> <p>۴. دو دشت وسیع ایران را نام ببرید. ۱. ۲.</p> <p>۵. مهمترین عاملی که موجب تنوع زیستگاه‌ها در کشور شده چیست؟</p>	۴

۱. عوامل تولید را نام ببرید. (۷۵/۰ نمره)

۲. سه مورد از مناطق حفاظت شده کشورمان را نام ببرید. (۷۵/۰ نمره)

۳

۲

۱

۳. منظور از حق چیست؟ (۱ نمره)

۴. مهم علل پدید آمدن قانون و مقررات را نام ببرید. (۱ نمره)

۵. دو وظیفه مهم شورای نگهبان را بنویسید. (۱ نمره)

-۲

-۱

۶. وظایف بیمه مرکزی را بنویسید. (۲ مورد) (۱ نمره)

۲

۱

۷. معمولاً چه اطلاعاتی روی برجسب کالاها وجود دارد؟ (۴ مورد) (۲ نمره)

۴

۳

۲

۱

۸. زیستگاه را تعریف کنید. (۱ نمره)

۹. ویژگی‌های طبیعی هر مکان شامل چه مواردی است؟ (۴ مورد) (۱ نمره)

۴

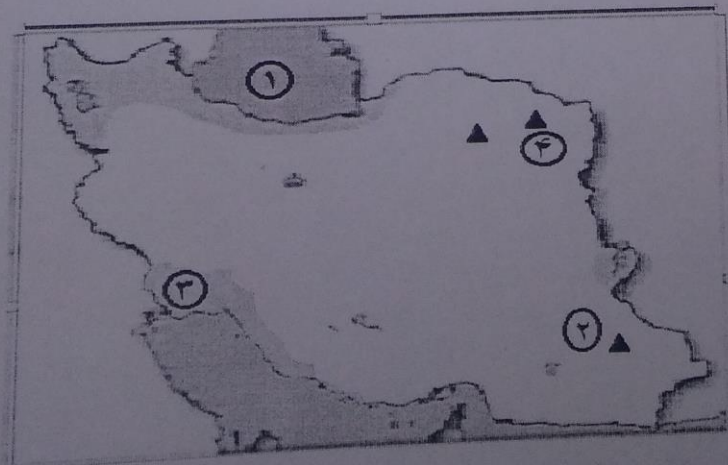
۳

۲

۱

۱۰. بیمه اجباری و بیمه اختیاری را تعریف کنید. (۱ نمره)

از روی نقشه پاسخ دهید.



۱. نام دریا؟

۲. نام قلّه ای؟

۳. نام جلگه ای؟

۴. نام قلّه ای؟