

نام و نام خانوادگی:

سوال درس: املای فارسی

پایه: هفتم

کلاس-ردیف:

بسمه تعالی

مدیریت آموزش و پرورش ناحیه یک یزد

دبیرستان پسرانه نمونه دولتی رسولیان (دوره اول)

تاریخ امتحان: ۹۴/۱۰/۲۰

مدت پاسخگویی:

ساعت امتحان:

تعداد سوال

تعداد صفحه



## به نام خالق زیبایی ها

احساس می کردم ، هم اکنون چشمه های معرفت از درون من سر باز خواهند کرد و آب های زلال و گوارای فهم و دانایی در من خواهد جوشید.

جوان و نوجوان، چشمه ی جوشان نیرو و استعداد است. جوانان و نوجوانان ما اهل فکر کردن ، دریافتن و تحلیل کردن هستند.

متخصصان و دانشمندان جهانی مجبور شده اند ، اعتراف کنند که جوانان ما با پشتوانه ی ایمان و همّت توانسته اند استعداد جوشان و پنهان خود را آشکار کنند.

چه بسیار آنانی که وقت خود را بیهوده تلف می کنند. گویی قرن های طولانی در این جهان زندگی خواهند کرد.

زندگی همین لحظه هاست و از دست دادن فرصت ها جز غصّه و اندوه چیزی همراه ندارد.

این سخن زیبای نهج البلاغه، یادمان باشد: « فرصت ها مثل گذشتن ابرها، می گذرند، فرصت های خوب و عزیز را دریابید.»

سبز شو، تازه شو، بهاری شو

با بهاری که می رسد از راه

مثل یک چشمه سار، جاری شو

مثل یک شاخه گل، جوانه بزن

نام و نام خانوادگی:

درس: انشا فارسی

پایه: هفتم

کلاس-ردیف:

بسمه تعالی

مدیریت آموزش و پرورش ناحیه یک یزد

دبیرستان پسرانه نمونه دولتی رسولیان (دوره اول)

تاریخ امتحان: ۹۴/۱۰/۲۰

مدت پاسخگویی: ۴۰ دقیقه

ساعت امتحان: ۸:۳۰

تعداد سوال

تعداد صفحه

از سه موضوع زیر یکی را به دلخواه انتخاب نموده، با رعایت قواعد نگارشی در مورد آن مطلب بنویسید

۱- محل زندگی خود

۲- فصل زمستان

۳- ارزش علم و دانش

نام و نام خانوادگی:

بسمه تعالی

تاریخ امتحان: ۱۳۹۴/۱۰/۲۴

سوال درس: پیام های آسمان

مدیریت آموزش و پرورش ناحیه یک یزد

مدت پاسخگویی: ۶۰ دقیقه

پایه: هفتم

دبیرستان پسرانه نمونه دولتی رسولیان (دوره اول)

ساعت امتحان: ۸:۳۰

تعداد سوال: ۱۶

تعداد صفحه: ۲

کلاس-ردیف:

۱- معنا و مفهوم آیه مقابل چیست؟ (۱/۵) «إِنْ تَصْبِرُوا وَتَتَّقُوا وَيَأْتُوكُمْ مِنْ فَوْرِهِمْ هَذَا يُمْدِدْكُمْ رَبُّكُمْ بِخَمْسَةِ آلَافٍ مِنَ الْمَلَائِكَةِ مُسَوِّمِينَ»

۲- جاهای خالی را با کلمات مناسب کامل کنید. (۲)

الف - بنا به فرموده امام صادق<sup>(ع)</sup> هر کس پیوند خود را با بستگانش محکم کند و با پدر و مادرش خوش رفتار و مهربان باشد، دشواریهای.....بر او آسان می شود و در دنیا نیز.....و.....نمی شود.

ب- استفاده صحیح از نعمت.....و استفاده ناصحیح.....است.

ج- از ویژگیهای بارز شخصیت حضرت علی<sup>(ع)</sup> می توان.....و.....ایشان را نام برد.

د- یکی از مهمترین و ساده ترین راهها برای جلب یاری خداوند،.....است.

۳- گزینه صحیح را انتخاب کنید. (۱)

الف - آیه شریفه «وَهُوَ مَعَكُمْ أَيْنَمَا كُنْتُمْ» از نظر مفهوم با کدام گزینه ارتباط دارد؟

۲- استعانت از خداوند

۱- روزی دادن خداوند به بندگان

۴- بی نیازی خداوند از بندگان

۳- خدا ناظر اعمال و رفتار ماست

ب - بنا به فرموده امام صادق<sup>(ع)</sup> انجام کدام عمل باعث نجات یافتن از مرگ بد و رهایی از هفتاد نوع بلاست؟

۲- صدقه دادن

۱- خوش اخلاقی

۴- نماز خواندن

۳- احسان به پدر و مادر

۴- صحیح و یا غلط بودن جمله های زیر را مشخص کنید. (۱)

الف - حالت انسانها در هنگام روبروشدن با مرگ یکسان است. (.....)

ب - گاهی انسانها با بی دقتی یا سهل انگاری، خودشان را در برابر حوادث قرار می دهند. (.....)

۵- دلیل ازدواج حضرت زهرا<sup>(س)</sup> با امیرالمؤمنین<sup>(ع)</sup>، با وجود اینکه خواستگاران ثروتمندی داشت، چه بود؟ (۱)

۶- چهار مورد از ویژگیهای حضرت فاطمه<sup>(س)</sup> را بنویسید. (۱)

۷- سه مورد از فداکاریهای حضرت علی<sup>(ع)</sup> را بیان کنید. (۱/۵)

۸- بنابر سخن امام علی<sup>(ع)</sup>، خداوند از آگاهان چه عهدهی گرفته است؟ (۱)

۹- با ذکر یک نمونه عزت نفس را تعریف کنید. (۱/۵)

۱۰- ویژگی امانتداری پیامبر خدا<sup>(ص)</sup> چگونه بود؟ سه مورد (۱/۵)

۱۱- حضرت علی<sup>(ع)</sup> چگونه خود را برای مرگ آماده کرده بود که از آن هراسی نداشت؟ (۱)

۱۲- رفتار اشخاص بد اخلاق و خوش اخلاق در مورد زیر چگونه است؟ (۱)

«دوستش از او می خواهد بخشی از درس را برایش توضیح دهد»

خوش اخلاق:..... بد اخلاق:.....

۱۳- مرگ برای چه کسانی وحشتناک و ناخوشایند است؟ چرا؟ (۱/۵)

۱۴- توضیح دهید ما چگونه می توانیم خداوند را یاری دهیم. (۱/۵)

۱۵- ساده ترین نوع تشکر کدام است؟ توضیح دهید. (۱)

۱۶- علاوه بر مراقبت و توجه دائمی خداوند نسبت به ما چه نشانه های دیگری از محبت او به ما وجود دارد؟ (۱)

نام و نام خانوادگی:

باسمه تعالی

تاریخ امتحان: ۹۴/۱۰/۱۲

درس: ریاضی

مدیریت آموزش و پرورش ناحیه یک یزد

مدت پاسخگویی: ۸۰ دقیقه

پایه:

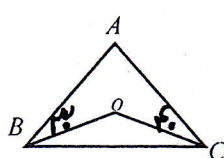
دیرستان .....

نام امتحان: ریاضی هفتم

کلاس:

سال تحصیلی ۹۴-۹۵

تعداد سؤال: ۱۸ تعداد صفحه: ۳

ردیف	سؤال	پاسخ
۱	کدام درست و کدام نادرست است؟ الف) دو زاویه متمم همیشه با هم مساویند. <input type="checkbox"/> ب) میانگین چند عدد صحیح عدد مثبت می شود. <input type="checkbox"/> ج) در عبارت جبری $\frac{a}{5}$ ضریب عددی ۵ می باشد. <input type="checkbox"/> د) حاصل عبارت $(-۲۵+(-۲۰))$ یا حاصل عبارت $(-۲۵+۲۰)$ برابر است <input type="checkbox"/>	
۲	در جاهای خالی عدد یا کلمه مناسب بنویسید. الف) در چند ضلعی های منتظم هر چه تعداد ضلع بیشتر شود اندازه هر زاویه آن ..... می شود. ب) حاصل ضرب هر عدد در $(-۱)$ برابر است با ..... آن عدد. ج) اگر حاصل ضرب دو عدد صحیح صفر باشد آنگاه حداقل یکی از آن دو عدد ..... می باشد. د) تقارن مرکزی همان دوران ..... می باشد.	
۳	گزینه درست را انتخاب کنید. ۱) با کدام دسته از اعداد زیر نمی توان مثلث رسم کرد. الف) ۴ و ۵ و ۸ <input type="checkbox"/> ب) ۴ و ۳ و ۲ <input type="checkbox"/> ج) ۴ و ۲ و ۴ <input type="checkbox"/> د) ۳ و ۵ و ۳ <input type="checkbox"/> ۲) عدد $(-۷)$ را چند بار قرینه کنیم تا حاصل عدد منفی شود. الف) ۵۰ بار <input type="checkbox"/> ب) ۶ بار <input type="checkbox"/> ج) ۱۴ بار <input type="checkbox"/> د) ۹ بار <input type="checkbox"/> ۳- حاصل عبارت $[-۱۱ - (-۸)] \times -۴$ کدام گزینه است. الف) $+۱۲$ <input type="checkbox"/> ب) $-۱۲$ <input type="checkbox"/> ج) $-۷۶$ <input type="checkbox"/> د) $+۷۶$ <input type="checkbox"/> ۴) در شکل مقابل $OB$ و $OC$ نیمسازهای زاویه $B$ و $C$ می باشد. نسبت زاویه $A$ به $O$ چقدر است؟ الف) $\frac{۱۱}{۴}$ <input type="checkbox"/> ب) $\frac{۲}{۱}$ <input type="checkbox"/> ج) $\frac{۴}{۱۱}$ <input type="checkbox"/> د) $\frac{۱}{۲}$ <input type="checkbox"/>	
۴	پدر علی در هنگام تولد علی ۳۰ سال داشت و هم اکنون سن او ۳ برابر سن علی می باشد. سن علی چقدر است؟ (از راه الگو یا معادله)	
۵	چند عدد دو رقمی داریم که بر ۳ و ۷ بخش پذیر باشند ولی بر ۲ بخش پذیر نباشند؟	
۶	دو زاویه مکمل یکدیگرند و اندازه یکی از ۴ برابر دیگری ۲۰ درجه کمتر است اندازه هر یک از دو زاویه چند درجه است؟	
۷	علامت را مقایسه کنید و علامت $\langle = \rangle$ قرار دهید؟ $۴-۲۱$ <input type="checkbox"/> $(-۱۷)$ <input type="checkbox"/> $(۳ \times ۷) - ۲$ <input type="checkbox"/> $-۲۳$ <input type="checkbox"/> $۰$ <input type="checkbox"/> $(+۱۹) - ۱۹$ <input type="checkbox"/> $-۴$ <input type="checkbox"/> $(-۴)$ <input type="checkbox"/>	
۸	حاصل هر عبارت را بدست آورید. $۳۶ - (-۱۷) + (-۲۳) =$ $۴۸ - ۷۲ \div (-۸) =$	

نام و نام خانوادگی:

باسمه تعالی

تاریخ امتحان: ۹۴/۱۰/۱۲

درس: ریاضی

مدیریت آموزش و پرورش ناحیه یک یزد

مدت پاسخگویی: ۸۰ دقیقه

دیپستان .....


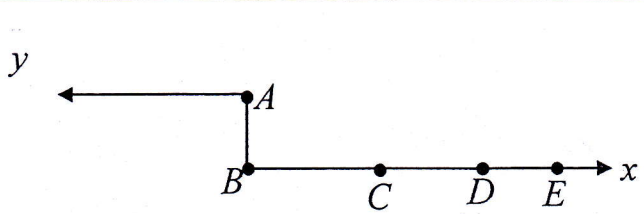
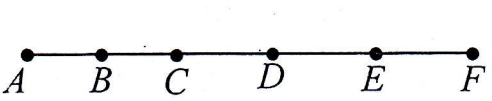
نام امتحان: ریاضی هفتم

پایه:

سال تحصیلی ۹۴-۹۵

تعداد سئوال: تعداد صفحه:

کلاس:

ردیف	بارم	سئوال
۹	۱	در شب یلدا دمای هوای اردبیل ۱۳ درجه زیر صفر و دمای هوای یزد ۵ درجه بالای صفر بوده است: الف) میانگین دمای این دو شهر چقدر است (با راه حل) ب) اختلاف دمای این دو شهر چقدر است؟ (با راه حل)
۱۰	۱	جمله $n$ ام الگوهای مقابل را بنویسید؟ ..... و ۱۴ و ۱۱ و ۸ و ۵ (الف) ..... و ۱۵ و ۸ و ۳ و ۰ (ب)
۱۱	۱	الف) مساحت مستطیل را بصورت یک عبارت جبری بنویسید؟ ب) مقدار عددی عبارت $۱۱-۴x$ به ازای $x=۳$ را بدست آورید. 
۱۲	۱/۲۵	عبارتهای جبری مقابل را ساده کنید. $۳(۲x-۷y)-۶x-۴y =$ $۷a-b+۳a+۵b =$
۱۳	۰/۵	هزینه ورودی یک سالن $a$ تومان و برای هر نفر ۳۵۰۰ تومان می باشد. اگر به تعداد $b$ نفر به سالن دعوت کنیم هزینه سالن را بصورت یک عبارت جبری بنویسید.
۱۴	۱	معادله مقابل را حل کنید. $۵x-۱۹ = -۴$ $۲(۳x-۷) = ۵x-۳$
۱۵	۱	با توجه به شکل مقابل: الف) چند پاره خط وجود دارد. ب) چند نیم خط وجود دارد. 
۱۶	۱	در شکل مقابل پاره خطها با هم مساویند. در جاهای خالی نام پاره خط یا عدد مناسب بنویسید. $\overline{AC} + \overline{CF} = \square$ $\overline{AC} = \square \overline{CF}$ $\overline{BF} = \square \overline{AC}$ $\overline{AE} - (\square + \overline{AC}) = \overline{DE}$ 

نام و نام خانوادگی:

باسمه تعالی

تاریخ امتحان: ۹۴/۱۰/۱۲

درس: ریاضی

مدیریت آموزش و پرورش ناحیه یک یزد

مدت پاسخگویی: ۸۰ دقیقه

پایه:

دیرستان .....

نام امتحان: ریاضی هفتم

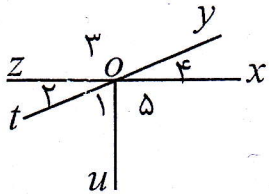
کلاس:

سال تحصیلی ۹۴-۹۵

تعداد سوال: ۱۸ تعداد صفحه: ۳

بارم ردیف

۱/۲۵

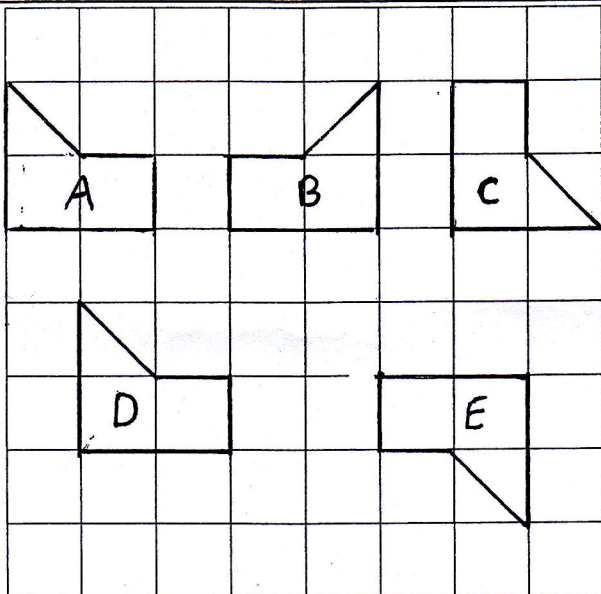


۱۷ در شکل مقابل دو زاویه ۱ و ۲ متمم هستند و زاویه  $\hat{4} = 28^\circ$  می باشد  
الف) زاویه  $\hat{5}$  را با سه حرف بنویسید ( )

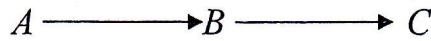
ب) اندازه زاویه های زیر هر کدام چند درجه است.

$\hat{1} =$        $\hat{2} =$        $\hat{3} =$        $\hat{5} =$

۱/۵



۱۸ الف) با توجه به شکل نام هر تبدیل را بنویسید.



ب) شکل A با چه نوع تبدیل به شکل E می رسد.

ج) شکل B با چند نوع تبدیل به شکل D می رسد.

نام ببرید:

«شاد و پیروز باشید»

نام و نام خانوادگی:

مدیریت آموزش و پرورش ناحیه یک بزد

تاریخ امتحان: ۱۴۰۱/۱۰/۹۴

نام درس: زبان انگلیسی پایه هفتم

دبیرستان نمونه دولتی رسولیان (دوره اول)

وقت امتحان: ۵۰ دقیقه

شماره ردیف/کلاسی:

نوبت امتحانی: نهمسال اول



۱) در هر گروه کلمه ناهماهنگ را مشخص کنید. (۱)

1) eraser-pencil-bench-bag

2) pilot-baker-cook-ten

۲) به سوالات زیر فقط با یک کلمه پاسخ دهید. (۲)

1) How old is Matin?

2) What is his job?

3) What is his last name?

4) When is his birthday?

First name: Matin  
Last name: Danesh  
Birthday: 1373/03/22  
Job: shopkeeper

۳) آقای پاک نام برای گرفتن گذرنامه باید اطلاعات خود را به انگلیسی در فرم زیر وارد نماید به او در تکمیل آن کمک کنید. (۲,۵)

Personal information

First name:

Last name:

Month of the birth:

Age:

Phone number:

نام: امین

نام خانوادگی: پاک نام

نام پدر: ایمان

سن: ۴۵

شغل: کارمند

شماره تلفن: ۳۵۸۱۹۴۲۷

ماه تولد: آبان

۴) با کلمات در هم ریخته زیر جمله بسازید. (۲)

1) years- I- old- am- six .

2) today-are-you-how ?

۵) با شکل مناسبی از حروف داده شده کلمه ها را کامل کنید. (۲)

1) She is my \_randmother.

2) He's my friend, \_ilad.

3) I am a \_octor.

4) \_man is 14 years old.

G g      Dd  
Mm      I i



۶) متن زیر را بخوانید و جدول زیر را کامل کنید (۳)

Hi. My name is Amin. I'm 12. My father is a policeman. He's 52 years old. His name is Hamid. My mother is 48 and is an employee. Her name is Zahra.

Name	Age	Job	Relationship
Hamid			Amin's .....
Zahra			

۷) جملات و تصاویر را به هم جور کنید. فقط حروف زیر هر تصویر جلوی هر جمله بنویسید. (۱,۵)

1) Ali's father is a driver

3) He is a waiter

2) That man is a worker



(a)



(b)



(c)

۸) جملات را با کلمات داده شده کامل کنید. (۳)

( mechanic- birthday- Mrs- Bahman- meet- housewife)

1) She is ..... Ahmadi.

2) My uncle is a .....

3) Happy ..... to you.

4) Day, ..... , Esfand

5) My mother is a .....

6) Nice to ..... You.

۹) مکالمه زیر را مرتب کنید (۳)

Ali {  
What is his job?  
Hello Amin.  
Who is that man?

Amin {  
Hi, my friend.  
He is my uncle.  
He's a dentist.

Ali) .....

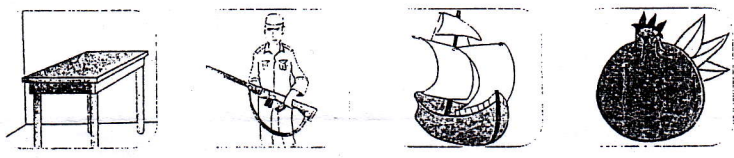
Amin) .....

Ali) .....?

Amin) .....

Ali) .....?

Amin) .....

ردیف	سوالات	بارم
۱	معنای کلمات مشخص شده را بنویسید؟ الف) <u>الْوَقْتُ مِنَ الذَّهَبِ</u> ج) <u>الْجَنَّةُ تَحْتَ أَقْدَامِ الْأَمْهَاتِ</u> ب) <u>رَبُّ كَلَامٍ كَالْخَسَامِ</u> د) <u>فِي نَهَائِهِ هَذَا الشَّارِعُ</u>	انمره
۲	برای کلمات متضاد علامت ≠ و کلمات مترادف علامت = قرار دهید؟ ۰/۷۵ الف) بُسْتَانٌ حَدِيقَةٌ      ب) خَلْفٌ وَرَاءَ      ج) غَالِيَةٌ رَخِيصَةٌ	۰/۷۵ انمره
۳	نام هر تصویر را با استفاده از کلمات داده شده بنویسید؟ «دو کلمه اضافی است» «العَيْنُ، المنضدة، الكنز، الجندي، السفينه، الرمان» 	انمره
۴	کلمات نا هماهنگ را مشخص کنید؟ الف) جِدَارٌ      ب) بَيْتٌ      ج) جَبَلٌ      د) بَابٌ ب) فَوْقٌ      ج) تَحْتَ      د) جَنْبٌ      هـ) جَوَالٌ	۰/۵ انمره
۵	کلمات کدام گزینه درست ترجمه نشده است؟ الف) رَأْيٌ : فکر، الْمَرْأَةُ : مرد - انسان      ب) جَمِيلٌ : زیبا، رَمَانٌ : انار ج) خَشْبٌ : چوب، فَائِزٌ : برنده      د) دَهْرٌ : روزگار، عَلِيْكَ : به زیان تو	۰/۵ انمره
۶	در خاهای خالی عددهای مناسب را بنویسید؟ وَاحِدٌ اِثْنَانِ اَرْبَعَةٌ خَمْسَةٌ سَبْعَةٌ ثَمَانِيَةٌ	۰/۵ انمره
۷	مونت هر کلمه از کلمات داده شده را بنویسید؟ «دو کلمه اضافی است» «هَي، هَاتَانِ، الْبَنَاتُ، النِّسَاءُ، الْمَرْاهُ، مَجَاهِدَاتٌ» رجال ( )      هذَانِ ( )      هُوَ ( )      مَجَاهِدُونَ ( )	انمره

۰/۷۵ نمره	به سوالات زیر به عربی پاسخ کوتاه دهید؟ الف) من این أنت؟ ج) كم أسبوعا في الشهر؟ ب) ما سمك؟	۸
انمره	کلمات داده شده را در جای خود قرار دهید؟ « دو کلمه اضافی است » « اشجار، طالبات، لاعتنان، معلمین، صیف، نسیان » جمع مکسر ( ) مثنی ( ) جمع مذکر سالم ( ) جمع مؤنث سالم ( )	۹
انمره	غلط های مشخص شده را اصلاح کنید؟ الف) هذا اللاعبون، فائزون في مسابقتين ب) ما هي؟ هي لاجيه ج) اولئك الرجل جالسون عند العالمين د) عباس و هاشم مسرورون	۱۰
انمره	در جاهای خالی کلمه پریشی مناسب بنویسید؟ الف) .....هذه، شجرة العنب؟ نعم هذه شجرة العنب. (هل، من، این) ب) .....هو أستاذ اللغة العربية؟ السيد طاهري. (من، ما، لمن) ج) .....ذاك الجوال؟ لمدير (ما، ا، لمن) د) .....الطفل؟ عندما. (لن، من، این)	۱۱
۰/۵ نمره	در جای خالی گزینه مناسب قرار دهید؟ الف) خير الناس.....الناس . ب) قيمة الإنسان ب..... انفع <input type="checkbox"/> صغير <input type="checkbox"/> عقله <input type="checkbox"/> سنه <input type="checkbox"/>	۱۲
۰/۵ نمره	کدام گزینه درست نیست؟ الف) هاتان المرءاتان، مسورتان <input type="checkbox"/> ب) هذان الجبلان مرتفعان <input type="checkbox"/> ج) ذالك الطالبه نظيف <input type="checkbox"/> د) هاذان ولدان <input type="checkbox"/>	۱۳
	جملات عربی را به فارسی ترجمه کنید؟ الف) ان عده الشهر عند الله اثنا عشر شهرا. ۱/۵ ب) حسن الخلق نصف الدين. ۰/۷۵ ج) بلاء الانسان في لسانه. ۱ د) مجالسة العلماء عبادة. ۰/۷۵ و) نعمتان مجهولتان، الصحة و الامان. ۱	۱۴
	موفق باشید	

نام و نام خانوادگی:

مدیریت آموزش و پرورش ناحیه یک یزد

تاریخ امتحان: ۹۴/۱۰/۲۲

نام درس: علوم تجربی

دبیرستان نمونه دولتی رسولیان (دوره اول)

وقت امتحان: ۵۰ دقیقه

شماره ردیف/کلاسی:

نوبت امتحانی:

ردیف	تذکر: پاسخ سوالات را با خود کار آبی بدید	بارم
۱	<p><b>پاسخ صحیح را با علامت <input checked="" type="checkbox"/> مشخص کنید.</b></p> <p>- متخصصان علوم تجربی چگونه این علوم را توسعه بخشیدند .</p> <p>الف - بابت بهره گیری از تفکر، تجربه <input type="checkbox"/> ب - به کار بستن مهارت های گوناگون <input type="checkbox"/> ج - آزمایش <input type="checkbox"/> د - الف و ب <input type="checkbox"/></p> <p>- دقت در اندازه گیری به چه عامل یا عواملی بستگی دارد .</p> <p>الف - مشاهده ، جمع آوری اطلاعات <input type="checkbox"/> ب - مشاهده ، آزمایش <input type="checkbox"/> ج - واحد <input type="checkbox"/> د - دقت شخص ودقت وسیله اندازه گیری <input type="checkbox"/></p> <p>- ذره ای که از اتصال دو یا چند اتم به وجود می آید چه نام دارد .</p> <p>الف - مولکول <input type="checkbox"/> ب - آلیاژ <input type="checkbox"/> ج - ترکیب <input type="checkbox"/> د - مخلوط <input type="checkbox"/></p> <p>- کدام فلز به علت سبکی، مقاوم، محکم بودن در بدنه هواپیما استفاده می شود .</p> <p>الف - مس <input type="checkbox"/> ب - روی <input type="checkbox"/> ج - آهن <input type="checkbox"/> د - آلومینیم <input type="checkbox"/></p>	۱
۲	<p><b>جاهای خالی را با کلمات مناسب پر کنید.</b></p> <p>الف - با افزودن فلزهای کروم، نیکل به آهن، ماده ای به نام ..... به وجود می آید .</p> <p>ب - به مجموعه آب های موجود در اتمسفر، سطح و درون زمین که به صورت جامد، مایع، گاز می باشد ..... می گویند .</p> <p>ج - به حرکت آب به سمت بالا و پایین ..... می گویند و علت آن ..... است .</p>	۱
۳	<p><b>جملات صحیح را با (ص) و جملات غلط را با (غ) مشخص کنید.</b></p> <p>الف - ظروف چینی و سفالی از خاک رس ساخته می شوند . ( )</p> <p>ب - جذر ومد بر اثر نیروی گرانشی ماه و خورشید ایجاد می گردد . ( )</p> <p>ج - از حرارت دادن سنگ آهک، شیشه حاصل می شود . ( )</p> <p>د - مواد هوشمند به موادی گفته می شود که پس از وارد کردن نیرو به آن ها به حالت اول بر نمی گردند. ( )</p>	۰.۱
۴	<p>الف - علت تراکم پذیری گازها را بیان کنید ؟</p> <p>ب - ویژگی حالت مایع ماده را بیان کنید ؟</p>	۱
۵	<p>خصوصیات یا ویژگی عنصرهای فلزی را فهرست کنید ؟ ( چهار مورد )</p>	۱
۶	<p>دو تفاوت جرم و وزن را بیان کنید ؟</p>	۱

۷	الف - عوامل آلوده کننده آب رودها را نام ببرید. ( دو مورد ) ب - زمان را به چه منظور اندازه گیری می نمایم؟
۸	الف - حجم چیست ؟ ب - برای اندازه گیری اجسامی که شکل هندسی منظم ندارند چه راهی پیشنهاد می کنید ؟
۹	اثر گرما را بر حجم مواد با ذکر مثال بیان کنید ؟
۱۰	الف - منظور از انعطاف پذیری ماده چیست ؟ ب - چگونه می توان سختی مغز ممداد را افزایش داد؟
۱۱	الف - بتن چیست ؟ ب - دریاچه ها از نظر چگونگی تشکیل به چند دسته تقسیم می شوند , نام ببرید ؟
۱۲	آبشار یا تند آب چگونه بوجود می آید ؟
۱۳	الف - سرعت آب رودخانه ها به چه عواملی بستگی دارد . فقط نام ببرید ؟ ب - یخچال طبیعی چیست ؟
۱۴	الف - راه های محافظت از منابع طبیعی را نام ببرید ؟ ( دو مورد ) ب - تگرگ چیست ؟
۱۵	چگالی جسمی که جرم آن ۴۰ گرم و حجم آن ۲۰ سانتی متر مکعب است را حساب کنید ؟ ( با ذکر رابط آن ) قهرمان کسی است که بر هوای نفس خود غلبه کند موفق باشید

نام و نام خانوادگی:

بسمه تعالی

تاریخ امتحان: ۱۳۹۴/۱۰/۹

سوال درس: قرآن

مدیریت آموزش و پرورش ناحیه یک یزد

مدت پاسخگویی: ۳۰ دقیقه

پایه: هفتم

دبیرستان پسرانه نمونه دولتی رسولیان (دوره اول)

ساعت امتحان:

تعداد سوال ۸

کلاس-ردیف:

تعداد صفحه ۲

ردیف	سوالات	بارم
۱	کلمات قرآنی داده شده را ترجمه کنید: عُیُونَ ( ) (مُقِيم) (صِرَاط) (عَنْ) ( ) مَا ( ) (لَيْل) (مُتَّقِينَ) (ذُنُوب) ( )	۲
۲	ترکیبات قرآنی زیر را معنی کنید: ۱- اَلْعَذَابُ الْاَلِیْمُ ( ) ۵/۵ ن ۲- مِنْ دُرِّیَّتِی ( ) ۷۵/۵ ن ۳- وَیَلُّ لِّلْکَافِرِیْنَ ( ) ۵/۵ ن ۴- هٰذَا اٰخِی ( ) ۷۵/۵ ن ۵- لَعَلَّكُمْ تَعْقِلُوْنَ ( ) ۷۵/۵ ن ۶- هُدًی وَرَحْمَةً لِّلْمُؤْمِنِیْنَ ( ) ۱ ن ۷- مِلَّةَ اٰبَآءِی ( ) ۷۵/۵ ن ۸- اِنَّ فِیْ ذٰلِکَ لَآیٰةٍ ( ) ۱ ن	۶
۳	عبارت های قرآنی زیر را ترجمه کنید: الف: اِنَّ رَبِّی لَسَمِیْعُ الدُّعَآءِ ( ) ۱/۲۵ ن ب: قُلِ اللّٰهُ خَالِقُ کُلِّ شَیْءٍ وَهُوَ الْوَاحِدُ الْقَهَّارُ (.....مقتدر است.) ۱/۷۵ ن ج: وَلٰکِنَّ اَکْثَرَ النَّاسِ لَا یَشْکُرُوْنَ ( ) ۱ ن د: فَاَعْبُدْهُ وَتَوَكَّلْ عَلَیْهِ ( ) ۱/۵ ن هـ: اَلَا اِنَّ وَعْدَ اللّٰهِ حَقٌّ ( ) ۱ ن ی: قَدْ جَاءَکُمْ الْحَقُّ مِنْ رَبِّکُمْ ( ) ۱/۵ ن	۸
۴	چهار مورد از آداب ظاهری تلاوت قرآن را بیان کنید.	۱
۵	برای لغات داده شده معنای مناسبی از داخل پرانتز بیابید و مقابل آن بنویسید. (توکل کن - توکل کردن - روز - روزها - پاداش) تَوَكَّلْ (.....) یَوْم (.....) اَجْر (.....)	۷۵/۰

.۷۵/۶	<p>جدول را مانند نمونه کامل کنید:</p> <table border="1" data-bbox="335 190 1093 414"> <tr> <td>معنا</td> <td>جمع</td> <td>معنا</td> <td>مفرد</td> </tr> <tr> <td>بهشت ها</td> <td>جَنّات</td> <td>بهشت</td> <td>جَنَّة</td> </tr> <tr> <td>.....</td> <td>.....</td> <td>.....</td> <td>مُؤمِنَة</td> </tr> </table>	معنا	جمع	معنا	مفرد	بهشت ها	جَنّات	بهشت	جَنَّة	.....	.....	.....	مُؤمِنَة	۶
معنا	جمع	معنا	مفرد											
بهشت ها	جَنّات	بهشت	جَنَّة											
.....	.....	.....	مُؤمِنَة											
.۷۵/۷	<p>ترکیب داده شده را مانند نمونه کامل و ترجمه کنید:</p> <p>صادق : راستگو + ین ← صادقین ← راستگویان</p> <p>مُحسِن : ..... + ین ← ..... ← ..... ← راستگویان</p>	۷												
.۷۵/۸	<p>این ترکیب را مانند نمونه کامل کنید.</p> <p>علی + ه ← عَلَیْهِ : بر او - بر آن</p> <p>علی + هِم ← ..... : .....</p>	۸												

تاریخ: ۹۴/۱۰/۱۴

بسمه تعالی

نام و نام خانوادگی: .....

وقت: ۵۰ دقیقه

نوبت اول

دبیرستان نمونه رسولیان

مطالعات اجتماعی پایه هفتم .....

با نام و یاد حضرت دوست، که هرآنچه داریم و نداریم همه از عنایت اوست

۱- کدام یک جزو حقوق انسان ها است؟ ۰/۲۵ نمره

الف) حق حیات  (ب) حق آزادی  (ج) حق تشکیل خانواده  (د) همه ی موارد

۲- سخن زیر از ..... است. ۰/۲۵ نمره

«هر کس جان یک نفر را نجات دهد، مانند این است که جان همه ی مردم را نجات داده است»

الف) امام رضا(ع)  (ب) امام سجاد(ع)  (ج) قرآن کریم  (د) پیامبر گرامی اسلام(ص)

۳- کدام جمله صحیح و کدام یک غلط است؟ ۱ نمره

الف) مهمترین عناصر آب و هوا دما و بارش است  صحیح  غلط  
ب) مهمترین قانون هر کشور قانون مجلس آن کشور است  صحیح  غلط  
ج) قانون اساسی جمهوری اسلامی ایران ۱۸۸ اصل دارد  صحیح  غلط  
د) همیاری یعنی پس از درک احساس فرد حادثه دیده به کمکش بشتابیم  صحیح  غلط

۴- با استفاده از ..... می توان فاصله ی واقعی مکان هارا بر روی زمین محاسبه کرد. ۰/۵ نمره

۵- ناحیه ی آب وهوایی ..... بین رشته کوه البرز و دریای خزر قرار دارد. ۰/۵ نمره

۶- رشته کوه زاگرس در ..... ایران کشیده شده و جهت آن ..... جنوب شرقی است. ۰/۵ نمره

۷- شورای نگهبان از ..... نفر تشکیل شده که ۶ نفر ..... از سوی رهبر انتخاب می شوند و ..... نفر حقوق دان از طرف قوه ی ..... به مجلس معرفی می شوند. ۱ نمره

۸- مهمترین علل به وجود آمدن مقررات و قوانین ..... و ..... بوده است ۰/۵ نمره

۹- عوامل لازم برای تولید را بنویسید. (۳ مورد) ۰/۷۵ نمره

۱۰- سه طبقه ی عمده ی فعالیت های اقتصادی را بنویسید. ۰/۷۵ نمره

۱۱- بر روی برچسب کالاها چه اطلاعاتی باید باشد؟ (۳ مورد) ۰/۷۵ نمره

۱۲- نام موسساتی که برای هر یک تلاش می کنند را بنویسید. ۰/۷۵ نمره

بهداشت: ..... آموزش: ..... امنیت: .....

۱۳- نام دو موسسه ای که در حوادث به ما کمک می کنند را بنویسید. ۱ نمره



۱۴- نام دو نمونه از انواع بیمه را بنویسید. ۰/۵ نمره

۱۵- نام دو مورد از انواع نقشه را بنویسید. ۰/۵ نمره

۱۶- دو مورد از خدمات شهرداری را بنویسید. ۱ نمره

۱۷- زیستگاه یعنی چه؟ ۱ نمره

۱۸- نام چهار ناحیه ی آب وهوایی ایران را بنویسید. ۱ نمره

۱۹- کدام ناحیه ی آب وهوایی ایران شرجی است؟ چرا؟ ۱ نمره

۲۰- مهمترین دلایل حفاظت از زیستگاه ها کدامند؟ (۲مورد) ۱ نمره

۲۱- دو مورد از وظایف محیط بان را بنویسید. ۱ نمره

۲۲- کدام ویژگی انسانی و یا طبیعی است؟ ۱ نمره

رودها: ..... سواد: ..... زبان: ..... نوع آب وهوا: .....

۲۳- دو وظیفه ی شورای نگهبان را بنویسید. ۱ نمره

۲۴- در مورد کلمات زیر توضیح مناسب بنویسید. ۲/۵ نمره

مسئولیت:

بیمه:

توزیع:

نقشه:

عوارض نوسازی: