


مهر آموزشگاه	وقت	مدیریت آموزش و پرورش ناحیه یک یزد دبیرستان نمونه دولتی رسولیان دوره اول			سوالات ارزشیابی نوبت: دوم	
	۳۵ دقیقه				درس: قرآن پایه هشتم	
	تاریخ آزمون	۹۸ / ۳ / ۲۰	پایه	کدرانشن آموزی	۳۰ ثانوارگی	۳۰
	جمع نمره:	هشتم	«ردیف_۸۰۱»	«نام_خانوادگی»	«نام»	

۱- معنای کلمات زیر را به فارسی بنویسید. (۲)

أ : ماکان :
لو : یوقنون :

تعالی :

نَجْعَلُ :

یولُح :

طَوَّل :

۲- ترجمه های صحیح و غلط را با (ص یا غ) مشخص کنید. (۲)

أَنبِئُوا إِلَى اللَّهِ : بازگشتند به سوی خدا ()
قَابِلِ التَّوْبِ : پذیرفت توبه را ()

صَوَّرَكُمْ : شکل می دهد به شما ()
فَقِضَلَكَ : پس گمراه کرد تو را ()

يَرْزُقُكُمْ : روزی می دهد شما را ()
وَ أَحْسِنَ : و نیکی کن ()

نَتَلُوا عَلَيْكَ : می خوانیم بر تو ()
أَطِيعُونَ : اطاعت کردند مرا ()

۳- چگونگی تلفظ حروف (ح - ث) را بنویسید. (۱)

(ح)
(ث)

۴- معنای ترکیب های زیر را بنویسید. (۲)

أَن أَتَلُوا : لِيَعْلَمُوا :
لَعَلَّهُمْ يَشْكُرُونَ : لَتَوْمِنَا :

۵- معنای عبارات و ترکیب های زیر را بنویسید. (۵)

أَنْعَمْتَ عَلَيَّ : وَلَا تَتَّبِعِ الْهَوَى :
يُجَاهِدْ لِنَفْسِهِ :

وَمَا يَعْرِجُ فِيهَا : فَاطِرِ السَّمَوَاتِ وَالْأَرْضِ :
لَا يَسْأَلُكُمْ أَجْرًا :

نَجَزَى الْمُحْسِنِينَ : غَافِرِ الذَّنْبِ :
أَسْتَجِبْ لَكُمْ :

۶- آیات و عبارات زیر را ترجمه کنید. (۸)

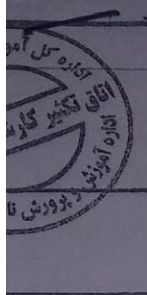
وَرَزَقَكُمْ مِنَ الطَّيِّبَاتِ (۱) : هَلْ مِنْ خَالِقٍ غَيْرِ اللَّهِ (۱) :

فَأَحْكُم بَيْنَ النَّاسِ بِالْحَقِّ (۱) : قَالَ يَا قَوْمِ أَتَّبِعُوا الْمُرْسَلِينَ (۱/۲۵) :


هُوَ الَّذِي أَرْسَلَ الرِّيحَ بُشْرًا (۱/۲۵) :

تَنْزِيلِ الْكِتَابِ مِنَ اللَّهِ الْعَزِيزِ الْحَكِيمِ (۱/۲۵) :

أَلَّذِينَ يَسْتَمِعُونَ الْقَوْلَ فَيَتَّبِعُونَ أَحْسَنَهُ (۱/۲۵) :

	تاریخ امتحان: ۹۸/۲/۳۱ مدت پاسخگویی: ۶۰ دقیقه تعداد سوال: ۱۳ تعداد صفحه: ۳	بسمه تعالی اداره کل آموزش و پرورش استان یزد مدیریت آموزش و پرورش ناحیه یک یزد	نام و نام خانوادگی: سوال درس: پیام های آسمانی (هماهنگ ناحیه) پایه: هشتم ساعت امتحان: ۸ صبح
		نمره نهایی با عدد: نمره نهایی با حروف:	نمره پایانی: نمره مستمره:
بارم	سوال		ردیف
۱/۵	ترجمه آیات قرآنی را کامل کنید. "إِنَّمَا الْمُؤْمِنُونَ إِخْوَةٌ" در حقیقت "وَقَالَ رَبُّكُمْ ادْعُونِي أَسْتَجِبْ لَكُمْ" و گفت: مرا بخوانید (دعا کنید) تا (دعای شما را) "يَا أَيُّهَا الَّذِينَ آمَنُوا.. وَلَا يَغْتَبَ بَعْضُكُم بَعْضًا" ای کسانی که ایمان آوردید.. و بعضی از شما		۱
۱/۲۵	درست یا نادرست بودن "احکام" را مشخص نمایید. - استفاده از گردنبند و انگشتر طلا برای مردان حرام است. <input type="checkbox"/> ص <input type="checkbox"/> غ - ایستادن زیر دوش آب یا ریختن آب بر روی سر، برای روزه دار اشکالی ندارد. <input type="checkbox"/> ص <input type="checkbox"/> غ - کسی که کف پاهایش خیس است، نمی تواند بر روی فرش نجس، نماز بخواند. <input type="checkbox"/> ص <input type="checkbox"/> غ - اگر روزه دار فراموش کند که روزه است و یکی از مبطلات روزه را انجام دهد، روزه اش باطل خواهد بود. <input type="checkbox"/> ص <input type="checkbox"/> غ - اگر کسی بعد از نماز بفهمد که بدن یا لباسش نجس بوده، واجب است نمازش را دوباره بخواند. <input type="checkbox"/> ص <input type="checkbox"/> غ		۲
۱	سوالات چهارگزینه ای: الف) امام حسن عسکری علیه السلام آن را کلید همه زشتی ها می دانند؟ ۱- دروغ <input type="checkbox"/> ۲- تهمت <input type="checkbox"/> ۳- مال حرام <input type="checkbox"/> ۴- غیبت <input type="checkbox"/> ب) بهترین راه درمان غیبت چیست؟ ۱- با غیبت کننده برخورد کنیم <input type="checkbox"/> ۲- به فرد غیبت شونده اطلاع دهیم <input type="checkbox"/> ۳- از عیوب خود غافل نباشیم <input type="checkbox"/> ۴- به یاد عذاب آخرت باشیم. <input type="checkbox"/> ج) خداوند بلند مرتبه چه کسانی را از چهارپایان هم گمراه تر دانسته و آنها را بدترین موجودات معرفی می کند؟ ۱- کسانی که به خاطر حرام خواری دعایشان مستجاب نمی شود <input type="checkbox"/> ۲- کسانی که نمازشان را در اول وقت نمی خوانند. <input type="checkbox"/> ۳- کسانی که بدون دلیل در ماه رمضان روزه نمی گیرند. <input type="checkbox"/> ۴- کسانی که دل هایشان کر و لال است. <input type="checkbox"/> د) حدیث پیامبر اکرم صلی الله علیه و آله: کسی که چشم خود را از نگاه به نامحرم فرومی بندد..... ۱- گرفتاری، غم، حسرت، ناراحتی و اندوه از او دور می شود. <input type="checkbox"/> ۲- خداوند شیرینی ارتباط با خودش را در دل او ایجاد می کند. <input type="checkbox"/> ۳- زیبایی های درونی و بیرونی اش در نزد دیگران آشکار می شود. <input type="checkbox"/> ۴- از حسرت های طولانی و آرزوهای دراز دور می ماند. <input type="checkbox"/>		۳

۱/۵	<p>روایات کامل کردنی: با استفاده از کلمات داخل کمانک، عبارات را کامل کنید. (یک کلمه اضافه است)</p> <p>[دور شدن از خدا - حیا - کسب و کار حلال - عبادت کردن - قرآن - گناهان - احکام الهی]</p> <p>*رسول خدا صلی الله علیه و آله فرمود: "عبادت ده جزء دارد که نه جزء آن است.</p> <p>*از نتایج بی توجهی به حجاب که می توان آن را مهم ترین پیامد آن دانست است.</p> <p>*بی تردید شایسته ترین فرد برای رهبری و هدایت مردم کسی بود که آگاه ترین مردم به و باشد.</p> <p>*رواج کلمات زشت و فحاشی در جامعه سبب می شود که از میان برود و زمینه برای افزایش دیگر فراهم شود.</p>
۳	<p>سؤالات کوتاه پاسخ:</p> <p>- دو مورد از مَبَطَلات (باطل کننده ها) روزه را نام ببرید.</p> <p>- پیامبر اکرم برای هدایت مردم بعد از خود چه برنامه ای طراحی کرده بود؟</p> <p>- چرا نعمت ها و پاداش های بهشتیان مانند یکدیگر نیست؟</p> <p>- دو دلیل اهمیت نماز خواندن در مسجد را بنویسید.</p> <p>- از نظم شگفت انگیز جهان و مخلوقات چه نتیجه ای می توان گرفت؟</p> <p>- گذشت از خطاهای دیگران چه فایده ای برای انسان دارد؟ (۲ مورد)</p>
	سؤالات تشریحی:
۱	۶ اگر همه مردم نسبت به حقوق یکدیگر بی توجهی کنند، چه اتفاقی در جامعه خواهد افتاد؟
۱/۵	۷ کار کردن چه فوایدی برای فرد و جامعه دارد؟ سه مورد بیان کنید.
۱/۵	۸ رواج غیبت در جامعه، چه آثار شومی بر روابط مردم با یکدیگر خواهد گذاشت؟
۱/۵	۹ عقیده اهل سنت و نیز شیعیان در مورد خلافت پس از رحلت پیامبر اکرم صلی الله علیه و آله چیست؟



نام و نام خانوادگی:

سوال درس: پیام های آسمانی (هماهنگ ناحیه)

پایه: هشتم

ساعت امتحان: ۸ صبح

۱/۵	۱۰	مصرف گرایی چه زیان های فردی و اجتماعی به دنبال دارد؟								
۲	۱۱	چهار مورد از آداب دعا را بیان کنید.								
۲	۱۲	به نظر شما زندگی ما در دنیا، چه شباهت ها و چه تفاوت هایی با یک مسابقه فوتبال دارد؟ (برای هر کدام دو مورد بنویسید)								
۱/۷۵	۱۳	کسی که دوست دارد به بهشت الهی راه یابد باید حقوق سه گانه را رعایت نماید، برای هر یک از این حقوق یک مثال بزنید.								
		<table border="1"><thead><tr><th>حقوق سه گانه</th><th>(مثال)</th></tr></thead><tbody><tr><td>حق النفس :</td><td>۱-</td></tr><tr><td>حق الله :</td><td>۲-</td></tr><tr><td>حق الناس :</td><td>۳-</td></tr></tbody></table>	حقوق سه گانه	(مثال)	حق النفس :	۱-	حق الله :	۲-	حق الناس :	۳-
حقوق سه گانه	(مثال)									
حق النفس :	۱-									
حق الله :	۲-									
حق الناس :	۳-									

به نام خدایي که جان آفرید

سخن گفتن اندر زبان آفرید


فرزندم! من می دانم که تو ایران ، این خاستگاه بخردان و دانایان را از بُنِ جان دوست می داری زیرا تو از تبار ایرانیان نژاده و آزاده هستی که جانشان از مهر ایران تابناک است و دلشان به نام و یاد ایران می تپد. (ص ۳۱)

بهلول گفت: « تو دعوی دانایی می کردی، اکنون که به نادانی خود معترف شدی، تو را بیاموزم. بدان که این ها که تو گفתי همه فرع است و اصل در خوردن ، آن است که لقمه حلال باید و اگر حرام را صد از این گونه آداب به جا بیاوری فایده ندارد و سبب تاریکی دل شود. (ص ۴۸)

خانواده کوچک ترین بخش اجتماع است و برای خود، هنجار و حریم و قانون و آدابی دارد. اهل هر خانواده، متناسب با آن آداب و معیارهای اخلاقی، تربیت می شوند و حریم و حرمت یکدیگر و اجتماع را پاس می دارند. (ص ۵۰)

در آن ایام که دشمن، از آسمان و زمین، آتش بمب و موشک بر سر مردم بی گناه این سرزمین فرومی ریخت، ایران سرافراز هرگز رنگ نباخت و بر خود نلرزید؛ پا برجا ماند و درس پایداری و پاسداری را به مردم آزاده ی جهان آموخت. (ص ۷۸)

این یکی از عادات ماست که هر چه را داریم، پاس نمی داریم و همین که از دست رفت، متوجه خطای خود می شویم. انگشت ندامت به دندان می گزیم و سودی نمی بریم. بنابراین، همیشه باید به خاطر داشته باشیم که وقت، عزیز و گران بهاست و از تلف کردن آن جز حسرت و ندامت ثمری نخواهیم برد. (ص ۱۲۰)

مهر آموزشگاه	وقت	مدیریت آموزش و پرورش ناحیه یک یزد		سوالات ارزشیابی نوبت: دوم	
	۶۰ دقیقه	دبیرستان نمونه دولتی رسولیان دوره اول		درس: عربی پایه هشتم	
	تاریخ آزمون	کدرانش آموزی		تعداد صفحه و سوال : دو صفحه ۱۳ سؤال	
	۹۸ / ۳ / ۱۹	پایه	۳۰ قانوناکی	۳۰	
	جمع نمره:	هشتم	«ردیف_۸۰۱»	«نام_خانوادگی»	«نام»

۱ در عبارات عربی زیر ، فقط کلمات مشخص شده را ترجمه کنید .

الف : صَاحِبُ الْمَرْعَةِ طَلَبَ الْمَسَاعِدَةَ مِنْ جِيرَانِهِ لِيَجْمَعَ الْقَمَحَ .

ب : الْغَزَالَةُ الصَّغِيرَةُ مَا يَثْبُتُ فَشَاهَدَتْ حَمَامَةً .

ج : فِي الْأُسْبُوعِ الثَّلَاثِ فِي يَوْمِ السَّبْتِ جَاءَتْ إِلَيْهَا إِحْدَى زَمِيلَاتِهَا .

۲ عبارات عربی زیر را به فارسی ترجمه کنید .

الف : لَا خَيْرَ فِي قَوْلِ الْإِنْسَانِ إِذَا مَعَ الْفِعْلِ .

ب : يَشْرَحُ الْفَرَسُ الْقِصَّةَ وَتَسْمَعُ الْأُمُّ كَلَامَهُ .

ج : نَعَمْ بِالتَّأَكِيدِ ، مَتَى جِئْتُمْ ؟ جِئْنَا قَبْلَ شَهْرٍ .

د : كَمَا تَعْرِفُونَ أَنَا أَطْلُبُ صَلَاحَكُمْ دَائِمًا .

۳ گزینه صحیح را انتخاب کنید.

۱- ترجمه صحیح عبارت ((تَعْمَلُ هَاتَانِ الْفَلَاخَتَانِ فِي الْمَرْعَةِ)) کدام مورد است ؟

الف : این خانم های کشاورز در کشتزار کار می کنند

ب : این خانم ها ، دو کشاورز هستند که کار می کنند .

د : همه موارد .

ج : این خانم های کشاورز در مزرعه هستند .

۲- با توجه به بیت ((درخت دوستی بنشان که کام دل به بار آرد نهال دشمنی بر کن که رنج بی شمار آرد)) کدام یک از جملات

عربی زیر با آن هماهنگ و مرتبط است ؟

الف : الْعَالِمُ بِمَا عَمِلَ كَالشَّجَرِ .

ب : زِينَةُ الْبَاطِنِ خَيْرٌ مِنْ زِينَةِ الظَّاهِرِ .

د : سَكُوتُ اللِّسَانِ سَلَامَةٌ لِلْإِنْسَانِ .

ج : مَنْ زَرَعَ الْعُدْوَانَ حَصَدَ الْخُسْرَانَ .

۴ در هر ردیف کدام کلمه از نظر معنایی یا دستوری با بقیه کلمات نا هماهنگ است ؟ (زیر آن خط بکشید)

الف : مَصْنَعٌ ، مَكْتَبَةٌ ، مَلَكٌ ، مَدْرَسَةٌ

ب : أَشْجَارٌ ، رَجُلَانِ ، حَدَائِقُ ، قَوَاقِحُ

۵ جمله های زیر را ترجمه کنید ، سپس زیر فعلهای مضارع خط بکشید .

الف : وَالِدُنَا يَعْمَلُ فِي الْمَصْنَعِ وَوَالِدَاتُنَا تَعْمَلُ فِي الْمَكْتَبَةِ .

(

ب : عِنْدَنَا طَعَامٌ كَثِيرٌ لِلْعَشَاءِ عَلَى الْمَائِدَةِ نَأْكُلُهُ مَعًا .

(

۵ چرا در ساختار فعل ماضی و مضارع در سوم شخص جمع ترجمه چهار فعل عربی در فارسی یک فعل است ؟ (با توجه به مثال داده شده علت را توضیح دهید)

ماضی ، سوم شخص جمع ، « هُمْ فَعَلُوا ، هُنَّ فَعَلْنَ ، هُمَا فَعَلَا ، هُمَا فَعَلَتَا » (آنها انجام دادند)

مضارع ، سوم شخص جمع ، « هُمْ يَفْعَلُونَ ، هُنَّ يَفْعَلْنَ ، هُمَا يَفْعَلَانِ ، هُمَا تَفْعَلَانِ » (آنها انجام می دهند)

۱۷۵	<p>با توجه به معنا و مفهوم جمله که زمان ماضی است یا مضارع، در جاهای خالی فعل ماضی یا مضارع مناسب قرار دهید.</p> <p>الف: یا اُخْتِي، هل التَّفَاخَةُ قَبْلَ دَفِيقَةٍ؟ (تَأْكُلِينَ، أَكَلْتِ، تَأْكُلُ، أَكَلْتُ)</p> <p>ب: أَنَا عَنِ طَرِيقِ الْخَيْتَةِ فِي خِيَاتِي. (نَحْنُ، نَحْنُ، نَحْنُ، نَحْنُ)</p> <p>ج: أُنْتِ بِجَمْعِ الْفَوَاكِهِ بَعْدَ يَوْمَيْنِ؟ (بَدَأَتْ، تَبَدَّتْ، تَبَدَّتْ، تَبَدَّتْ)</p>
۱	<p>فعلهای زیر را ترجمه کنید.</p> <p>الف: تَنْصُرُ: یاری می‌کسی. لَا تَنْصُرْ: ب: رَحِمْتُمَا: رحم کردید. تَرَحَّمَانِ: ج: تَغْسِلُنَّ: شستید. سَتَغْسِلِينَ: ح: قَتَرَا: توانستند. يَقْدِرَانِ:</p>
۱۷۵	<p>به عربی پاسخ دهید. (در یک یا دو کلمه)</p> <p>الف: لِمَاذَا تَحْضُرُ (تَحْضُرِينَ) فِي الْمَدْرَسَةِ؟ ب: أَيْنَ تَأْكُلُ (تَأْكُلِينَ) الطَّعَامَ؟ ج: لِمَاذَا أَنْتِ (أَنْتِ) هُنَا؟</p>
۱۵	<p>با توجه به اینکه «تَعْمَلَانِ» در دو جمله «انْتُمَا تَعْمَلَانِ حَيِّدًا»، «هُمَا تَعْمَلَانِ حَيِّدًا» به یک صورت و یکسان بکار رفته از کجا بدانیم معنای «تَعْمَلَانِ» چیست؟</p>
۱۷۲۵	<p>کلمات «الْمُحَافَظَةُ، الْجَهْلُ، الْعُشُّ، الدَّهْبُ، الْفُطُورُ، الْمَعْجُونُ، الْمُسْتَوْصَفُ» را مقابل توضیح مرتبط به آن بنویسید.</p> <p>(دو کلمه اضافی است)</p> <p>الف: قِيمَتُهُ غَالِيَةٌ جَدًّا: ب: تَبَيْتُ الطَّائِرَ: ج: مَجْمُوعَةٌ مِنَ الْمَدَنِ: د: مَوْتُ الْأَحْيَاءِ:</p>
۱۵	<p>گزینه مناسب را انتخاب کنید و در جای خالی بنویسید. (با توجه به ساختار فعل)</p> <p>الف: الطَّالِبَاتِ حَوْلَ عِلْمِ الْكِيمِيَاءِ. (يَسْأَلْنَ، يَسْأَلَانِ، تَسْأَلْنَ، تَسْأَلُونَ) ب: هَاتَانِ الْبِنْتَانِ الْعَاقِلَتَانِ وَاجِبَهُمَا. (تَكْتَبُونَ، تَكْتَبَانِ، يَكْتَبَانِ، يَكْتَبْنَ)</p>
۱	<p>کلمات مترادف و متضاد را از بین کلمات زیر انتخاب کنید و دو به دو با قرار دادن علامت مترادف یا متضاد (=، ≠) کنار هم بنویسید. (چهار مورد) (یک کلمه اضافی است)</p> <p>«قَادِمٌ، مِهْنَةٌ، شَاهِدٌ، جَاءَ، مَاضِيٌ، شَرَاءٌ، رَأَى، شُغِلَ، أَتَى»</p>
۱۵	<p>نمره کتبی: جمع:</p>


نام :
 نام خانوادگی :
 نام پدر :
 پایه : هشتم
 شماره کارت :

بسمه تعالی
 اداره کل آموزش و پرورش استان یزد
 مدیریت آموزش و پرورش ناحیه یک یزد
 متوسطه دوره اول
 دبیرستان


تاریخ : ۹۸/۳/۹
 وقت : ۵۰ دقیقه
 درس : زبان انگلیسی
 تعداد سوال : ۵
 تعداد صفحه : ۲

نمره پایانی	نمره شفاهی (۵)	نمره شنیداری (۵)	نمره نوشتاری (۱۰)

۱) معلم تعدادی فلش کارت و جمله را به علی داده تا آنها را باهم جور کند. به او کمک کنید تا جمله ی درست را انتخاب کند. (۱ نمره)




- 1- They are Chinese.
- 2- They are Iranian.



- 1- I can ride a bicycle.
- 2- I can ride a horse.







- 1- It is a bridge.
- 2- It is a shrine.



- 1- It is sunny.
- 2- It is cloudy.

۲) دبیر زبان از دانش آموزان خواسته تا با کمک فلش کارت، توانایی های حیوانات را نشان بدهند. به آنها کمک کنید تا توجه به تصاویر و توانایی های داده شده فلش کارتها را کامل کنند (یک کلمه اضافی ست) (۱ نمره)

Abilities : run, swim, draw, speak, climb

			
.....

۳) دانش آموزان پایه هشتم برای تهیه روزنامه دیواری با معلم جغرافیا راجع به شهر یزد گفت و گو می کنند. با استفاده از جملات داده شده به آنها در تکمیل گفت و گو کمک کنید. (یک جمله اضافی ست) (انمره)

Student: Where is Yazd?

Teacher:

Student:

Teacher: For its old buildings.

Student:

Teacher: Yes, many.

Student: Is there a metro system?

Teacher:

No, there isn't.







What is it famous for?

Yes, they are:

Are there any museums?

It's in the center of Iran.

۴) با توجه به برنامه روزانه ی رضا در مقابل جمله درست T و در مقابل جمله نادرست F بنویسید. (انمره)

	Sunday	Tuesday	Friday
Morning			
evening			

- 1) They visit their relatives on Friday evenings. ()
- 2) Reza studies his lessons on Tuesday mornings ()
- 3) They go to the park on Friday mornings ()
- 4) Reza goes to school on Sunday mornings ()

معلم برای تکمیل جملات زیر سه گزینه در اختیار شما قرار داده است. زیر گزینه صحیح خط بکشید. (انمره)

- 1) There are many in the village. (restaurants- farms- stores)
- 2) It's very in summer. (icy- snowy- hot)
- 3) Are you British? yes, I'm from (china- England- Brazil)
- 4) What's the problem? I have a (headache- game- flower)

۶) جولیا در مورد خودش اطلاعاتی به شما داده است. به صحبت های او توجه کنید سپس جدول زیر را کامل کنید. (نمره)





I'm Julia, a tourist from France. My family live in a small village. It's wet and warm in summer. There is a river in this village. I'm good at playing chess. I do a puzzle as a hobby and sometimes go horse riding in my free time.

Nationality	Weather	Ability	Free time activity
.....

۷) امیر برای کلاس زبان خود متن زیر را درباره زندگی در روستا نوشته است. با توجه به تصاویر متن را کامل کنید تا با زندگی روستایی بیشتر آشنا شوید. (نمره)

In the villages, people have a different life. They are busy working in fields or farms. They raise.....(1) such as cows, sheep and.....(2).

They prepare the farms in.....(3) and raise crops. Some farmers use a.....(4) to plow their farms.



۸) توریستی می خواهد از شهرهای بیرجند، ساری، ایلام و بندر عباس دیدن کند. با توجه به نقشه زیر، موقعیت جغرافیایی شهرهای یاد شده را به او معرفی کنید. (نمره)

Tourist: Where is Birjand located?

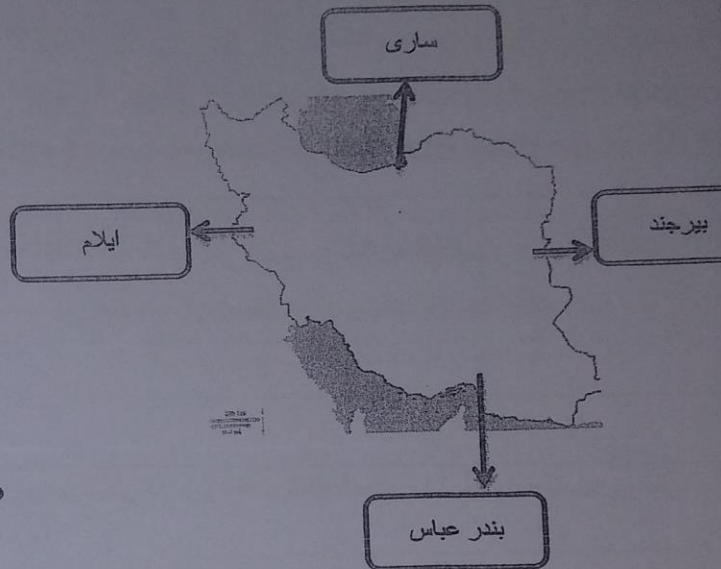
You: It's in the..... of Iran.

Tourist: Where is Sari?

You: It's in the..... of Iran.

Tourist: And Ilam?

You: In the.....




○ Tourist: How about Bandar Abbas?

You: Oh, it's in the..... of Iran.

۹) با توجه به تصاویر جاهای خالی مکالمه های زیر را با کلمات یا عبارات صحیح کامل کنید. (املاي کلمات باید صحیح باشند). (۲ نمره)

1) Parsa: I have a

Ali: Oh, you should get some rest.




2) Mina: What do you do as a hobby?

○ Sara: I



3) Ahmad: Is it cold in your village?

Majid: No, but it's usually in winter.




4) Shiva: What can you do, Akram?

Akram: well, I canwell.

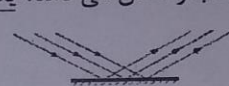

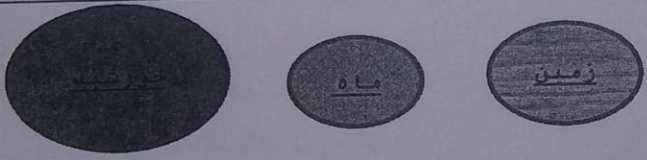
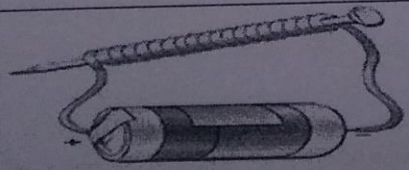


Wishing you lots of luck.

مهر آموزشگاه	وقت	مدیریت آموزش و پرورش ناحیه یک یزد		سوالات ارزشیابی نوبت: دوم	
	۶۰ دقیقه	دیرستان نمونه دولتی رسولیان دوره اول		درس: علوم تجربی هشتم	
	تاریخ آزمون	تعداد صفحه و سوال: ۲ صفحه ۱۳ سؤال			
	۹۸ / ۳ / ۰۵	پایه	کردانش آموزی	نام خانوادگی	نام
	جمع نمره:	هشتم	«ردیف_۸۰۳»	«نام_خانوادگی»	«نام»

علوم هشتم رسولیان - خرداد ۹۸

۱/۲۵	۱- جای خالی را با کلمات مناسب کامل کنید. الف) در تلسکوپ از عدسی استفاده می شود. ب) محل ماهیچه‌ی صاف است. ج) دوزیستان و ماهی ها لقاچ دارند. د) دندانپزشکی آینه ی به کار می رود.	
۱	۲- کدام گزینه صحیح و کدام گزینه غلط است؟ الف) سرعت تنظیم عصبی بیشتر از سرعت تنظیم هورمونی می باشد. ب) درهوازدگی فیزیکی ترکیب شیمیایی سنگ عوض می شود. ج) کوارتز جزء کانی های سیلیکاتی می باشد. د) ماده ای که الکترون می گیرد دارای بار الکتریکی منفی می شود.	ص () غ () ص () غ () ص () غ ()
۱/۲۵	۳- گزینه ی صحیح را انتخاب نمایید. * الف) کدام سنگ جزء رسوبی تبخیری می باشد؟ ۱) سنگ آهک <input type="checkbox"/> ۲) سنگ گچ <input type="checkbox"/> ۳) سنگ نمک <input type="checkbox"/> ۴) موارد ۲ و ۳ <input type="checkbox"/> * ب) تمام تغییرات زیر شیمیایی می باشند به جز: ۱) سوختن چوب <input type="checkbox"/> ۲) جوشیدن آب <input type="checkbox"/> ۳) واکنش سرکه با پوسته تخم مرغ <input type="checkbox"/> ۴) زنگ زدن آهن <input type="checkbox"/> * پ) اگر ذره ی $^{12}A^{+}$ باشد، تعداد الکترون و پروتون به ترتیب کدام است؟ (از راست به چپ) ۱) ۱۲-۱۱ <input type="checkbox"/> ۲) ۱۲-۱۲ <input type="checkbox"/> ۳) ۱۳-۱۱ <input type="checkbox"/> ۴) ۱۱-۱۲ <input type="checkbox"/> * ت) باکتری ها به کدام روش، تولید مثل می کنند؟ ۱) جوانه زدن <input type="checkbox"/> ۲) دونیم شدن <input type="checkbox"/> ۳) قطعه قطعه شدن <input type="checkbox"/> ۴) هر ۳ مورد <input type="checkbox"/> * ث) فراوانی کانی ها به کدام عوامل بستگی دارد؟ ۱) شرایط تشکیل کانی <input type="checkbox"/> ۲) مقاومت کانی در برابر فرسایش <input type="checkbox"/> ۳) فراوانی عناصر تشکیل دهنده کانی <input type="checkbox"/> ۴) هر ۳ مورد <input type="checkbox"/>	
۱/۲۵	۴- به سوالات زیر پاسخ کوتاه دهید؟ الف) یک جسم غیر منیر را نام ببرید؟ ب) در پاشندگی نور سفید در منشور کدام یک از نورها بیشترین شکست را دارد؟ ج) از سرد شدن و انجماد مواد مذاب کدام یک از انواع سنگها به وجود می آید؟ د) یکی از کاربردهای الکتروسکوپ (برق نما) را بنویسید. و) به بخش ماده‌ی گل چه می گویند؟	() () () () ()
۱	علت هریک از موارد خواسته شده را بنویسید. الف) ماگما نسبت به سنگهای اطراف سبک تر است و به سمت بالا حرکت می کند؟ ۱. ۲. ب) برخی از سنگهای دگرگونی در مجسمه سازی و نمای ساختمان کاربرد دارند؟ ۱. ۲.	

۲/۵	<p>۶- تفاوت هریک از موارد داده شده را بایکدیگر بنویسید (یک تفاوت برای هر مورد کافی است)</p> <p>الف) تولید مثل جنسی با تولید مثل غیر جنسی.....</p> <p>ب) قطب های آهن ربا با بارهای الکتریکی.....</p> <p>ج) کنگلومرا با ماسه سنگ از نظر اندازه ذرات.....</p> <p>د) رسوبات و سنگهایی که با یخچالها حمل می شوند با رسوبات و سنگهایی که با رودخانه حمل می شوند.....</p> <p>و) نارسانا با رسانای الکتریکی.....</p>
۱	<p>۷- در شکل «الف» و «ب» بنویسید که کدام نوع بازتاب را نشان می دهد؟ یکی را به دلخواه شرح دهید.</p> <div style="display: flex; justify-content: space-around; align-items: center;"> <div style="text-align: center;">  <p>الف) ()</p> </div> <div style="text-align: center;">  <p>ب) ()</p> </div> </div> <p>شرح :</p>
۱	<p>۸- الف) دو مورد از کاربردهای آزیست را نام ببرید؟ ۱. ۲.</p> <p>ب) چرا به آن کانی نامهربان می گویند؟</p>
۱۷۵	<p>۹- ویژگیهای تصویر در آینه تخت را بنویسید؟ (۳مورد). ۱.</p> <p>۲. ۳.</p>
۱۷۵	<p>۱۰- با توجه به شکل ، موارد خواسته شده را پاسخ دهید.</p> <p>نام پدیده؟</p> <p>چگونگی تشکیل این پدیده را بنویسید؟</p> <div style="display: flex; justify-content: space-around; align-items: center;">  </div>
۱۷۵	<p>۱۱- اختلاف پتانسیل مداری ۲۴۰ ولت و شدت جریان آن ۱۰ آمپر می باشد ؛ مقاومت مدار را حساب کنید؟ (ذکر فرمول لازم است)</p>
۲	<p>۱۲- کلمات زیر را تعریف کنید.</p> <p>- چرخه ی سنگ</p> <p>- گرده افشانی</p> <p>- شکست نور</p> <p>- لقاح</p>
۱۵	<p>۱۳- در شکل مقابل یکی از روشهای ساختن آهنربا را نشان داده جگونگی این را شرح دهید؟</p> 

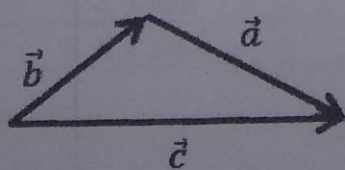
نام خانوادگی:	نام درس: ریاضی	باسمه تعالی	نام:
نام پدر:	پایه: هشتم	وزارت آموزش و پرورش	نام خانوادگی:
نام آموزشگاه:	تاریخ امتحان: ۱۳۹۸/۳/۲	اداره کل آموزش و پرورش استان یزد	نام پدر:
تعداد صفحه: ۴	زمان شروع: ۸ صبح	اداره سنجش	نام آموزشگاه:
تعداد سؤال: ۲۰	وقت: ۸۰ دقیقه		

ضمن خیرمقدم به دانش آموزان و داوطلبان عزیز، سوالات زیر را به دقت بخوانید و با توکل به خدا و آرامش خاطر پاسخ دهید.

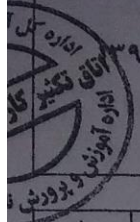
نام و نام خانوادگی دبیر:	نام و نام خانوادگی دبیر:
نمره با عدد	نمره با عدد
نمره با حروف	نمره با حروف

از آنان مباحثید که بدون زحمت و تلاش، امید به عاقبتی نیک دارند. «مولا علی علیه السلام»

ردیف	«استفاده از ماشین حساب مجاز است.»	بارم
۱	<p>درستی یا نادرستی هر یک از عبارات های زیر را مشخص کنید.</p> <p>الف) هر عدد گویا، یک عدد صحیح نیز می باشد.</p> <p>ب) مساحت مستطیلی به طول ۱۶ و عرض ۸ برابر $۲^۷$ می باشد.</p> <p>ج) عبارات های جبری $۵X^۲Y$ و $-\frac{۱}{۵}YX^۲$ با یکدیگر متشابه هستند.</p> <p>د) مجموع زاویه های خارجی هر π ضلعی منتظم برابر ۱۸۰ درجه است.</p>	۱
۲	<p>هر یک از عبارتهای زیر را با کلمه یا عدد مناسب کامل کنید.</p> <p>الف) در ضرب یک عدد در بردار بردار تغییر نمی کند.</p> <p>ب) اگر دو شکل با یکی از تبدیلات هندسی بر یکدیگر منطبق شوند، آن دو شکل هستند.</p> <p>ج) هر نقطه روی یک زاویه، از دو ضلع زاویه به یک فاصله است.</p> <p>د) تنها عدد طبیعی بین اعداد $\sqrt{۷}$ و $\sqrt{۱۴}$ عدد می باشد.</p>	۱
۳	<p>در هر مورد گزینه صحیح را انتخاب کنید.</p> <p>الف) کدام شکل مرکز تقارن دارد ولی محور تقارن ندارد؟ (۱) مستطیل (۲) دوزنقه متساوی الساقین (۳) لوزی (۴) متوازی الاضلاع</p> <p>ب) مقدار عددی عبارت جبری $X^۳ - X$ به ازای $X = -۱$ برابر است. (۱) -۲ (۲) ۱ (۳) صفر (۴) -۱</p> <p>ج) معکوس عدد $-\frac{۳}{۴}$ کدام گزینه است؟ (۱) $-\frac{۴}{۳}$ (۲) $-\frac{۱۱}{۴}$ (۳) $\frac{۳}{۴}$ (۴) $-\frac{۴}{۱۱}$</p> <p>د) جمع برداری متناظر با شکل مقابل کدام گزینه می باشد؟</p>	۱



$\vec{b} = \vec{a} + \vec{c}$ (۴)
 $\vec{a} + \vec{b} + \vec{c} = 0$ (۳)
 $\vec{a} = \vec{b} + \vec{c}$ (۲)
 $\vec{c} = \vec{a} + \vec{b}$ (۱)



نام درس: ریاضی

پایه: هشتم

تاریخ امتحان: ۱۳۹۸/۳/۲۲

زمان شروع: ۸ صبح

وقت: ۸۰ دقیقه

باسمه تعالی

وزارت آموزش و پرورش

اداره کل آموزش و پرورش استان یزد

اداره سنجش

تعداد سؤال: ۲۰

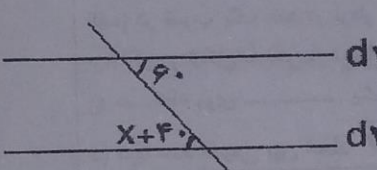
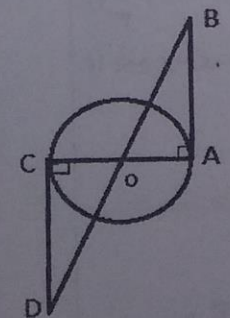
نام:

نام خانوادگی:

نام پدر:

نام آموزشگاه:

تعداد صفحات: ۴

۱	<p>۴ الف) دو عدد مرکب بنویسید که نسبت به هم اول باشند.</p> <p>ب) مجموع دو عدد اول ۴۳ است. این دو عدد را بنویسید.</p> <p>ج) در غربال اعداد ۱ تا ۲۰۰، بزرگترین عدد اولی که مضرب های آن را خط می زنیم، چه عددی است؟</p>
۱	<p>۵ حاصل هر عبارت را بدست آورید.</p> <p>الف) $-4\frac{1}{2} + 1\frac{1}{4} =$</p> <p>ب) $(10-1)(9-1)(8-1)\dots(-9-1)(-10-1) =$</p>
۱	<p>۶ الف) اندازه هر زاویه خارجی یک ده ضلعی منتظم را بدست آورید.</p> <p>ب) دو خط d_1 و d_2 موازیند، مقدار X را بدست آورید:</p> 
۰/۷۵	<p>۷ عبارت جبری زیر را تجزیه کنید.</p> <p>$15ab - 5b =$</p>
۱	<p>۸ اگر $\vec{a} = \vec{i} - 2\vec{j}$ و $\vec{b} = \begin{bmatrix} -1 \\ +2 \end{bmatrix}$ باشند، مختصات بردار $\vec{x} = 2\vec{a} - \vec{b}$ را بدست آورید.</p>
۱	<p>۹ دلیل و حالت همنهشتی دو مثلث OAB و OCD را بنویسید. (O مرکز دایره است.)</p> 

نام :

نام خانوادگی :

نام پدر :

نام آموزشگاه :

تعداد صفحه : ۴

باسمه تعالی

وزارت آموزش و پرورش

اداره کل آموزش و پرورش استان یزد

اداره سنجش

تعداد سؤال : ۲۰

نام درس: ریاضی

پایه : هشتم


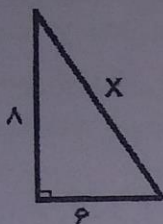
تاریخ امتحان : ۱۳۹۸/۳/۲

زمان شروع: ۸ صبح

وقت: ۸۰ دقیقه

در هر کدام از شکل های زیر، مقدار x و y را بدست آورید.

۱/۷۵



چهار ضلعی متوازی الاضلاع است

۱۰

۰/۵

اگر اندازه ضلع مربعی $\sqrt{2}$ باشد، قطر آن را بدست آورید:

۱۱

۰/۷۵

حاصل هریک از عبارات های زیر را به صورت یک عدد توان دار بنویسید.

$$1/5^{10} \times \left(\frac{3}{5}\right)^7 =$$

$$\frac{63^{17} \div 7^{17}}{9^7} =$$

۱۲

۱

$$\sqrt{34} =$$

عدد

مجذور

جذر تقریبی عدد ۳۴ را تا یک رقم اعشار بدست آورید.

۱۳

۱/۲۵

الف) عدد $2 + \sqrt{5}$ را روی محور اعداد نمایش دهید.



ب) عدد $\sqrt{50}$ را به صورت ضرب یک عدد طبیعی در یک عدد رادیکالی بنویسید.

۱۴

۱

جدول زیر را کامل کنید.

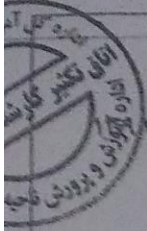
مرکز دسته فراوانی	مرکز دسته	فراوانی	حدود دسته ها
		۸	$4 < x < 8$
۲۰			$8 \leq x \leq 12$

۱۵

۰/۵

معدل مهدی در ۸ درس ۱۵ و در ۴ درس دیگر ۱۸ می باشد، معدل او در کل درس هایش چند است؟


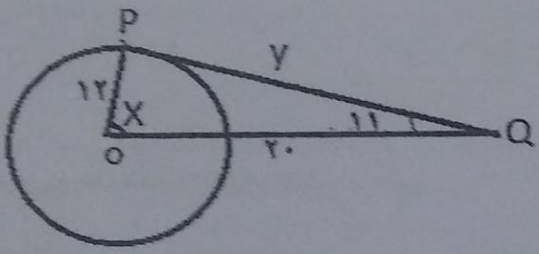
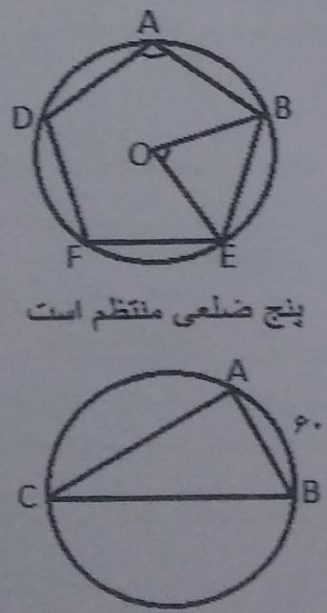
۱۶



نام درس: ریاضی
 پایه: هشتم
 تاریخ امتحان: ۸/۳/۲
 زمان شروع: ۸ صبح
 وقت: ۸۰ دقیقه

باسمه تعالی
 وزارت آموزش و پرورش
 اداره کل آموزش و پرورش استان یزد
اداره سنجش

نام: _____
 نام خانوادگی: _____
 نام پدر: _____
 نام آموزشگاه: _____
 تعداد صفحه: ۴
 تعداد سؤال: ۲۰

۱/۵	<p>یک تاس و یک سکه را همزمان پرتاب می کنیم. الف) تعداد کل حالت های ممکن چندتا است؟ ب) احتمال اینکه تاس عددی بزرگتر از ۲ و سکه رو بیاید، چقدر است؟ ج) احتمال اینکه تاس عدد اول و سکه پشت بیاید، چقدر است؟</p>	۱۷
۰/۵	<p>شکل مقابل قسمتی از دایره است، توضیح دهید چگونه می توانیم اندازه قطر دایره را بدست آوریم؟</p> 	۱۸
۱	<p>در شکل روبرو PQ بر دایره مماس است. اندازه ضلع و زاویه خواسته شده را بدست آورید.</p>  <p>$y =$ $\hat{X} =$</p>	۱۹
۱/۵	<p>در هر شکل اندازه زاویه و کمان خواسته شده را بدست آورید</p>  <p>پنج ضلعی منتظم است</p> <p>$\hat{A} =$ $\hat{O} =$ $\widehat{BE} =$</p> <p>$\hat{A} =$ $\widehat{AC} =$ $\hat{C} =$</p> <p>BC قطر دایره است</p>	۲۰
۲۰	موفق و پیروز باشید	جمع

محل مهر
آموزشگاه

باسمه تعالی

آموزش و پرورش ناحیه یک یزد

نام: «نام»

تاریخ آزمون: ۹۸/۳/۱۱

دبیرستان نمونه رسولیان

نام خانوادگی: «نام_خانوادگی»

آزمون مطالعات اجتماعی نوبت دوم - پایه (هشتم)

کلاس: «ردیف_۸۰۳»

نام دبیر: اسماعیلی

مدت آزمون: ۵۰ دقیقه

شماره صندلی:

بارم	نمره با عدد : نمره با حروف : نام و نام خانوادگی دبیر و امضاء
۱۵	بخاطر بیاوریم الف) به اموال و دارایی های که وقف می شود می گویند.
۱۵	ب) پر خاشگری و نزاع نتیجه چیست؟
۱۵	ج) ایجاد هماهنگی بین وزیران وظیفه کیست؟ ۱) رهبر <input type="checkbox"/> ۲) رئیس مجلس <input type="checkbox"/> ۳) رئیس قوه قضائیه <input type="checkbox"/> ۴) رئیس جمهور <input type="checkbox"/>
۱۵	د) من کیستم؟ از یاران نزدیک امام علی (ع) هستم که در جنگ صفین آثار شکست را بر چهره سپاه ستمگر معاویه آشکار ساختم؟
۱	ه) ۴ مورد از جلوه های تعاون را بنویسید؟
۱۵	فصل ۲ الف) کدام یک از شاعران زیر از دانش آموختگان مدارس نظامیه بودند؟ ۱) حافظ <input type="checkbox"/> ۲) سعدی <input type="checkbox"/> ۳) رودکی <input type="checkbox"/> ۴) غزالی <input type="checkbox"/>
۱۵	ب) وزیر طغرل نام داشت.
۱۵	ج) من کیستم؟ موسس سلسله سلجوقیان هستم خلفای فاطمی مصر و حکومت شیعه مذهب آل بویه را از بین بردم و خلیفه عباسی به من لقب رکن الدین داد؟ ()
۱	د) چرا پایه های حکومت خوارزمشاهیان چندان محکم نبود؟

فصل ۸

الف) مغولان دستورات چنگیز خان را می نامیدند.

۱۵

ب) شعار سربداران چه بود؟

۱۵

ج) در دوره تیموریان هنرهای و شکوفا شد.

۱

د) یکی از کارهای ارزشمند خواجه رشید الدین فضل الله همدانی تشویق هلاکو به ساخت رصد خانه مراغه بود.

۱۵

(صحیح - غلط)

فصل ۹

الف) مهمترین کشور صنعتی آسیا کدام است؟

۱۵

۱) چین ۲) کره جنوبی ۳) ژاپن ۴) تایوان

۱۵

ب) قاره آسیا از طریق کانال سوئز از امریکای شمالی جدا می شود؟ (صحیح - غلط)

۱۵

ج) متراکم ترین ناحیه کره زمین از نظر جمعیت کجاست؟

۱

د) دلتا را تعریف کنید؟

فصل ۱۰

الف) زمستان های معتدل و پرباران و تابستان های گرم و خشک از ویژگی های آب و هوای است؟

۱۵

۱) اقیانوسی ۲) قاره ای (بری) ۳) مدیترانه ای ۴) بیابانی

۱۵

ب) چرا موقعیت بندرگاهی برای کشورها اهمیت زیادی دارد؟

۱۵

ج) اغلب کشورهای جنوب غرب آسیا از نظر اقتصادی به وابسته هستند.

۱

د) چرا جنوب غرب آسیا منطقه ای پرتنش است؟ (دو مورد)

فصل ۱۱

الف) چه عواملی از افزایش جمعیت در آفریقا جلوگیری کرده است؟ (۴ مورد)

۱

ب) تنها چین خوردگی آفریقا در شمال غرب این قاره نام دارد.

۱۵

ج) ناهموازی های اروپای پیر و جوان را با هم مقایسه کنید.

۱

الف) موارد مرتبط در سمت چپ و راست را به هم وصل کنید. (یک پاسخ اضافی است)

آناکاما	
آند	(۱) ارتفاعات جوان آمریکای شمالی
راکی	(۲) بیابانی در آمریکای جنوبی
نوادا	(۳) جلگه‌ی پهناور آمریکای شمالی
می سی سی پی	(۴) ارتفاعات جوان آمریکای جنوبی

ب) دو بندر مهم استرالیا را نام ببرید. ۱- -۲

ج) بلندترین قله نیوزیلند کوههای گریت دیواید است. (صحیح □ - غلط □)

با توجه به نقشه به سوالات زیر پاسخ دهید.

۱- نام طویل ترین رود دنیا:

۲- نام خلیجی است در غرب آفریقا:

۳- نام مدار است:

۴- نام بیابانی در جنوب آفریقا:

۵- نام دریای است:

۶- نام قله آتش فشانی:

