

مهر آموزشگاه	وقت	مدیریت آموزش و پرورش ناحیه یک یزد		سوالات ارزشیابی نوبت: دوم	
	۵۰ دقیقه	دبیرستان نمونه دولتی رسولیان دوره اول		درس: قرآن پایه هفتم	
تاریخ آزمون	۹۸ / ۳ / ۲۰	پایه	کردانش آموزی	۳۰ ثانواکی	تعداد صفحه و سوال : یک صفحه ۸ سئوال
	جمع نمره:	هفتم	«ردیف ۷۰۳»	«نام خانوادگی»	«نام»

غ	ص
<input type="radio"/>	<input type="radio"/>
<input type="radio"/>	<input type="radio"/>
<input type="radio"/>	<input type="radio"/>

۱ صحیح یا غلط بودن هریک از عبارتهای زیر را مشخص کنید.

کلمه «تَعْمَلُونَ» به معنی «علم می آموزند» می باشد
 کلمه «الیم» به معنی «دردناک» می باشد.
 «إِذْ قَالَ لِأَبِيهِ» به معنای «هنگامی که می گویند برای پدرانشان» می باشد

۲ معنی کلمات قرآنی داده شده را در کادر داده شده پیدا کرده و در مقابل آنها بنویسید.

نزد - بندگان - کوه ها - فرزندان - صدا زد

* لَدُنْ () * ذُرِّيَّةً () * جِبَالٍ () * عِيَادٍ () * نَادِي ()

۳ کلمه ی قرآنی ستون الف را ، به معنی آن ، در ستون ب وصل نمایید یا شماره کلمات را در کنار آنها بنویسید.

الف	ب
۱) مَهِين	() خوار کننده
۲) سَبَل	() هدایت می کند
۳) يَهْدِي	() راه ها

۴ گزینه صحیح را انتخاب کنید.

*معنای تمام کلمات ، صحیح نوشته شده است ؛ به غیر از :

- الف (قدیر= توانا) ب) وَيْلٌ= وای بر ج) ظَلٌّ= گمان کرد د) وَجَدُوا= یافتند
- *معنای «وَلَا يَظْلِمُ رِبْكَ أَخِذَاً» در کدام گزینه آمده است؟
 الف) پروردگارت به تو ظلم نمی کند ب) پروردگارت تو ظلم می کند ج) و پروردگارت تو ظلم به کسی نمی کند د) هیچ کدام
- * «پروردگارا بیامرز» معنای کدام یک از عبارات زیر است؟
 الف) رَبِّ اغْفِرْ ب) رَبَّنَا اغْفِرْ لِي ج) رَبِّي اغْفِرْ لَنَا د) هیچ کدام

۵ ترکیبات قرآنی زیر را معنا کنید.

- *الْحَمْدُ لِلَّهِ () *وَيْلٌ لِلْكَافِرِينَ ()
 *عَذَابٌ مُّهِينٌ ()

۶ با توجه به عبارات قرآنی ، یا معانی آنها ، کلمه جا افتاده کدام است؟ (از بین کلمات داخل کمانک)

- *وَلَهُ اِخْتِلَافٌ اللَّيْلِ وَالنَّهَارِ أَفَلَا و از اوست آمد و شد شب و روز پس چرا اندیشه نمی کنید (تَعْقِلُونَ - تَفَكَّرُونَ)
 * ذَلِكُمْ مِنْ فَضْلِ اللَّهِ وَ عَلَى النَّاسِ : این از لطف و رحمت خودند بر ما و بر مردم است. (عَلِيهِمْ - عَلَيْنَا)
 *فَاصْبِرْ عَلَى مَا يَقُولُونَ«پس صبور و شکیبا باش بر آنچه مردم» (می گویند - انجام می دهند)
 *وَلَا تُضِيعْ أَجْرَ الْمُحْسِنِينَ«و از بین نمی بریم پاداش» را» (مؤمنین - نیکوکاران)


۷ معنای آیات زیر را کامل کنید.

- *وَالنَّجْوَمُ مُسْتَحَرَاتٌ بِأَمْرِهِ : و رام شده به هستند ۱۷۵
 *إِنَّ اللَّهَ يَدْفَعُ عَنِ الَّذِينَ ءَامَنُوا : خدا دفاع می کند از کسانی که ۱۵
 *وَإِذْ أَوْى الْفِتْيَةُ إِلَى الْكَهْفِ : پناه گرفتند جوانان به سوی ۱۵
 *فَنِعِمَّ الْمَوْلَى وَ نِعِمَّ النَّصِيرُ : پس چه خوب و چه خوب ۱۵
 *أَلَا إِنَّ وَعْدَ اللَّهِ حَقٌّ : آگاه باشید که است ۱۷۵

جدول را کامل کنید.

مفرد	معنا	جمع	معنا
.....	مسلمان	مُسْلِمُونَ
جَنَّتْ	پهشت ها

نام :	باسمه تعالی	نام درس: پیام های آسمانی
نام خانوادگی:	اداره کل آموزش و پرورش استان بزد	پایه : هفتم
نام پدر:	مدیریت آموزش و پرورش ناحیه یک بزد	تاریخ امتحان : ۱۳۹۸/۳/۳۱
نام آموزشگاه :	اداره سنجش	زمان شروع : ۸ صبح
تعداد صفحات : ۳	تعداد سؤال : ۱۷	وقت : ۶۰ دقیقه



نام و نام خانوادگی دبیر :	نام و نام خانوادگی دبیر :
نمره مستمر	نمره کل با عدد
نمره پایانی	نمره کل با حروف

بارم ردیف

۱ آیه شریفه زیر را ترجمه کنید.
 «وَأَقِمِ الصَّلَاةَ إِنَّ الصَّلَاةَ تَنْهَى عَنِ الْفَحْشَاءِ وَالْمُنْكَرِ»

۲ ترجمه آیه « وَقُلْ لِلْمُؤْمِنَاتِ يَغْضُضْنَ مِنْ أَبْصَارِهِنَّ » را کامل کنید.
 « و به زنان مومن (نیز) بگو

۳ جاهای خالی زیر را با استفاده از کلمات داخل پرانتز کامل کنید. (یک کلمه اضافی است)
 (عالمان - نجات - ایمان - برنامه ریزی - دوهزار - فقیه یا مجتهد - هفتاد - حسرت و پشیمانی)
 - امام رضا (ع) : هر رکعت نماز جماعت به اندازه رکعت نمازی که به تنهایی خوانده شود ارزش دارد.
 - به افراد متخصص در دین می گویند.
 - خداوند وفای به عهد را نشانه می داند .
 - عاقبت راستگویی و عاقبت دروغگویی است .
 - یکی از گام های اساسی مبارزه با تنبلی است.
 - پیامبر اکرم همواره را برتر از کسانی می دانست که بدون علم و دانش عبادت می کنند.

۴ در هر مورد گزینه صحیح را مشخص کنید.
 الف (علت آزار و فشار قبر سعد بن معاذ چه بود ؟
 (۱) نماز نخواندن (۲) صدقه ندادن (۳) بد اخلاقی با خانواده (۴) نیکی نکردن به پدر و مادر)
 ب) «فراگیری دانش بر هر مسلمانی واجب است .» این روایت با چه موضوعی مرتبط است .
 (۱) زندگی همیشگی (۲) علم آموزی برای همه (۳) ثروت واقعی (۴) تواضع نسبت به معلم)

به سوالات زیر پاسخ کوتاه بدهید.

الف) شکر واقعی نعمت چیست؟

ب) خداوند در جنگ احد مسلمانان را با چه شرایطی یاری کرد؟

ج) دو مورد از آثار صدقه دادن را بنویسید.

د) مرگ برای چه کسانی وحشتناک و ناخوشایند است؟

ه) کدام دو ویژگی است که اگر در کسی نبود باید از او پرهیز کرد؟

م) دو نمونه از فداکاری های حضرت علی (ع) را بنویسید.

درستی یا نادرستی عبارات های زیر را با علامت (x) مشخص کنید.

ص غ

- انجام تکالیف شرعی قبل از بلوغ واجب است .

ص غ

- ظرف نجس با دو بار آب قلیل ریختن پاک نمی شود .

ص غ

- ما موم نباید تکبیره الاحرام را پیش از امام بگوید.

ص غ

- آب کروجاری در برخورد با نجس ، نجس می شود .

ص غ

- قیام یکی از ارکان نماز می باشد .

ص غ

- اگر چه قنوت در نماز ثواب بسیاری دارد ولی قنوت در نماز واجب نیست .

عزت نفس را تعریف کنید . با مثال

۱

چرا حضرت فاطمه سلام الله علیها هرگز از امیرالمؤمنین چیزی درخواست نمی کرد؟

۱

سه مورد از شرایط مرجع تقلید را بنویسید.

۱/۷۵

زمین چه چیزهایی را می تواند پاک کند؟ با چه شرایطی . ۴ مورد

۱/۵

نام خانوادگی:		باسمه تعالی		نام درس: پیام های آسمانی	
نام پدر:		اداره کل آموزش و پرورش استان یزد		پایه: هفتم	
نام آموزشگاه:		مدیریت آموزش و پرورش ناحیه یک یزد		تاریخ امتحان: ۱۳۹۸/۲/۳۱	
تعداد صفحه: ۳		اداره سنجش		زمان شروع: ۸ صبح	
تعداد سؤال: ۱۷		اتاق تکبیر کارشناسی سنجش		وقت: ۶۰ دقیقه	
۱	۱۱	با ذکر یک مثال توضیح دهید که به چه مقدار آب، آب قلیل گفته می شود.			
۱	۱۲	از نماز ظهر عاشورای امام حسین علیه السلام ویرانش چه می آموزیم؟			
۱	۱۳	به نظر شما برگزاری نماز به صورت جماعت، چه فایده هایی می تواند داشته باشد؟ ۳ مورد			
۱	۱۴	شیوه انجام غسل را توضیح دهید.			
۱	۱۵	با توجه به آیات قرآن کریم، مهم ترین فایده حجاب برای بانوان چیست؟			
۱	۱۶	انجام کارها بدون دانش و بینش چه نتیجه ای دارد؟			
۱	۱۷	چرا انسان عجزول نمی تواند تصمیم های درستی بگیرد؟			

موفق و سربلند باشید




متن تقریری املای فارسی هفتم

کسی در زندگی موفق است که اکنون و فرصت حال را دریابد و همیشه فکر کند که بهترین فرصت من امروز است. امروز را به فردا افکندن و به امید آینده نشستن، کار درستی نیست.

هیچ گاه زیانش را به دشنام نمی آلود. بد رفتاری با شخص خود را می بخشید ولی درباره ی کسانی که به حریم قانون تجاوز می کردند گذشت و مدارا نداشت. در زندگی از تجمل دوری می جست. در کارهای منزل به خانواده اش کمک می نمود و چون بانگ اذان را می شنید، به نماز می رفت.

زیر آن ملافه ی سفید که درست مثل کفن بود آدم آهنی ساکت بود ولی شب، وقتی باد از بیرون به داخل سالن نمایشگاه می وزید و با خود رایحه ی گل های درخت بلوط و صدای خش خش برگ هایش را می آورد، صدای شکسته و آهسته ای از زیر ملافه ی سفید می آمد.

«دونا» معلم مدرسه ی کوچکی بود و دو سال تا یازدهم نوبت دوم فرصت داشت. من هم به عنوان یازدهم در کلاس ها شرکت می کردم و سعی داشتم در امر آموزش تسهیلاتی را فراهم آورم.

سوالات ارزشیابی نوبت: دوم		مدیریت آموزش و پرورش ناحیه یک یزد		مهر آموزشگاه	
درس: عربی هفتم		دیپلستان نمونه دولتی رسولیان دوره اول		وقت	
تعداد صفحه و سوال: دو صفحه ۱۵ سؤال				۶۰ دقیقه	
نام	نام خانوادگی	کدرانش آموزی	پایه	تاریخ آزمون	
نام	نام خانوادگی	«ردیف ۷۰۲»	هفتم	۹ / ۳ / ۹۸	
				جمع نمره:	
ردیف	ترجمه (۷ نمره)				
۱	<p>سخنان حکیمانه زیر را ترجمه کنید .</p> <p>۱ - أَفْضَلُ النَّاسِ أَنْفَعُهُمْ لِلنَّاسِ .</p> <p>۲ - الْوَحْدَةُ خَيْرٌ مِنْ جَلِيسِ السُّوءِ .</p>				
۲	<p>جمله های زیر را ترجمه کنید .</p> <p>۱ - الْأَطْفَالُ حَفِظُوا سُورَتَيْنِ مِنَ الْقُرْآنِ .</p> <p>۲ - مَاذَا اشْتَرَيْتُنَّ ؟ اشْتَرَيْتُنَا فُسْتَانًا وَعَبَاءَةً .</p> <p>۳ - نَحْنُ مَا عَبَرْنَا الْحُدُودَ .</p> <p>۴ - يَا أَسْتَاذُ ، هَلْ سَمَّحْتَ لِي بِالْكَلَامِ ؟</p>				
۳	<p>ترجمه ناقص هر جمله را با کلمه مناسبی کامل کنید .</p> <p>۱ - طَلَبَ مِنْهُ صُنْعَ تَيْتٍ حَشَبِيٍّ كَأَخِيرِ عَمَلِهِ فِي الْمَصْنَعِ .</p> <p>از او خانه ای چوبی را به عنوان کارش در خواست .</p> <p>۲ - هُنَّ خَرَجْنَ وَ هَرَبْنَ جَمِيعًا . آنها خارج شدند و همگی</p>				
۴	<p>برای هر جمله ترجمه ی صحیح را انتخاب کنید .</p> <p>۱ - مَنْ رَزَحَ الْعُدْوَانَ حَصَدَ الْخُسْرَانَ .</p> <p>الف) هر کس دشمنی بکارد زیان درو می کند . <input type="radio"/> ب) هر کس دو دشمن کاشت دو ضرر درو کرد . <input type="radio"/></p> <p>۲ - أَخَوَاتِي سَأَلْنَ سُؤَالَ مُفِيدًا .</p> <p>الف) برادرانم سؤال های مفیدی پرسیدند . <input type="radio"/> ب) خواهرانم سؤال های مفیدی پرسیدند . <input type="radio"/></p>				
۵	<p>واژه شناسی (۲/۷۵)</p> <p>نام هر تصویر را با استفاده از کلمات داخل پرانتز در زیر آن بنویسید .</p> <p>(سَفِينَةٌ ، طَائِرَةٌ ، حَقِيبَةٌ ، وَرْدَةٌ ، سَيَّارَةٌ)</p> <div style="display: flex; justify-content: space-around;"> <div style="text-align: center;">  <p>.....</p> </div> <div style="text-align: center;">  <p>.....</p> </div> <div style="text-align: center;">  <p>.....</p> </div> </div>				
۶	<p>کلمات متضاد و مترادف را از داخل پرانتز پیدا کرده و در جای خالی بنویسید . (خَلْفَ ، أَفَاضِلِ ، وَرَاءَ ، أَرَادِلِ ، أَفْضَلِ)</p> <p>..... = ≠</p>				

۷	فقط معنای کلمات مشخص شده را بنویسد . الف) غَدًا يَوْمَ الْخَمِيسِ (.....) ب) بَيْتُنَا فِي نِهَائِهِ هَذَا الشَّارِعِ (.....)	۵										
۸	در هر ردیف کدام کلمه با بقیه متفاوت است؟ الف) يَدٌ ماءٌ وَجْهٌ لِسَانٌ ب) هَوْلَاءٌ ذَلِكْ هَاتَانِ أَنْتَ	۵										
مهارت شناخت و کاربرد قواعد (۱)												
۹	با توجه به مثال فعل های داده شده را ترجمه کنید. قَطَعَ : برید ← أَنْتُمْ مَا قَطَعْتُمْ : ذَكَرَ : یاد کرد ← الْبَيْتَانِ ذَكَرْتَا :	۵										
۱۰	کدام فعل ماضی برای جای خالی مناسب است ؟ ۱- أَيُّهَا الْأَصْدِقَاءُ ، هَلْ مَنِ الْفَوَاكِهِ . أَكَلْتُمَا أَكَلْتُمْ ۲- السَّائِقُ إِلَى نِهَائِهِ الطَّرِيقِ . وَصَلَتْ وَصَل	۵										
مهارت درک و فهم (۲/۲۵)												
۱۱	برای جای خالی گزینه مناسب را انتخاب کنید. ۱- فَصَلُ الْجَمَالِ وَالْحَيَاةِ الْجَدِيدَةِ . الرَّبِيعُ الْخَرِيفُ ۲- لَوْنُ السَّمَاءِ : أَصْفَرُ أَزْرَقُ	۵										
۱۲	کلمات مرتبط در دو ردیف الف ، و د ب ، را به هم وصل کنید . (درستون ب یک کلمه اضافی است)											
	<table border="1" style="width: 100%; border-collapse: collapse;"> <thead> <tr> <th style="width: 50%;">الف</th> <th style="width: 50%;">ب</th> </tr> </thead> <tbody> <tr> <td>بداية أيام الأسبوع</td> <td>السؤال</td> </tr> <tr> <td>متضاد فَرِحَ ،</td> <td>السبت</td> </tr> <tr> <td>آفة العِلْمِ</td> <td>النسيان</td> </tr> <tr> <td></td> <td>حزن</td> </tr> </tbody> </table>	الف	ب	بداية أيام الأسبوع	السؤال	متضاد فَرِحَ ،	السبت	آفة العِلْمِ	النسيان		حزن	
الف	ب											
بداية أيام الأسبوع	السؤال											
متضاد فَرِحَ ،	السبت											
آفة العِلْمِ	النسيان											
	حزن											
۱۳	متن زیر را بخوانید و به سوال های طرح شده پاسخ دهید: كَانَتْ فِي بَحْرِ كَبِيرٍ سَمَكَةٌ قَبِيحَةٌ إِسْمُهَا السَّمَكَةُ الْحَجْرِيَّةُ ، وَ الْأَسْمَاكُ خَائِفَاتٌ مِنْهَا . هِيَ كَانَتْ وَحِيدَةً دَائِمًا . فِي يَوْمٍ مِنَ الْأَيَّامِ ، ثَلَاثَةٌ مِنَ الصِّيَادِينَ جَاؤُوا وَ قَذَفُوا شَبَكَةً كَبِيرَةً فِي الْبَحْرِ . وَقَعَتِ الْأَسْمَاكُ فِي الشَّبَكَةِ . مَا جَاءَ أَحَدٌ لِلْمُسَاعَدَةِ . السَّمَكَةُ الْحَجْرِيَّةُ سَمِعَتْ أَصْوَاتَ الْأَسْمَاكِ . ۱- أَيْنَ وَقَعَتِ الْأَسْمَاكُ ؟ ۲- مَاذَا سَمِعَتِ السَّمَكَةُ الْحَجْرِيَّةُ ؟ ۳- هَلْ جَاءَ أَحَدٌ لِلْمُسَاعَدَةِ ؟ ۴- مَا اسْمُ السَّمَكَةِ الْقَبِيحَةِ ؟											
مهارت مکانه (۲)												
۱۴	به سوالات زیر پاسخ کوتاه دهید. (دریک یا دو کلمه) ۱- مَا اسْمُكَ ؟ ۲- مِنْ أَيْنَ أَنْتَ ؟ ۳- كَمْ عَدَدُ شَهْرِ السَّنَةِ ؟ ۴- مَنْ هُوَ مُدْرَسُكَ ؟											
۱۵	با توجه به تصویر به هر سؤال پاسخ کوتاه دهید. این بقره؟ ما هذا؟											
جمع روان خوانی: ۳ نمره مکالمه: ۲												


تاریخ: ۹۸/۳/۱۹
 وقت: ۵۰ دقیقه
 درس: زبان انگلیسی
 تعداد سوال: ۸
 تعداد صفحه: ۳

بسمه تعالی
 اداره کل آموزش و پرورش استان یزد
 مدیریت آموزش و پرورش ناحیه یک یزد
 متوسطه دوره اول
 دبیرستان

نام:
 نام خانوادگی:
 نام پدر:
 پایه: هفتم
 شماره کارت:

نمره پایانی	نمره شفاهی (۵)	نمره شنیداری (۵)	نمره نوشتاری (۱۰)

A- با توجه به تصاویر جمله صحیح را مشخص کنید. (۱ نمره)

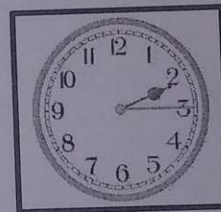


1. Today is Thursday.

1. He is a driver.

2. Today is Tuesday.

2. He is a writer.




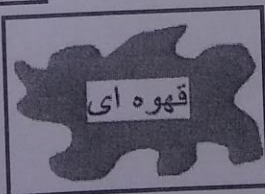
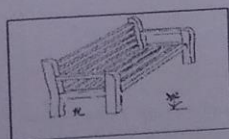
1. He's eating.

1. It's two fifty.

2. He's drinking.

2. It's two fifteen.

B- با توجه به تصاویر و با استفاده از حروف در هم ریخته برای هر تصویر کلمه صحیح بنویسید. (۲ نمره)



(n-c-e-b-h)

(o-w-b-n-r)

(o-e-r-w-t)

(a-n-b-a-n-a)

.....

.....

.....

.....

C-مکالمه زیر را با استفاده از عبارات و جملات داده شده در کادر کامل کنید. (انمره) (یک جمله اضافی است.)

Zahra: Hello Mina. Who is that woman?

Mina:.....

Zahra: How old is she ?

Mina:.....

Zahra: When is her birthday?

Mina:.....

Zahra: What's her job?

Mina:.....

a: She's an employee.

b: It's in March.

c: About thirty.

d: It's 5:30.

e: She's my aunt, Fariba.

D-معلمی به نام آقای سبحان اکبری متولد ۱۳۵۸/۰۴/۰۲ میخواد از طریق اینترنت در یک تور مسافرتی ثبت نام کنه به او کمک کنید تا فرم زیر را تکمیل کنه. (انمره)

Last name	age	job	month of birth
.....


E- باتوجه به تصاویر جملات زیر را کامل کنید. (املاي کلمات باید صحیح باشد). (۲ انمره)

1- She's wearing a black




1

2- My favorite drink is



2

3- He's..... the car.



3

4- He is playing



4

F- مکالمه بین زهرا و خواهرش سارا را مرتب کنید. (با ذکر شماره) (انمره)

1- She's cooking.

Sara:

2- She's in the kitchen.

Zahra:

3- What's she doing?

Sara:

4- Where's mom?

Zahra:

G- امین در حال انجام تکالیف زبان است به او کمک کنید پاسخ سوالات را پیدا کند. (۱ نمره)

1. Your mother's brother is your

- a. uncle b. aunt c. grandmother d. grandfather

2. A: is she coming back? B: Around 5.

- a. Where b. What time c. What d. How

3. A: What's your favorite? B: It's red.


- a. fruit b. food c. drink d. color

4. What's دستکش in English?

- a. socks b. gloves c. belt d. cap

H- شماره جملات را زیر تصویر مربوط به آن بنویسید. یک جمله اضافی است. (۱)

1. Mr. Lotfi is an old man.





2. He's watching TV.


3. He's sleeping.

4. Nice to meet you.

5. He's wearing glasses.



Wishing you lots of luck.

مهر آموزشگاه	وقت	مدیریت آموزش و پرورش ناحیه یک یزد		سوالات ارزشیابی نوبت: دوم	
	۷۰ دقیقه	دبیرستان نمونه دولتی رسولیان دوره اول		درس: علوم تجربی هفتم	
	تاریخ آزمون	کدرانش آموزی		نام	تعداد صفحه و سوال: ۴ صفحه ۱۳ سؤال
	۹۸ / ۰۳ / ۰۲	پایه	نام خانوادگی	نام	
	جمع نمره:	هفتم	«ردیف_۷۰۳»	«نام_خانوادگی»	«نام»

نمره	ردیف	پیامبر اعظم (ص): صدقه، نما، نیکی‌کاری، نیکی به والدین و صلۀ رحم، بدبختی را به خوشبختی و عمر را زیاد و از پیشامدهای بدملوکیری میکند										
۲	۱	اصطلاحات یا کلمات داده شده را تعریف کنید. ۱- چگالی: ۲- آب سخت: ۳- نبض: ۴- نفرون (گردیزه):										
۲	۲	علت هر یک از موارد زیر را بنویسید؟ ۱- کلیه سمت راست، پایین تر از کلیه سمت چپ است. ۲- تنفس از راه بینی بهتر از دهان است. ۳- پزشکان توصیه می کنند از چربی های جامد کمتر استفاده کنیم. ۴- خوردن شیرینی زیاد موجب پوسیدگی دندان ها می شود.										
۱/۲۵	۳	جاهای خالی را با کلمات داخل کمانک که مقابل آنها نوشته شده، تکمیل کنید. ۱- آهن + کربن دی اکسید → + اکسیدهای آهن. (کربن-اکسیژن) ۲- برای انتقال گرما به روش همرفت و به محیط مادی نیاز است. (تابش - رسانش) ۳- کاربرد های یک ماده به آن ماده بستگی دارد. (ویژگی های- اندازه آن) ۴- کارهایی که غذا در بدن انجام می دهد به آن بستگی دارد. (مواد مغذی - زمان هضم) ۵- یکی از مهم ترین کارهای تنظیم میزان آب بدن است. (کبد - کلیه)										
۱/۷۵	۴	صحیح یا غلط بودن هر یک را مشخص کنید. ۱- حنجره در ابتدای مری قرار دارد. ۲- ذرات سازنده ظرف آلومینیمی، مولکول می باشد ۳- مهم ترین نکته در علم، انجام آزمایش است. ۴- آلیاژ، حتما مخلوط دو فلز می باشند.										
		<table border="0"> <tr> <td>صحیح</td> <td>غلط</td> </tr> <tr> <td><input type="radio"/></td> <td><input type="radio"/></td> </tr> <tr> <td><input type="radio"/></td> <td><input type="radio"/></td> </tr> <tr> <td><input type="radio"/></td> <td><input type="radio"/></td> </tr> <tr> <td><input type="radio"/></td> <td><input type="radio"/></td> </tr> </table>	صحیح	غلط	<input type="radio"/>	<input type="radio"/>	<input type="radio"/>	<input type="radio"/>	<input type="radio"/>	<input type="radio"/>	<input type="radio"/>	<input type="radio"/>
صحیح	غلط											
<input type="radio"/>	<input type="radio"/>											
<input type="radio"/>	<input type="radio"/>											
<input type="radio"/>	<input type="radio"/>											
<input type="radio"/>	<input type="radio"/>											

۵- گاز اکسیژن خاصیت تراکم ناپذیری دارد.

۶- کمبود ویتامین A باعث کم خونی و ریزش مو می شود.

۷- اگر قطرات باران در مسیر پایین آمدن، از توده هوای سرد عبور کنند، تگرگ تشکیل می شود.

۰/۵

۵ هر کدام از عبارات زیر به کدام یک از راههای محافظت از منابع طبیعی اشاره دارد؟

الف) از بطری پلاستیکی نوشابه برای نگهداری آب در یخچال استفاده می شود. ()

ب) آهن قراضه و قوطی های فلزی خراب شده، را در کارخانه ذوب و به صورت شمش در می آورند. ()

۰/۵

۶ گزینه صحیح را با علامت ضربدر مشخص کنید.

۱- این اندامک در یاخته ها کار تولید انرژی را بر عهده دارد.


الف) راکیزه (میتوکندری) ب) ریبوزوم (رنا تن) ج) هسته د) دستگاه گلژی

۲- جسمی به وزن ۶۰۰ نیوتن را تا ارتفاع ۶ متر از سطح زمین بالا آورده ایم مقدار کار انجام شده چند ژول است؟

الف) ۳۰۰ ب) ۳۰۰۰ ج) ۱۰۰ د) ۳۶۰۰

۰/۵

۷ از روی شکل، چکش خوار بودن فلزات را، با توجه به ساختار اتمی آنها توضیح دهید؟



۲

۸ برای هریک از موارد داده شده یک تفاوت را بنویسید؟

۱- منابع انرژی تجدیدپذیر با منابع انرژی تجدید ناپذیر

۲- سفره های آب زیر زمینی آزاد، با سفره های زیر زمینی تحت فشار

۳- دما با گرما

۴- گویچه های قرمز با گویچه های سفید از نظر وظیفه آنها

به سوالات زیر پاسخ کوتاه دهید؟

۹

- ۱- چربی های گیاهی در دمای معمولی چه حالتی دارند؟
- ۲- یکی از ویژگی های آب های زیر زمینی را بنویسید؟
- ۳- بیشتر آنزیم های باریک روده در کجا ساخته می شود؟
- ۴- اگر رودخانه در مسیر خود به محلی برسد که به طور ناگهانی دچار اختلاف ارتفاع شود چه چیز به وجود می آید؟.....

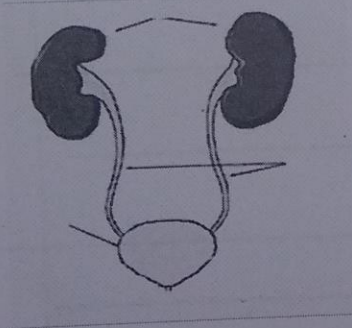
جاهای خالی را با کلمات مناسب پر کنید

۱۰

- ۱- نشاسته از مولکول هایی به نام ساخته شده است. (سلولز - گلوکز)
- ۲- کمبود آهن از عوامل است. (پوکی استخوان - کم خونی)
- ۳- تنظیم محیط داخلی وظیفه است. (کبد - کلیه)
- ۴- در زیر قفسه ی سینه پرده ای ماهیچه ای به نام قرار دارد. (جنب - دیافراگم)
- ۵- بخش عمده قلب را ، بافت تشکیل می دهد. (پوششی - ماهیچه ای)

تصویر داده شده مربوط به دستگاه دفع ادرار می باشد:

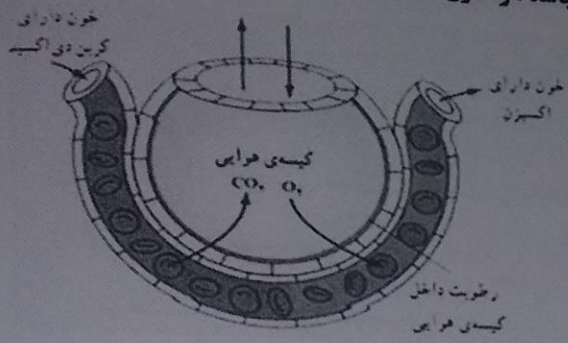
۱۱



الف) میزناي و مئانه را روی شکل نشان دهید .

ب) محل کلیه ها در کجاست؟

شکل زیر، که نشان دهنده چگونگی انتقال گازهای تنفسی در خون می باشد؛ را شرح دهید؟



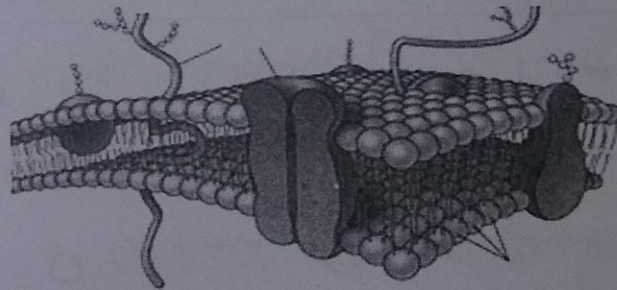
۱۲


تصویر زیر مربوط به غشاء یاخته می باشد.

۱۳

الف) لیپید(چربی) و پروتئین ها را روی شکل، مشخص کنید.

ب) کار غشاء یاخته چیست؟





نام خانوادگی: نام پدر: نام آموزشگاه: تعداد صفحه: ۴

نام: باسمه تعالی وزارت آموزش و پرورش اداره کل آموزش و پرورش استان یزد اداره سنجش

نام درس: ریاضی پایه: هفتم تاریخ امتحان: ۱۳۹۸/۳/۵ زمان شروع: ۸ صبح وقت: ۹۰ دقیقه

تعداد سؤال: ۲۲

ضمن خیرمقدم به دانش آموزان و داوطلبان عزیز، سوالات زیر پایه دقت بخوانید و باتوکل به خدا و آرامش خاطر پاسخ دهید.

ردیف	نام و نام خانوادگی دبیر:	نام و نام خانوادگی دبیر:
بارم	نمره با عدد	نمره با حروف
بارم	نمره تجدید نظر با عدد	نمره تجدید نظر با حروف
۱	۱	۱
۱	۲	۳
۱	۴	

«استفاده از ماشین حساب مجاز است.»

۱ - جمله درست را با ✓ و جمله غلط را با ✗ مشخص کنید:

الف) مجموع دو عدد فرد همیشه عددی فرد است.

ب) اگر دو عدد اول باشند ب م آنها حاصل ضرب دو عدد می شود.

ج) دو بردار وقتی برابر هستند که هم راستا و هم اندازه و هم جهت باشند.

د) سطح مقطع استوانه، می تواند به شکل بیضی باشد.

۲ جواب مناسب را انتخاب کنید:

الف) جمع هر عدد با قرینه اش برابر است با (صفر ، خود عدد)

ب) به چند ضلعی که تمام ضلع ها و زاویه هایش با هم برابر باشد ، چند ضلعی می گویند. (محذب ، منتظم)

ج) حاصل $\sqrt{36}$ - برابر است با (-۶ ، +۶)

د) از دوران مستطیل حول عرض به وجود می آید. (استوانه ، مکعب)

۳ گزینه درست را انتخاب کنید و دور آن خط بکشید:

الف) نمودار برای نمایش تغییر ها کاربرد دارد.

میله ای تصویری خط شکسته دایره ای

ب) نقطه $\begin{bmatrix} +257 \\ -879 \end{bmatrix}$ در کدام ناحیه از محورهای مختصات قرار دارد؟

اول دوم سوم چهارم

ج) تعداد یال در منشور سه پهلو برابر است با

۶ ۹ ۳ ۵

د) قرینه نقطه $\begin{bmatrix} -5 \\ +2 \end{bmatrix}$ نسبت به محور عرضها کدام نقطه می باشد؟

$\begin{bmatrix} -5 \\ +2 \end{bmatrix}$ $\begin{bmatrix} +5 \\ -2 \end{bmatrix}$ $\begin{bmatrix} +5 \\ +2 \end{bmatrix}$ $\begin{bmatrix} -5 \\ -2 \end{bmatrix}$

۴ مقایسه کنید: (\leq)

$26 \circ 8^2$ $4 \circ (-2)^2$ $-(-3) \circ -5$

احتمال آمدن عدد اول در تاس \odot احتمال آمدن عدد زوج در تاس

نام :

نام خانوادگی :

نام پدر:

نام آموزشگاه :

تعداد صفحه : ۴

تعداد سؤال : ۲۲

باسمه تعالی

وزارت آموزش و پرورش

اداره کل آموزش و پرورش استان یزد

اداره سنجش

نام درس: ریاضی

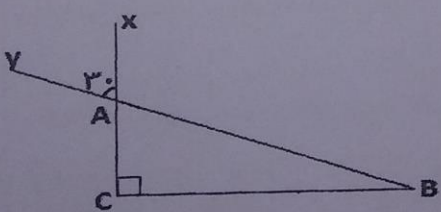
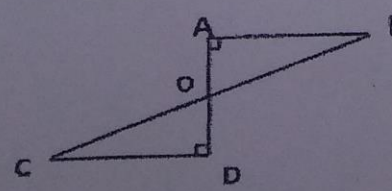
پایه : هفتم

تاریخ امتحان : ۱۳۹۸/۳/۵

زمان شروع : ۸ صبح

وقت: ۹۰ دقیقه

ایستادگی
اول

۰/۵	$(۲-۷) \div (-۵) =$	۵	حاصل عبارت روبرو را بدست آورید:
۰/۵	$a - (a - 2b) =$	۶	مقدار عددی عبارت جبری زیر را به ازای $a = ۵$ و $b = -۳$ بدست آورید.
۰/۷۵	$2x = 5x + 3$	۷	معادلات زیر را حل کنید:
	$2x = 10$		
۰/۵	۳ و ۷ و ۵ و ۳.....	۸	الف - با توجه به الگوی عددی مقابل، جمله n ام را بنویسید: ب - جمله « عمل جمع، خاصیت جابجایی دارد.» را به صورت جبری بنویسید:
۱	$(12, 30) =$	۹	الف - ب م م دو عدد ۱۲ و ۳۰ را با استفاده از تجزیه اعداد بدست آورید: ب - حاصل عبارت مقابل را با استفاده از ک م م مخرجهها بدست آورید:
	$\frac{7}{15} - \frac{3}{20} =$		
۰/۵		۱۰	با توجه به شکل، اندازه زاویه های خواسته شده را بنویسید: ($\hat{C} = 90$) $\hat{XAB} = \hat{B} =$
۰/۷۵		۱۱	دو مثلث OAB و OCD هم نهشت هستند. تساوی های مقابل را کامل کنید: نوع تبدیل = $\hat{C} = \dots\dots$ $\overline{AB} = \dots\dots$

نام :

نام خانوادگی :

نام پدر :

نام آموزشگاه :

تعداد صفحه : ۴

باسمه تعالی

وزارت آموزش و پرورش

اداره کل آموزش و پرورش استان یزد

اداره سنجش

تعداد سؤال : ۲۲


نام درس : ریاضی

پایه : هفتم

تاریخ امتحان : ۱۳۹۸/۳/۵

زمان شروع : ۸ صبح

وقت : ۹۰ دقیقه



۱۲

در جدول زیر مشخص کنید که شکل های نام برده به کدام یک از حجمهای هندسی شبیه است؟

کلاه جشن تولد	لوله بخاری

۱۳

رضا برای تولد دوستش کتابی با ابعاد ۲۵ و ۱۵ و ۳ سانتی متر خریداری کرده است . برای اینکه کتاب را با کاغذ کادو بپوشاند به چند سانتی متر مربع کاغذ کادو نیاز دارد؟

* آیا می تواند از کاغذ کادو به طول ۴۰ و عرض ۲۵ سانتی متر استفاده کند؟

۱۴

حجم استوانه ای به شعاع قاعده ۲ و ارتفاع ۵ سانتی متر را حساب کنید: (نوشتن فرمول الزامی است)

۱۵

الف) حاصل هر عبارت را بنویسید: $5^2 + 1^{100} =$ $\left(\frac{2}{3}\right)^4 =$

ب) حاصل عبارتها را به صورت یک عدد تواندار بنویسید:

$7^3 \times 7 \times 7^3 =$ $3^5 \times 3^5 \times 6^7 =$

۱۶

جذر عدد ۳۰ را به صورت تقریبی بدست آورید:

$\sqrt{30} \approx$

عدد	
مجذور	

۱۷

الف) مختصات برداری که ابتدای آن $\begin{bmatrix} +2 \\ -3 \end{bmatrix}$ و انتهای آن $\begin{bmatrix} +1 \\ +1 \end{bmatrix}$ باشد را بنویسید:

ب) جاهای خالی را با عدد مناسب پر کنید:

$\begin{bmatrix} 2 \\ \dots \end{bmatrix} + \begin{bmatrix} -3 \\ +5 \end{bmatrix} = \begin{bmatrix} \dots \\ -7 \end{bmatrix}$

نام :

نام خانوادگی :

نام پدر :

نام آموزشگاه :

تعداد صفحه : ۴

تعداد سؤال : ۲۲

باسمه تعالی

وزارت آموزش و پرورش

اداره کل آموزش و پرورش استان یزد

اداره سنجش


نام درس: ریاضی

پایه : هفتم

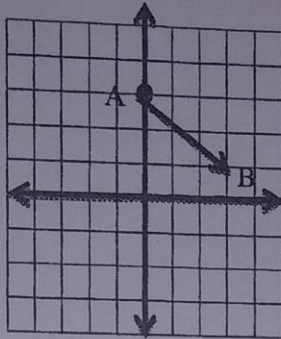
تاریخ امتحان : ۳۹۸/۳/۵

زمان شروع : ۸ صبح

وقت : ۹۰ دقیقه



۱/۷۵



الف) با توجه به شکل ، تساوی ها را کامل کنید:


۱۸

$$A = \begin{bmatrix} \\ \end{bmatrix} \quad B = \begin{bmatrix} \\ \end{bmatrix} \quad \overrightarrow{AB} = \begin{bmatrix} \\ \end{bmatrix}$$

ب) در محور مختصات بالا، نقطه $M = \begin{bmatrix} -1 \\ +2 \end{bmatrix}$ را توسط بردار $\overrightarrow{MN} = \begin{bmatrix} -3 \\ -5 \end{bmatrix}$ انتقال دهیدو مختصات انتها را بنویسید:

$$N = \begin{bmatrix} \\ \end{bmatrix}$$

۲



نمرات ماهیانه دانش آموزی به شرح زیر است:

۱۹

نام درس	علوم	ریاضی	فارسی	عربی
چوب خط		### ###		//
نمره	۷		۶	

الف) جدول را کامل کنید:

ب) با توجه به جدول داده ها، نمودار میله ای آن را رسم کنید:

ج) میانگین نمرات ماهانه او را بدست آورید:

۰/۷۵

۲۰ کلاس هفتم مدرسه دخترانه «زینب» ۲۷ دانش آموز دارد. در روز چهارشنبه ۳ نفر از آنها غایب بودند.

الف) احتمال اینکه معلم نام دانش آموزی را بخواند که او غایب باشد، چقدر است؟

ب) چه کسری از دانش آموزان حاضر هستند؟

ج) مثالی بزنید که احتمال آن صفر باشد.

۰/۷۵

$$\triangle \times \square =$$

۲۱ به چند حالت می توان عدد ۱۸ را به صورت ضرب دو عدد طبیعی نوشت؟

۰/۲۵

۲۲ در صف صبحگاه، احمد طوری ایستاده است که از هر دو طرف نفر پنجم می باشد. در این صف چند نفر ایستاده اند؟

« موفق باشید »

نام و نام خانوادگی: «نام» «نام_خانوادگی»
 نام پدر: «نام_پدر»
 کلاس و کد دانش آموز: «ردیف_۷۰۳»
 امتحان نوبت دوم

بسمه تعالی
 اداره کل آموزش و پرورش استان یزد
 اداره آموزش و پرورش ناحیه یک یزد
 دبیرستان نمونه و هوشمند رسولیان
 سال تحصیلی ۹۸-۹۷

درس: مطالعات اجتماعی هفتم
 تاریخ امتحان: ۹۸/۳/۱۱
 زمان پاسخ‌گویی: ۵۵ دقیقه

ردیف	سئوالات	با
۱	<p>گزینه صحیح را انتخاب کنید.</p> <p>۱- در صحن حرم امام رضا(ع) آرامگاه کدام شخصیت های علمی و مذهبی قرار دارد؟ (الف) ملاصدرا - ابوعلی سینا <input type="radio"/> (ب) میرداماد - ابوعلی سینا <input type="radio"/> (ج) شیخ بهایی - علامه محمدتقی جعفری <input type="radio"/> (د) میرداماد - ملاصدرا <input type="radio"/></p> <p>۲- کدام گزینه جزء میراث فرهنگی غیرمادی است؟ (الف) ظرف ها <input type="radio"/> (ب) سکه ها <input type="radio"/> (ج) کتیبه ها <input type="radio"/> (د) آداب و رسوم <input type="radio"/></p> <p>۳- پایتخت زمستانی هخامنشیان کدام است؟ (الف) همدان <input type="radio"/> (ب) شوش <input type="radio"/> (ج) تخت جمشید <input type="radio"/> (د) بابل <input type="radio"/></p> <p>۴- کدام یک از پیامبران زیر در بین التهرین زندگی می کردند؟ (الف) حضرت نوح (ع) <input type="radio"/> (ب) حضرت موسی (ع) <input type="radio"/> (ج) حضرت یوسف(ع) <input type="radio"/> (د) حضرت عیسی(ع) <input type="radio"/></p>	
۲	<p>در جاهای خالی کلمات مناسب بنویسید.</p> <p>۱. در کشور ما مسئولیت سرشماری جمعیت را برعهده دارد. ۲. آخرین حکومت پیش از ورود اسلام به ایران سلسله است. ۳. در ایران باستان هسته اولیه جامعه را تشکیل می داد. ۴. مهمترین محصولات زراعی ایران باستان و بود.</p>	۱/۵
۳	<p>صحیح و غلط بودن جملات زیر را مشخص کنید.</p> <p>۱. مناطق خالی از جمعیت در کشور ما وجود ندارد. <input type="radio"/> ص <input type="radio"/> غ</p> <p>۲. اغلب رودهای دائمی و پر آب ایران از کوه های البرز و زاگرس سرچشمه می گیرند. <input type="radio"/> ص <input type="radio"/> غ</p> <p>۳. همه مردم از مسافرت هدف یکسانی ندارند. <input type="radio"/> ص <input type="radio"/> غ</p> <p>۴. شکار حیوانات موجب شد انسان ها یکجانشین شوند <input type="radio"/> ص <input type="radio"/> غ</p> <p>۵. در دوره ایران باستان اغلب مردم در روستاها زندگی می کردند. <input type="radio"/> ص <input type="radio"/> غ</p> <p>۶. پیشه وران و بازرگانان جزء طبقه اشراف و بزرگان بودند. <input type="radio"/> ص <input type="radio"/> غ</p>	۱/۵
۴	<p>به سئوالات زیر پاسخ کوتاه دهید.</p> <p>۱. دو مورد از موزه های آستان قدس رضوی را نام ببرید؟</p> <p>۲. مقیاس نقشه راه ها در گردشگری چه کمکی به ما می کند؟</p> <p>۳. دو مورد از اهمیت گردشگری را بنویسید؟</p> <p>۴. دو مورد از ویژگی های تمدن را بنویسید؟</p> <p>۵. چرا انسان ها خط را اختراع کردند؟</p>	۲/۵

نام و نام خانوادگی: «نام» «نام خانوادگی»

نام پدر: «نام پدر»

کلاس و کد دانش آموز: «ردیف_۷۰۳»

امتحان نوبت دوم

بسمه تعالی

اداره کل آموزش و پرورش استان یزد

اداره آموزش و پرورش ناحیه یک یزد

دبیرستان نمونه و هوشمند رسولیان

سال تحصیلی ۹۸-۹۷

درس: مطالعات اجتماعی هفتم

تاریخ امتحان: ۹۸/۳/۱۱

زمان پاسخ‌گویی: ۵۵ دقیقه

۵

به سؤالات زیر پاسخ کامل دهید.

۱. کشورهایی که رشد منفی جمعیت دارند با چه مشکلاتی روبرو هستند؟ (دو مورد) (انمره)

۲. دو مورد از عواملی که موجب از بین رفتن خاک می شوند را بنویسید؟ (انمره)

۳. طبیعت گردی را توضیح دهید؟ (انمره)

۴. نخستین امپراتوری جهانی چه نام دارد؟ چرا؟ (انمره)

۵. سپاه جاویدان از ابتکارات چه کسی بود؟ و چرا به این نام معروف بود؟ (انمره)

۶. درآمد حکومت‌ها در ایران باستان در چه زمینه‌هایی خرج می شد؟ (دو مورد) (۵/۰ نمره)

۷. در دوره ایران باستان چه محصولاتی و از کجا به ایران وارد می شده است؟ (انمره)

۸. سه مورد از آداب غذا خوردن در ایران باستان را بنویسید؟ (۵/۰)

۹. موارد خواسته شده را تکمیل کنید؟ (۵/۰)

زبان ایرانیان در دوره هخامنشیان خط رایج در دوره اشکانیان و ساسانیان

۱۰. در بخشی از کتاب اوستا از سه نوع پزشک نام برده شده است. آنها را بنویسید؟ (۵/۰)

۱۱. منظور از حق چیست؟ (۱ نمره)

۱۲. معمولاً چه اطلاعاتی روی برچسب کالاها وجود دارد؟ (۴ مورد) (۱ نمره)

۱۳. زیستگاه را تعریف کنید. (۱ نمره)