

نام و نام خانوادگی:

به نام آن که هستی نام از او یافت

نام آزمون: املا

نام کلاس: نهم

دبیرستان

تاریخ: ۱۴۰۱/۱۰/۰۸


و مثل تو چون مورچه ای است که در قصرِ مَلِکی سوراخی دارد؛ جز غذای خویش و یاران خویش چیزی نمی بیند؛ و از جمال صورتِ قصر و بسیاری غلامان و سریرِ مُلکِ وی، هیچ خبر ندارد.

دوستی و پیوند با دیگران یکی از مهم ترین نیازهای انسان است. هنگامی که آدمی با مسئله ای روبرو می شود، اگر دوستی با وی همراهی و همدلی کند باعث خوشحالی و خرسندی او می شود. در واقع دوستان در تمام لحظه های زندگی به ما کمک می کنند. مصاحبت با یک دوست خوب و شکیبا، همچون وزش نسیم دل انگیزی است که احساس سبکی و صفای درون را در ما زنده می سازد.

سخن، ناپرسیده مگوی و از گفتار خیره پرهیز کن . چون باز پرسند جز راست مگوی. تا نخواهند، کس را نصیحت مگوی و پند مده ؛ خاصه کسی را که پند نشنود که او خود اوفتد. از جای تهمت زده پرهیز کن و از یار بداندیش و بدآموز بگریز. به غم مردمان شادی مکن تا مردمان نیز به غم تو شادی نکنند. خوب گوی تا خوب شنوی. اگر طالب علم باشی، پرهیزگار و قانع باش .

این همزیستی و همدلی اقوام ایرانی، پشتوانه ای بسیار شکوهمند برای وطن است و سدی استوار به بلندای اراده پهلادین ایرانیان، پدید می آورد و میهن را در آوردگاه ها، از گزند دشمنان و اهرمن خویان می رهاند.

«پیروز باشید»



تاریخ امتحان: ساعت شروع امتحان: مدت زمان امتحان: 60 دقیقه نام دبیر: حسین مورکیان تعداد صفحه: 2	 جمهوری اسلامی ایران وزارت آموزش و پرورش مدیریت آموزش و پرورش ناحیه یک یزد دبیرستان نمونه هوشمند رسولیان	نام و نام خانوادگی: نام پدر: پایه: نهم نام درس: آمادگی دفاعی
--	--	---

بارم	سوالات	ردیف
2	<p>در سوالات زیر گزینه مناسب را مشخص کنید.</p> <p>(1) کدام یک از موارد زیر جز ابعاد امنیت نمی باشد؟</p> <p>الف) امنیت نظامی ب) امنیت اقتصادی ج) امنیت جسمی د) امنیت فرهنگی</p> <p>(2) کدام یک از موارد زیر فقط مختص انسان است؟</p> <p>الف) تهدید ب) تهاجم ج) دفاع غریزی د) دفاع آگاهانه</p> <p>(3) خرمشهر در چه تاریخی آزاد شد؟</p> <p>الف) سوم خرداد سال 61 ب) سیزده آبان سال 67 ج) سوم خرداد سال 67 د) سوم خرداد سال 65</p> <p>(4) چه کسی در سال 60 به عنوان فرمانده کل قوا دستور شکستن محاصره ابادان را صادر کرد؟</p> <p>الف) امام خمینی ب) بنی صدر ج) خامنه ای د) رجایی</p>	1
2	<p>جاهای خالی را با کلمات مناسب کامل کنید.</p> <p>(1) واژه بسیج در لغت به معنای می باشد.</p> <p>(2) برای تاثیر گذاشتن روی باورها افکار و رفتار دیگران به منظور تسلیم کردن آنها است.</p> <p>(3) تهاجم به دو شکل و انجام میشود.</p> <p>(4) انقلاب در لغت به معنای می باشد.</p>	2
4	<p>موارد زیر را تعریف کنید.</p> <p>(1) دفاع:</p> <p>(2) تهاجم:</p> <p>(3) جنگ:</p> <p>(4) بسیج:</p>	3

1	چند نمونه از موارد مشارکت زنان در دفاع مقدس را ذکر کنید؟	4
1	نمونه هایی از اقدامات آمریکا علیه ملت ایران را ذکر کنید؟	5
1	انواع دفاع را نام ببرید و برای هر یک مثالی بیاورید؟	6
1	پیامبر یادگیری کدام ورزش ها را سفارش کرده است؟	7
12	جمع نمرات	با آرزوی موفقیت برای شما

سوالات پایان ترم اول پیامهای آسمانی پایه نهم

۱. آیات شریفه را ترجمه کنید. (۲)

الف) وهو الغفور الودود

ب) الا بذکر الله تطمئن القلوب

۲. پاسخ کوتاه دهید. (۲)

الف) تسبیح یعنی چه؟

ب) به فرموده امام صادق چیزی ایمان را در دل پایدار می کند؟

۳. راه های شناخت صفات خدارا فقط نام ببرید. (۱)

۴. چهار ویژگی مؤمنان با توجه به آیات اول سوره مؤمنون چیست؟ (۲)

۵. ویژگی های مهم پیامبران را بیان کرده و یک ویژگی را توضیح دهید. (۱,۵)

۶. استقامت و پایداری فراوان پیامبران ناشی از چه بود؟ (۱,۵)

۷. جاهای خالی را کامل کنید. (۱)

الف) رسولان با آوردن دلایل محکم مردم را به و دعوت می کردند.

ب) به فرموده پیامبر بهترین کارهای امت ایشان..... است.

۸. دو شرط از شرایط ظهور حضرت مهدی را بنویسید. (۲)

۹. ویژگی های منتظران واقعی باتوجه به سخن امام رضا چیست؟۴ مورد (۲)

۱۰. چند نمونه از اتفاقات دوران ظهور امام زمان را بیان کنید.(۵,۱)

۱۱. به فرموده امام علی نتیجه همنشینی با انسانهای هوس ران چیست؟(۱)

۱۲. چگونه می توانیم یاد و ذکر خدا را در طول شبانه روز در دل زنده نگه داریم؟(۵,۱)

۱۳. چگونه صفاتی در خدا وجود ندارد؟با ذکر دو مثال. (۱)


1	<p>صحيح يا غلط بودن هر کدام را تعيين كنيد</p> <p>الف) مجموعه اعداد طبيعي کوچکتر از يك تنها يك زیر مجموعه غير تهی دارد.</p> <p>ب) نمایش اعشاری کسر $\frac{27}{72}$ متناوب میباشد.</p> <p>ج) هر دو مثلث متساوی الساقین دلخواه متشابه هستند.</p> <p>د) ریشه سوم عدد منفي هشت همان ریشه دوم عدد منفي چهار است.</p>	1
1/25	<p>جاه های خالی را با عبارت مناسب کامل کنید.</p> <p>الف) يك مجموعه عضوی دارای 256 زیر مجموعه است.</p> <p>ب) عدد $-5 + \sqrt{11}$ بین دو عدد صحيح و قرار دارد.</p> <p>ج) اگر زاویه بین دو خط روی نقشه 70 درجه باشد زاویه بین آنها در طبیعت است.</p> <p>د) اگر $A \subseteq B$ باشد آنگاه حاصل $A \cap (A \cup B)$ برابر است با</p>	2
1	<p>در هر مورد مناسب ترین گزینه را انتخاب کنید</p> <p>الف) حاصل $4^{-1} + 3^{-1}$ برابر است با :</p> <p>(1) 7^{-1} (2) $\frac{1}{3} + \frac{1}{4}$ (3) 7^{-2} (4) 12^{-1}</p> <p>ب) حاصل $(A - B) \cap (B - A)$ برابر است با :</p> <p>(1) $A \cap B$ (2) A (3) \emptyset (4) B</p> <p>ج) اگر حاصل عبارت $\left(\frac{1}{32}\right)^3$ را بصورت 2^m بنویسیم مقدار m برابر است با :</p> <p>(1) 15 (2) 18 (3) -15 (4) -18</p> <p>د) برای اثبات مطلب زیر از کدام حالت همنهشتی مثلث ها استفاده میشود.</p> <p>(اگر عمود منصف پاره خطی را رسم و نقطه ای روی آن قرار دهیم و آن را به دو سر پاره وصل کنیم دو مثلث ایجاد میشود ثابت کنید این دو مثلث هم نهشت هستند.)</p> <p>(1) ض ض ض (2) وز (3) ض ض ض (4) ز ض ز</p>	3
	به سوالات زیر پاسخ کامل دهید	
0/5	<p>نوع عدد اعشاری (متناوب یا مختوم) هر مورد را تعیین کنید.</p> <p>الف) $\frac{11}{220}$ ب) $\frac{77}{42}$</p>	4
1 0/5	<p>اگر $A = \{2, 4, 6, 8, 9\}$ و $B = \{3, 5, 6, 2\}$ و مجموعه C اعداد اول تک رقمی باشد مطلوب است:</p> <p>الف) حاصل هر مورد را بدست آورید.</p> <p>(ب) صحيح يا غلط بودن هر مورد را تعیین کنید.</p> <p>$(B \cap C) - A =$</p> <p>$(C - A) \cup B =$</p> <p>$\emptyset \subseteq (B - (A \cup C))$</p> <p>$5 \notin (B \cap C)$</p>	5

0/75	الف) مجموعه زیر را بصورت ریاضی نمایش دهید. $A = \{1, 5, 9, 13, \dots, 45\}$	6
0/75	ب) مجموعه زیر را بصورت عددی بنویسید. $B = \left\{ \frac{x-3}{x+1} \mid x \in \mathbb{Z}, 1 \leq x \leq 4, x \neq 3 \right\}$	
0/5	اگر دو تاس را همزمان پرتاب کنیم چقدر احتمال دارد هر دو عدد رو شده اول باشد.	7
1/5	حاصل عبارت زیر را به ساده ترین صورت بنویسید. $\frac{\frac{1}{3} \div \frac{1}{2} \times \frac{21}{8}}{\frac{3}{7} - \frac{3}{7} \times \frac{2}{5}} \div \frac{49}{27} =$	8
0/5	الف) بین دو کسر $\frac{2}{3}$ و $\frac{3}{4}$ دو کسر بنویسید.	9
0/5	ب) بین دو عدد 3 و $\sqrt{7}$ دو عدد گنگ بنویسید.	
0/5	مجموعه زیر را روی محور نمایش دهید. $A = \{x \mid x \in \mathbb{R}, -4 \leq x < 3\}$	10
0/75	الف) اگر $a = 3, b = \frac{-1}{2}, c = \frac{1}{3}$ باشد حاصل عبارت زیر را بدون قدرمطلق بنویسید. $ 4b - 6c + \sqrt{4a} $	11
0/75	ب) حاصل عبارت زیر را بدون قدرمطلق بنویسید. $\sqrt{(3 - \sqrt{2})^2} + \sqrt{2} + 5 =$	
1/5	ثابت کنید در هر مثلث اندازه هر زاویه خارجی برابر است با مجموع دو زاویه داخلی غیر مجاورش. (نوشتن فرض و حکم اجباری است)	12
1/5	ثابت کنید اگر دو وتر از دایره باهم برابر باشد کمان نظیر آنها نیز باهم برابر است.	13

0/5	اگر مقیاس نقشه ای $\frac{3}{20000}$ باشد و فاصله دو نقطه روی نقشه 9 سانتی متر باشد فاصله آنها در طبیعت چند متر است.	14
1	اگر مثلثی با اضلاع $2y - 4$ و 20 و 24 با مثلثی به اضلاع 8 و 10 و $2x + 2$ متشابه باشد مقدار $x + y$ را محاسبه کنید. (اضلاع به ترتیب از کوچک به بزرگ میباشد)	15
1/5	حاصل عبارت های زیر را بصورت عددی تواندار بنویسید. $\frac{\left(\frac{2}{3}\right)^3 \times \left(\frac{8}{3}\right)^{-3}}{-2^5 \times 2^{-8}} =$ $\frac{8^{-1} \times 4^2}{2^{-4} \times \frac{1}{8}} =$	16
0/75	حاصل عبارت زیر را بصورت نماد علمی بنویسید. $0/0008 \times 1250000 =$	17
0/75	الف) حاصل عبارت زیر را به ساده ترین صورت بنویسید. $\frac{3\sqrt[3]{18} \times 6\sqrt[3]{60}}{4\sqrt[3]{5}} =$ ب) حاصل هر را دیکال را مانند نمونه بصورت ضرب یک عدد در رادیکال بنویسید. $(\sqrt{50} = \sqrt{2 \times 5^2} = 5\sqrt{2})$ $\sqrt{150} =$ $\sqrt[3]{144} =$	18

"تمام عمرمان سرگرم جمع و ضرب و تقسیمیم"

کسی آما نمیداند که با حاصل چه باید کرد

مهر آموزشگاه	تعداد سوالات: ۸ عدد ۲ صفحه تاریخ: ۱۴۰۱/۱۰/۲۱ ساعت شروع: ۸ صبح زمان پیشنهادی: ۴۰ دقیقه طراح سوال: شادان پور	بسمه تعالی اداره کل آموزش و پرورش استان یزد مدیریت آموزش و پرورش ناحیه یک یزد 	آزمون نوبت اول درس: زبان انگلیسی پایه: نهم نام و نام خانوادگی: نام پدر: شماره کلاس: دبیر:
--------------	--	--	---

Reading & Writing: Listening: Speaking: Total:

۱. با توجه به تصاویر عبارات زیر را کامل کنید. (۲ نمره)



1. Wear clothes 2. the table 3. a story 4. toll

۲. جملات زیر را با استفاده از کلمات داخل کادر کامل کنید. (یک کلمه اضافی است) (۴ نمره)

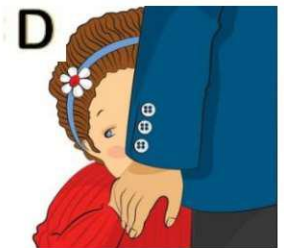

- The tourist is reading a book at the airport.
- We recite the holy Quran at the of the year.
- My mother always cooks the New Year
- His sister helps her friends English. She is really
- Muslims don't on Fitr Eid.
- He is standing there. He searching for a gift for his wife.

helpful ,
suitable , nuts ,
over , fast ,
turn , guide,
meal , with

۳. برای جواب های زیر سوال مناسب بنویسید. (۲ نمره)

-? Yes, he's weighing the baggage.
-? Yes, she studies her lessons.
-? He is traveling to Shiraz by train.
-? Pouya is singing the national anthem.

۴. با توجه به تصاویر به سوالات پاسخ کامل دهید. (۲ نمره)



- What are they doing?
- Does she water the flowers?
- What's he like?
- Is she a shy girl?

۵. کلمه مناسب هر عبارت را از کادر انتخاب کرده و در جای مناسب آن بنویسید. (یک کلمه اضافی است) (۳ نمره)

Make , check , celebrate , take , board , pack , hold

1. the plane 2. a voyage 3. for a trip
4. the map 5. a religious holiday 6. a ceremony

۶. دور بهترین گزینه برای هر جمله خط بکشید. (۲/۵ نمره)

1. Does your brother (have / has) a red car? Yes, she (has/does).
2. My friends usually (work / works / are working) on holidays.
3. What is Reza (talks/ talking/ talk) about?
4. My father (s' / 's / of) Birthday is on Bahman 12th. I buy the book ('s / of) Molavi's poems for his birthday.
5. We have an important holiday. (Our / Its) name is Fitr.
6. My cousin and I go to Rasolijan school. There are 9 classes in (his / our / their) school.
7. There (am / is / are) some people in this festival.
8. Mr. Alavi is interested in (watch / watches / watching) military parade.

۷. حرف مربوط به جواب هر سوال را در جای خالی بنویسید. (۲/۵ نمره)

- | | |
|--|----------------------------|
| 1. Does your mother cook lunch? | A) By express train. |
| 2. Is it possible to book it online? | B) A reservation form. |
| 3. How are they traveling? | C) Fine, thanks. |
| 4. What's your sister filling out? | D) Yes, of course. |
| 5. How is it going? | E) No, my sister makes it. |

۸. با توجه به متن به سوالات پاسخ دهید:

I'm Maryam Amini. There are four people in my family. My father is a patient man. He is a teacher. He teaches English on weekdays. My mother's name is Zahra. She is a kind woman. She is standing in the kitchen. She is washing the dishes now. My brother is in his room. He is fixing the fan of his laptop. It makes noise. My brother is a clever boy but he is not careful.

الف) به سوالات زیر پاسخ کامل دهید. (۵ نمره)

- 1) What's her mother doing in the kitchen?
- 2) What's the problem with his brother's laptop?
- 3) What's her mother like?

ب) جمله درست را با (T) و جمله نادرست را با (F) نشان دهید. (۵ نمره)

- 4) Her brother works on weekdays. ()
- 5) Her brother is very careful. ()

*Don't stress, do your best,
forget the rest. Good Luck*

۱. با توجه به فایل صوتی شماره هر تصویر را زیر آن بنویسید. (۲۵. نمره)











۲. با توجه به فایل صوتی جملات درست را با ✓ و جملات نادرست را با ✗ نشان دهید. (۱ نمره)

1. Ali is nervous.
2. Her mother is hard-working.
3. Sara usually makes special food for Norooz.
4. Farzad is a clever person.



۳. با توجه به فایل صوتی متن زیر را کامل کنید. (۲۵. نمره)

Mehmet is a tourist from Turkey. He is Iran now. Now, he is buying a ticket to He is with the front desk. He is about the ticket price. He wants to stay in Mashhad for nights.

۴. با توجه به فایل صوتی جدول زیر را کامل کنید. (۵. نمره)

Name	Personality
.....	great
.....	1
.....	2

شماره صندلی	باسمه تعالی	نام درس: عربی
نام:	اداره کل آموزش و پرورش استان یزد	تاریخ امتحان: ۱۴۰۱/۱۰/۱۰
نام خانوادگی:	مدیریت آموزش و پرورش شهرستان یزد	تعداد صفحه: ۴ صفحه
نام پدر:	دبیرستان نمونه و هوشمند رسولیان (دوره اول)	تعداد سوال: ۲۰ سوال
پایه: نهم	((نوبت اول))	زمان شروع: ۸ صبح
نام دبیر:		وقت: ۷۰ دقیقه

ضمن خیرمقدم به دانش آموزان و داوطلبان عزیز، سوالات زیر را به دقت بخوانید و با توکل به خدا و آرامش خاطر پاسخ دهید.

نمره با عدد: نمره با حروف: امضا = نمره کتبی + نمره شفاهی

شماره	سوالات	بارم
۱	<p>جمله های زیر را ترجمه کنید.</p> <p>(الف) ﴿يَرْفَعُ اللَّهُ الَّذِينَ آمَنُوا مِنْكُمْ﴾</p> <p>(ب) لَا رَجَاءَ لِنَجَاتِكَ، لَا تَصْعَدِي.</p> <p>(ج) كَتَبَ التَّلَامِيذُ صَحِيفَةً جِدَارِيَّةً.</p> <p>(د) جُسُورٌ كَثِيرَةٌ بَاقِيَةٌ.</p> <p>(ه) اِسْمَعُوا كَلَامِي وَاعْمَلُوا بِهِ.</p> <p>(و) عَفْوًا، فَلَا تَرْكَبُ هَذِهِ الْحَافِلَةَ.</p> <p>(ز) اَتَمَّتْ لَكُمْ زِيَارَةً مَقْبُولَةً.</p> <p>(ح) لَا عَمَلَ كَالْتَحْقِيقِ.</p>	۴
۲	<p>ترجمه درست هر عبارت را مشخص کنید.</p> <p>۱- يَا أَيُّهَا التَّلْمِيذُ، اُشْكُرْ رَبَّكَ . (الف) ای دانش آموز پروردگارت را شکر می کنی.</p> <p>(ب) ای دانش آموز پروردگارت را شکر کن.</p> <p>۲- تِلْكَ سَفِينَةٌ حَرَبِيَّةٌ تَقْتَرِبُ مِنَّا. (الف) آن کشتی جنگی به ما نزدیک می شود.</p> <p>(ب) به آن کشتی جنگی نزدیک می شویم.</p>	۰/۵
۳	<p>کلمات مترادف و متضاد را از میان کلمات زیر انتخاب کرده و در جای مناسب بنویسید. (دو کلمه اضافی است)</p> <p>(حَزِين - كَذَبَ - نِهَآيَةَ - مَحْزُون - شَقَاوَةَ - صَدَقَ)</p> <p>..... = ≠</p>	۰/۵

۰/۵	واژه های مشخص شده را ترجمه کنید. الف) <u>صَرَخَ أَحَدُهُمْ بَغْتَةً.</u> ب) <u>حَاوَلَ التَّعَلُّبَ وَ الْغَزَالََةَ لِلنَّجَاةِ.</u>	۴
۰/۲۵	در بین کلمات زیر، کلمه ناهماهنگ را مشخص کنید. مُحَافَظَةٌ - قَرْيَةٌ - مَدِينَةٌ - عَامِلٌ	۵
۰/۲۵	در جمله زیر یک جمع مکسر پیدا کرده و مفرد آن را بنویسید. أَعَجَزَ التَّائِسِ مَنْ عَجَزَ عَنِ اِكْتِسَابِ الْاِخْوَانِ.	۶
۱	الف) وزن و حروف اصلی کلمه زیر را بنویسید. تدریس: وزن: حروف اصلی: ب) با توجه به وزن فاعل و مفعول این کلمات را ترجمه کنید. ضارب: مشهود:	۷
۱	در جاهای خالی فعل ماضی یا مضارع مناسب قرار دهید. ۱- أَخِي إِلَى الْمَسْجِدِ الْآنَ. الف) ذَهَبَ (ب) يَذْهَبُ (ج) تَذْهَبُ ۲- أَلْعِلْمُ وَالْمَالُ كُلُّ عَيْبٍ. الف) يَسْتُرَانِ (ب) يَسْتُرُونَ (ج) يَسْتُرُ ۳- إِنِّي إِلَى الْبَحْرِ قَبْلَ سَاعَةٍ. الف) أَنْظُرُ (ب) نَنْظُرْنَا (ج) نَنْظُرْتُ ۴- هَاتَانِ الْبُنْتَانِ وَاجِبَهُمَا. الف) يَكْتُبَانِ (ب) تَكْتُبَانِ (ج) يَكْتُبُونَ	۸
۱	در جملات زیر فعل امر و نهی را مشخص و ترجمه کنید. الف) <u>وَ اَكْتُبْ لَنَا فِي هَذِهِ الدُّنْيَا حَسَنَةً.</u> ب) <u>رَجَاءً شَغِلَ الْمُكَيِّفَ.</u> ج) <u>أُصَدِّقُ فِي حَيَاتِكَ وَلَا تَكْذِبْ أَبَدًا.</u>	۹

۱	<p>۱۰ برای جای خالی فعل امر مناسب انتخاب کنید.</p> <p>۱- یا أُخْتِي مُسْتَقْبَلِكِ . (الف) اِصْنَعُ (ب) اِصْنَعِي (ج) اِصْنَعَنَّ</p> <p>۲- یا اِخْوَتِي ، الحِطَبَ . (الف) اِجْمَعَنَّ (ب) اِجْمَعُوا (ج) اِجْمَعَا</p> <p>۳- یا أَيُّهَا اللّٰعِبُ مَعَ صَدِيقِكَ . (الف) اِلْعَبَا (ب) اِلْعَبِي (ج) اِلْعَب</p> <p>۴- یا أَيُّهَا البِنْتَانِ ، رَجَاءٌ مِنَ الحَافِلَةِ . (الف) اِنزِلَا (ب) اِنزِلُوا (ج) اِنزِلَنَّ</p>	۱۰								
۱	<p>۱۱ کلمات را در جای مناسب بنویسید. (دو کلمه اضافی می باشد) (مياه - سَنَتَيْنِ - صَدِيقَانِ - غَابَةٌ - صَالِحَاتٍ - رَاحِمُونَ)</p> <table border="1" data-bbox="142 762 1500 936"> <thead> <tr> <th data-bbox="142 762 483 846">مفرد مونث</th> <th data-bbox="483 762 824 846">مثنی مذکر</th> <th data-bbox="824 762 1166 846">جمع مذکر سالم</th> <th data-bbox="1166 762 1500 846">جمع مکسر</th> </tr> </thead> <tbody> <tr> <td data-bbox="142 846 483 936"></td> <td data-bbox="824 846 1166 936"></td> <td data-bbox="483 846 824 936"></td> <td data-bbox="1166 846 1500 936"></td> </tr> </tbody> </table>	مفرد مونث	مثنی مذکر	جمع مذکر سالم	جمع مکسر					۱۱
مفرد مونث	مثنی مذکر	جمع مذکر سالم	جمع مکسر							
۱	<p>۱۲ در جملات زیر فعل ماضی ، مضارع ، مضارع منفی و مستقبل را مشخص و ترجمه کنید.</p> <p>(الف) هُمْ يَحْمِلُونَ حَقَائِبَهُمْ . (ب) اِعْتَذَرَ النَّجَارُ . (ج) قَوْلٌ لَا أَعْلَمُ نِصْفُ الْعِلْمِ . (د) وَالَّذِي سَتَطْبُخُ طَعَامًا لَذِيذًا .</p>	۱۲								
۰/۵	<p>۱۳ برای جای خالی فعل نهی مناسب انتخاب کنید.</p> <p>۱- یا حَبِيبَتِي ، حَقِيبَتِكَ هُنَا . (الف) لَا تَجْعَلِي (ب) لَا تَجْعَلُ</p> <p>۲- یا أَخِي ، شَيْئًا عَلَى الشَّجَرِ . (الف) لَا تَكْتُبُ (ب) لَا تَكْتُبِي</p>	۱۳								
۰/۵	<p>۱۴ به پرسش های زیر پاسخ کوتاه دهید؟ (به عربی)</p> <p>(الف) اُكْتُبُ سُورَةَ بِاسْمِ أَحَدِ أَيَّامِ الْأُسْبُوعِ؟ (ب) مِمَّنْ أَيْنَ أَنْتَ؟</p>	۱۴								
۰/۵	<p>۱۵ کلمه ی مناسب برای جملات یابید و عدد مربوط به آن را در دایره بنویسید. (دو کلمه اضافی است)</p> <p>۱- الْمَطْعَمُ ○ أَلَّذِي يَمْشِي أَمَامَ قَوْمِهِ لِيَهْدِيَهُمْ .</p> <p>۲- النَّجَاحُ ○ مَكَانٌ يَأْكُلُ فِيهِ النَّاسُ الْفَطُورَ وَالْغَدَاءَ وَالْعِشَاءَ .</p> <p>۳- الْمُسْتَشْفَى</p> <p>۴- الرَّائِدُ</p>	۱۵								

۰/۵	<p>جاهای خالی را با استفاده از کلمات مناسب پر کنید. (دو کلمه اضافی است)</p> <p>(الدَّموعُ - مَلْعَبٍ - مَصْنَعٍ - الْبُكَاءِ)</p> <p>الف) جَارُنَا يَعْمَلُ فِي الْكَرَاسِيِّ. (ب) جَارِيَةٌ عَلَى وَجْهِ الطِّفْلِ.</p>	۱۶
۰/۵	<p>درستی یا نادرستی جمله های زیر را بر اساس حقیقت بنویسید.</p> <p>بَعْدَ مَا صَدَمَتْ سَيَّارَةٌ عَابِرًا يَأْتِي شُرْطِيُّ الْمُرُورِ .</p> <p>الْفَلَّاحُ يَعْمَلُ فِي الْمَزْرَعَةِ وَ الْمَوْظَفُ يَعْمَلُ فِي الْإِدَارَةِ .</p>	۱۷
۰/۵	<p>متن داده شده را بخوانید و به سوالات پاسخ دهید .</p> <p>بِنِيَامِينَ وَلَدٌ مَهْزِيَارٍ فِي الصَّفِّ التَّاسِعِ . هُوَ يَسْكُنُ فِي مَدِينَةِ تَفْتٍ فِي مُحَافِظَةِ يَزِدَ . لَهُ حَقِيبَةٌ الدَّرَاسِيَّةِ وَ فِي حَقِيبَتِهِ ثَلَاثَةٌ كُتُبٍ وَ دَفْتَرٍ وَ قَلَمَانٍ . هُوَ يَذْهَبُ بِالسَّيَّارَةِ إِلَى الْمَدْرَسَةِ فِي السَّاعَةِ السَّابِعَةِ . وَ هُوَ يَرْجِعُ إِلَى الْبَيْتِ فِي الظَّهِرِ .</p> <p>الف) بِنِيَامِينَ آتَى سَاعَةَ يَذْهَبُ إِلَى الْمَدْرَسَةِ ؟</p> <p>ب) بِمِ يَذْهَبُ بِنِيَامِينَ إِلَى الْمَدْرَسَةِ؟</p>	۱۸
۴	روخوانی	۱۹
۱	مکالمه	۲۰
جمع نمره ۲۰		أَتَمَّنِي لَكُمْ التَّوْفِيقَ وَ النَّجَاحَ

تاریخ آزمون : ۱۴۰۱/۱۰/۱۴

باسمه تعالی

ساعت برگزاری : صبح

سال تحصیلی: ۱۴۰۱-۱۴۰۲

اداره کل آموزش و پرورش استان یزد

نوبت : اول

نام و نام خانوادگی :

مدیریت آموزش و پرورش ناحیه یک یزد

سوالات درس :

نام پدر :

اداره استعدادهای درخشان و دانش پژوهان جوان

تعداد صفحات :

رشته تحصیلی :



پایه تحصیلی : کلاس:

تعداد سوالات :

مدت پاسخگویی : ۶۰ دقیقه

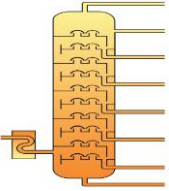



نام و نام خانوادگی دبیر :

نمره به عدد :

نمره به حروف :

امضاء دبیر :

ردیف	سوالات	بارم
۱	صحيح يا غلط بودن جملات زیر را مشخص نمایید. ۱. آهن به کندی با اکسیژن واکنش می دهد و به مس اکسید تبدیل می شود.(.....) ۲. یون آهن با بار ۳ مثبت یکی دیگر از یونهای ضروری و اساسی برای بدن است. (.....) ۳. امروزه نفت خام را در جهان بیشتر برای ساختن فرآورده های نو استفاده می کنند. (.....) ۴. در شرایطی ممکن است مسافت طی شده با طول بردار جابجایی یکسان باشد. (.....) ۵. اگر نیروی خالص وارد بر یک جسم صفر باشد قطعا تندی آن نیز صفر خواهد بود. (.....) ۶. دریای تتیس بین قاره های پانگه آ و لورازیا را پر می کرد. (.....)	۱,۵
۲	۱. کدام فلز واکنش پذیری بیشتری دارد؟ الف) طلا (ب) آهن ۲. محلول کدام گزینه در آب نارسا است؟ الف) اتیلن گلیکول (ب) نمک خوراکی ۳. کدام هیدروکربن آسانتر جاری می شود؟ الف) $C_{12}H_{26}$ (ب) $C_{20}H_{42}$ (ج) $C_{17}H_{36}$ (د) $C_{24}H_{50}$ ۴. کدام نیروگاه سهم بیشتری در پدیده گرمایش جهانی دارد؟ الف) نیروگاه بادی (ب) نیروگاه زمین گرمایی (ج) نیروگاه خورشیدی (د) نیروگاه زغال سنگ ۵. مهمترین دلیل برای حرکت ورقه های سنگ کره کدام است؟ الف) جریانهای همرفتی (ب) جریانهای اقیانوسی (ج) طوفانهای عظیم (د) انفجارات هسته ای در مرکز زمین ۶. سست کره به دلیل شرایط و معین، حالت خمیری دارد. الف) دما و حرکت (ب) دما و چگالی (ج) دما و فشار (د) فشار و حرکت	۱,۵
۳	۱. کدام عنصر در پوسته زمین بیشترین مقدار را دارد؟ ۲. یکی از وظایف اصلی این یون ایجاد جریان الکتریکی در مغز و اعصاب و ماهیچه های بدن به ویژه قلب است. ۳. یک بسپار طبیعی مثال بزنید. ۴. در کشاورزی از گاز اتن چه استفاده ای می توان برد؟ ۵. حرکت امتداد لغز ورقه ها بیشتر در کجا وجود دارد؟ ۶. بزرگترین ورقه سنگ کره چه نام دارد؟	۱,۵
۴	یک کاربرد از هر کدام از مواد زیر بیان نمایید. ۱. سولفوریک اسید: ۲. آمونیاک: ۳. فسفر: ۴. فلوئور: ۵. کربن: ۶. کلر:	۱,۵
۵	الف) آرایش الکترونی اتمهای منیزیم (Mg_{10}) و اکسیژن (O_8) را رسم کنید. ب) با توجه به قسمت الف فرمول شیمیایی منیزیم اکسید را بنویسید.	۰,۷۵
۶	تفاوت درزه و گسل چیست؟	۰,۲۵

۱,۵	<p>۷ با فرض داشتن دو اتم کربن و تعداد کافی از اتمهای هیدروژن: الف) سه ترکیب مولکولی ۲ کربنه بسازید. ب) فرمول مولکولی هر سه ترکیب را بنویسید.</p>	۷
۲	<p>۸ در برج تقطیر، هشت برش نفتی داریم. مطابق شکل زیر، کاربرد هر برش نفتی را مقابل آن بنویسید.</p> 	۸
۰,۵	<p>۹ دو شاهد که طرفداران و گنر برای اثبات جایجایی قاره‌ها بیان کرده‌اند بنویسید. ۱: ۲:</p>	۹
۰,۵	<p>۱۰ چگونه در محل ورقه‌های نزدیک شونده ممکن است آتشفشان رخ دهد؟</p>	۱۰
۰,۵	<p>۱۱ از پیامدهای حرکت ورقه عربستان به سمت ایران دو مورد را ذکر کنید.</p>	۱۱
<p>مسائل: برای هر کدام از مساله‌های زیر راه حل کامل و خوانا بنویسید. نوشتن فرمول و یکا الزامی است. همچنین دقت کنید که برخی کمیته‌ها، برداری هستند (یعنی باید جهت آنها را مشخص نمایید). در صورت نیاز $g=10 \frac{m}{s^2}$ در نظر بگیرید.</p>		
۱	<p>۱۲ در شکل زیر جرم جسم ۹ کیلوگرم است. الف) وزن جسم را بیابید. ب) نیروی عمودی سطح را بیابید.</p> 	۱۲
۰,۵	<p>۱۳ در شکل زیر شتابی که گاری در اثر هل دادن شخص پیدا میکند به دست آورید.</p> 	۱۳
۱	<p>۱۴ طول جاده بین بروجن و اصفهان ۱۱۲ کیلومتر و فاصله مستقیم بین آنها ۸۴ کیلومتر است. اگر خودرویی فاصله بین دو شهر را در ۷۰ دقیقه طی کند. تندی متوسط و سرعت متوسط را بر حسب متر بر ثانیه به دست آورید.</p> 	۱۴
۰,۵	<p>۱۵ راننده‌ای در یک مسیر مستقیم و رو به شرق، سرعت خودرویی را در مدت ۵ ثانیه از $18 \frac{km}{h}$ به $72 \frac{km}{h}$ رسانده است. شتاب متوسط خودرو را بر حسب متر بر مربع ثانیه حساب کنید.</p>	۱۵

مهر آموزشگاه	تعداد سوالات: ۶ عدد ۲ صفحه تاریخ: ۱۴۰۱/۱۰/۱۴ ساعت شروع: ۸ صبح زمان پیشنهادی: ۴۵ دقیقه طراح سوال: جواد وطنخواه	بسمه تعالی اداره کل آموزش و پرورش استان یزد مدیریت آموزش و پرورش ناحیه یک یزد دبیرستان پسرانه رسولیان (دوره اول)	آزمون نوبت اول درس: فارسی پایه: نهم نام و نام خانوادگی: نام پدر: شماره کلاس: دبیر:
تصحیح نمره شفاهی: نمره کتبی: مجموع نمره به حروف: تاریخ و امضا:			
بارم	شرح سوالات		ردیف
۰/۲۵ ۰/۲۵ ۰/۲۵ ۰/۲۵	* معنی واژه های مشخص شده را بنویسید. - آنچه میان آسمان و زمین است، چون میخ و باران و برف و تگرگ... (.....) - فهم، عاجز شود از حَقِّه یاقوت انار (.....) - آدمی باید در محاوراتی که به حضور او میان دو کس رود، خوض ننماید (.....) - هان مشو نومید! چون واقف نه ای از سرّ غیب (.....)		۱
۰/۲۵ ۰/۲۵ ۰/۲۵ ۰/۲۵	* جای خالی را با واژه های مناسب پر کنید. - کتاب ترجمه و خلاصه شده کتاب احیاءالعلوم امام محمد غزالی است. - مرزبان نامه کتابی است به شیوه تألیف مرزبان بن رستم که این کتاب مشتمل بر داستان و تمثیل است. - کتابی است نوشته نصیرالدین توسی که سخنان افلاطون و ارسطو را در حکمت عملی بررسی کرده است. - از شاعران معروف قرن ششم است. در آغاز، شاعری مدّاح بود؛ ولی تغییر حال داد و به عرفان روی آورد.		۲
۰/۲۵ ۰/۲۵ ۰/۵ ۰/۵	* به سؤال های زیر پاسخ مناسب دهید. - آرایه ادبی بیت های زیر را بنویسید. (هر کدام یک مورد) ➤ دریغ است ایران که ویران شود کنام پلنگان و شیران شود (.....) ➤ کوه و دریا و درختان همه در تسبیح اند نه همه مستمعی، فهم کند این اسرار (.....) - در بین ترکیب های زیر، چند اضافه تشبیهی داریم؟ آن ها را مشخص کنید. * متاع جوانی * خداوند کیوان * گوهر هنر * چشم بصیرت - شاعران معمولاً در پایان شعر، نام شعری خود را می آورند. به این نام، می گویند.		۳
۰/۲۵ ۰/۲۵ ۰/۲۵ ۰/۵ ۰/۲۵	* به سؤال های زیر پاسخ مناسب دهید. - نقش واژه های مشخص شده را بنویسید. ➤ چون تو را نوح است کشتیان، ز توفان، غم مخور (.....) ➤ نعمتت بار خدایا، ز عدد بیرون است (.....) - هسته را در عبارت های زیر مشخص کنید. ➤ این همه آیات حق تعالی - آیات - حق - نوع فعل مشخص شده را بنویسید. ➤ اگر در خانه ای شوی که به نقش و گچ کنده کرده باشند، روزگاری دراز صفت آن گویی. (.....) - هرگاه بخواهیم یک چیز را با چیزهای دیگر (یعنی یک نمونه با انواع خود) بسنجیم، از صفت استفاده می کنیم.		۴

<p>۰/۵</p> <p>۰/۵</p> <p>۰/۵</p> <p>۰/۵</p> <p>۰/۵</p>	<p>معنی بیت ها و عبارت های زیر را بنویسید.</p> <p>- پاک و بی عیب خدایی که به تقدیر عزیز ماه و خورشید مسخر کند و لیل و نهار</p> <p>- و مثل تو چون مورچه ای است که در قصر ملکی سوراخی دارد و از صورت قصر و سریر ملک وی هیچ خبر ندارد.</p> <p>- جوانی، گه کار و شایستگی است گه خود پسندی و پندار نیست</p> <p>- سخن، ناپرسیده مگوی و از گفتار خیره پرهیز کن. داد ده تا داد یابی.</p> <p>- دور گردون گر دو روزی بر مراد ما نرفت دائماً یکسان نباشد حال دوران، غم مخور</p>
<p>۰/۵</p> <p>۰/۵</p> <p>۰/۵</p> <p>۰/۵</p>	<p>۶ به سؤال های زیر با دقت جواب دهید.</p> <p>- بیت زیر به چه امری تأکید دارد؟</p> <p>➤ مهتری گر به کام شیر در است شو خطر کن ز کام شیر بجوی</p> <p>- مفهوم قسمت های مشخص شده را بنویسید.</p> <p>➤ نگاه کن مرغان هوا و حشرات زمین را هریکی بر شکلی دیگر و بر صورتی دیگر؛ هریکی را آنچه به کار باید، داد.</p> <p>➤ در میان جمع هیچ کس را پند مده؛ خاصه کسی را که پند نشنود که او خود اوفتد.</p> <p>- حافظ در بیت زیر «کعبه» را نماد چه چیزی می داند؟</p> <p>➤ در بیابان گر به شوق کعبه خواهی زد قدم سرزنش ها گر کند خار مغیلان، غم مخور</p> <p>- مفهوم بیت زیر را بنویسید.</p> <p>➤ آینه، چون نقش تو بنمود راست خود شکن، آینه شکستن خطاست</p>
<p>۱۰</p>	<p>موفق و پیروز باشید. جمع بارم</p>

نام و نام خانوادگی:	آموزش و پرورش ناحیه	تاریخ:	زمان: ۴۰ دقیقه
مدرسه:	آزمون درس قرآن نهم	دبیر:	نمره به عدد:
کلاس:	۱۴۰۱-۱۴۰۲	نمره به حروف:	

بارم	سؤالات
۰/۵	<p>۱ ترجمه درست را علامت بزنید.</p> <p>(الف) مِيت: <input type="checkbox"/> مرگ <input type="checkbox"/> مرده <input type="checkbox"/> می میراند <input type="checkbox"/> مردگان <input type="checkbox"/></p> <p>(ب) كانوا يَعْمَلُونَ: <input type="checkbox"/> می دانستند <input type="checkbox"/> انجام می دادند <input type="checkbox"/> انجام می دهند <input type="checkbox"/> می دانند <input type="checkbox"/></p>
۰/۵	<p>۲ کدام ترکیب یا کلمه درست ترجمه شده است .</p> <p>الف:</p> <p>۱- وِلاَهُمْ يَحْزَنُونَ: ونه شما غمگین می شوید <input type="checkbox"/></p> <p>۲- يَحْكُمُونَ: قضاوت می کنید <input type="checkbox"/></p> <p>۳- اِتَّبَعُوا: پیروی کردند <input type="checkbox"/></p> <p>۴- اَنْزَلَ: نازل کردیم <input type="checkbox"/></p> <p>ب:</p> <p>۱- سَأَلْتُ: پرسیدید <input type="checkbox"/></p> <p>۲- تَهْتَدُونَ: هدایت می شوید <input type="checkbox"/></p> <p>۳- يَدْخُلُ: وارد شد <input type="checkbox"/></p> <p>۴- اَضَلَّ: گمراه شدی <input type="checkbox"/></p>
۱	<p>۳ با توجه به کلمات داده شده معنی کلمات زیر را بنویسید. (یک کلمه اضافی است)</p> <p>(پیشین_ سربازان_ مُعَيَّن_ محل آرامش_ سرزمین)</p> <p>مُسَمَّى () بَلَدَةٌ () اَوَّلِينَ () جُنُود ()</p>
۲/۷۵	<p>۴ ترکیبات زیر را ترجمه کنید.</p> <p>إِنَّا كُنَّا مُنْذِرِينَ:</p> <p>لَيَقُولَنَّ خَلْقَهُنَّ:</p> <p>عَسَى أَنْ يَكُونُوا:</p> <p>وَ صَدَّوْا عَنِ سَبِيلِ اللَّهِ:</p>
۱/۲۵	<p>۵ ترجمه آیات زیر را کامل کنید.</p> <p>(الف) وَالَّذِينَ كَفَرُوا عَمَّا أُنذِرُوا مُعْرِضُونَ: و کسانی که نسبت به هشدارى که داده شده اند، بی توجهی کردند.</p> <p>(ب) لِيَزِدُوا إِيمَانًا مَعَ إيمانِهِمْ: بیفزاید بر</p> <p>(ج) أَمْ حَسِبَ الَّذِينَ اجْتَرَحُوا السَّيِّئَاتِ: انجام دادند بدیها را .</p>
۴	<p>۶ آیات و عبارات زیر را ترجمه کنید.</p> <p>(الف) هُوَ الَّذِي أَنْزَلَ السَّكِينَةَ فِي قُلُوبِ الْمُؤْمِنِينَ.</p> <p>(ب) سَوَاءٌ مَحْيَاهُمْ وَمَمَاتُهُمْ سَاءَ مَا يَحْكُمُونَ.</p> <p>(ج) إِنْ كُنْتُمْ مُوقِنِينَ.</p> <p>(د) مَا وَصَّى بِهِ نُوحًا.</p>

نام و نام خانوادگی:	اداره کل آموزش و پرورش استان یزد	به نام خدا
شماره کلاس:	مدیریت آموزش و پرورش ناحیه یک یزد	ساعت شروع آزمون: ۸ صبح
تاریخ آزمون: ۱۴۰۱/۱۰/۱۷	دبیرستان نمونه و هوشمند رسولیان دوره اول	مدت پاسخگویی: ۶۰ دقیقه
	تعداد سوالات: ۲۶ سوال	

بارم	سوالات	فصل
۰/۵	<p>➤ صحیح یا غلط بودن جملات زیر را مشخص کنید؟</p> <p>۱- سال ۳۶۶ روزه را سال کبیسه می نامند. ص <input type="radio"/> غ <input type="radio"/></p> <p>۲- در اول تیرماه، خورشید در نیمکره شمالی به مدار رأس الجدی به طور عمودی می تابد. ص <input type="radio"/> غ <input type="radio"/></p>	فصل اول ۳/۵ شماره
۱	<p>➤ تکمیل کنید؟</p> <p>۳- چهارسیاره نزدیک به خورشید که سطحی جامد دارند را سیاره های می گویند</p> <p>۴- در دو موقع از سال، یعنی اول بهار و اول پاییز، طول روز و شب برابر می شود؛ به این دو زمان می گویند</p>	
۱	۵- عرض جغرافیایی را تعریف کنید؟	
۱	۶- حرکت وضعی را تعریف کنید؟ یک مورد از نتایج آن را بنویسید؟ تعریف: یک نتیجه آن:	
۰/۵	<p>➤ گزینه صحیح را انتخاب کنید؟</p> <p>۷- پایین ترین لایه جو، که نزدیک به سطح زمین است و تشکیل ابرها و بسیاری از تغییرات آب و هوایی در این لایه صورت می گیرد چه نام دارد؟ الف)ورد سپهر(تروپوسفر) <input type="radio"/> ب)پوشن سپهر(استراتوسفر) <input type="radio"/> ج)میان سپهر(مزوسفر) <input type="radio"/> د)دما سپهر(ترموسفر) <input type="radio"/></p>	
۱	۸- لیتوسفر را تعریف کنید؟	
۱	۹- عوامل موثر بر آب و هوای جهان را نام ببرید؟(دو مورد) ۱- ۲-	فصل دوم ۳/۵ شماره
۱	۱۰- دو مورد از پیامدهای ناخوشایند گرم شدن کره زمین را بنویسید؟ ۱- ۲-	
۰/۵	<p>➤ صحیح یا غلط بودن جملات زیر را مشخص کنید؟</p> <p>۱۱- تایگا ناحیه ای در نزدیکی قطب شمال و حاشیه اقیانوس منجمدشمالی است. ص <input type="radio"/> غ <input type="radio"/></p> <p>۱۲- بخش عمده ای از بیابان های گرم و خشک جهان در مجاورت مدار استوا واقع شده اند. ص <input type="radio"/> غ <input type="radio"/></p>	فصل سوم ۳/۵ شماره
۱/۵	<p>۱۳- هر یک از ویژگی های زیر مربوط به کدام زیست بوم می باشد؟</p> <p>➤ بزرگ جثه ترین جانور آن ، خرس قطبی است و گیاهانی چون خز و گل سنگ دارد.(.....)</p> <p>➤ در آن، دو فصل خشک و مرطوب وجود دارد و درختان باثواب از گونه های گیاهی مشهور آن هستند.(.....)</p> <p>➤ بارندگی بین ۲۵۰ تا ۵۰۰ میلی متر دارد و زمین همیشه مرطوب است.(.....)</p>	
	ادامه سوالات پشت برگه	

۱۴- مهمترین عواملی که باعث تخریب زیستگاه ها در جهان شده اند را نام ببرید؟(دو مورد)

۱-

۲-

۱۵- در استغاده از جنگل ها (جنگل های بارانی استوایی) چگونه می توان خردمندانه رفتار کرد؟(یک راه حل ذکر شود)

۱۶- جداول زیر را با توجه به عوامل موثر بر پراکندگی جمعیت کامل کنید. (برای هر کدام یک مورد کافی است)

عوامل طبیعی جذب جمعیت	۱-	عوامل انسانی جذب جمعیت	۱-
عوامل طبیعی دفع جمعیت	۱-	عوامل انسانی دفع جمعیت	۱-

۱۷- دو مورد از عوامل داخلی شکل گیری نابرابری جهانی را بنویسید؟

۲-

۱۸- امید به زندگی را تعریف کنید؟

۱۹- دو مورد از مشکلات رشد شهرنشینی را بنویسید؟

۲-

۲۰- نام هر پادشاه را در جای مناسب بنویسید؟ «شاه عباس اول - شاه اسماعیل - شاه سلطان حسین - شاه تهماسب»

در دوره او صفویان به اوج قدرت رسیدند.(.....)

او پایتخت را از تبریز به قزوین منتقل کرد.(.....)

او حکومت صفویه را تاسیس کرد و مذهب شیعه را مذهب رسمی کشور اعلام کرد (.....)

در زمان او افغان ها به اصفهان حمله کردند و سرانجام اصفهان به دست محمود افغان افتاد(.....)

۲۱- علت شکست ایران در جنگ چالدران را بنویسید؟

۲۲- به موارد خواسته شده پاسخ دهید؟

یکی از منابع درآمد حکومت صفویه را نام ببرید؟(.....) یکی از فیلسوفان و عالمان بزرگ عصر صفویه را نام ببرید؟(.....)

یک مورد از جشن ها و آیین های مذهبی صفویه را بنویسید؟(.....) یکی از رشته های هنری عصر صفویه را نام ببرید؟(.....)

➤ گزینه صحیح را انتخاب کنید؟

۲۳- به موجب کدام عهدنامه، ایالت های گرجستان و داغستان و شهرهای باکو و گنجه از حاکمیت ایران خارج شدند و تحت حاکمیت روسیه قرار گرفتند؟

الف) عهدنامه ترکمان چای ○ ب) عهدنامه گلستان ○ ج) عهدنامه پاریس ○ د) عهدنامه گلداسمیت ○

۲۴- در جریان نهضت تنباکو چه کسی استفاده از توتون و تنباکو را حرام اعلام کرد؟

الف) عباس میرزا ○ ب) ناصرالدین شاه ○ ج) آیت الله میرزا حسن شیرازی ○ د) میرزا حسن رشیدی ○

۲۵- در مورد سلسله زندیه به سوالات زیر پاسخ دهید؟

مؤسس آن که بود؟(.....) لقب او چه بود؟(.....)

پایتخت زندیه کجا بود؟(.....) یک مورد از بناهای تاریخی دوره زندیه را بنویسید؟(.....)

۲۶- دو مورد از اقدامات امیرکبیر را بنویسید؟

۱-

۲-

