

## «متن املای آزمون نوبت اول پایه هفتم»

-روحم چنان غرق فهمیدن بود که از هیجان به خود می لرزید. احساس می کردم چشمه های معرفت از درون من سر باز خواهند کرد و آب های زلال فهم و دانایی در من خواهند جوشید. غرقه شکوه و اعجاز زیبایی خلقت بودم که نوازش لطیفی را احساس کردم. با تکان دادن دست هایم به احساسات خاموش اما سرشار از صفای طبیعت و سبزه های معصوم پاسخ گفتم.

-متخصصان و دانشمندان جهانی مجبور شده اند اعتراف کنند که جوانان ما با پشتوانه ی همت و غیرت استعداد پنهان خود را آشکار کنند. جامعه ما بحمدالله از میلیون ها دختر و پسر برخورداراست، این مایه افتخار برای ماست. درستان را خوب بخوانید و جوانی تان را قدر بدانید، این نیرو و نشاط باید در راه به دست آوردن این ارزش های والا خرج شود و قتش هم الآن است.

-نوجوانی دوره ای شبیه به رویا و زیباست. اگر نیروی جوانی را با تامل و تفکر و بصیرت همراه کنیم به شکوفایی خواهیم رسید. تمیزی و پاکیزگی، آراستگی و پاکدلی، ما را با زیبایی های جهان پرشکوه الهی همراه و همسایه می کند.

-زندگی مجموعه ای از روزها و ماه ها و سال هاست، روزهایی که به شتاب می گذرند و هرگز باز نمی گردند. با صرف وقت می توان طلا به دست آورد ولی دقایق تلف شده را با طلا نمی توان خرید. ساعاتی که در مصاحبت دوستان می گذرد در ردیف اوقات تلف شده نیست. این سخن زیبای نهج البلاغه یادمان باشد فرصت ها مثل گذشتن ابرها می گذرند فرصت های خوب و عزیز را دریابید.

از بین موضوعات زیر ، یکی را به دلخواه انتخاب کنید و در مورد آن انشا بنویسید.

۱- روزی که دوست دارم تکرار شود.

۲- یکی از زیبایی های آفرینش را توصیف کنید.

۳- نابرده رنج گنج میسر نمی شود.

رعایت موارد زیر الزامی است:

الف) انشا بر اساس طبقه بندی ذهنی باشد. ( موضوع- بخش آغازین- بخش میانی- بخش پایانی)

ب) حاشیه گذاری ، رعایت علائم نگارشی ، خوش خطی ، نداشتن غلط املائی.

دینی هفتم نوبت اول ۱۴۰۱

ردیف	سوالات
الف	<p>گزینه درست را با علامت × مشخص کنید. (۲ نمره)</p> <p>۱- خداوند مهربان انسان را بر سایر موجودات برتری داده و با بذل نعمت هایی ارزشمند، راه رسیدن به ..... را برای او هموار ساخته است.</p> <p>الف) شکر گزاری <input type="checkbox"/> ب) رستگاری <input type="checkbox"/> ج) ثروت <input type="checkbox"/> د) مقامات دنیایی <input type="checkbox"/></p> <p>۲- تمام موارد زیر، از راه های جلب کمک و یاری خداوند <u>می باشد به غیر از</u> : (طبق کتاب درسی)</p> <p>الف) صبر و تقوا <input type="checkbox"/> ب) یاری خداوند <input type="checkbox"/></p> <p>ج) دعا <input type="checkbox"/> د) کار و تلاش اقتصادی <input type="checkbox"/></p> <p>۳- علت فشار قبر سعد بن معاذ چه بود؟</p> <p>الف) شرکت نکردن در جهاد <input type="checkbox"/> ب) تلاش نکردن برای مخارج زندگی <input type="checkbox"/></p> <p>ج) با خانواده اش بد رفتار بود. <input type="checkbox"/> د) زکات نمی داد. <input type="checkbox"/></p> <p>۴- ما در هر شبانه روز، دست کم ..... سوره حمد را می خوانیم و در آن می گوئیم: <u>إِيَّاكَ نَعْبُدُ وَإِيَّاكَ نَسْتَعِينُ</u></p> <p>الف) ۱۷ <input type="checkbox"/> ب) ۵ <input type="checkbox"/> ج) ۱۰ <input type="checkbox"/> د) ۳ <input type="checkbox"/></p>
	<p>۲- <u>درستی یا نادرستی عبارتهای زیر را مشخص کنید. (۳ نمره)</u></p> <p>۱- حضرت مریم (س) سرور زنان اولین و آخرین است <input type="checkbox"/> درست <input type="checkbox"/> نادرست</p> <p>۲- در داستان جوانی که به سختی جان می داد؛ <u>دعای پیامبر(ص)</u> و رضایت پدر، کار خود را کرد. و موجودات ترستاک از او دور شدند و به راحتی جاتن داد <input type="checkbox"/> درست <input type="checkbox"/> نادرست</p> <p>۳- امامان ، فقط می توانند با آوردن دین آسمانی، راه صحیح زندگی را به ما نشان دهند. <input type="checkbox"/> درست <input type="checkbox"/> نادرست</p> <p>۴- پیامبر (ص) بعد از مبعوث شدن به پیامبری به "مخمد امین" مشهور شد <input type="checkbox"/> درست <input type="checkbox"/> نادرست</p> <p>۵- ماجرای از خودگذشتگی حضرت علی(ع) در شب هجرت پیامبر(ص) به " لیلۃ المبيت " معروف است <input type="checkbox"/> درست <input type="checkbox"/> نادرست</p> <p>۶- پیامبر(ص) فرموده " فاطمه مایه شادمانی قلب من است." <input type="checkbox"/> درست <input type="checkbox"/> نادرست</p>
	<p>۳- <u>جاهای خالی را با کلمه‌ی مناسب کامل کنید. (۲ نمره)</u></p> <p>۱- یکی از بهترین حالت‌هایی که در دعا مستجاب می شود ..... است. ( در نماز - هنگام کار کردن) طبق کتاب</p> <p>۲- حضرت فاطمه(س)، علی(ع) را به شوهری برگزید برگزید و..... را بر ثروت برتری داد( زیبایی و شجاعت - ایمان)</p> <p>۳- حضرت فاطمه زهرا (س) سعادت زنان را در..... می دانست . ( شجاعت و فذاکادی - دوری از مردان نامحرم)</p> <p>۴- امیرالمؤمنین حکومت را برای ایجاد..... پذیرفت ( ریاست بر مردم - عدالت بین مردم)</p>
	<p>۴- مرد مسیحی در دادگاه چه چیزی مشاهده کرد که فرمود این دادگاه و داوری نشانه حقانیت دین شماست. و به اسلام ایمان آورد(۱ نمره)</p>

۵- الف) عزت نفس یعنی چه؟ یک مثال بزنید (۱,۵ نمره)

ب- فدا کار چه کسی است؟ یک نمونه از فداکاری های امام علی(ع) را بنویسید (۱,۵ نمره)

۶- به سؤالات داده شده در باره حضرت فاطمه پاسخ دهید؟

الف- چه عواملی موجب شد که حضرت فاطمه(س) در دوران کودکی، دشواری ترک شهر و دیار خود را بپذیرد و به دنبال پدر به مدینه هجرت کند؟ (۲ مورد را بنویسید) (۱ نمره)

ب- چرا هنگامی که پیامبر(ص) کارهای خانه را تقسیم کرد و گفت ؛ علی جان، بهتر است شما کارهای بیرون خانه را بر عهده بگیری و دخترم فاطمه کارهای داخل خانه را. حضرت فاطمه سلام الله علیها بسیار خوشحال شد؟ (۱ نمره)

۷- "وَإِنَّكَ لَعَلَىٰ خُلُقٍ عَظِيمٍ" را معنا کنید (۱ نمره)

۸- با توجه به سخن پیامبر، عاقبت خیانت در امانت چیست؟ (۱ نمره)

۹- از حضرت علی علیه السلام پرسیدند: شما چگونه خود را برای مرگ آماده کرد هاید، که از آن هراسی ندارید؟ چه فرمود؟ (۱ نمره)

۱۰- دو نمونه از آثار و فایده های صدقه را بنویسید (با توجه به سخن امام صادق علیه السلام) (۱ نمره)

۱۱- ابوذر در پاسخ به سؤال مردی که از او پرسید: چرا ما از مرگ می ترسیم؟ چه بود؟ (۱ نمره)

۱۲- به نظر شما اگر پادشاه زیرک به جای کار و زحمت یک ساله، خوش گذرانی و زندگی راحت در قصر را انتخاب می کرد، چه سرانجامی در انتظار او می بود؟ (۱ نمره)


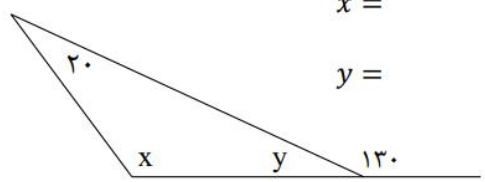
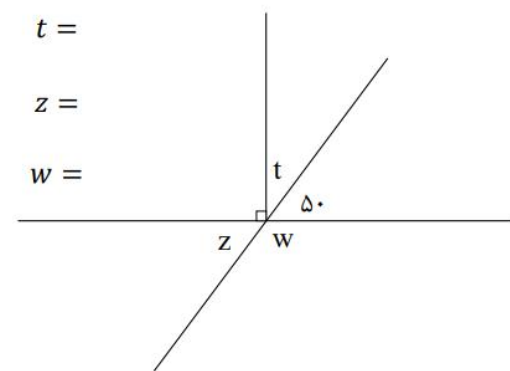
۱۳- به نظر شما، بهلول از درخواست هایی که از هارون کرد؛ چه منظوری داشت؟ (۱ نمره)

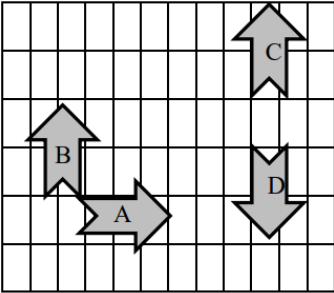
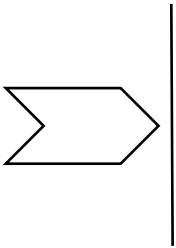
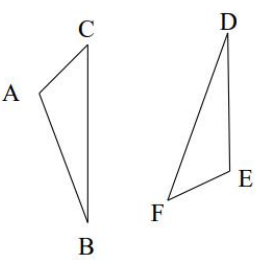
به نام آن که جان را فکرت آموخت

نام و نام خانوادگی :	اداره کل آموزش و پرورش استان یزد	سؤالات امتحانی درس : ریاضی
پایه : هفتم	مدیریت آموزش و پرورش ناحیه یک یزد	تاریخ امتحان : ۱۴۰۱/۱۰/۱۰
نام کلاس :	دبیرستان دوره اول رسولیان	مدت امتحان : ۹۰ دقیقه
مهر آموزشگاه		

ردیف	«هیچ فقری چون نادانی ، هیچ ارثی چون ادب و هیچ پشتیبانی چون مشورت نیست.»	بارم
۱	<p>درستی یا نادرستی هر عبارت را مشخص کنید.</p> <p>الف) ضرب عددی عبارت <math>\frac{a}{5} - \frac{1}{5}</math> عدد <math>\frac{1}{5}</math> است.</p> <p>ب) از دو نقطه بیشمار خط راست می گذرد.</p> <p>ج) در تبدیل هندسی دوران جهت شکل تغییر می کند.</p> <p>د) عبارت <math>(-(-(-(-17))))</math> برابر ۱۷ است.</p>	۱
۲	<p>جاهای خالی را با عدد یا کلمه مناسب کامل کنید.</p> <p>الف) اگر حاصل ضرب یک عدد طبیعی در یک عدد صحیح منفی شود آن عدد صحیح ..... است.</p> <p>ب) اگر همه زاویه های یک چند ضلعی از ۱۸۰ درجه کمتر باشد، آن چند ضلعی را ..... می گویند.</p> <p>ج) مقدار عددی عبارت <math>ab - b</math> به ازای <math>b = -1</math> و <math>a = -3</math> برابر با ..... است.</p> <p>د) کوچکترین عدد صحیح منفی یک رقمی عدد ..... است.</p>	۱
۳	<p>گزینه مناسب را انتخاب کنید.</p> <p>۱) حاصل عبارت <math>(-6) + (-7 - 3) \times (2 \div -18)</math> برابر است با:</p> <p>الف) ۷۶      ب) -۹۶      ج) ۹۵      د) ۸۴</p> <p>۲) عبارت <math>5ab</math> با کدام عبارت متشابه است؟</p> <p>الف) <math>5a</math>      ب) <math>-3ab</math>      ج) <math>5b</math>      د) <math>-5a^2b</math></p> <p>۳) کدام تساوی <u>نادرست</u> است؟</p> <p>الف) <math>1 \times a = a</math>      ب) <math>a \times b = b \times a</math>      ج) <math>a + 0 = a</math>      د) <math>a - b = b - a</math></p> <p>۴) اگر روی یک خط راست ۱۷ نقطه بگذاریم، چندتا نیم خط ایجاد می شود؟</p> <p>الف) ۱۶      ب) ۳۴      ج) ۱۷      د) ۳۶</p>	۲

۴	باغچه‌ای به طول ۱۰ و عرض ۸ متر در حیاط خانه‌ای درست کردیم. اگر این باغچه از هر طرف ۳ متر با دیوار حیاط فاصله داشته باشد، مساحت حیاط را حساب کنید.	۱
۵	تمام حالت‌هایی که حاصل ضرب دو عدد صحیح ۱۸ می‌شود را بنویسید. در کدام حالت حاصل جمع دو عدد کمترین مقدار است؟	۱
۶	حاصل عبارت‌های زیر را حساب کنید. الف) $((-۶) - (+۴)) \div ((-۲۰) \div (+۴)) =$ ب) $-(-۴ - ۲) \div (۷ - ۹) =$ ج) $۸ - ۸ \times ۲ =$	۱/۵
۷	الف) ضرب روبرو را روی محور نشان دهید و حاصل را بنویسید. $۲ \times (-۵) =$ ب) مقایسه کنید. $-۲۰۵ \square - ۲۵۰$ $- (+۳) \square + (-۳)$	۱
۸	دمای هوای شهر یزد ۸ درجه بالای صفر و دمای شهر مشهد ۲۰ درجه سردتر از یزد است. الف) دمای هوای مشهد چند درجه است؟ ب) میانگین دمای دو شهر چند درجه است؟	۱/۵
۹	جمله n ام الگوی زیر را بنویسید و سپس مقدار جمله بیستم را حساب کنید. $۴, ۷, ۱۰, ۱۳, \dots$	۱
۱۰	عبارت‌های جبری زیر را ساده کنید. $۳x - ۷y + ۷x - ۱۳y =$ $-(۳x - ۶y) + ۷(x - ۳y) =$	۱/۵

	سؤالات امتحانی درس : ریاضی تاریخ امتحان : ۱۴۰۱/۱۰/۱۰ مدت امتحان : ۹۰ دقیقه	اداره کل آموزش و پرورش استان یزد مدیریت آموزش و پرورش ناحیه یک یزد دبیرستان دوره اول رسولیان	نام و نام خانوادگی : پایه : هفتم نام کلاس :
۱	$6x + 2y + 4 =$	$x = -3, y = 1$	۱۱ مقدار عددی عبارت جبری زیر را به ازای عددهای داده شده به دست آورید.
۲	$2x - 3 = -9$	$2x - 4 = x$	۱۲ معادله های زیر را حل کنید.
۱		$\overline{AB} = \dots \overline{AF}$	۱۳ در شکل زیر پاره خط AB به پنج قسمت مساوی تقسیم شده است. تساوی های زیر را کامل کنید. $\overline{AB} = \dots \overline{CD}$
۱/۲۵		$x =$ $y =$	۱۴ با توجه به شکل اندازه ی زاویه های خواسته شده را بنویسید. 

۰/۷۵	<p>روی هر پیکانه نوع تبدیل انجام شده را بنویسید.</p>  <p style="text-align: center;"><math>A \rightarrow B \rightarrow C \rightarrow D</math></p>	۱۵
۰/۵	<p>تقارن شکل زیر را نسبت به خط مشخص شده رسم کنید.</p> <p>آیا شکل جدید با این شکل هم‌نهشت است؟</p> 	۱۶
۱	<p>دو مثلث روبرو هم‌نهشت اند.</p> <p>الف) هم‌نهشتی آن‌ها را به زبان ریاضی بنویسید.</p> <p>ب) تساوی اجزای متناظر را کامل کنید.</p>  <p style="text-align: center;"> <math>\hat{A} = \dots</math>  <math>\overline{FE} = \dots</math>  <math>\overline{BC} = \dots</math> </p>	۱۷
۲۰	سربلند و پیروز باشید.	جمع



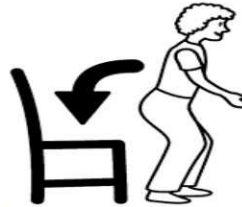
Reading & Writing: ..... Listening: ..... Speaking: ..... Total: .....



1. He is a pilot.



2. I'm eight years old.



3. You sit down.



4. It's Monday.


۱. با توجه به تصاویر جمله درست را با  و جمله نادرست را با  نشان دهید. (۱ نمره)




.....  
 (e,b,k,r,a)



.....  
 (l,i,g,r)



.....  
 (l,u,e,r,r)



.....  
 (t,y,r,o,f)

۲. با حروف داده شده داخل پُرانتز برای هر تصویر کلمه مناسب بنویسید. (۲ نمره)

۳. حروف بزرگ را کوچک و حروف کوچک را بزرگ بنویسید. (۱ نمره)

A

g

h

Q

friend, great, name, old

۴. مکالمه های زیر را با کلمات داخل کادر کامل کنید. (۱ نمره)

1. A: How are you today? B: ....., thanks.
2. A: Who is that boy? B: He is my ....., Erfan.
3. A: How ..... are you? B: I'm fifteen.
4. A: What's your .....? B: I'm Reza.

Mohsen, Mehran, Mobin, Mehrdad

۵. اسامی داخل کادر را به ترتیب حروف الفبا مرتب کنید. (۱ نمره)

1. ....
2. ....
3. ....
4. ....

۶. مشخصات حسن در کارت کتابخانه اش به فارسی نوشته شده است مشخصات او را در کارت انگلیسی کامل کنید. (۱ نمره)

First name: .....

Last name: .....

Age: .....

Month of Birth: .....



نام: حسن

نام خانوادگی: احمدی

سن: ۱۲

ماه تولد: آبان



eleven, eight, thirty, seventeen

۷. اعداد زیر را از کوچک به بزرگ مرتب کنید. (۵.۵ نمره)

.....<.....<.....<.....<.....

۸. دور گزینه مناسب خط بکشید. (۵.۵ نمره)

1. A: What's his job? B: He is an .....

a) driver b) engineer c) cook d) shopkeeper

2. A: When is your birthday? B: .....

a) I'm fine, thank you b) Nice to meet you, too c) It's in July. d) I'm 12.

3. A: Who is that woman? B: .....

a) She is my teacher. b) He is my classmate. c) My name is Ali. d) In Mehr.

4. A: How do you spell your first name Mr. Karimi? B: .....

a) P-A-R-I-S-A b) Reza c) Parisa d) R-E-Z-A

5. What's "همسر" in English? a) Aunt b) Uncle c) Wife d) Daughter

6. A: How old is your brother? B: ..... ten years old.

a) I'm b) He's c) She's d) You're

۹. با توجه به متن زیر جدول زیر را برای معیبد پر کنید. (۱ نمره)

Majid Emami is a student. He is twelve years old. His birthday is in Mehr. His father works in a bank and he is thirty two years old. His mother is an employee and she is thirty four years old. Majid has a younger sister. Her name is Zahra. They are very kind to each other.

Month of birth	Father's age	Mother's job	Sister's name

ردیف	شرح سوالات	بارم
	<b>الف): مهارت واژه شناسی</b>	۲/۲۵
۱	<p>با توجه به کلمات داخل پرانتز نام عربی هر تصویر را زیر آن بنویسید. (دو کلمه اضافی است)</p> <p>«حَقِيبَةٌ ، سَيَّارَةٌ ، حَدِيقَةٌ ، كَاتِبٌ ، لَاعِبَةٌ»</p> <div style="display: flex; justify-content: space-around; align-items: center;"> <div style="text-align: center;">  <p>.....</p> </div> <div style="text-align: center;">  <p>.....</p> </div> <div style="text-align: center;">  <p>.....</p> </div> </div>	۰/۷۵
۲	<p>کلمات مشخص شده را ترجمه کنید.</p> <p>الف) <b>رُبِّ</b> کلامِ كَالْحُسَامِ. (.....)</p> <p>ب) سَلَامَةُ الْعَيْشِ فِي الْمُدَارَاةِ. (.....)</p>	۰/۵
۳	<p>کلمات مترادف و متضاد را کنار هم بنویسید. (دو کلمه اضافی است)</p> <p>«صَدَاقَةٌ، خَلْفٌ، قَرِيبٌ، عَدَاوَةٌ، كَثِيرٌ، وَرَاءٌ»</p> <p>الف) .....  .....</p> <p>ب)  .....</p>	۰/۵
۴	<p>کلمه ناهماهنگ را در جای خالی بنویسید</p> <p>الف) خَلْفٌ ، تَحْتٌ ، بَابٌ ، فَوْقٌ</p> <p>ب) لِسَانٌ ، يَدٌ ، عِنَبٌ ، قَدَمٌ</p> <p>کلمه ناهماهنگ: (.....)</p> <p>کلمه ناهماهنگ: (.....)</p>	۰/۵
	<b>ب): مهارت ترجمه</b>	۵/۲۵
۵	<p>ترجمه درست را انتخاب کنید.</p> <p>الف) هَذَانِ ، جَبَلَانِ مَرْتَفِعَانِ ۱- این دو ، کوه های بلندی هستند. <input type="checkbox"/> ۲- این کوه ها ، بلند هستند <input type="checkbox"/></p> <p>ب) الْوَحْدَةُ خَيْرٌ مِنْ جَلِيسِ السُّوءِ: ۱- تنهایی بهتر از همنشین بد است. <input type="checkbox"/></p> <p>۲- تنهایی از دوست بد بهتر است. <input type="checkbox"/></p>	۰/۵
۶	<p>ترجمه ناقص جملات را کامل کنید.</p> <p>الف) الْإِنْسَانُ عَبْدٌ الْإِحْسَانِ . انسان ..... نیکی کردن است .</p> <p>ب) بَلَاءُ الْإِنْسَانِ فِي لِسَانِهِ . بلای انسان در ..... است.</p>	۰/۵

۴/۲۵	<p>جمله های زیر را به فارسی ترجمه کنید.</p> <p>الف) أَفْضَلُ النَّاسِ أَنْفَعُهُمْ لِلنَّاسِ . ..... (۱)</p> <p>ب) أَرْبَعَةٌ قَلِيلُهَا كَثِيرٌ : الْفَقْرُ وَ الْوَجْعُ وَ الْعَدَاوَةُ وَ النَّارُ. .... (۱)</p> <p>ج) الْخَيْرُ كَثِيرٌ وَ فَاعِلُهُ قَلِيلٌ . ..... (۰/۵)</p> <p>د) سَلَامَةُ الْعَيْشِ فِي الْمُدَارَاةِ. .... (۰/۵)</p> <p>ه) هَلْ جَزَاءُ الْإِحْسَانِ إِلَّا الْإِحْسَانُ. .... (۰/۵)</p> <p>ی) هَلْ فِي هَذِهِ الْمَدِينَةِ فُنْدُقٌ ؟ نَعَمْ ..... (۰/۷۵)</p>	۷
------	--	---




ج): مهارت شناخت و کاربرد قواعد

۶/۲۵	<p>در جای خالی گزینه مناسب قرار دهید.</p> <p>الف) ..... الْبَنَاتُ فِي تِلْكَ الْمَدْرَسَةِ الْكَبِيرَةِ.      هذا      هاتان      هولاء      □</p> <p>ب) ..... الْعُلَمَاءُ جَالِسُونَ هُنَاكَ.      اولئك      ذلك      هذان      □</p> <p>ج) ..... صُورَةٌ أُمِّي .      هذا      تلك      اولئك      □</p> <p>د) هَذِهِ الْبِنْتُ فِي ..... الصَّفِّ      ذلك      تلك      هذه      □</p>	۸
------	--	---

۱/۲۵	<p>در جمله های زیر اسم مثنی مذکر و مثنی مؤنث ، جمع مذکر سالم ، جمع مؤنث سالم و جمع مکسر را پیدا کنید و در جدول زیر بنویسید.</p> <p>الف) يَا وَلَدَانِ أَتُّمَّا فِي الْمَكْتَبَةِ .      ج) زَهْرَاءُ وَ فَاطِمَةُ وَ زَيْنَبُ نَاجِحَاتُ      ب) الْمَفَاتِيحُ فِي الْغُرْفَةِ.</p> <p>د) هَاتَانِ الْبِنْتَانِ فِي الْمُسَابَقَةِ.      ه) عَلِيٌّ وَ حُسَيْنٌ وَ عَبَّاسٌ جَالِسُونَ فِي الصَّفِّ.</p>	۹										
	<table border="1"> <thead> <tr> <th>مثنی مؤنث</th> <th>مثنی مذکر</th> <th>جمع مذکر سالم</th> <th>جمع مؤنث سالم</th> <th>جمع مکسر</th> </tr> </thead> <tbody> <tr> <td> </td> <td> </td> <td> </td> <td> </td> <td> </td> </tr> </tbody> </table>	مثنی مؤنث	مثنی مذکر	جمع مذکر سالم	جمع مؤنث سالم	جمع مکسر						
مثنی مؤنث	مثنی مذکر	جمع مذکر سالم	جمع مؤنث سالم	جمع مکسر								

۲	<p>جای خالی را با ضمیر مناسب (أَنْتُمْ ، هُنَّ ، كَ ، هِ ، هُمَا ، أَنَا ) کامل کنید. ( دو ضمیر اضافه است )</p> <p>الف) ..... واقفاتٌ فِي الْحَدِيقَةِ. (أَنْهَا دَرَبَاغِ ائِسْتَادِهْ اَنْدِ)</p> <p>ب) هَذَا الرَّجُلُ جَالِسٌ فِي سَيَّارَتِهِ..... ( اَيْنِ مَرْدٍ دَرِ مَاشِينَشِ نَشِسْتِهْ اِسْتِ )</p> <p>ج) ..... مِنَ الْبَصْرَةِ. (مِنْ اَهْلِ بَصْرِهْ هِسْتِمِ)</p> <p>د) يَا أَوْلَادُ ..... طَلَّابٌ . (اِي پِسْرَهَا شَمَا دَانَشِ اَمُوزِ هِسْتِيدِ)</p>	۱۰
---	--	----

۰/۵	<p>دو سوال زیر از شماست، به آنها پاسخ کوتاه به عربی بدهید.</p> <p>الف) مِنْ أَيْنَ أَنْتَ ؟ .....</p> <p>ب) أَيْنَ مَدْرَسَتُكَ ؟ .....</p>	۱۱
-----	---	----

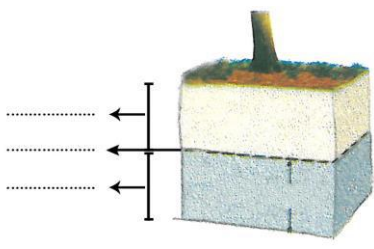
۱/۵	<p>با توجه به تصاویر به پرسش های زیر پاسخ کوتاه دهید.</p> <div style="display: flex; justify-content: space-around; align-items: center;">    </div> <p>الف) ما هذه؟ .....  ب) كم بنتاً في الصورة؟ .....  ج) أين الرُّجُل؟ .....</p>	۱۲
۱/۲۵	<p>د): مهارت درک و فهم</p>	
۰/۵	<p>برای عبارتهای قسمت الف جوابهایی از قسمت ب پیدا کنید و مقابل آن بنویسید ( دو کلمه اضافی است )</p> <div style="display: flex; justify-content: space-around;"> <div style="border: 1px solid blue; border-radius: 15px; padding: 10px; width: 45%;"> <p>قسمت ب</p> <p>الف - الذَّهَبُ</p> <p>ب - سِتَّةٌ</p> <p>ج - تِسْعَةٌ</p> <p>د - أَوْسَطُهَا</p> </div> <div style="border: 1px solid blue; border-radius: 15px; padding: 10px; width: 45%;"> <p>قسمت الف</p> <p>۱ - عَدَدٌ بَعْدَ ثَمَانِيَةٍ . ( )</p> <p>۲ - الْوَقْتُ مِنْهُ ( )</p> </div> </div>	۱۳
۰/۷۵	<p>با توجه به معنا و مفهوم جمله در جای خالی کلمه مناسب قرار دهید.</p> <div style="display: flex; justify-content: space-between;"> <div style="width: 30%;"> <p>الف) رُبَّ كَلَامٍ جَوَابُهُ .....</p> <p>ب) خَيْرُ الْأُمُورِ .....</p> <p>ج) الْأَعْمَالُ بِ.....</p> </div> <div style="width: 30%;"> <p>۱-السُّكُوت □</p> <p>۱-أَوْسَطُهَا □</p> <p>۱-مداراة النَّاس □</p> </div> <div style="width: 30%;"> <p>۲- قَرِيبٌ □</p> <p>۲- كَلَام □</p> <p>۲- النَّيَات □</p> </div> </div>	۱۴
جمع بارم	موفق و پیروز باشید.	

**بسمه تعالی**  
**اداره کل آموزش و پرورش استان یزد**  
**اداره آموزش و پرورش ناحیه یک یزد**  
**دبیرستان دوره اول نمونه هوشمند رسولیان**

نام :  
 نام خانوادگی :  
 نام پدر :  
 پایه : هفتم  
 کلاس :  
 نام درس : علوم تجربی

تاریخ امتحان :  
 تعداد صفحه : ۲  
 تعداد سؤال : ۳۰  
 وقت : ۶۰ دقیقه  
 نوبت : اول

بارم	ردیف	سؤال
۰/۵	۱	کلمه‌های مقابل را در جاهای خالی قرار دهید؟ «فناوری - آزمایش - پهباد» الف) نمونه‌ای از نوآوری‌های متخصصان ایرانی: ..... (۰/۲۵) ب) تبدیل علم به عمل: ..... (۰/۲۵)
	۲	اندازه‌ی هر چیز را چگونه گزارش می‌کنیم؟ (۰/۲۵) الف) یکا <input type="checkbox"/> ب) عدد <input type="checkbox"/> ج) یکا و عدد <input type="checkbox"/> د) واحد <input type="checkbox"/>
۱/۵	۳	به مقدار نیروی جاذبه‌ی ای که زمین بر جسم وارد می‌کند چه می‌گویند؟ (۰/۲۵) الف) جرم <input type="checkbox"/> ب) حجم <input type="checkbox"/> ج) وزن <input type="checkbox"/> د) زمان <input type="checkbox"/>
	۴	کلید ۱۵ گرمی را در استوانه‌ی مدرجی که در آن ۵۰ سی سی آب است می‌اندازیم. حجم آب به ۵۳ سی سی می‌رسد؛ چگالی کلید چقدر است؟ (۱) (نوشتن فرمول و راه حل الزامی است)
۳	۵	برای هر مورد یک کاربرد بنویسید؟ (۰/۵) الف) سنگ مرمر: ..... ب) نفت خام: .....
	۶	اصلی‌ترین ذره‌های سازنده جهان ..... می‌باشد. (اتم - مولکول - یون) (۰/۲۵)
	۷	نوع اتم‌های سازنده‌ی مولکول آب چیست؟ (۰/۵) مولکول آب: ..... و .....
	۸	ذره‌های سازنده مواد ..... فقط اتم است. (۰/۲۵)
	۹	تعداد کدام ذرات در اتم با هم برابر است؟ (۰/۲۵) الف) الکترون با نوترون <input type="checkbox"/> ب) الکترون با پروتون <input type="checkbox"/> ج) پروتون با نوترون <input type="checkbox"/> د) همه موارد <input type="checkbox"/>
	۱۰	در کدام حالت ماده، ذرات تراکم‌پذیر هستند؟ (۰/۲۵)
	۱۱	با توجه به نمودار «در حجم و دمای یکسان» مواد زیر را درون ستون‌ها بگذارید؟ (۱) (الکل - شیشه - هیدروژن - آلومینیوم) 
۳	۱۲	مواد طبیعی را از مواد مصنوعی جدا کنید؟ (۰/۵) الف) گوگرد: طبیعی ب) الماس: ..... ج) پلاستیک: .....
	۱۳	چگونگی تشخیص سختی ماده: (۰/۵)
	۱۴	دو مورد از خواص فیزیکی فلزها: (۰/۵)
	۱۵	آلیاژ چیست؟ (۰/۵)
	۱۶	در هر مورد چه ماده‌ای به کار می‌رود؟ (۰/۵) استحکام گل: ..... سخت شدن مغز مداد: .....
	۱۷	تعریف انعطاف پذیری: (۰/۵)

بارم	شرح سوال	ردیف	
۲/۵	تغییر شیمیایی را کامل کنید. (۰/۵)	۱۸	فصل پنجم (۲/۵ نمره)
	$\text{آهن اکسید} + \text{—————} \xrightarrow{\text{گرما}} \text{آهن} + \text{—————}$	۱۹	
	برای تولید ظروف شیشه ای از چه ماده ای استفاده می شود؟ (۰/۲۵) .....	۲۰	
	ماده اولیه (طبیعی) هر کدام را بنویسید؟ (۰/۵)	۲۱	
	الف) کارد و چنگال: ..... ب) ظروف چینی: .....	۲۲	
	دو مورد از کاربردهای بتن را بنویسید؟ (۰/۵)	۲۳	
۱- ..... ۲- .....	۲۴	فصل ششم (۲/۵ نمره)	
چه موقع بارش به صورت باران است؟ (۰/۲۵)	۲۵		
در ایستگاه‌های باران سنجی مقدار بارش بر حسب چیست؟ (۰/۲۵)	۲۶		
الف) میلی‌متر <input type="checkbox"/> ب) میلی لیتر <input type="checkbox"/> ج) سانتی‌متر <input type="checkbox"/> د) متر <input type="checkbox"/>	۲۷		
۲/۵	پاسخ کوتاه بدهید؟ (۱)	۲۸	فصل هشتم (۲ نمره)
	الف) چرا مقدار بارندگی در شهرهای مختلف متفاوت است؟ (یک دلیل)	۲۹	
	ب) راه مهار آب جاری چیست؟ ج) اختلاف ارتفاع در مسیر رود باعث چه پدیده‌ای می‌شود؟ د) مهم‌ترین عامل آلوده کننده‌ی آب رودخانه‌ها را بیان کنید؟	۳۰	
۲	علت تشکیل هر کدام را بیان کنید؟ (۱)	۲۸	فصل هشتم (۲ نمره)
	الف) دریاچه‌ی خزر: ..... ب) دریاچه‌ی سبلان: ..... ج) سونامی: ..... د) جزر و مد: .....		
	شیب زمین و پوشش گیاهی چه تاثیری بر مقدار آب‌های زیر زمینی دارد؟ (۰/۵)		
۲	عمق سطح ایستایی، منطقه‌ی اشباع و سطح ایستایی را روی شکل مشخص کنید؟ (۰/۷۵)	۲۹	فصل هشتم (۲ نمره)
		۳۰	
	پاسخ دهید. (۰/۷۵)		
	الف) چه موقع آبخوان، تحت فشار می‌شود؟ (می‌توانید با رسم شکل توضیح دهید) (۰/۵)		
	ب) چگونه آب زیرزمینی را به سطح زمین می‌آورند؟ (۰/۲۵)		

نمره	دانش آموزان عزیز، سوالات را با دقت بخوانید و با توکل بر خدا و هوش و توانایی خود پاسخ دهید.	ردیف
۲/۵	<p>- معنی و مفهوم ابیات و عبارات زیر را بنویسید.</p> <p>* از اینان یکی سر بر نمی دارد که دو گانه ای بگزارد.</p> <p>* ای تن رنج از بهر خدای بکش.</p> <p>* الهی ، توفیق ده تا در دین استوار شویم.</p> <p>* نگردد شاخک بی بن برومند      ز تو سعی و عمل باید زمن پند</p> <p>* بی ادب تنها نه خود را داشت بد      بلکه آتش در همه آفاق زد</p>	۱
۱	<p>- معنی هر یک از واژه های مشخص شده ی زیر را بنویسید.</p> <p>(الف) نیروی شادابی را با <u>تأمل</u> و بصیرت همراه کنیم. (.....)</p> <p>(ب) این ملت باید به این همه دل پاک و نورانی <u>ببالد</u>. (.....)</p> <p>(ج) مدت حیات صاحبان قبور بر روی سنگ ها <u>حک</u> شده بود. (.....)</p> <p>(د) اسکندر در <u>اثنای</u> سفر به شهری رسید. (.....)</p>	۲
	<p>- معنی و مفهوم مصراع «فتاد از پای کرد از عجز فریاد» چیست؟</p> <p>- در مصراع «زنوکاران که خواهد کار بسیار؟» مقصود از «نوکاران» چه کسانی هستند؟</p> <p>- منظور از عبارت «آینده با حرف ساخته نمی شود» چیست؟</p>	۳



۲/۵	<p>-عبارت «تو نیز اگر بختی به از آن که در پوستین خلق افتی» درباره کدام ویژگی ناپسند اخلاقی صحبت می کند؟</p> <p>-خیام در بیت «برنامه و گذشته بنیاد مکن      حالی خوش باش و عمر بر باد مکن» به چه نکته ای اشاره می کند؟</p>	
۱/۵	<p>-برای هر یک از واژه های زیر یک هم خانواده بنویسید. الف) نظم:..... ب) معصوم:.....</p> <p>-در بیت «منتظران بهار، فصل شکفتن رسید      مژده به گل ها برید یار به گلشن رسید» چند جمله وجود دارد؟</p> <p>-در بیت «هجوم فتنه های آسمانی      مرا آموخت علم زندگانی» نهاد و مفعول را مشخص کنید.</p>	۴
۱/۵	<p>-واژه قافیه در بیت «گر هزاران دام باشد هر قدم      چون تو با مایی نباشد هیچ غم» را مشخص کنید.</p> <p>-دو آرایه ادبی را در بیت «با بهاری که می رسد از راه      سبز شو ، تازه شو ، بهاری شو» مشخص کنید.</p>	۵
۱	<p>-آثار زیر متعلق به چه کسانی است؟</p> <p>لیلی و مجنون:..... مثنوی معنوی:.....</p>	۶

موفق و پیروز باشید.

نام:		دبیرستان ..... (دوره اول)		نمره با عدد:
نام خانوادگی:		محل مهر مدرسه		نمره با حروف:
کلاس: هفتم ( )		نوبت اول قرآن		امضاء دبیر:
تاریخ برگزاری		زمان: ۴۵ دقیقه		طراح سوال:
ردیف				پارم
۱	از میان لغات داده شده در جاهای خالی کلمه مناسب بنویسید (یک کلمه اضافه است) (شکر نمی کنند - نماز - زنبور عسل - فکر می کنند - درختان خرما)			۱
	نحل =		نخیل	
	یتفکرون =		صلاة	
۲	شماره هر ترکیب را مقابل ترجمه صحیح آن بنویسید (یک مورد اضافه است) ۱- فی جَنَاتٍ وَ عُيُونٍ <input type="checkbox"/> پاداش نیکوکاران ۲- لَسْمِيعِ الدُّعَاءِ <input type="checkbox"/> در بهشت ها و چشمه ها ۳- أَجْرَ الْمُحْسِنِينَ			۰/۵
۱	در آیه شریفه ۹۷ سوره یوسف "دو ترکیب ساده" قرآنی بیابید و سپس هر یک را معنی کنید. «قَالَ يَا أَبَانَا أَنَا أَسْتَغْفِرُ لِنَاذُنُوبِنَا إِنَّا كُنَّا ضَالِّينَ» ﴿يوسف ۹۷﴾ ترکیب ساده ۱ (.....) معنای ترکیب (.....) ترکیب ساده ۲ (.....) معنای ترکیب (.....)			۱
۳	ترجمه قرآنی کلمات فارسی را از آیات مربوطه پیدا کنید و مقابل آن ها بنویسید ۱- وَ مَا رَبُّكَ بِغَافِلٍ عَمَّا تَعْمَلُونَ (الف) پروردگارت..... (ب) انجام می دهید..... ۲- خَلَقَ السَّمَوَاتِ وَالْأَرْضَ بِالْحَقِّ (الف) آسمان ها..... (ب) آفرید.....			۱
۴	در عبارات زیر فقط معنای کلماتی که زیر آنها خط کشیده شده است را بنویسید ۱- عَلَيْهِ تَوَكَّلْتُ وَإِلَيْهِ أُنِيبُ ( ) ۲- وَمِنْ كُلِّ الثَّمَرَاتِ ( ) ۳- أَوْحَىٰ رَبُّكَ إِلَى النَّحْلِ ( ) ۴- إِنَّ الْمُتَّقِينَ فِي جَنَّاتٍ وَعُيُونٍ ( )			۱
۵	ترجمه قرآنی هر کلمه را انتخاب کنید و مقابل آن بنویسید شما : ..... (نا - أَنْتُمْ - انت) بندگان : ..... (دُنُوبٍ - عِبَادٍ - عِبَاد) تاریکی ها : ..... (عَزِيزٍ - كَافِرِينَ - ظُلُمَاتِ) رنگ ها : ..... (جِبَالٍ - أَلْوَانٍ - أَعْنَابِ)			۱
۶	عبارات قرآنی زیر را ترجمه کنید إِلَى النُّورِ بِإِذْنِ رَبِّهِمْ ..... وَ النُّجُومِ مَسْحَرَاتٍ بِأَمْرِهِ ۞ و ..... رام ..... هستند فَاعْبُدْهُ وَتَوَكَّلْ عَلَيْهِ ..... أَلَا إِنَّ وَعْدَ اللَّهِ حَقٌّ .....			۴
۷	این ترکیبها را مانند نمونه کامل نمایید إِلَى + ه = الیه : به سوی او عَلَى + ك = بر تو إِلَى + هَم = ..... عَلَى + كَم = .....			۰/۵

۳۰	اگر تنها ترین تنها شوی، باز خدا هست. او جانشین همه نداشتن هاست ...	۳۰
	<b>صحیح یا غلط بودن جملات زیر را مشخص کنید.</b>	<b>الف</b>
۰/۵	برای استفاده از حقوق خود، آزادی مطلق داریم. ....	۱
۰/۵	داشتن نام و نام خانوادگی و شناسنامه از حقوق هر فرد در محیط زندگی و کشور است. ....	۲
۰/۵	همراه با هر حق مسئولیت ها و تکالیفی وجود دارد. ....	۳
۰/۵	همدلی یعنی این که پس از درک احساس فرد حادثه دیده به کمک او بشتابیم. ....	۴
۰/۵	عکس های هوایی با استفاده از ماهواره ها به دست می آید. ....	۵
۰/۵	رشته کوه زاگرس در غرب ایران قرار دارد. ....	۶
۰/۵	ویژگی های انسانی شامل فعالیت های اقتصادی و تعداد جمعیت در یک مکان می باشد. ....	۷
۰/۵	یکی از دلایل حفاظت از زیستگاه ها فواید گیاهان و جانوران برای انسان ها است. ....	۸
۰/۵	نواحی جنوبی ایران جزو نواحی خشک کشور است. ....	۹
۰/۵	در منطقه ی حفاظت شده، مقررات خاصی برای حفظ گیاهان و جانوران تعیین نمی شود. ....	۱۰
	<b>گزینه صحیح را انتخاب کنید.</b>	<b>ب</b>
۰/۵	مهم ترین حق انسان چیست؟ الف-حق داشتن شناسنامه    ب-حق حیات    ج-حق آزادی    د-حق برخورداری از آموزش	۱
۰/۵	بررسی و تأیید صلاحیت نامزدهای انتخابات بر عهده کدام نهاد است؟ الف-قوه قضاییه    ب-مجلس    ج-شورای نگهبان    د-مجلس شورای اسلامی	۲
۰/۵	وقتی حادثه ای در جایی دور اتفاق می افتد می گوییم (ای کاش آنجا بودیم و به انسان های خسارت دیده کمک می کردیم) کدام گزینه درست است؟ الف-تعاون    ب-انسان دوستی    ج-همیاری    د-همدلی	۳
۰/۵	همه موسسات بیمه زیر نظر..... فعالیت می کنند. الف-بیمه ایران    ب-جمعیت هلال احمر ج-بیمه مرکزی جمهوری اسلامی ایران    د-مجلس شورای اسلامی	۴
۰/۵	استفاده از کالا و خدمات به منظور رفع نیازها را چه می گویند؟ الف-مصرف    ب-تولید    ج-توزیع    د-استاندارد	۵
۰/۵	با استفاده از کدام مورد زیر می توان فاصله واقعی مکان های زمین را روی نقشه محاسبه نمود؟ الف-نمودار    ب-خط کش    ج-مقیاس خطی    د-گونیا	۶
۰/۵	ایران در کدام جهت آسیا قرار دارد؟ الف-جنوب شرقی    ب-جنوب غربی    ج-شمال شرقی    د-شمال غربی	۷

۰/۵	چرا ناحیه ساحلی جنوب ایران جزو نواحی خشک است؟ الف-به دلیل وزش بادهای گرم جنوب ب-به علت وجود رشته کوه های مرتفع ج-به علت کمبود بارندگی در این ناحیه د-به علت تبخیر شدید آب	۸
۰/۵	کدام گزینه جزو مناطق حفاظت شده در کشور ما نیست؟ الف-جنگل های حرا ب-دشت ارژن ج-اشترانکوه د-جلگه خوزستان	۹
۰/۵	جزیره قشم در کدام ناحیه آب و هوایی واقع شده است؟ الف-گرم و خشک ب-معتدل و نیمه خشک کوهستانی ج-معتدل و مرطوب خزری د-گرم و شرجی سواحل جنوب	۱۰
	<b>جاهای خالی را پر کنید.</b>	<b>ج</b>
۰/۵	ما در روابطی که با دیگران برقرار می کنیم دارای ..... هستیم.	۱
۰/۵	از مهم ترین علل پدید آمدن مقررات و قوانین در جامعه ..... و ..... بوده است.	۲
۰/۵	خداوند ..... و ..... را در سرشت ما انسان ها قرار داده است.	۳
۰/۵	نواحی پست و هموار ایران شامل ..... و ..... است.	۴
۰/۵	میزان دما و بارش را به صورت ..... نشان می دهیم.	۵
	<b>به سوالات زیر پاسخ کامل دهید.</b>	<b>د</b>
۱	مسئولیت را تعریف کنید؟	۱
۱/۵	وظیفه قوه مقننه چیست؟ و دو بخش تشکیل دهنده این قوه را نام ببرید؟	۲
۱/۵	بیمه چیست؟ و دو نوع، بیمه را نام ببرید؟	۳
۲	عوامل تولید را نام ببرید؟ و کدام مورد در تولید بسیار مهم است؟	۴
۱	چهار مورد از حقوق مصرف کننده را نام ببرید؟	۵
۰/۵	استان چیست؟	۶